


TÉCNICO EM EDIFICAÇÕES




Município de Progresso/RS
Concurso Público 01/2026


PROVA TEÓRICO-OBJETIVA

 3 horas

 40 questões

 4 alternativas

 Saída permitida somente após
1 hora de prova

 O candidato só poderá levar
este Caderno após 2 horas de
prova

INSTRUÇÕES



Confira se esse Caderno de Prova contém a quantidade de questões indicadas. A substituição deste Caderno de Prova ocorre apenas antes de iniciar a prova.

- ▣ O tempo de prova inclui o preenchimento do Cartão-Resposta.
- ▣ Nenhuma informação acerca do conteúdo das questões será fornecida pelo Fiscal de Sala, pois é parte integrante da prova.
- ▣ Antes de sair da Sala de Prova, entregue o Cartão-Resposta ao Fiscal de Sala, **devidamente assinado**, e, após, se desloque imediatamente para a saída do local de prova.
- ▣ Ao final da prova, os 03 (três) últimos candidatos deverão permanecer na Sala de Prova até que o último termine a sua prova, devendo ambos testemunhar a devolução e o lacre dos documentos.
- ▣ A divulgação do gabarito preliminar se dará conforme Cronograma de Execução do certame.

TODOS OS DIREITOS RESERVADOS AO INSTITUTO LEGALLE. PROIBIDO REPRODUÇÃO.

RASCUNHO PARA GABARITO

01		06		11		16		21		26		31		36
02		07		12		17		22		27		32		37
03		08		13		18		23		28		33		38
04		09		14		19		24		29		34		39
05		10		15		20		25		30		35		40

Para responder às questões 01 a 08, leia o texto abaixo.

Alta demanda faz SUS ampliar teleatendimento a jogadores compulsivos

O Ministério da Saúde pretende ampliar, ainda este ano, os atendimentos por telefone e por videochamadas para pessoas com problemas relacionados à dependência em jogos de apostas. O serviço com foco em jogo de apostas foi inaugurado em março de 2026, em parceria com o Hospital Sírio-Libanês. Após três meses, a iniciativa já tem 6.912 usuários cadastrados.

A atual estratégia de teleatendimento será reforçada por meio da Agência Brasileira de Apoio à Gestão do Sistema Único de Saúde (AgSUS), encarregada de contratar empresas especializadas e, assim, ampliar a assistência gratuita a jogadores compulsivos. A ampliação do teleatendimento exigirá cerca de R\$ 70 milhões em investimentos até o fim deste ano e integra o plano de ações de prevenção, qualificação profissional e ampliação do acesso populacional aos serviços da Rede de Atenção Psicossocial (Raps) que o ministério implementou este ano, para incrementar a assistência a pessoas com problemas relacionados a jogos de apostas.

A pasta também vai aplicar R\$ 6 milhões para custear a realização de uma pesquisa nacional inédita para entender como os jogos e apostas afetam a saúde dos brasileiros. O objetivo é descobrir quem são os grupos mais prejudicados e quais são os principais riscos da prática. Com as informações, o governo terá melhores condições de implementar ações e políticas públicas de atendimento e prevenção no SUS.

Parte dos recursos necessários para a execução do plano virá dos R\$ 45,7 milhões (em valores não corrigidos) que a pasta recebeu em 2025, a título de destinação social das bets. O total repassado ao Ministério da Saúde no ano passado corresponde a 1% do Produto da Arrecadação de tributos pagos pelas empresas de apostas e por apostadores.

Atualmente, para acessar o serviço de teleatendimento em saúde mental do SUS, o interessado deve se cadastrar por meio do aplicativo Meu SUS Digital. Depois, para usar o serviço, é preciso baixar o aplicativo, disponível gratuitamente nas lojas Android, iOS ou na versão web, e criar uma conta Gov.br ou usar a já cadastrada. O Meu SUS Digital também oferece conteúdos informativos sobre sinais de alerta, prevenção e impacto dos jogos na saúde mental.

Fonte: <https://agenciabrasil.ebc.com.br/saude/noticia/2026-06/alta-demanda-faz-sus-ampliar-teleatendimento-jogadores-compulsivos>
(adaptado)

Questão 01. O trecho **A pasta também vai aplicar R\$ 6 milhões para custear a realização de uma pesquisa nacional inédita para entender como os jogos e apostas afetam a saúde dos brasileiros** carrega uma informação implícita. Diante disso, assinale a alternativa que indica CORRETAMENTE o pressuposto desse segmento textual.

- (A) O Ministério da Saúde já detém dados consolidados sobre o perfil epidemiológico dos apostadores compulsivos no país.
- (B) O conhecimento científico atual do Estado a respeito do impacto real das apostas na saúde da população brasileira é insuficiente ou incompleto.
- (C) Os recursos de R\$ 6 milhões serão retirados do orçamento fixo e regular da Rede de Atenção Psicossocial (Raps).
- (D) A pesquisa inédita comprovará que os jovens da região Norte são os mais afetados pela dependência em jogos virtuais.

Questão 02. No título da notícia, **Alta demanda faz SUS ampliar teleatendimento a jogadores compulsivos**, não se emprega o acento indicador de crase antes de **jogadores**. Com isso, assinale a alternativa que apresenta a justificativa gramatical CORRETA para essa ocorrência.

- (A) O termo **jogadores** é um substantivo masculino plural, o que torna o uso da crase facultativo segundo a norma-padrão.
- (B) O verbo **ampliar** exige a preposição **a**, mas o substantivo **jogadores** repele o artigo definido feminino plural.
- (C) A letra **a** funciona unicamente como preposição simples, uma vez que o termo subsequente é masculino e está empregado em sentido genérico, sem artigo.
- (D) Ocorre um caso de crase proibida devido à presença do adjetivo **compulsivos**, que impede a fusão da preposição com o artigo.

Questão 03. No segundo parágrafo, **...contratar empresas especializadas e, assim, ampliar a assistência gratuita**, a palavra sublinhada funciona como um operador de coesão textual. No contexto, o valor lógico-semântico estabelecido por esse termo é de:

- (A) Oposição, uma vez que restringe a capacidade operacional da AgSUS de firmar contratos de prestação de serviços.
- (B) Consequência, indicando que a ampliação da assistência gratuita é o resultado direto da contratação de empresas especializadas.
- (C) Tempo, marcando a anterioridade cronológica da contratação em relação à implementação física do teleatendimento.
- (D) Concessão, introduzindo um obstáculo que dificulta a integração das novas plataformas ao aplicativo Meu SUS Digital.

Questão 04. No texto, utilizam-se palavras como **teleatendimento** e **videochamadas**. Sobre o processo de formação desses vocábulos, assinale a alternativa CORRETA.

- (A) Ambos são formados por composição, processo no qual ocorre a união de radicais ou elementos de origem grega ou latina para a criação de um novo termo.
- (B) São exemplos de derivação parassintética, pois exigem o acréscimo simultâneo de prefixo e sufixo para que as palavras tenham sentido.
- (C) Classificam-se como derivações regressivas, pois sofreram redução fonética ao serem adaptados ao vocabulário da saúde mental.
- (D) Foram criados por hibridismo, uma vez que misturam radicais da língua tupi com sufixos da língua inglesa moderna.

Questão 05. No fragmento **...plano de ações de prevenção, qualificação profissional e ampliação do acesso populacional aos serviços da Rede de Atenção Psicossocial**, a contração sublinhada justifica-se gramaticalmente porque:

- (A) O substantivo **ações** exige a preposição **a**, que se funde com o artigo masculino plural **os** que antecede **serviços**.
- (B) O substantivo regente **acesso** exige a preposição **a**, a qual se funde com o artigo definido masculino plural **os** que determina **serviços**.
- (C) A locução verbal **vai aplicar** rege complemento indireto introduzido pela preposição **a**.
- (D) O termo **serviços** funciona como adjunto adnominal de **Rede de Atenção Psicossocial**, exigindo a presença de preposição bitransitiva.

Questão 06. No quarto parágrafo, lê-se **Parte dos recursos necessários para a execução do plano virá dos R\$ 45,7 milhões (em valores não corrigidos) que a pasta recebeu**. O uso dos parênteses nesse trecho tem como finalidade:

- (A) Isolar um vocativo de caráter técnico que interpela diretamente os gestores financeiros do SUS.
- (B) Introduzir uma explicação acessória de natureza contábil, esclarecendo que o montante citado não sofreu atualização monetária.
- (C) Marcar o início de uma oração subordinada adjetiva explicativa reduzida de participio.
- (D) Evidenciar uma opinião pessoal do redator da notícia sobre o repasse financeiro das bets.

Questão 07. No trecho **A pasta também vai aplicar R\$ 6 milhões para custear a realização de uma pesquisa nacional inédita**, o adjetivo sublinhado concorda em gênero e número com o substantivo:

- (A) **pasta**, que funciona como sujeito simples e feminino singular da oração principal.
- (B) **realização**, que atua como objeto direto da oração reduzida de infinitivo.
- (C) **pesquisa**, que atua como núcleo do termo regido pela preposição "de" ("de uma pesquisa nacional inédita").
- (D) **milhões**, que exige a concordância atrativa no feminino singular por se referir a valores monetários.

Questão 08. No quarto parágrafo, o texto emprega o termo **bets** para fazer referência às empresas de apostas online. Sob a perspectiva da variação lexical e do uso de estrangeirismos, assinale a alternativa CORRETA.

- (A) O uso do estrangeirismo **bets** viola as regras ortográficas do sistema oficial vigente, devendo ser evitado no gênero textual jornalístico.
- (B) O termo é um neologismo técnico do jargão médico-psiquiátrico utilizado para diagnosticar a ludopatia.
- (C) Trata-se de um empréstimo linguístico em uso no português brasileiro contemporâneo para designar as plataformas digitais de apostas esportivas.
- (D) A palavra funciona como um homônimo perfeito do substantivo **apostadores**, apresentando grafia idêntica e pronúncia distinta.

MATEMÁTICA

Questão 09. Para a modernização de um espaço público, a Administração planeja construir uma área de convivência perfeitamente circular. O engenheiro responsável estabeleceu que a linha do perímetro externo dessa praça circular medirá exatamente 628 metros. Sabendo que toda a superfície dessa área social interna receberá um piso antiderrapante especial, determine a área total, em metros quadrados, que receberá esse revestimento e assinale a alternativa com a resposta CORRETA. Para os cálculos necessários, utilize o valor aproximado de π igual a 3,14.

- (A) 31.400 m².
- (B) 20.000 m².
- (C) 62.800 m².
- (D) 10.000 m².

Questão 10. Um fundo institucional investiu uma verba excedente sob o regime de juros compostos. No primeiro dia do ano, o capital inicial foi aplicado a uma taxa de juros de 10% ao ano. Ao final de um período contínuo de exatamente dois anos de aplicação, sem que ocorresse nenhum tipo de movimentação intermediária de depósito ou retirada na conta, o saldo total consolidado atingiu o valor de R\$ 24.200,00. Diante disso, determine o valor em dinheiro do capital que foi originalmente investido no início desse período e assinale a alternativa com a resposta CORRETA.

- (A) R\$ 19.800,00.
- (B) R\$ 18.000,00.
- (C) R\$ 20.000,00.
- (D) R\$ 22.100,00.

Questão 11. Um comitê especial precisa selecionar uma comissão para a fiscalização de um contrato de prestação de serviços terceirizados. Estão disponíveis para a função 5 servidores do nível técnico e mais 4 servidores do nível superior. A comissão final deve ser composta obrigatoriamente por exatamente 3 membros, sendo exigido que haja pelo menos 2 servidores do nível técnico nessa equipe. Diante disso, determine o número total de comissões distintas que a Administração poderá formar para essa tarefa e assinale a alternativa com a resposta CORRETA.

- (A) 84.
- (B) 50.
- (C) 24.
- (D) 40.

Questão 12. Em uma pesquisa de satisfação, o atendimento de uma repartição recebeu notas de um grupo de usuários. Sabe-se que 5 usuários atribuíram a nota 4, exatamente 3 usuários deram a nota 6 e um determinado número 'x' de usuários avaliou o serviço com a nota 10. Sabendo que a média aritmética ponderada de todas as notas coletadas nessa pesquisa de opinião pública foi exatamente igual a 7, determine a quantidade 'x' de usuários que atribuíram a nota máxima de valor 10 ao atendimento e assinale a alternativa com a resposta CORRETA.

- (A) 2.
- (B) 4.
- (C) 5.
- (D) 6.

UTILIZE ESTE ESPAÇO PARA CÁLCULOS

INFORMÁTICA

Questão 13. Durante a edição de uma cartilha de orientações no Microsoft Word 365, um servidor inseriu uma **Caixa de Texto** para destacar um aviso importante. Ao posicionar o elemento sobre o corpo do documento, constatou que o objeto cobria os caracteres que ficavam em segundo plano. Para alterar essa interação, forçando o texto do documento a se reorganizar e contornar a **Caixa de Texto**, o servidor deve selecionar o objeto, acessar a guia **Formato de Forma** e alterar a configuração de:

- (A) Direção do Texto.
- (B) Quebra de Texto Automática.
- (C) Alinhamento da Forma.
- (D) Efeitos da Forma.

Questão 14. Analise a seguinte afirmação sobre os recursos de formatação do Microsoft Word 365:

*Se um usuário aplicar a cor de fonte **Automático** em um texto e, posteriormente, aplicar um **Sombreamento de cor preta** a esse parágrafo, o Word inverterá de forma automática a exibição dos caracteres para a cor branca.*

Essa afirmação está:

- (A) Incorreta, pois a inversão automática da cor da fonte depende da aplicação prévia de um tema do Word que contenha configurações de contraste adaptativo.
- (B) Correta, pois a cor **Automático** está associada ao comando **Mostrar Tudo**, permitindo que o Word preserve a legibilidade do texto independentemente das alterações visuais aplicadas ao documento.
- (C) Correta, pois o recurso funciona como uma diretriz dinâmica de contraste, adaptando-se à luminosidade do fundo para garantir a legibilidade do texto.
- (D) Incorreta, pois **Automático** é o nome comercial da cor preta, exigindo que o usuário altere manualmente a fonte para o branco caso mude o fundo.

Questão 15. Analise as partes que seguem a respeito dos recursos e do comportamento da interface de impressão do navegador Google Chrome:

(1ª parte): A tela de pré-visualização de impressão do Google Chrome é estática, o que significa que qualquer alteração nas margens, escala ou cor só poderá ser visualizada após a impressão física do documento.

*(2ª parte): O Google Chrome permite que o usuário imprima apenas um intervalo específico de páginas de um documento, bastando selecionar a opção **Personalizado** no campo **Páginas** e digitar os números desejados.*

Pode-se afirmar que:

- (A) Apenas a 1ª parte está correta.
- (B) Apenas a 2ª parte está correta.
- (C) Ambas as partes estão corretas.
- (D) Ambas as partes estão incorretas.

Questão 16. No sistema operacional Windows 11, um servidor fixou três aplicativos de uso diário em sua **Barra de Tarefas**, dispostos na seguinte ordem sequencial a partir da esquerda: **Bloco de Notas** (1º aplicativo), **Google Chrome** (2º aplicativo) e **Calculadora** (3º aplicativo). Considerando que a **Área de Trabalho** está limpa e que o servidor deseja abrir diretamente a **Calculadora** utilizando exclusivamente um atalho de teclado, a combinação de teclas CORRETA a ser pressionada é:

- (A) Ctrl + Alt + 3.
- (B) Alt + Tab + 3.
- (C) Windows + 3.
- (D) Shift + F3.

ATUALIDADES

Questão 17. A alteração do nome da localidade de "Gramado São Francisco" para "Vila Progresso" ocorreu por intermédio de discussões políticas e de saúde local. Segundo os registros históricos da cidade de Progresso, quem foi o médico local que deu a sugestão para a mudança do nome da localidade, consolidada pelo Decreto Estadual nº 7.199 e oficializada através do fonograma nº 67 em 13 de abril de 1939?

- (A) Dr. Fiorini.
- (B) Dr. Vitor Schmidt.
- (C) Dr. Lauro Muller.
- (D) Dr. Philadelpho Soares.

Questão 18. O desenvolvimento social, religioso e a liderança de causas comunitárias marcaram a história da Paróquia da cidade de Progresso. Qual sacerdote católico, natural da Holanda, atuou na Vila de 1941 a 1964 e foi homenageado com um monumento público na Praça da Igreja Matriz devido ao seu prestígio local?

- (A) Frei Constantino Van Ryn.
- (B) Frei Floriano Werkgan.
- (C) Dom João Becker.
- (D) Frei Guido Arnoldo.

Questão 19. Logo após a aprovação da emancipação política e a consolidação do município de Progresso, realizou-se a estruturação do Poder Executivo local. Diante disso, quem foram, CORRETA e respectivamente, o primeiro prefeito e o primeiro vice-prefeito eleitos para governar a primeira gestão municipal de Progresso?

- (A) Valmor Francisco Soletti e Vito Luís Iorra.
- (B) Ari Ângelo Bagatini e Raul Zanuz.
- (C) Valmor Francisco Soletti e Valdir Luiz Pellenz.
- (D) Ari Ângelo Bagatini e Nestor Mottin.

Questão 20. O desmembramento territorial para a criação do município de Progresso envolveu a união de várias porções geográficas que pertenciam à cidade vizinha de Lajeado. Assim, quais distritos de Lajeado integraram e deram origem à divisão administrativa inicial do município de Progresso?

- (A) Batovira, Xaxim, Rui Barbosa e Alto Honorato.
- (B) Vila Progresso, Campo Branco e parte de Canudos, Fão e Marques de Souza.
- (C) Campo Branco, Constantino, Batovira e Sede Municipal.
- (D) Lajeado-Estrela, Santa Cruz do Sul, Campo Branco e Constantino.

LEGISLAÇÃO

Questão 21. Analise o texto a seguir, com base na Lei Orgânica:

O Vice-Prefeito substituirá o Prefeito em seus impedimentos e suceder-lhe-á no caso de vaga. Cabe ainda ao Vice-Prefeito, cumprir as atribuições que lhes forem fixadas em lei e auxiliar o chefe do Poder Executivo quando indicado para missões especiais.

Acerca do texto, pode-se afirmar que ele está:

- (A) Plenamente adequado, visto que observa a legislação municipal vigente.
- (B) Parcialmente adequado, visto que o auxílio do Poder Executivo se dá pelos Secretários Municipais, somente.
- (C) Parcialmente adequado, visto que o Vice-Prefeito não substitui o Prefeito em quaisquer situações.
- (D) Plenamente inadequado, visto que em nada observa a legislação municipal vigente.

Questão 22. O Prefeito possui determinadas atribuições como suas competências, como é o caso de declarar a utilidade ou necessidade pública, ou interesse social, de bens, para fins de desapropriação ou servidão administrativa. Outro exemplo é encaminhar anualmente à Câmara de Vereadores e ao Tribunal de Contas do Estado, até qual dia, as contas referentes à gestão financeira do exercício anterior, de acordo com a Lei Orgânica?

- (A) 31 de dezembro.
- (B) 15 de junho.
- (C) 31 de março.
- (D) 15 de agosto.

Questão 23. Analise as partes que seguem, com base na Lei Orgânica: A Administração Pública direta e indireta de qualquer dos Poderes do Município obedecerá aos princípios da legalidade, impessoalidade, moralidade, publicidade e eficiência (**1ª parte**), bem como às demais normas constantes na Constituição Estadual, na Lei Orgânica e demais Leis Municipais, somente (**2ª parte**).

Acerca das partes, pode-se afirmar que:

- (A) Assim como a 1ª parte está correta, tem-se que a 2ª parte também está.
- (B) Assim como a 1ª parte está incorreta, tem-se que a 2ª parte também está.
- (C) Enquanto a 1ª parte está incorreta, sabe-se que a 2ª parte não está.
- (D) Enquanto a 1ª parte está correta, sabe-se que a 2ª parte não está.

Questão 24. Quantos dos seguintes itens são infrações político-administrativas do Prefeito e do Vice-Prefeito, sujeitas ao julgamento pela Câmara de Vereadores e sancionadas com a cassação do mandato, conforme a Lei Orgânica? **I.** Afastar-se do Município sem autorização legislativa nos casos exigidos em lei; **II.** Promover o exame de documentos em geral por parte de Comissão Parlamentar de Inquérito ou auditoria oficial; **III.** Praticar, contra expressa disposição de lei, ato de sua competência ou omitir-se na sua prática.

- (A) Nenhum deles.
- (B) Apenas 1 deles.
- (C) Apenas 2 deles.
- (D) Todos os 3.

Questão 25. Analise as partes que seguem: Atendendo à conveniência ou à necessidade do serviço, poderá ser instituído sistema de compensação de horário, no mesmo número de horas (**1ª parte**), sendo o excesso de horas compensado pela correspondente diminuição em outro dia, observada sempre a jornada máxima mensal (**2ª parte**).

Acerca das partes, com base no que é determinado pelo Regime Jurídico Único dos Servidores Públicos do Município, pode-se afirmar que:

- (A) Assim como a 1ª parte está correta, tem-se que a 2ª parte também está.
- (B) Assim como a 1ª parte está incorreta, tem-se que a 2ª parte também está.
- (C) Enquanto a 1ª parte está correta, sabe-se que a 2ª parte não está.
- (D) Enquanto a 1ª parte está incorreta, sabe-se que a 2ª parte não está.

Questão 26. Conforme o Regime Jurídico Único dos Servidores Públicos do Município, para assegurar o funcionamento dos serviços ininterruptos ou essenciais, ou em razão do interesse público, o servidor efetivo poderá ficar à disposição da municipalidade em regime de plantão ou sobreaviso. A partir disso, analise as alternativas que seguem e assinale a que apresenta informação que pode ser considerada como INCORRETA.

- (A) O regime de plantão não excederá de uma jornada ininterrupta de 24 horas a cada 72 horas, cuja definição será determinada pelo Município.
- (B) O servidor, quando em regime de sobreaviso, poderá perceber a título de indenização um sobreaviso, cujo valor e critérios serão estabelecidos em lei específica ou plano de carreira.
- (C) O regime de plantão está limitado a oito horas diárias, ficando excluída qualquer possibilidade de jornada extraordinária, em caso de horas excedentes.
- (D) Para o sobreaviso dos profissionais da saúde, quanto ao deslocamento e acompanhamento de pacientes, o servidor deverá ter disponibilidade para a sua execução na sede ou território do Município.

Questão 27. De acordo com o que é definido na Lei Orgânica, sabe-se que são servidores do Município todos os que ocupam _____ na Administração direta, nas autarquias e fundações públicas, bem como os admitidos por contrato para atender necessidades temporárias de excepcional interesse do Município, definidas em Lei.

Preenche CORRETAMENTE a lacuna, conforme Lei Orgânica:

- (A) cargos, funções ou empregos.
- (B) cargos ou funções, somente.
- (C) empregos ou funções, somente.
- (D) cargos, somente.

Questão 28. Analise as assertivas que seguem acerca da readaptação, conforme o Regime Jurídico Único dos Servidores Públicos do Município:

- I.** A readaptação será efetivada em cargo de padrão de vencimento necessariamente superior.
- II.** Servidor já aposentado e que tiver limitações para o exercício de seu cargo não poderá ser readaptado.

Acerca das assertivas, pode-se afirmar que:

- (A) Apenas I está correta.
- (B) I e II estão corretas.
- (C) Apenas I está incorreta.
- (D) I e II estão incorretas.

Questão 29. Tem-se que ressalvados os casos de consignação em folha de pagamento em favor de terceiros, mediante autorização expressa do servidor, assistência médica e hospitalar, associação de servidores e serviços conveniados, e nos casos de imposição legal, mandado judicial ou autorização prévia do servidor, nenhum desconto incidirá sobre a remuneração. Conforme o Regime Jurídico Único dos Servidores Públicos do Município, essa consignação em folha de pagamento em favor de terceiros será realizada a critério da Administração e com reposição de custos, até qual limite da remuneração, somados os demais valores já descontados?

- (A) Dez por cento.
- (B) Trinta por cento.
- (C) Quarenta e cinco por cento.
- (D) Cinquenta e cinco por cento.

Questão 30. O Regime Jurídico Único dos Servidores Públicos do Município traz que o décimo terceiro corresponderá a um doze avos da remuneração a que o servidor fizer jus no mês de dezembro, por mês de exercício, no respectivo ano. Ainda, os adicionais, as gratificações, o auxílio para quebra de caixa, o valor do comissionamento, a convocação e as horas extras serão computados proporcionalmente pela média dos valores percebidos durante o exercício. Diante disso, o décimo terceiro também é chamado de gratificação:

- (A) Dodecágono.
- (B) Natalina.
- (C) Especial.
- (D) De final de ano.

CONHECIMENTOS ESPECÍFICOS

Questão 31. De acordo com a Lei Municipal nº 1.837/2011, do Município de Progresso/RS, algumas definições técnicas são utilizadas para padronizar a interpretação de elementos construtivos. Com base nisso, assinale a alternativa CORRETA.

- (A) Entrepiso é a área destinada à ventilação localizada entre a cobertura e o forro da edificação.
- (B) Entrepiso corresponde ao conjunto de elementos construtivos situado entre o teto de um pavimento e o piso do pavimento superior.
- (C) Entrepiso é a estrutura utilizada apenas para acesso entre níveis distintos da construção.
- (D) Entrepiso consiste na camada final aplicada sobre o revestimento do piso acabado.

Questão 32. Sobre as situações que podem levar ao embargo de obras, considerando as definições da Lei Municipal nº 1.837/2011, do Município de Progresso/RS, analise as assertivas abaixo e julgue V, para as Verdadeiras, ou F, para as Falsas:

- () Obras executadas em desacordo com o projeto aprovado podem ser embargadas, ainda que possuam licenciamento.
- () A ausência de responsável técnico habilitado pode motivar o embargo da obra.
- () Obras realizadas sobre redes pluviais existentes somente poderão ser embargadas após aplicação prévia de multa.
- () Obras que oferecem risco à segurança pública estão sujeitas a embargo.

Qual alternativa preenche, CORRETAMENTE, de cima para baixo, os parênteses acima?

- (A) V – V – F – V.
- (B) V – F – V – F.
- (C) F – V – F – V.
- (D) F – F – V – F.

Questão 33. Conforme a Lei Municipal nº 1.837/2011, do Município de Progresso, a demolição de edificações pode ocorrer em situações específicas previstas na legislação municipal. Com base nisso, assinale a alternativa CORRETA.

- (A) A demolição somente poderá ser determinada após o trânsito em julgado de decisão judicial.
- (B) A existência de risco iminente ao interesse público impede qualquer possibilidade de regularização da edificação, resultando obrigatoriamente em demolição.
- (C) Obras executadas sem licenciamento estarão sujeitas exclusivamente à aplicação de multa administrativa.
- (D) Edificações construídas sobre redes pluviais existentes podem estar sujeitas à demolição.

Questão 34. Considerando as definições da Lei Municipal nº 1.153/2003, que dispõe sobre as diretrizes urbanísticas sob a forma de plano piloto para a promoção do desenvolvimento urbano do município de Progresso, pode-se afirmar CORRETAMENTE que a largura total mínima de uma via local, com canalização de curso d'água, corresponde a:

- (A) 5 metros.
- (B) 10 metros.
- (C) 15 metros.
- (D) 17 metros.

Questão 35. De acordo com a Lei Municipal nº 1.153/2003, do Município de Progresso, as Áreas de Preservação Permanente possuem restrições específicas quanto ao seu uso e à ocupação do solo. Com base nisso, assinale a alternativa CORRETA.

- (A) Nas Áreas de Preservação Permanente, é admitida a construção de edificações residenciais de pequeno porte, desde que afastadas de cursos d'água.
- (B) A execução de obras definitivas em Áreas de Preservação Permanente depende apenas de autorização do proprietário do imóvel.
- (C) A vedação de edificações definitivas em Áreas de Preservação Permanente aplica-se apenas às áreas localizadas em zona urbana.
- (D) O uso das Áreas de Preservação Permanente pode incluir reflorestamento, implantação de jardins e parques com finalidade ambiental e ecológica.

Questão 36. Em um empreendimento público de pequeno porte, a equipe técnica precisou reorganizar as etapas da obra após a identificação de limitações de mão de obra e atraso no fornecimento de materiais. O planejamento foi revisado para manter a execução compatível com os recursos disponíveis e os prazos estabelecidos.

Com base nos princípios do processo de planejamento de obras, assinale a alternativa que apresenta uma ação compatível com essa etapa.

- (A) Elaborar o sequenciamento das atividades e compatibilizar cronograma e orçamento conforme os recursos disponíveis para execução do empreendimento.
- (B) Iniciar serviços simultâneos sem análise prévia de dependência entre atividades, visando reduzir o tempo total da obra.
- (C) Alterar o escopo da obra após o início da execução, independentemente da aprovação dos envolvidos no projeto.
- (D) Priorizar a redução dos custos da obra, ainda que isso comprometa os prazos previstos no planejamento.

Questão 37. Conforme a Lei Municipal nº 1.153/2003, do Município de Progresso, os parâmetros urbanísticos estabelecem limites para a dimensão dos quarteirões no planejamento urbano. Com base nisso, assinale a alternativa CORRETA.

- (A) A legislação estabelece comprimento mínimo de 40 metros e máximo de 200 metros para os quarteirões.
- (B) A legislação estabelece comprimento mínimo de 50 metros e máximo de 250 metros para os quarteirões.
- (C) A legislação municipal admite quarteirões com qualquer extensão, desde que aprovados pelo setor técnico competente.
- (D) Um quarteirão com 210 metros de comprimento encontra-se dentro do limite máximo permitido.

Questão 38. Em relação às ações das cargas permanentes em elementos estruturais de edificações, a distribuição das cargas nas lajes influencia diretamente o dimensionamento dos demais componentes estruturais da obra. Com base no exposto sobre cargas atuantes nas lajes, assinale a alternativa CORRETA.

- (A) Em lajes maciças de concreto armado, o peso próprio independe da espessura adotada no projeto estrutural, sendo definido apenas pela área da laje.
- (B) As cargas permanentes aplicadas sobre as lajes correspondem exclusivamente às ações provocadas pela ocupação temporária dos ambientes internos.
- (C) Os revestimentos aplicados sobre as lajes são classificados como cargas variáveis, pois podem sofrer substituição ao longo da vida útil da edificação.
- (D) Os revestimentos aplicados sobre as lajes podem compor as cargas permanentes consideradas no dimensionamento estrutural.

Questão 39. Em estruturas utilizadas em coberturas e passarelas metálicas, a disposição adequada das barras está relacionada ao comportamento mecânico do conjunto estrutural. Com base nas características das treliças, assinale a alternativa CORRETA.

- (A) Em uma treliça com nós articulados, as barras são projetadas para resistirem predominantemente a esforços de torção e cisalhamento.
- (B) A estabilidade geométrica das treliças está associada à formação de painéis retangulares independentes entre si.
- (C) Em treliças idealizadas, as cargas devem ser aplicadas preferencialmente nos nós, reduzindo a ocorrência de esforços de flexão nas barras.
- (D) As barras comprimidas de uma treliça não participam da estabilidade estrutural, atuando apenas como elementos de ligação.

Questão 40. Um projetista elétrico está elaborando o orçamento de uma obra pública e precisa especificar corretamente os dispositivos de proteção a serem adquiridos. Ao analisar o projeto, ele identifica a necessidade de um dispositivo que, simultaneamente, proteja os condutores do circuito contra sobrecarga e curto-circuito e proteja as pessoas contra choques elétricos por correntes de fuga para a terra. Considerando as características técnicas e a finalidade desse dispositivo, assinale a alternativa que apresenta a denominação CORRETA e completa desse componente, tal como deve constar na planilha orçamentária da obra.

- (A) Disjuntor termomagnético, pois protege os condutores contra sobrecarga, curto-circuito e, por possuir câmara de extinção de arco, também evita choques elétricos nas pessoas.
- (B) Dispositivo Diferencial Residual (DDR) de dois polos, pois é o componente que, isoladamente, cumpre as funções de proteção contra sobrecarga, curto-circuito e correntes diferenciais residuais.
- (C) Interruptor Diferencial Residual (IDR), pois conjuga proteção termomagnética e diferencial residual, sendo equivalente ao disjuntor diferencial residual para fins de especificação em planilhas orçamentárias.
- (D) Disjuntor Diferencial Residual (DDR), pois trata-se de um dispositivo que conjuga, em um único equipamento, as funções do disjuntor termomagnético — proteção dos condutores contra sobrecarga e curto-circuito — e do diferencial residual — proteção das pessoas contra choques elétricos por correntes de fuga.