

DOMINGO DE TARDE

**GRUPO HOSPITALAR CONCEIÇÃO – GHC/RS
CONCURSO PÚBLICO Nº 03/2021**

MOTORISTA

INSTRUÇÕES

Leia atentamente e cumpra rigorosamente as instruções que seguem, pois elas são parte integrante das provas e das normas que regem esse certame.

1. Atente-se aos avisos contidos no quadro da sala.
2. Seus pertences deverão estar armazenados dentro do saco plástico fornecido pelo fiscal, permanecendo em sua posse somente caneta esferográfica de ponta grossa, de material transparente, com tinta preta, documento de identidade, lanche e água, se houver. A utilização de qualquer material não permitido em edital é expressamente proibida, acarretando a sua imediata exclusão do certame.
3. Certifique-se de que este caderno:
 - contém 40 (quarenta) questões;
 - refere-se ao cargo para o qual realizou a inscrição.
4. Cada questão oferece 5 (cinco) alternativas de respostas, representadas pelas letras A, B, C, D e E, sendo apenas 1 (uma) a resposta correta.
5. Será respeitado o tempo para realização da prova conforme previsto em edital, incluindo o preenchimento da grade de respostas.
6. Os três últimos candidatos deverão retirar-se da sala de prova ao mesmo tempo, devendo assinar a Ata de Prova.
7. A responsabilidade referente à interpretação dos conteúdos das questões é exclusiva do candidato.
8. No caderno de prova, você poderá rabiscar, riscar e calcular.
9. Os gabaritos preliminares da prova objetiva serão divulgados na data descrita no Cronograma de Execução desse certame.



V1_28/10/2021 11:19:27



Instrução: As questões de números 01 a 05 referem-se ao texto abaixo.

O médico cantor que toca músicas escolhidas pelos pacientes em UTI de hospital de Porto Alegre

01 Internada na UTI do Hospital Beneficência Portuguesa, Centro Histórico de Porto Alegre,
02 uma paciente que ultrapassou os 90 anos de idade faz um pedido: "Tenho vontade de ouvir Se
03 Essa Rua Fosse Minha". O desejo de escutar mais uma vez a composição de Mário Lago e Roberto
04 Martins é _____ ao médico Franklin Capaverde, 42 anos, um apaixonado por música – e
05 colecionador de violões, guitarras, ukuleles e outros tantos instrumentos.

06 – Tive que aprender o dedilhado de Se Essa Rua Fosse Minha, pra ela. Toquei, e ela chorou.
07 Eu também – admite.

08 Além dos cuidados com a saúde dos internos, o profissional incluiu as mais variadas canções
09 na rotina de tratamentos. No ambiente da UTI, em que convive com _____ no quadro dos
10 pacientes, encontrou sorrisos através de sua arte.

11 – A pessoa se sente acarinhada. Eu gosto de ver as pessoas melhorando, e se a música faz
12 tão bem pra mim, por que não vai fazer para outras pessoas? – pergunta, certo da resposta.
13 Para evitar transtorno _____ necessitam de repouso absoluto, as apresentações priorizam
14 melodias serenas, em baixo volume, quase um show acústico. Na maioria dos casos, os
15 "espectadores" estão em box isolados, com menos leitos do que as alas com maior circulação.

16 Capaverde soltou os primeiros acordes no início da adolescência. Em casa, onde mantém
17 mais de uma dezena de equipamentos, viu essa paixão ser acompanhada: a filha, Antonella, de
18 9 anos de idade, já se arrisca na viola. O foco do intensivista, no entanto, foi voltado à medicina
19 por boa parte de sua vida adulta. Gestor em uma instituição no Litoral Norte e plantonista em
20 outros tantos hospitais, o dia a dia se tornou cansativo, apesar da realização a cada alta prescrita.
21 Quando perdeu o pai, decidiu retomar a música. A proximidade com a filha também foi ampliada,
22 em um momento que ele define como "de virada de chave".

23 – Especialmente depois da morte do meu pai, e com essa pandemia louca, perdendo
24 amigos, perdendo colegas, decidi voltar a fazer coisas que eu realmente gosto. Passar mais
25 tempo com a minha filha, viajar... Focar no que é importante para mim – define.

26 Os planos para um futuro próximo incluem a gravação de álbum, com composições próprias.
27 – Tudo pode ser feito de maneira pesada ou leve. Estar em uma UTI sempre é duro, mas a
28 gente pode facilitar isso para as pessoas. Não importa a profissão, tudo que é feito de coração é
29 especial – resume ele sua singela atitude.

(Disponível em: <https://gauchazh.clicrbs.com.br/porto-alegre/noticia/2021/10/> – Texto adaptado especialmente para esta prova).

QUESTÃO 01 – As lacunas tracejadas das linhas 04, 09 e 13 podem ser preenchidas, correta e respectivamente, com os termos das seguintes alternativas, EXCETO:

- A) exposto – oscilações – àqueles que
- B) relatado – instabilidades – aos que
- C) manifestado – inconstâncias – para aqueles que
- D) ostentado – balanços – a quem
- E) anunciado – altos e baixos – aos que

QUESTÃO 02 – Assinale a alternativa cujo termo NÃO faz referência a Capaverde (l. 16).

- A) se arrisca na viola (l. 18).
- B) Gestor (l. 19).
- C) plantonista (l. 19).
- D) ele (l. 22).
- E) sua singela atitude (l. 29).

QUESTÃO 03 – Assinale a alternativa cujo segmento do texto está em sentido denotativo, ou seja, NÃO tem figura de linguagem.

- A) viu essa paixão ser acompanhada (l. 17).
- B) plantonista em outros tantos hospitais (l. 19-20).
- C) essa pandemia louca (l. 23).
- D) Estar em uma UTI sempre é duro (l. 27).
- E) tudo que é feito de coração é especial (l. 28-29).

QUESTÃO 04 – Assinale a alternativa correta acerca do que se diz sobre a grafia e os fonemas de palavras do texto.

- A) "hospitais", "chave" e "sorrisos" são palavras que têm mais letras que fonemas.
- B) "box" e "próximo" são palavras que têm mais fonemas que letras.
- C) "repouso" e "maioria" têm ditongo crescente.
- D) "toquei" e "equipamentos" têm ditongo decrescente.
- E) "plantonista" e "adolescência" têm, cada uma, dois dígrafos.

QUESTÃO 05 – Analise as possíveis substituições das formas verbais do seguinte fragmento do texto:

"Em casa, onde mantém mais de uma dezena de equipamentos, viu essa paixão ser acompanhada (l. 16-17)."

- I. Em casa, onde manteve mais de uma dezena de equipamentos, viu essa paixão ser acompanhada...
- II. Em casa, onde mantinha mais de uma dezena de equipamentos, via essa paixão ser acompanhada...
- III. Em casa, quando manter mais de uma dezena de equipamentos, verá essa paixão ser acompanhada...

Quais estão corretas?

- A) Apenas II.
- B) Apenas I e II.
- C) Apenas I e III.
- D) Apenas II e III.
- E) I, II e III.

QUESTÃO 06 – Analise a imagem abaixo:

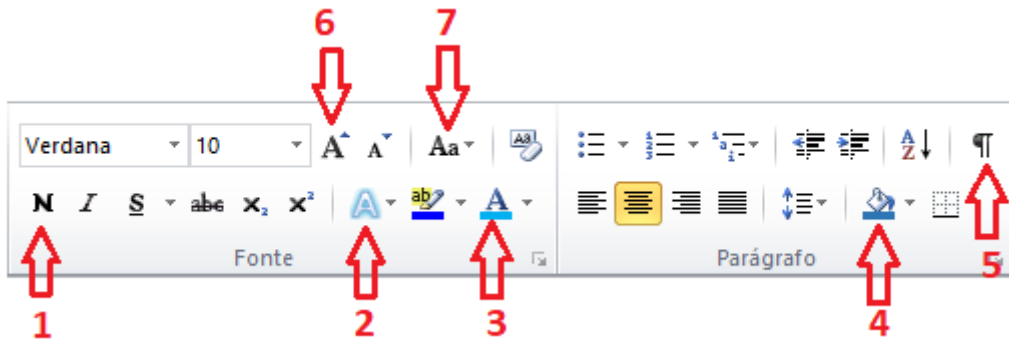


Figura 1 – Imagem da barra do Word 2010, em sua configuração original e padrão.

Com base na Figura 1, analise as seguintes assertivas:

- Para alterar a cor da fonte, utilizamos o botão apontado pela seta nº ____.
- O texto ficará em negrito quando o botão apontado pela seta nº ____ estiver habilitado.
- Para deixar uma palavra, que está escrita com letras minúsculas, toda em caixa alta, ou seja, letra maiúscula, precisamos selecionar a palavra que queremos alterar e depois clicar no botão apontado pela seta nº ____ e escolher a opção maiúscula.

Assinale a alternativa que preenche, correta e respectivamente, as lacunas das frases acima.

- A) 3 – 1 – 7
- B) 2 – 5 – 6
- C) 4 – 2 – 6
- D) 3 – 5 – 7
- E) 4 – 1 – 2

QUESTÃO 07 – Com base no navegador Google Chrome, podemos afirmar que:

- I. Em uma janela, é possível ter várias guias, portanto, com uma única janela, podemos estar com a página da Fundatec aberta em uma guia e, na outra guia, a página do GHC.
- II. É possível realizar uma pesquisa por comando de voz, sem a necessidade de escrever, basta clicar no microfone que está na barra de pesquisa e falar o que se está buscando na internet.
- III. É possível abrir uma janela em modo de navegação anônima, sendo assim, histórico de navegação não será salvo.

Quais estão corretas?

- A) Apenas I.
- B) Apenas II.
- C) Apenas III.
- D) Apenas I e III.
- E) I, II e III.

QUESTÃO 08 – Analise a imagem abaixo:

	A	B	C
1	1	5	9
2	2	6	10
3	3	7	11
4	4	8	12
5			
6			

Figura 2 – Documento desenvolvido no Excel 2010, em sua configuração original e padrão.

Caso na célula B6 fosse digitada a fórmula =SOMA(A1:C4), qual seria o resultado apresentado?

- A) 13.
- B) 78.
- C) 12.
- D) 26.
- E) #ERRO.

QUESTÃO 09 – Com base no Excel 2010, qual das funcionalidades descritas abaixo NÃO é encontrada?

- A) Filtrar dados.
- B) Classificar dados de A a Z.
- C) Inserir Nota de Rodapé.
- D) Proteger a planilha com senha.
- E) Alterar cor do texto das células.

QUESTÃO 10 – Sobre Núcleo Ampliado de Saúde da Família e Atenção Básica (Nasf-AB), analise as assertivas abaixo e assinale a alternativa correta.

- I. Constitui uma equipe multiprofissional e interdisciplinar composta por categorias de profissionais da saúde.
 - II. Deve estabelecer seu processo de trabalho a partir de problemas, demandas e necessidades de saúde de pessoas e grupos sociais em seus territórios, bem como a partir de dificuldades dos profissionais.
 - III. Os Nasf-AB não se constituem como serviços com unidades físicas independentes ou especiais, e não são de livre acesso para atendimento individual ou coletivo.
 - IV. Os Nasf-AB são complementares às equipes que atuam na Atenção Básica.
- A) Todas estão corretas.
B) Todas estão incorretas.
C) Apenas I está correta.
D) Apenas I e II estão corretas.
E) Apenas III e IV estão corretas.

QUESTÃO 11 – Assinale a alternativa INCORRETA referente ao direito de saúde do idoso, conforme a Lei nº 10.741/2003.

- A) A prevenção e manutenção da saúde do idoso serão efetivadas por meio do cadastramento da população idosa por base territorial.
- B) É vedada a discriminação do idoso nos planos de saúde pela cobrança de valores diferenciados em razão da idade.
- C) É assegurado o atendimento domiciliar, incluindo a internação, para a população idosa que necessitar e que esteja impossibilitada de se locomover.
- D) Os idosos abrigados e acolhidos por instituições públicas, filantrópicas ou sem fins lucrativos não serão incluídos no atendimento domiciliar.
- E) Ao idoso que esteja no domínio de suas faculdades mentais é assegurado o direito de optar pelo tratamento de saúde que lhe for reputado mais favorável.

QUESTÃO 12 – O Pacto em Defesa do SUS deve se firmar através de iniciativas que busquem _____ da saúde, como um movimento que retoma a Reforma Sanitária Brasileira. A promoção da _____ como estratégia de mobilização social, tendo a questão da saúde como _____ e a garantia de financiamento de acordo com as necessidades do Sistema.

Assinale a alternativa que preenche, correta e respectivamente, as lacunas do trecho acima.

- A) repolitização – saúde – benefício
- B) revisão – cidadania – direito
- C) repolitização – cidadania – direito
- D) revisão – saúde – direito
- E) repolitização – cidadania – benefício

QUESTÃO 13 – De acordo com o Art. 30 do Decreto nº 7.508/2011, as Comissões Intergestores pactuarão a organização e o funcionamento das ações e serviços de saúde integrados em redes de atenção à saúde. As diretrizes nacionais, do financiamento e das questões operacionais das Regiões de Saúde situadas em fronteiras com outros países, respeitadas, em todos os casos, as normas que regem as relações internacionais, são de competência exclusiva de qual Comissão Intergestora?

- A) Comissão Intergestora Bipartite – CIB.
- B) Comissão Intergestora Regional – CIR.
- C) Comissão Intergestora Municipal – CIM.
- D) Comissão Intergestora Nacional – CIN.
- E) Comissão Intergestora Tripartite – CIT.

QUESTÃO 14 – Assinale a alternativa INCORRETA, conforme o Art. 199 da Constituição Federal de 1988, sobre a iniciativa privada na assistência à saúde.

- A) É vedada a destinação de recursos públicos para auxílios ou subvenções às instituições privadas com fins lucrativos.
- B) É vedada a participação direta ou indireta de empresas ou capitais estrangeiros na assistência à saúde no País, salvo nos casos previstos em lei.
- C) As instituições privadas poderão participar de forma complementar do sistema único de saúde, segundo diretrizes deste.
- D) É permitida a destinação de recursos públicos para auxílios ou subvenções às instituições privadas com fins lucrativos.
- E) É permitida a participação de instituições privadas, tendo preferência as entidades filantrópicas e as sem fins lucrativos.

QUESTÃO 15 – As ações e serviços públicos de saúde e os serviços privados contratados ou conveniados que integram o Sistema Único de Saúde (SUS), são desenvolvidos de acordo com as diretrizes previstas no Art. 198 da Constituição Federal. Em relação aos princípios do SUS, analise as assertivas abaixo, assinalando V, se verdadeiras, ou F, se falsas.

- () Centralização político-administrativa, com direção única.
- () Organização dos serviços públicos de modo a evitar duplicidade de meios para fins idênticos.
- () Integração em nível executivo das ações de saúde, meio ambiente e saneamento básico.

A ordem correta de preenchimento dos parênteses, de cima para baixo, é:

- A) F – F – V.
- B) F – V – V.
- C) V – V – V.
- D) V – F – F.
- E) V – V – F.

CONHECIMENTOS ESPECÍFICOS

QUESTÃO 16 – De acordo com as disposições do Art. 10 do Código de Trânsito Brasileiro – CTB, o Conselho Nacional de Trânsito (CONTRAN), com sede no Distrito Federal, tem como presidente, o Ministro de Estado da:

- A) Economia.
- B) Defesa.
- C) Infraestrutura.
- D) Justiça e Segurança Pública.
- E) Educação.

QUESTÃO 17 – Segundo as disposições do Art. 16 do Código de Trânsito Brasileiro – CTB, os órgãos colegiados responsáveis pelo julgamento dos recursos interpostos contra penalidades impostas pelo órgão ou entidade executivos de trânsito ou rodoviário se denominam:

- A) Juntas Ordinárias de Recursos Infracionários – JORI.
- B) Juntas Administrativas de Recursos de Infrações – JARI.
- C) Câmaras Administrativas de Sanções e Infrações – CASI.
- D) Câmaras Adjuntas de Reclamações e Intimações – CARI.
- E) Juntas Administrativas de Sanções e Infrações – JASI.

QUESTÃO 18 – O Código de Trânsito Brasileiro – CTB define que os Conselhos Estaduais de Trânsito – CETRAN e o Conselho de Trânsito do Distrito Federal – CONTRANDIFE são órgãos normativos, consultivos e coordenadores. Segundo as disposições do Art. 14 do referido Código, entre as competências do CETRAN, estão:

- I. Estabelecer as normas regulamentares referidas no CTB e as diretrizes da Política Nacional de Trânsito.
- II. Indicar um representante para compor a comissão examinadora de candidatos portadores de deficiência física à habilitação para conduzir veículos automotores.
- III. Dirimir conflitos sobre circunscrição e competência de trânsito no âmbito dos Municípios.

Quais estão corretas?

- A) Apenas I.
- B) Apenas I e II.
- C) Apenas I e III.
- D) Apenas II e III.
- E) I, II e III.

QUESTÃO 19 – O Código de Trânsito Brasileiro – CTB estabelece que o trânsito de veículos nas vias terrestres abertas à circulação obedecerá às determinadas normas. Com base nas disposições do Art. 29 do referido Código, analise as seguintes assertivas, relacionadas aos veículos destinados a socorro de incêndio e salvamento, os de polícia, os de fiscalização e operação de trânsito e as ambulâncias:

- I. Os pedestres, ao ouvirem o alarme sonoro ou avistarem a luz intermitente, deverão aguardar no passeio e somente atravessar a via quando o veículo já tiver passado pelo local.
- II. A prerrogativa de livre estacionamento será aplicada somente quando os veículos estiverem identificados por dispositivos regulamentares de iluminação intermitente.
- III. Quando os dispositivos regulamentares de alarme sonoro e iluminação intermitente estiverem acionados, indicando a proximidade dos referidos veículos, todos os condutores deverão deixar livre a passagem pela faixa da direita, indo para a esquerda da via e parando, se necessário.

Quais estão corretas?

- A) Apenas II.
- B) Apenas I e II.
- C) Apenas I e III.
- D) Apenas II e III.
- E) I, II e III.

QUESTÃO 20 – O Código de Trânsito Brasileiro – CTB estabelece no Art. 40 que o uso de luzes em veículo obedecerá às determinadas regras. Sendo assim, assinale a alternativa INCORRETA.

- A) O condutor manterá acesos os faróis do veículo, por meio da utilização da luz baixa à noite.
- B) Nas vias não iluminadas, o condutor deve usar luz alta, exceto ao cruzar com outro veículo ou ao segui-lo.
- C) O condutor utilizará o pisca-alerta em imobilizações ou situações de emergência.
- D) Os veículos que não dispuserem de luzes de rodagem diurna deverão manter acesos os faróis nas rodovias de pista simples situadas fora dos perímetros urbanos, mesmo durante o dia.
- E) A troca de luz baixa e alta, de forma intermitente e por curto período de tempo, com o objetivo de advertir outros motoristas, só poderá ser utilizada para indicar a presença de fiscalização com radar nas imediações para os veículos que circulam no sentido contrário.

QUESTÃO 21 – Com base nos conceitos e definições relacionados no Anexo I do Código de Trânsito Brasileiro – CTB, analise as seguintes assertivas, assinalando C, se corretas, ou I, se incorretas.

- () **ÁREA DE ESPERA** – Área delimitada por 2 (duas) linhas de retenção, destinada exclusivamente à espera de motocicletas, motonetas e ciclomotores, junto à aproximação semaforizada, imediatamente à frente da linha de retenção dos demais veículos.
- () **BORDO DA PISTA** – Margem da pista, podendo ser demarcada por linhas longitudinais de bordo que delineiam a parte da via destinada à circulação de veículos.
- () **CARREATA** – Deslocamento em fila na via de veículos automotores em sinal de regozijo, de reivindicação, de protesto cívico ou de uma classe.
- () **UTILITÁRIO** – Veículo fabricado há mais de 30 (trinta) anos, original ou modificado, que possui valor histórico próprio.

A ordem correta de preenchimento dos parênteses, de cima para baixo, é:

- A) C – I – C – C.
- B) I – C – C – I.
- C) C – C – C – I.
- D) I – C – I – C.
- E) C – I – I – C.

QUESTÃO 22 – O Código de Trânsito Brasileiro – CTB define que a velocidade máxima permitida para a via será indicada por meio de sinalização, obedecidas suas características técnicas e as condições de trânsito. Segundo as disposições do Art. 61 do referido Código, onde não existir sinalização regulamentadora, a velocidade máxima será de:

- I. Nas vias urbanas, 80 km/h (oitenta quilômetros por hora), nas vias de trânsito rápido.
- II. Nas vias rurais, nas rodovias de pista dupla, 110 km/h (cento e dez quilômetros por hora) para automóveis, camionetas e motocicletas.
- III. Nas vias rurais, nas estradas, 60 km/h (sessenta quilômetros por hora).

Quais estão corretas?

- A) Apenas I.
- B) Apenas I e II.
- C) Apenas I e III.
- D) Apenas II e III.
- E) I, II e III.

QUESTÃO 23 – O Art. 64 do Código de Trânsito Brasileiro – CTB estabelece que as crianças com idade inferior a _____ anos que não tenham atingido _____ de altura devem ser transportadas nos bancos traseiros, em dispositivo de retenção adequado para cada idade, peso e altura, salvo exceções relacionadas a tipos específicos de veículos regulamentadas pelo Contran.

Assinale a alternativa que preenche, correta e respectivamente, as lacunas do trecho acima.

- A) 10 (dez) – 1,45 m (um metro e quarenta e cinco centímetros)
- B) 10 (dez) – 1,55 m (um metro e cinquenta e cinco centímetros)
- C) 11 (onze) – 1,45 m (um metro e quarenta e cinco centímetros)
- D) 11 (onze) – 1,55 m (um metro e cinquenta e cinco centímetros)
- E) 12 (doze) – 1,55 m (um metro e cinquenta e cinco centímetros)

QUESTÃO 24 – Segundo o Art. 67-C do Código de Trânsito Brasileiro – CTB, é vedado ao motorista profissional dirigir, por mais de _____ ininterruptas, veículos de transporte rodoviário coletivo de passageiros ou de transporte rodoviário de cargas.

Assinale a alternativa que preenche corretamente a lacuna do trecho acima.

- A) 3,5h (três horas e meia)
- B) 4h (quatro horas)
- C) 4,5h (quatro horas e meia)
- D) 5h (cinco horas)
- E) 5,5h (cinco horas e meia)

QUESTÃO 25 – De acordo com os conceitos e definições relacionados no Anexo I do Código de Trânsito Brasileiro – CTB, _____ é o veículo automotor de duas rodas, dirigido por condutor em posição sentada.

Assinale a alternativa que preenche corretamente a lacuna do trecho acima.

- A) ciclomotor
- B) motoneta
- C) bicicleta
- D) motocicleta
- E) ciclo

QUESTÃO 26 – De acordo com as disposições do Art. 87 do Código de Trânsito Brasileiro – CTB, os sinais de trânsito são classificados em, EXCETO:

- A) Luminosos.
- B) Dispositivos de sinalização auxiliar.
- C) Sonoros.
- D) Transversais.
- E) Gestos do agente de trânsito e do condutor.

QUESTÃO 27 – O Art. 125 do Código de Trânsito Brasileiro – CTB estabelece que as informações sobre o chassi, o monobloco, os agregados e as características originais do veículo deverão ser prestadas ao RENAVAL pelo fabricante ou montadora, antes da comercialização, no caso de veículo nacional. Segundo os conceitos e definições constantes no Anexo I do CTB, RENAVAL é o:

- A) Registro Nacional de Vinculação Automotora.
- B) Registro Nacional de Veículos Automotores.
- C) Registro Normativo de Veículos e Automóveis.
- D) Regulamento Normativo de Veículos e Automóveis.
- E) Regimento Nacional de Vinculação Automotora.

QUESTÃO 28 – Com base no Art. 96 do CTB, relacione a Coluna 1 à Coluna 2, associando a espécie aos respectivos veículos.

Coluna 1

1. De passageiros.
2. De carga.
3. Misto.
4. De tração.

Coluna 2

- () Camionete.
- () Carroça.
- () Charrete.
- () Caminhão-trator.
- () Camioneta.

A ordem correta de preenchimento dos parênteses, de cima para baixo, é:

- A) 2 – 2 – 1 – 4 – 3.
- B) 1 – 2 – 1 – 3 – 4.
- C) 3 – 1 – 2 – 3 – 4.
- D) 2 – 3 – 4 – 1 – 2.
- E) 1 – 4 – 4 – 2 – 3.

QUESTÃO 29 – De acordo com as disposições do Art. 105 do Código de Trânsito Brasileiro – CTB, entre os equipamentos obrigatórios dos veículos, estão:

- I. Luzes de rodagem diurna.
- II. Encosto de cabeça, para todos os tipos de veículos automotores, segundo normas estabelecidas pelo CONTRAN.
- III. Para os veículos de transporte e de condução escolar, os de transporte de passageiros com mais de dez lugares e os de carga com peso bruto total superior a quatro mil, quinhentos e trinta e seis quilogramas, equipamento registrador instantâneo inalterável de velocidade e tempo.

Quais estão corretas?

- A) Apenas I.
- B) Apenas I e II.
- C) Apenas I e III.
- D) Apenas II e III.
- E) I, II e III.

QUESTÃO 30 – O Código de Trânsito Brasileiro – CTB estabelece que a validade da Carteira Nacional de Habilitação está condicionada ao prazo de vigência do exame de aptidão física e mental. Segundo as disposições do Art. 147 do referido Código, o exame de aptidão física e mental, a ser realizado no local de residência ou domicílio do examinado, será preliminar e renovável com a seguinte periodicidade:

- I. A cada 10 (dez) anos, para condutores com idade inferior a 50 (cinquenta) anos.
- II. A cada 7 (sete) anos, para condutores com idade igual ou superior a 50 (cinquenta) anos e inferior a 70 (setenta) anos.
- III. A cada 5 (cinco) anos, para condutores com idade igual ou superior a 70 (setenta) anos.

Quais estão corretas?

- A) Apenas I.
- B) Apenas I e II.
- C) Apenas I e III.
- D) Apenas II e III.
- E) I, II e III.

QUESTÃO 31 – O Código de Trânsito Brasileiro – CTB estabelece que constitui infração de trânsito a inobservância de qualquer preceito do CTB ou da legislação complementar, e o infrator sujeita-se às penalidades e às medidas administrativas indicadas em cada artigo do Capítulo XV – Das Infrações e às punições previstas no Capítulo XIX do referido Código. Sendo assim, a infração de dirigir veículo com Carteira Nacional de Habilitação ou Permissão para Dirigir de categoria diferente da do veículo que esteja conduzindo, além da penalidade de multa, tem como medida administrativa o(a):

- A) Recolhimento do documento de habilitação.
- B) Remoção do veículo.
- C) Retenção do veículo e o recolhimento do documento de habilitação.
- D) Retenção do veículo até a apresentação de condutor habilitado.
- E) Retenção do veículo até o saneamento da irregularidade e o recolhimento do documento de habilitação.

QUESTÃO 32 – O Código de Trânsito Brasileiro – CTB define que as infrações punidas com multa se classificam, de acordo com sua gravidade, em quatro categorias. Segundo as disposições do Art. 258 do referido Código, as infrações punidas com multa com gravidade média, sem agravamento, têm o valor de:

- A) R\$ 193,47 (cento e noventa e três reais e quarenta e sete centavos).
- B) R\$ 155,23 (cento e cinquenta e cinco reais e vinte e três centavos).
- C) R\$ 130,16 (cento e trinta reais e dezesseis centavos).
- D) R\$ 120,35 (cento e vinte reais e trinta e cinco centavos).
- E) R\$ 110,38 (cento e dez reais e trinta e oito centavos).

QUESTÃO 33 – Segundo as disposições do Art. 261 do Código de Trânsito Brasileiro – CTB, a penalidade de suspensão do direito de dirigir será imposta sempre que, conforme a pontuação prevista no CTB, o infrator atingir, no período de 12 (doze) meses, a seguinte contagem de pontos:

- I. 20 (vinte) pontos, caso constem 3 (três) ou mais infrações gravíssimas na pontuação.
- II. 30 (trinta) pontos, caso constem 2 (duas) infrações gravíssimas na pontuação.
- III. 40 (quarenta) pontos, caso não conste nenhuma infração gravíssima na pontuação.

Quais estão corretas?

- A) Apenas III.
- B) Apenas I e II.
- C) Apenas I e III.
- D) Apenas II e III.
- E) I, II e III.

QUESTÃO 34 – Segundo as disposições do Art. 9º da Lei Federal nº 13.103/2015, entre os locais de repouso e descanso dos motoristas profissionais de transporte rodoviário de passageiros e rodoviário de cargas, estão:

- I. Alojamentos, hotéis ou pousadas.
- II. Refeitórios das empresas ou de terceiros.
- III. Postos de combustíveis.
- IV. Estações rodoviárias.

Quais estão corretas?

- A) Apenas I e II.
- B) Apenas III e IV.
- C) Apenas I, II e III.
- D) Apenas II, III e IV.
- E) I, II, III e IV.

QUESTÃO 35 – O Art. 284 do Código de Trânsito Brasileiro – CTB estabelece que o pagamento da multa poderá ser efetuado até a data do vencimento expressa na notificação, por _____ por cento do seu valor.

Assinale a alternativa que preenche corretamente a lacuna do trecho acima.

- A) oitenta
- B) setenta
- C) sessenta
- D) cinquenta
- E) quarenta

QUESTÃO 36 – Segundo os conceitos e definições relacionados no Anexo I do Código de Trânsito Brasileiro – CTB, todo cruzamento em nível, entroncamento ou bifurcação, incluindo as áreas formadas por tais cruzamentos, entroncamentos ou bifurcações, denomina-se:

- A) Ilha.
- B) Interrupção.
- C) Intervenção.
- D) Interseção.
- E) Interconversão.






QUESTÃO 37 – A Cartilha de Noções de Primeiros Socorros no Trânsito – ABRAMET (2005) define que acidentes de trânsito podem acontecer com todos, mas poucos sabem como agir na hora que eles acontecem. Sendo assim, segundo a referida cartilha, você pode ajudar, mas muitos são os procedimentos que podem agravar a situação da vítima, e, entre os mais comuns e que você deve evitar, estão:

- I. Movimentar uma vítima.
- II. Aplicar torniquetes para estancar hemorragias.
- III. Pedir socorro.

Quais estão corretas?

- A) Apenas I.
- B) Apenas I e II.
- C) Apenas I e III.
- D) Apenas II e III.
- E) I, II e III.

QUESTÃO 38 – Segundo o Manual Brasileiro de Sinalização de Trânsito – Volume I – Sinalização Vertical de Regulamentação – CONTRAN (2007), o sinal de regulamentação que tem o significado de assinalar ao condutor do veículo a proibição de realizar o movimento de conversão à esquerda é:

- A) 
- B) 
- C) 
- D) 
- E) 






QUESTÃO 39 – O Manual de Vigilância Sanitária Sobre Transporte de Material Biológico Humano Para Fins de Diagnóstico Clínico – Agência Nacional de Vigilância Sanitária – ANVISA (2015) define que a Organização Mundial da Saúde – OMS considera que produtos perigosos são aqueles que apresentam riscos durante o transporte. Segundo o referido Manual, há nove classes de produtos perigosos, e entre essas, as classes importantes para o transporte de material biológico são:

- I. Gases – Subclasse de risco – Não inflamáveis e não tóxicos.
- II. Materiais radioativos.
- III. Substâncias tóxicas e infecciosas – Subclasse substância infecciosa.

Quais estão corretas?

- A) Apenas III.
- B) Apenas I e II.
- C) Apenas I e III.
- D) Apenas II e III.
- E) I, II e III.

QUESTÃO 40 – De acordo com o Manual Brasileiro de Sinalização de Trânsito – Volume II – Sinalização Vertical de Advertência – CONTRAN (2007), os 69 (sessenta e nove) sinais de advertência estão subdivididos em grupos e subgrupos, conforme sua natureza, função, característica e aspecto do trânsito que advertem. Sendo assim, integram o grupo de traçado da pista, os seguintes sinais, EXCETO:

- A)  Estreitamento de pista ao centro.
- B)  Alargamento de pista à direita.
- C)  Ponte estreita.
- D)  Confluência à esquerda.
- E)  Fim de pista dupla.