



MUNICÍPIO DE VITÓRIA

SECRETARIA MUNICIPAL DE ADMINISTRAÇÃO (SEMAD)

Concurso Público
Nível Superior



Aplicação: 13/1/2008

Cargo 20: CONTROLADOR DE RECURSOS MUNICIPAIS
ÁREA DE ATUAÇÃO: ADMINISTRAÇÃO

Caderno T

40 HORAS
TARDE

LEIA COM ATENÇÃO AS INSTRUÇÕES ABAIXO.

- 1 Confira atentamente se o tipo de caderno — Caderno T — coincide com o que está registrado em sua folha de respostas. Em seguida, verifique se ele contém CIENTO E VINTE itens, correspondentes às provas objetivas, corretamente ordenados de 1 a 120.
- 2 Caso o caderno esteja incompleto ou tenha qualquer defeito, solicite ao fiscal de sala mais próximo que tome as providências cabíveis.
- 3 Não utilize lápis, lapiseira (grafite), borracha e(ou) qualquer material de consulta que não seja fornecido pelo CESPE/UnB.
- 4 Não se comunique com outros candidatos nem se levante sem autorização do chefe de sala.
- 5 Recomenda-se não marcar ao acaso: cada item cuja resposta diverja do gabarito oficial definitivo receberá pontuação negativa, conforme consta em edital.
- 6 A duração das provas é de **quatro horas**, já incluído o tempo destinado à identificação — que será feita no decorrer das provas — e ao preenchimento da folha de respostas.
- 7 Você deverá permanecer obrigatoriamente em sala por, no mínimo, **uma hora** após o início das provas e poderá levar este caderno de provas somente no decurso dos últimos **quinze minutos** anteriores ao horário determinado para o término das provas.
- 8 Ao terminar as provas, chame o fiscal de sala mais próximo, devolva-lhe a sua folha de respostas e deixe o local de provas.
- 9 A desobediência a qualquer uma das determinações constantes do presente caderno ou da folha de respostas poderá implicar a anulação das suas provas.

AGENDA (datas prováveis)

- I 15/1/2008, após as 19 h (horário de Brasília) – Gabaritos oficiais preliminares das provas objetivas: Internet — www.cespe.unb.br/concursos/pmvs2007.
- II 16 e 17/1/2008 – Recursos (provas objetivas): exclusivamente no Sistema Eletrônico de Interposição de Recurso. Internet, mediante instruções e formulários que estarão disponíveis nesse sistema.
- III 7/2/2008 – Resultado final das provas objetivas e convocações para a entrega da documentação para a avaliação de títulos e para a perícia médica de pessoas com deficiência: Imprensa Oficial do Município e Internet.

OBSERVAÇÕES

- Não serão objeto de conhecimento recursos em desacordo com o item 13 do Edital n.º 9 – PMV/NS, de 26/10/2007.
- Informações adicionais: telefone 0XX(61)3448-0100; Internet — www.cespe.unb.br/concursos/pmvs2007.
- É permitida a reprodução deste material apenas para fins didáticos, desde que citada a fonte.

- De acordo com o comando a que cada um dos itens de **1 a 120** se refira, marque, na **folha de respostas**, para cada item: o campo designado com o código **C**, caso julgue o item **CERTO**; ou o campo designado com o código **E**, caso julgue o item **ERRADO**. A ausência de marcação ou a marcação de ambos os campos não serão apenadas, ou seja, não receberão pontuação negativa. Para as devidas marcações, use a **folha de respostas**, único documento válido para a correção das suas provas.
- Nos itens que avaliam **Noções de Informática**, a menos que seja explicitamente informado o contrário, considere que todos os programas mencionados estão em configuração-padrão, em português, que o *mouse* está configurado para pessoas destros e que expressões como clicar, clique simples e clique duplo referem-se a cliques com o botão esquerdo do *mouse*. Considere também que não há restrições de proteção, de funcionamento e de uso em relação aos programas, arquivos, diretórios e equipamentos mencionados.

CONHECIMENTOS BÁSICOS

1 A Organização das Nações Unidas calcula ser de
1 bilhão o número de pessoas que já sofrem com a escassez
de água potável no planeta. Soma-se a isso o fato de que a
4 demanda crescente impulsionada pelo aumento populacional,
a poluição e a contaminação das fontes hídricas aceleram o
processo de redução da água, cujo principal fator é a
7 devastação ambiental — que inclui a derrubada de florestas,
matas ciliares e outros biomas essenciais à sobrevivência e
à permanência de rios e outras fontes hídricas. A água, sem
10 a qual não existe vida, tende a tornar-se um bem cada vez
mais escasso, e não são poucos os especialistas que já
antevêm, em um futuro não muito distante, a ocorrência de
13 conflitos armados entre povos e nações na disputa por essas
fontes. O Brasil dispõe de 12% das reservas de água doce da
Terra, mas infelizmente não as administra com competência
16 para fazer jus a tamanha generosidade da natureza.

Diário Catarinense, 22/11/2007 (com adaptações).

Em relação às idéias e às estruturas do texto acima, julgue os itens que se seguem.

- 1 A forma verbal “aceleram” (ℓ.5) está no plural para concordar com o sujeito composto.
- 2 A substituição de “cujo” (ℓ.6) por **em qual o** mantém a correção gramatical do período.
- 3 Em “à sobrevivência e à permanência” (ℓ.8-9), o sinal indicativo de crase justifica-se pela regência de “essenciais” (ℓ.8), que exige preposição, e pela presença de artigo definido feminino.
- 4 Em “tornar-se” (ℓ.10), o “-se” indica sujeito indeterminado.
- 5 O segmento que compõe o último período do texto está adequado para correspondências oficiais.

1 A população do Brasil cresceu nada menos que
14 milhões de 2000 a 2007, segundo o IBGE, chegando a
183,9 milhões de pessoas, o que nos inclui entre as dez
4 nações mais populosas do planeta e nos aproxima das cinco
nações da lista com mais de 200 milhões de habitantes.
Somente o crescimento dos últimos sete anos já supera a
7 população de muitos países desenvolvidos, como Holanda,
Bélgica, Áustria ou Dinamarca. É mais do que toda a
população de Portugal.

10 A extensão territorial do Brasil faz com que o país
tenha uma baixa densidade populacional. No entanto, como
somos hoje um país urbano, algumas cidades já se
transformaram em aglomerações com dimensões similares às
13 de megalópoles da Ásia ou da Europa.

Desse modo, o Brasil enfrenta hoje problemas
16 característicos de países com elevada concentração urbana:
periferias inchadas, falta de infra-estrutura e enorme
dificuldade para a administração pública se fazer presente em
19 todas as áreas sob sua responsabilidade.

Editorial. O Globo, 21/11/2007 (com adaptações).

A respeito das idéias e de aspectos gramaticais do texto acima, julgue os itens de **6 a 10**.

- 6 Depreende-se do texto que a população de Portugal é inferior a 14 milhões de pessoas.
- 7 O emprego de “nos” (ℓ.3) inclui no texto o autor e os leitores brasileiros.
- 8 A eliminação de “do” (ℓ.8) prejudica a correção gramatical do período.
- 9 O termo “No entanto” (ℓ.11) pode, sem prejuízo para a correção e para as informações originais do período, ser substituído por qualquer um dos seguintes: Porém, Entretanto, Contanto que.
- 10 O emprego de vírgula após “inchadas” (ℓ.17) justifica-se por isolar expressão apositiva.

1 O Brasil rural está vencendo seus desafios com
mais rapidez. A universalização da educação e o acesso
progressivo a comodidades do mundo moderno, como
4 energia elétrica e telecomunicações, além da importância
crescente do agronegócio na economia, tendem a reduzir
fluxos migratórios para as cidades e ainda a diminuir as
7 diferenças entre os indicadores do campo e dos centros
urbanos (as taxas de fecundidade, por exemplo, já se
aproximam).

10 Mas o Brasil metropolitano continua sem rumo
definido. Intervenções pontuais tentam atacar os problemas,
mas é evidente a falta de articulação entre os municípios que
13 compõem as regiões metropolitanas, até porque parte
significativa das soluções foge à alçada das prefeituras.
Os governos estaduais não têm capacidade financeira para
16 exercer esse papel de articulador, e é dos cofres federais que
as iniciativas dependem quase que inteiramente.

Idem, *ibidem*.

Em relação ao texto acima, julgue os itens a seguir.

- 11 A substituição de “está vencendo” (ℓ.1) por **vence** mantém a correção gramatical do período.
- 12 Em “ainda a diminuir” (ℓ.6), a presença da preposição é exigida pela regência de “tendem” (ℓ.5).
- 13 Infere-se das informações do texto que, no Brasil, a migração do campo para a cidade tende a diminuir.
- 14 Na linha 13, a forma verbal “compõem” está no plural porque concorda com “regiões metropolitanas”.
- 15 Na linha 14, o sinal indicativo de crase em “à alçada” justifica-se pela regência de “soluções”, que exige preposição, e pela presença de artigo feminino.

1 Basta ter eleições para um país ser considerado democrático? Não, dizem os cientistas políticos que comparam regimes pela história afora. Adam Przeworski
4 argumenta que só é democrática a eleição em que há contestação porque há mais de um partido competindo pelo poder. E, claro, alternância de partidos no poder.

7 Outro modo de comparar países é a maturidade de seu regime político. A idéia é que um país acumula experiências de resolução democrática de conflitos
10 pelos anos ininterruptos de democracia. Isso quer dizer respeito às regras estabelecidas no jogo democrático, sem mudanças de última hora para servir aos interesses
13 dos poderosos.

A idade da Constituição torna-se importante porque revela o respeito que os competidores têm pelas
16 regras do jogo ali estabelecidas. O país que muda as regras ao sabor dos interesses eventuais e momentâneos, de quem pode manipular o Poder Legislativo com o seu
19 poder, não pode ser considerado um país de democracia consolidada.

Alba Zaluar. *Folha de S.Paulo*, 19/11/2007 (com adaptações).

A propósito das idéias e de aspectos gramaticais do texto acima, julgue os próximos itens.

16 Pelas informações do texto, só é considerado democrático o país que tem mais de um partido que se alternam no poder por meio de eleições e que mantém a Constituição por muito tempo sem mudança de regras de última hora.


17 O segmento “que comparam regimes pela história afora” (ℓ.2-3) tem natureza restritiva em relação aos termos antecedentes.

18 Subentende-se, após “claro,” (ℓ.6) a estrutura “só é democrática a eleição em que há”.

19 Haveria prejuízo para a correção gramatical do período com o emprego de sinal de dois-pontos logo após “dizer” (ℓ.10).

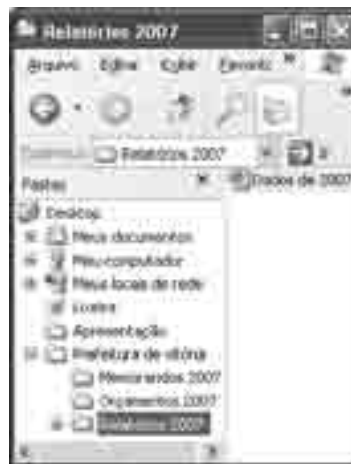
20 A substituição de “ao sabor dos” (ℓ.17) por **conforme** prejudica a correção gramatical do período e altera as informações originais.

Com relação ao Word 2003 e ao Excel 2003, julgue os itens que se seguem.



21 A ferramenta correspondente ao botão  permite fazer correções gramaticais e de grafia das palavras.

22 O *menu* Inserir permite alterar o tipo de fonte.

23 Uma planilha do Excel 2003 pode ser colada com vínculo em um documento do Word 2003; dessa forma, qualquer alteração feita na referida planilha será atualizada no arquivo do Word.



A figura acima mostra uma janela do Windows Explorer, executado em um computador cujo sistema operacional é o Windows XP. Com relação a essa figura e à segurança da informação, julgue os itens subsequentes.

24 O procedimento de clicar o ícone  e arrastar para a pasta associada ao ícone  fará que o arquivo de nome Dados de 2007 permaneça na pasta Relatórios 2007 e uma cópia seja enviada para a pasta Orçamentos 2007.

25 Ao se clicar a ferramenta , o arquivo de nome Dados de 2007 será movido para a pasta Orçamento 2007.

26 O Windows XP possui uma ferramenta que auxilia o usuário na realização de *backup* dos arquivos.

27 O *firewall* é um antivírus que permite detectar e eliminar diversos tipos de vírus.




Considerando a figura acima, que mostra uma janela do Outlook Express 6 (OE6) com uma mensagem contendo uma planilha copiada do Excel, julgue os próximos itens.


28 O *e-mail* será encaminhado para Paulo com cópia para Ana.

29 Uma desvantagem do OE6 é que, quando o usuário termina de editar a mensagem, deve imediatamente encaminhá-la, caso contrário ela será descartada.

30 Considerando que a planilha foi criada no Excel a partir da célula A1, é correto afirmar que o número de escolas construídas no ano de 2005 é igual ao resultado da execução da fórmula =B4-B3.

31 Para se centralizar o título da planilha, é suficiente selecioná-lo e clicar o botão .

Julgue os itens subsequentes, acerca do Internet Explorer 6 (IE6) e de conceitos de Internet.

- 32 Um cuidado que os usuários devem ter em relação ao acesso à Internet é fazer *download* apenas de arquivos confiáveis para evitar a contaminação por vírus.
- 33 O IE6 possui uma ferramenta de antivírus que detecta sítios não confiáveis.
- 34 Ao se digitar www.mec.gov.br na barra de endereço do IE6 e pressionar a tecla , terá início o *upload* de todos os arquivos, imagens e textos da página do MEC.
- 35 No endereço <http://www.mec.gov.br>, os caracteres “http” indicam a existência de um servidor de arquivos ftp.

Julgue os itens que se seguem, a respeito do projeto de transposição do rio São Francisco, um dos principais empreendimentos incluídos no Plano de Ação de Aceleração do Crescimento (PAC), do governo federal, e de suas implicações para a sociedade e a política nacionais.

- 36 Apesar de o referido projeto ser de interesse de alguns estados do Nordeste do Brasil, em outros estados da mesma região houve manifestações de preocupação com o enfraquecimento do caudal do mencionado rio, econômica e socialmente importante para suas populações.
- 37 A inclusão do projeto de transposição do rio São Francisco no PAC vem sendo apontada pelo governo federal como uma forma de articular, política e economicamente, ações que necessitam ser realizadas.
- 38 A decisão de suspender o projeto de transposição do rio São Francisco, tomada pelo tribunal regional federal, é inédita, uma vez que questões ambientais não foram debatidas antes do início dos trabalhos de transposição desse rio.
- 39 Conflitos de competência legal entre conselhos federais e instâncias locais e regionais da área ambiental exemplificam a tensão latente no campo do direito ambiental no Brasil.
- 40 Apesar das tensões que envolvem o processo legal acerca do assunto, a opinião pública nacional é amplamente favorável ao projeto citado, entendido como estratégico não apenas para o Nordeste do país, mas também para o Sul e o Sudeste.

A propósito do crescimento econômico do Brasil, conforme os resultados dos últimos relatórios divulgados por grupos de estudo e consultorias de todo o país, julgue os itens a seguir.

- 41 O Brasil, depois de crescimento modesto em anos anteriores, retomou, gradualmente, em 2007, índices de crescimento econômico mais alentados, apresentando cerca de 5% de aumento no PIB.
- 42 O crescimento da agropecuária e da indústria, associado à expansão do crédito e do consumo de bens de massa, é um aspecto da retomada do crescimento brasileiro em 2007.
- 43 De acordo com os dados de crescimento econômico divulgados por estudos realizados pela iniciativa privada e por órgãos públicos, o Brasil voltou a liderar o crescimento da América Latina.
- 44 Crescimento econômico com a presença de elementos inflacionários é característica do modelo de desenvolvimento em curso no país.
- 45 Mesmo com previsão de expressiva taxa de crescimento do PIB para o final do ano de 2007, o crescimento econômico do Brasil segue aquém daquele obtido por grandes economias emergentes como a Índia e a China.
- 46 O crescimento econômico brasileiro continua concentrado no Sudeste e Sul do país, sem alteração relativa à presença do Centro-Oeste ou do Nordeste do país na produção nacional.

Acerca da situação da segurança em países da América Latina, julgue os próximos itens.

- 47 O tema central da campanha de eleição presidencial na Argentina, ocorrida no segundo semestre de 2007, foi segurança.
- 48 No Brasil, o êxito de bilheteria do filme **Tropa de Elite** evidenciou que a situação da segurança causa grande apreensão na população brasileira.
- 49 As grandes capitais de países da América Latina apresentam situação relativamente semelhante no que se refere à insuficiência da segurança pública, mesmo com os esforços recentes de Bogotá nessa área.
- 50 Em matéria de segurança pública, o Chile é exceção ao quadro apresentado pela América Latina.

CONHECIMENTOS COMPLEMENTARES

A respeito do direito constitucional, julgue os itens a seguir.

- 51** A Constituição Federal assegura o direito a privacidade, que é entendida como vida privada, a intimidade, a honra e a imagem.
- 52** O controle preventivo de constitucionalidade de uma lei é exercido, no âmbito do Poder Legislativo, pelas comissões de constituição e justiça.
- 53** São membros do Poder Judiciário do estado do Espírito Santo os desembargadores do tribunal de justiça do estado, os juízes de direito e os juízes do trabalho.
- 54** A iniciativa popular, prevista na Constituição do Estado do Espírito Santo, pode ser exercida pela apresentação à Assembléia Legislativa do estado de projeto de lei ou proposta de emenda à Constituição, devidamente articulados e subscritos por, no mínimo, 1% do eleitorado estadual, distribuído em pelo menos cinco municípios com um mínimo de 2% dos eleitores de cada um desses municípios.
- 55** Se o governador, o vice-governador e o presidente da Assembléia Legislativa do Estado do Espírito Santo viajarem juntos para a capital federal, por um período igual ou superior a 20 dias consecutivos, o vice-presidente da Assembléia Legislativa deve assumir interinamente o governo do estado.
- 56** A renúncia do governador do estado do Espírito Santo somente se tornará efetiva com o conhecimento da respectiva mensagem pela Assembléia Legislativa do estado.

Julgue os item seguintes, referentes ao direito administrativo.

- 57** A publicação do ato administrativo é condição de eficácia e validade desse ato.
- 58** O princípio da eficiência, que não estava previsto expressamente na Constituição Federal de 1988, passou a integrar o texto constitucional apenas com o advento da Emenda Constitucional n.º 19/1998.
- 59** O contrato administrativo verbal é legalmente previsto.
- 60** O serviço de táxi é uma espécie de permissão de serviço público.
- 61** O princípio da autotutela garante à administração pública o poder de anular seus próprios atos quando estes estiverem eivados de vícios que os tornem ilegais.
- 62** A Empresa Brasileira de Correios e Telégrafos é uma empresa pública. Sendo assim, seus bens são passíveis de penhora.

Com relação à legislação previdenciária, julgue os itens a seguir.

- 63** Considere que João de Souza tenha arrendado um pedaço de terra de propriedade de José Silva, passando a exercer atividade rural em regime de economia familiar, sem empregados permanentes. Nessa situação, João de Souza deverá contribuir para a seguridade social com base em um valor proporcional à comercialização da sua produção rural.
- 64** A previdência social tem por finalidade garantir aos seus beneficiários os meios indispensáveis de manutenção nas hipóteses de ocorrência de riscos sociais, tais como incapacidade, idade avançada e desemprego involuntário, além de garantir a sobrevivência da família nos casos de morte ou de reclusão do provedor econômico.
- 65** Em relação à gestão da seguridade social brasileira, o modelo de organização implementado pelas autoridades públicas é caracterizado, essencialmente, pelo caráter democrático e centralizado da administração, apesar de ser possível, quando solicitada, a participação dos trabalhadores, dos empregadores e dos aposentados, a exemplo do que aconteceu nas reuniões do Conselho de Desenvolvimento Econômico e Social, organizadas pelo atual governo.
- 66** Não incide contribuição previdenciária sobre as aposentadorias e pensões pagas pelo regime geral de previdência social (RGPS), ao contrário do que acontece com os regimes próprios de previdência.
- 67** As questões relacionadas à seguridade social devem ser consideradas prioritárias em qualquer Estado moderno, tendo em vista a importância da finalidade social que ela representa. No modelo brasileiro, as prestações são agrupadas em dois setores específicos: a assistência e a previdência social.
- 68** Os servidores vinculados aos regimes próprios criados pelos entes federativos, mas sem regime de previdência complementar, podem filiar-se facultativamente ao RGPS a fim de garantir uma renda extra quando se aposentarem.

Com base nos preceitos da Lei Complementar n.º 101/2000 — Lei de Responsabilidade Fiscal —, julgue os itens a seguir.

69 Considere que o governo de determinado município pretenda criar um programa de erradicação de doenças, durante os dois próximos exercícios, a ser executado com o pessoal permanente da secretaria de saúde. Nessa situação, as despesas com a remuneração desse pessoal se enquadram entre as obrigatórias de caráter continuado.

70 Considere que o Poder Executivo de uma prefeitura tenha apresentado, ao final do exercício, as seguintes despesas relacionadas a pessoal.

pessoal e encargos sociais	R\$ 550.000,00
aposentadorias	R\$ 70.000,00
mão-de-obra terceirizada	R\$ 90.000,00
decisões judiciais de competência do próprio exercício	R\$ 140.000,00
diárias e ajudas de custo	R\$ 50.000,00

Nessa situação, considerando-se que a receita corrente líquida tenha sido de R\$ 1.500.000,00, é correto concluir que as despesas de pessoal superaram o limite permitido.

Com base nos preceitos da Lei n.º 4.320/1964, julgue os itens que se seguem.

71 As despesas com inativos diferenciam-se das despesas com pensionistas, pois apenas estas últimas caracterizam-se como transferências correntes, por não haver contraprestação direta em bens ou serviços.

72 As despesas que não sejam pagas no exercício e que tenham sido liquidadas ou apenas empenhadas são passíveis de inscrição em restos a pagar.

Considerando a legislação e os conceitos e aplicações da auditoria, julgue os seguintes itens.

73 A auditoria para verificação do cumprimento de obrigações fiscais pode ser exercida tanto por agentes do poder público como por profissionais contratados pela empresa, com ou sem vínculo empregatício, em caráter permanente ou não.

74 Considere que, em determinada instituição, a auditoria interna constate a ocorrência de erros ou a existência de fraudes que estejam levando à prática de impropriedades ou irregularidades. Nesse caso, não será preciso aguardar o final dos exames para a emissão de relatório parcial, que deverá ser entregue ao solicitante do trabalho.

75 Considere a seguinte situação.
Na avaliação do controle interno, o auditor verificou que, para cada cheque preparado, existia um *voucher* em que o pagamento era autorizado, mediante a anexação dos respectivos documentos comprobatórios. As assinaturas nos cheques e nos *vouchers* eram coincidentes e os documentos comprobatórios haviam sido inutilizados.
Nessa situação, é correto concluir que os controles internos eram satisfatórios.

76 Ao selecionar os devedores e credores da entidade sob exame para efeito de circularização, o auditor deve levar em conta alguns critérios, entre os quais se destacam os saldos individuais relevantes e os valores vencidos há mais tempo.

77 A evidência física, obtida em exame físico ou inspeção de ativos tangíveis, é considerada como geralmente muito confiável, mas o auditor pode não ter qualificação para determinar a qualidade, a condição ou o valor, tarefa que pode depender de um especialista.

78 Considere que, ao analisar o saldo de contas a pagar da empresa sob exame, o auditor tenha encontrado alguns saldos devedores, decorrentes de adiantamentos efetuados aos fornecedores. Nesse caso, o auditor deverá efetuar um lançamento de ajuste, a débito de contas a pagar e a crédito de adiantamentos a fornecedores.

79 O auditor interno pode realizar trabalhos de forma compartilhada com profissionais de outras áreas, caso em que assumirá a responsabilidade pelo trabalho do grupo, independentemente da habilitação dos seus participantes.

80 As expressões “exceto por”, “exceto quanto” e “com exceção de” são típicas do parecer com abstenção de opinião.

RASCUNHO

CONHECIMENTOS ESPECÍFICOS

Uma moeda viciada, ao ser lançada, cai com a cara para cima (**cara**) em 60% dos casos e com a coroa para cima (**coroa**) em 40% dos casos. Com base nessas informações, julgue os itens a seguir.

- 81 A probabilidade de dar **cara** em dois lançamentos seguidos dessa moeda é superior a 40%.
- 82 A probabilidade de dar **coroa** em três lançamentos seguidos dessa moeda é inferior a 10%.
- 83 Após lançar a moeda duzentas vezes, espera-se que a quantidade de ocorrências de **cara** seja o dobro da de **coroa**.
- 84 Atribuindo-se o valor 8 para cada ocorrência de **cara** e 20 para cada ocorrência de **coroa**, a média aritmética esperada para o grupo de valores gerados após dez lançamentos da moeda é igual a 12,8.

Acerca da administração mercadológica, julgue os itens seguintes.

- 85 Em pesquisas de *marketing*, a definição do problema mercadológico deve ocorrer após as etapas de coleta e tabulação dos dados.
- 86 As divisões de clientes por regiões, cidades ou bairros são exemplos de segmentação do mercado por características geográficas.
- 87 No âmbito das ações de pós-venda, devem-se evitar a pesquisa de opinião do cliente sobre o ciclo de prestação do serviço, assim como os pedidos de sugestão sobre melhorias que possam ser implantadas.
- 88 As empresas têm buscado ser reconhecidas pelos clientes como empresas cidadãs, em função de ações de responsabilidade social praticadas, o que tem-se constituído em importante estratégia de *marketing*, tanto para organizações públicas quanto privadas.

Julgue os itens subseqüentes, que versam sobre a administração de materiais e a gestão de estoques.

- 89 A administração dos níveis de estoque tem por objetivo minimizar os custos relacionados a manutenção, armazenagem, controle e movimentação de materiais, sem, no entanto, comprometer os processos produtivos da organização.
- 90 Mesmo que a demanda por produtos ou serviços de uma organização seja sazonal, os níveis de estocagem de materiais nessa organização devem permanecer constantes ao longo do ano.
- 91 O estoque de segurança é o resultado da soma entre o estoque mínimo e o lote de compra.
- 92 O inventário físico de materiais tem por objetivo comparar a quantidade física encontrada no estoque com os dados contabilizados nos registros.

Quanto a administração financeira e orçamentária, julgue os itens que se seguem.

- 93 Em uma aplicação realizada no regime de capitalização composta, o cálculo dos juros de cada período tem por base o valor original aplicado, o que gera rendimentos constantes.
- 94 Se um investimento oferece uma taxa real de juros de 12% ao ano, e a inflação projetada para o período é de 5%, a taxa nominal de juros oferecida deve ser de 7% ao ano.
- 95 A projeção dos lucros futuros deve ser tratada no âmbito do planejamento financeiro de longo prazo.
- 96 A projeção do fluxo de caixa para períodos inferiores a um ano é atividade relacionada ao planejamento financeiro de curto prazo.
- 97 No sistema financeiro brasileiro, o Banco Nacional de Desenvolvimento Econômico e Social (BNDES), constitui o principal instrumento de execução da política de investimento do governo federal, representando importante fonte de financiamento de longo prazo.

RASCUNHO

Considerando a Lei n.º 8.666/1993 e alterações posteriores, que trata de licitações e contratos administrativos, julgue os itens a seguir.

- 98** Os limites financeiros para a realização de licitação pela modalidade de convite são menores do que os da tomada de preços.
- 99** Qualquer cidadão poderá impugnar edital de licitação que estiver em desconformidade com a Lei n.º 8.666/1993, devendo, para tanto, estar representado por advogado e ingressar com ação no Poder Judiciário.
- 100** As propostas que não atendam às exigências do edital de licitação serão desclassificadas.
- 101** A contratação de serviços de natureza predominantemente intelectual deve ser realizada por licitação do tipo menor preço.

Julgue os itens seguintes, que tratam da Lei Complementar n.º 101/2000 — Lei de Responsabilidade Fiscal (LRF).

- 102** Segundo a LRF, a despesa total dos municípios com pessoal não pode exceder a 40% da sua receita corrente líquida.
- 103** De acordo com a LRF, qualquer ato de prefeito municipal que resulte em aumento de despesa com pessoal, expedido nos cento e oitenta dias anteriores ao final de seu mandato, é nulo de pleno direito.
- 104** A LRF obriga prefeitos e governadores a emitirem, mensalmente, relatório de gestão fiscal, contendo a despesa total com pessoal de cada unidade administrativa vinculada ao respectivo poder público.

Considerando os dispositivos da Lei n.º 4.320/1964, e suas alterações posteriores, julgue os itens que se seguem.

- 105** Por ser vedada a realização de despesa sem prévio empenho, este deverá ser feito por estimativa quando o montante da despesa não puder ser determinado.
- 106** Devido à natureza autorizativa do orçamento brasileiro, a verificação da legalidade dos atos de execução orçamentária deverá ocorrer somente *a posteriori*.
- 107** A elaboração da lei orçamentária municipal deve observar o princípio da universalidade, segundo o qual todas as receitas e despesas referentes aos poderes municipais devem estar inseridas no orçamento.

Acerca da administração de recursos humanos, julgue os itens subseqüentes.

- 108** Denomina-se rotatividade de pessoal ao resultado gerado pelas entradas e saídas de empregados em uma organização.
- 109** Melhorar o nível de satisfação da população com os serviços prestados é objetivo da administração de recursos humanos de uma prefeitura.

110 Para equipes cujos membros apresentam alto nível de maturidade, a delegação é a forma de liderança mais adequada, pois estimula os componentes da equipe a buscar formas mais eficientes de realização de seus trabalhos.

111 Para que se evitem distorções nos critérios de avaliação de desempenho, a aplicação dessa avaliação deve ser responsabilidade exclusiva da unidade de administração de recursos humanos.

112 Promoções e transferências são formas de recrutamento e seleção de recursos humanos.

113 Desequilíbrio interno da remuneração é a situação na qual há empregados com maiores responsabilidades, produtividade, conhecimentos e habilidades que percebem remuneração superior a outros com menores responsabilidades, produtividade, conhecimentos e habilidades.

114 Participação nos lucros e resultados, avaliação de desempenho e rodízio de cargos são exemplos de práticas organizacionais que promovem a motivação dos empregados.

115 Desenvolvimento de recursos humanos compreende o conjunto de atividades destinado ao aprendizado de habilidades mais amplas que as requeridas na ocasião do desenvolvimento, ou de habilidades para o exercício de novos cargos.

116 As organizações de aprendizagem são as que possuem como característica a capacidade de aprender, exclusivamente, por meio de treinamento contínuo.

117 A cultura organizacional, conjunto de crenças, princípios e valores compartilhados na organização, não condiciona as atitudes das pessoas no seu dia-a-dia de trabalho.


Julgue o próximo item, acerca de estruturas organizacionais.

118 A estrutura organizacional do tipo linha e assessoria tem como objetivo criar uma estrutura auxiliar à tomada de decisão.

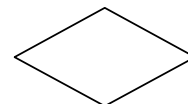
Julgue o seguinte item, a respeito do planejamento estratégico das organizações.

119 É chamado de planejamento tático o planejamento elaborado no primeiro nível das organizações e destinado a estabelecer as ações estratégicas de longo prazo.

Julgue o item a seguir, que versa acerca de fluxogramas.



I



II



III

120 Os símbolos I, II e III ilustrados acima significam, respectivamente, tarefa ou operação, decisão e conexão na mesma página.