

CONCURSO PÚBLICO

1. PROVA OBJETIVA

ASCENSORISTA

COPEIRO

- ♦ VOCÊ RECEBEU SUA FOLHA DE RESPOSTAS E ESTE CADERNO CONTENDO **40** QUESTÕES OBJETIVAS.
- ♦ CONFIRA SEU NOME E NÚMERO DE INSCRIÇÃO IMPRESSOS NA CAPA DESTE CADERNO.
- ♦ LEIA CUIDADOSAMENTE AS QUESTÕES E ESCOLHA A RESPOSTA QUE VOCÊ CONSIDERA CORRETA.
- ♦ RESPONDA A TODAS AS QUESTÕES.
- ♦ MARQUE, NA FOLHA INTERMEDIÁRIA DE RESPOSTAS, LOCALIZADA NO VERSO DESTA PÁGINA, A LETRA CORRESPONDENTE À ALTERNATIVA QUE VOCÊ ESCOLHEU.
- ♦ TRANSCREVA PARA A FOLHA DE RESPOSTAS, COM CANETA DE TINTA AZUL OU PRETA, TODAS AS RESPOSTAS ANOTADAS NA FOLHA INTERMEDIÁRIA DE RESPOSTAS.
- ♦ A DURAÇÃO DA PROVA É DE **3** HORAS.
- ♦ A SAÍDA DO CANDIDATO DA SALA SERÁ PERMITIDA APÓS TRANSCORRIDA A METADE DO TEMPO DE DURAÇÃO DA PROVA.
- ♦ AO SAIR, VOCÊ ENTREGARÁ AO FISCAL A FOLHA DE RESPOSTAS E ESTE CADERNO DE QUESTÕES, PODENDO DESTACAR ESTA CAPA PARA FUTURA CONFERÊNCIA COM O GABARITO A SER DIVULGADO.

AGUARDE A ORDEM DO FISCAL PARA ABRIR ESTE CADERNO DE QUESTÕES.

FOLHA INTERMEDIÁRIA DE RESPOSTAS

QUESTÃO	RESPOSTA				
01	A	B	C	D	E
02	A	B	C	D	E
03	A	B	C	D	E
04	A	B	C	D	E
05	A	B	C	D	E

06	A	B	C	D	E
07	A	B	C	D	E
08	A	B	C	D	E
09	A	B	C	D	E
10	A	B	C	D	E

11	A	B	C	D	E
12	A	B	C	D	E
13	A	B	C	D	E
14	A	B	C	D	E
15	A	B	C	D	E

16	A	B	C	D	E
17	A	B	C	D	E
18	A	B	C	D	E
19	A	B	C	D	E
20	A	B	C	D	E

QUESTÃO	RESPOSTA				
21	A	B	C	D	E
22	A	B	C	D	E
23	A	B	C	D	E
24	A	B	C	D	E
25	A	B	C	D	E

26	A	B	C	D	E
27	A	B	C	D	E
28	A	B	C	D	E
29	A	B	C	D	E
30	A	B	C	D	E

31	A	B	C	D	E
32	A	B	C	D	E
33	A	B	C	D	E
34	A	B	C	D	E
35	A	B	C	D	E

36	A	B	C	D	E
37	A	B	C	D	E
38	A	B	C	D	E
39	A	B	C	D	E
40	A	B	C	D	E

LÍNGUA PORTUGUESA

Leia o texto para responder às questões de números **01** a **08**.

Medo da velhice

À medida que fico maduro, tomo consciência de que a cidade é feita para quem está no auge da saúde, com força total. São frequentes as reportagens sobre os ônibus e peruas que não param para idosos. Muitos motoristas fogem diante dos cabelos brancos.

Se entro numa loja e vejo uma senhora idosa examinando um artigo em promoção, geralmente a vendedora está com ar impaciente. Prefere atender gente com vontade de comprar mais depressa.

Nas famílias, as pessoas estão o tempo todo ocupadas. São poucas as que têm disposição para passar uma tarde ou uma noite conversando, preparando um jantarzinho melhor, trocando afeto. O idoso é obrigado a entender que a vida do neto corre depressa, e que ele não tem paciência com o ritmo mais lento do avô, para as recordações e modo de ver o mundo.

Penso que nossos ancestrais sabiam lidar melhor com a velhice. Viviam em cidades menores, os vizinhos se conheciam, e um ajudava o outro. Na cidade grande, é sempre uma correria onde frequentemente se esquecem os valores humanos. É duro olhar para esse mundo e se perguntar:

– O que será de mim, quando for velho?

Talvez, se todos se fizessem a mesma pergunta, tudo poderia melhorar a partir de agora.

(Walcyr Carrasco. *Pequenos delitos e outras crônicas*. Adaptado)

01. De acordo com o texto, à medida que amadurece, o autor descobre que a cidade privilegia

- (A) as crianças inteligentes.
- (B) as pessoas saudáveis.
- (C) os idosos perseverantes.
- (D) aqueles que se esforçam.
- (E) os jovens corajosos.

02. Conforme o texto, os nossos ancestrais sabiam lidar melhor com a velhice porque as pessoas

- (A) passavam a tarde e a noite conversando.
- (B) faziam jantares e trocavam afeto.
- (C) não queriam pôr os idosos em asilos.
- (D) podiam contar umas com as outras.
- (E) evitavam pedir favores aos mais jovens.

03. No 4.º parágrafo, o autor evidencia a ideia de que na cidade grande falta

- (A) ônibus.
- (B) emprego.
- (C) pressa.
- (D) comunicação.
- (E) solidariedade.

04. Na opinião do autor, se imaginássemos o que seria de nós na velhice, poderíamos

- (A) entender que a vida dos outros é muito atribulada.
- (B) aceitar a falta de ânimo dos nossos ancestrais.
- (C) ter mais paciência ao lidarmos com os idosos.
- (D) compreender a correria dos nossos familiares.
- (E) cuidar melhor da saúde para não precisar das pessoas.

05. Na frase: – *São poucas as que têm **disposição** para passar uma tarde ou uma noite conversando ...* – a palavra **disposição** pode ser substituída, sem alteração de sentido, por

- (A) vontade.
- (B) tempo.
- (C) ansiedade.
- (D) pressa.
- (E) obrigação.

06. ... a cidade é feita para quem está no **auge** ...

A palavra **auge** tem sentido contrário em

- (A) apogeu.
- (B) crescimento.
- (C) declínio.
- (D) progresso.
- (E) topo.

07. Assinale a alternativa que apresenta palavra em sentido figurado.

- (A) ... vejo uma senhora idosa examinando um artigo em promoção...
- (B) Muitos motoristas fogem diante dos cabelos brancos.
- (C) Prefere atender gente com vontade de comprar mais depressa.
- (D) Viviam em cidades menores, os vizinhos se conheciam ...
- (E) ... frequentemente se esquecem os valores humanos.

08. Na frase: – São poucas **as** que têm disposição para passar uma tarde ou uma noite conversando... – o pronome destacado refere-se, de acordo com o texto, à palavra

- (A) idoso.
- (B) vizinhos.
- (C) neto.
- (D) pessoas.
- (E) vendedora.

09. Assinale a alternativa em que a pontuação está correta.

- (A) Muitos, motoristas, de acordo com reportagens, não respeitam os idosos.
- (B) Muitos motoristas, de acordo, com reportagens, não respeitam os idosos.
- (C) Muitos motoristas, de acordo com reportagens não respeitam, os idosos.
- (D) Muitos motoristas de acordo, com reportagens, não respeitam os idosos.
- (E) Muitos motoristas, de acordo com reportagens, não respeitam os idosos.

Leia o texto a seguir para responder às questões de números 10 a 12.

Campanha combate desrespeito ao idoso no transporte público

Para combater o desrespeito aos idosos usuários do transporte público, a Secretaria de Direitos Humanos da Presidência da República lançou a Campanha Nacional de Conscientização sobre a Violência contra a Pessoa Idosa.

O transporte coletivo foi escolhido como tema da campanha porque tem sido alvo frequente de reclamações nos Conselhos Estaduais de Direitos do Idoso (CDI). São recebidas várias denúncias de que o motorista não para porque sabe que o idoso não paga passagem.

Os usuários que forem discriminados ao usar transporte público podem denunciar o problema na empresa responsável ou no Conselho de Direitos do Idoso de seu estado. É necessário anotar o número da linha, o horário e a data.

(<http://aprendiz.uol.com.br> Adaptado)

10. De acordo com o texto, o tema da campanha refere-se

- (A) à negligência sofrida pelos idosos.
- (B) às denúncias que os motoristas fazem.
- (C) à necessidade de o idoso pagar passagens.
- (D) à qualidade dos ônibus que trafegam na cidade.
- (E) ao desconforto que há nos transportes públicos.

11. No trecho: – O transporte coletivo foi escolhido como tema da campanha porque tem sido **alvo frequente** de reclamações... – a expressão pode ser substituída, sem alteração de sentido, por

- (A) meta original.
- (B) objetivo diferente.
- (C) intenção cansativa.
- (D) motivo constante.
- (E) desafio excessivo.

12. **Para combater o desrespeito aos idosos usuários do transporte público, a Secretaria de Direitos Humanos da Presidência da República lançou a Campanha ...**

A preposição destacada tem sentido de

- (A) lugar.
- (B) instrumento.
- (C) finalidade.
- (D) modo.
- (E) tempo.

13. **É necessário anotar o número da linha ...**

Passando o verbo destacado para o tempo futuro, tem-se:

- (A) Foi.
- (B) Era.
- (C) Fora.
- (D) Fosse.
- (E) Será.

Considere a imagem a seguir para responder às questões de números 14 e 15.

Passeata marca o dia mundial de conscientização da violência contra a pessoa idosa.



(<http://www.cuidardeidosos.com.br> – Acesso em 06-08-2010. Adaptado)

14. As palavras **marca** e **conscientização** podem ser substituídas, sem alteração de sentido e respectivamente, por

- (A) impõe e sugestão.
- (B) determina e responsabilização.
- (C) informa e incentivo.
- (D) sugere e aceitação.
- (E) obriga e defesa.

15. A frase acima da figura expressa a ideia de

- (A) mobilização.
- (B) desesperança.
- (C) individualismo.
- (D) oportunismo.
- (E) alienação.

16. Considere as frases:

- I. Foi ele quem avisou-**nos** que os nossos netos viajaram.
- II. **Me** convidaram para conhecer um hotel para idosos.
- III. Eles não **os** respeitam, por isso devem ser punidos.

A colocação dos pronomes destacados está de acordo com a norma culta apenas em

- (A) I.
- (B) II.
- (C) III.
- (D) I e II.
- (E) I e III.

Nas questões de números 17 e 18, assinale a alternativa que preenche, correta e respectivamente, as lacunas das frases dadas.

17. O idoso parecia disposto _____ chegar _____ rodoviária bem antes do meio-dia e _____.

- (A) à ... a ... meia
- (B) a ... à ... meio
- (C) à ... à ... meio
- (D) a ... a ... meia
- (E) a ... à ... meia

18. Aquele era o vizinho _____ as senhoras mais _____, _____ ele as desrespeitava.

- (A) com quem ... discutiam ... porque
- (B) de quem ... discutia ... mas
- (C) contra quem ... discutiam ... porém
- (D) para quem ... discutia ... pois
- (E) em quem ... discutia ... contudo

Leia os quadrinhos a seguir para responder às questões de números 19 e 20.



(Fernando Gonsales. *Niquel Náusea: Os ratos também choram*. Adaptado)

19. Pode-se afirmar que a fala do senhor do último quadrinho revela que ele

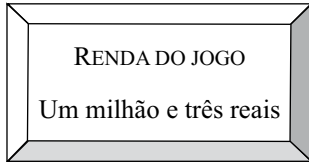
- (A) continua achando-se jovem, apesar das condições físicas.
- (B) não mantém a opinião dos outros senhores.
- (C) não concorda que a vida começa aos 40.
- (D) insiste que a vida começa aos 90.
- (E) tem esperança de poder viver um pouco melhor.

20. A ideia contida na tirinha é de que acreditar na possibilidade de começar a viver na velhice é

- (A) animador, desde que a pessoa saiba se alimentar bem.
- (B) fácil, devido ao avanço da medicina.
- (C) estar consciente de que as limitações do organismo são poucas.
- (D) ilusório, uma vez que as condições físicas e mentais ficam alteradas.
- (E) motivo de alegria, porque as pessoas gostam dos idosos.

MATEMÁTICA

21. Durante um jogo de futebol, o placar eletrônico mostrou a seguinte informação:



Essa renda escrita com algarismos é

- (A) R\$ 1.003.000,00.
(B) R\$ 1.000.300,00.
(C) R\$ 1.000.003,00.
(D) R\$ 100.003,00.
(E) R\$ 103.000,00.
22. Seu Paulo, pai de Mônica, comprou uma bicicleta de presente para a filha. Ele vai pagar a bicicleta em quatro parcelas: a primeira de R\$ 125,00; a segunda R\$ 60,00 a mais que a primeira; a terceira o dobro da segunda; e a quarta parcela igual à diferença entre a terceira e a primeira.

A bicicleta de Mônica custou

- (A) R\$ 925,00.
(B) R\$ 865,00.
(C) R\$ 825,00.
(D) R\$ 715,00.
(E) R\$ 695,00.
23. Veja a receita do bolo de chocolate de Helena.

QUINTA PARTE DE 1 LITRO DE LEITE
260 GRAMAS DE FARINHA DE TRIGO
$\frac{1}{4}$ DE 1 QUILOGRAMA DE MANTEIGA
OITAVA PARTE DE 1 QUILOGRAMA DE CHOCOLATE
$\frac{1}{2}$ DE 1 QUILOGRAMA DE AÇÚCAR

Então, a quantidade de leite necessária para fazer $2\frac{1}{2}$ receitas de bolo, iguais a essa, é de

- (A) 200 mL.
(B) 300 mL.
(C) 350 mL.
(D) 400 mL.
(E) 500 mL.

24. Em uma cidade, a empresa de telefonia está promovendo a linha econômica. Sua assinatura é de R\$ 30,00, incluindo 100 minutos a serem gastos em ligações locais para telefone fixo. O tempo de ligação excedente é tarifado em R\$ 0,10 por minuto. O valor da conta mensal de um cliente que gasta 200 minutos em ligações locais é de

- (A) R\$ 35,00.
(B) R\$ 40,00.
(C) R\$ 45,00.
(D) R\$ 48,00.
(E) R\$ 50,00.

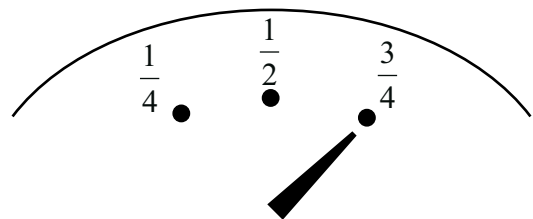
25. Numa divisão, o quociente é 15, o divisor é 12 e o resto é o maior possível. Nessas condições, o dividendo é

- (A) 180.
(B) 185.
(C) 191.
(D) 193.
(E) 195.

26. Mariana vai a uma lanchonete e está na dúvida sobre qual lanche comer. No cardápio, há pão de forma, francês e sírio. Os tipos de recheio podem ser de presunto, de queijo ou de mortadela. Considerando que Mariana pediu um sanduíche com apenas um tipo de frio, o número de possibilidades de lanches que ela teve como escolha foi

- (A) 3.
(B) 6.
(C) 7.
(D) 9.
(E) 10.

27. O tanque de gasolina do carro estava vazio. Foi colocado 45 litros de combustível. O marcador ficou assim:



O número de litros que faltam para completar o tanque desse carro é

- (A) 30.
(B) 25.
(C) 20.
(D) 15.
(E) 10.

28. Lúcia faz uma caminhada diária de segunda à sexta-feira, de 3 800 metros. Ao final da sexta-feira, pode-se afirmar que ela andou
- (A) aproximadamente 25 km.
 (B) pouco mais que 30 km.
 (C) exatamente 19 km.
 (D) exatamente 15,75 km.
 (E) pouco menos que 10,6 km.
29. Para um jantar foram estimados 5,5 litros de refrigerante. Se a embalagem escolhida medir 250 mL cada uma, o número mínimo de unidades, dessa embalagem, para obter a quantidade necessária de refrigerante é
- (A) 24.
 (B) 22.
 (C) 20.
 (D) 18.
 (E) 17.
30. Um trabalhador entra no serviço às 6h 45min e sai às 16 h 15 min. Sabendo-se que ele tem $1\frac{1}{2}$ hora de almoço, a jornada de trabalho, diária, desse trabalhador, é de
- (A) 9h e 30min.
 (B) 9h.
 (C) 8h e 30min.
 (D) 8h.
 (E) 7h e 30min.

31. Em uma pesquisa eleitoral, em que foram entrevistados 2 000 eleitores, o resultado obtido foi o seguinte:

ANTÔNIO FALANTE	635
JOÃO BOM DE BICO	450
LUIZA HONESTA	415
INDECISOS	?

Os indecisos em relação ao total de entrevistados são representados pela fração

- (A) $\frac{1}{10}$.
 (B) $\frac{1}{8}$.
 (C) $\frac{1}{5}$.
 (D) $\frac{1}{4}$.
 (E) $\frac{1}{2}$.


32. É correto afirmar que

- (A) $20,5\text{ m} = 2\ 050\text{ cm}$.
 (B) $25\text{ m} = 2\ 500\text{ mm}$.
 (C) $3,45\text{ km} = 345\text{ m}$.
 (D) $3,45\text{ km} = 34\ 500\text{ m}$.
 (E) $3\text{ m} = 300\text{ mm}$.

33. Pensei em um número, dele subtraí 260. O resultado, multipliquei por 5, obtendo-se 1 800. O dobro do número que pensei é

- (A) 620.
 (B) 1 240.
 (C) 1 360.
 (D) 1 420.
 (E) 1 620.

34. A fração do inteiro que corresponde à parte em branco da figura é



- (A) $\frac{1}{3}$.
 (B) $\frac{1}{6}$.
 (C) $\frac{7}{6}$.
 (D) $\frac{1}{8}$.
 (E) $\frac{7}{8}$.

35. A fração que representa 5 minutos em relação a uma hora é

- (A) $\frac{1}{5}$.
 (B) $\frac{1}{6}$.
 (C) $\frac{1}{8}$.
 (D) $\frac{1}{10}$.
 (E) $\frac{1}{12}$.

36. Observe a sequência numérica:

1 4 10 22

1.º termo 2.º termo 3.º termo 4.º termo 5.º termo

Considerando que essa sequência continue obedecendo a mesma regra, o 6.º termo será

- (A) 44.
- (B) 46.
- (C) 94.
- (D) 106.
- (E) 114.

37. Para uma festa foram convidados 120 pessoas. Faltaram $\frac{2}{5}$ dos convidados. O número de pessoas presentes à festa foi

- (A) 96.
- (B) 72.
- (C) 68.
- (D) 50.
- (E) 48.

38. Joãozinho queria tomar lanche com os amigos e para isso abriu seu cofrinho de moedas e lá encontrou guardado:

- 7 MOEDAS DE 1 REAL
- 15 MOEDAS DE 50 CENTAVOS
- 11 MOEDAS DE 25 CENTAVOS
- 6 MOEDAS DE 5 CENTAVOS

O lanche custou R\$ 9,75. O valor restante que Joãozinho devolveu para o cofrinho foi de

- (A) R\$ 7,80.
- (B) R\$ 7,30.
- (C) R\$ 7,05.
- (D) R\$ 6,85.
- (E) R\$ 5,50.

39. Dona Irene fez 6,25 kg de feijoada para 25 pessoas. Se todas as pessoas comeram igualmente e considerando-se que após a refeição não sobrou nenhuma comida, pode-se afirmar que cada pessoa comeu

- (A) 220 g.
- (B) 225 g.
- (C) 230 g.
- (D) 235 g.
- (E) 250 g.

40. Na Páscoa, um comerciante de ovos de páscoa fez a seguinte promoção:

- 1 ovo = R\$ 7,00
- 2 ovos = R\$ 13,00
- 3 ovos = R\$ 15,00
- 4 ovos = R\$ 19,00

Um cliente realizou uma compra aproveitando a promoção de forma a gastar o menos possível. Portanto, numa compra de 11 ovos ele pagou

- (A) R\$ 53,00.
- (B) R\$ 58,00.
- (C) R\$ 61,00.
- (D) R\$ 72,00.
- (E) R\$ 75,00.