
PROVA OBJETIVA DE MÚLTIPLA ESCOLHA

Esta prova compõe-se de 60 (sessenta) questões objetivas de múltipla escolha, numeradas de 01 a 60.

CONHECIMENTOS GERAIS

LÍNGUA PORTUGUESA

Leia o texto a seguir para responder às questões de 01 a 05.

TEXTO:

Os mal-educados que se cuidem!

Uma pesquisa norte-americana revelou que a falta de educação de funcionários gera um prejuízo anual de 300 bilhões de dólares às empresas. São e-mails que não são respondidos, são péssimos atendimentos telefônicos, pessoas mandando mensagens pelos celulares durante as reuniões e por aí vai...

- 5 Aqui, no Brasil, não é muito diferente disso. É impressionante, se observarmos as empresas mais profundamente, como coisas assim acontecem reiteradamente e ninguém atua para extinguir esse problema. Chefes e supervisão dizem, muitas vezes, que isso é uma questão de educação que a pessoa não teve, e realmente é, mas isso não significa que comportamentos desatenciosos, mal-educados, desrespeitosos, no ambiente de trabalho, entre colegas e até mesmo com clientes devam ser tolerados e permitidos.
- 10 Os "incivilizados" não devem ter vez nas organizações. Ainda mais nos dias de hoje, com tanta concorrência e tanta oferta no mercado, é justamente um atendimento diferenciado, uma atenção a mais ou uma melhoria na produtividade interna o que faz a diferença e torna as empresas líderes.
- 15 Permitir ou fingir que não percebe que seu pessoal age de forma malcriada, debochada e pouco comprometida é o caminho para o fracasso.
- Se, na sua empresa, existem pessoas assim e você ocupa um cargo de liderança, é preciso tomar uma atitude: identificar o problema, conversar com a pessoa a respeito, mostrar o que deve ser melhorado e dar-lhe uma chance de melhoria... Mas, se não acontecer essa melhoria, o que deve ser feito é a dispensa. Não hesite em dispensar quem não sabe se comportar, porque isso compromete a
- 20 imagem da empresa e o trabalho de toda uma equipe, um grupo e da própria organização.

CASTILLO, Simone. Os mal-educados que se cuidem! Disponível em: <<http://www.simonecastillo.com.br/artigos.asp?id=100>>. Acesso em: 16 dez. 2010. Adaptado.

Questão 01 (Peso 2)

Identifique com **V** as afirmativas verdadeiras e com **F**, as falsas.

De acordo com o texto,

- () um bom atendimento constitui um diferencial no mundo dos negócios e, por isso, deve ser incentivado.
- () os mal-educados precisam ser afastados das empresas para não causar-lhes prejuízos, já que afugentam a clientela.
- () as pessoas sem o devido traquejo para lidar com o público devem passar por um treinamento intensivo, para aprender boas maneiras.
- () a demissão sumária, sem nenhuma chance de permanência no emprego, é a medida recomendada, pois a razão sempre aconselha que "o mal deve ser cortado pela raiz".
- () o mau comportamento dos funcionários, além de comprometer a imagem da instituição, causa prejuízos financeiros e prejudica também o restante do quadro funcional.

A alternativa que contém a sequência correta, de cima para baixo, é a

- A) V V F F V
- B) V F V F F
- C) F F V V V
- D) F F V V F
- E) V V V V V

Questão 02 (Peso 1)

Tem comprovação no texto a ideia de

- A) incentivo financeiro aos empregados que se destacam no atendimento à clientela.
- B) intolerância a qualquer atitude do funcionário que possa comprometer a instituição em que trabalha.
- C) proposição de acordo demissionário para o trabalhador que age inadequadamente no horário de serviço.
- D) adoção de rigor e inflexibilidade, pela chefia e supervisão, na condução dos trabalhos, a fim de coibir abusos.
- E) demissão por justa causa, com as perdas que tal fato implica, para funcionários que não seguem a conduta exigida pela organização de que fazem parte.

Questão 03 (Peso 3)

Está **em desacordo** com a ideia expressa no texto o que se afirma sobre o termo transcrito em

- A) “e por aí vai..” (linhas 3 e 4) confere um caráter coloquial ao discurso.
- B) “profundamente” (linha 6) tem valor semântico superlativo.
- C) “até mesmo” (linha 9) expressa a ideia de inclusão.
- D) “Se” (linha 16) prediz a condição para que a afirmativa posterior seja efetivada.
- E) “isso” (linha 19) resgata a ideia explicitada na primeira oração do período.

Questão 04 (Peso 3)

Sobre os elementos linguísticos que compõem o texto, é correto afirmar:

- A) Os vocábulos “mais” (linha 5) e “mais” (linha 11) intensificam a ideia expressa pelo termo que modificam.
- B) Os advérbios “reiteradamente” (linha 6) e “realmente” (linha 8) indicam modo.
- C) O conectivo “que” (linha 7), nas duas ocorrências, introduz uma oração subordinada adjetiva.
- D) A forma verbal “existem” (linha 16) está no plural, concordando com o sujeito da oração, o termo “pessoas”, que mudaria de função sintática se houvesse a substituição de “existem” por *há*.
- E) Os verbos “conversar” (linha 17) e “dar” (linha 18) apresentam-se com a mesma regência.

Questão 05 (Peso 1)

As vírgulas cuja função é a de separar tão somente orações estão presentes no fragmento transcrito em

- A) “Chefes e supervisão dizem, muitas vezes, que isso é uma questão de educação que a pessoa não teve, e realmente é” (linhas 7 e 8).
- B) “Ainda mais nos dias de hoje, com tanta concorrência e tanta oferta no mercado” (linhas 11 e 12).
- C) “Se, na sua empresa, existem pessoas assim e você ocupa um cargo de liderança, é preciso tomar uma atitude” (linhas 16 e 17).
- D) “identificar o problema, conversar com a pessoa a respeito, mostrar o que deve ser melhorado e dar-lhe uma chance de melhoria...” (linhas 17 e 18).
- E) “Não hesite em dispensar quem não sabe se comportar, porque isso compromete a imagem da empresa e o trabalho de toda uma equipe, um grupo e da própria organização.” (linhas 19 e 20).

Leia o texto a seguir para responder às questões 06 e 07.

TEXTO:

Responsabilidade do motorista no trânsito

O trânsito brasileiro ainda faz, todos os anos, muitas vítimas nas rodovias de todo o país. O problema é grave e requer educação e mais rigor na aplicação da lei. No último feriado, muitas pessoas morreram nas estradas; a maioria por uso de bebidas alcoólicas e excesso de velocidade.

5 Dom Odilo Pedro Scherer falou ao Canção Nova Notícias, recordando que “os acidentes no trânsito são, muitas vezes, causados pela bebida e, por isso mesmo, é preciso fazer de tudo para evitar que esta seja a causa dos acidentes. Evidentemente, é preciso evitar todos os outros motivos que possam causar acidentes”.

10 Disse ainda que “é uma grave responsabilidade pegar o carro, levar pessoas e colocar em risco as suas vidas por alguma falta de cuidado, por isso, até mesmo a revisão do carro é preciso. De toda maneira, o cuidado com o álcool é importante, porque colocar em risco a própria vida e a vida de outras pessoas é sempre grave”. E recordou que “a Santa Sé, através do Pontifício Conselho Justiça e Paz, divulgou, há algum tempo, os mandamentos do trânsito, e que aqui, no Brasil, também foram divulgados. Observar os mandamentos no trânsito é muito importante para que nós possamos respeitar a própria vida e respeitar a vida das outras pessoas.”

SCHERER, Dom Odilo Pedro. Responsabilidade do motorista no trânsito. Disponível em: <<http://noticias.cancaonova.com/noticia.php?id=243282>>. Acesso em: 16 dez. 2010. Adaptado.

Questão 06 (Peso 2)

É uma afirmativa **sem comprovação no texto** a expressa em

- A) A banalização da vida é a causa de muitos acidentes, já que medidas de precaução para se trafegar, com a devida segurança, nas rodovias do país nem sempre são adotadas.
- B) As leis do trânsito prescindem de excesso de rigor e vigilância na sua aplicabilidade, pois ninguém quer perder sua vida nem complicar-se por causar dor aos outros.
- C) O uso de bebidas alcoólicas e o excesso de velocidade são as causas mais frequentes dos óbitos registrados nas rodovias brasileiras.
- D) O Brasil dispõe boa legislação para o trânsito, mas precisa objetivar meios que eduquem, de fato, os motoristas.
- E) A revisão de um carro, por exemplo, constitui um cuidado com a própria vida e com a de seus semelhantes.

Questão 07 (Peso 3)

“os acidentes no trânsito são, muitas vezes, causados pela bebida e, por isso mesmo, é preciso fazer de tudo para evitar que esta seja a causa dos acidentes.” (linhas de 4 a 6)

A análise desse fragmento da fala de Dom Odilo permite afirmar:

- A) “no trânsito” e “às vezes” são circunstâncias que denotam ideias equivalentes.
- B) “mesmo” é imprescindível na frase por reforçar o termo que introduz a causa do que foi afirmado antes.
- C) “para evitar” é uma oração que equivale a um substantivo.
- D) “que” é um conectivo oracional que introduz, no período, uma oração com valor adjetivo.
- E) “dos acidentes” mantém relação sintática com o substantivo “causa”, complementando-lhe o sentido.

Leia o texto a seguir para responder à questão de 08.

Ricos são mais egoístas

Pelo menos é o que concluiu um estudo feito pela universidade da Califórnia, do qual participaram 115 pessoas de várias classes sociais. Na experiência, os voluntários foram agrupados em duplas para jogar um jogo. Cada pessoa recebia 10 créditos e tinha de decidir quantos deles iria doar ao parceiro. Os voluntários ricos doaram 44% a menos do que os pobres. Segundo os psicólogos, isso supostamente acontece porque, como os indivíduos pobres enfrentam mais dificuldades no dia a dia, estão acostumados a se ajudar para sobreviver – o que seria menos frequente entre os ricos.

RICOS são mais egoístas. **Superinteressante**, São Paulo: Abril, ed. 285, p.18, dez. 2010. Supernovas.

Questão 08 (Peso 1)

A respeito do fato noticiado, o provérbio que melhor se aplica ao ocorrido nesse estudo feito pela universidade da Califórnia, tanto em relação à conduta dos ricos quanto à dos pobres, é o indicado na alternativa

- A) “Quanto mais rico mais ridículo.”
- B) “Santo de casa não faz milagres.”
- C) “O hábito é uma segunda natureza.”
- D) “Quem dá aos pobres empresta a Deus.”
- E) “Quem com porcos se mistura farelos come.”

RACIOCÍNIO LÓGICO

Questão 09 (Peso 1)

Considere a proposição “Se as plantas são regadas, então elas não morrem”.

Uma proposição equivalente a essa é

- A) Se as plantas morrem, então elas não são regadas.
- B) Se as plantas não são regadas, então elas morrem.
- C) Se as plantas não morrem, então elas são regadas.
- D) As plantas não morrem e elas são regadas.
- E) As plantas morrem ou elas são regadas.

Questão 10 (Peso 1)

Considere verdadeiras as proposições P_1 “Todos os ratos são roedores” e P_2 “Alguns ratos mordem”.

De acordo com as proposições enunciadas, conclui-se que

- A) Todos os ratos mordem.
- B) Todos os roedores mordem.
- C) Alguns roedores mordem.
- D) Nenhum roedor morde.
- E) Nenhum rato morde.

Questão 11 (Peso 2)

A negação da proposição “Todo candidato estudioso passará no concurso e será um bom profissional” é

- A) Todo candidato estudioso passará no concurso e não será um bom profissional.
- B) Algum candidato estudioso não passará no concurso ou será um bom profissional.
- C) Todo candidato estudioso não passará no concurso e não será um bom profissional.
- D) Existe candidato estudioso que não passará no concurso ou não será um bom profissional.
- E) Existe candidato estudioso que não passará no concurso e não será um bom profissional.

Questão 12 (Peso 3)

Três irmãos – **A**, **B** e **C** – se encontram todos os domingos da primeira semana de cada mês, na casa de seus pais. Um deles tem um FIAT, outro tem um CHEVROLET e o terceiro um VOLKSWAGEN. Os três moram em bairros diferentes (Barra, Pituba e Campo Grande) e têm idades diferentes (30, 35 e 40 anos). Além disso, sabe-se que

- o dono do FIAT não mora no Campo Grande e é o primogênito da família;
- **B** não mora na Pituba e é 5 anos mais novo que o dono do VOLKSWAGEN;
- **A** não tem um FIAT e mora na Barra.

A partir das informações supracitadas, é correto afirmar que

- A) **A** mora na Barra, tem 30 anos e é o dono do CHEVROLET.
- B) **B** mora no Campo Grande, tem 35 anos e é o dono do FIAT.
- C) **C** mora na Pituba, tem 35 anos e é o dono do FIAT.
- D) **A** mora na Barra, tem 35 anos e é o dono do VOLKSWAGEN.
- E) **C** mora na Pituba, tem 35 anos e é o dono do CHEVROLET.

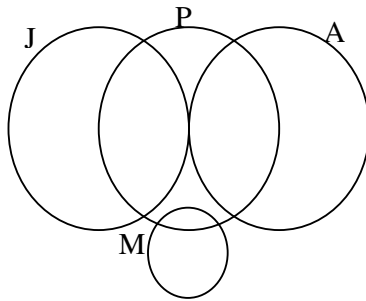
Questão 13 (Peso 2)

Considere verdadeiras as afirmações:

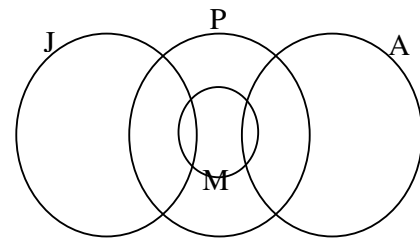
- I. Todo motorista é professor.
- II. Existem atletas que são motoristas.
- III. Nenhum atleta é jornalista.
- IV. Alguns jornalistas são motoristas.

A simbolizando o conjunto dos atletas, J, o dos jornalistas, P, o dos professores e M, o dos motoristas, o diagrama que melhor representa as afirmações supracitadas é

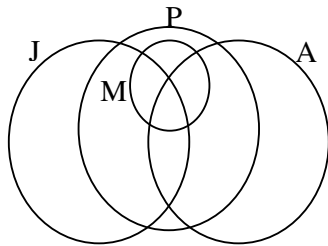
A)



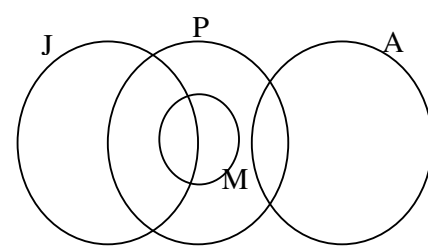
D)



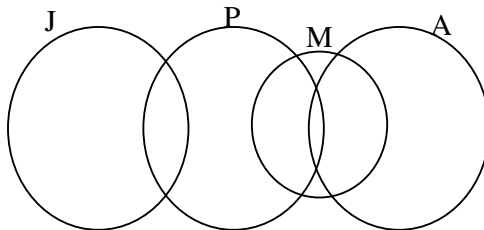
B)



E)



C)



ÉTICA E DIREITOS HUMANOS

Questão 14 (Peso 1)

Considerando os termos da Declaração Universal dos Direitos Humanos, é correto afirmar que

- A) a Declaração Universal dos Direitos Humanos é o único documento reconhecido internacionalmente para regular a proteção aos direitos humanos.
- B) a Declaração Universal dos Direitos Humanos foi elaborada num ambiente geopolítico dominado por uma só potência hegemônica.
- C) a Declaração Universal dos Direitos Humanos possui força jurídica obrigatória e vinculante para todos os países do mundo.
- D) a Declaração Universal dos Direitos Humanos foi proclamada pela Assembléia Geral das Nações Unidas.
- E) a Declaração Universal dos Direitos Humanos permaneceu com seu texto original inalterado até o ano de 2010.

Questão 15 (Peso 1)

Analise as cinco situações postas abaixo:

- I. Mévio, servidor do Ministério Público do Estado da Bahia, lotado no Interior do Estado, sabedor que havia sido contratado estagiário de nível médio para auxiliar nos serviços do setor em que é lotado, pede ao estagiário recém-chegado, uma vez que ainda não havia nenhuma tarefa a ele destinada, que vá, no horário do expediente, até uma agência bancária próxima e realize o depósito de um cheque, que recebera em pagamento do aluguel de um imóvel particular que locara, em sua conta bancária pessoal.
- II. Mévio, servidor do Ministério Público do Estado da Bahia, lotado no Interior do Estado, ao tomar conhecimento, pelo contido em um Inquérito Civil Público para apuração de suposto dano ambiental, de que a empresa investigada atravessava séria crise financeira, fornece essa informação privilegiada a um seu tio, que tinha ações dessa empresa, razão pela qual o seu tio efetuou a venda das mencionadas ações antes que seu valor despencasse na Bolsa de Valores, sem que Mévio auferisse qualquer benefício financeiro com tal venda.
- III. Mévio, servidor do Ministério Público do Estado da Bahia, lotado na Capital do Estado, dado ao consumo de bebidas alcoólicas, apresenta-se embriagado, habitualmente, em eventos sociais realizados no bairro em que reside. Jamais, porém, o faz em seu local de trabalho.
- IV. Mévio, servidor do Ministério Público do Estado da Bahia, lotado na Capital do Estado, ao atender pessoa idosa que buscava informações sobre benefícios previdenciários, dispensou-lhe tratamento o mais cuidadoso possível, dizendo que ali ela nada poderia resolver e deveria procurar a Agência do Instituto Nacional de Seguridade Social - INSS.
- V. Mévio, servidor do Ministério Público do Estado da Bahia, lotado no Interior do Estado, em localidade litorânea, frequentador assíduo das belas praias ali situadas, utiliza, para ir à praia, somente uma sunga, contudo, para apresentar-se em seu local de trabalho, utiliza calça comprida e camisa social.

Escolha a alternativa que contempla, dentre as situações acima, duas situações, no que se refere às atitudes de Mévio e levando em consideração sua condição de servidor do Ministério Público do Estado da Bahia, em que sua conduta pode ser considerada ética.

- A) I e II.
- B) I e IV.
- C) II e III.
- D) III e V.
- E) IV e V.

Questão 16 (Peso 2)

O Pacto Global defende princípios universais no que toca à questão do Trabalho.

Analise os itens I, II, III, IV e V abaixo.

- I. Abolir o trabalho infantil.
- II. Estabelecer uma remuneração justa.
- III. Garantir proteção estatal contra o desemprego.
- IV. Apoiar a liberdade de associação no trabalho.
- V. Assegurar o necessário descanso remunerado.

Escolha a alternativa que contempla, nos itens acima, dois dos referidos princípios universais.

- A) I e II.
- B) I e IV.
- C) II e III.
- D) III e V.
- E) IV e V.

Questão 17 (Peso 2)

A relação de serviço que se estabelece entre o servidor e a Administração tem um acentuado caráter ético, próprio do conceito de *dever*.

Considerando o quanto acima afirmado como verdadeiro, analise as assertivas abaixo.

- I. O dever de lealdade ou fidelidade à Administração exige de todo servidor público a maior dedicação ao serviço e o integral respeito às leis, identificando-o com os superiores interesses do Estado.
- II. O dever de obediência impõe ao servidor o acatamento às ordens legais de seus superiores e sua fiel execução.
- III. O dever de reivindicação obriga o servidor público a associar-se ao sindicato de sua categoria funcional.
- IV. O dever de exclusividade para com a Administração impede, em qualquer caso, a acumulação remunerada de cargos públicos.
- V. O dever de modicidade estabelece a remuneração do servidor público necessariamente em valores reduzidos, uma vez que o lucro não deve ser objetivo do servidor público.

Escolha a alternativa que contempla dois dos deveres a serem observados pelos servidores públicos para o bom desempenho de seus encargos e regular funcionamento dos serviços públicos.

- A) I e II.
- B) I e IV.
- C) II e III.
- D) III e V.
- E) IV e V.

Questão 18 (Peso 3)

A Lei 12.288/10, que instituiu o Estatuto da Igualdade Racial, estabeleceu, no seu artigo quarto, a participação da população negra, em condição de igualdade de oportunidade, na vida econômica, social, política e cultural do País.

Analise os itens I, II, III, IV e V abaixo.

- I. estímulo à pesquisa histórica que determine a correta identificação e localização das comunidades de remanescentes de quilombos, para fins de reforma agrária
- II. adoção de medidas, programas e políticas de ação afirmativa.
- III. promoção de ajustes normativos para aperfeiçoar o combate à discriminação étnica e às desigualdades étnicas em todas as suas manifestações individuais, institucionais e estruturais.
- IV. produção de filmes, novelas televisivas e peças teatrais com necessária participação de ao menos 10% (dez por cento) de atores, figurantes e técnicos negros.
- V. inclusão, no rol de feriados nacionais, do Dia da Consciência Negra.

Escolha a alternativa que contempla dois itens que tratam dos meios que, na forma do indicado artigo de lei, garantem a participação da população negra, em condição de igualdade de oportunidade, na vida econômica, social, política e cultural do País.

- A) I e II.
- B) I e IV.
- C) II e III.
- D) III e V.
- E) IV e V.

LEGISLAÇÃO APLICÁVEL AO MINISTÉRIO PÚBLICO DO ESTADO DA BAHIA

Questão 19 (Peso 1)

A República Federativa do Brasil tem como fundamentos:

- A) Pluralismo político, desenvolvimento nacional e soberania.
- B) Desenvolvimento nacional, soberania e defesa da paz.
- C) Pluralismo político, soberania e valores sociais do trabalho e da livre iniciativa.
- D) Pluralismo político, defesa da paz e valores sociais do trabalho e da livre iniciativa.
- E) Desenvolvimento nacional, defesa da paz e valores sociais do trabalho e da livre iniciativa.

Questão 20 (Peso 3)

Analise as seguintes assertivas acerca da nacionalidade na Constituição Federal:

- I. São brasileiros naturalizados os nascidos no estrangeiro, de pai brasileiro ou mãe brasileira, que venham a residir na República Federativa do Brasil e optem, em qualquer tempo, depois de atingida a maioridade, pela nacionalidade brasileira.
- II. Os portugueses com residência permanente no Brasil, havendo reciprocidade em favor dos brasileiros, terão garantidos, sem qualquer exceção, todos direitos constitucionais inerentes aos brasileiros
- III. O brasileiro que adquirir outra nacionalidade, em virtude de reconhecimento de nacionalidade originária por lei estrangeira, não perderá sua nacionalidade brasileira.
- IV. São brasileiros natos os nascidos no estrangeiro, de pai brasileiro ou mãe brasileira, desde que qualquer deles esteja a serviço da República Federativa do Brasil.
- V. O cargo de oficial das Forças armadas é privativo de brasileiro nato.

Estão corretas as assertivas

- A) I, II e III.
- B) I, II e V.
- C) I, III e IV.
- D) II, IV e V.
- E) III, IV e V.

Questão 21 (Peso 2)

Analise as seguintes assertivas acerca da organização do Estado e organização dos Poderes na Constituição Federal:

- I. O Senado Federal tem competência privativa para aprovar o estado de defesa e autorizar o estado de sítio.
- II. O Estado poderá intervir em seus municípios por motivo de não aplicação do mínimo exigido da receita municipal nas ações e serviços públicos de saúde.
- III. Os Estados e o Distrito Federal elegerão, cada, três senadores, com mandato de quatro anos.
- IV. Compete à União, aos Estados e ao Distrito Federal legislar concorrentemente sobre direito tributário, financeiro e econômico.
- V. Em caso de impedimento do Presidente da República e do Vice-Presidente da República, a Presidência será exercida, de forma sucessiva, pelo Presidente do Senado Federal, pelo Presidente da Câmara dos Deputados e pelo Presidente do Supremo Tribunal Federal.

Estão corretas as assertivas

- A) I e III.
- B) I e IV.
- C) II e IV.
- D) II e V.
- E) III e V.

Questão 22 (Peso 3)

Analise as seguintes assertivas acerca dos cargos de Procurador-Geral de Justiça do Estado da Bahia e de Corregedor-Geral do Ministério Público do Estado da Bahia, nos termos da Lei Orgânica do Ministério Público do Estado da Bahia:

- I. É inelegível para o cargo de Procurador-Geral de Justiça, o membro do Ministério Público que tiver exercido o cargo de Corregedor-Geral do Ministério Público nos últimos seis meses anteriores à data prevista para eleição.
- II. O Corregedor-Geral do Ministério Público será eleito pelo Colégio de Procuradores de Justiça, dentre os Procuradores de Justiça, sendo desnecessário tempo mínimo de serviço na Instituição.
- III. O Procurador-Geral de Justiça poderá ser destituído do cargo pelos motivos elencados na Lei Orgânica do Ministério Público do Estado da Bahia, observadas as formalidades legais, por deliberação da maioria absoluta do Colégio de Procuradores de Justiça.
- IV. O cargo de Procurador-Geral de Justiça só poderá ser exercido por Procurador de Justiça com o mínimo de dez anos de serviço na Instituição.
- V. O Corregedor-Geral do Ministério Público será assessorado pelo Subcorregedor-Geral do Ministério Público, cargo a ser exercido, obrigatoriamente, por Procurador de Justiça.

Estão corretas as assertivas

- A) I, II e III.
- B) I, II e V.
- C) I, III e IV.
- D) II, IV e V.
- E) III, IV e V.

Questão 23 (Peso 1)

Compete ao Colégio de Procuradores de Justiça do Ministério Público do Estado da Bahia:

- A) Aprovar proposta de fixação das atribuições das Procuradorias e Promotorias de Justiça.
- B) Propor ao Procurador-Geral de Justiça o encaminhamento de projeto de lei para a criação de cargos e serviços auxiliares, modificações na Lei Orgânica e providências relacionadas ao desempenho das funções institucionais.
- C) Indicar aos Procurador-Geral de Justiça, em lista tríplice, os candidatos à remoção ou promoção por merecimento.
- D) Decidir sobre pedido de revisão de procedimento administrativo disciplinar.
- E) Determinar a apuração de responsabilidade criminal do membro do Ministério Público quando, em processo administrativo disciplinar, verificar-se a existência de indícios da prática de infração penal.

Questão 24 (Peso 1)

Os prazos relativos ao estágio probatório de servidor público civil do Estado da Bahia, nomeado para cargo de provimento permanente, e de estabilidade econômica do servidor público civil do Estado da Bahia, nos termos da Lei Estadual 6.677/94, são, respectivamente, de

- A) dois anos e cinco anos.
- B) dois anos e dez anos.
- C) dois anos e quinze anos.
- D) três anos e cinco anos.
- E) três anos e dez anos.

Questão 25 (Peso 2)

Analise as seguintes assertivas acerca do ato administrativo:

- I. A anulação é o desfazimento do ato administrativo por razões de ilegalidade, podendo ser feita pela Administração Pública, com base no seu poder de autotutela, ou pelo Poder Judiciário.
- II. A revogação é prerrogativa da Administração Pública para atender a motivos de conveniência e oportunidade.
- III. A revogação é ato administrativo discricionário da Administração e gera efeitos *ex tunc*.
- IV. Tanto os atos discricionários quanto os atos vinculados podem ser objeto de revogação.
- V. A revogação pressupõe a existência de um ato ilegal.

Estão corretas as assertivas

- A) I e II.
- B) I e V.
- C) II e III.
- D) III e IV.
- E) IV e V.

Questão 26 (Peso 3)

Analise as assertivas acerca dos servidores públicos:

- I. Invalidada por sentença judicial a demissão do servidor estável, será ele reintegrado, e o eventual ocupante da vaga, se estável, reconduzido ao cargo de origem, aproveitado em outro cargo ou posto em disponibilidade, ressalvado em qualquer caso o seu direito à indenização.
- II. São estáveis após dois anos de efetivo exercício os servidores nomeados para cargo de provimento efetivo em virtude concurso público.
- III. É assegurado ao servidor posto em disponibilidade remuneração proporcional ao tempo de serviço.
- IV. O funcionário público pode, pelo mesmo fato, responder civil, penal e administrativamente.
- V. É vedada a acumulação remunerada de cargos públicos, exceto, quando houver compatibilidade de horários, a de dois cargos de professor; a de um cargo de professor com outro, técnico ou científico; e a de dois cargos ou empregos privativos de profissionais de saúde, com profissões regulamentadas.

Estão corretas as assertivas

- A) I, II e III.
- B) I, II e V.
- C) I, III e IV.
- D) II, IV e V.
- E) III, IV e V.

Questão 27 (Peso 2)

Analise as assertivas abaixo

- I. A legalidade é princípio explícito da Administração Pública, significando que a Administração somente pode fazer o que estiver previsto em lei.
- II. Com base no princípio da autotutela a Administração Pública deve rever de ofício seus atos ilegais.
- III. O princípio da motivação exige que a Administração Pública indique os motivos de fato e de direito de suas decisões, salvo quando se tratar de ato discricionário.
- IV. O princípio da publicidade autoriza a realização de propaganda dos atos públicos, inclusive mencionando-se os gestores responsáveis pela realização dos mesmos e seus respectivos símbolos de campanha.
- V. O princípio da eficiência está explicitamente previsto na Constituição Federal, sendo aplicável somente para controle dos serviços públicos prestados pelo Estado.

Estão corretas as assertivas

- A) I e II.
- B) I e V.
- C) II e III.
- D) III e IV.
- E) IV e V.

Questão 28 (Peso 2)

Analise as seguintes assertivas acerca dos poderes administrativos:

- I. O ato praticado no exercício do poder discricionário não pode sofrer controle pelo Poder Judiciário.
- II. O poder de revisão dos atos administrativos deriva do Poder Disciplinar.
- III. O Poder regulamentar autoriza a Administração Pública a criar direitos para os administrados, porém não pode criar obrigações sem a existência de lei anterior.
- IV. Os poderes administrativos são irrenunciáveis.
- V. O agente que, embora agindo dentro de sua competência, afasta-se do interesse público age com “desvio de poder”.

Estão corretas as assertivas

- A) I e II.
- B) I e III.
- C) II e V.
- D) III e IV.
- E) IV e V.

Questão 29 (Peso 1)

Quando o Poder Público interfere na órbita do interesse privado para salvaguardar o interesse público, restringindo direitos individuais, atua no exercício do:

- A) Poder discricionário.
- B) Poder disciplinar.
- C) Poder hierárquico.
- D) Poder de polícia.
- E) Poder regulamentar.

GEOGRAFIA

Questão 30 (Peso 2)

A partir dos conhecimentos acerca das rodovias federais no território baiano, assinale **V** para as afirmativas verdadeiras e **F** para as falsas.

- () Todas as rodovias federais que atravessam o território baiano são planejadas.
- () A BR 330 é uma rodovia implantada totalmente em leito natural.
- () A BR 324 é duplicada e privatizada entre Salvador e Feira de Santana .
- () A BR 101 é a rodovia de maior extensão na porção oriental do Estado.

A alternativa que contém a sequência correta, de cima para baixo, é

- A) F V V F
- B) F F V V
- C) V F V V
- D) V V F V
- E) V V V V

Questão 31 (Peso 1)

Os símbolos ou as convenções cartográficas cumprem importante papel na leitura e interpretação de mapas.

Com base na informação e nos conhecimentos sobre convenções cartográficas, pode-se afirmar que as rodovias são representadas por

- A) diversas cores para realçar e diferenciar sua forma e extensão.
- B) meio de um pontilhado irregular que diminui conforme a altimetria do terreno.
- C) símbolos que variam de acordo com a área de abrangência e o tipo de ligação.
- D) traços e ou cores que traduzem o seu tipo independente de sua largura física.
- E) graduação de cores, sendo que a distinção entre elas é feita de acordo com o tráfego e a pavimentação.

Questão 32 (Peso 3)



A qualidade dos mapas é fator importantíssimo para o desencadear de uma leitura significativa. Essa qualidade envolve tanto fatores visuais e estéticos quanto informacionais, de modo que a ausência de algum desses elementos compromete a sua qualidade e, conseqüentemente, sua leitura e compreensão do espaço cartografado.

Com base no texto e nos conhecimentos sobre mapas, pode-se afirmar que o elemento ausente no mapa apresentado é

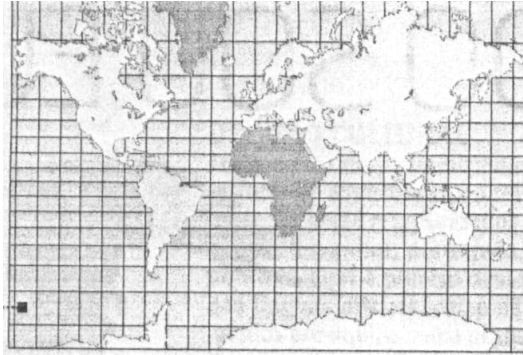
- A) a projeção cartográfica, pois representa a realidade esférica sobre um plano, sem deformações.
- B) a legenda, visto que facilita a compreensão das informações codificadas como símbolos no mapa.
- C) a escala numérica, porque estabelece a relação entre a distância no mapa e a distância real no terreno.
- D) as coordenadas geográficas, devido à sua importância para a localização hemisférica do espaço brasileiro.
- E) o sistema de posicionamento global, já que indica os pontos cardeais para a localização astronômica do espaço cartografado.

Questão 33 (Peso 1)

Quanto às formas de representação do relevo terrestre, é correto afirmar:

- A) O perfil topográfico é de grande utilidade no estudo do traçado de estradas, sendo gerado a partir das curvas de nível.
- B) A ausência de gradação de cores nos mapas hipsométricos constitui um sério problema para a identificação de formas e altitudes do relevo.
- C) As curvas de nível representam a declividade do terreno, de modo que quanto menor for a equidistância entre elas mais plano é o terreno que está sendo cartografado.
- D) O sombreamento é a técnica mais utilizada para a representação do relevo em mapas rodoviários, devido ao seu valor científico e à objetividade do processo.
- E) As hachuras, método de elevada precisão, consiste em tracejados que, quanto mais afastados uns dos outros, maior é a inclinação do relevo representado.

Questão 34 (Peso 2)



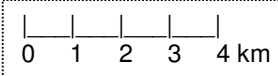
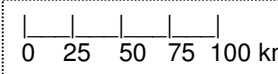
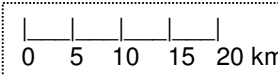
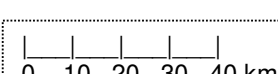

Os mapas produzidos ao longo do tempo sempre expressaram ideias ou visões próprias de determinada sociedade ou período histórico.

Considerando o texto e os conhecimentos sobre projeções cartográficas, pode-se afirmar que esse mapa eurocêntrico corresponde

- A) ao mapa-múndi em projeção cônica.
- B) ao planisfério em projeção azimutal.
- C) à projeção equivalente de Peters.
- D) à projeção cilíndrica de Mollweide.
- E) à projeção conforme de Mercator.

Questão 35 (Peso 1)

Os conhecimentos sobre mapa e seus elementos permitem afirmar que a alternativa que apresenta a relação correta entre os tipos de escala e o uso cartográfico adequado é a

- A)  1:400 cm Mapas-Múndi.
- B)  1:100000 cm Mapas temáticos.
- C)  1:500000 cm Mapas regionais.
- D)  1:400000 cm Plantas urbanas.
- E)  1:8000 cm Planisférios.

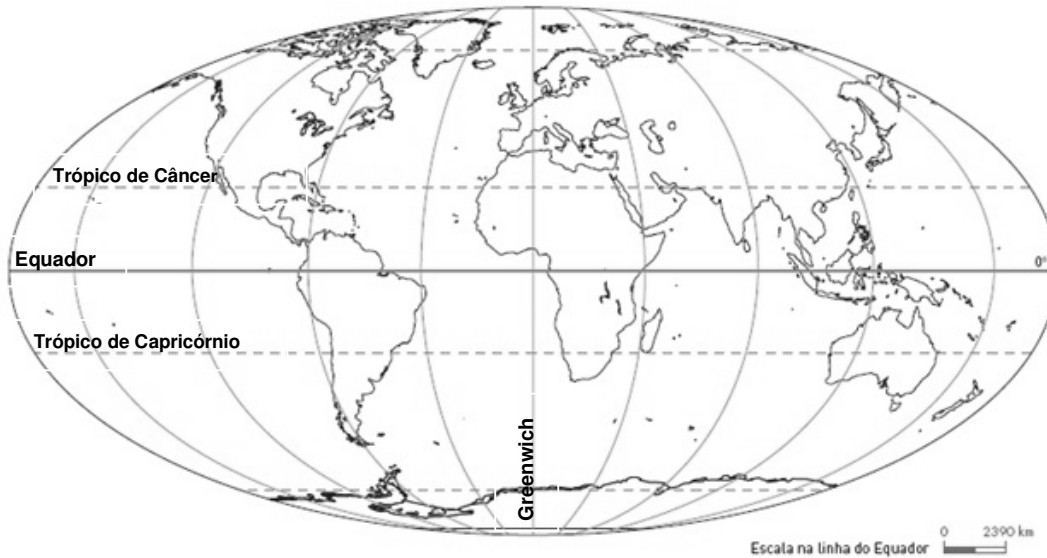
Questão 36 (Peso 1)

Num mapa de escala de 1:4000000 a distância, em linha reta, entre duas localidades é de 6 cm.

A distância real e o tempo gasto por um automóvel com velocidade constante de 80 km/h entre as duas localidades será de

- A) 150km e 2:27h.
- B) 240km e 3h.
- C) 660km e 8h.
- D) 1.500km e 19:15h
- E) 2.400km e 1dia e 6h.

Questão 37 (Peso 2)



Um navio lançou um SOS nas seguintes coordenadas: 20° de latitude sul e 33° de longitude oeste.

Tendo por base o mapa e a informação aliada aos conhecimentos sobre localização geográfica, pode-se afirmar que o navio se encontra

- A) no Golfo do México.
- B) na costa oriental da África.
- C) no setor oriental do Oceano Atlântico.
- D) nas proximidades do litoral brasileiro.
- E) no setor setentrional do Oceano Atlântico.

Questão 38 (Peso 2)

Local	Latitude	Longitude
1	20°N	30° E
2	15°S	10° E
3	2° N	60°W
4	43°N	5° W
5	25°S	45° W

Considerando-se os dados do quadro em destaque e os conhecimentos sobre coordenadas geográficas e orientação, assinale **V** para as afirmativas verdadeiras e **F**, para as falsas.

- () As localidades 1 e 4 estão situadas na zona intertropical do globo, no Hemisfério Norte.
- () As localidades 2 e 3 são as mais próximas da linha do Equador.
- () As localidades mais afastadas do Meridiano de Greenwich são 2 e 4.
- () A localidade 1 está à nordeste da localidade 5.
- () As localidades 3 e 5 estão situadas no Brasil.

A alternativa que contém a sequência correta, de cima para baixo, é a

- A) V V F F F
- B) V F F V V
- C) F V F V V
- D) F F V V F
- E) V V V V V

Questão 39 (Peso 3)

A globalização que vem ocorrendo nas últimas décadas permitiu a Bahia expandir o relacionamento comercial dentro do país e com outros países.

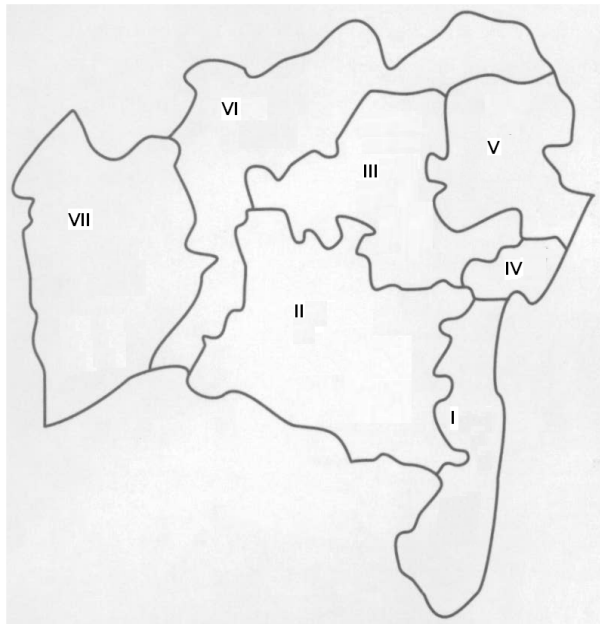
Em relação ao comércio interno e externo do Estado da Bahia, assinale **V** para as afirmativas verdadeiras e **F**, para as falsas.

- () As transformações na pauta de exportações estão relacionadas às mudanças na matriz industrial do Estado.
- () A inserção do Estado nos fluxos comerciais globais ocorreu através do modelo primário exportador.
- () A Bahia é detentora da primeira posição no ranking da produção e exportação de cítricos do país, apesar do déficit tecnológico em todas as etapas de produção.
- () O maior volume do comércio exterior baiano é de alto valor agregado e está concentrado nos produtos intensivos em trabalho.
- () A Bahia é a principal produtora nacional de frutas tropicais e exporta para os mercados europeu, asiático e estadunidense.

A alternativa que contém a sequência correta, de cima para baixo, é a

- A) V V V V V
- B) F V V F F
- C) F F V V F
- D) V V F F V
- E) V F F V V

Questão 40 (Peso 2)



Com base no mapa das mesorregiões baianas e nos conhecimentos sobre a dinâmica social, econômica e ambiental do Estado da Bahia, pode-se afirmar:

- A) O município de Jequié se localiza na porção mais setentrional da mesorregião **II**, enquanto o município de Porto Seguro é o mais meridional da mesorregião **I**.
- B) O município baiano mais populoso e mais povoado encontra-se na mesorregião **III**, enquanto o menos industrializado e urbanizado está localizado na mesorregião **IV**.
- C) A mesorregião **V** está totalmente inserida no polígono das secas, cuja vegetação predominante é xerófila e pouco diversificada.
- D) O setor da economia que mais absorve população economicamente ativa, na mesorregião **VI**, é o agronegócio voltado para a criação de caprinos e ovinos.
- E) A atividade econômica da mesorregião **VII** baseia-se no setor primário, com destaque para a produção de grãos, liderada pela soja.

Questão 41 (Peso 3)

Os conhecimentos acerca das características físicas e socioeconômicas da Região Nordeste permitem afirmar que a Bahia, em comparação com os demais estados nordestinos,

- A) possui o maior PIB *per capita* regional.
- B) tem a maior taxa de analfabetismo funcional da região.
- C) possui o território mais extenso, estendendo-se por todas as quatro sub-regiões nordestinas.
- D) apresenta, dentre os indicadores de desenvolvimento humano, a maior expectativa de vida do Nordeste.
- E) é o único Estado totalmente inserido no domínio dos cerrados e do clima tropical com duas estações definidas.

Questão 42 (Peso 3)

Com relação à política de transportes no Brasil e na Bahia, é correto afirmar:

- A) A política de privatização do transporte ferroviário, no Brasil, foi iniciada durante a primeira crise mundial do petróleo, de modo que, hoje, todas as linhas férreas e material rodante já se encontram a cargo da iniciativa privada.
- B) O panorama de transporte na Bahia, a exemplo do que ocorre na maior parte do país, caracteriza-se pela predominância, quase que absoluta, do modal rodoviário em detrimento do ferroviário e do hidroviário.
- C) A extensa rede fluvial naturalmente navegável aliada à melhoria geral da infraestrutura portuária do país, explica a grande importância do transporte hidroviário na movimentação de cargas pesadas à longa distância.
- D) Os maiores investimentos do Plano Nacional de Logística de Transportes estão voltados para a modernização das estruturas dos portos baianos e suas embarcações, isso porque a Bahia possui a maior orla marítima do país.
- E) O Plano Nacional de transportes que orienta a política de transportes no país é da 1973 e, desde então, vem sendo reformulado no sentido de equilibrar a matriz do setor, o que tem permitido a circulação de mercadorias e pessoas num menor tempo possível e a custos cada vez mais reduzidos.

Questão 43 (Peso 3)

O sistema viário nacional classifica as rodovias federais em cinco tipos.

Os conhecimentos a respeito da classificação das rodovias federais, de seu traçado, sua direção e de suas características permitem afirmar que as rodovias

- A) radiais partem da capital federal em direção aos extremos do país.
- B) transversais apresentam dois modos de orientação: Noroeste-Sudoeste e Nordeste-Sudeste e possuem extensões inferiores a 200 km.
- C) longitudinais cortam o país na direção leste-oeste e possuem dois ou mais pavimentos asfálticos com barreira física central.
- D) de ligação apresentam direção oblíqua em relação aos paralelos e constituem vias de ligação nacional por suas grandes extensões.
- E) diagonais se apresentam em qualquer direção unindo pontos importantes de outras categorias.

Questão 44 (Peso 3)

A malha rodoviária do Estado da Bahia é extensa e ramificada pela vastidão do seu território.

Sobre os principais aspectos da malha rodoviária da Bahia, é correto afirmar:

- A) As estradas não pavimentadas são a maioria nos perímetros urbanos, razão pela qual impõem limites de velocidade de 60 km/h.
- B) Todas as rodovias apresentam pista dupla com um pavimento asfáltico compartilhado pelos veículos nos dois sentidos de circulação.
- C) A Estrada Ecológica constitui o mais novo programa de restauração e arborização já realizado e corresponde ao trecho da BR 116 ao longo da Barragem de Pedra do Cavalo.
- D) A Estrada do Coco, que liga Salvador a Sergipe, é operada pela concessionária Litoral Norte, a mesma que faz a manutenção da Linha Verde até a divisa sergipana.
- E) O estado geral de conservação da malha rodoviária baiana é considerado bom, visto que a maioria das vias pertencem ao setor privado, onde o estado de piso de rodagem supera a média nacional.

LEGISLAÇÃO DE TRÂNSITO

Questão 45 (Peso 1)

Dirimir conflitos sobre circunscrição e competência de trânsito no âmbito da União, dos estados e do Distrito Federal é tarefa que compete

- A) às Câmaras Temáticas.
- B) ao Sistema Nacional de Trânsito.
- C) ao Conselho Nacional de Trânsito.
- D) ao Departamento Nacional de Trânsito.
- E) ao Conselho de Trânsito do Distrito Federal.

Questão 46 (Peso 1)

Um veículo que possui as placas dianteira e trazeira com o fundo branco e caracteres alfanuméricos vermelhos, além de outras características definidas em legislação específica, é considerado:

- A) oficial.
- B) particular.
- C) de aluguel.
- D) de aprendizagem.
- E) de representação diplomática, de repartição consulares de carreira ou organismos internacionais acreditados junto ao governo brasileiro.

Questão 47 (Peso 2)

O registrador instantâneo de velocidade e tempo pode se constituir um único aparelho mecânico, eletrônico ou compor um conjunto computadorizado que, além das funções específicas, exerce outros controles.

Sobre o equipamento descrito, é obrigatório o seu uso

- A) em veículos de condução escolar.
- B) em qualquer veículo de carga.
- C) em transportes de carga com peso bruto total superior a 3500 quilogramas.
- D) em veículos de transporte de passageiros de até nove lugares.
- E) apenas veículo de transporte de passageiros com peso bruto total inferior a 3500 Kg.

Questão 48 (Peso 3)

Parte da via, normalmente segregada e em nível diferente, não destinada à circulação de veículos, reservada ao trânsito de pedestres e, quando possível, à implementação de mobiliário urbano, sinalização, vegetação e outros fins; veículo destinado ao transporte de carga com peso bruto total de até três mil e quinhentos quilogramas; e, veículo de pelo menos duas rodas a propulsão humana.

Adotadas pelo Código de Trânsito Brasileiro, essas definições correspondem, respectivamente, ao termos indicados em

- A) Calçada, caminhonete e carroça.
- B) Calçada, caminhonete e ciclo.
- C) Passeio, caminhonete e ciclo.
- D) Passarela, veículo misto e ciclomotor.
- E) Faixa de trânsito, camioneta e ciclofaixa.

Questão 49 (Peso 2)

Em uma via devidamente sinalizada, e ausente o agente de trânsito, o motorista deverá observar, em ordem de prevalência, sinalização

- A) vertical sobre as demais normas.
- B) horizontal sobre as demais normas.
- C) do semáforo sobre as demais normas.
- D) indicativa sobre placas.
- E) a Auxiliar.

Questão 50 (Peso 1)



A placa de sinalização A-42c, representada na figura em destaque, deve ser identificada pelo motorista como

- A) início de pista dupla.
- B) alargamento de pista.
- C) fim de pista dupla.
- D) pista dividida.
- E) ponte estreita.

Questão 51 (Peso 2)



As placas de sinalização R 24b e R-32, representadas em destaque, deverão ser indentificadas pelo motorista, respectivamente, como

- A) passagem obrigatória e circulação exclusiva de ônibus.
- B) sentido de circulação da via e ônibus e caminhões.
- C) siga em frente e circulação exclusiva de caminhão.
- D) passagem obrigatória e ponto de parada de ônibus.
- E) sentido único e terminal rodoviário.

Questão 52 (Peso 3)

O motorista envolvido em acidente de trânsito que se afasta do local para fugir à responsabilidade penal ou civil que lhe possa ser atribuída, estará sujeito à pena de detenção de

- A) um a três meses.
- B) seis meses a um ano ou multa.
- C) seis meses a dois anos.
- D) um a três anos e multa.
- E) dois a quatro anos e suspensão de dirigir.

Questão 53 (Peso 2)

O proprietário de um veículo deverá adotar providências para a expedição de novo certificado de registro de veículo, de forma obrigatória e imediata, quando

- A) for licenciar o veículo.
- B) for transferida a propriedade.
- C) mudar a categoria de sua CNH.
- D) mudar de domicílio no mesmo município.
- E) mudar o município de domicílio ou residência.

Questão 54 (Peso 3)

O motorista, dirigindo em uma via sinalizada com velocidade máxima de 80 Km/h, ao exceder a velocidade para 110 Km/h e for surpreendido com a fiscalização eletrônica por radar, estará cometendo infração classificada com gravidade e penalidade prevista, indicadas, respectivamente, em

- A) média e multa.
- B) grave e multa.
- C) leve e multa (3 vezes).
- D) média, multa e recolhimento do documento de habilitação.
- E) gravíssima, multa (3 vezes), suspensão imediata do direito de dirigir e apreensão do documento de habilitação.

Questão 55 (Peso 2)

Conforme vigora desde setembro de 2010, por regulamentação contida em resolução do Conselho Nacional de Trânsito, as crianças com idade superior a um ano e inferior ou igual a quatro anos deverão utilizar, obrigatoriamente, o dispositivo de retenção denominado “cadeirinha”.

O motorista que transportar crianças, em veículo automotor, nessa idade, sem observar essa norma estará sujeito ao cômputo, em seu prontuário, do número de pontos indicados em

- A) Três.
- B) Quatro.
- C) Cinco.
- D) Seis.
- E) Sete.

Questão 56 (Peso 1)

Quando se dirige um veículo em uma curva, age sobre ele a força centrífuga que exige esforço para não deixá-lo sair da trajetória.

Quanto maior a velocidade mais se sente essa força que age

- A) jogando o veículo para o centro.
- B) mantendo a estabilidade do veículo.
- C) jogando o veículo para fora da curva.
- D) jogando o veículo para dentro da curva.
- E) deixando o veículo na faixa em que ele se desloca.

Questão 57 (Peso 3)

A regra dos dois segundos constitui uma providência que permite ao motorista reagir e acionar os freios diante de uma situação de emergência que tenha de parar o veículo sem risco de acidente.

O objetivo dessa regra é manter a distância segura

- A) para ultrapassagem.
- B) do veículo da frente.
- C) do veículo de trás.
- D) para estacionar.
- E) para sinalizar.

Questão 58 (Peso 3)

Um motorista avançou o sinal vermelho do semáforo quando visitava a cidade de Limeira-SP, trafegando com o seu automóvel registrado e licenciado em Recife-PE.

Após receber a notificação de imposição de penalidade, ele deverá apresentar

- A) recurso ao Departamento Nacional de Trânsito.
- B) defesa da autuação ao órgão ou entidade de trânsito de Limeira-SP.
- C) recurso ao órgão ou entidade de trânsito de Recife-PE ou em Pernambuco.
- D) defesa da autuação ao órgão ou entidade de trânsito de Limeira-SP ou em São Paulo.
- E) defesa da autuação ao órgão ou entidade de trânsito de Recife-PE ou em Pernambuco.

Questão 59 (Peso 2)

Um motorista, trafegando em uma rodovia, foi solicitado a parar e prestar socorro a uma pessoa vítima de acidente de trânsito.

Após estacionar e sinalizar o local, a providência que ele deverá adotar é

- A) facilitar o trânsito retirando os veículos da via.
- B) socorrer a vítima, levando-a a um hospital e conduzindo-a a um hospital em seu veículo.
- C) verificar se há ferimentos e se são graves movimentando a vítima.
- D) oferecer água para manter o acidentado acordado até a chegada do socorro especializado.
- E) aguardar socorro, afrouxar suas vestes, com cuidado, facilitando-lhe a respiração, sempre se preocupando em não alterar sua posição.

Questão 60 (Peso 2)

Em caso de acidente de trânsito à noite, em uma rodovia, com velocidade regulamentada para 90 Km/h, a distância para início da sinalização deverá contar com o número de passos longos indicados na alternativa

- A) Noventa.
- B) Cem.
- C) Cento e trinta e cinco.
- D) Cento e oitenta.
- E) Duzentos e setenta.