



Governo do Estado do Mato Grosso do Sul  
Secretaria de Estado de Receita e Controle  
Concurso Público 2006

## Fiscal de Rendas

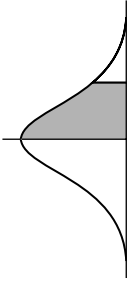
# 2ª Prova Objetiva (28/05/2006)

## Instruções

- Você receberá do fiscal o material descrito a seguir:
  - a) uma folha destinada às respostas das questões formuladas na prova;
  - b) este caderno com o nome do cargo a que você está concorrendo e o enunciado das **80 (oitenta) questões**, sem repetição ou falha.
- Verifique se o material está em ordem, se seu *nome* e seu *número de inscrição* são os que aparecem na folha de respostas; **caso contrário, notifique imediatamente o fiscal.**
- Ao receber a folha de respostas, é obrigação do candidato:
  - a) ler atentamente as instruções para a marcação das respostas;
  - b) conferir seu **nome e número de inscrição**;
  - c) **assinar**, no espaço reservado, com caneta esferográfica azul ou preta, a folha de respostas.
- As questões são identificadas pelo número que se situa acima do seu enunciado.
- Reserve os **20 (vinte) minutos** finais para marcar a folha de respostas.
- Quando terminar, entregue a folha de respostas ao fiscal.
- O candidato só poderá levar consigo este caderno quando faltarem 30 (trinta) minutos para o término da prova.
- O rascunho no caderno de questões não será levado em consideração.
- O tempo disponível para esta prova será de **4 (quatro) horas**.

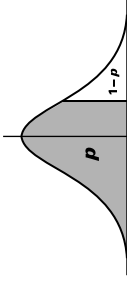


# TABELAS AUXILIARES PARA AS QUESTÕES DE ESTATÍSTICA



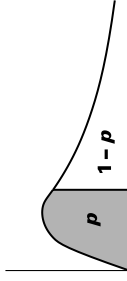
Área sob a Curva Normal Padronizada de 0 a z

z	0	1	2	3	4	5	6	7	8	9
0.0	.0000	.0040	.0080	.0120	.0160	.0199	.0239	.0279	.0319	.0359
0.1	.0398	.0438	.0478	.0517	.0557	.0596	.0636	.0675	.0714	.0754
0.2	.0793	.0832	.0871	.0910	.0948	.0987	.1026	.1064	.1103	.1141
0.3	.1179	.1217	.1255	.1293	.1331	.1368	.1406	.1443	.1480	.1517
0.4	.1554	.1591	.1628	.1664	.1700	.1736	.1772	.1808	.1844	.1879
0.5	.1915	.1950	.1985	.2019	.2054	.2088	.2123	.2157	.2190	.2224
0.6	.2258	.2291	.2324	.2357	.2389	.2422	.2454	.2486	.2518	.2549
0.7	.2580	.2612	.2642	.2673	.2704	.2734	.2764	.2794	.2823	.2852
0.8	.2881	.2910	.2939	.2967	.2996	.3023	.3051	.3078	.3106	.3133
0.9	.3159	.3186	.3212	.3238	.3264	.3289	.3315	.3340	.3365	.3389
1.0	.3413	.3438	.3461	.3485	.3508	.3531	.3554	.3577	.3599	.3621
1.1	.3643	.3665	.3686	.3708	.3729	.3749	.3770	.3790	.3810	.3830
1.2	.3849	.3869	.3888	.3907	.3925	.3944	.3962	.3980	.3997	.4015
1.3	.4032	.4049	.4066	.4082	.4099	.4115	.4131	.4147	.4162	.4177
1.4	.4192	.4207	.4222	.4236	.4251	.4265	.4279	.4292	.4306	.4319
1.5	.4332	.4345	.4357	.4370	.4382	.4394	.4406	.4418	.4429	.4441
1.6	.4452	.4463	.4474	.4484	.4495	.4505	.4515	.4525	.4535	.4545
1.7	.4554	.4564	.4573	.4582	.4591	.4599	.4608	.4616	.4625	.4633
1.8	.4641	.4649	.4656	.4664	.4671	.4678	.4686	.4693	.4699	.4706
1.9	.4713	.4719	.4726	.4732	.4738	.4744	.4750	.4756	.4761	.4767
2.0	.4772	.4778	.4783	.4788	.4793	.4798	.4803	.4808	.4812	.4817
2.1	.4821	.4826	.4830	.4834	.4838	.4842	.4846	.4850	.4854	.4857
2.2	.4861	.4864	.4868	.4871	.4875	.4878	.4881	.4884	.4887	.4890
2.3	.4893	.4896	.4898	.4901	.4904	.4906	.4909	.4911	.4913	.4916
2.4	.4918	.4920	.4922	.4925	.4927	.4929	.4931	.4932	.4934	.4936
2.5	.4938	.4940	.4941	.4943	.4945	.4946	.4948	.4949	.4951	.4952
2.6	.4953	.4955	.4956	.4957	.4959	.4960	.4961	.4962	.4963	.4964
2.7	.4965	.4966	.4967	.4968	.4969	.4970	.4971	.4972	.4973	.4974
2.8	.4974	.4975	.4976	.4977	.4977	.4978	.4979	.4979	.4980	.4981
2.9	.4981	.4982	.4982	.4983	.4984	.4984	.4985	.4985	.4986	.4986
3.0	.4987	.4987	.4987	.4988	.4988	.4989	.4989	.4989	.4990	.4990
3.1	.4990	.4991	.4991	.4992	.4992	.4992	.4992	.4992	.4993	.4993
3.2	.4993	.4993	.4994	.4994	.4994	.4994	.4994	.4995	.4995	.4995
3.3	.4995	.4995	.4995	.4996	.4996	.4996	.4996	.4996	.4997	.4997
3.4	.4997	.4997	.4997	.4997	.4997	.4997	.4997	.4997	.4997	.4998
3.5	.4998	.4998	.4998	.4998	.4998	.4998	.4998	.4998	.4998	.4998
3.6	.4999	.4999	.4999	.4999	.4999	.4999	.4999	.4999	.4999	.4999
3.7	.4999	.4999	.4999	.4999	.4999	.4999	.4999	.4999	.4999	.4999
3.8	.4999	.4999	.4999	.4999	.4999	.4999	.4999	.4999	.4999	.4999
3.9	.5000	.5000	.5000	.5000	.5000	.5000	.5000	.5000	.5000	.5000



Valores de Percentis ( $t_p$ ) para a Distribuição t de Student com v graus de liberdade

v	$t_{0,95}$	$t_{0,90}$	$t_{0,80}$	$t_{0,70}$	$t_{0,60}$	$t_{0,50}$	$t_{0,40}$	$t_{0,30}$	$t_{0,25}$	$t_{0,20}$	$t_{0,15}$	$t_{0,10}$	$t_{0,05}$	$t_{0,025}$	$t_{0,01}$	$t_{0,005}$
1	.158	.325	.727	1.000	1.376	3.08	6.31	12.71	31.82	63.66						
2	.142	.289	.617	.816	1.061	1.89	2.92	4.30	6.96	9.92						
3	.137	.277	.584	.765	.978	1.64	2.35	3.18	4.54	5.84						
4	.134	.271	.569	.741	.941	1.53	2.13	2.78	3.75	4.60						
5	.132	.267	.559	.727	.914	1.48	2.02	2.57	3.36	4.03						
6	.131	.265	.553	.718	.906	1.44	1.94	2.45	3.14	3.71						
7	.130	.263	.549	.711	.896	1.42	1.90	2.36	3.00	3.50						
8	.130	.262	.546	.706	.889	1.40	1.86	2.31	2.90	3.36						
9	.129	.261	.543	.703	.883	1.38	1.83	2.26	2.82	3.25						
10	.129	.260	.542	.700	.879	1.37	1.81	2.23	2.76	3.17						
11	.129	.260	.540	.697	.876	1.36	1.80	2.20	2.72	3.11						
12	.128	.259	.539	.695	.873	1.36	1.78	2.18	2.68	3.06						
13	.128	.259	.538	.694	.870	1.35	1.77	2.16	2.65	3.01						
14	.128	.258	.537	.692	.868	1.34	1.76	2.14	2.62	2.98						
15	.128	.258	.536	.691	.866	1.34	1.75	2.13	2.60	2.95						
16	.128	.258	.535	.690	.865	1.34	1.75	2.12	2.58	2.92						
17	.128	.257	.534	.689	.863	1.33	1.74	2.11	2.57	2.90						
18	.127	.257	.534	.688	.862	1.33	1.73	2.10	2.55	2.88						
19	.127	.257	.533	.688	.861	1.33	1.73	2.09	2.54	2.86						
20	.127	.257	.533	.687	.860	1.32	1.72	2.09	2.53	2.84						
21	.127	.257	.532	.686	.859	1.32	1.72	2.08	2.52	2.83						
22	.127	.256	.532	.686	.858	1.32	1.72	2.07	2.51	2.82						
23	.127	.256	.532	.685	.858	1.32	1.71	2.07	2.50	2.81						
24	.127	.256	.531	.685	.857	1.32	1.71	2.06	2.49	2.80						
25	.127	.256	.531	.684	.856	1.32	1.71	2.06	2.48	2.79						
26	.127	.256	.531	.684	.856	1.32	1.71	2.05	2.48	2.78						
27	.127	.256	.531	.684	.855	1.31	1.70	2.05	2.47	2.77						
28	.127	.256	.530	.683	.855	1.31	1.70	2.05	2.47	2.76						
29	.127	.256	.530	.683	.854	1.31	1.70	2.04	2.46	2.76						
30	.127	.256	.530	.683	.854	1.31	1.70	2.04	2.46	2.75						
40	.126	.255	.529	.681	.851	1.30	1.68	2.02	2.42	2.70						
60	.126	.254	.527	.679	.848	1.30	1.67	2.00	2.39	2.66						
120	.126	.254	.526	.677	.845	1.29	1.66	1.98	2.36	2.62						
$\infty$	.126	.253	.524	.674	.842	1.28	1.645	1.96	2.33	2.58						



Valores dos Percentis  $X_p^2$  para a Distribuição Qui-Quadrado com v graus de liberdade

v	$X_{0,005}^2$	$X_{0,01}^2$	$X_{0,025}^2$	$X_{0,05}^2$	$X_{0,10}^2$	$X_{0,25}^2$	$X_{0,50}^2$	$X_{0,75}^2$	$X_{0,90}^2$	$X_{0,95}^2$	$X_{0,975}^2$	$X_{0,99}^2$	$X_{0,995}^2$	$X_{0,999}^2$
1	.0000	.0002	.0010	.0039	.0158	.102	.455	1.32	2.71	3.84	5.02	6.63	7.88	10.8
2	.1000	.0201	.0506	.103	.211	.575	1.39	2.77	4.61	5.99	7.38	9.21	10.6	13.8
3	.0717	.115	.216	.352	.584	1.21	2.37	4.11	6.25	7.81	9.35	11.3	12.8	16.3
4	.207	.297	.484	.711	1.06	1.92	3.36	5.39	7.78	9.49	11.1	13.3	14.9	18.5
5	.412	.554	.831	1.15	1.61	2.67	4.35	6.63	9.24	11.1	12.8	15.1	16.7	20.5
6	.676	.872	1.24	1.64	2.20	3.45	5.35	7.84	10.6	12.6	14.4	16.8	18.5	22.5
7	.989	1.24	1.69	2.17	2.83	4.25	6.35	9.04	12.0	14.1	16.0	18.5	20.3	24.3
8	1.34	1.65	2.18	2.73	3.49	5.07	7.34	10.2	13.4	15.5	17.5	20.1	22.0	26.1
9	1.73	2.09	2.70	3.33	4.17	5.90	8.34	11.4	14.7	16.9	19.0	21.7	23.6	27.9
10	2.16	2.56	3.25	3.94	4.87	6.74	9.34	12.5	16.0	18.3	20.5	23.2	25.2	29.6
11	2.60	3.05	3.82	4.57	5.58	7.58	10.3	13.7	17.3	19.7	21.9	24.7	26.8	31.3
12	3.07	3.57	4.40	5.23	6.30	8.44	11.3	14.8	18.5	21.0	23.3	26.2	28.3	32.9
13	3.57	4.11	5.01	5.89	7.04	9.30	12.3	16.0	19.8	22.4	24.7	27.7	29.8	34.5
14	4.07	4.66	5.63	6.57	7.79	10.2	13.3	17.1	21.1	23.7	26.1	29.1	31.3	36.1
15	4.60	5.23	6.26	7.26	8.55	11.0	14.3	18.2	22.3	25.0	27.5	30.6	32.8	37.7
16	5.14	5.81	6.91	7.96	9.31	11.9	15.3	19.4	23.5	26.3	28.8	32.0	34.3	39.3
17	5.70	6.41	7.56	8.67	10.1	12.8	16.3	20.5	24.8	27.6	30.2	33.4	35.7	40.8
18	6.26	7.01	8.23	9.39	10.7	13.7	17.3	21.6	26.0	28.9	31.5	34.8	37.2	42.3
19	6.84	7.63	8.91	10.1	11.7	14.6	18.3	22.7	27.2	30.1	32.9	36.2	38.6	43.8
20	7.43	8.26	9.59	10.8	12.4	15.5	19.3	23.8	28.4	31.4	34.2	37.6	40.0	45.3
21	8.03	8.90	10.3	11.6	13.2	16.3	20.3	24.9	29.6	32.7	35.5	38.9	41.4	46.8
22	8.64	9.54	11.0	12.3	14.0	17.2	21.3	26.0	30.8	33.9	36.8			

**DIREITO ADMINISTRATIVO****1**

Qual dos elementos a seguir se afigura irrelevante para a eficácia de ato administrativo vinculado?

- (A) Motivo.
- (B) Competência.
- (C) Objeto.
- (D) Mérito.
- (E) Forma.

**2**

Indique o princípio imediatamente relacionado ao ato administrativo praticado visando à finalidade legal.

- (A) eficiência
- (B) impessoalidade
- (C) legalidade estrita
- (D) moralidade
- (E) publicidade

**3**

O abuso de poder admite as formas:

- (A) comissiva, omissiva, dolosa e culposa.
- (B) comissiva, dolosa e culposa.
- (C) comissiva e dolosa.
- (D) omissiva e culposa.
- (E) omissiva e dolosa.

**4**

Assinale a modalidade de licitação cabível para se adjudicar uma concessão de direito de uso de bens públicos.

- (A) convite
- (B) tomada de preços
- (C) concurso
- (D) leilão
- (E) concorrência

**5**

O agente público pode ser condenado nas penas de improbidade administrativa por praticar, nessa qualidade, ato imoral que, além de não ter gerado prejuízo para a Administração, não reflete corrupção econômica?

- (A) Sim, por ofensa, ainda que culposa, ao princípio da moralidade administrativa, de assento constitucional.
- (B) Sim, porque a improbidade administrativa, embora dependa de uma ação ou omissão dolosa do agente público, prescinde da ocorrência de dano ao patrimônio público e de indício de corrupção econômica.
- (C) Sim, desde que o ato de improbidade administrativa vise à satisfação de interesse pessoal do agente ou de terceiro.
- (D) Não, porque a improbidade se relaciona, sempre, com valores e questões materiais, sendo ilícito de resultado.
- (E) Depende da gravidade do ato imoral.

**DIREITO CONSTITUCIONAL****6**

A respeito da "mutação constitucional", é correto afirmar que:

- (A) é a alteração da Constituição por meio de emendas.
- (B) é o mesmo que revisão constitucional.
- (C) são as alterações informais feitas na substância da Constituição, especialmente por meio da interpretação judicial.
- (D) não tem lugar em nosso sistema jurídico, em razão de a Carta Política ser escrita e rígida.
- (E) só ocorre por meio do poder constituinte originário.

**7**

Qual dos princípios a seguir encontra guarida em nosso sistema constitucional tributário?

- (A) Supremacia dos interesses fazendários.
- (B) Isonomia.
- (C) Prévio procedimento de inscrição em dívida ativa.
- (D) Da ampla responsabilidade tributária.
- (E) Do prévio pagamento da exação tributária.

**8**

Direito líquido e certo, em tema de mandado de segurança, é aquele:

- (A) fundado em fatos que não demandam exame jurídico de grande complexidade.
- (B) fundado em fatos passíveis de prova na etapa processual dilatória.
- (C) fundado em fatos comprovados de plano.
- (D) fundado em fatos que independem de prova testemunhal.
- (E) fundado em fatos economicamente apreciáveis.

**9**

Qual é o órgão de controle externo integrante do Poder Legislativo Federal?

- (A) Conselho Nacional de Justiça.
- (B) Advocacia-Geral da União.
- (C) Conselho de Contribuintes.
- (D) Tribunal de Contas da União.
- (E) Secretaria de Controle Federal.

**10**

**Não** constitui cláusula pétrea:

- (A) a forma federativa do Estado.
- (B) a separação de poderes.
- (C) os direitos e garantias individuais.
- (D) o voto secreto.
- (E) o sistema político.

**PROCESSO ADMINISTRATIVO TRIBUTÁRIO****11**

No processo administrativo tributário deve ser adotada a seguinte regra:

- (A) o processo administrativo tributário sempre se inicia de ofício.
- (B) a motivação do ato deve indicar seus fundamentos de fato e de direito.
- (C) a adoção dos preceitos constitucionais é relativa.
- (D) o sujeito passivo não se submete ao princípio da boa-fé.
- (E) devem ser observadas a celeridade, formalidade e economia processuais.

**12**

Com base na lei que regula o processo administrativo junto ao Fisco, analise as afirmativas a seguir:

- I. Órgão julgador é o centro de competência especializada para decidir, exclusivamente de forma coletiva, os litígios cujas soluções estejam disciplinadas em lei própria.
- II. Processo administrativo tributário é o conjunto de atos decorrentes da relação jurídica estabelecida em contraditório, entre a Administração Fazendária e o sujeito passivo de obrigação tributária ou de qualquer outro dever jurídico.
- III. Procedimento administrativo tributário é a sucessão ordenada de atos e de formalidades, de natureza litigiosa, tendentes à formação do convencimento e à manifestação da vontade da Administração Tributária ou à sua execução.

Assinale:

- (A) se apenas a afirmativa II estiver correta.
- (B) se apenas a afirmativa III estiver correta.
- (C) se apenas as afirmativas I e II estiverem corretas.
- (D) se apenas as afirmativas I e III estiverem corretas.
- (E) se todas as afirmativas estiverem corretas.

**13**

Os chefes dos órgãos julgadores, no uso de suas atribuições:

- (A) podem estabelecer prioridade nos julgamentos de impugnações ou recursos, em decorrência da importância do sujeito passivo e do valor do crédito tributário em discussão.
- (B) podem estabelecer prioridade nos julgamentos de impugnações ou recursos, em decorrência do valor do crédito tributário em discussão e da importância do sujeito passivo.
- (C) podem estabelecer prioridade nos julgamentos de impugnações ou recursos, apenas em decorrência da natureza da relação jurídica objeto do litígio.
- (D) podem estabelecer prioridade nos julgamentos de impugnações ou recursos, apenas em decorrência do valor do crédito tributário em discussão.
- (E) podem estabelecer prioridade nos julgamentos de impugnações ou recursos, em decorrência do valor do crédito tributário em discussão e da natureza da relação jurídica objeto do litígio.

**14**

A fiscalização tem início, juridicamente:

- I. pela emissão de termo apropriado, ou com a formalização de qualquer providência administrativamente tomada, pela autoridade fiscal competente, dispensada a comunicação do ato à pessoa fiscalizada ou ao seu representante legal, ou ao preposto de qualquer um deles;
- II. pelo ato de apreensão de quaisquer bens ou mercadorias e retenção de documentos ligados a evento tributável, fato jurídico tributário ou infração;
- III. pela adoção, por qualquer agente do Fisco, de medidas coercitivas tendentes a frustrar a evasão de tributo, antes da iniciativa voluntária do fiscalizado em apresentar bens ou coisas ou em prestar informações adequadas ao esclarecimento de situações.

Assinale:

- (A) se apenas a afirmativa I estiver correta.
- (B) se apenas a afirmativa III estiver correta.
- (C) se apenas as afirmativas I e II estiverem corretas.
- (D) se apenas as afirmativas II e III estiverem corretas.
- (E) se todas as afirmativas estiverem corretas.

**15**

A realização de uma nova investigação fiscal, sobre matéria contida em período de tempo já abrangido por fiscalização anterior, somente pode ser efetivada:

- I. sob determinação expressa e fundamentada da autoridade de hierarquia superior à da autoridade fiscal;
- II. enquanto não decorrido o prazo prescricional para o exercício da competência apta à realização do lançamento de ofício;
- III. por requerimento de outra autoridade fiscal de igual hierarquia.

Assinale:

- (A) se apenas a afirmativa I estiver correta.
- (B) se apenas a afirmativa III estiver correta.
- (C) se apenas as afirmativas I e II estiverem corretas.
- (D) se apenas as afirmativas II e III estiverem corretas.
- (E) se todas as afirmativas estiverem corretas.

**16**

Nos termos da Lei Estadual 2.315/01, situação de emergência é aquela que exige a prática de determinados atos, sem os quais poderia ter ocorrido ou possa ocorrer lesão grave ou de difícil reparação aos interesses:

- I. da Fazenda Pública Estadual;
- II. dos Órgãos Julgadores Administrativos Especializados;
- III. do Administrado.

Assinale:

- (A) se apenas o item I estiver correto.
- (B) se apenas o item II estiver correto.
- (C) se apenas os itens I e II estiverem corretos.
- (D) se apenas os itens I e III estiverem corretos.
- (E) se todos os itens estiverem corretos.

**17**

O documento destinado ao lançamento de tributo, penalidade pecuniária ou encargo pecuniário decorrente de ato específico de fiscalização, denomina-se:

- (A) Auto de Infração.
- (B) Auto de Lançamento e de Imposição de Multa.
- (C) Auto de Fiscalização.
- (D) Documento de Autuação Fiscal.
- (E) Auto de Lançamento.

**18**

Configurada a ocorrência de desobediência, embaraço ou resistência, pode o agente do Fisco:

- (A) requisitar auxílio de força pública federal, ainda que o fato não esteja definido em lei como crime ou contravenção.
- (B) requisitar auxílio de força pública estadual, desde que o fato esteja definido em lei como crime.
- (C) requisitar auxílio de força pública federal, estadual ou municipal, desde que o fato esteja definido em lei como crime.
- (D) requisitar auxílio de força pública federal, estadual ou municipal, ainda que o fato não esteja definido em lei como crime ou contravenção.
- (E) requisitar auxílio de força pública federal, estadual ou municipal, desde que o fato esteja definido em lei como crime ou contravenção.

**19**

Analise as afirmativas a seguir:

- I. É vedada a elaboração de um novo Auto de Lançamento e de Imposição de Multa para substituir aquele em que esteja contida exigência fiscal anterior ainda pendente de solução.
- II. O lançamento de tributo, penalidade pecuniária ou encargo pecuniário regularmente notificado ou intimado ao sujeito passivo pode ser alterado por iniciativa do agente do Fisco competente para a prática do ato ou em virtude de impugnação ou recurso.
- III. Em caso de impugnação ou recurso, sempre que a alteração do lançamento ocasionar o agravamento da exigência pecuniária original do Fisco, deve ser reaberto prazo de 30 dias para a manifestação do sujeito passivo.

Assinale.

- (A) se apenas a afirmativa II estiver correta.
- (B) se apenas a afirmativa III estiver correta.
- (C) se apenas as afirmativas I e II estiverem corretas.
- (D) se apenas as afirmativas II e III estiverem corretas.
- (E) se todas as afirmativas estiverem corretas.

**20**

Na hipótese de lançamento de tributo, penalidade pecuniária ou encargo pecuniário não impugnado pelo sujeito passivo, são cabíveis as seguintes regras:

- (A) o pagamento ou parcelamento do valor do crédito tributário exigido, ou a impetração de ação judicial contra o Fisco, operam a desistência do litígio na esfera administrativa.
- (B) o pagamento ou parcelamento do valor do crédito tributário exigido, ou a impetração de ação judicial contra o Fisco, não operam a desistência do litígio na esfera administrativa.
- (C) só o pagamento ou parcelamento do valor do crédito tributário exigido opera a desistência do litígio na esfera administrativa.
- (D) só a impetração de ação judicial contra o Fisco opera a desistência do litígio na esfera administrativa.
- (E) o pagamento ou parcelamento do valor do crédito tributário exigido, ou a impetração de ação judicial contra o Fisco, operam a suspensão do litígio na esfera administrativa.

**CONTABILIDADE****21**

De acordo com a Resolução CFC 750/93, assinale a alternativa correta.

- (A) O princípio da continuidade estabelece que a empresa não poderá ser liquidada.
- (B) O princípio da prudência estabelece que, havendo dúvida entre dois valores igualmente válidos, deverá ser considerado o maior valor para o Ativo.
- (C) O princípio da prudência estabelece que, havendo dúvida entre dois valores igualmente válidos, deverá ser considerado o maior valor para o Passivo.
- (D) O princípio da oportunidade estabelece que o contador deverá escolher a prática contábil que melhor atenda aos interesses da empresa.
- (E) O princípio da objetividade estabelece que o contador só poderá reconhecer os atos e fatos que afetam o patrimônio da empresa se esses forem comprovados mediante nota fiscal ou contrato lavrado em cartório.

**22**

A respeito da principal característica do Ativo Permanente, que o difere do Ativo Circulante e do Realizável a Longo Prazo, assinale a alternativa correta (Ignore a Deliberação CVM 488/05).

- (A) O ativo permanente diferido é idêntico às despesas antecipadas do ativo circulante.
- (B) O ativo permanente é avaliado pelo custo histórico de aquisição.
- (C) O ativo permanente investimento pode ser reavaliado.
- (D) O ativo permanente representa as aplicações de recursos que a empresa não tem por objetivo transformar diretamente em dinheiro.
- (E) O ativo permanente representa as origens de recursos classificadas em: Investimentos, Imobilizado e Diferido.

**23**

A Cia. Comercial Distress está passando por dificuldades financeiras. Seu balanço patrimonial em 01/01/2006 era apresentado conforme segue:

<b>Ativo Circulante</b>	<b>10.010,00</b>	<b>Passivo Circulante</b>	<b>11.000,00</b>
Disponibilidades	10,00	Fornecedores	8.000,00
Duplicatas a Receber	10.000,00	Impostos a recolher	3.000,00
<b>Ativo Permanente</b>	<b>4.990,00</b>	<b>Patrimônio Líquido</b>	<b>4.000,00</b>
Imobilizado	4.990,00	Capital Social	4.000,00
<b>Total do ATIVO</b>	<b>15.000,00</b>	<b>PASSIVO + PL</b>	<b>15.000,00</b>

Em 02/01/2006, o gerente da Cia. Comercial Distress foi ao banco e descontou as duplicatas a receber (no valor total de \$ 10.000,00). O banco efetuou o depósito na conta corrente da Cia. Comercial Distress no valor de \$ 9.980,00. Com base nessas informações, assinale o valor do Passivo Circulante apresentado no Balanço Patrimonial da Cia. Comercial Distress, apurado logo após a realização de tal transação.

- (A) \$ 9.980,00
- (B) \$ 9.990,00
- (C) \$ 10.010,00
- (D) \$ 11.000,00
- (E) \$ 15.000,00

**24**

Em 30/09/2005, a Cia. Compra Bem comprou mercadorias no valor total de \$ 24.000,00, a prazo, sendo a seguinte forma de pagamento: 6 prestações trimestrais iguais, vencendo a primeira em 30/12/2005.

Considere que a Cia. Compra Bem pagou a prestação que venceu no dia 30/12/2005 e ignore qualquer tributo e qualquer outra informação não apresentada neste enunciado.

No Balanço Patrimonial da Cia. Compra Bem apurado em 31/12/2005, qual era o valor dos fornecedores a pagar reconhecidos no Passivo Circulante (PC) e no Exigível a Longo Prazo (ELP), respectivamente?

- (A) zero e \$ 24.000,00
- (B) \$ 4.000,00 e \$ 16.000,00
- (C) \$ 16.000,00 e \$ 4.000,00
- (D) \$ 16.000,00 e \$ 8.000,00
- (E) \$ 20.000,00 e \$ 4.000,00

**Com base no enunciado a seguir, responda às questões 25 e 26.**

A Cia. Comercial Ju-Ju é uma empresa mercantil contribuinte do ICMS por movimentação econômica (alíquota = 20%), contribuinte do IR pelo Lucro Real (25%), contribuinte da CS (10%), contribuinte de PIS e COFINS (2% e 8%, respectivamente), não-contribuinte de IPI nem do ISS. (Observe que, para facilitar os cálculos, as alíquotas deste enunciado não correspondem às alíquotas verdadeiras. Portanto, considere as taxas apresentadas neste enunciado.)

Seu estoque inicial de mercadorias, em maio (01/05/2006), era composto por 100 unidades do produto "Felicidade" e estava avaliado pelo valor total de \$ 1.000,00.

No dia 10/05/2006, a Cia. Comercial Ju-Ju adquiriu 100 unidades do produto "Felicidade". Os dados na nota fiscal de compra eram os seguintes:

- o Fornecedor é um fabricante;
- a compra foi negociada FOB no estabelecimento do fornecedor (*free on board* no embarque);
- valor das mercadorias (com impostos) = \$ 1.500,00 pelas 100 unidades;
- IPI sobre as mercadorias (10%), por fora;
- ICMS sobre as mercadorias (20%);
- PIS sobre as mercadorias (2%);
- COFINS sobre as mercadorias (8%);
- frete intermunicipal (com impostos) = \$ 500,00;
- ICMS sobre o frete (20%);
- PIS sobre o frete (2%);
- COFINS sobre o frete (8%).

**25**

De acordo com a Instrução SRF 404/04 e com base, somente, nas informações deste enunciado, apure o custo unitário das mercadorias adquiridas em 10/05/2006, que foi lançado no Estoque.

- (A) \$ 14,00
- (B) \$ 15,35
- (C) \$ 15,50
- (D) \$ 16,00
- (E) \$ 21,50

**26**

Considere que a Cia. Comercial Ju-Ju avalia seu estoque pelo Custo Médio Ponderado Móvel e que no dia 15/05/2006 vendeu 150 unidades da mercadoria "Felicidade" pelo preço unitário de \$ 40,00.

Com base, somente, nessas informações, apure o Custo dos Produtos Vendidos em 15/05/2006.

- (A) \$ 1.767,50
- (B) \$ 1.800,00
- (C) \$ 1.901,25
- (D) \$ 2.075,00
- (E) \$ 2.362,50

**Com base no enunciado a seguir, responda às questões 27 a 29.**

A Cia. Comercial Complexa e Extensa apurou o seguinte Balanço Patrimonial em 01/01/2005:

ATIVO	\$	PASSIVO + PL	\$
<b>Ativo circulante</b>	<b>100.000,00</b>	<b>Patrimônio Líquido</b>	<b>100.000,00</b>
Caixa	100.000,00	Capital Social	100.000,00

Durante o primeiro semestre de 2005, ocorreram as seguintes transações:

- Os sócios da Cia. Comercial Complexa e Extensa aumentaram o Capital Social da empresa em \$ 100.000,00, da seguinte forma:
  - \$ 50.000,00 integralizados, imediatamente, em dinheiro;
  - \$ 30.000,00 integralizados, imediatamente, em um terreno localizado na cidade de Corumbá; e
  - \$ 20.000,00 a serem integralizados no ano de 2008.
- A Cia. Comercial Complexa e Extensa comprou 50.000 unidades da mercadoria "Dificuldade", por \$1,50 a unidade (desconsidere os impostos). O pagamento ao fornecedor foi realizado à vista.
- A Cia. Comercial Complexa e Extensa vendeu 45.000 unidades da mercadoria "Dificuldade", por \$ 2,00 a unidade (desconsidere os impostos). A venda foi negociada a prazo.
- A Cia. Comercial Complexa e Extensa recebeu de seus clientes metade (1/2) das Duplicatas a Receber. O restante das duplicatas vencerá, ainda, em 2005 (no segundo semestre).
- No início de abril, a Cia. Comercial Complexa e Extensa obteve um empréstimo bancário no valor de \$ 70.000,00. O principal deverá ser pago em 2009, mas os juros mensais de \$ 400,00 devem ser pagos ao final de cada mês. A Cia. Comercial Complexa e Extensa honrou o pagamento dos juros nos prazos acordados (inclusive no mês de abril).
- No início de maio, a Cia. Comercial Complexa e Extensa comprou um caminhão, à vista, por \$ 60.000,00. Espera-se que esse veículo tenha uma vida útil de 5 anos, ao final do qual se reduzirá a sucata, e o método de depreciação adotado é o linear – cotas constantes. A Cia. Comercial Complexa e Extensa reconheceu a depreciação mensalmente (inclusive no mês de maio).
- A Cia. Comercial Complexa e Extensa incorreu e pagou despesas administrativas de \$ 10.000,00 e despesas comerciais de \$ 5.000,00. Dessas despesas, \$ 8.000,00 eram referentes a Pessoal e Encargos; e o restante, referente a Serviços Contratados de Terceiros.

Desconsidere a incidência de qualquer tributo, bem como qualquer outra variável não apresentada neste enunciado.

Sabe-se que 25% do lucro do semestre foram provisionados como dividendos, mas ainda não foram pagos.

**27**

De acordo com a Lei 6.404/76, determine o valor total das Origens de Recursos da Cia. Comercial Complexa e Extensa, apresentado na Demonstração das Origens e Aplicações de Recursos, apurada em 30/06/2005.

- (A) \$ 70.000,00
- (B) \$ 80.000,00
- (C) \$ 91.075,00
- (D) \$ 154.300,00
- (E) \$ 156.300,00

**28**

De acordo com o Pronunciamento IBRACON 20/99, determine o valor do Fluxo de Caixa Líquido da Atividade de Investimento da Cia. Comercial Complexa e Extensa, apresentado na Demonstração dos Fluxos de Caixa, apurada em 30/06/2005.

- (A) \$ 91.075,00 negativos
- (B) \$ 90.000,00 negativos
- (C) \$ 60.000,00 negativos
- (D) \$ 13.800,00 positivos
- (E) \$ 113.800,00 positivos

**29**

De acordo com o Ofício-Circular CVM/SNC/SEP 01/06, determine o Valor Adicionado Total a Distribuir da Cia. Comercial Complexa e Extensa, apresentado na Demonstração do Valor Adicionado, apurada em 30/06/2005.

- (A) \$ 4.300,00
- (B) \$ 13.500,00
- (C) \$ 14.700,00
- (D) \$ 20.500,00
- (E) \$ 21.500,00

**30**

Cia. Industrial e Comercial NECC apurou a contagem física de seu estoque (inventário) em 31/12/2005. Segundo identificado, seu estoque estava avaliado a \$ 500.000,00, antes de qualquer ajuste eventualmente necessário para os seguintes eventos:

- mercadorias adquiridas por \$ 60.000,00, na modalidade "à disposição do comprador no estabelecimento do vendedor" (*free on board* no embarque), embarcaram no dia 30/12/2005 e só chegaram ao estabelecimento da Cia. Comercial NECC no dia 06/01/2006;
- produtos em elaboração foram remetidos, em 15/12/2005, para beneficiamento numa terceira empresa, a Beneficiamentos Terceirizados Ltda. Esses produtos estavam avaliados ao custo de \$ 30.000,00 e só retornaram ao estabelecimento da Cia. Industrial e Comercial NECC no dia 04/01/2006.

Com base, somente, nessas informações, apure o valor do Estoque Final da Cia. Industrial e Comercial NECC, em 31/12/2005.

- (A) \$ 440.000,00
- (B) \$ 500.000,00
- (C) \$ 530.000,00
- (D) \$ 560.000,00
- (E) \$ 590.000,00

**31**

A Cia. Comercial Norte-Nordeste adquiriu, em 29/12/2005, mercadorias pelo custo de \$ 50.000,00. Os termos do contrato de compra previam que o vendedor traria as mercadorias ao estabelecimento da Cia. Comercial Norte-Nordeste (CIF ou FOB destino). O transporte custou:

- \$ 200,00 de empacotamento;
- \$ 500,00 de frete.

Essas mercadorias foram recebidas pela Cia. Comercial Norte-Nordeste no dia 31/12/2005.

No Balanço Patrimonial da Cia. Norte-Nordeste, apurado em 31/12/2005, qual valor deve ter sido adicionado aos Estoques?

- (A) zero.
- (B) \$ 50.000,00.
- (C) \$ 50.200,00.
- (D) \$ 50.500,00.
- (E) \$ 50.700,00.

**32**

A Cia. Comercial Phonetel é uma loja de aparelhos celular. Em agosto de 1995 comprou da Motorotel 100 unidades de aparelhos analógicos por \$ 100,00 cada, e esperava revendê-los por \$ 300,00 cada.

Ocorre que, em setembro de 1995, quando a Cia. Comercial Phonetel ainda tinha 80 unidades daquele aparelho analógico em estoque, surgiu a tecnologia de aparelhos digitais. Em função desse avanço tecnológico, a Motorotel passou a vender (aos revendedores) os antigos aparelhos analógicos por \$ 40,00 a unidade, e os novos aparelhos digitais por \$ 180,00 cada. Por outro lado, a Cia. Comercial Phonetel baixou o preço de venda dos antigos aparelhos analógicos, passando a revendê-los por \$ 110,00 cada.

Considere que todas as transações são à vista, que não há impostos, e que a Motorotel não tem nenhuma obrigação contratual (nem legal) de substituir o estoque de aparelhos analógicos de seus revendedores por aparelhos digitais.

Determine o valor da provisão para redução ao valor de mercado que a Cia. Comercial Phonetel deve reconhecer em seu Ativo Circulante para atender à regra do "Custo ou Mercado – dos dois o menor".

- (A) zero
- (B) \$ 10,00
- (C) \$ 60,00
- (D) \$ 290,00
- (E) \$ 4.800,00

**33**

A Cia. Phillipe-Cruz, fabricante de cigarros, costuma comprar todas as folhas de tabaco fornecidas por seus produtores rurais na época da safra (março de cada ano), mesmo que tal quantidade seja superior à estimativa de consumo no processo produtivo de um ano (até a safra do próximo ano), porque, dessa forma, a empresa aproveita o baixo preço e armazena a matéria-prima em silos de última geração que lhe permitem manter as folhas de tabaco por 10 anos, preservando as características originais.

Considere que, no início de março de 2006 (antes da safra), a Cia. Phillipe-Cruz tinha em estoque de matéria-prima 100kg de folhas de tabaco, avaliados pelo valor total de \$ 10.000,00.

No mês de março de 2006, a safra foi excelente, e a Cia. Phillipe-Cruz comprou de seus produtores rurais 1 000kg de folhas de tabaco ao valor total de \$ 111.000,00.

Quando chega em 31/12/2006, o gerente do almoxarifado da Cia. Phillipe-Cruz identifica que foram consumidos efetivamente 450kg de folhas de tabaco no processo produtivo. Nessa mesma data, o diretor de produção verifica no orçamento que a estimativa de consumo de folhas de tabaco para o próximo ano (2007) é de 530kg.

Ignore qualquer tributo e considere, somente, as informações apresentadas neste enunciado.

Considerando que a Cia. Phillipe-Cruz avalia seu estoque de matéria-prima pelo critério PEPS, determine o valor do estoque de matéria-prima (folhas de tabaco) classificado no Realizável a Longo Prazo.

- (A) zero
- (B) \$ 13.200,00
- (C) \$ 13.320,00
- (D) \$ 71.500,00
- (E) \$ 72.150,00

**34**

A Cia. Industrial 501 S/A só fabrica o produto JSC, tem uma capacidade instalada que lhe permite produzir, no máximo, 2.000 unidades do produto JSC, por mês. Em janeiro de 2006, a Cia. Industrial 501 S/A incorreu nos seguintes gastos:

- matéria-prima direta: \$ 7,00 por unidade de JSC fabricada;
- mão-de-obra direta: \$ 3,00 por unidade de JSC fabricada;
- aluguel do parque fabril: \$ 9.000,00 por mês;
- salário dos diretores: \$ 12.000,00 por mês;
- força, luz, água e esgoto: \$ 16.000,00 por mês.

Sabendo-se que o preço de venda de cada unidade do produto JSC é \$ 40,00 e considerando, somente, essas informações, e sem considerar, portanto, a legislação tributária, determine a quantidade de produtos JSC que a Cia. Industrial 501 S/A precisa fabricar e vender por mês para ter um lucro operacional mensal de \$ 20.000,00.

- (A) Não adianta, sempre vai apurar prejuízo.
- (B) 1.234 unidades (valor arredondado)
- (C) 1.728 unidades (valor arredondado)
- (D) 1.900 unidades
- (E) 2.000 unidades

**35**

Com relação à classificação dos custos quanto ao volume (também chamada de classificação quanto à formação), analise as afirmativas a seguir:

- I. Quanto ao volume, os custos são classificados em direto e indireto.
- II. O custo fixo unitário varia inversamente ao volume produzido.
- III. O custo variável total varia proporcionalmente ao volume produzido.

Assinale:

- (A) se somente a afirmativa I estiver correta.
- (B) se somente a afirmativa II estiver correta.
- (C) se somente a afirmativa III estiver correta.
- (D) se somente as afirmativas I e III estiverem corretas.
- (E) se somente as afirmativas II e III estiverem corretas.

**36**

Determinada empresa mercantil vendeu mercadorias a prazo (por \$ 20.000,00) para um cliente muito especial, de forma que lhe concedeu 20 meses de prazo de pagamento, ou seja, a venda efetuada (30/11/2005) será cobrada numa única parcela, somente em 02/07/2007.

Considerando que o departamento financeiro estima que a probabilidade de esse cliente não honrar sua dívida é de 10%, determine o valor e a classificação da Provisão para Créditos de Liquidação Duvidosa (PCLD) no Balanço Patrimonial apurado em 31/12/2005.

- (A) Não se deve contabilizar a PCLD, porque não é mais dedutível do Imposto de Renda.
- (B) Não se deve contabilizar a PCLD, porque 10% não são relevantes.
- (C) Deve-se contabilizar a PCLD no valor de \$ 2.000,00, como retificadora do Ativo Circulante.
- (D) Deve-se contabilizar a PCLD no valor de \$ 2.000,00, sendo \$ 1.200,00 como retificadora do Ativo Circulante e \$ 800,00 como retificadora do Realizável a Longo Prazo.
- (E) Deve-se contabilizar a PCLD no valor de \$ 2.000,00, como retificadora do Realizável a Longo Prazo.

**37**

A Cia. Industrial Máquina Velha tem um parque fabril composto por máquinas adquiridas em janeiro de 1998 por \$ 100.000,00 (à vista), as quais são depreciadas pelo método da linha reta – cotas constantes (desde a data de aquisição), estimando-se o tempo de vida útil de 10 (dez) anos e valor residual nulo.

Em 31/12/2005, a Cia. Industrial Máquina Velha resolveu reavaliar seu Ativo Imobilizado e identificou que tais máquinas valem \$ 30.000,00.

De acordo com a Lei 6.404/76 e com os critérios estabelecidos pela Deliberação CVM 183/95, determine o acréscimo líquido que a reavaliação gerou no Patrimônio Líquido da Cia. Industrial Máquina Velha, em 31/12/2005. (Considere que a Cia. Industrial Máquina Velha é contribuinte do IR à alíquota de 25% e ignore quaisquer outros tributos e informações.)

- (A) zero
- (B) \$ 7.500,00
- (C) \$ 10.000,00
- (D) \$ 20.000,00
- (E) \$ 30.000,00

**38**

De acordo com a Lei 6.404/76 e com os limites estabelecidos pela Deliberação CVM 183/95, analise as afirmativas a seguir:

- I. A reavaliação é permitida para todo e qualquer item do ativo permanente imobilizado.
- II. A reavaliação só é permitida para os itens tangíveis do ativo permanente imobilizado.
- III. A reavaliação corresponde à diferença entre o valor de realização e o valor contábil do bem ora reavaliado.

Assinale:

- (A) se somente a alternativa I estiver correta.
- (B) se somente a alternativa II estiver correta.
- (C) se somente a alternativa III estiver correta.
- (D) se somente as alternativas I e III estiverem corretas.
- (E) se somente as alternativas II e III estiverem corretas.

**39**

Sabendo-se que:

- a Cia. ORA participa na Cia. A com somente 8 ações ordinárias (com direito a voto);
- a Cia. ORA participa na Cia. B com somente 60 ações preferenciais (sem direito a voto);
- o Patrimônio Líquido da Cia. ORA está avaliado a \$ 100.000,00;
- a participação que a Cia. ORA tem na Cia. A lhe custou \$ 1.000,00 e não lhe permite preponderar nas deliberações sociais nem o poder de eleger a maioria dos administradores, apenas um administrador;
- a participação que a Cia. ORA tem na Cia. B lhe custou \$ 3.000,00 e não lhe permite preponderar nas deliberações sociais nem o poder de eleger a maioria dos administradores;
- a Cia. ORA tem créditos não vinculados à atividade operacional, de \$ 8.000,00 contra a Cia. B;
- o Capital Social da Cia. A é composto por 100 ações, sendo 50 ações ordinárias (com direito a voto) e 50 ações preferenciais (sem direito a voto);
- o Capital Social da Cia. B é composto por 100 ações, sendo 40 ações ordinárias (com direito a voto) e 60 ações preferenciais (sem direito a voto);
- os investimentos da Cia. ORA nas Cias. A e B são permanentes; determine qual método (Equivalência Patrimonial ou Custo de Aquisição ou Marcação a Mercado) a Cia. ORA deverá utilizar na avaliação dos investimentos na Cia. A e na Cia. B, respectivamente, de acordo com a Lei 6.404/76 e com as interpretações dadas pelas Deliberações CVM 247/96, 269/97, 285/98 e 408/04.

- (A) equivalência patrimonial e equivalência patrimonial
- (B) custo de aquisição e custo de aquisição
- (C) equivalência patrimonial e custo de aquisição
- (D) custo de aquisição e equivalência patrimonial
- (E) marcação a mercado e equivalência patrimonial



**40**

De acordo com a Lei 6.404/76 e com as interpretações dadas pelas Deliberações CVM 247/96, 269/97, 285/98 e 408/04, analise as afirmativas a seguir:

- I. Considera-se equiparada à coligada a sociedade na qual se participa, direta ou indiretamente, com pelo menos 10% do capital votante, sem controlá-la.
- II. Considera-se coligada a sociedade na qual se participa com pelo menos 10% do capital votante, sem controlá-la.
- III. Considera-se equiparada à coligada a sociedade na qual se participa indiretamente com pelo menos 10% do capital social, sem controlá-la.

Assinale:

- (A) se somente a alternativa I estiver correta.
- (B) se somente a alternativa II estiver correta.
- (C) se somente a alternativa III estiver correta.
- (D) se somente as alternativas I e II estiverem corretas.
- (E) se somente as alternativas I e III estiverem corretas.

**41**

De acordo com a Lei 6.404/76 e com as interpretações dadas pelas Deliberações CVM 247/96, 269/97, 285/98 e 408/04, é correto afirmar que o método da equivalência patrimonial é obrigatório:

- (A) para investimentos em todas as coligadas (e/ou equiparadas) nas quais se tenha influência e em todas as controladas.
- (B) para investimentos nas coligadas (e/ou equiparadas) nas quais se tenha influência e nas controladas, desde que esses investimentos sejam relevantes.
- (C) para investimentos em todas as coligadas (e/ou equiparadas) e em todas as controladas.
- (D) para investimentos relevantes nas coligadas (e/ou equiparadas) nas quais se tenha influência e para investimentos nas controladas.
- (E) somente para investimentos relevantes nas controladas.

**42**

No caso de auditoria em demonstrações contábeis de empresas que possuam controladas e/ou coligadas, utilizadas para fins de consolidação e/ou contabilização dos investimentos pelo método da equivalência patrimonial, o auditor da controladora deverá efetuar o seguinte procedimento:

- (A) obrigatoriamente, ele mesmo deve efetuar procedimentos de auditoria nas demonstrações contábeis das empresas controladas e/ou coligadas para emitir seu parecer.
- (B) não é preciso efetuar procedimentos de auditoria nem mencionar no parecer as empresas controladas e/ou coligadas uma vez que o auditor foi somente contratado para auditar a empresa controladora.
- (C) o parecer da empresa controladora deverá conter ressalva caso as demonstrações contábeis das empresas controladas e/ou coligadas sejam auditadas por profissionais de outra empresa de auditoria.
- (D) expressar sua opinião no parecer da controladora e/ou investidora baseando-se no parecer de outro auditor sobre as demonstrações contábeis das controladas e/ou coligadas, destacando tal fato em seu parecer.
- (E) expressar sua opinião no parecer da controladora e/ou investidora baseando-se no parecer de outro auditor sobre as demonstrações contábeis das controladas e/ou coligadas, assumindo em seu parecer a responsabilidade sobre essas empresas.

**43**

Assinale a alternativa que apresente o procedimento que deve ser efetuado pelo auditor independente que, após a execução de seus trabalhos, conclui que existem dúvidas em relação à continuidade das operações da empresa auditada.

- (A) O auditor deverá mencionar a preocupação com a continuidade das operações da empresa aos seus diretores, sem, entretanto, mencioná-las em seu parecer.
- (B) Como não existe certeza de que a empresa será liquidada, o auditor ainda não pode mencionar esse fato no parecer.
- (C) O auditor deve mencionar logo no primeiro parágrafo de seu parecer a preocupação existente em relação à continuidade da empresa.
- (D) Em função da incerteza, o auditor não poderá emitir um parecer sobre as demonstrações contábeis.
- (E) O auditor deve, pelo menos, mencionar em seu parecer um parágrafo de ênfase que explique sua preocupação em relação ao futuro da empresa, após o parágrafo de opinião.

**Com base no enunciado a seguir, responda às questões 44 e 45.**

Em 31/12/2005, a Cia. Investida apurou o seguinte Balanço Patrimonial:

Investida		31/12/2005	
<b>Ativo Circulante</b>	<b>15.000,00</b>	<b>Passivo Circulante</b>	<b>2.000,00</b>
Disponibilidades	10.000,00	Salários a pagar	2.000,00
Estoques	5.000,00		
		<b>Patrimônio Líquido</b>	<b>18.000,00</b>
<b>Permanente Imob.</b>	<b>5.000,00</b>	Capital Social	10.000,00
Terreno	5.000,00	Lucros acumulativos	8.000,00
<b>Total do ATIVO</b>	<b>20.000,00</b>	<b>PASSIVO + PL</b>	<b>20.000,00</b>

Sabe-se que, nesse ano, a Cia. Investida vendeu, à vista, mercadorias à Cia. Investidora por \$ 10.000,00, que haviam lhe custado \$ 4.000,00.

Sabe-se, também, que a Cia. Investidora participa com 80% do Capital Social da Cia. Investida, sua controlada e única empresa na qual tem participação societária.

Em 31/12/2005, antes da apuração da Equivalência Patrimonial, o Balanço Patrimonial da Cia. Investidora estava da seguinte forma:

Investidora		31/12/2005 antes da Equivalência Patrimonial	
<b>Ativo Circulante</b>	<b>15.000,00</b>	<b>Passivo Circulante</b>	<b>1.000,00</b>
Disponibilidades	8.000,00	Salários a pagar	1.000,00
Estoques	7.000,00		
		<b>Patrimônio Líquido</b>	<b>24.000,00</b>
<b>Permanente Invest.</b>	<b>10.000,00</b>	Capital Social	15.000,00
Partic. Societária	10.000,00	Lucros acumulativos	9.000,00
<b>Total do ATIVO</b>	<b>25.000,00</b>	<b>PASSIVO + PL</b>	<b>25.000,00</b>

Sabe-se, ainda, que o Estoque da Cia. Investidora, em 31/12/2005, era integralmente composto pelas mercadorias adquiridas da Cia. Investida, durante o ano de 2005.

**44**

Determine o valor do saldo da conta Ativo Permanente Investimento Participação Societária apurado no Balanço Patrimonial da Cia. Investidora, em 31/12/2005, após o eventual ajuste necessário para se reconhecer a Equivalência Patrimonial no investimento da Cia. Investida.

- (A) \$ 10.000,00
- (B) \$ 10.200,00
- (C) \$ 14.400,00
- (D) \$ 14.800,00
- (E) \$ 18.000,00

**45**

Determine o saldo da conta Estoque apresentado no Balanço Patrimonial Consolidado apurado em 31/12/2005. (Mensure tal valor pelo método pleno de consolidação.)

- (A) \$ 5.000,00
- (B) \$ 7.000,00
- (C) \$ 7.800,00
- (D) \$ 9.200,00
- (E) \$ 12.000,00

**TECNOLOGIA DA INFORMAÇÃO**

**46**

Como elemento principal de um sistema de computação, a CPU é responsável por processar dados. Ela é constituída dos seguintes componentes:

- (A) memória principal, coprocessador aritmético, registradores externos e barramentos de interconexão.
- (B) memória principal, unidade lógica e aritmética, registradores internos e barramentos de interconexão.
- (C) unidade de controle, unidade lógica e aritmética, registradores internos e mecanismos de interconexão.
- (D) unidade de controle, coprocessador aritmético, registradores externos e barramentos de interconexão.
- (E) unidade de controle, coprocessador aritmético, registradores internos e mecanismos barramentos de interconexão.

**47**

Os computadores possuem um mecanismo por meio do qual componentes distintos do processador podem interromper a seqüência normal de execução de instruções do processador. Mecanismo de interrupções visa, principalmente, a melhorar a eficiência de processamento. Nesse contexto, observe a citação abaixo:

*"Uma classe de interrupção acontece quando é gerada por alguma condição que ocorra como resultado da execução de uma instrução, tal como overflow em uma operação aritmética, divisão por zero, tentativa de executar uma instrução de máquina ilegal e referência a um endereço de memória fora do espaço de endereçamento de programa."*

A citação acima se refere a uma classe denominada interrupção de:

- (A) falha de hardware.
- (B) entrada e saída.
- (C) memória.
- (D) software.
- (E) relógio.

**48**

Um funcionário da Secretaria de Fazenda do Mato Grosso do Sul está trabalhando com três aplicações abertas no ambiente Windows XP, a primeira no Word 2002 BR, a segunda no Excel 2002 BR e a terceira no navegador Internet Explorer. Para passar de uma aplicação a outra, o Windows XP oferece dois recursos:

- I. o primeiro, executado por meio da escolha de um dos ícones existentes em uma janela de diálogo mostrada na tela do monitor, quando se aciona um determinado atalho de teclado; e
- II. o segundo, que leva à aplicação desejada diretamente, sem apresentação da janela de opções.

Para as duas situações acima apresentadas, os atalhos de teclado são executados, respectivamente, pressionando-se simultaneamente <Alt> e as teclas:

- (A) <Esc> e <Tab>.
- (B) <Tab> e <Esc>.
- (C) <End> e <Del>.
- (D) <Del> e <End>.
- (E) <Esc> e <Del>.

**49**

No contexto dos sistemas operacionais, a memória virtual representa um recurso que tem por finalidade permitir que programas usem mais espaço de endereçamento que a memória física da máquina ou para prover um mecanismo de proteção de memória consistente e flexível. Esse recurso é implementado por meio das seguintes técnicas:

- (A) segmentação e paginação.
- (B) paginação e paralelismo.
- (C) paralelismo e escalonamento.
- (D) escalonamento e multitarefa.
- (E) multitarefa e segmentação.

**50**

No Linux, um comando permite ver a capacidade de armazenamento da área de swap. Para exibir a quantidade de espaço disponível em megabytes, deve-se usar o comando:

- (A) swap -p.
- (B) show -a.
- (C) mem -s.
- (D) rm -t.
- (E) df -m.

**51**

Observe a planilha abaixo, elaborada no Excel 2002 BR e considere que foram inseridas as fórmulas =SOMA(C2;E2) e =MOD(H2;5), respectivamente nas células H2 e J2 .

	A	B	C	D	E	F	G	H	I	J	K
1											
2		Valores	13	7	5		Soma				
3											

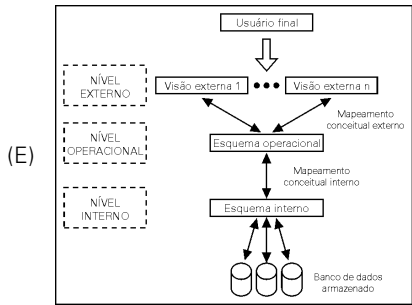
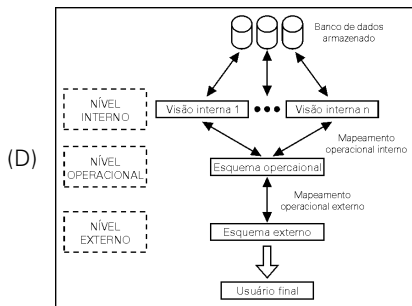
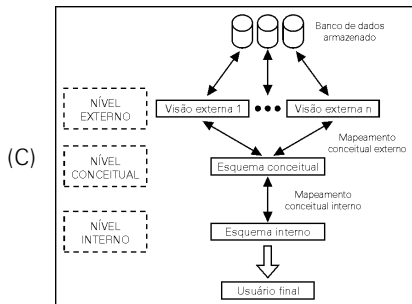
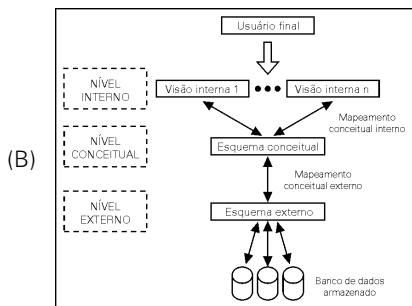
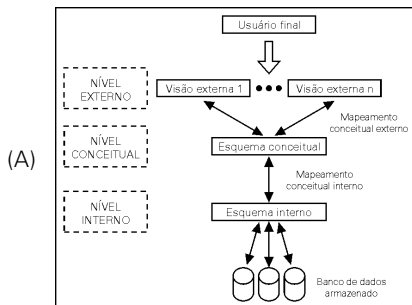
Ao se alterar o conteúdo da célula C2 para 19, a célula J2 apresentará o seguinte valor:

- (A) 0
- (B) 1
- (C) 2
- (D) 3
- (E) 4



**61**

No que diz respeito aos Sistemas Gerenciadores de Banco de Dados – SGBD, o principal objetivo da arquitetura "três esquemas" é separar as aplicações do usuário do banco de dados físico. Das alternativas apresentadas, a figura que representa essa arquitetura está indicada em:



**62**

Numa rede, implementada segundo o padrão Ethernet IEEE-802.3, quando uma colisão é detectada, as estações transmissoras executam o seguinte procedimento:

- (A) param imediatamente de transmitir.
- (B) trocam informações de sincronismo.
- (C) passam a transmitir mais rapidamente.
- (D) retransmitem os pacotes que provocaram a colisão.
- (E) enviam pacotes de controle para as demais estações.

**63**

No processo de instalação, o Windows 2000 Server suporta os seguintes tipos de organizações de arquivos:

- (A) NTFS, NFS e EXT3.
- (B) NFS, EXT3 e FAT.
- (C) EXT3, FAT e FAT32.
- (D) FAT, FAT32 e NTFS.
- (E) FAT32, NTFS e NFS.

**64**

No contexto da criptografia, um método emprega um tipo de chave, em que o emissor e o receptor fazem uso da mesma chave, usada tanto na codificação como na decodificação da informação. Esse método é conhecido por:

- (A) assinatura digital.
- (B) assinatura cifrada.
- (C) chave simétrica.
- (D) chave primária.
- (E) chave assimétrica.

**65**

Na implementação de redes locais de computadores padrão Token Ring, uma topologia apresenta como características que:

- I. as estações funcionam como repetidores;
- II. um sentido unidirecional é utilizado para transmissão da informação.

Esta topologia é conhecida por:

- (A) barramento.
- (B) anel.
- (C) estrela.
- (D) radial.
- (E) distribuída.

**ESTATÍSTICA**

**66**

O relativo de preços de março de 2006 com base 100 em fevereiro de 2006 é 125. Qual é o relativo de preços de fevereiro de 2006 com base 100 em março de 2006?

- (A) 72
- (B) 75
- (C) 80
- (D) 85
- (E) 90

**67**

Em um teste de hipóteses, a hipótese nula foi rejeitada no nível de 3%. Portanto, a hipótese nula:

- (A) será aceita no nível de 1%.
- (B) será aceita no nível de 5%.
- (C) pode ser aceita ou rejeitada no nível de 5%.
- (D) será rejeitada no nível de 1%.
- (E) será rejeitada no nível de 5%.

**68**

Analisar as afirmativas a seguir, a respeito da mediana:

- I. A soma dos resíduos em relação à mediana é sempre igual a zero.
- II. É em relação à mediana que a soma dos valores absolutos dos resíduos é mínima.
- III. É em relação à mediana que a soma dos quadrados dos resíduos é mínima.

Assinale:

- (A) se somente a afirmativa II estiver correta.
- (B) se somente as afirmativas I e II estiverem corretas.
- (C) se somente as afirmativas I e III estiverem corretas.
- (D) se somente as afirmativas II e III estiverem corretas.
- (E) se todas as afirmativas estiverem corretas.

**69**

Um teste de hipótese apresentou p-valor igual a 0,03. Portanto, nos níveis de significância de 1% e 5%, respectivamente, a hipótese nula:

- (A) deve ser aceita e aceita.
- (B) deve ser aceita e rejeitada.
- (C) deve ser rejeitada e aceita.
- (D) deve ser rejeitada e rejeitada.
- (E) pode ou não ser rejeitada, dependendo de a hipótese ser simples ou não.

**70**

Analisar as afirmativas a seguir, a respeito de duas variáveis aleatórias X e Y:

- I. se X e Y são independentes, então  $Cov(X;Y) = 0$ ;
- II. se  $Cov(X;Y) = 0$ , então X e Y são independentes;
- III. se X e Y são independentes, então  $E(XY) = E(X).E(Y)$ ;
- IV. se  $E(XY) = E(X).E(Y)$ , então X e Y são independentes.

Assinale:

- (A) se nenhuma afirmativa estiver correta.
- (B) se somente as afirmativas I e III estiverem corretas.
- (C) se somente as afirmativas I e IV estiverem corretas.
- (D) se somente as afirmativas II e IV estiverem corretas.
- (E) se todas as afirmativas estiverem corretas.

**O enunciado a seguir refere-se às questões de números 71 e 72.**

Uma amostra aleatória simples de tamanho 25 foi selecionada para estimar a média desconhecida de uma população normal. A média amostral encontrada foi 4,2, e a variância amostral foi 1,44.

**71**

O intervalo de 95% de confiança para a média populacional é:

- (A)  $4,2 \pm 0,49$
- (B)  $4,2 \pm 0,64$
- (C)  $4,2 \pm 0,71$
- (D)  $4,2 \pm 0,75$
- (E)  $4,2 \pm 0,81$

**72**

O intervalo de 95% de confiança para a variância populacional é:

- (A) (0,88, 2,79)
- (B) (0,72, 3,05)
- (C) (0,64, 3,20)
- (D) (0,55, 3,16)
- (E) (0,44, 3,44)

**73**

Se X tem distribuição normal com média 4 e variância 9, a probabilidade de  $X > 6$  vale, aproximadamente:

- (A) 0,25
- (B) 0,28
- (C) 0,33
- (D) 0,37
- (E) 0,46

**O enunciado a seguir refere-se às questões de números 74, 75 e 76.**

A tabela a seguir mostra os resultados obtidos em Matemática por três turmas:

	Aprovados	Reprovados	Total
Turma X	30	10	40
Turma Y	35	5	40
Turma Z	15	5	20
<b>Total</b>	<b>80</b>	<b>20</b>	<b>100</b>

Desejamos testar, usando o teste qui-quadrado:

$H_0$ : os seis resultados possíveis têm probabilidades iguais *versus*

$H_1$ : os seis resultados possíveis não têm probabilidades iguais.

**74**

O valor observado da estatística qui-quadrado é, aproximadamente:

- (A) 1,16
- (B) 2,34
- (C) 3,44
- (D) 4,66
- (E) 5,58

**75**

O número de graus de liberdade é:

- (A) 2
- (B) 3
- (C) 4
- (D) 6
- (E) 99

**76**

Nos níveis de 1%, 5% e 10%, a decisão sobre  $H_0$  é:

	$\alpha = 1\%$	$\alpha = 5\%$	$\alpha = 10\%$
(A)	não rejeitar	não rejeitar	não rejeitar
(B)	não rejeitar	não rejeitar	rejeitar
(C)	não rejeitar	rejeitar	rejeitar
(D)	rejeitar	rejeitar	não rejeitar
(E)	rejeitar	rejeitar	rejeitar

**77**

Uma amostra aleatória de tamanho 400 revelou que 64% dos torcedores brasileiros acham que conquistaremos o hexacampeonato mundial de futebol. O intervalo de 95% de confiança para a proporção de torcedores na população que acreditam no hexacampeonato é:

- (A)  $64\% \pm 3,9\%$
- (B)  $64\% \pm 4,2\%$
- (C)  $64\% \pm 4,7\%$
- (D)  $64\% \pm 5,1\%$
- (E)  $64\% \pm 5,6\%$

### 78

Analise as afirmativas a seguir, a respeito da média aritmética:

- I. A soma dos resíduos em relação à média aritmética é sempre igual a zero.
- II. É em relação à média aritmética que a soma dos valores absolutos dos resíduos é mínima.
- III. É em relação à média aritmética que a soma dos quadrados dos resíduos é mínima.

Assinale:

- (A) se somente a afirmativa II estiver correta.
- (B) se somente as afirmativas I e II estiverem corretas.
- (C) se somente as afirmativas I e III estiverem corretas.
- (D) se somente as afirmativas II e III estiverem corretas.
- (E) se todas as afirmativas estiverem corretas.

**O enunciado a seguir refere-se às questões de números 79 e 80.**

Considere uma cesta formada por dois bens:

**Bem 1**

Preço Jan	Preço Fev	Quant Jan	Quant Fev
80	100	50	80

**Bem 2**

Preço Jan	Preço Fev	Quant Jan	Quant Fev
75	100	60	60

### 79

O índice de preços de Laspeyres de fevereiro com base 100 em janeiro é igual a:

- (A) 115
- (B) 118
- (C) 123
- (D) 125
- (E) 129

### 80

O índice de preços de Paasche de fevereiro com base 100 em janeiro é igual a:

- (A) 115
- (B) 118
- (C) 123
- (D) 125
- (E) 128





F U N D A Ç Ã O  
GETULIO VARGAS

---

**FGV PROJETOS**

<http://concurso.fgv.br>