



PREFEITURA MUNICIPAL DE RIO LARGO

CONCURSO PÚBLICO

CARGO de Nível Superior

CONTADOR

PROVA TIPO

1

**Provas de Português, Raciocínio Lógico,
Geografia e História de Rio Largo e Conhecimentos Específicos.**

INSTRUÇÕES GERAIS

1. Este Caderno de Questões somente deverá ser aberto quando for autorizado pelo Fiscal.
2. **Assine** neste Caderno de Questões e coloque o número do seu documento de identificação.
3. Ao ser autorizado o início da prova, verifique se a numeração das questões e a paginação estão corretas. Verifique também, se contém 50 (cinquenta) questões objetivas com 05 (cinco) alternativas cada, caso contrário comunique imediatamente ao Fiscal.
4. Você dispõe de **3h** (três horas) para fazer esta prova. Faça-a com tranquilidade, mas **controle seu tempo**. Esse **tempo** inclui a marcação da **Folha de Respostas** das questões objetivas. Você somente poderá sair em definitivo do Local de Prova após decorridas **2h** (duas horas) do seu início.
5. Ao receber a **Folha de Respostas**, confira seu **nome, número do seu documento de identificação e cargo escolhido**.
6. Em hipótese alguma lhe será concedida outra Folha de Respostas.
7. Preencha a **Folha de Respostas** utilizando caneta esferográfica de tinta azul ou preta. Na **Folha de Respostas**, preencha completamente o círculo correspondente à alternativa escolhida, conforme modelo:

	A	B	C	D	E
1	<input type="radio"/>	<input type="radio"/>	<input type="radio"/>	<input checked="" type="radio"/>	<input type="radio"/>
8. Será atribuído o valor ZERO à questão que contenha na Folha de Respostas de questões objetivas: dupla marcação, marcação rasurada ou emendada, não preenchida totalmente ou que não tenha sido transcrita.
9. A correção da prova objetiva será efetuada de forma eletrônica e considerando-se apenas o conteúdo da **Folha de Respostas**.
10. Caso a Comissão julgue uma questão como sendo nula, seus pontos serão atribuídos à todos os candidatos.
11. Não será permitida qualquer espécie de consulta.
12. Ao terminar a prova, devolva ao Fiscal de Sala este **Caderno de Questões**, juntamente com a **Folha de Respostas** e assine a **Lista de Presença**.
13. Nas salas que apresentarem apenas um fiscal, os 3(três) últimos candidatos somente poderão ausentar-se juntos da sala de prova, após assinatura da Ata de Encerramento.

Boa Prova!

Nº do documento de identificação:

Assinatura do(a) candidato(a):



FUNDEPES

Rio Largo/AL, 23 de maio de 2010.



PORTUGUÊS

As questões de 1 a 3 referem-se ao texto seguinte.

1 No ensino, como em outras coisas, a liberdade deve
 3 ser questão de grau. Há liberdades que não podem ser
 5 toleradas. Uma vez conheci uma senhora que afirmava não
 7 se dever proibir coisa alguma a uma criança, pois deve
 9 desenvolver sua natureza de dentro para fora. “E se a sua
 11 natureza a levar a engolir alfinetes?” indaguei [...]. No
 13 entanto, toda criança abandonada a si mesma, mais cedo
 15 ou mais tarde, engolirá alfinetes, tomará veneno, cairá de
 17 uma janela alta ou doutra forma chegará a mau fim. Um
 pouquinho mais velhos, os meninos, podendo, não se
 lavam, comem demais, fumam até enjoar, apanham
 resfriados por molhar os pés, e assim por diante – além do
 fato de se divertirem importunando anciãos [...]. Quem
 advoga a liberdade da educação não quer dizer que as
 crianças devam fazer, o dia todo, o que lhes der na veneta.
 Deve existir um elemento de disciplina e autoridade; a
 questão é até que ponto, e como deve ser exercido.
 (Bertrand Russell)

1. Dadas as proposições seguintes,

- I. Um dos limites a serem atribuídos à liberdade é a integridade física da criança.
- II. A autonomia dada a uma criança deve estar associada à disciplina e à autoridade.
- III. A essência do texto é mostrar que as pessoas não sabem usar a liberdade.
- IV. A liberdade constitui valor absoluto, cabendo a cada um saber regular esta.

quais são verdadeiras?

- A) I e II, apenas.
- B) II e III, apenas.
- C) I e IV, apenas.
- D) II, III e IV.
- E) I, II e III.

2. Qual a função sintática das expressões **de grau** (linha 2), **os meninos** (linha 10) e **da educação** (linha 14), respectivamente?

- A) objeto indireto – sujeito – complemento nominal
- B) adjunto adnominal – aposto – complemento nominal
- C) objeto indireto – sujeito – adjunto adnominal
- D) complemento nominal – aposto – adjunto adnominal
- E) complemento nominal – sujeito – complemento nominal

3. O texto pode ser entendido como

- A) descritivo e dissertativo, pela transmissão da imagem de uma cena e apresentação de elementos argumentativos.
- B) narrativo, pelo diálogo que houve entre o autor e uma senhora.
- C) descritivo, porque expõe uma sequência de ações realizadas pelas crianças.
- D) dissertativo, porque há a exposição de um ponto de vista.
- E) narrativo e dissertativo, pela mistura de ocorrências e exposição de fatos e ideias.

As questões de 4 e 5 referem-se ao texto seguinte.

O homem vive entre diversos tipos de temporalidade. Na realidade, há uma percepção intuitiva de que os múltiplos sentidos de tempo se entrecruzam na vida cotidiana. A percepção mecânica objetiva, definida pelos relógios e calendários orienta nossas atividades rotineiras. Estabelece ritmos e nos auxilia operacionalmente a definir prazos e compromissos. Em um sentido consensual geral, o tempo determinado espacialmente pelos cronômetros, pela periodicidade dos meses e das estações do ano ou pela delimitação de períodos ou eras é uma abstração. O homem ocidental subordina-se pragmaticamente às suas determinações – horas, minutos, segundos, meses, anos... – e orienta as ações de acordo com sua imagem de continuidade e progressão (KENSKI, Vani Moreira. *Tecnologias e ensino presencial e a distância*. Campinas: Papyrus, 2003, p. 31).

4. Para a autora, a percepção mecânica do tempo

- A) provoca os entrecruzamentos instintivos.
- B) reformula os paradigmas sociais.
- C) estabelece formas sociais inusitadas.
- D) determina as ações cotidianas.
- E) dimensiona as ações intuitivas.

5. O parecer sobre a temporalidade está centrado numa contradição, num paradoxo. Essa assertiva pode ser vista em:

- A) o homem vive em diversas concepções de tempo.
- B) o tempo objetivo define as rotinas cotidianas.
- C) o homem ocidental está atrelado ao sentido de tempo cronológico.
- D) a sociedade humana encaminha-se pragmaticamente pela linha do tempo.
- E) a concepção objetiva de tempo é também uma abstração.

As questões 6 e 7 referem-se ao texto seguinte.

Como seriam as coisas e as pessoas antes que lhes tivéssemos dado o sentido de nossa esperança e visão humanas? Devia ser terrível. Chovia, as coisas se ensopavam sozinhas e secavam, e depois ardiavam ao sol e se crestavam em poeira. Sem dar ao mundo o nosso sentido humano, como me assusto. Tenho medo da chuva, quando a separo da cidade e dos guarda-chuvas abertos, e dos campos se embebendo de água (Clarice Lispector).

6. Na oração “Sem dar ao mundo o nosso sentido humano”, o verbo

- A) suprime os complementos.
- B) é complementado por objeto direto e objeto indireto.
- C) é intransitivo.
- D) é acompanhado apenas por um adjunto adverbial.
- E) é complementado por um objeto indireto.



7. O excerto “Chovia, as coisas se ensopavam sozinhas e secavam, e depois ardiavam ao sol e se crestavam em poeira” pode ser reescrito sem desvio de sentido nem subversão da norma culta na opção:

- A) Chovia. Ensopava-se as coisas sozinhas e secavam, depois ardiavam ao sol e se crestavam em poeira.
- B) Chovia, mas as coisas se ensopavam sozinhas, depois secavam, ardiavam ao sol e se crestavam em poeira.
- C) Chovia. As coisas se ensopavam sozinhas e secavam. Depois ardiavam ao sol e crestava-se em poeira.
- D) Chovia. Ensopavam-se as coisas sozinhas, secavam, depois ardiavam ao sol e crestavam-se em poeira.
- E) Chovia, e depois as coisas, ensopavam-se sozinhas, ardiavam ao sol e se crestavam em poeira.

As questões 8 e 9 referem-se ao texto seguinte.

“Quis arrancá-lo dali, mas não pude; ele estava arraigado ao chão, e só continuou a andar quando a briga cessou inteiramente, e um dos cães, mordido e vencido, foi levar a sua fome a outra parte. Notei que ficara sinceramente alegre, posto contivesse a alegria, segundo convinha a um grande filósofo. Fez-me observar a beleza do espetáculo, lembrou o objeto da luta, concluiu que os cães tinham fome; mas a privação do alimento era nada para os efeitos gerais da filosofia. Nem deixou de recordar que em algumas partes do globo o espetáculo é mais grandioso: as criaturas humanas é que disputam aos cães os ossos e outros manjares menos apetecíveis; a luta que se complica muito, porque entra em ação a inteligência do homem, com todo o acúmulo de sagacidade que lhe deram os séculos” (Machado de Assis. *Memórias póstumas de Brás Cubas*).

8. A briga de cães, como pretexto, passa a ser um argumento secundário,

- A) visto que o argumento central é a briga dos homens pelo mesmo motivo, mas com o agravante da experiência e da sagacidade.
- B) visto que, em essência, o elemento temático central do texto é a problemática das guerras entre os indivíduos humanos.
- C) pois a ideia central se baseia completamente nas desigualdades humanas, produzida pela necessidade de sobrevivência de todas as criaturas.
- D) posto que o argumento principal é a satisfação de presenciar a luta dos homens pela sobrevivência.
- E) pois o caráter bestial, a que o autor se refere, associa-se somente aos cães.

9. No período “Concluiu que os cães tinham fome”, a oração “que os cães tinham fome” exerce a função de

- A) complemento nominal.
- B) predicativo.
- C) aposto.
- D) sujeito.
- E) objeto direto.

10. Quais os números entre parênteses que ocupam uma vírgula, pontuando adequadamente o texto abaixo, de acordo com a norma-padrão da língua portuguesa?

“O emprego de um vocábulo em sentido figurado (1) é um recurso natural (2) de que se serve (3) geralmente o povo para exprimir (4) com mais energia e rapidez (5) as suas ideias – essa é a analogia semântica.”

- A) 1 – 2 – 3 – 4 – 5
- B) 1 – 2 – 4 – 5
- C) 2 – 3 – 4
- D) 2 – 4 – 5
- E) 4 – 5

11. Assinale a opção incorreta quanto ao emprego do acento indicativo da crase.

- A) “A física contemporânea é fruto da mente humana e, portanto, limitada à nossa capacidade de ver e interpretar a realidade.”
- B) “É possível fixar quadros e pequenos objetos à parede sem uma única martelada.”
- C) “As cadeiras ficaram mais compactas e aliaram à tecnologia ergonômica leveza e modernidade.”
- D) “A fábrica japonesa atingiu a liderança mundial ao aliar mecânica confiável a preços atrativos – até a obsessão por corte de custos solapar à qualidade de seus carros.”
- E) “A velocidade com que se expandia era proporcional à sua valorização aos olhos dos investidores.”

12. Assinale o período que possui uma oração subordinada substantiva objetiva direta.

- A) “O levantamento, cujo público alvo é de classe média e alta e está concentrado na região Sudeste do Brasil, foi realizado com 28 mil usuários cadastrados no site.”
- B) “O novato Esmir Filho indica que pode vir a ter uma carreira das mais promissoras.”
- C) “Quando surgiram, os seriados precisavam ser palatáveis para filhos, pais e avós.”
- D) “Nos sites de relacionamento, milhões de pessoas que moram na cidade e nunca encostaram o pé na terra passam dia e noite plantando, colhendo e até roubando o gado do vizinho.”
- E) “Basta instalar um conector externo ou embutido, como as tomadas comuns.”

**RACIOCÍNIO LÓGICO**

13. Um professor propôs um problema com exatamente duas respostas corretas para cinco alunos. Ao resolver esse problema os alunos encontraram, como resposta, respectivamente, 1 e 9; 8 e 9; 8 e 5; 3 e 5; 9 e 6. Ao fazer a correção do problema o professor observou que um dos alunos errou as duas respostas, e os demais acertaram uma delas e erraram a outra. Nestas condições, podemos dizer que as respostas corretas do problema são:

- A) 3 e 5.
- B) 8 e 9.
- C) 8 e 3.
- D) 3 e 9.
- E) 9 e 6.

14. Adriana nasceu no dia 25 do mês de abril de 1974. Se, em um determinado ano, o mês de abril somente tem 4 domingos, podemos afirmar que o aniversário de Adriana não poderá acontecer em um dia de

- A) sexta-feira.
- B) terça-feira.
- C) quarta-feira.
- D) quinta-feira.
- E) sábado.

15. Marcelo trabalha como tipógrafo em uma gráfica. Para numerar as páginas de um livro de grosso volume, utilizou 2.989 algarismos. Nestas condições, podemos dizer que este livro possui

- A) 1216 páginas.
- B) 1024 páginas.
- C) 1124 páginas.
- D) 1016 páginas.
- E) 1116 páginas.

16. Considere a seguinte afirmação:

“Uma melancia pesa 3 kg mais meia melancia.”

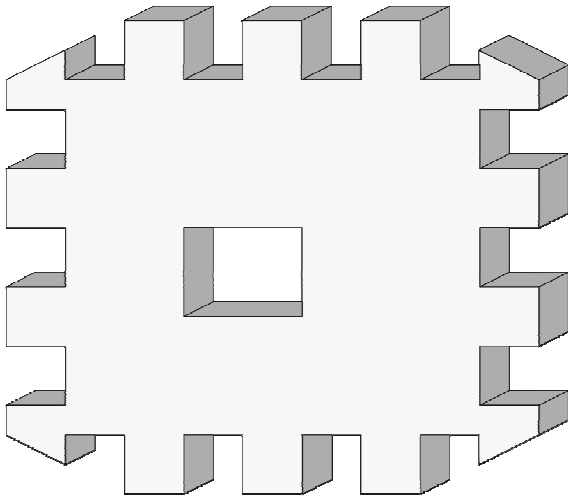
Podemos, então, concluir que uma melancia e meia pesa

- A) 6 kg.
- B) 7 kg.
- C) 8 kg.
- D) 9 kg.
- E) 10 kg.

17. Um aluno escreveu como tarefa de casa todos os números inteiros de 1 até 200. Podemos afirmar que nesta tarefa de casa o referido aluno escreveu o algarismo 9 quantas vezes?

- A) 28 vezes.
- B) 18 vezes.
- C) 40 vezes.
- D) 30 vezes.
- E) 38 vezes.

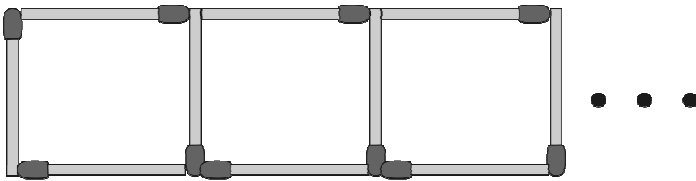
18. Observe o sólido vazado abaixo.



Então, em relação ao número de faces deste sólido, podemos dizer que ele é

- A) menor que 50.
- B) igual a 50.
- C) maior que 70.
- D) um número ímpar.
- E) divisível por 3.

19. Samuel está construindo uma sequência de quadrados com palitos de fósforos conforme figura abaixo.



Quantos palitos de fósforos são necessários para Samuel construir 133 quadrados?

- A) 500
- B) 480
- C) 400
- D) 380
- E) 580

20. Samuel, Vitor e Gabriel trabalhavam em uma Multinacional. Um deles tinha barba, outro tinha bigode e o outro não tinha barba. Cada um deles exercia dentro da empresa uma atividade diferente: um era arquiteto, outro era engenheiro e o outro era eletricista. O que tinha barba era arquiteto. Vitor era engenheiro. O que era eletricista não tinha bigode nem se chamava Samuel. Como se chamava o que não tinha barba e qual era sua profissão?

- A) Samuel – Engenheiro
- B) Vitor – Engenheiro
- C) Gabriel – Engenheiro
- D) Victor – Eletricista
- E) Gabriel – Eletricista



21. Quatro amigos apostaram uma corrida de bicicleta. Manoel disse: Pedro ganhou e Fábio chegou em segundo lugar. Fábio disse: Pedro chegou em segundo lugar e Antônio em terceiro lugar. Pedro disse: Antônio foi o último e Manoel o segundo. Sabendo-se que cada um dos rapazes disse uma verdade e uma mentira, podemos afirmar que

- A) Pedro chegou em último lugar e Antônio em terceiro.
- B) Pedro foi o primeiro colocado e Fábio o último colocado.
- C) Antônio foi o primeiro colocado e Manoel o último colocado.
- D) Fábio chegou em primeiro lugar e Pedro em segundo.
- E) Antônio chegou em terceiro lugar e Manoel em último.

22. Suponha que **a, b, c, d, e, f, g** e **h** denotem, nesta ordem, 8 crianças que brincam em uma roda. A brincadeira consiste em cantarolar sequencialmente a contagem de **1** a **14**, eliminando da brincadeira a criança que cantarolar o número **14**. Sabendo que a contagem é feita sempre no sentido horário e que a criança eliminada na primeira rodada foi a criança **b**, podemos afirmar que o início da contagem começou pela

- A) criança **e**.
- B) criança **d**.
- C) criança **c**.
- D) criança **a**.
- E) criança **b**.

23. Sejam **A** e **B** pontos de um plano cuja distância entre eles é **400 m**. Um robô irá fazer o percurso em linha reta entre os referidos pontos, conforme a seguinte regra: de dia ele percorrerá a distância de 40 m no sentido de **A** para **B** e a noite ele percorrerá a distância de 30 m no sentido de **B** para **A**. Nessas condições, em quantos dias o robô chegará ao ponto **B**?

- A) 35 dias
- B) 37 dias
- C) 36 dias
- D) 38 dias
- E) 39 dias

Geografia e História de Rio Largo

24. O município de Rio Largo limita-se

- A) ao norte com os municípios de Messias e Murici, ao sul com Satuba e Pilar, a leste com Atalaia e a oeste com Maceió.
- B) ao norte com os municípios de Satuba e Pilar, ao sul com Messias e Murici, a leste com Maceió e a oeste com Atalaia.
- C) ao norte com os municípios de Satuba e Pilar, ao sul com Messias e Murici, a leste com Atalaia e a oeste com Maceió.
- D) ao norte com os municípios de Messias, Murici e Pilar, ao sul com Satuba e Pilar, a leste com Maceió e a oeste com Atalaia.
- E) ao norte com os municípios de Messias e Murici, ao sul com Satuba e Pilar, a leste com Maceió e a oeste com Atalaia.

25. Dadas as proposições sobre o relevo do município de Rio Largo,

- I. Faz parte da unidade dos Tabuleiros Costeiros.
- II. Apresenta altitude média na área urbana em torno de 150 a 200 metros.
- III. Apresenta relevo formado por densos planaltos cristalinos.
- IV. Apresenta chapadas resultantes de intenso processo erosivo.

verifica-se que está(ão) correta(s)

- A) II, III e IV.
- B) I, apenas.
- C) III e IV, apenas.
- D) I e IV, apenas.
- E) I, II e III.

26. Analise as opções e identifique a que melhor representa a distribuição populacional, de acordo com os setores de atividades, no município de Rio Largo.

- A) A maior parte das ofertas de empregos no município está concentrada no setor primário da economia.
- B) O setor secundário absorveu e continua absorvendo o maior número de trabalhadores rio-larguenses.
- C) O setor terciário da economia é responsável pela maior geração de empregos no município.
- D) Os setores primário e secundário concentram o maior número de trabalhadores no município.
- E) O setor terciário vem perdendo um grande número de trabalhadores para o setor primário nos últimos anos.

27. O município de Rio Largo está situado na mesorregião

- A) do leste alagoano.
- B) de Maceió.
- C) do agreste alagoano.
- D) de Lourenço de Albuquerque.
- E) do oeste alagoano.

28. Dadas as proposições sobre a economia de Rio Largo,

- I. O município já foi sede de duas fábricas têxteis, Cachoeira e Progresso Alagoano, que muito contribuíram para o desenvolvimento do município em épocas passadas.
- II. Com o aumento da área de cultivo da cana-de-açúcar, houve uma redução das plantações de culturas alimentares.
- III. O Distrito Industrial de Rio Largo se tornou referência estadual pela grande e diversificada produtividade, absorvendo um grande número de trabalhadores do município e de seu entorno.
- IV. O aeroporto Zumbi dos Palmares, localizado no município de Rio Largo, é uma das principais fontes de tributos do município.

verifica-se que estão corretas

- A) I e II, apenas.
- B) II e IV, apenas.
- C) I e III, apenas.
- D) I, III e IV.
- E) II, III e IV.

29. A bacia do rio Mundaú encontra-se em acelerado processo de degradação ambiental. Os fatores abaixo são causas dessa degradação, exceto:

- A) lançamentos de esgotos domésticos no rio.
- B) desmatamento das matas ciliares.
- C) diminuição da profundidade do leito, decorrente do processo de assoreamento.
- D) lixiviação do solo decorrente de atividades agrárias.
- E) lançamento de despejos industriais no rio.


30. Observe o mapa a seguir.



Dentre as aglomerações urbanas do município de Rio Largo, destacam-se os povoados

- A) Terra Nova, Camurupim, Tabuleiro do Pinto, Águas Claras, Utinga etc.
- B) Utinga, Chã da Terra, Quebra Carro, Salgado, Lourenço de Albuquerque etc.
- C) Gustavo Paiva, Tabuleiro do Martins, Terra Nova etc.
- D) Utinga, Lourenço de Albuquerque, Tabuleiro do Pinto, Águas Claras, Pau Amarelo etc.
- E) Coqueiro Seco, Camurupim, Terra Nova, Tabuleiro do Pinto etc.

31. Considere a ilustração.



Ruínas da antiga fábrica de tecidos em Rio Largo.
In: Enciclopédia dos Municípios Alagoanos.

No final do século XIX, nas terras pertencentes a antigos engenhos em Rio Largo, foram estabelecidas duas fábricas têxteis:

- A) Progresso Alagoano e Carmem.
- B) Cachoeira e Agro-Fabril Mercantil.
- C) Carmem e Fábrica da Pedra.
- D) Progresso Alagoano e Agro-Fabril Mercantil.
- E) Cachoeira e Progresso Alagoano.

32. Com referência ao patrimônio histórico do município de Rio Largo, merece destaque o busto do comendador Gustavo Paiva, que é uma homenagem

- A) do operariado de Rio Largo, em 11 de setembro de 1946, ao grande empreendedor que marcou a história do município com sua visão social.
- B) do povo riolarguense ao fundador da Companhia de Fiação e Tecidos.
- C) ao centenário da Fábrica Cachoeira.
- D) ao comendador da Imperial Ordem da Rosa.
- E) à elevação de Rio Largo à categoria de cidade.

33. Em Rio Largo, em julho de 1894, uma usina começou a moer e tornou-se, à época, uma das maiores do setor em toda a América Latina, denominada

- A) Cachoeira do Meirim.
- B) Sumaúma.
- C) Brasileiro.
- D) Utinga Leão.
- E) Roçadinho.

34. Observe a gravura abaixo:



Via de acesso a Rio Largo.

In: Diego Maxuel Gomes da Silva.

Dadas as proposições abaixo sobre o município de Rio Largo,

- I. O desenvolvimento do polo industrial ocasionou a transferência da sede municipal para Rio Largo, que recebeu a categoria de cidade.
- II. A constituição de centro industrial, principalmente da Companhia Alagoana de Fiação e Tecidos (CAET), fez com que Rio Largo atingisse o seu apogeu.
- III. A decadência do transporte ferroviário elevou a economia de Rio Largo.
- IV. O distrito industrial de Rio Largo não conseguiu se expandir e possui poucas indústrias expressivas, como a cristal, de engarrafamento de água mineral.
- V. O advento das ferrovias foi de suma importância para o desenvolvimento econômico.

verifica-se que estão corretas

- A) I, IV e V.
- B) III, IV e V.
- C) I, II e III.
- D) I, II e V.
- E) II, III e IV.

35. Associe as datas aos acontecimentos de Rio Largo e, em seguida, assinale a opção correta.

1ª coluna	2ª coluna
1. 1915	() Rio Largo perde grande parte de seu território.
2. 1941	() Criação do município de Rio Largo.
3. 1960	() Transferência da sede da vila de Santa Luzia do Norte para o município de Rio Largo.
4. 1830	() Criação da comarca de Santa Luzia do Norte.
5. 1900	() Criação da paróquia de Rio Largo, pertencente à Arquidiocese de Maceió.

A sequência correta, de cima para baixo, está na opção

- A) 3, 4, 1, 5, 2.
- B) 5, 3, 2, 1, 4.
- C) 1, 5, 3, 2, 4.
- D) 3, 2, 5, 1, 4.
- E) 2, 3, 1, 5, 4.

CONHECIMENTOS ESPECÍFICOS**36.** Dadas as seguintes afirmativas,

- I. Os empresários têm o dever de manter a escrituração dos negócios de que participam.
- II. Foi entre os séculos XII e XIII, na península itálica, que começou a se desenvolver o sistema de "partidas dobradas", em que cada operação é lançada duas vezes, a crédito de uma pessoa e a débito de outra, dando início à construção de um saber específico, crescentemente complexo, que é a contabilidade.
- III. A primeira lei a tornar obrigatória a escrituração mercantil foi a ordenança sobre o câmbio, editada em 1239, no reinado de Francisco I, em França.
- IV. O primeiro livro obrigatório, referido em legislação de direito comercial, que se deve mencionar é o Diário. O Código Comercial, em 1850, já o obrigava a todos os comerciantes, juntamente com outro livro – o Copiador de Cartas.
- V. Nos dias atuais, se o empresário é microempresário ou empresário de pequeno porte não optante pelo Simples Nacional, ele está obrigado a escriturar o livro Caixa.

verifica-se que

- A) apenas I e IV são verdadeiras.
- B) somente I é verdadeira.
- C) apenas I, IV e V são verdadeiras.
- D) apenas II e III são verdadeiras.
- E) apenas I e V são verdadeiras.

37. Relacione os números das operações (1ª coluna) com as denominações dos fatos contábeis ao lado (2ª coluna), em seguida enumere a sequência correspondente.

1ª coluna	2ª coluna
1. Aumento do Capital Social com a incorporação de lucros	() Misto Diminutivo
2. Prescrição de dívida	() Modificativo Diminutivo
3. Pagamento de duplicata com Desconto	() Permutativo
4. Apropriação de Seguros	() Modificativo Aumentativo
5. Emissão de debêntures abaixo do par (emissão com deságio)	() Misto Aumentativo

A sequência correta, de cima para baixo, está na opção

- A) 4 – 5 – 1 – 2 – 3
- B) 5 – 4 – 1 – 2 – 3
- C) 4 – 5 – 1 – 3 – 2
- D) 2 – 3 – 4 – 1 – 5
- E) 3 – 1 – 4 – 2 – 5

38. Dadas as seguintes afirmativas,

- I. O objeto da contabilidade é a entidade que possui um patrimônio.
- II. O principal objetivo da contabilidade é informar a seus usuários os fatos e seus reflexos na situação patrimonial.
- III. Os economistas encarregados de análise globais ou setoriais de nossa economia interessam-se pelos dados contábeis das diversas unidades microeconômicas, os quais, convenientemente agregados e tratados estatisticamente, podem fornecer bases adequadas para as análises econômicas.

verifica-se que

- A) apenas I e II são verdadeiras.
- B) apenas a II é verdadeira.
- C) apenas I e III são verdadeiras.
- D) apenas II e III são verdadeiras.
- E) todas são verdadeiras.

39. Dadas as afirmações em relação à Demonstração dos Fluxos de Caixa e a Demonstração do Valor Adicionado,

- I. De acordo com a Lei nº 11.638 de 2007, a demonstração dos fluxos de caixa segrega suas informações em, no mínimo, 3 (três) fluxos: a) das operações; b) dos financiamentos; e c) dos investimentos.
- II. A demonstração do valor adicionado detalha o valor da riqueza gerada pela companhia, a sua distribuição entre os elementos que contribuíram para a geração dessa riqueza, tais como empregados, financiadores, acionistas, governo e outros, bem como a parcela da riqueza totalmente distribuída.
- III. Os fluxos de caixa das atividades operacionais geralmente são apresentados de três maneiras, através do método direto, utilizando o método indireto ou aplicando um método misto que inicialmente é direto e ao finalizar acrescenta-se o lucro líquido.
- IV. Ao elaborar a demonstração dos fluxos de caixa pelo método direto, verifica-se o lucro líquido proveniente da Demonstração de Resultados e reconcilia para o caixa líquido das operações.
- V. As empresas poderão optar entre fazer a demonstração de lucros ou prejuízos acumulados isoladamente ou fazê-la juntamente com as demais contas do patrimônio líquido. Escolhendo a segunda opção, deverá elaborar a demonstração das mutações do patrimônio líquido, que contém a demonstração de lucros ou prejuízos acumulados.

assinale a opção que indica os itens corretos.

- A) I, II e IV.
- B) II, III e V.
- C) I e V.
- D) I, III e IV.
- E) I, II e V.



40. Considerando os aspectos relacionados à auditoria independente, analise as seguintes afirmativas.

- I. A auditoria externa tem a responsabilidade de verificar os demonstrativos financeiros contábeis a fim de detectar se as informações que são apresentadas estão de acordo com a realidade da empresa, gerando uma relação de confiabilidade entre gestores e investidores.
- II. A Lei das S.As (Lei n.º 6.404/76, art. 177) determina que as demonstrações financeiras ou contábeis das companhias abertas serão obrigatoriamente auditadas por auditores independentes registrados na Comissão de Valores Mobiliários.
- III. A Lei n.º 11.638/2007 ampliou a obrigatoriedade de contratação de auditores independentes às sociedades de grande porte, que tenham, no exercício anterior, ativo total superior a R\$ 240 milhões ou receita bruta anual superior a R\$ 300 milhões, ainda que não constituídas sob a forma de sociedades por ações.
- IV. Os auditores independentes utilizam de procedimentos técnicos, de acordo com as normas estabelecidas pelas Normas Brasileiras de Contabilidade, para fornecer sua opinião sobre as demonstrações financeiras, assegurando a transparência e confiabilidade das informações divulgadas pelas organizações.
- V. A Lei n.º 11.638 estabelece que as demonstrações contábeis das sociedades de grande porte devem observar as disposições da Lei n.º 6.404, inclusive menciona a obrigatoriedade de auditoria independente por auditor registrado na Comissão de Valores Mobiliários.

Verifica-se que

- A) todas são verdadeiras.
- B) apenas I, II, III e IV são verdadeiras.
- C) apenas II, III, IV e V são verdadeiras.
- D) apenas III, IV e V são verdadeiras.
- E) apenas I, II e V são verdadeiras.

41. Uma empresa nacional doou à Prefeitura de Rio Largo a importância de R\$ 400.000,00 para ser utilizada da seguinte forma: 50% na construção de salas de aula e 50% no fornecimento de merenda escolar. Tenda em vista que essa receita não foi prevista no orçamento, a prefeitura deverá classificá-la:

- A) 100% receita extraorçamentária.
- B) 50% receita extraorçamentária e 50% como receita de capital.
- C) 50% como receitas correntes – Transferências Correntes – Transferências de Instituições Privadas e 50% como Receitas de Capital – Transferências de Capital – Transferências de Instituições Privadas.
- D) 100% como Receitas de Doações.
- E) 100% receitas de Capital – Transferências de Capital – Transferências de Instituições Privadas.

Enunciado comum das questões de 42 a 44:

Companhia Liderança S/A

Balanço Patrimonial da Companhia Liderança S/A levantado em 31 de dezembro de 2009 (em R\$).

ATIVO		PASSIVO	
Ativo Circulante		Passivo Circulante	
Caixa e Bancos	133.950,00	Fornecedores	24.345,00
Clientes	37.250,00	Aluguéis a Pagar	10.500,00
Impostos a Recuperar	10.430,00	Obrigações Fiscais	13.490,00
Estoques	48.935,00	Salários a Pagar	23.750,00
Ativo Não Circulante		Passivo Não Circulante	
Ativo Realizável a Longo Prazo		Exigível a Longo Prazo	
Títulos a Receber	31.490,00	Empréstimos	13.750,00
Imobilizado		Patrimônio Líquido	
Móveis e Utensílios	45.670,00	Capital Social	307.267,00
Veículos	87.034,00	Prejuízos Acumulados	(12.000,00)
Depreciação Acumulada	(13.657,00)		
Total do Ativo	381.102,00	Total do Passivo e Patrimônio Líquido	381.102,00

Considerando os dados fornecidos no **Balanço Patrimonial de 31/12/2009**, observe também as transações realizadas pela **Companhia Liderança S/A** durante o mês de janeiro de 2010 (Quadro n.1):

Quadro n.1 – Fatos Contábeis

Data	Operações realizadas
05/01/2010	Aquisição de Estoques à vista R\$ 23.500,00
05/01/2010	Pagamento em caixa de Salários a Pagar, R\$ 9.750,00.
06/01/2010	50% do total do estoque foi vendido por R\$ 75.000,00 a prazo.
10/01/2010	Pagamento de Aluguéis R\$ 5.250,00.
15/01/2010	Recebimento de Clientes R\$ 17.250,00.
31/01/2010	Apropriação dos salários do mês de janeiro/2010, R\$ 32.270,00.

42. Verifica-se que após elaborar o Balanço Patrimonial de 31/01/2010, com base nas operações realizadas em janeiro/2010, o Ativo Circulante somou

- A) R\$ 290.565,00.
- B) R\$ 266.097,50.
- C) R\$ 179.347,50.
- D) R\$ 254.347,50.
- E) R\$ 230.565,00.



43. Verifica-se que após as operações realizadas em janeiro, o Balanço Patrimonial foi levantado novamente em 31/01/2010, com os seguintes saldos nas contas a seguir. Indique a opção correta.

- A)** Caixa e Bancos R\$ 112.700,00; Clientes R\$ 95.000,00; Estoques R\$ 36.217,50; Salários a Pagar R\$ 46.270,00; Prejuízos Acumulados R\$ 10.737,50.
- B)** Caixa e Bancos R\$ 187.700,00; Clientes R\$ 20.000,00; Estoques R\$ 72.435,00; Salários a Pagar R\$ 46.270,00; Prejuízos Acumulados R\$ 5.487,50.
- C)** Caixa e Bancos R\$ 112.700,00; Clientes R\$ 20.000,00; Estoques R\$ 36.217,50; Salários a Pagar R\$ 46.270,00; Prejuízos Acumulados R\$ 12.000,00.
- D)** Caixa e Bancos R\$ 112.700,00; Clientes R\$ 95.000,00; Estoques R\$ 36.217,50; Salários a Pagar R\$ 46.270,00; Prejuízos Acumulados R\$ 5.487,50.
- E)** Caixa e Bancos R\$ 112.700,00; Clientes R\$ 95.000,00; Estoques R\$ 47.967,50; Salários a Pagar R\$ 14.000,00; Prejuízos Acumulados R\$ 12.000,00.

44. Verifica-se que após elaborar o balanço patrimonial de 31/01/2010, com base nas operações realizadas em janeiro/2010, o Passivo Circulante somou

- A)** R\$ 89.355,00
- B)** R\$ 62.335,00
- C)** R\$ 54.095,00
- D)** R\$ 94.605,00
- E)** R\$ 79.175,00

45. As contas financeiras do Balanço Patrimonial da Prefeitura, em 01 de janeiro de 2008, apresentavam os seguintes saldos:

Caixa	140.000
Débitos de Tesouraria	30.000
Cauções de Empreiteiros	40.000
Devedores diversos	20.000
Restos a Pagar	60.000

Durante o exercício de 2008, ocorreram os seguintes fatos:

1 – Operações Orçamentárias

Receita Arrecadada	1.000.000
Despesa Empenhada	1.200.000
Despesa Paga	800.000

2 – Receitas Extraorçamentárias

Empréstimos de Curto Prazo	30.000
Caução	20.000
Restos a Pagar	50.000

Com base nas informações acima, em 31 de dezembro de 2008, os saldos das contas caixa e restos a pagar são, respectivamente,

- A)** 140.000 e 60.000.
- B)** 250.000 e 110.000.
- C)** 280.000 e 400.000.
- D)** 350.000 e 410.000.
- E)** 140.000 e 460.000.

46. Ao contabilizar as receitas e despesas de acordo com o art. 35 da Lei nº 4.320/64, adota-se o regime orçamentário. Para este, o regramento é de

- A) competência para a receita e para a despesa.
- B) caixa para a despesa e de competência para a receita.
- C) competência para a despesa e de caixa para a receita.
- D) caixa para a receita e para a despesa.
- E) caixa ou de competência, para a receita e despesa, conforme a legislação própria de cada ente.

47. A Prefeitura de Rio Largo, ao receber doação incondicional em dinheiro de um munícipe, não prevista no orçamento, deve classificá-la como

- A) receita extraorçamentária.
- B) receita de Capital – Doações.
- C) receitas Correntes – Transferências Correntes – Transferências de Pessoas.
- D) variação Ativa independente da execução orçamentária.
- E) receita de Capital – Transferências de Capital.

48. As variações que o patrimônio das entidades públicas podem sofrer são provocadas

- A) pelas receitas e despesas de natureza orçamentária e extraorçamentária.
- B) pelas receitas e despesas orçamentárias efetivas, por mutações patrimoniais e por alterações que ocorrem independente da execução orçamentária.
- C) exclusivamente por alterações que aumentem o ativo e diminuam o passivo.
- D) exclusivamente por alterações resultantes da execução orçamentária.
- E) exclusivamente pelas receitas e despesas orçamentárias, denominadas de mutação patrimonial.

49. A Prefeitura de Feliz Belo encerrou o exercício de 2008 com receita no valor de 280, despesas empenhadas no valor de 250 e despesas pagas no valor de 190. Das receitas, 200 eram efetivas e das despesas, 30 eram de mutações. Nesse exercício, foram registradas Variações Ativas e Passivas independentes de execução orçamentária nos valores de 10 e 14, respectivamente. O resultado patrimonial dessa Prefeitura nesse exercício foi um

- A) superávit de 36.
- B) superávit de 30.
- C) superávit de 10.
- D) déficit de 18.
- E) déficit de 24.

50. No Plano de Contas, as disponibilidades de numerário, os recursos a receber, as antecipações de despesa, bem como outros bens e direitos pendentes ou em circulação, realizáveis até o término do exercício seguinte serão classificados

- A) no ativo realizável a curto prazo.
- B) no ativo circulante.
- C) no disponível.
- D) no ativo compensado.
- E) no ativo circulante e no ativo realizável.

Mais um concurso com a realização:



Prefeitura Municipal de Rio Largo

