

## LÍNGUA PORTUGUESA

TEXTO - Mentira e verdade – Carlos Heitor Cony

Alguns estudiosos afirmam que a mercadoria mais importante do mundo moderno é a informação. Pensando bem, foi sempre mais ou menos assim. Quem detinha a informação era poderoso — daí que a mídia foi elevada a quarto poder, tese contra a qual sempre me manifestei, achando que a mídia é uma força, mas não o poder.

Com a chegada da internet, suas imensas e inesperadas oportunidades, o monopólio da informação pulverizou-se. Os jornais, creio eu, foram os primeiros a sentir o golpe, os livros logo em seguida, havendo até a previsão de que ele acabará na medida em que se limitar ao seu atual desenho gráfico, que vem de Gutenberg.

Acontece que, mais cedo ou mais tarde, a mídia impressa ficará dependente não dos seus quadros profissionais, de sua estrutura de captação das informações. Qualquer pessoa, a qualquer hora do dia ou da noite, acessando blogs e sites individualizados, ficará por dentro do que acontece ou acontecerá.

Na atual crise que o país atravessa, a imprensa em muitas ocasiões foi caudatária do que os blogs informavam duas, três vezes ao dia. Em termos de amplitude, eles sempre ganharão de goleada da imprensa escrita e falada.

O gigantismo da internet tem, porém, pés de barro. Se ganha no alcance, perde no poder de concentração e análise. Qualquer pessoa, medianamente informada ou sem informação alguma, pode manter uma fonte de notícias ou comentários com responsabilidade zero, credibilidade zero, coerência zero.

O mercado da informação, que formaria o poder no mundo moderno, em breve estará tão poluído, que dificilmente saberemos o que ainda não sabemos: o que é mentira e o que é verdade.

01. A afirmação de alguns estudiosos de que a informação é a mercadoria mais importante do mundo moderno apresenta, na crônica acima, a seguinte função textual:
- expressar um pensamento que vai ser combatido.
  - mostrar um ponto de vista ultrapassado pela modernidade.
  - apresentar uma opinião apoiada integralmente pelo cronista.
  - servir de ponto de partida para reflexões sobre a moderna informação.
02. “Alguns estudiosos afirmam que a mercadoria mais importante do mundo moderno é a informação”. A forma de reescrever-se esse período do texto que não respeita a correspondência de tempos verbais é:
- Alguns estudiosos afirmavam que a mercadoria mais importante do mundo moderno era a informação.
  - Alguns estudiosos afirmam que a mercadoria mais importante do mundo moderno seja a informação.
  - Alguns estudiosos afirmarão que a mercadoria mais importante do mundo moderno será a informação.
  - Alguns estudiosos têm afirmado que a mercadoria mais importante do mundo moderno tem sido a informação.
03. “Alguns estudiosos afirmam que a mercadoria mais importante do mundo moderno é a informação. Pensando bem, foi sempre mais ou menos assim”. Em relação ao primeiro período, o segundo mostra a seguinte finalidade:
- retificar um erro na afirmação anterior.
  - corrigir parcialmente uma falha histórica.
  - aplicar o pensamento à realidade moderna.
  - confirmar e ampliar o pensamento dos estudiosos.
04. “...tese contra a qual sempre me manifestei...”; esse segmento do texto mostra uma oração adjetiva que é introduzida por uma preposição (contra), exigida pelo verbo “manifestar-se”. A alternativa a seguir em que foi empregada uma preposição inadequada é:
- Os resultados a que visavam os projetos foram alcançados.
  - Os temas de que todos falavam não eram os mais importantes.
  - As ferramentas com que se utilizavam os operários desapareceram.
  - As crônicas a que se referiam os políticos tinham sido esquecidas.
05. “Com a chegada da internet, suas imensas e inesperadas oportunidades, o monopólio da informação pulverizou-se. Os jornais, creio eu, foram os primeiros a sentir o golpe, os livros logo em seguida, ...”. O segundo período desse segmento, em relação ao período anterior, tem a seguinte finalidade:
- esclarecer quais as causas da pulverização.
  - explicar como a informação se pulverizou.
  - exemplificar a pulverização aludida.
  - mostrar consequências do processo.
06. O problema da mídia impressa, segundo o terceiro parágrafo do texto, após a chegada da internet, é o de que:
- as notícias não chegam tão rápido pelos jornais.
  - os dias passaram a ter uma divisão temporal diferente.
  - as pessoas não precisarão ler os jornais para informar-se.
  - os jornalistas competentes não se empregarão nos jornais.
07. Em várias passagens do texto, o cronista emprega a conjunção OU; a alternativa em que os termos ligados por essa conjunção não mostram oposição entre si é:
- “Pensando bem, foi sempre mais ou menos assim”.
  - “...ficará por dentro do que acontece ou acontecerá”.
  - “Acontece que, mais cedo ou mais tarde, a mídia impressa ficará de-pendente...”.
  - “Qualquer pessoa, a qualquer hora do dia ou da noite, acessando blogs e sites individualizados...”.
08. “Os jornais, creio eu, foram os primeiros a sentir o golpe...”; a oração “creio eu” indica uma opinião do cronista. A alternativa em que NÃO está presente uma forma de opinar é:
- Parece-me que os jornais dizem a verdade.
  - Sou do parecer de que esse problema vai acabar.
  - Os estudos mostram que o problema não é grave.
  - Não penso que a internet vá acabar com a imprensa.
09. O segmento que exemplifica uma forma verbal da voz passiva é:
- “Quem detinha a informação era poderoso — daí que a mídia foi elevada a quarto poder...”
  - “Alguns estudiosos afirmam que a mercadoria mais importante do mundo moderno é a informação”.
  - “... tese contra a qual sempre me manifestei, achando que a mídia é uma força, mas não o poder”.
  - “Pensando bem, foi sempre mais ou menos assim”.
10. “O mercado da informação, que formaria o poder no mundo moderno, em breve estará tão poluído, que dificilmente saberemos o que ainda não sabemos: o que é mentira e o que é verdade”. Nesse segmento do texto, há cinco ocorrências do vocábulo “que”; o trecho em que ele tem uma classe de palavra diferente das demais é:
- “que dificilmente saberemos”
  - “o que ainda não sabemos”
  - “que formaria o poder”
  - “o que é mentira”

## MATEMÁTICA E RACIOCÍNIO LÓGICO QUANTITATIVO

11. João, nascido entre 1980 e 1994, irá completar, em 2014,  $x$  anos de vida. Sabe-se que  $x$  é divisível pelo produto dos seus algarismos. Em 2020, João completará a seguinte idade:

A) 32  
B) 30  
C) 28  
D) 26

12. Um turista pretende visitar três de oito praias do litoral sul do estado de Sergipe e fará a escolha desses destinos de forma aleatória. O número máximo de roteiros possíveis, sem levar em conta a ordem de visitação às praias, corresponde a:

A) 36  
B) 48  
C) 56  
D) 64

13. Durante seis dias consecutivos, o número de visitantes do Mercado Municipal Antônio Franco aumentou em progressão aritmética. Sabendo-se que no primeiro dia o mercado recebeu 800 visitantes e que no sexto dia recebeu 1200, a quantidade de visitantes no 4º dia foi igual a:

A) 1020  
B) 1030  
C) 1040  
D) 1050

14. Considere as quatro sequências de três números indicadas abaixo:

(7,6,2)	(10,4,12)	(8,3,10)	(12,9, x)
---------	-----------	----------	-----------

Sabe-se que o terceiro número das três primeiras sequências foi obtido a partir de operações aritméticas realizadas com os dois primeiros números, segundo um mesmo padrão.

O valor do número é:

A) 6  
B) 8  
C) 12  
D) 16

15. Em um grupo de  $N$  turistas estrangeiros que visitavam Aracaju, verificou-se que:

- metade falava apenas inglês;  
- um terço falava apenas alemão;  
- 36 falavam apenas francês.

O valor de  $N$  é igual a:

A) 240  
B) 232  
C) 224  
D) 216

16. Observe a matriz abaixo:

$$A = \begin{bmatrix} 28 & 31 & 31,5 \\ 35,2 & 28,5 & 33,6 \\ 32 & 30,7 & 34 \end{bmatrix}$$

Nessa matriz, cada elemento  $a_{ij}$  corresponde, em graus centígrados, à temperatura observada no momento  $i$  do dia  $j$ , em um bairro da região central de Aracaju.

A diferença, em graus centígrados, entre a temperatura observada no momento 2 do 3º dia e a temperatura observada no momento 1 do 2º dia é igual a:

A) 4,5  
B) 3,5  
C) 3,0  
D) 2,6

17. A palavra ARACAJU foi escrita seguidamente cem vezes, conforme modelo mostrado abaixo:

ARACAJUARACAJUARACAJUARACAJUARACAJUARACAJU...

A 345ª letra escrita foi a seguinte:

A) U  
B) R  
C) A  
D) C

18. Uma pesquisa realizada com um grupo de 210 turistas que visitavam Aracaju, apurou que:

- 49 homens e 54 mulheres estavam visitando Aracaju pela primeira vez;

- 37 homens já tinham visitado Aracaju antes.

Escolhendo-se ao acaso um desses turistas, a probabilidade de que a pessoa escolhida seja uma mulher que não estava visitando Aracaju pela primeira vez é:

A)  $\frac{1}{3}$   
B)  $\frac{2}{3}$   
C)  $\frac{1}{5}$   
D)  $\frac{2}{5}$

19. Em uma cooperativa de artesanato, cada pessoa demora 45 minutos para fabricar uma determinada peça. Considerando que cada peça é fabricada por um mesmo artesão, a quantidade mínima de horas que 9 artesãos, com a mesma capacidade de trabalho, demoram para fabricar 68 dessas peças, corresponde a:

A) 8  
B) 7  
C) 6  
D) 5

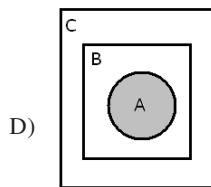
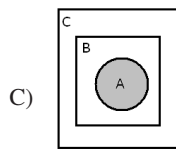
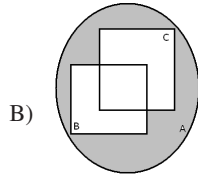
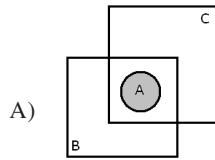
20. Considere os seguintes conjuntos:

A = { pessoas que praticam esportes }

B = { pessoas que são inteligentes }

C = { pessoas que são saudáveis }

A afirmação “toda pessoa que pratica esporte é inteligente e saudável” é mais bem representada pelo seguinte diagrama:



### LEGISLAÇÃO

21. O provimento do cargo de técnico do Ministério de Minas e Energia, com lotação em Brasília, se dá mediante a publicação do seguinte ato:

- A) portaria do Ministro de Planejamento
- B) decreto da Presidência da República
- C) portaria do Ministro de Minas e Energia
- D) decreto do Governador do Distrito Federal

22. Da decisão de uma autoridade cabe o recurso de pedido de reconsideração. Este pedido deverá ser despachado no seguinte prazo máximo indicado em lei:

- A) 15 dias
- B) 10 dias
- C) 5 dias
- D) 3 dias

23. A seguinte vantagem **NUNCA** se incorpora ao provento de aposentadoria:

- A) indenização
- B) gratificação
- C) formação de 3º grau
- D) adicional de tempo de serviço

24. O servidor federal que for doar sangue poderá se ausentar legalmente do serviço pelo seguinte período:

- A) 1 dia
- B) 2 dias
- C) 3 dias
- D) 4 dias

25. A pena de demissão é aplicada ao servidor público que:

- A) tiver coagido subordinado para filiação a partido político
- B) tiver promovido manifestação de desprezo aos superiores
- C) houver recusado fé a documentos públicos
- D) se encontrar em conduta escandalosa

26. A responsabilidade administrativa do servidor será afastada diante da seguinte ocorrência descrita em lei:

- A) absolvição civil que comprove coautoria
- B) absolvição criminal que negue a existência do fato
- C) parecer do Ministério Público que o inocente da acusação
- D) parecer da assessoria jurídica do Conselho Nacional de Justiça que negue a autoria

27. No processo disciplinar, o depoimento será prestado oralmente, não sendo lícito à testemunha adotar o seguinte procedimento:

- A) comparecer com advogado
- B) manter-se em silêncio
- C) contraditar a acusação
- D) trazê-lo por escrito

28. À posição do servidor na matriz hierárquica, conforme sua remuneração pelo aperfeiçoamento profissional para o exercício das atividades do cargo ocupado, após o ingresso do servidor, dá-se o nome de:

- A) ambiente organizacional
- B) padrão de vencimento
- C) nível de capacitação
- D) plano de carreira

29. Em relação ao ato de enquadramento, poderá ser interposto recurso a ser apreciado pela Comissão de Enquadramento, que decidirá no seguinte prazo máximo previsto em lei:

- A) 15 dias
- B) 20 dias
- C) 30 dias
- D) 60 dias

30. No enquadramento, a definição dos cursos de capacitação que não sejam de educação formal e que guardem relação direta com o ambiente da organização será disciplinada em ato da seguinte autoridade:

- A) Ministro de Estado da Educação
- B) Superintendente de Recursos Humanos
- C) Coordenador do Sistema Federal de Ensino
- D) Presidente da Comissão de Enquadramento

## CONHECIMENTOS ESPECÍFICOS

31. Uma determinada empresa realizou, no mês de abril, as seguintes operações com mercadorias para revenda:

Dia 5: compra de 2.000 unidades a R\$ 2,60 cada uma  
 Dia 15: venda de 2.500 unidades a R\$ 4,00 cada uma  
 Dia 26: compra de 1.200 unidades a R\$ 2,80 cada uma  
 Dia 30: venda de 1.500 unidades a R\$ 4,00 cada uma

Sabendo-se que no início do mês a empresa possuía em estoque 1.500 unidades, a R\$ 2,40 cada uma e que o método adotado de avaliação do estoque é o PEPS, o Resultado com Mercadorias no referido mês foi igual a:

- A) R\$ 5.800  
 B) R\$ 6.200  
 C) R\$ 6.600  
 D) R\$ 7.500

32. Considere as seguintes contas contábeis: Caixa, Depreciação Acumulada, Fornecedores, Capital Social, Ações em Tesouraria, Imóveis em Uso, Despesas de Salários e Juros Ativos. O número de contas, com saldo de natureza devedora é:

- A) 5  
 B) 4  
 C) 3  
 D) 2

33. Em 31 de dezembro, o Razão de determinada sociedade comercial apresentava as seguintes contas:

Títulos	R\$
Móveis e Utensílios	25.000
Capital Social	43.000
Adiantamento a Fornecedores	1.500
Contas a Pagar	60.000
Clientes - CP	45.000
Adiantamento de Clientes - CP	3.000
Mercadorias	30.000
Reserva Legal	3.500
Realizável a Longo Prazo	3.000
Banco c/Movimento	1.500
Depreciação Acumulada	3.000
Marcas e Patentes	1.500
Participação em Coligadas	5.000

Sabendo-se que todos os ajustes já foram realizados, pode-se afirmar que, no balanço patrimonial elaborado, o valor do ativo não circulante era igual a:

- A) R\$ 28.500  
 B) R\$ 31.500  
 C) R\$ 32.000  
 D) R\$ 33.000

34. Desconsiderando-se os elementos básicos de escrituração, data, valor e histórico, a alternativa que representa um lançamento de terceira fórmula é:

- A) Caixa  
 a Capital Social  
 B) Caixa  
 a Diversos  
 a Juros  
 C) Diversos  
 a Caixa  
 Salários Funcionários  
 Despesas de Aluguéis  
 D) Diversos  
 a Diversos  
 Caixa  
 Clientes  
 a Receita de Serviços  
 a Receita de Juros

35. Determinada empresa comercial adquiriu, em 01/01/2004, um bem imobilizado, isento de impostos por R\$ 10.000. Foi estimada uma vida útil de oito anos, com valor residual de R\$ 2.000. Posteriormente, a empresa vendeu esse bem, em 02/01/2010, por R\$ 3.000. Sabendo-se que o bem imobilizado foi colocado em uso na mesma data de sua aquisição, o resultado dessa operação correspondeu à seguinte situação:

- A) ganho de R\$ 7.000  
 B) perda de R\$ 1.000  
 C) perda de R\$ 7.000  
 D) ganho de R\$ 1.000

36. Em 31/12, o balanço patrimonial da Empresa de Serviços Ltda. apresentava as seguintes contas e respectivos saldos: (valores em R\$)

Impostos a Recuperar.....	560
Móveis e Utensílios.....	5.000
Caixa.....	500
Bancos c/Movimento.....	2.000
Fornecedores.....	4.000
Estoque.....	3.000
Lucros Acumulados.....	700
Reserva de Lucros.....	160
Empréstimos Bancários.....	4.000
Clientes.....	3.000
Salários a Pagar.....	400

Como pode ser observado, foi omitida a conta Capital Social, que, com base nas informações dadas, deveria ter apresentado o seguinte valor:

- A) R\$ 3.880  
 B) R\$ 4.800  
 C) R\$ 5.660  
 D) R\$ 6.520

37. A Lei Orçamentária Anual pode ser modificada, durante a sua execução, pelos créditos adicionais. O crédito que, depois de ter sido autorizado e aberto, tem a vigência limitada única e exclusivamente até ao final do exercício financeiro em vigor, é do seguinte tipo:
- extraordinário
  - orçamentário
  - suplementar
  - especial
38. Na classificação orçamentária de uma despesa realizada por um determinado ente governamental, foi utilizada a codificação numérica 4.5.90.61. De acordo com a norma em vigor, o segundo dígito, indicado pelo algarismo cinco, representa:
- categoria econômica
  - elemento de despesa
  - modalidade de aplicação
  - grupo de natureza de despesa
39. Com base na legislação vigente aplicada ao setor público, as despesas empenhadas durante um determinado exercício financeiro, liquidadas e não pagas até 31 de dezembro, denominam-se:
- restos a pagar não processados
  - restos a pagar processados
  - dívidas fundadas
  - dívidas ativas
40. Observe a seguinte assertiva:  
 “É vedada a realização de despesa ou a assunção de obrigações diretas que excedem os créditos orçamentários ou adicionais”.
- Esse preceito é uma consequência da aplicação do seguinte princípio orçamentário:
- equilíbrio
  - exclusividade
  - economicidade
  - orçamento bruto
41. Dos recursos financeiros arrecadados durante o ano civil, por um determinado ente da federação, aquele que é classificado, quanto à origem, como receita patrimonial é:
- tarifa de pedágios
  - alienação de bens móveis
  - dividendos de empresas públicas
  - imposto de renda pessoal jurídica
42. Sabendo-se que, no final do exercício de 2013, a receita corrente líquida apurada de um determinado município correspondeu a R\$ 300.000, a despesa total com pessoal da Câmara de Vereadores deveria ter sido, no máximo, igual ao seguinte montante:
- R\$ 18.000
  - R\$ 9.000
  - R\$ 7.500
  - R\$ 6.000
43. As operações de crédito por antecipação de receitas orçamentárias, também denominadas por ARO, que se destinam a atender a insuficiência de caixa durante o exercício financeiro, de acordo com a legislação atual, devem ser liquidadas com juros e outros encargos financeiros incidentes, até a seguinte data do exercício vigente:
- 31 de dezembro
  - 15 de dezembro
  - 22 de dezembro
  - 10 de dezembro
44. Em 31/12/2013, uma determinada entidade pública, cumprindo a legislação vigente, inscreveu em Restos a Pagar não Processados as despesas empenhadas e não pagas no exercício. No exercício financeiro de 2014, dando prosseguimento à execução daquelas despesas, a escrituração sob o enfoque da natureza da informação orçamentária deverá utilizar para o débito e o respectivo crédito, de acordo com a estrutura do Plano de Contas Aplicado ao Setor Público, as contas contábeis agrupadas na seguinte classe e seguinte grupo:
- 6.3
  - 6.2
  - 6.1
  - 5.2
45. No final do exercício financeiro, caso seja apurado, o resultado orçamentário positivo deverá ser demonstrado, de acordo com a estrutura atual do Balanço Orçamentário, na seguinte coluna:
- Despesas Pagas
  - Receitas Realizadas
  - Despesas Liquidadas
  - Despesas Empenhadas
46. No final do exercício de 2013 de determinado ente federativo, foram levantadas as seguintes informações:
- Lei Orçamentária Anual aprovada..... R\$ 70 milhões
  - arrecadação de receitas orçamentárias..... R\$ 75 milhões
  - despesas orçamentárias realizadas..... R\$ 60 milhões
  - pagamento de despesas orçamentárias..... R\$ 40 milhões
- Sabendo-se que durante o exercício não houve retificação na LOA e refinanciamento da dívida, o valor da economia de gastos foi igual a:
- R\$ 35 milhões
  - R\$ 20 milhões
  - R\$ 15 milhões
  - R\$ 10 milhões
47. Na estrutura do novo Plano de Contas Aplicado ao Setor Público, os fatos contábeis referentes ao acréscimo no benefício econômico, sob a forma de entrada de recursos ou redução de passivo, que resultem em aumento do patrimônio líquido, são escriturados em contas contábeis agrupadas na seguinte classe:
- 6
  - 5
  - 4
  - 3

48. No exercício financeiro vigente, determinado ente da federação, para registro da arrecadação da receita durante a execução do orçamento, independentemente da natureza da informação, efetuou o seguinte lançamento contábil:
- A) D: Receita a Realizar  
C: Receita Realizada
  - B) D: Previsão Inicial da Receita  
C: Receita a Realizar
  - C) D: Receita Realizada  
C: Previsão Inicial da Receita
  - D) D: Disponibilidade por Destinação de Recursos  
C: Controle da Disponibilidade de Recursos
49. De acordo com a norma vigente aplicada ao setor público, o demonstrativo contábil que deverá ser elaborado no final do exercício financeiro por todos os entes da federação, e que permite avaliar a capacidade de a entidade gerar recursos financeiros e equivalentes a este, bem como suas necessidades de liquidez, denomina-se:
- A) Balanço Patrimonial
  - B) Balanço Financeiro
  - C) Demonstração dos Fluxos de Caixa
  - D) Demonstração das Variações Patrimoniais
50. As transferências intergovernamentais e intragovernamentais recebidas e concedidas estão detalhadas nas contas contábeis pertencentes ao seguinte subsistema:
- A) subsistema de informações de custos
  - B) subsistema de informações patrimoniais
  - C) subsistema de informações orçamentárias
  - D) subsistema de informações de compensação