

Auxiliar Administrativo-Almoxarifado

CÓDIGO: (AAL05)

Caderno: 1 Aplicação: Tarde

LEIA COM ATENÇÃO AS INSTRUÇÕES

- 1 - A duração da prova é de 3 horas, já incluído o tempo de preenchimento do cartão de respostas.
- 2 - O candidato que, na primeira hora de prova, se ausentar da sala e a ela não retornar, será eliminado.
- 3 - Os três últimos candidatos ao terminar a prova deverão permanecer na sala e somente poderão sair juntos do recinto, após aposição em ata de suas respectivas assinaturas.
- 4 - Você **NÃO** poderá levar o seu caderno de questões, pois a imagem do seu **cartão de respostas** será disponibilizado em <http://concursos.biorio.org.br>.

INSTRUÇÕES - PROVA OBJETIVA

- 1- Confira atentamente se este caderno de perguntas, que contém **40 questões objetivas**, está completo.
- 2 - Cada questão da Prova Objetiva conterà **5 (cinco) opções** e somente uma correta.
- 3 - Confira **se seus dados, o emprego e a área/microregião** escolhidos, indicados no **cartão de respostas**, estão corretos. Se notar qualquer divergência, notifique imediatamente ao Fiscal ou ao Chefe de Local. Terminada a conferência, você deve assinar o **cartão de respostas** no espaço apropriado.
- 4 - Confira atentamente se o **emprego** e o **número do caderno** que consta neste caderno de questões é o mesmo do que consta em seu **cartão de respostas**. Se notar qualquer divergência, notifique imediatamente ao Fiscal ou ao Chefe de Local.
- 5 - Cuide de seu **cartão de respostas**. Ele não pode ser rasurado, amassado, dobrado nem manchado.
- 6 - Se você marcar mais de uma alternativa, sua resposta será considerada errada mesmo que uma das alternativas indicadas seja a correta.

AGENDA

- **23/09/2013**, divulgação do gabarito e exemplar dos Cadernos de Questões da Prova Objetiva após às 14h.
- **26/09/2013**, disponibilização das Imagens dos Cartões Respostas das Provas Objetivas.
- **26/09 e 27/09/2013**, recursos contra formulação e conteúdos da Prova Objetiva na Internet.
- **03/10/2013**, divulgação do resultado da análise dos recursos da Prova Objetiva.
- **03/10/2013**, divulgação do Resultado das Provas Objetivas.
- **03/10/2013**, divulgação Relação dos Candidatos Convocados para a Entrevista Técnica.
- **08/10 a 11/10/2013**, realização da **Entrevista Técnica**.

● Informações:

Tel: 21 3525-2480 das 9 às 18h

Internet:

<http://concursos.biorio.org.br>

E-mail:


iabas2013@biorio.org.br



Concursos

LÍNGUA PORTUGUESA

Tristes echos



— Eu continuo a afirmar. A população esteve presa de grande panico. Eu na minha clínica tive cincoenta casos fataes, mas todos benignos.
A Careta, n. 543, 19 de novembro de 1918, p. 23.

1 - A charge acima foi publicada em 1918, numa célebre revista de humor da época. O humor da charge se deve à(ao):

- (A) indumentária demasiadamente elegante dos personagens.
- (B) modo de falar dos médicos.
- (C) contradição lógica na fala de um dos médicos.
- (D) oposição entre título e imagem.
- (E) expressão facial dos médicos representados.

2 - Na escrita da fala, a charge mostra ser de outra época, quando se empregava grafia diferente. Indique a alternativa em que NÃO há uma diferença gráfica em relação à atualidade:

- (A) “Eu continuo a afirmar”.
- (B) “A população esteve presa de grande panico”.
- (C) “Eu na minha clínica tive cincoenta casos fataes”.
- (D) “Tristes echos”.
- (E) “mas todos benignos”.

TEXTO – MEDICINA ALTERNATIVA

Folha - Você critica a medicina alternativa pela falta de testes clínicos que atestem sua eficácia, mas sabemos eles também têm suas falhas. Ainda assim os alternativos precisam seguir as regras da medicina convencional?

Paul Offit - Sim. Outro dia entrei numa loja de produtos naturais e perguntei ao balconista se havia algo para baixar colesterol. Ele me deu um extrato de alho concentrado.

Uma pessoa com colesterol alto e histórico de doença cardíaca vai se beneficiar de uma estatina [droga para baixar colesterol]. Só que ela pode entrar nessa loja e receber um mau conselho.

As pessoas que vendem esses produtos ganham dinheiro e podem bancar um teste clínico. Estudos já mostraram que você não tem mais chance de baixar o

colesterol com o extrato de alho do que com o placebo. O consumidor merece testes. E extrato concentrado de alho pode causar efeitos colaterais.

É desconcertante que as pessoas tenham a ideia de que algo é seguro e funciona quando pode não funcionar e não ser seguro. Essa indústria é colocada como intocável. Nos EUA, a indústria de megavitaminas e suplementos movimentou US\$ 34 bilhões em 2012. O que surpreende é que as pessoas acham que essas fabricantes são empresas familiares, que os produtos são feitos por elfos em montanhas.

Gostaria que tivéssemos o mesmo ceticismo com a medicina alternativa que temos com a medicina moderna. Se acupuntura é bom, vamos descobrir como! Apontar para as estrelas não dá.

3 - “Você critica a medicina alternativa pela falta de testes clínicos que atestem sua eficácia, mas sabemos eles também têm suas falhas”.

Assinale a alternativa em que o comentário realizado sobre os componentes desse segmento do texto é INCORRETO:

- (A) O emprego de “você” para o entrevistado mostra certa informalidade na entrevista.
- (B) O possessivo “sua” se refere a “medicina alternativa”.
- (C) O pronome “eles” se refere a “testes clínicos”.
- (D) O pronome “suas” se refere a “eficácia”.
- (E) O conectivo “pela” tem valor de causa.

4 - “Ainda assim os alternativos precisam seguir as regras da medicina convencional?”. O termo “ainda assim” equivale a:

- (A) embora haja a medicina alternativa
- (B) mesmo com essas falhas apontadas
- (C) apesar das regras da medicina convencional
- (D) ainda que você critique a medicina alternativa
- (E) mesmo que a medicina convencional faça testes clínicos

5 - “Estudos já mostraram que você não tem mais chance de baixar o colesterol com o extrato de alho do que com o placebo”.

Essa frase do texto mostra que:

- (A) a medicina alternativa só funciona em alguns casos.
- (B) o extrato de alho é remédio comprovadamente eficiente.
- (C) o extrato de alho tem remédios tradicionais de valor equivalente.
- (D) algumas indicações da medicina alternativa são enganosas.
- (E) o placebo é superior ao extrato de alho, nos efeitos produzidos.

6 - “Se acupuntura é bom, vamos descobrir como! Apontar para as estrelas não dá”.

Essa frase final do texto recomenda:

- (A) estudos mais aprofundados
- (B) técnicas alternativas
- (C) crenças mágicas
- (D) pesquisas de novos medicamentos
- (E) volta ao passado

7 - O fato narrado no início da resposta do entrevistado só NÃO mostra:

- (A) o hábito da automedicação
- (B) a ampla difusão da medicina alternativa
- (C) a busca predominante do lucro
- (D) a falta de conhecimento científico
- (E) a eficiente formação profissional dos farmacêuticos

8 - “O que surpreende é que as pessoas acham que essas fabricantes são empresas familiares, que os produtos são feitos por elfos em montanhas”. Nesse segmento do texto, em relação aos vocábulos sublinhados, podemos afirmar corretamente que:

- (A) todos pertencem à mesma classe gramatical.
- (B) todos pertencem a classes gramaticais diferentes.
- (C) as duas últimas ocorrências pertencem à mesma classe.
- (D) as duas primeiras ocorrências pertencem à mesma classe.
- (E) a última ocorrência pertence a uma classe diferente das demais.

9 - A alternativa em que os dois vocábulos são acentuados em função da mesma regra de acentuação gráfica é:

- (A) clínica / intocável
- (B) eficácia / cardíaca
- (C) também / você
- (D) têm / só
- (E) histórico / dá

10. A alternativa em que ocorre a presença da linguagem coloquial é:

- (A) “Nos EUA, a indústria de megavitaminas e suplementos movimentou US\$ 34 bilhões em 2012”.
- (B) “O que surpreende é que as pessoas acham que essas fabricantes são empresas familiares, que os produtos são feitos por elfos em montanhas”.
- (C) “Gostaria que tivéssemos o mesmo ceticismo com a medicina alternativa que temos com a medicina moderna”.
- (D) “Se acupuntura é bom, vamos descobrir como!”
- (E) “Apontar para as estrelas não dá”.

RACIOCÍNIO LÓGICO

11 - Observe a sequência:

7, 10, 14, 19, 25, 32, ...

O próximo termo é o:

- (A) 38;
- (B) 39;
- (C) 40;
- (D) 41;
- (E) 42.

12 - Sempre que passa o fim-de-semana na serra, Mônica visita sua tia. Sempre que está na serra e faz sol, Mônica toma sorvete. No último fim de semana, Mônica estava na serra e tomou sorvete. Nesse caso, avalie as seguintes afirmativas:

- I. Mônica visitou a tia.
- II. Fez sol na serra nesse fim de semana.
- III. Mônica tomou sorvete quando visitou a tia.

Está correto o que se afirma em:

- (A) I, apenas;
- (B) I e II, apenas;
- (C) I e III, apenas;
- (D) II e III, apenas;
- (E) I, II e III.

13 - Juliano saiu de casa com uma certa quantia, gastou 30% do que tinha no mercado, depois gastou no açougue 20% do que sobrou e voltou para casa sem fazer outro gasto. Assim, Juliano voltou para casa com a seguinte percentagem da quantia com que saiu:

- (A) 44%;
- (B) 50%;
- (C) 54%;
- (D) 56%;
- (E) 58%.

14 - Valinho, Vezinho, Vitinho e Vovinho são amigos e começaram suas respectivas coleções de estampas num mesmo dia. Valinho começou com duas estampas e a cada dia adquire mais duas estampas para a coleção. Vezinho e Vitinho começaram com três estampas e a cada dia acrescentam mais três a suas respectivas coleções. Vovinho começou com cinco e a cada dia incorpora mais cinco estampas a sua coleção. Depois de x dias de coleção, eles resolveram contar o total de estampas que já tinham e perceberam que ao todo tinham 416 estampas. Nesse caso, x é igual a:

- (A) 18;
- (B) 21;
- (C) 24;
- (D) 28;
- (E) 32.

15 - Há oito caminhos que levam de Papapá a Pepepé e há quatro caminhos que levam de Pepepé a Pipipi. O número caminhos distintos que levam de Papapá até Pipipi passando por Pepepé é igual a:

- (A) 12;
- (B) 24;
- (C) 28;
- (D) 32;
- (E) 36.

SISTEMA ÚNICO DE SAÚDE-SUS

16 - A saúde tem como fatores determinantes e condicionantes, entre outros, os a seguir listados, EXCETO um. Assinale-o.

- (A) a alimentação;
- (B) o saneamento básico;
- (C) o meio ambiente;
- (D) o acesso aos bens e serviços supérfluos;
- (E) o trabalho.

17 - O Sistema Único de Saúde (SUS) é o conjunto de:

- (A) ações e serviços de saúde prestados por órgãos e instituições públicas federais, estaduais e municipais, da Administração direta e indireta e das fundações mantidas pelo Poder Público;
- (B) ações e serviços de saúde prestados por órgãos e instituições públicas federais da Administração direta e indireta mantidas pelo Poder Público;
- (C) ações e serviços de saúde e de previdência e assistência social prestados por órgãos e instituições públicas federais, estaduais e municipais da Administração direta mantidas pelo Poder Público;
- (D) ações e serviços de saúde e de previdência e assistência social prestados por órgãos e instituições públicas federais, estaduais e municipais da Administração direta e indireta e das fundações mantidas pelo Poder Público;
- (E) ações e serviços de saúde prestados por órgãos e instituições públicas federais, estaduais e municipais da Administração direta mantidas pelo Poder Público.

18 - NÃO está incluída no campo de atuação do SUS a execução de ações de:

- (A) vigilância sanitária;
- (B) vigilância epidemiológica;
- (C) saúde do trabalhador;
- (D) assistência terapêutica integral, inclusive farmacêutica;
- (E) educação formal no ensino superior na área da saúde.

19 - As atribuições comuns a todos os profissionais das Equipes de Saúde da Família, de Saúde Bucal e de Agentes Comunitários de Saúde incluem as seguintes, EXCETO uma, que está ERRADA. Assinale-a.

- (A) participar do processo de territorialização e mapeamento da área de atuação da equipe, identificando grupos, famílias e indivíduos expostos a riscos, inclusive aqueles relativos ao trabalho, e da atualização contínua dessas informações, priorizando as situações a serem acompanhadas no planejamento local;
- (B) realizar o cuidado em saúde da população adscrita exclusivamente no âmbito da unidade de saúde ou no domicílio;
- (C) realizar ações de atenção integral conforme a necessidade de saúde da população local, bem como as previstas nas prioridades e protocolos da gestão local;
- (D) garantir a integralidade da atenção por meio da realização de ações de promoção da saúde, prevenção de agravos e curativas e da garantia de atendimento da demanda espontânea, da realização das ações programáticas e de vigilância à saúde;
- (E) realizar a escuta qualificada das necessidades dos usuários em todas as ações, proporcionando atendimento humanizado e viabilizando o estabelecimento do vínculo.

20 - Para os efeitos do Pacto pela Vida é considerada idosa a pessoa com ao menos a seguinte idade:

- (A) 50 anos;
- (B) 60 anos;
- (C) 65 anos;
- (D) 70 anos;
- (E) 75 anos.

CONHECIMENTOS ESPECÍFICOS

21 - Grande parte das técnicas de armazenagem de materiais aborda a questão da “previsão para os estoques”. As informações básicas que permitem decidir quais serão as dimensões e a distribuição no tempo da demanda dos produtos acabados podem ser classificadas em duas categorias: quantitativas e qualitativas. Podemos classificar como informação quantitativa:

- (A) a evolução das vendas no passado;
- (B) a sensibilidade dos vendedores;
- (C) os pareceres dos fornecedores;
- (D) as informações dos clientes;
- (E) a opinião dos diretores.

22 - Podem ser classificadas como informações qualitativas ou não quantitativas, voltadas para a “previsão para os estoques”, aquelas relativas a:

- (A) opinião dos vendedores;
- (B) crescimento populacional;
- (C) variação da renda *per capita*;
- (D) volumes de vendas passadas;
- (E) demandas por produtos correlatos.

23 - O arranjo físico dos diversos postos de trabalho deve ter como objetivo otimizar as condições de trabalho, racionalizar os fluxos, racionalizar a disposição física e minimizar a movimentação de pessoas, materiais e documentos. Em relação às diferentes etapas do projeto de arranjo físico é correto afirmar que a etapa denominada:

- (A) “Levantamento” é aquela em que o profissional deve familiarizar-se com o plano de organização e os principais procedimentos adotados;
- (B) “Crítica do levantamento” trata da racionalização dos processos e métodos de trabalho e da intervenção planejada da forma mais eficaz possível;
- (C) “Implantação” trata do acompanhamento da mudança do arranjo físico a fim de verificar se a solução foi a melhor ou se ainda há necessidade de pequenas adaptações;
- (D) “Crítica do planejamento” é a efetivação da escolha do novo arranjo físico e, após aprovação dos usuários, deve ser programada a implantação da solução que melhor atenda à organização;
- (E) “Planejamento da solução” é tal que a equipe deve dar especial atenção às defasagens entre o que está formalmente registrado na documentação da empresa e o trabalho realmente encontrado na prática.

24 - O projeto de arranjo físico de fábrica pode ser iniciado com uma rigorosa análise do produto, uma avaliação da sequência de operações, visando estabelecer o fluxo mais racional possível, tanto de materiais quando das operações do trabalho. Usualmente, em fábricas, são adotados dois procedimentos: o *layout* pelo processo e o *layout* pelo produto. O *layout* pelo processo tem como vantagem:

- (A) planejamento e controle de produção em menores volumes e menos onerosos;
- (B) grande flexibilidade para suportar variação e flutuação da demanda;
- (C) maior velocidade e progressão na movimentação dos materiais;
- (D) menor necessidade de inventário dos materiais estocados;
- (E) menor quantidade de trabalho de natureza burocrática.

25 - Se no projeto de arranjo físico em uma fábrica, ao invés do procedimento de “*layout* pelo processo”, for adotado o “*layout* pelo produto”, será obtida a seguinte vantagem:

- (A) baixo custo de manutenção e reparos;
- (B) processo de planejamento simplificado;
- (C) minimização do manuseio dos materiais;
- (D) dedicação de menos cuidados na seleção de equipamentos;
- (E) flexibilidade para atender a modificações no desenho do produto.

26 - No controle de materiais, a determinação da quantidade a comprar depende do método a ser escolhido. O método denominado:

- (A) quantidade fixa é o adequado para bens com tempo e custo de preparação elevados;
- (B) lote a lote é baseado no cálculo da quantidade a comprar em função das necessidades reais;
- (C) reposição periódica é aquele que desconsidera as relações entre oferta e demanda dos bens armazenados;
- (D) lote fixo é baseado apenas nas quantidades já armazenadas, supondo que são fixas as quantidades demandadas;
- (E) lote econômico é tal que a compra é efetuada para uma quantidade igual à necessidade do período, sendo adequado para itens de baixo valor.

27 - O método denominado “planejamento das necessidades de materiais” (MRP – *materials requirements planning*) caracteriza-se como um método de empurrar” estoques, de preferência aplicável a itens cuja demanda dependa da demanda de outro tipo de item, sendo uma de suas vantagens:

- (A) permitir rocessamentos computacionais rápidos;
- (B) a facilidade de interferência quando em operação;
- (C) ser um sistema muito simples e de funcionamento de acordo com as expectativas;
- (D) a falta de coordenação das colocações de ordens entre os pontos do sistema logístico;
- (E) a manutenção de níveis razoáveis de estoques de segurança e minimização ou eliminação de inventários, quando for possível.

28 - Uma das desvantagens ou limitações do método denominado “planejamento das necessidades de materiais” (MRP – *materials requirements planning*) é:

- (A) impossibilidade de identificação de problemas nos processos;
- (B) inaplicabilidade à produção por lotes ou processos de montagens;
- (C) sistema não muito sensível às flutuações de curto prazo da demanda;
- (D) falta de coordenação das colocações de ordens entre os pontos do sistema logístico;
- (E) descontrole dos níveis de estoques de segurança, que podem ultrapassar limiares críticos.

29 - A curva ABC é um importante instrumento para o administrador, permitindo identificar os itens que merecem menor ou maior atenção quanto à sua gestão. Um item é colocado na “classe A” quando estiver no grupo daqueles que representarem:

- (A) preferência da população classe A;
- (B) maior peso no resultado da empresa;
- (C) menor peso unitário no resultado da empresa;
- (D) maior qualidade dentre os comercializados pela empresa;
- (E) menor qualidade dentre os comercializados pela empresa.

30 - A movimentação e o transporte de material são atualmente classificados de acordo com a atividade funcional a que se destina. A classificação adotada para os equipamentos de movimentação situa-se em grupos bastante amplos. Nessa classificação são incluídos também os dispositivos de carga, descarga e manuseio. Consideram-se como estruturas de suporte de carga:

- (A) guindastes e elevadores;
- (B) vasos, tanques e paletes;
- (C) tratores e empilhadeiras;
- (D) correias, correntes e roletes;
- (E) rampas e equipamentos de transferência.

31 - A dimensão e as características de materiais e produtos podem exigir diferentes formas de armazenamento. Dentre as formas clássicas, pode-se afirmar que:

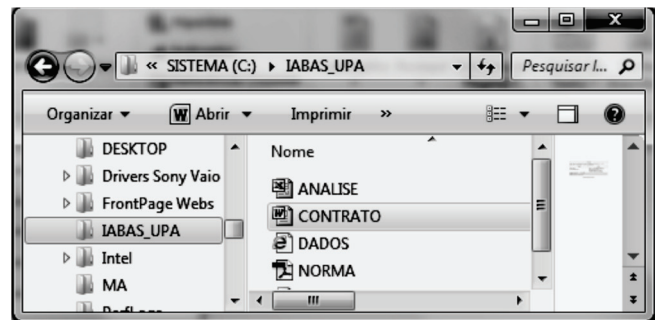
- (A) empilhamento é um arranjo que desperdiça o espaço vertical;
- (B) rampas são as formas adequadas para armazenar produtos em diferentes alturas;
- (C) caixas são em geral destinadas a peças de grande volume e adotadas para apoio de gavetas;
- (D) prateleiras são adequadas para pequenos objetos quando armazenados próximos à linha de produção;
- (E) racks são construídos especialmente para acomodar peças longas e estreitas, como tubos e vergalhões, sendo geralmente montados sobre rodízios.

32 - O armazenamento de materiais é uma das principais atividades logísticas de uma organização; para efetuar um correto controle do estoque existem alguns requisitos básicos, dos quais podemos destacar:

- (A) armazenagem dos materiais em locais diversos, a depender de sua utilização, dispensando assim um sistema de conferência de material;
- (B) descentralização das compras em diversos setores sobre a responsabilidade de especialistas específicos e procedimentos diferenciados;

- (C) não limitação de quantidades mínimas ou máximas para os itens, de modo a não burocratizar excessivamente o processo de armazenagem;
- (D) emissão de relatórios de materiais apenas anualmente e sem avaliações de desempenho, de modo a não burocratizar nem tornar morosos os processos;
- (E) coordenação adequada e apropriada de todos os setores envolvidos na compra, recebimento, teste, aprovação, estocagem e pagamento a fornecedores.

33 - Observe a figura a seguir, que mostra a janela do Computador/Windows Explorer no sistema operacional Windows 7 BR.




Nessa janela, o arquivo CONTRATO.DOC armazenado na pasta IABAS_UPA no disco C:\, aparece selecionado. Nessas condições, com relação ao arquivo selecionado, pressionar a tecla de função F2 tem por objetivo:

- (A) copiá-lo para outra pasta;
- (B) movê-lo para a lixeira;
- (C) excluí-lo definitivamente;
- (D) renomeá-lo com outro nome;
- (E) convertê-lo para outro formato.

34 - No sistema operacional Windows XP, em português, um Agente Administrativo deletou um ícone da área de trabalho, enviando-o para a Lixeira. Imediatamente após o procedimento, desejou desfazer a ação executada. Para isso, ele acionou o seguinte atalho de teclado:

- (A) Ctrl + X
- (B) Ctrl + Z
- (C) Ctrl + D
- (D) Alt + Z
- (E) Alt + X

35 - No Word 2010 BR, o acionamento do ícone  tem por finalidade alterar:

- (A) a cor do texto;
- (B) o tipo da fonte;
- (C) o tamanho da fonte;
- (D) o texto para caixa alta;
- (E) o alinhamento aplicado ao texto.

36 - O Powerpoint 2010 BR é um software direcionado para a criação de apresentações de slides e oferece ao usuário a seguinte funcionalidade:

- (A) salva as apresentações a partir da execução do atalho de teclado Ctrl + S;
- (B) exibe as apresentações por meio do acionamento da tecla de função F1;
- (C) permite salvar as apresentações como imagens com formato SCR;
- (D) configura os slides segundo as orientações vertical e horizontal;
- (E) salva as apresentações no formato padrão PPTX .

37 - A planilha a seguir foi criada no Excel 2010 BR.

	A	B	C	D
4	IABAS / UPA - 2013			
5				
6	MÊS	UPA	RESPONSÁVEL	PONTOS
7	AGO	NORTE	Cristina	2000
8		SUL	Paulo	2500
9		LESTE	Jocélio	1900
10		OESTE	Simara	3100
11	SET	NORTE	Cristina	1700
12		SUL	Paulo	2100
13		LESTE	Jocélio	1600
14		OESTE	Simara	1800
15				
16		RESUMO POR UPA		
17		NORTE		3700
18		SUL		4600
19		LESTE		3500
20		OESTE		4900

Na planilha, o valor 3700 mostrado na célula D17 foi determinado por meio do emprego da função SOMASE, com uso do conceito conhecido por referência absoluta. A expressão inserida em D17 foi copiada para D18, D19 e D20. Nessas condições, a expressão inserida em D19 foi:

- (A) =SOMASE(!B!7;!B!14;D19;!D!7;!D!14)
- (B) =SOMASE(#B#7:#B#14;D19;#D#7:#D#14)
- (C) =SOMASE(\$B\$7:\$B\$14;D19;\$D\$7:\$D\$14)
- (D) =SOMASE(&B&7:&B&14;D19;&D&7:&D&14)
- (E) =SOMASE(%B%7:%B%14;D19;%D%7:%D%14)

38 - Observe a planilha a seguir, criada no Excel 2010 BR.

	A	B	C	D	E
1					
2	70	40	30	60	50
3					
4					?
5					?

Na planilha, um usuário inseriu as fórmulas =SOMA(A2;D2) em E4 e =MAIOR(A2:E2;2) em E5. As células E4 e E5 mostrarão, respectivamente, os seguintes números:

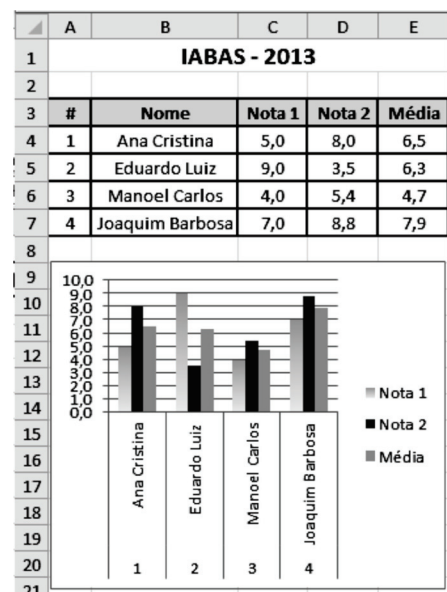
- (A) 130 e 70;
- (B) 130 e 60;
- (C) 140 e 60;
- (D) 120 e 60;
- (E) 120 e 70.

39 - Uma planilha criada no Excel 2010 BR, pode ser impressa por meio da execução de um atalho de teclado,

que corresponde ao acionamento da tecla Ctrl e, mantendo-a pressionada, clicar na seguinte tecla:

- (A) M
- (B) N
- (C) P
- (D) R
- (E) I

40 - Observe a figura abaixo, que ilustra uma planilha criada no Excel 2010 BR, com o gráfico correspondente.



Esse gráfico é conhecido como gráfico de:

- (A) área;
- (B) linhas;
- (C) barras;
- (D) colunas;
- (E) dispersão.

