

Conselho Regional de Administração

ESTADO DO MARANHÃO

CONCURSO PÚBLICO
Nº 001/2014



CRA - MA

Auxiliar Administrativo

CARGO: AUXILIAR ADMINISTRATIVO

Texto

Pregos

Foi de repente. Dois quadros que tenho na parede da sala despencaram juntos. Ninguém os havia tocado, nenhuma ventania naquele dia, nenhuma obra no prédio, nenhuma rachadura. Simplesmente caíram, depois de terem permanecido seis anos inertes. Não consegui admitir essa gratuidade, fiquei procurando uma razão para a queda, haveria de ter uma.

Poucos dias depois, numa dessas coincidências que não se explicam, estava lendo um livro do italiano Alessandro Baricco, chamado Novecentos, em que ele descrevia exatamente a mesma situação. “No silêncio mais absoluto, com tudo imóvel ao seu redor, nem sequer uma mosca se movendo, eles, zás. Não há uma causa. Por que precisamente neste instante? Não se sabe. Zás. O que ocorre a um prego para que decida que já não pode mais?”

Alessandro Baricco não procura desvendar esse mistério, apenas diz que assim é. Um belo dia a gente se olha no espelho e descobre que está velho. A gente acorda de manhã e descobre que não ama mais uma pessoa. Um avião passa no céu e a gente descobre que não pode ficar parado onde está nem mais um minuto. Zás. Nossos pregos já não nos seguram.

Costumamos chamar essa sensação de “cair a ficha”, mas acho bem mais poética e avassaladora a analogia com os quadros na parede. Cair a ficha é se dar conta. Deixar cair os quadros é um pouco mais que isso, é perder a resistência, é reconhecer que há algo que já não podemos suportar. Não precisa ser necessariamente uma carga negativa, pode ser uma carga positiva, mas que nos obriga a solicitar mais força dentro de nós.

Nascemos, ficamos em pé, crescemos e a partir daí começamos a sustentar nossas inquietações, nossos desejos inconfessos, algum sofrimento silencioso e a enormidade da nossa paciência. Nossos pregos são feitos de material maciço, mas nunca se sabe quanto peso eles podem aguentar. O quanto podemos conosco? Uma boa definição para felicidade: ser leve para si mesmo.

Sobre os meus quadros: foram recolocados na parede. Estão novamente fixos no mesmo lugar. Até que eles, ou eu, sejamos definitivamente vencidos pelo cansaço.

(Martha Medeiros. Disponível em: <http://www.dihitt.com/barra/pregos-de-martha-medeiros>. Adaptado.)

01

Acerca do gênero textual, é correto afirmar que “Pregos” trata-se de um(a)

- A) conto. B) crônica. C) descrição. D) dissertação. E) argumentação.

02

São características do gênero textual apresentado, EXCETO:

- A) Visão subjetiva. D) Tempo e espaço limitados.
B) Temas cotidianos. E) Geralmente, veiculado em jornais ou revistas.
C) Linguagem jornalística.

03

Em “Costumamos chamar essa sensação de ‘cair a ficha’...” (4º§), a expressão destacada encontra-se entre aspas pois trata-se de

- A) gíria. B) conceito. C) título de filme. D) citação textual. E) estrangeirismo.

04

No trecho “Sobre os meus quadros: foram recolocados na parede.” (6º§), os dois pontos foram utilizados para introduzir

- A) uma citação. D) uma oração apositiva.
B) uma enumeração. E) a fala de um interlocutor.
C) um esclarecimento.

05

Assinale a alternativa em que a palavra relacionada ao termo sublinhado interfere no contexto em que foi utilizado.

- A) “... é perder a resistência...” (4º§) – força.
B) “No silêncio mais absoluto...” (2º§) – pleno.
C) “Simplesmente caíram, depois de terem permanecido seis anos inertes.” (1º§) – móveis.
D) “... mas acho bem mais poética e avassaladora a analogia com os quadros na parede” (4º§) – comparação.
E) “... mas acho bem mais poética e avassaladora a analogia com os quadros na parede” (4º§) – dominadora.

06

Analisando o trecho “Até que eles, ou eu, sejamos definitivamente vencidos pelo cansaço.” (6º§), é correto afirmar, sobre o verbo em destaque, que

- A) refere-se a “eles”.
- B) deveria ficar no singular.
- C) o seu sujeito é oracional.
- D) foi atribuído a todos os núcleos do sujeito.
- E) encontra-se incorreto, visto que a forma correta seria “sejam”.

07

Assinale a alternativa em que o termo destacado NÃO é preposição.

- A) “... ele descrevia exatamente a mesma situação.” (2º§)
- B) “Sobre os meus quadros: foram recolocados na parede.” (6º§)
- C) “No silêncio mais absoluto, com tudo imóvel ao seu redor...” (2º§)
- D) “Até que eles, ou eu, sejamos definitivamente vencidos pelo cansaço.” (6º§)
- E) “Simplesmente caíram, depois de terem permanecido seis anos inertes.” (1º§)

08

Assinale a alternativa em que o termo em destaque NÃO é um adjunto adnominal.

- A) “Sobre os meus quadros...” (6º§)
- B) “Nossos pregos já não nos seguram.” (3º§)
- C) “... ele descrevia exatamente a mesma situação.” (2º§)
- D) “Alessandro Baricco não procura desvendar esse mistério...” (3º§)
- E) “Dois quadros que tenho na parede da sala despencaram juntos.” (1º§)

09

Assinale a alternativa que apresenta um período composto.

- A) “Uma boa definição para felicidade: ser leve para si mesmo.” (5º§)
- B) “O que ocorre a um prego para que decida que já não pode mais?” (2º§)
- C) “Até que eles, ou eu, sejamos definitivamente vencidos pelo cansaço.” (6º§)
- D) “No silêncio mais absoluto, com tudo imóvel ao seu redor, nem sequer uma mosca se movendo, eles, zás.” (2º§)
- E) “Ninguém os havia tocado, nenhuma ventania naquele dia, nenhuma obra no prédio, nenhuma rachadura.” (1º§)

10

Os verbos destacados encontram-se conjugados no presente do indicativo, EXCETO:

- A) “Não há uma causa.” (2º§)
- B) “O quanto podemos conosco?” (5º§)
- C) “Não precisa ser necessariamente uma carga negativa...” (4º§)
- D) “Dois quadros que tenho na parede da sala despencaram juntos.” (1º§)
- E) “O que ocorre a um prego para que decida que já não pode mais?” (2º§)

RACIOCÍNIO LÓGICO

11

Numa fábrica, cada máquina produz 18 peças em 40 minutos. Sabe-se que ao todo são 14 máquinas trabalhando simultaneamente e a produção diária é de 4.158 peças. É correto afirmar que o tempo de funcionamento dessas máquinas, em um dia, é de

- A) 8 horas.
- B) 9 horas.
- C) 11 horas.
- D) 12 horas.
- E) 13 horas.

12

Em um certo ano, um dos meses começou numa sexta-feira e terminou em um domingo. Se o mês seguinte, ainda no mesmo ano, terminou numa quarta-feira, então os dois meses considerados são

- A) maio e junho.
- B) julho e agosto.
- C) fevereiro e março.
- D) janeiro e fevereiro.
- E) setembro e outubro.

13

Anderson e Juliano são irmãos e nasceram em anos bissextos da segunda metade do século XX. Sabe-se que a soma dos algarismos do ano em que Anderson nasceu é igual a 18 e que Juliano é 8 anos mais novo que seu irmão. A soma dos algarismos do ano em que Juliano nasceu é igual a

- A) 19. B) 23. C) 24. D) 26. E) 27.

14

Em um restaurante são preparados 3 tipos de pratos à base de carne, diariamente. Considere que o cozinheiro sempre escolhe esses pratos dentre 10 receitas. Sendo assim, de quantas maneiras o cozinheiro pode escolher 3 receitas para um único dia?

- A) 90. B) 120. C) 240. D) 360. E) 720.

15

Em uma determinada casa, o acesso à área externa é feito por um portão e à área interna por duas portas, sendo uma na frente e a outra nos fundos da casa. Sabe-se que três chaves: uma grande, uma média e uma pequena foram colocadas cada uma em um chaveiro de cor diferente: amarelo, azul e verde. Considere também que:

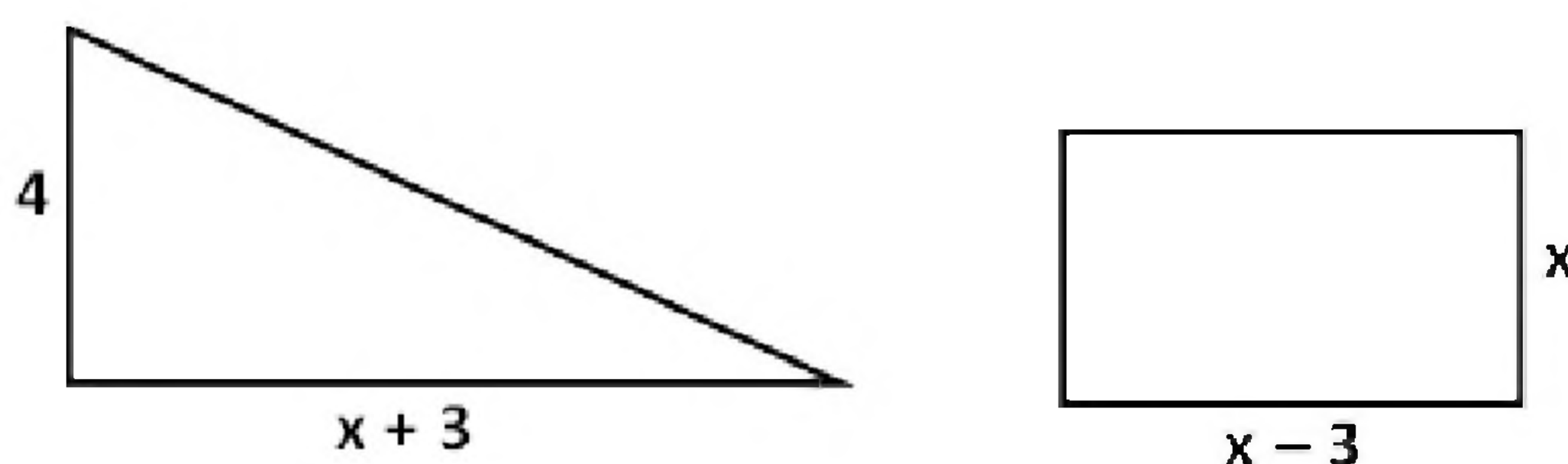
- a chave da porta dos fundos é pequena;
- a chave do portão está no chaveiro amarelo;
- no chaveiro azul encontra-se a chave média.

É correto afirmar que

- A) a chave grande não é a do portão.
 B) a chave do portão é a de tamanho médio.
 C) a chave pequena não está no chaveiro verde.
 D) no chaveiro amarelo encontra-se a chave grande.
 E) no chaveiro azul encontra-se a chave da porta dos fundos.

16

O triângulo e o retângulo apresentam áreas iguais.

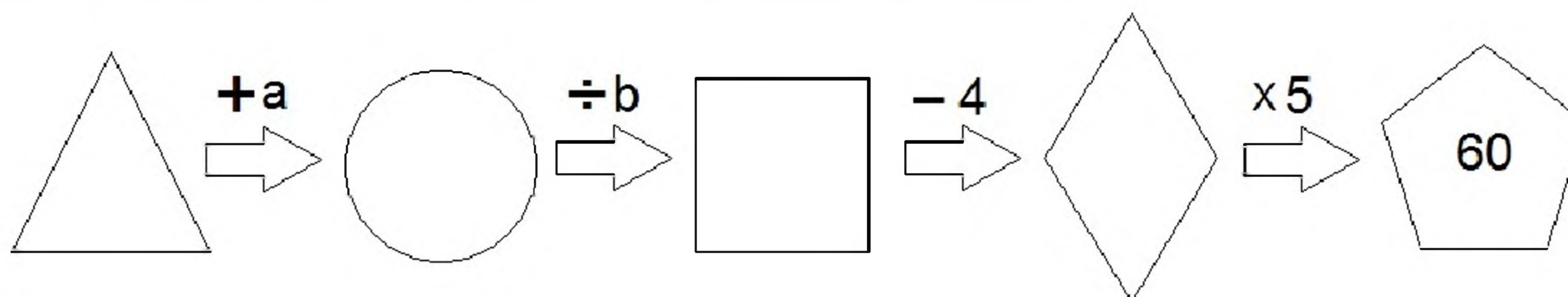


É correto afirmar que o valor de x é um número

- A) decimal.
 B) múltiplo de 5.
 C) divisível por 4.
 D) par menor que 7.
 E) ímpar maior que 3.

17

Cada figura da sequência apresentada corresponde a um número natural.



Considere que o produto entre a e b é igual a 18 e que b é igual ao dobro de a . Assim, o triângulo corresponde ao número

- A) 89. B) 93. C) 97. D) 103. E) 105.

18

Considere a progressão aritmética:

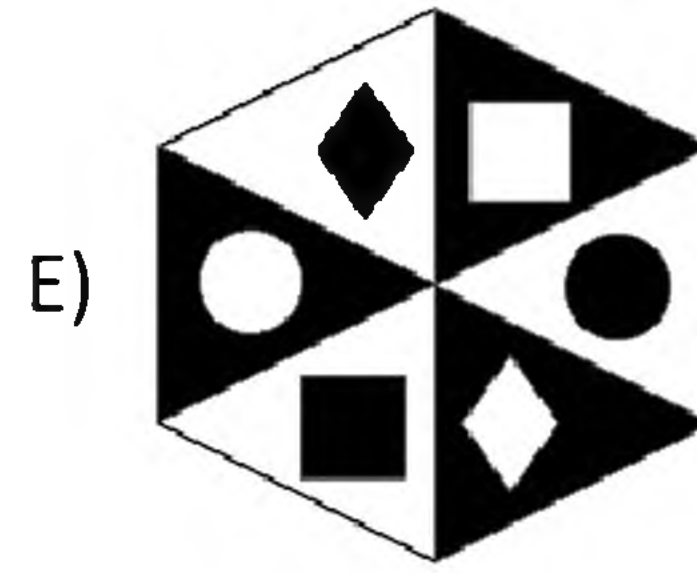
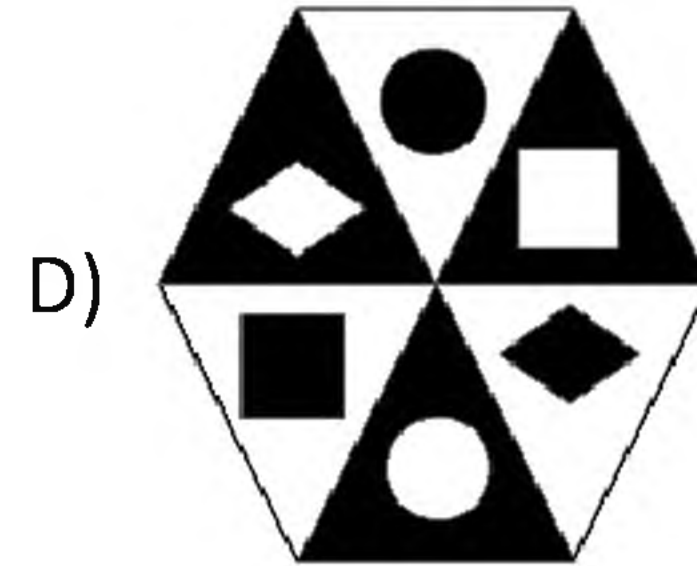
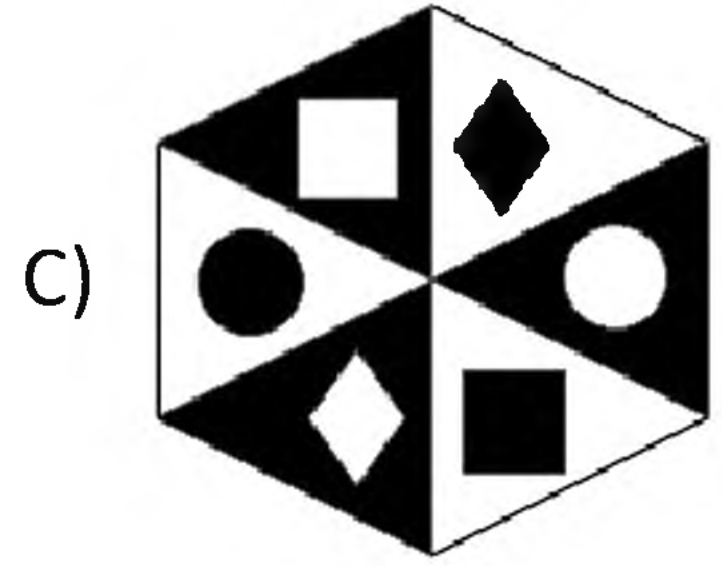
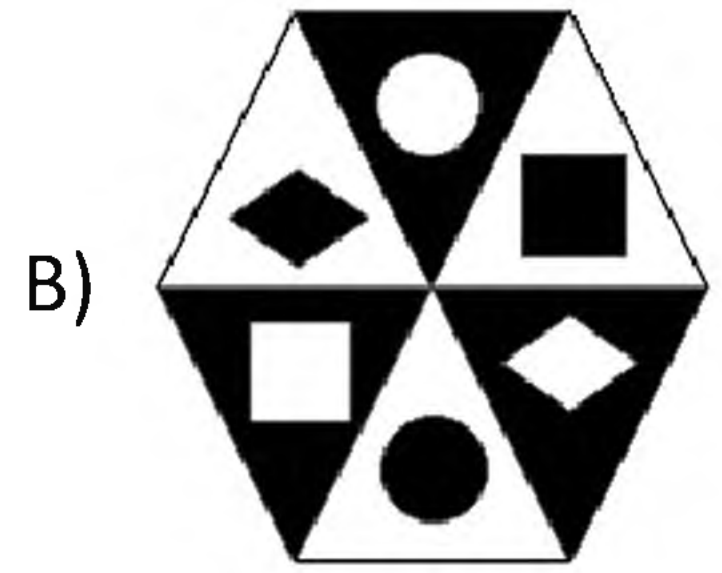
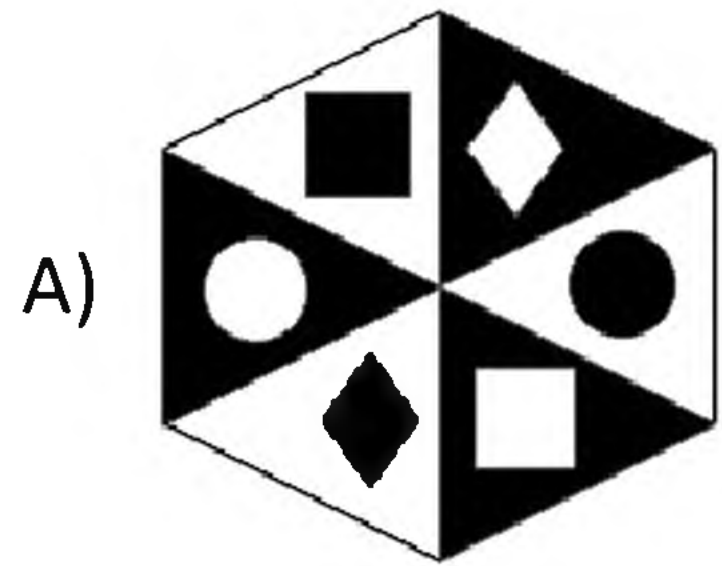
11, 14, 17, 20, 23, 26, 29, ...

Qual dos números NÃO pertence a essa sequência?

- A) 188. B) 266. C) 377. D) 433. E) 599.

19

Qual das figuras apresentadas é diferente das demais?



20

Um automóvel percorreu a distância entre duas cidades com velocidade constante andando, a cada segundo, 25 metros. Considere que se a sua velocidade fosse de 80 km/h, ele teria gasto 15 minutos a mais para chegar ao seu destino. Sendo assim, é correto afirmar que a distância entre essas cidades é de

- A) 180 km. B) 200 km. C) 220 km. D) 250 km. E) 280 km.

CONHECIMENTOS ESPECÍFICOS

21

NÃO é um ato administrativo enunciativo:

- A) Parecer. B) Certidão. C) Atestado. D) Apostilas. E) Autorização.

22

“Ajustes que a Administração, nessa qualidade, celebra com pessoas físicas ou jurídicas, públicas ou privadas, para a consecução de fins públicos, segundo regime jurídico de direito público.” Trata-se de

- A) portaria. D) ato administrativo.
B) parecer. E) contrato administrativo.
C) memorando.

23

Em um arquivo físico, o ideal é que se encontrem os documentos que precisam ser localizados sem procurar em mais de dois lugares; mas nem sempre isso ocorre. Tal fato acontece devido aos seguintes fatores, EXCETO:

- A) Falta de organização e controle.
B) Falta de critério no momento de arquivar.
C) Reavaliação periódica do sistema de arquivamento.
D) Dificuldade em descartar documentos que não precisam ser arquivados.
E) Dificuldade em escolher o melhor método de arquivamento que atenda às necessidades da empresa.

24

“A correspondência enviada por _____ é composta, geralmente, de mensagens curtas. O que caracteriza também essa modalidade de correspondência e a diferença de outros veículos é o aspecto informal que possui, assim como o curto espaço de tempo em que as mensagens são recebidas. Essa informalidade permite que todos se comuniquem por meio desse tipo de veículo.” Assinale a alternativa que completa corretamente a afirmativa anterior.

- A) fax D) carta comercial
B) telegrama E) correio eletrônico
C) memorando

25

“A _____ deve primar pela concisão e precisão vocabular. A preocupação deve ser com a informação e o receptor. Por isso é que se recomenda o uso de denotação, de palavras simples, conhecidas, sem adjetivação excessiva nem muitos advérbios.” Assinale a alternativa que completa corretamente a afirmativa anterior.

- A) verbosidade
 B) generalização
 C) linguagem oral
 D) redação prolixa
 E) redação administrativa

26

“Documento que propicia a troca de informações entre áreas dentro de um mesmo órgão. Outros documentos possuem as mesmas características, tais como papeleta e nota.” Trata-se de

- A) ata. B) ofício. C) circular. D) memorando. E) carta comercial.

27

Considerando as características e peculiaridades do ofício, marque V para as afirmativas verdadeiras e F para as falsas.

- () O timbre existe quando o papel utilizado pertence à repartição oficial ou à empresa.
 () O ofício é sempre numerado, seja oriundo de pessoa física ou jurídica.
 () A existência da epígrafe não é obrigatória, mas conveniente, pois constando agiliza a tramitação do documento no ambiente de destino.
 () Se houver anexos, será indicado seu número (Anexo: 1, Anexos: 3) entre a assinatura e o endereçamento.

A sequência está correta em

- A) F, V, F, F. B) V, F, V, V. C) V, V, F, F. D) F, V, V, V. E) V, F, V, F.

28

Considere a tabela produzida com a ferramenta *Microsoft Office Word 2007* (configuração padrão).

ANO	FACULDADE	APROVADOS
2011	FAC01	1000
2012	FAC01	980
2013	FAC02	720


O recurso de combinar as 3 células selecionadas na parte superior, formando uma única célula, é conhecido como

- A) Mesclar Células. D) Formatação Condicional.
 B) Congelar Células. E) Auto Formatação de Células.
 C) Distribuir Células.

29

Considere a planilha produzida com a ferramenta *Microsoft Office Excel 2007* (configuração padrão).


	A	B
1	CÓDIGO DO CURSO	NOME DO CURSO
2	BT54	Tecnologia em Logística
3	AN45	Engenharia de Produção
4	ZY01	Bacharelado em Administração
5	YI90	Tecnologia em Marketing
6	KT66	Tecnologia em Gestão Comercial
7		

Considerando que foram selecionadas as células correspondentes ao intervalo B1:B6 e que, na guia Dados, no grupo classificar e filtrar, foi pressionado o botão  (considere que foi selecionada a opção “Expandir a Seleção” após o pressionamento do botão), é correto afirmar que esta tabela será

- A) alinhada por nome do curso.
 B) classificada em ordem crescente por nome do curso.
 C) classificada em ordem crescente por código do curso.
 D) classificada em ordem decrescente por nome do curso.
 E) classificada em ordem decrescente por código do curso.

30

O colaborador do escritório do CRA-MA possui a seguinte imagem armazenada no computador:



O coordenador do setor solicitou que fosse digitada uma correspondência oficial com a ferramenta *Microsoft Office Word 2007* (configuração padrão) e adicionasse a imagem com a logomarca do CRA-MA, que está armazenada no computador. O procedimento para realizar tal operação é clicar no local onde a imagem será adicionada e, na guia

- A) Inserir, no grupo Ilustrações, clicar em Imagem e selecionar a imagem com a logomarca do CRA-MA.
- B) Inserir, no grupo Figura, clicar em Adicionar Imagem e selecionar a imagem com a logomarca do CRA-MA.
- C) Exibição, no grupo Figura, clicar em Adicionar Imagem e selecionar a imagem com a logomarca do CRA-MA.
- D) Exibição, no grupo Imagem, clicar em Adicionar Figura e selecionar a imagem com a logomarca do CRA-MA.
- E) *Layout* da Página, no grupo Formatação, clicar em Adicionar Figura e selecionar a imagem com a logomarca do CRA-MA.

CONHECIMENTOS GERAIS

31

Em maio de 2014, contrariando o Congresso Nacional, os ministros do TSE decidiram, por unanimidade, ratificar a Resolução de 2013 da própria Corte que havia alterado o tamanho das bancadas na Câmara dos Deputados já para as eleições de outubro deste ano. A última alteração nas bancadas federais, que estabeleceu o total de 513 cadeiras na Câmara, ocorreu no início da década de 1990. Qual é a base para o novo cálculo do número de deputados federais por cada unidade da federação do Brasil?

- A) Extensão territorial dos estados e regiões brasileiras.
- B) Representatividade econômica de cada estado do Brasil.
- C) Programa das Nações Unidas para o Desenvolvimento – PNUD.
- D) Censo 2010, do Instituto Brasileiro de Geografia e Estatística – IBGE.
- E) Pesquisa Nacional por Amostra de Domicílios – PNAD, do Governo Federal.

32

O Brasil vive, em 2014, mais um processo eleitoral onde serão eleitos presidente, governadores, senadores, deputados federais, distritais e estaduais. No que diz respeito ao Senado, cada unidade da federação nesta eleição irá escolher

- A) um representante.
- B) dois representantes.
- C) três representantes.
- D) de um a cinco senadores, dependendo das vagas disponíveis.
- E) o número de senadores proporcional ao número de eleitores.

33

Um estudo produzido pelo Programa das Nações Unidas para os Assentamentos Humanos (ONU-HABITAT), em 2012, indicou que a população urbana dessa região deve chegar à média de 89%, em 2050. Os países que o estudo aponta que terão taxas de urbanização superiores a 90% são aqueles que se concentram numa extremidade do continente juntamente com a maior nação da América Latina. Assinale-os.

- A) Bolívia, Chile, México, Paraguai e Uruguai.
- B) Argentina, Brasil, Chile, Paraguai e Uruguai.
- C) Argentina, Bolívia, Brasil, México e Paraguai.
- D) Argentina, Brasil, México, Peru e Venezuela.
- E) Argentina, Brasil, Costa Rica, México e Venezuela.

34

No Dia Mundial Sem Tabaco, em 31 de maio de 2014, o governo do Brasil anunciou

- A) que o Brasil possui o maior número de óbitos que têm como causa o uso do cigarro.
- B) a regulamentação de uma lei que apresenta uma série de restrições ao ato de fumar.
- C) o cancelamento imediato da produção e exportação de fumo de forma legal no Brasil.
- D) a data em que se tornará proibida em todo o Brasil a comercialização legal de cigarros.
- E) que o país é o maior mercado consumidor de produtos derivados do fumo do mundo.

35

Preocupado com a expansão dos movimentos radicais na Europa, o governo de Israel pediu, neste primeiro semestre de 2014, que os partidos de direita do continente não se aliem a partidos integrantes ou ideologias que considera “neonazistas, racistas”, alegando que não reconhecerá blocos políticos que tenham ligações com tais grupos. O temor israelense está relacionado à

- A) invasão de seu território pela Alemanha nazista, causando a diáspora do povo judeu, que se espalhou por várias regiões do planeta.
- B) relação destes grupos com os grupos terroristas árabes e aos países do Oriente Médio que não reconhecem e aceitam o estado de Israel.
- C) história dos judeus que foram perseguidos, aprisionados e assassinados pelo nazismo na Alemanha, fato conhecido como Holocausto.
- D) luta do estado de Israel contra os governos totalitários, o que o eleva ao *status* de principal defensor dos direitos humanos no mundo.
- E) preparação do estado de Israel para integrar a União Europeia, a partir de 2016, o que inclui uma série de acordos e adequações políticas.

O texto abaixo contextualiza o tema tratado nas questões de 36 a 38. Leia-o atentamente.

O Brasil abriga hoje 5.208 refugiados, sendo os colombianos e os angolanos quase metade dos estrangeiros com o *status*. É o que mostram dados atualizados do Comitê Nacional de Refugiados (Conare), do Ministério da Justiça, obtidos pelo G1. Os números revelam que os pedidos de refúgio no país têm crescido exponencialmente ao longo dos anos. Em 2013, foram 5.256, ante 566 em 2010. As solicitações aceitas também aumentaram: de 126, em 2010, para 649 no ano passado.

(Disponível em: www.g1.globo.com – em 24/04/2014, às 11h27.)

36

Dentre as afirmativas a seguir, marque aquela que conceitua corretamente a condição de refugiado.

- A) Condição no qual um indivíduo conquista a titularidade de dupla ou tripla nacionalidade, sendo integrante de dois ou mais nações.
- B) Cidadão retirante de um país por decreto de autoridade vigente, como pena ou castigo, devido às ações de inconformismo político.
- C) Indivíduo que não é titular de qualquer nacionalidade, ou seja, é uma pessoa que não é considerado nacional por qualquer Estado constituído do planeta.
- D) Migrante que deixa seu país natal para ir a outro com a intenção de morar e trabalhar por tempo determinado ou indeterminado, vivendo ilegalmente por uma melhor condição de vida e de trabalho com remunerações melhores.
- E) Pessoa que necessita estar fora do seu país em função de fundado temor de perseguição por motivos de raça, religião, nacionalidade, opinião política ou participação em grupos sociais ou devido a conflitos armados, violência generalizada e violação massiva dos direitos humanos.

37

“O maior grupo de refugiados, no Brasil, vem da Colômbia, sendo que há entre os mais de 1.100 refugiados deste país, quantidade representativa de reassentados, pois são refugiados que estavam no _____, país vizinho à Colômbia, que já possui mais de 50 mil colombianos refugiados, fugindo de conflitos envolvendo os(as) _____ na Colômbia.” Assinale a alternativa que completa correta e sequencialmente a afirmativa anterior.

- A) Chile / governos militares
- B) Paraguai / milícias bolivarianas
- C) México / quadrilhas de traficantes
- D) Uruguai / guerrilhas com os revolucionários venezuelanos
- E) Equador / Forças Armadas Revolucionárias Colombianas – FARC

38

Os angolanos aparecem na segunda posição do *ranking* de refugiados no Brasil, com 1.062 pessoas, no entanto, há expectativas de diminuição deste número, já que

- A) a guerra entre Angola e Congo, países vizinhos, chegou ao final em 2010.
- B) findou-se a ditadura militar que se apoderou do país nas duas últimas décadas.
- C) não vive mais uma guerra civil que, após décadas, foi encerrada no início deste século.
- D) o governo brasileiro decidiu não mais aceitar os pedidos de refúgios oriundos desta nação.
- E) o país vive, hoje, momento de grande crescimento econômico, superior ao registrado na China.

39

Em 2013, o número de haitianos que entrou no Brasil triplicou, no entanto, eles não aparecem nas relações apresentadas pelo Comitê Nacional de Refugiados (Conare) porque

- A) foram todos atendidos de forma especial pela política de assistência social do Brasil e reconduzidos ao Haiti.
- B) entram ilegalmente no país e, para eles, há um visto especial humanitário, que permite a permanência no país.
- C) os números não atingiram patamares adequados para que o país fosse inserido nas relações apresentadas pelo Conare.
- D) são oriundos de uma nação não reconhecida internacionalmente como estado soberano, já que o Haiti pertence à França.
- E) vivem clandestinamente no Brasil em busca do visto de permanência provisória ou definitiva, a mercê da extradição quando detidos.

40

A charge apresentada é uma crítica a escassez de água aguda que ocorre neste primeiro semestre de 2014 em que grande capital brasileira?



(Nani para o site Charge Online. Disponível em: <http://www.chargeonline.com.br/doano.htm>.)

- A) Brasília.
- B) Salvador.
- C) São Paulo.
- D) Rio de Janeiro.
- E) Belo Horizonte.

INSTRUÇÕES

1. Material a ser utilizado: caneta esferográfica de tinta azul ou preta. Os objetos restantes devem ser colocados em local indicado pelo fiscal da sala, inclusive aparelho celular desligado e devidamente identificado.
2. Não é permitida, durante a realização das provas, a utilização de máquinas calculadoras e/ou similares, livros, anotações, impressos ou qualquer outro material de consulta, protetor auricular, lápis, borracha, corretivo. Especificamente, não é permitido que o candidato ingresse na sala de provas sem o devido recolhimento, com respectiva identificação, dos seguintes equipamentos: *bip*, telefone celular, *walkman*, agenda eletrônica, *notebook*, *palmtop*, *ipad*, *ipod*, *tablet*, *smartphone*, mp3, mp4, receptor, gravador, calculadora, câmera fotográfica, controle de alarme de carro, relógio de qualquer modelo etc.
3. Durante a prova, o candidato não deve levantar-se, comunicar-se com outros candidatos e nem fumar.
4. A duração da prova é de 03 (três) horas, já incluindo o tempo destinado à entrega do Caderno de Provas e à identificação – que será feita no decorrer da prova – e ao preenchimento do Cartão de Respostas (Gabarito).
5. Somente em caso de urgência pedir ao fiscal para ir ao sanitário, devendo no percurso permanecer absolutamente calado, podendo antes e depois da entrada sofrer revista através de detector de metais. Ao sair da sala no término da prova, o candidato não poderá utilizar o sanitário. Caso ocorra uma emergência, o fiscal deverá ser comunicado.
6. O Caderno de Provas consta de 40 (quarenta) questões. Leia-o atentamente.
7. **As questões das provas objetivas são do tipo múltipla escolha, com 05 (cinco) opções (A a E) e uma única resposta correta.**
8. Ao receber o material de realização das provas, o candidato deverá conferir atentamente se o Caderno de Provas corresponde ao cargo a que está concorrendo, bem como se os dados constantes no Cartão de Respostas (Gabarito) que lhe foi fornecido estão corretos. Caso os dados estejam incorretos, ou o material esteja incompleto, ou tenha qualquer imperfeição, o candidato deverá informar tal ocorrência ao fiscal.
9. Os fiscais não estão autorizados a emitir opinião e prestar esclarecimentos sobre o conteúdo das provas. Cabe única e exclusivamente ao candidato interpretar e decidir.
10. O candidato poderá retirar-se do local de provas somente a partir dos 90 (noventa) minutos após o início de sua realização, contudo não poderá levar consigo o Caderno de Provas, sendo permitida essa conduta apenas no decurso dos últimos 30 (trinta) minutos anteriores ao horário previsto para o seu término.
11. Os 3 (três) últimos candidatos de cada sala somente poderão sair juntos. Caso o candidato insista em sair do local de aplicação das provas, deverá assinar um termo desistindo do Concurso Público e, caso se negue, deverá ser lavrado Termo de Ocorrência, testemunhado pelos 2 (dois) outros candidatos, pelo fiscal da sala e pelo coordenador da unidade.

RESULTADOS E RECURSOS

- As provas aplicadas, assim como os gabaritos preliminares das provas objetivas serão divulgados na *Internet*, no site **www.idecan.org.br**, a partir das 16h00min do dia subsequente ao da realização das provas.
- O candidato que desejar interpor recursos contra os gabaritos oficiais preliminares das provas objetivas disporá de **02 (dois) dias úteis**, a partir do dia subsequente à divulgação, em requerimento próprio disponibilizado no *link* correlato ao Concurso Público no site **www.idecan.org.br**.
- A interposição de recursos deverá ser feita **via Internet**, através do **Sistema Eletrônico de Interposição de Recursos**, com acesso pelo candidato ao fornecer dados referentes à sua inscrição apenas no prazo recursal, ao **IDECAN**, conforme disposições contidas no site **www.idecan.org.br**, no *link* correspondente ao Concurso Público.