



CONTADOR

CON08

CADERNO 1

LEIA COM ATENÇÃO AS INSTRUÇÕES

- 1 - A duração da prova é de 4 horas, já incluído o tempo de preenchimento do cartão de respostas.
- 2 - O candidato que, na primeira hora de prova, se ausentar da sala e a ela não retornar, será eliminado.
- 3 - Os três últimos candidatos ao terminar a prova deverão permanecer na sala e somente poderão sair juntos do recinto, após aposição em ata de suas respectivas assinaturas.
- 4 - Você **NÃO** poderá levar o seu caderno de questões (Provas) e nem copiar o gabarito, pois a imagem do seu **cartão de respostas** será disponibilizado em <http://concursos.biorio.org.br> na data prevista no cronograma.

INSTRUÇÕES - PROVA OBJETIVA

- 1- Confira atentamente se este caderno de questões (Provas), que contém **60 questões objetivas**, está completo.
- 2 - Cada questão da Prova Objetiva conterà **5 (cinco) opções** e somente uma correta.
- 3 - Confira **se seus dados pessoais**, o **curso** escolhido, indicados no **cartão de respostas**, estão corretos. Se notar qualquer divergência, notifique imediatamente ao Fiscal de Sala ou ao Chefe de Local. Terminada a conferência, você deve assinar o **cartão de respostas** no espaço apropriado.
- 4 - Confira atentamente se o **curso** e o **número do caderno** que consta neste caderno de questões é o mesmo do que consta em seu **cartão de respostas**. Se notar qualquer divergência, notifique imediatamente ao Fiscal de Sala ou ao Chefe de Local.
- 5 - Cuide de seu **cartão de respostas**. Ele não pode ser rasurado, amassado, dobrado nem manchado.
- 6 - Se você marcar mais de uma alternativa, sua resposta será considerada errada mesmo que uma das alternativas indicadas seja a correta.

AGENDA

- **18/05/2014, PROVAS OBJETIVAS/RECEBIMENTO DE TÍTULOS.**
- **19/05/2014**, Divulgação dos Gabaritos Preliminares e Disponibilização dos Exemplares das Provas Objetivas.
- **20/05/2014**, Disponibilização das Imagens dos Cartões de Respostas das Provas Objetivas.
- **21 e 22/05/2014**, Interposição de Recursos Administrativos quanto as questões das Provas Objetivas.
- **29/05/2014**, Divulgação dos Gabaritos Definitivos Oficiais.
- **02/06 a 03/06/2014**, Interposição de Recursos Administrativos contra as Notas Preliminares das Provas Objetivas.
- **09/06/2014**, Divulgação do Resultado Final das Notas das Provas Objetivas.
- **10/06/2014**, Relação dos Candidatos convocados para a Prova Prática.
- **10/06/2014**, Relação dos Candidatos que terão os Títulos Analisados.
- **16/06/2014**, Divulgação das Notas Preliminares da Avaliação de Títulos.
- **14/06 e/ou 15/06/2014, PROVAS PRÁTICAS.**
- **16/06/2014**, Divulgação das Notas Preliminares das Provas Práticas.
- **17/06 a 18/06/2014**, Interposição de Recursos contra as Notas Preliminares das Provas Práticas.
- **17/06 a 18/06/2014**, Interposição de recurso contra as Notas Preliminares da Avaliação de Títulos.
- **25/06/2014**, Resultado Final do Concurso Público.



INFORMAÇÕES:

- **Tel:** 21 3525-2480 das 9 às 18h
- **Internet:** <http://concursos.biorio.org.br>
- **E-mail:** nuclep2014@biorio.org.br

LÍNGUA PORTUGUESA

TEXTO

ADOÇÃO FEDERAL

Cristovam Buarque

Quando um banco entra em crise, o Banco Central intervém para evitar a falência; quando a segurança de uma cidade entra em crise, o governo federal aciona a Guarda Nacional; quando a saúde fica catastrófica, importam-se médicos; quando uma estrada é destruída por chuva, o governo federal auxilia o estado; mas quando um município não tem condições de oferecer boa escola a suas crianças, o governo federal fecha os olhos, porque isso não é responsabilidade da União. Limita-se a distribuir, por meio do Fundeb, R\$10,3 bilhões por ano, equivalente a R\$205 por criança ou R\$2 a cada dia letivo.

A boa educação de uma criança, assumindo um bom salário para atrair os melhores alunos das universidades para o magistério, em boas e bem equipadas novas escolas, todas em horário integral, custaria R\$9.500 por ano, por aluno. Das 5.564 cidades brasileiras, a receita orçamentária total não chega a R\$9.500 por criança em idade escolar. Se considerarmos os gastos fixos e custeios da administração municipal, nenhuma das nossas cidades teria condições de oferecer educação de qualidade a suas crianças.

Para mudar tal panorama, o país tem dois caminhos: deixar que o futuro das nossas crianças dependa de alta renda de sua família ou responsabilizar a União pela educação dos filhos do Brasil.

Questão 1

O primeiro parágrafo do texto faz uma crítica a aspectos da educação no Brasil; a estratégia argumentativa empregada é a de:

- (A) fazer uma simplificação exagerada de outros problemas.
- (B) traçar uma analogia entre a educação e outros setores.
- (C) mostrar dados estatísticos que fundamentem a crítica.
- (D) indicar, por meio de testemunhos, a situação educacional do país.
- (E) expor uma opinião imparcial sobre a situação.

Questão 2

“Quando um banco entra em crise, o Banco Central intervém para evitar a falência; quando a segurança de uma cidade entra em crise, o governo federal aciona a Guarda Nacional; quando a saúde fica catastrófica, importam-se médicos; quando uma estrada é destruída por chuva, o governo federal auxilia o estado; mas quando um município não tem condições de oferecer boa escola a suas crianças, o governo federal fecha os olhos, porque isso não é responsabilidade da União.”

Segundo esse segmento do texto, o que marca a atuação do governo federal em relação à Educação é:

- (A) a falta de iniciativa.
- (B) o distanciamento de causas sociais.
- (C) a atitude de isentar-se de culpas.
- (D) o desinteresse por áreas não políticas.
- (E) o abandono de setores dispendiosos.

Questão 3

“...o Banco Central intervém para evitar a crise...”; a forma verbal desse mesmo verbo que apresenta erro é:

- (A) O Banco Central interveio na questão.
- (B) Quando o Banco Central intervier, tudo muda.
- (C) Quando o Banco Central intervinha, a situação piorava.
- (D) Se o Banco Central intervisse, os problemas acabariam.
- (E) O Banco Central interviria, se a situação piorasse.

Questão 4

“Limita-se a distribuir, por meio do Fundeb, R\$10,3 bilhões por ano, equivalente a R\$205 por criança ou R\$2 a cada dia letivo.”

Esse segmento do primeiro parágrafo tem a finalidade de mostrar que:

- (A) há enorme desperdício de dinheiro público.
- (B) as verbas da Educação são desviadas de seus reais objetivos.
- (C) o dinheiro público para a Educação é insuficiente.
- (D) a falta de planejamento educativo traz má distribuição de verbas.
- (E) há falta de apoio político à Educação.

Questão 5

Entre as marcas de uma educação de qualidade, de acordo com o segundo parágrafo do texto, só NÃO está:

- (A) o horário integral de estudo.
- (B) a valorização dos professores.
- (C) melhores salários para o magistério.
- (D) melhor equipamento das escolas.
- (E) uma nova filosofia pedagógica.

Questão 6

“A boa educação de uma criança, assumindo um bom salário para atrair os melhores alunos das universidades para o magistério, em boas e bem equipadas novas escolas,...”. As ocorrências do vocábulo sublinhado nesse segmento do texto servem para mostrar uma característica da linguagem, que é:

- (A) a multiplicidade de significados de um mesmo vocábulo.
- (B) a impossibilidade de um vocábulo possuir sinônimos adequados.
- (C) a capacidade de um vocábulo modificar seu significado básico.
- (D) a possibilidade de um vocábulo ser empregado em linguagem figurada.
- (E) a variedade de classes assumidas por um mesmo vocábulo.

Questão 7

O texto lido tem a função de:

- (A) chamar a atenção do governo federal para a péssima situação dos professores.
- (B) alertar as autoridades para as deficiências no ensino.
- (C) criticar os municípios pelo desprezo da área escolar.
- (D) destacar a necessidade de atrair gente qualificada para o magistério.
- (E) sugerir soluções para os problemas da área da Educação.

Questão 8

“...assumindo um bom salário para atrair os melhores alunos...”; a forma inadequada de substituição da frase sublinhada é:

- (A) para que se atraíam os melhores alunos.
- (B) para que se atraísse os melhores alunos.
- (C) para que sirva de atração aos melhores alunos.
- (D) para que se atraíssem os melhores alunos.
- (E) para que os melhores alunos fossem atraídos.

Questão 9

O título dado ao texto – *adoção federal* – já encaminha uma das soluções propostas no último parágrafo do texto que é a de:

- (A) responsabilizar a União pela educação.
- (B) fazer aumentar a renda das famílias.
- (C) melhorar a qualidade de ensino das escolas federais.
- (D) transferir a responsabilidade dos municípios para os estados.
- (E) sugerir a adoção de crianças pobres por famílias mais abastadas.

Questão 10

O termo em função adjetiva sublinhado abaixo que NÃO mostra uma opinião do autor do texto é:

- (A) “quando a saúde fica catastrófica”
- (B) “assumindo um bom salário”
- (C) “todas em horário integral”
- (D) “A boa educação de uma criança”
- (E) “oferecer educação de qualidade”

RACIOCÍNIO LÓGICO

Questão 11

Observe os quatro primeiros termo da sequência a seguir: 987, 976, 964, 953, O oitavo termo da sequência é o:

- (A) 891
- (B) 896
- (C) 901
- (D) 924
- (E) 936

Questão 12

Sempre que é feriado, Adamastor vai pescar ou vai ao cinema. Hoje não é feriado. Assim, hoje Adamastor

- (A) não foi pescar nem foi ao cinema.
- (B) foi pescar mas não foi ao cinema.
- (C) foi ao cinema mas não foi pescar.
- (D) pode ter ido ao cinema ou ido pescar.
- (E) não foi pescar.

Questão 13

As equipes que ficam, a cada turno, de plantão num certo setor são formadas por um chefe e três funcionários. A tabela abaixo mostra as escalas de plantão para quatro dias:

Dia	1	2	3	4
Equipe	Márcio	Márcio	Batista	Dorival
	Batista	Batista	João	Lopes
	Cardoso	Lopes	Cardoso	Batista
	Dorival	Gastão	Lopes	Gastão

Nessas escalas há dois chefes e cinco funcionários. Os chefes são:

- (A) Cardoso e Batista.
- (B) Márcio e Lopes.
- (C) Cardoso e Gastão.
- (D) Dorival e João.
- (E) Lopes e João.

Questão 14

O capítulo III de um livro começa na página 187 e vai até a página 235. João resolveu ler o capítulo todo num único dia. João gasta em média 4 minutos e meio para ler uma página. Para cumprir a resolução ele gastará:

- (A) 3h 36min.
- (B) 3h 40min 30s.
- (C) 3h 45min.
- (D) 3h 49min 30s.
- (E) 3h 54min.

Questão 15

A soma das idades dos dois irmãos mais novos de Pedro é 55, e a soma das idades de seus dois irmãos mais velhos é 61. Daqui a onze anos, a soma das idades dos cinco irmãos será igual a:

- (A) 190.
- (B) 192.
- (C) 196.
- (D) 198.
- (E) 200.

Questão 16

No planeta distante de XFRYW, cada ano tem 262 dias. JCV mora nesse planeta e resolveu dar uma festa na qual quer ter certeza de que ao menos duas pessoas fazem aniversário no mesmo dia. Para isso, JVC terá de reunir no mínimo a seguinte quantidade de pessoas:

- (A) 263.
- (B) 524.
- (C) 1.580.
- (D) 36.460.
- (E) 42.520.

Questão 17

Nas linhas da tabela abaixo, o terceiro número foi obtido a partir dos dois primeiros de acordo com uma mesma regra.

8	9	7
12	4	20
25	31	19
19	8	?

Assim, a interrogação na quarta linha corresponde ao:

- (A) 17.
- (B) 18.
- (C) 19.
- (D) 20.
- (E) 21.

Questão 18

Observe a sequência:

Z, W, S, N, ...

A próxima letra é:

- (A) F.
- (B) G.
- (C) H.
- (D) I.
- (E) J.

Questão 19

Joaquim, Mendonça e Lorico são funcionários da Nuclep. Um é engenheiro, outro é mecânico e o terceiro é administrador. Joaquim é mais alto do que o administrador. Mendonça é mecânico. Lorico não é o mais baixo dos três. Assim:

- (A) Lorico é o engenheiro e é o mais baixo.
- (B) Mendonça é o mais alto e Joaquim é o administrador.
- (C) Joaquim é o mais baixo e Lorico é o administrador.
- (D) Lorico é o mais alto e Joaquim é o administrador.
- (E) Mendonça é o mais baixo e Joaquim é o engenheiro.

Questão 20

A negação de “Se o Botafogo é campeão então Lourival desfila fantasiado de baiana.” é:

- (A) O Botafogo é campeão e Lourival não desfila fantasiado de baiana.
- (B) O Botafogo não é campeão.
- (C) O Botafogo não é campeão e Lourival desfila fantasiado de baiana.
- (D) O Botafogo não é campeão e Lourival não desfila fantasiado de baiana.
- (E) Lourival não desfila fantasiado de baiana

NOÇÕES DE INFORMÁTICA

Questão 21

Um dispositivo de entrada e de saída empregado na configuração de microcomputadores possui as seguintes características:

- é uma tela sensível ao toque que funciona quando pressionada, dispensando o uso de outros dispositivos como o mouse ou o teclado.
- pode ser utilizado em serviços disponibilizados em museus, shoppings, agências bancárias ou eventos públicos, com a finalidade de permitir a visualização de informações na tela do monitor de vídeo.
- possui a desvantagem de apresentar mau funcionamento, resultante da sujeira ou gordura depositada na tela pelo contato direto da ponta dos dedos na tela.

Esse dispositivo é conhecido como:

- (A) silkscreen
- (B) windscreen
- (C) multiscreen
- (D) superscreen
- (E) touchscreen

Questão 22

Atualmente, os pendrives são bastante utilizados como dispositivo de armazenamento de dados, particularmente em backup, na realização de cópias de segurança. No comércio, é comum se encontrar esse dispositivo com a seguinte capacidade de armazenamento:

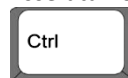
- (A) 8 GBytes
- (B) 4 MBytes
- (C) 64 TBytes
- (D) 500 TBytes
- (E) 128 MBytes

Questão 23

Um funcionário da NUCLEP acessou o Windows Explorer do sistema operacional Windows XP, em um microcomputador versão desktop e executou os seguintes procedimentos:

- Selecionou a pasta DOCUMENTOS no disco C:
- Para selecionar todos os arquivos gravados nessa pasta, ele executou um atalho de teclado.

Esse atalho de teclado corresponde a pressionar as teclas



e:

- (A) T
- (B) S
- (C) A
- (D) X
- (E) Z

Questão 24

Em um notebook com sistema operacional Windows 7 BR,



um usuário está acessando o site do no Internet Explorer 9 BR. Nessas condições, executar o




atalho de teclado tem o seguinte significado:

- (A) abrir a janela do Painel de Controle.
- (B) mostrar a janela de downloads.
- (C) acionar o Windows Update.
- (D) exibir a área de trabalho.
- (E) desligar o notebook.


Questão 25

Observe o texto a seguir, gerado no *MSOffice Word 2010 BR*, com alinhamento à direita.



VISÃO
 Atender as demandas estratégicas, principalmente nas seguintes áreas de atuação:
 Nuclear
 Defesa
 Petróleo e Gás
 Geração de outras fontes de energia

Para aplicar alinhamento à esquerda ao texto, deve-se

selecionar todo o texto e acionar o ícone  ou executar o seguinte atalho de teclado:

- (A) Alt + E
- (B) Alt + Q
- (C) Ctrl + <
- (D) Ctrl + Q
- (E) Ctrl + E

Questão 26

No Word 2010 BR, o atalho de teclado Ctrl + F1 tem por finalidade:

- (A) abrir ou fechar a Janela do WordArt.
- (B) abrir ou fechar a Área de Transferência.
- (C) maximizar ou minimizar a Janela do Word.
- (D) ocultar ou mostrar a Faixa de Opções.
- (E) ocultar ou mostrar a Guia de Menus.

Questão 27

As planilhas *NUCLEP55* e *NUCLEP66* abaixo, fazem parte do arquivo *NUCLEP.XLSX*, criado no *Excel 2010 BR*.

- Na *NUCLEP55*, em **D5** foi inserida **=SOMA(A3;C3)** e em **D7** uma expressão que fornece o resto da divisão de D5 por 9.
- Na *NUCLEP66*, em **D3** foi inserida uma expressão que mostra um valor igual ao conteúdo de D7 da planilha *NUCLEP55*.
-

	A	B	C	D
1	Planilha NUCLEP55			
2				
3	13	10	36	21
4				
5			Soma =	49
6				
7			Função MOD ...	4

	A	B	C	D
1	Planilha NUCLEP66			
2				
3			Transporte de NUCLEP55 =	4

Nessas condições, as expressões inseridas nas células **D7** de *NUCLEP55* e **D3** de *NUCLEP66*, são, respectivamente:

- (A) =MOD(D5;9) e =NUCLEP55#D7
- (B) =MOD(D5;9) e =NUCLEP55!D7
- (C) =MOD(D5;9) e =NUCLEP55@D7
- (D) =MOD(D5&9) e =NUCLEP55!D7
- (E) =MOD(D5&9) e =NUCLEP55#D7

Questão 28


Entre os utilitários básicos para configuração e verificação de redes, um serve para exibir a configuração TCP/IP atual, sendo também usado para liberar e renovar manualmente configurações TCP/IP atribuídas por um servidor DHCP. Esse utilitário é o:

- (A) ping
- (B) netstat
- (C) ipconfig
- (D) tracert
- (E) ftp

Questão 29

Um funcionário da NUCLEP está utilizando o browser Firefox Mozilla para acessar um site, cuja URL é <http://www.brasil.gov.br/>, que se refere ao

Portal Brasil. Posteriormente, para acessar o site configurado como página inicial do Firefox Mozilla, ele deve

acionar o ícone  ou executar o seguinte atalho de teclado:

- (A) Ctrl + Home
- (B) Alt + Home
- (C) Shift + F11
- (D) Alt + F11
- (E) Ctrl + F11

Questão 30

No uso dos recursos do correio eletrônico, existem diversos sites na internet que oferecem uma infraestrutura de e-mail para que usuário possa criar, modificar, excluir ou mesmo imprimir mensagens de correio, como por exemplo,



Essa infraestrutura é conhecida como:

- (A) WebMail
- (B) SendMail
- (C) AirMail
- (D) CardMail
- (E) GreenMail

CONHECIMENTOS ESPECÍFICOS

Questão 31

Compõe o patrimônio da empresa e representa uma obrigação:

- (A) adiantamento de salário.
- (B) duplicatas a receber.
- (C) ICMS a recolher.
- (D) impostos a recuperar.
- (E) clientes.

Questão 32

O patrimônio que é considerado um bem corpóreo:

- (A) concessões obtidas de serviços públicos.
- (B) programa de computador.
- (C) marcas e patentes.
- (D) ponto de comércio.
- (E) dinheiro em tesouraria.

Questão 33

A empresa possui em Caixa R\$ 5.000,00; Terrenos no valor de R\$ 10.000,00; Contas a Receber no valor de R\$ 20.000,00; Impostos a Pagar no valor de R\$ 5.000,00; Obrigações com Fornecedores de R\$ 10.000,00; Mercadorias no valor de R\$ 5.000,00; Empréstimos a Pagar de R\$ 10.000,00. Baseado nestas informações é possível afirmar que:

- (A) o capital de terceiros é de R\$ 15.000,00.
- (B) o ativo da empresa soma R\$ 30.000,00.
- (C) a situação líquida é positiva em R\$ 15.000,00.
- (D) as obrigações somam R\$ 20.000,00.
- (E) a situação líquida é negativa em R\$ 10.000,00.

Questão 34

De acordo com a Lei nº 4320/64 os bens móveis que compõem o patrimônio público são avaliados pelo:

- (A) preço de mercado na data do balanço.
- (B) valor de aquisição, custo de produção ou de construção.
- (C) valor justo.
- (D) valor de aquisição acrescida das reavaliações.
- (E) valor de aquisição devidamente depreciado.

Questão 35

A situação líquida da empresa representada pela equação: $ATIVO = PASSIVO + PATRIMÔNIO LÍQUIDO$ significa que:

- (A) a situação líquida é negativa.
- (B) o ativo é menor que o passivo.
- (C) os bens e direitos são menores que a obrigações.
- (D) as obrigações são superiores ao ativo.
- (E) o ativo é maior que o passivo.

Questão 36

São demonstrativos da contabilidade pública, EXCETO:

- (A) Balanço Patrimonial.
- (B) Balanço Financeiro.
- (C) Balanço Orçamentário.
- (D) Demonstração do Resultado do Exercício.
- (E) Demonstração das Variações Patrimoniais.

Questão 37

É uma afirmativa correta a respeito da contabilidade pública:

- (A) O resultado patrimonial do exercício pode ser déficit ou superávit apurado na demonstração das variações patrimoniais.
- (B) O resultado apurado pela diferença entre as receitas e despesas realizadas é denominado superávit financeiro.
- (C) O resultado econômico do exercício é apurado na demonstração dos fluxos de caixa.
- (D) O superávit financeiro é apurado no balanço orçamentário.
- (E) A situação líquida do exercício é demonstrada no balanço financeiro.

Questão 38

É uma característica do orçamento público:

- (A) sua vigência estende-se ao até o término do 1º ano do mandato sucessor.
- (B) Nele são previstas as receitas e fixadas as despesas que serão realizadas no seu período de vigência.
- (C) As receitas são classificadas de acordo com a função e subfunção.
- (D) Os programas de trabalho são detalhados no quadro de detalhamento das receitas.
- (E) As despesas são classificadas de acordo com as categorias econômicas e respectivas origens.

Questão 39

No orçamento público as despesas com o atendimento à saúde são integrantes do seguinte orçamento:

- (A) da Regularidade Fiscal.
- (B) da Assistência Social.
- (C) da Seguridade Social.
- (D) da Previdência Social.
- (E) das Empresas Estatais.

Questão 40

Uma competência do Poder Legislativo em relação ao orçamento público é:

- (A) Aprovação.
- (B) Sanção.
- (C) Veto.
- (D) Publicação.
- (E) Elaboração.

Questão 41

A inclusão na lei orçamentária de autorização para abertura de créditos orçamentários adicionais, constitui exceção ao descumprimento do princípio orçamentário da:

- (A) Unidade.
- (B) Anualidade.
- (C) Especificação.
- (D) Totalidade.
- (E) Exclusividade.

Questão 42

O crédito adicional que se aplica ao atendimento de despesas para as quais o orçamento não consignava crédito próprio é o:

- (A) extraordinário.
- (B) especial.
- (C) suplementar.
- (D) complementar.
- (E) extraorçamentário.

Questão 43

São recursos utilizados para abertura de créditos adicionais:

- (A) superávit orçamentário.
- (B) economia orçamentária.
- (C) excesso de arrecadação.
- (D) anulação parcial ou total despesas realizadas.
- (E) criação de novas receitas tributárias no exercício.

Questão 44

As subvenções sociais constituem transferências de recursos:

- (A) a instituições financeiras com o objetivo salvar da insolvência.
- (B) a instituições com finalidade lucrativas voltadas a atividades esportivas e religiosas.
- (C) a instituições que prestem serviços essenciais na área de transportes públicos.
- (D) a instituições sem fins lucrativos que prestem serviços essenciais de assistência social, médica e educacional.
- (E) a instituições culturais detentoras de autorização legislativa, mesmo aquelas com finalidades lucrativas.

Questão 45

O Plano Plurianual é um instrumento de planejamento governamental que estabelecerá:

- (A) as prioridades e metas financeiras para o exercício.
- (B) a previsão das receitas e fixação das despesas.
- (C) a programação financeira e o cronograma de desembolso.
- (D) as metas fiscais e a reserva de contingência.
- (E) de forma regionalizada as diretrizes, objetivos e metas da administração pública.

Questão 46

O instrumento da execução orçamentária utilizado para deduzir do crédito orçamentário existente o valor que atenderá a despesa é:

- (A) a liquidação.
- (B) o empenho.
- (C) o lançamento.
- (D) a previsão.
- (E) o pagamento.

Questão 47

Compõe a base de cálculo da despesa com pessoal a seguinte receita

- (A) operações de crédito.
- (B) amortização de empréstimos.
- (C) alienação de bens.
- (D) dívida ativa.
- (E) transferências de capital.

Questão 48

A seguinte receita é de origem tributária:

- (A) taxa de fiscalização de funcionamento.
- (B) contribuições da iluminação pública.
- (C) aplicações financeiras.
- (D) operações de crédito.
- (E) aluguéis.

Questão 49

O estágio da receita pública em que se verifica a ocorrência do fato gerador e registra o direito a receber é:

- (A) a liquidação.
- (B) a programação.
- (C) a licitação.
- (D) o lançamento.
- (E) a arrecadação.

Questão 50

A receita da categoria econômica corrente é:

- (A) aluguéis.
- (B) operações de crédito.
- (C) alienação de bens.
- (D) amortização de empréstimos.
- (E) transferências de capital.

Questão 51

A classificação da receita da dívida ativa de acordo com a origem é:

- (A) de contribuições.
- (B) tributária.
- (C) de transferências correntes.
- (D) patrimonial.
- (E) outras receitas correntes.

Questão 52

No balanço orçamentário, as receitas são classificadas de acordo com :

- (A) as categorias patrimoniais.
- (B) as funções.
- (C) as categorias econômicas.
- (D) as subfunções.
- (E) os programas.

Questão 53

As receitas extraorçamentárias, enquanto não recolhidas aos favorecidos, constituem:

- (A) receitas a receber.
- (B) receitas recolhidas.
- (C) obrigações a pagar.
- (D) despesas extraordinárias.
- (E) patrimônio líquido.

Questão 54

Compõe a dívida flutuante do balanço patrimonial de acordo com a Lei nº 4320/64:

- (A) a dívida ativa.
- (B) os restos a pagar.
- (C) as despesas extraorçamentárias.
- (D) os empréstimos e financiamento de longo prazo.
- (E) as receitas antecipadas de fornecedores.

Questão 55

Considerando a receita corrente líquida apurada nos últimos 12 meses no município no valor de R\$ 1.200.000,00, pode-se afirmar que a despesa com pessoal do poder executivo, de acordo com a Lei de Responsabilidade Fiscal, não poderá exceder a:

- (A) 720.000,00
- (B) 72.000,00
- (C) 588.000,00
- (D) 600.000,00
- (E) 640.800,00

Questão 56

Uma atribuição do controle interno de acordo com a Constituição Federal é:

- (A) aprovar as contas prestadas pelo chefe do poder executivo.
- (B) apreciar para fins de registro os atos de aposentadorias e pensões.
- (C) fiscalizar a aplicação de quaisquer recursos repassados pela União mediante convênio, acordo, ajuste ou outros instrumentos congêneres.
- (D) apoiar o controle externo no exercício de sua missão institucional.
- (E) aplicar aos responsáveis, em caso de ilegalidade de despesa ou irregularidade de contas, as sanções previstas em lei.

Questão 57

As receitas e as despesas devem ser incluídas na apuração do resultado do período em que ocorrerem, sempre simultaneamente quando se correlacionarem, independentemente de recebimento ou pagamento, caracteriza o princípio da:

- (A) Prudência.
- (B) Competência.
- (C) Entidade.
- (D) Legitimidade.
- (E) Anualidade.

Questão 58

Considere os itens a seguir da fábrica de móveis

- Matéria prima
- Folha de pagamento do escritório
- Folha de pagamento da fábrica
- Energia elétrica da fábrica
- Desgaste das máquinas do escritório
- Material de limpeza do escritório
- Aluguel da fábrica
- Seguros do pessoal da administração

Compõem os custos da fabricação os seguintes itens:

- (A) 1, 2, 4 e 7.
- (B) 1, 3, 4 e 8.
- (C) 1, 3, 4 e 7.
- (D) 1, 2, 4 e 8.
- (E) 1, 5, 6 e 8.

Questão 59

De acordo com a Lei de Responsabilidade Fiscal, o montante total apurado, sem duplicidade, das obrigações financeiras do ente da Federação, assumidas em virtude de leis, contratos, convênios ou tratados e da realização de operações de crédito, para amortização em prazo superior a doze meses, constitui:

- (A) a dívida pública consolidada ou fundada.
- (B) a dívida mobiliária.
- (C) as operações de crédito.
- (D) a Dívida Flutuante.
- (E) a Dívida Ativa.

Questão 60

O capital que aplicado por 2 meses a uma taxa de juros de 5% no período que rendeu o valor de R\$ 2.000,00 foi de:

- (A) R\$ 20.000,00
- (B) R\$ 30.000,00
- (C) R\$ 50.000,00
- (D) R\$ 40.000,00
- (E) R\$ 35.000,00

