

LÍNGUA PORTUGUESA

O Tamanho das Pessoas...

Os Tamanhos variam conforme o grau de envolvimento...

Uma pessoa é enorme para ti, quando fala do que leu e viveu, quando te trata com carinho e respeito, quando te olha nos olhos e sorri.

É pequena para ti quando só pensa em si mesma, quando se comporta de uma maneira pouco gentil, quando fracassa justamente no momento em que teria que demonstrar o que há de mais importante entre duas pessoas: a amizade, o carinho, o respeito, o zelo e até mesmo o amor.

Uma pessoa é gigante para ti quando se interessa pela tua vida, quando procura alternativas para o seu crescimento, quando sonha junto contigo. É pequena quando se desvia do assunto.

Uma pessoa é grande quando perdoa, quando compreende, quando se coloca no lugar do outro, quando age não de acordo com o que esperam dela, mas de acordo com o que espera de si mesma.

Uma pessoa é pequena quando se deixa reger por comportamentos da moda.

Uma mesma pessoa pode aparentar grandeza ou miudeza dentro de um relacionamento, pode crescer ou decrescer num espaço de poucas semanas.

Uma decepção pode diminuir o tamanho de um amor que parecia ser grande. Uma ausência pode aumentar o tamanho de um amor que parecia ser ínfimo.

É difícil conviver com esta elasticidade: as pessoas se agigantam e se encolhem aos nossos olhos. O nosso julgamento é feito não através de centímetros e metros, mas de ações e reações, de expectativas e frustrações.

Uma pessoa é única ao estender a mão, e ao recolhê-la inesperadamente torna-se mais uma.

O egoísmo unifica os insignificantes.

Não é a altura, nem o peso, nem os músculos que tornam uma pessoa grande... é a sua sensibilidade, sem tamanho...

Martha Medeiros

1. Com base no texto, pode-se afirmar que:
 - a) As pessoas são julgadas através de centímetros e metros, além de ações e reações.
 - b) Uma pessoa grande é sempre alta, pesada e musculosa.
 - c) A amizade, o carinho, o respeito, o zelo e até mesmo o amor, são demonstrações do que há de mais importante entre duas pessoas.
 - d) Independentemente do grau de envolvimento, as pessoas terão sempre o mesmo tamanho.

2. Analise as afirmações a seguir:
 - I. Uma decepção pode diminuir o tamanho de um amor que parecia ser grande.
 - II. Não é difícil conviver com esta elasticidade: já que as pessoas se agigantam e se encolhem aos nossos olhos.
 - III. Uma pessoa é pequena quando não se deixa reger por comportamentos da moda.

Em relação ao texto, está **incorreto** o que se afirma em:

- a) I, somente
 - b) I e II, apenas
 - c) II, somente
 - d) II e III, apenas
3. “Uma ausência pode aumentar o tamanho de um amor que parecia ser ínfimo”. Indique corretamente o sinônimo da palavra sublinhada:
 - a) grande
 - b) mínimo
 - c) apaixonado
 - d) presente

4. O cardeal visitou a igreja da cidade de Maricá. Indique o pronome de tratamento que se coaduna com a palavra sublinhada:

- a) Vossa Majestade
- b) Vossa Eminência
- c) Vossa Alteza
- d) Vossa Magnificência

5. Assinale a frase **correta**:

- a) Você não é mal.
- b) Correu muito, mais não se cansou.
- c) A maledicência é um grande mau.
- d) Ele ficou a cerca de cem metros.

6. Considere as frases a seguir:

- I. Pedro trabalha na _____ de artigos masculinos.
- II. O pai _____ a saída do filho da academia, para que ele chegasse cedo ao médico.
- III. No ano passado o IBGE fez o _____ da população.

Indique a resposta que completa corretamente - pela ordem - as lacunas.

- a) cessão / apreçou / senso
- b) sessão / apressou / censo
- c) seção / apressou / censo
- d) cessão / apreçou / senso

7. Só está **correto** o emprego do plural em:

- a) primeiros-ministros
- b) laranja-limas
- c) alto-relevos
- d) lusos-brasileiros

8. Há **erro** de separação silábica em:

- a) joi-a
- b) a-dvo-ca-ci-a
- c) ru-im
- d) gré-cia

9. As palavras **cozer**, **imersar**, **mandado**, **ascender** significam, respectivamente:

- a) costurar, vir à tona, procuração, subir
- b) cozinhar, vir à tona, ordem, iluminar
- c) cozinhar, mergulhar, ordem, subir
- d) costurar, aparecer, gestão, iluminar

10. Está **correta** a regência em:

- a) Todos aspiravam a um cargo melhor.
- b) Científico-lhe de que há pouco tempo.
- c) Não desobedeça o regulamento.
- d) Lembrei do jogo.

RACIOCÍNIO MATEMÁTICO

11. O tanque de combustível da garagem da EPT é alimentado por dois dutos de entrada de diesel. O primeiro despeja 14 litros por minuto e o segundo 26 litros por minuto. A saída de combustível deste tanque corresponde a 34 litros por minuto. Sabe-se que se ficarem abertos os dois dutos de entrada e o de saída, o tanque ficará cheio em 8 horas e meia.

Indique a capacidade do tanque de combustível:

- a) 3400
- b) 3060
- c) 2890
- d) 2040

12. Para instalar a sua sede administrativa a EPT adquiriu dois terrenos quadrados com áreas iguais. Sabe-se que se for acrescido 4 metros em cada lado de um dos terrenos e reduzido 4 metros em cada lado do outro, os dois juntos ocuparão uma área de 232 m². Pode-se afirmar que o perímetro dos terrenos originais corresponde a:

- a) 16
- b) 29
- c) 40
- d) 58

13. No concurso público de uma cidade da região metropolitana, inscreveram-se 20.000 (vinte mil) pessoas. Do quantitativo de inscritos, 2/5 (dois quintos) dos candidatos foram reprovados e 30% faltaram no dia da prova. Pode-se afirmar que foram aprovados quantos candidatos?

- a) 6000
- b) 8000
- c) 12000
- d) 14000

14. No aeroporto de Maricá existe uma torre sinalizadora com duas luzes, uma verde e outra vermelha, que piscam com frequências diferentes. A verde pisca 15 vezes por minuto e a vermelha 10 vezes por minuto. Ciente que num determinado instante as luzes piscam simultaneamente, pode-se afirmar que ambas voltarão a piscar simultaneamente após quantos segundos?
- 30
 - 10
 - 12
 - 24
15. Luiz mora em Maricá e pretende comemorar as festas de final de ano em Florianópolis. A viagem de ida e volta, de ônibus, custa R\$ 90,00, mas Luiz está querendo ir com o seu carro, que consome, em média, 12 quilômetros com um litro de combustível. O litro do combustível custa, em média, R\$ 3,60 e Luiz calcula que terá que rodar cerca de 900 quilômetros com seu carro e pagar R\$ 60,00 de pedágio. Ficou decidido que ele irá de carro e para reduzir suas despesas, convidou dois amigos, que irão repartir com ele todos os gastos. Desconsiderando o desgaste do carro e outras despesas inesperadas, Luiz irá:
- economizar R\$ 180,00.
 - gastar R\$ 20,00 a mais.
 - economizar R\$ 30,00.
 - gastar o mesmo que se fosse de ônibus.
17. São características da administração pública burocrática, **exceto**:
- Acesso ao serviço público por mérito.
 - Divisão do trabalho a partir da definição de cargos.
 - Os cargos públicos são considerados prebendas.
 - Controle rígido e *a priori* dos processos administrativos.
18. Sobre os princípios e normas de administração pública no Brasil, considere as afirmativas a seguir:
- Na órbita do direito público, tudo o que a lei não proíbe é lícito fazer.
 - Permitir maior participação dos agentes privados e/ou das organizações da sociedade civil é uma característica da administração gerencial.
 - Tornar obrigatória a divulgação de todos os atos e contratos da Administração Pública caracteriza o princípio da legitimidade.
- Está **correto** somente o que se aponta em:
- I
 - II
 - II e III
 - I, II, III
19. As diretrizes, objetivos e metas da administração pública para as despesas de capital e outras delas decorrentes e para as relativas aos programas de duração continuada, são estabelecidas, de forma regionalizada, na lei:
- do Plano plurianual
 - do orçamento anual
 - de diretrizes orçamentárias
 - do orçamento fiscal
20. É o indicador de desempenho que consiste em aferir o grau de atendimento e satisfação das demandas da sociedade.
- efetividade
 - legalidade
 - legitimidade
 - eficiência

NOÇÕES DE ADMINISTRAÇÃO

16. Sobre as receitas e as despesas públicas aponte a afirmativa **correta**:
- Aquisição de imóveis é classificada como receita corrente extraorçamentária.
 - As receitas provenientes da cobrança de tributos e da alienação de bens classificam-se, respectivamente, em orçamentárias e extraorçamentárias.
 - A lei orçamentária anual contera todas as despesas e receitas públicas orçamentárias e extraorçamentárias.
 - Compete ao ordenador de despesas autorizar a emissão do empenho.

LEGISLAÇÃO E HISTÓRIA DO MUNICÍPIO

Com base na Lei Orgânica de Maricá, responda as questões de números 21 e 22.

21. A entidade dotada de personalidade jurídica de direito privado, com patrimônio e capital do Município, criada por lei, para exploração de atividades econômicas que o Município seja levado a exercer, por força de contingência ou conveniência administrativa, podendo revestir-se de qualquer das formas admitidas em direito. De acordo com o Art. 143, § 2º, II, é denominada:
- Autarquia
 - Fundação pública
 - Empresa pública
 - Sociedade de economia mista
22. Conforme a inteligência do Art. 266 “Compete ao Município organizar e prestar diretamente ou sob o regime de concessão ou permissão, os serviços públicos de interesse local”. Neste contexto, indique o serviço que é considerado de caráter essencial, como define o inciso V do artigo 30 da Constituição Federal, e passível de concessão:
- Guarda municipal
 - Transporte coletivo
 - Cobrança de tributos
 - Varrição de rua
23. Atualmente, o Município de Maricá é considerado produtor de petróleo, já que o seu litoral está defronte a:
- Baía de Guanabara
 - Bacia de Campos
 - Bacia do Recôncavo
 - Bacia de Santos
24. Segundo a história da atual cidade de Maricá, a capela de São José do Imbassaí, foi erguida no ano de:
- 1675
 - 1788
 - 1755
 - 1815

25. Conforme a inteligência do Art.14, XXXIII, do Decreto Municipal nº 109, de 22 de outubro de 2014, **representar a EPT junto ao Sindicato das Empresas de Transporte Rodoviário do Estado do Rio de Janeiro – SETRERJ** é competência da seguinte Diretoria:
- Jurídica
 - Administração e Finanças
 - Planejamento e Tecnologia
 - Operações de Transportes Coletivos

CONHECIMENTOS ESPECÍFICOS DO CARGO

26. Sobre componentes de hardware e software, considere as afirmativas a seguir:
- Teclado, tela de toque e impressora, são dispositivos periféricos de entrada de dados.
 - A memória *cache* é um tipo de memória de armazenamento auxiliar de acesso muito rápido que não afeta a velocidade de acesso à memória RAM.
 - O Hub é um tipo de equipamento de rede que efetua a comutação de pacotes entre redes diferentes.
- Está **correto** o que se afirma em:
- I, apenas
 - II, somente
 - II e III, apenas
 - I, II e III
27. São componentes que integram a placa-mãe do computador, **exceto**:
- disco rígido
 - processador
 - memória RAM
 - bateria
28. É um programa do tipo *spyware*, capaz de capturar e armazenar as teclas digitadas pelo usuário no teclado do computador. Sua ativação, em muitos casos, é condicionada a uma ação prévia do usuário, como o acesso a um *site* específico de comércio eletrônico ou de *Internet Banking*:
- Adware
 - Keylogger
 - Backdoor
 - Bastion host

29. Considere as afirmativas a seguir:

- I. A tecla **Ctrl** pressionada em conjunto com a tecla **Tab**, permite alternar entre janelas abertas de um mesmo programa.
- II. O **SSL** é um protocolo de encriptação de dados para transmissão.
- III. **Java** é uma linguagem de desenvolvimento.

Está **correto** o que se afirma em:

- a) I, apenas
- b) II, somente
- c) II e III, apenas
- d) I, II e III

30. São exemplos de navegadores para acesso a internet, **exceto**:

- a) Net Hashing
- b) Google Chrome
- c) Mozilla Firefox
- d) Internet Explorer

31. Considere as características relativas aos equipamentos a seguir:

- I. O barramento PCI permite a conexão de diversos tipos de periféricos, tais como: mouse, teclado, impressora, e outros compatíveis.
- II. Os **switches** comutam o tráfego entre as portas, preservando suas bandas passantes.
- III. Os **roteadores** comutam pacotes na camada de rede.

Está **correto** o que se afirma em:

- a) I, apenas
- b) I e II, somente
- c) II e III, apenas
- d) I, II e III

32. Pode-se afirmar que no computador o componente responsável pelo suporte básico de acesso ao hardware e por iniciar a carga do sistema operacional, é denominado:

- a) CPU
- b) BIOS
- c) UTP
- d) Bridge

33. Sobre o Decreto municipal nº 47/2013, considere as afirmativas a seguir:

- I. Estabelece o Art. 1º que, os processos de licitação, de contratação direta, de celebração de convênios e de pagamento, obedecerão ao disposto no presente Decreto, com exceção da Autarquia Municipal - EPT, por se tratar de órgão da Administração Indireta.
- II. Dispõe o Art. 2º que, todo procedimento de licitação, dispensa ou inexigibilidade será iniciado com a Solicitação de Compra.
- III. O procedimento de contratação direta, seja por dispensa, seja por inexigibilidade, não necessita seguir a forma estabelecida nos Arts. 1º e 2º.

Está **correto** o que se afirma em:

- a) I, apenas
- b) II, somente
- c) I e III, apenas
- d) II e III, somente




34. Conforme a inteligência do Art. 21 da Lei nº 8.666/1993, o aviso de licitação publicado, conterá a indicação do local em que os interessados poderão ler e obter o texto integral do edital e todas as informações sobre o certame. Certo é que na modalidade tomada de preços, quando a licitação for do tipo "melhor técnica" ou "técnica e preço", o prazo mínimo até o recebimento das propostas ou da realização do evento será de:

- a) 5 dias
- b) 15 dias
- c) 30 dias
- d) 45 dias

35. É uma rede virtual privada que se utiliza de criptografia e tunelamento para garantir segurança e privacidade à comunicação, permitindo ainda a conexão de redes internas ou intranets de uma ou várias empresas:

- a) VPN
- b) SNMP
- c) TLS
- d) URL

36. Considere as afirmativas a seguir:

- I. Cada computador na *Internet* possui um IP, que consiste num código identificador de endereço único.
- II. Para mudar a cor de uma linha no MS Word, versão em português, pode-se afirmar que deverá ser utilizado o botão  da barra de ferramentas.
- III. Os ícones  e  ao lado de uma mensagem de e-mail, no uso do Outlook, indicam que possui anexo e já foi respondida.

Está **correto** o que se afirma em:

- a) I e II, apenas
- b) III, somente
- c) I e III, apenas
- d) I, II e III

37. O Art. 3º do Decreto Municipal nº 135/2013, **não** prevê a possibilidade de adoção do Sistema de Registro de Preços, quando:

- a) Pelas características do bem ou serviço, houver necessidade de contratações frequentes.
- b) For conveniente a aquisição de bens ou a contratação de serviços para atendimento a mais de um órgão ou entidade, ou a programas de governo.
- c) Pela natureza do objeto, não for possível definir previamente o quantitativo a ser demandado pela Administração.
- d) A Licitação for realizada na modalidade convite.

38. Sobre o desenvolvimento de *software*, avalie as afirmativas a seguir:

- I. A análise de requisitos ocorre em etapa anterior a etapa de manutenção.
- II. Na premissa do ciclo de vida clássico do desenvolvimento, a etapa realizada após a coleta dos requisitos do sistema é a denominada arquitetura de software.
- III. A etapa do acoplamento visa a detecção de erros do produto desenvolvido.

Está **correto** o que se afirma em:

- a) I, apenas
- b) I e II, somente
- c) II e III, apenas
- d) I, II e III

39. Considere o texto sobre evento ocorrido recentemente, no Brasil:

“A enxurrada de lama formada após o rompimento de duas barragens da mineradora Samarco, em Mariana, em 5/11/2015, avançou pelo leito do rio Doce”.

O acidente ocorreu no seguinte Estado:

- a) Rondônia
- b) Mato Grosso
- c) Minas Gerais
- d) Rio Grande do Sul

40. Sobre Sistemas de Gerenciamento de Banco de Dados, avalie as afirmativas a seguir:

- I. Procedimentos são sub-rotinas que podem ser executadas por aplicações acessando um sistema de banco de dados relacional.
- II. Num banco de dados relacional, o valor de um campo será considerado nulo quando não possuir nenhum conteúdo.
- III. Num banco de dados que permite o acesso de vários usuários, o bloqueio tem por função sincronizar o acesso de vários usuários à mesma parte dos dados simultaneamente.

Está **correto** o que se afirma em:

- a) I, apenas
- b) I e II, somente
- c) II e III, apenas
- d) I, II e III