

Concurso Público

002. PROVA OBJETIVA

ANALISTA TÉCNICO CIENTÍFICO
(Biólogo)

- ◆ Você recebeu sua folha de respostas, este caderno, contendo 60 questões objetivas, e o caderno de prova dissertativa.
- ◆ Confira seus dados impressos na capa deste caderno e na folha de respostas.
- ◆ Quando for permitido abrir o caderno, verifique se está completo ou se apresenta imperfeições. Caso haja algum problema, informe ao fiscal da sala.
- ◆ Leia cuidadosamente todas as questões e escolha a resposta que você considera correta.
- ◆ Marque, na folha de respostas, com caneta de tinta azul ou preta, a letra correspondente à alternativa que você escolheu.
- ◆ A duração das provas objetiva e dissertativa é de 5 horas, já incluído o tempo para o preenchimento da folha de respostas e para a transcrição da resposta definitiva.
- ◆ Só será permitida a saída definitiva da sala e do prédio após transcorridos 75% do tempo de duração das provas.
- ◆ Deverão permanecer em cada uma das salas de prova os 3 últimos candidatos, até que o último deles entregue sua prova, assinando termo respectivo.
- ◆ Ao sair, você entregará ao fiscal o caderno de prova dissertativa, a folha de respostas e este caderno, podendo levar apenas o rascunho de gabarito, localizado em sua carteira, para futura conferência.
- ◆ Até que você saia do prédio, todas as proibições e orientações continuam válidas.

AGUARDE A ORDEM DO FISCAL PARA ABRIR ESTE CADERNO DE QUESTÕES.

Nome do candidato

RG

Inscrição

Prédio

Sala

Carteira

CONHECIMENTOS GERAIS

LÍNGUA PORTUGUESA

Leia o texto, para responder às questões de números 01 a 05.

McLuhan já alertava que a aldeia global resultante das mídias eletrônicas não implica necessariamente harmonia, implica, sim, que cada participante das novas mídias terá um envolvimento gigantesco na vida dos demais membros, que terá a chance de meter o bedelho onde bem quiser e fazer o uso que quiser das informações que conseguir. A aclamada transparência da coisa pública carrega consigo o risco de fim da privacidade e a superexposição de nossas pequenas ou grandes fraquezas morais ao julgamento da comunidade de que escolhemos participar.

Não faz sentido falar de dia e noite das redes sociais, apenas em número de atualizações nas páginas e na capacidade dos usuários de distinguir essas variações como relevantes no conjunto virtualmente infinito das possibilidades das redes. Para achar o fio de Ariadne no labirinto das redes sociais, os usuários precisam ter a habilidade de identificar e estimar parâmetros, aprender a extrair informações relevantes de um conjunto finito de observações e reconhecer a organização geral da rede de que participam.

O fluxo de informação que percorre as artérias das redes sociais é um poderoso fármaco viciante. Um dos neologismos recentes vinculados à dependência cada vez maior dos jovens a esses dispositivos é a “nomobofobia” (ou “pavor de ficar sem conexão no telefone celular”), descrito como a ansiedade e o sentimento de pânico experimentados por um número crescente de pessoas quando acaba a bateria do dispositivo móvel ou quando ficam sem conexão com a Internet. Essa informação, como toda nova droga, ao embotar a razão e abrir os poros da sensibilidade, pode tanto ser um remédio quanto um veneno para o espírito.

(Vinicius Romanini, Tudo azul no universo das redes. Revista USP, nº 92. Adaptado)

01. Do ponto de vista do autor, as redes sociais

- (A) são um universo ao qual os usuários resistem porque são afeitos à discrição nos relacionamentos.
- (B) preservam identidades e opiniões, sendo, portanto, ponto de referência para a busca de informações qualificadas.
- (C) garantem julgamentos justos, pela comunidade, dos usuários que nelas expõem seus hábitos e ideologias.
- (D) disponibilizam abundantes informações, o que exige que seus usuários filtrem o que de fato interessa.
- (E) condensam a infinidade de dados nelas circulantes, caracterizando-se como um meio confiável de exposição pessoal.

02. Entre os aspectos negativos que se apontam para usuários das mídias eletrônicas estão

- (A) a possibilidade de exibição da intimidade e a ansiedade devida à falta de conexão em rede.
- (B) a superposição de virtudes a grandes fraquezas morais e a ênfase ao cultivo da individualidade.
- (C) a possibilidade de imiscuir-se na vida alheia e o consumo de remédios viciantes.
- (D) o convívio ilimitado com os demais usuários da rede e o uso regulado de informações.
- (E) o envenenamento do espírito e a harmonia entre os membros do grupo de usuários.

03. A substituição do trecho destacado por aquele colocado entre parênteses está de acordo com a norma-padrão de regência verbal em:

- (A) ... e fazer o uso **que quiser** das informações que conseguir. (a que achar conveniente)
- (B) ... superexposição [...] ao julgamento da comunidade **de que escolhemos participar**. (com a qual escolhemos conviver)
- (C) ... terá a chance de **meter o bedelho onde bem quiser**... (intrometer-se aonde desejar)
- (D) McLuhan já **alertava que** a aldeia global... (prenunciava de que)
- (E) O fluxo de informação **que percorre** as artérias das redes sociais... (ao qual atravessa)

04. Assinale a alternativa em que se caracteriza o emprego de palavras em sentido figurado.

- (A) Um dos neologismos recentes vinculados à dependência cada vez maior dos jovens a esses dispositivos é a “nomobofobia”...
- (B) ... a superexposição de nossas pequenas ou grandes fraquezas morais ao julgamento da comunidade...
- (C) ... a ansiedade e o sentimento de pânico experimentados por um número crescente de pessoas quando acaba a bateria do dispositivo móvel...
- (D) ... os usuários precisam ter a habilidade de identificar e estimar parâmetros, aprender a extrair informações relevantes...
- (E) O fluxo de informação que percorre as artérias das redes sociais é um poderoso fármaco viciante.

05. As expressões destacadas nos trechos – **meter o bedelho** / **estimar** parâmetros / **embotar** a razão – têm sinônimos adequados respectivamente em:

- (A) procurar / gostar de / ilustrar
- (B) imiscuir-se / avaliar / enfraquecer
- (C) interferir / propor / embrutecer
- (D) intrometer-se / prezar / esclarecer
- (E) contrapor-se / consolidar / iluminar

Leia o texto, para responder às questões de números **06 a 09**.

A República dos Estados Unidos da Bruzundanga tinha, como todas as repúblicas que se prezam, além do presidente e juizes de várias categorias, um Senado e uma Câmara de Deputados, ambos eleitos por sufrágio direto e temporários ambos, com certa diferença na duração do mandato: o dos senadores, mais longo; o dos deputados, mais curto.

O país vivia de expedientes, isto é, de cinquenta em cinquenta anos descobria-se nele um produto que ficava sendo a sua riqueza. Os governos taxavam-no a mais não poder, de modo que os países rivais, mais parcimoniosos na decretação de impostos sobre produtos semelhantes, acabavam, na concorrência, por derrotar a Bruzundanga; e, assim, ela fazia morrer a sua riqueza, mas não sem os estertores de uma valorização duvidosa. Daí vinha que a grande nação vivia aos solavancos, sem estabilidade financeira e econômica; e, por isso mesmo, dando campo a que surgissem, a toda hora, financeiros de todos os seus cantos e, sobretudo, do seu parlamento.

Naquele ano, isto dez anos atrás, surgiu na sua Câmara um deputado que falava muito em assuntos de finanças, orçamentos, impostos diretos e indiretos e outras coisas cabalísticas da ciência de obter dinheiro para o Estado.

Chamava-se o deputado Felixhimino ben Karpatoso. Se era advogado, médico, engenheiro ou mesmo dentista, não se sabia bem; todos tratavam-no de doutor, embora nada se conhecesse dele.

(Lima Barreto, Um grande financeiro. *Os bruzundangas*. Adaptado)

06. Assinale a alternativa que reescreve passagem do texto respeitando a norma-padrão de concordância verbal e nominal.

- (A) Bastava cinquenta anos para que fosse descoberto no país produtos novos, que acabava sendo a riqueza do país.
- (B) Os mandatos de senador e deputado durava tempo diferente, sendo mais longos o dos primeiros.
- (C) Na Bruzundanga haviam Senado e Câmara de Deputados, que o povo, em massa, apoiavam confiantes.
- (D) Naquele ano, isto já faziam dez anos, surgiu um deputado muito bem falante em assuntos financeiros.
- (E) Todas as repúblicas que se prezam possuem Senado e Câmara escolhidos pelos cidadãos, o mais possível confiantes em seus representantes.

07. Observe a relação de sentido entre os trechos (I) e (II), na passagem – (I) Os governos taxavam-no a mais não poder, (II) de modo que os países rivais, mais parcimoniosos na decretação de impostos sobre produtos semelhantes, acabavam, na concorrência, por derrotar a Bruzundanga.

É correto afirmar que

- (A) o trecho (I) expressa o tempo em que ocorre o que se afirma no trecho (II).
- (B) o trecho (II) expressa a maneira como ocorre o fato afirmado no trecho (I).
- (C) o trecho (II) expressa o efeito do que se afirma no trecho (I).
- (D) o trecho (I) expressa o modo como ocorre o fato afirmado no trecho (II).
- (E) o trecho (II) expressa a causa determinante do que se afirma no trecho (I).

08. Assinale a alternativa em que os sinais de pontuação estão empregados segundo os mesmos princípios da norma-padrão adotados na passagem – com certa diferença na duração do mandato: o dos senadores, mais longo; o dos deputados, mais curto.

- (A) A separação os fez perder muita coisa: ele, a guarda dos filhos; ela, a casa em que morava com as crianças.
- (B) Há algo importante a explicar: a perda de clientes, muitos deles inadimplentes; entretanto, ninguém fala nada.
- (C) Os meios de divulgação são os seguintes: internet, mensagem de celular e jornais; com eles, atingiremos o público.
- (D) Foi o que disse o funcionário: o carregamento não chegou, ainda; e os pedidos estão se acumulando, mais e mais.
- (E) Fui reticente, mas agora me explico: meu dinheiro acabou, nada me resta; e meu pai não pode me ajudar, coitado.

09. O contexto em que, segundo a norma-padrão, o pronome “se” pode ser colocado antes ou depois do verbo, é:

- (A) ... como todas as repúblicas que se prezam...
- (B) Chamava-se o deputado Felixhimino ben Karpatoso.
- (C) ... de cinquenta em cinquenta anos descobria-se nele um produto...
- (D) ... não se sabia bem...
- (E) ... embora nada se conhecesse dele.

10. Assinale a alternativa que preenche as lacunas do texto a seguir, observando o emprego do sinal de crase e a conjugação verbal, segundo a norma-padrão.

Implantaremos um sistema capaz de levar _____ consumidores fiéis informações sobre nossas promoções, _____ partir do momento em que forem lançadas. Se _____ de recursos suficientes, anunciaremos prêmios que atraiam clientes, para que _____ incondicionalmente _____ campanhas promocionais.

- (A) aqueles ... a ... dispormos ... aderem ... as
- (B) àqueles ... a ... dispusermos ... adiram ... às
- (C) àqueles ... à ... dispusermos ... aderem ... às
- (D) aqueles ... à ... dispormos ... adiram ... as
- (E) aqueles ... a ... dispormos ... adiram ... as

11. Pretende-se dividir um grupo de 216 pessoas, sendo 126 com formação na área de exatas e 90 com formação na área de humanas, em grupos menores contendo, obrigatoriamente, elementos de cada uma dessas áreas, de modo que: (1) o número de grupos seja o maior possível; (2) cada grupo tenha o mesmo número x de pessoas com formação na área de exatas e o mesmo número y de pessoas com formação na área de humanas; e (3) cada uma das 216 pessoas participe de um único grupo. Nessas condições, e sabendo-se que no grupo não há pessoa com ambas as formações, é correto afirmar que, em cada novo grupo, a diferença entre os números de pessoas com formação em exatas e em humanas, nessa ordem, será igual a
- (A) 1.
 - (B) 2.
 - (C) 3.
 - (D) 4.
 - (E) 5.
12. Um capital foi aplicado à taxa de juros simples de 21,6% ao ano, durante 5 meses, e rendeu juros de R\$ 153,00. Desconsiderando-se taxas ou outros encargos relativos a essa aplicação, no final desse período, o montante recebido pelo aplicador foi de
- (A) R\$ 1.823,00.
 - (B) R\$ 1.833,00.
 - (C) R\$ 1.843,00.
 - (D) R\$ 1.853,00.
 - (E) R\$ 1.863,00.
13. Uma pessoa comprou um determinado produto cujo preço à vista era de R\$ 825,00. Como forma de pagamento, ela deu uma entrada de 45% do preço à vista e pagou o restante com um cheque para 30 dias, com juros de 4% sobre esse restante. O valor que essa pessoa pagou de juros, nessa compra, correspondeu a
- (A) R\$ 18,05.
 - (B) R\$ 18,10.
 - (C) R\$ 18,15.
 - (D) R\$ 18,20.
 - (E) R\$ 18,25.

14. Em uma pesquisa realizada com 300 pessoas, o número das que se declararam ser doutores em alguma área de conhecimento correspondeu a quatro unidades a mais da nona parte das que se declararam ser apenas graduadas, e o número de pessoas que se declararam ser apenas mestres correspondeu a quatro vezes o número de pessoas que se declararam ser doutores. A razão entre o número das pessoas que se declararam ser apenas graduadas e o número das que se declararam ser doutores é igual a

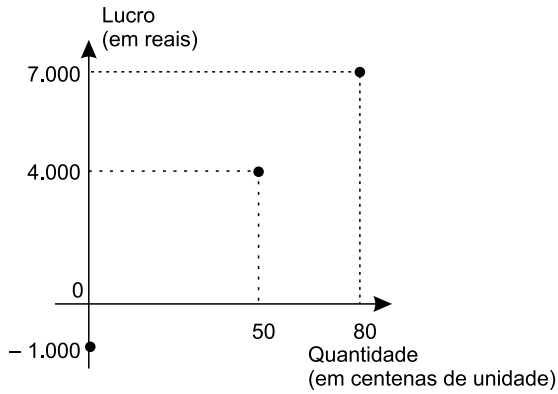
- (A) 7,5.
- (B) 7.
- (C) 6,5.
- (D) 6.
- (E) 5,5.

15. A média das idades de um grupo de 10 pessoas é 18,7 anos. Carlos e Ana não fazem parte desse grupo, mas, inserindo-os ao grupo, a média das idades das 12 pessoas passa a ser de 19 anos. Sabendo-se que Carlos é 5 anos mais velho que Ana, e que ambos nasceram no primeiro dia do mês de janeiro, é correto afirmar que Ana nasceu no ano de

- (A) 1992.
- (B) 1994.
- (C) 1996.
- (D) 1998.
- (E) 2000.

16. Em determinada casa comercial, o número de trabalhadores do gênero masculino é 4 unidades menor que o número de trabalhadores do gênero feminino. Nessa casa comercial, cada trabalhador recebeu, no final do ano passado, como brinde, um vale-presente para ser utilizado na própria loja: para os homens, o vale-presente tinha valor unitário de R\$ 120,00, e, para as mulheres, de R\$ 150,00. Sabendo-se que ao todo foi distribuído um total de R\$ 7.080,00 em vales-presentes, pode-se concluir corretamente que nessa casa comercial o valor total em vales-presentes distribuídos para os funcionários do gênero feminino foi de
- (A) R\$ 3.800,00.
 - (B) R\$ 3.900,00.
 - (C) R\$ 4.000,00.
 - (D) R\$ 4.100,00.
 - (E) R\$ 4.200,00.
17. Um terreno tem formato retangular, e a medida da sua lateral é 20% maior que a medida de sua frente. Sabendo-se que o perímetro desse terreno é 110 metros e que ele foi vendido pelo valor de R\$ 900,00 o metro quadrado, pode-se afirmar corretamente que o valor total de venda desse terreno foi
- (A) R\$ 625.500,00.
 - (B) R\$ 675.000,00.
 - (C) R\$ 700.500,00.
 - (D) R\$ 725.000,00.
 - (E) R\$ 750.500,00.
18. Todos os dias, são necessárias, em média, duas horas para cinco analistas, todos com a mesma força de trabalho, analisarem determinada quantidade Q de documentos. Em um dia em que um desses analistas não puder realizar essa tarefa, espera-se que os quatro demais, no mesmo ritmo de trabalho, realizem metade dessa tarefa em, no mínimo, 1 hora e
- (A) 15 minutos.
 - (B) 20 minutos.
 - (C) 25 minutos.
 - (D) 30 minutos.
 - (E) 35 minutos.

19. O gráfico apresenta informações do lucro, em reais, sobre a venda de uma quantidade, em centenas, de um produto em um hipermercado.



Sabendo-se que é constante a razão entre a variação do lucro e a variação da quantidade vendida e que se pretende ter um lucro total não menor que R\$ 90.500,00 em 10 dias de venda desse produto, então a média diária de unidades que deverão ser vendidas, nesse período, deverá ser, no mínimo, de

- (A) 8900.
 - (B) 8950.
 - (C) 9000.
 - (D) 9050.
 - (E) 9150.
20. Considere a seguinte tabela de desconto mensal de imposto de renda na fonte, de trabalhadores assalariados.

BASE DE CÁLCULO EM REAIS (R\$)	ALÍQUOTA EM PORCENTAGEM (%)	PARCELA A DEDUZIR EM REAIS (R\$)
Até 1.903,98	Isento	-
De 1.903,99 até 2.826,65	7,5	142,80
De 2.826,66 até 3.751,05	15	354,80
De 3.751,06 a 4.664,68	22,5	636,13
Acima de 4.664,68	27,5	869,36

Um trabalhador que teve como desconto de imposto de renda, em determinado mês de vigência da tabela, o valor de R\$ 185,20, teve uma base de cálculo que, para atingir R\$ 10.000,00, precisa ser adicionado a

- (A) R\$ 5.600,00.
- (B) R\$ 6.000,00.
- (C) R\$ 6.400,00.
- (D) R\$ 6.800,00.
- (E) R\$ 7.200,00.

21. *Justiça homologa acordo de leniência com Andrade Gutierrez*

O juiz federal Sérgio Moro homologou o acordo de leniência entre a empreiteira Andrade Gutierrez e o Ministério Público Federal.

(G1, 08.05.2016. Disponível em: <<http://goo.gl/oDf711>>. Adaptado)

Nos termos do acordo, em troca de poder continuar mantendo contratos com o poder público, a empresa

- (A) decidiu não mais financiar campanhas de candidatos e partidos políticos, assim como se comprometeu a desmontar o seu escritório de lobby em Brasília.
- (B) firmou que os seus executivos devem se manifestar apenas no que for estabelecido expressamente pelos contratos firmados, para evitar práticas de suborno e corrupção.
- (C) resolveu submeter todos os seus contratos a auditorias externas e, a título de transparência, repatriou os seus recursos depositados em paraísos fiscais.
- (D) aceitou pagar R\$ 1 bilhão em multas, além de garantir a colaboração em todas as investigações de corrupção em que possa estar envolvida.
- (E) estabeleceu limites para o valor das obras públicas das quais participará de agora em diante, evitando os projetos mais custosos e com maior risco de corrupção.

22. A Procuradoria-Geral da República ofereceu nesta sexta-feira (6 de maio) denúncia ao STJ (Superior Tribunal de Justiça) contra o governador pelos crimes de corrupção, lavagem de dinheiro e falsidade de documento particular. A acusação tem como base desdobramentos da Operação Acrônimo, que investiga um suposto esquema de financiamento ilegal de campanhas políticas.

(Folha de S.Paulo, 06.05.2016.

Disponível em: <<http://goo.gl/w0W4p1>>. Adaptado)

O governador denunciado foi

- (A) Geraldo Alckmin, de São Paulo.
- (B) Fernando Pimentel, de Minas Gerais.
- (C) Luiz Fernando Pezão, do Rio de Janeiro.
- (D) Beto Richa, do Paraná.
- (E) Flávio Dino, do Maranhão.

23. A Assembleia Legislativa de São Paulo está ocupada há mais de 36 horas por estudantes que querem a abertura de uma CPI (Comissão parlamentar de Inquérito) que investigue a máfia da merenda. Os manifestantes, em sua maioria alunos secundaristas, ocupam o plenário da Assembleia desde as 17h da última terça-feira (3 de maio).

(G1, 05.05.2016. Disponível em: <<http://goo.gl/CUUHUo>>. Adaptado)

A chamada “mafia da merenda” está relacionada à Operação Alba Branca, que investiga

- (A) o pagamento de propina por parte de grandes indústrias alimentícias de forma a se beneficiarem diretamente das compras de merenda realizadas pelo governo estadual e por algumas prefeituras municipais de São Paulo.
- (B) o superfaturamento, a lavagem de dinheiro e a evasão de divisas em direção a paraísos fiscais por parte de autoridades públicas responsáveis pela questão da merenda e da alimentação escolar.
- (C) a influência e a participação de grandes proprietários de terras, envolvidos na produção agrícola de alimentos, e que teriam subornado autoridades públicas responsáveis pela compra e fornecimento de merenda para as escolas.
- (D) a terceirização do serviço de fornecimento de merendas escolares, até então sob responsabilidade direta do Estado, e que agora, sob a alçada de empresas privadas, tem sido foco de suspeitas de corrupção.
- (E) a formação de cartel entre três cooperativas de agricultura familiar para definir vencedores em licitações de merenda escolar em municípios paulistas em um esquema de corrupção e superfaturamento no fornecimento de alimentos.

24. A polícia francesa entrou em confronto, neste sábado (9 de abril), com centenas de manifestantes em Paris, usando gás lacrimogêneo. O protesto foi um dos muitos realizados nos últimos tempos. Dezenas de milhares de manifestantes tomaram as ruas de Paris para protestar.

(Folha de S.Paulo, 09.04.2016.

Disponível em: <<http://goo.gl/ZcN4ZD>>. Adaptado)

Os protestos têm como alvo

- (A) a nova lei de refúgio e imigração, que transformou a França em um grande polo de atração de refugiados oriundos da Síria e da Líbia.
- (B) o estado de exceção, que suspende algumas garantias constitucionais em nome do combate ao terrorismo, em que a França se encontra desde os últimos atentados.
- (C) a reforma trabalhista defendida pelo governo, que pretende flexibilizar algumas leis trabalhistas tais como a duração da jornada semanal de trabalho.
- (D) a política externa francesa, bastante agressiva no Oriente Médio e muito alinhada com os EUA, o que tem provocado forte polêmica entre os franceses.
- (E) a fragilidade dos órgãos franceses de segurança, inteligência e informação, o que tem contribuído para fazer da França o alvo preferido de atentados do Isis.

25. Depois de diminuir de cinco para quatro os dias úteis do serviço público, o presidente anunciou nesta quinta-feira (14 de abril) que mudará o fuso horário do país para economizar energia. O horário de verão é mais uma medida do governo para tentar resolver a crise energética. Nos últimos meses, a seca provocada pelo El Niño diminuiu ainda mais a geração de energia, já afetada pela falta de infraestrutura.


(Folha de S.Paulo, 14.04.2016.
Disponível em: <<http://goo.gl/owB5vU>>. Adaptado)

A notícia trata da situação energética

- (A) na Venezuela.
- (B) na Bolívia.
- (C) no Paraguai.
- (D) no Peru.
- (E) no Equador.

NOÇÕES DE INFORMÁTICA

26. No Microsoft Windows 7, em sua configuração original, um usuário possui 2 arquivos texto em um diretório, chamados *notas* e *anotações*, conforme imagem a seguir.



Ao selecionar o arquivo *anotações* e pressionar a tecla F2 para renomeá-lo, o usuário digitou *notas*. Nesse caso, considerando que não é possível ter em um mesmo diretório dois arquivos com o mesmo nome e extensão, o Windows automaticamente

- (A) mescla o conteúdo dos 2 arquivos, mantendo apenas 1 arquivo chamado *notas*.
- (B) apaga o arquivo *notas* anterior e mantém apenas o novo arquivo renomeado.
- (C) sugere um novo nome *notas (2).txt* e aguarda confirmação do usuário.
- (D) altera o nome do arquivo anterior *notas* para *notas_velho* e efetua a alteração do outro arquivo de *anotações* para *notas*.
- (E) movimenta o arquivo *notas* para a pasta Meu Computador na Área de Trabalho e mantém apenas o novo arquivo renomeado.

27. Comparando dois documentos criados no Microsoft Word 2010, em sua configuração padrão, sendo um deles em modo paisagem e outro em modo retrato, mas ambos com a mesma fonte e tamanho de letra, e margens, assinale a alternativa correta.

- (A) O documento em modo paisagem tem mais caracteres por linha do que o documento em modo retrato.
- (B) O documento em modo retrato tem menos linhas do que o documento em modo paisagem.
- (C) Ambos os documentos têm a mesma quantidade de caracteres por linha.
- (D) O documento em modo paisagem tem menos caracteres por linha do que o documento em modo retrato.
- (E) O documento em modo paisagem só pode ser configurado como tamanho A4.

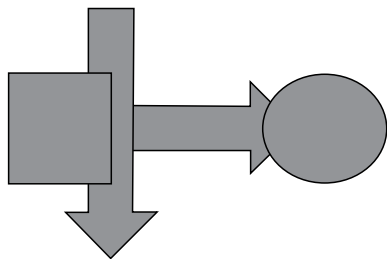
28. Uma planilha criada no Microsoft Excel 2010, em sua configuração padrão, está preenchida como se apresenta a seguir.

	A	B	C	
1	Atividade	Data Início	Cidade	
2	1	10/10/2015	São Paulo	
3	2	18/10/2015	Osasco	
4	3	22/10/2015	Guarulhos	
5	4	23/10/2015	São Paulo	
6	5	02/11/2015	São Paulo	
7	6	05/11/2015	Guarulhos	
8				
9				
10	3			
11				

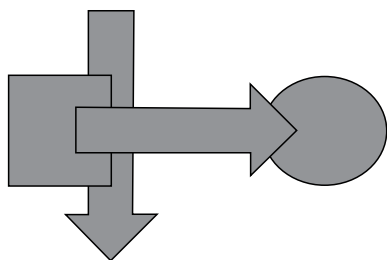
A fórmula =PROCV(A10;A2:C7;3;0), se digitada na célula B10, trará como resultado

- (A) #N/A
- (B) #ERRO
- (C) 3
- (D) Guarulhos
- (E) 22/10/2015

29. Têm-se as seguintes AutoFormas incluídas no Microsoft PowerPoint 2010, em sua configuração padrão, na sequência seta para a direita, seta para baixo, círculo, quadrado.



Assinale a alternativa que apresenta a sequência correta de operações de arrasto para alterar as AutoFormas de maneira que tenham a aparência apresentada a seguir.



- (A) Enviar para trás quadrado, enviar para trás seta para baixo, enviar para trás seta para direita.
- (B) Trazer para frente seta para direita, enviar para trás quadrado, enviar para trás seta para baixo.
- (C) Enviar para trás círculo, enviar para trás seta para baixo.
- (D) Trazer para frente seta para direita, trazer para frente seta para baixo, trazer para frente quadrado.
- (E) Enviar para trás círculo, enviar para trás seta para direita, enviar para trás quadrado.
30. No site de pesquisas Google, quando é usado(a) um(a) _____ antes de uma palavra ou site, ele exclui os resultados de pesquisas que incluem essa palavra ou site. Assinale a alternativa que preenche, corretamente, a lacuna do enunciado.
- (A) asterisco
- (B) apóstrofo
- (C) símbolo de \$
- (D) hashtag
- (E) traço

CONHECIMENTOS ESPECÍFICOS

31. Espécies exóticas invasoras têm um significativo impacto na vida e no modo de vida das pessoas. Sobre essas espécies, é correto afirmar que
- (A) sua disseminação leva à heterogeneização dos ambientes, com a ampliação de características que a biodiversidade local proporciona, e à manutenção das propriedades ecológicas essenciais.
- (B) ao contrário de alguns problemas ambientais que se amenizam com o tempo, a contaminação biológica tende a se multiplicar e se espalhar, causando problemas de longo prazo que se agravam.
- (C) em ecossistemas ricos em nutrientes, a presença dessas espécies cria, muitas vezes, condições favoráveis para o estabelecimento de outras espécies invasoras, que agora podem se fixar.
- (D) as plantas invasoras, em seu processo de ocupação, diminuem sua área de ocorrência e convivem com a flora nativa de modo geral com relações tipo inquilinismo e cooperação.
- (E) espécies introduzidas no país no passado e que não aparentam ser problemáticas no presente podem ser cultivadas em larga escala, sem que causem alterações ambientais no futuro.
32. A dispersão passiva de vegetais envolve o transporte de seus frutos e suas sementes. Assinale a alternativa que apresenta essa forma de transporte e sua definição correta.
- (A) Endozoocoria é quando a dispersão se faz através da ingestão do fruto e posterior liberação da semente, passando pelo trato digestivo animal.
- (B) Quiropteroecoria é a dispersão realizada por morcegos insetívoros de hábitos diurnos, com excelente visão para cores e olfato aguçado.
- (C) Saurocoria é a dispersão por formigas vegetarianas que preferem sementes com elaiossoma, uma parte macia que, usualmente, contém substância oleosa.
- (D) Ombro-hidroecoria ocorre quando plantas aquáticas e litorâneas possuem frutos e sementes somente um pouco mais leves que a água e são transportados submersos.
- (E) Ornitocoria é quando os frutos e as sementes são carregados acidentalmente, aderidos a espinhos, ganchos ou exsudatos viscosos que se soltam facilmente da planta-mãe, e são depositados, geralmente, perto do nível do solo.

- 33.** Os fungos, organismos importantes em vários processos industriais, caracterizam-se por serem
- (A) heterotróficos quimiolitotróficos, procariotos anucleados, com um cromossomo circular e vários plasmídeos.
 - (B) autotróficos fotorganotróficos, acariotos plurinucleados, com cromossomos pares, centríolos e plastídeos.
 - (C) heterotróficos quimiorganotróficos, eucariotos uni ou plurinucleados, com cromossomos lineares e histonas.
 - (D) autotróficos quimiolitotróficos, procariotos com nucleolide contendo muitos nucleotídeos, ausência de ribossomos e ergastoplasma.
 - (E) heterotróficos fotorganotróficos, eucariotos uninucleados, com um cromossomo circular e plastídeos e ausência de centríolo.
- 34.** No estudo da dinâmica de populações, é importante o conhecimento da curva de sobrevivência das espécies, uma vez que esse conhecimento possibilita o manejo mais seguro da população. Sobre isso, é correto afirmar que
- (A) em espécies que apresentam curva convexa, ocorre grande produção de filhotes que não são “cuidados e protegidos” pelos pais.
 - (B) nas espécies que apresentam curvas côncavas, os pais produzem poucos filhotes e investem na sobrevivência dos mesmos.
 - (C) curva acentuadamente côncava é decorrente de uma alta taxa de mortalidade na fase jovem do indivíduo.
 - (D) as curvas convexas estão relacionadas com baixa probabilidade de sobrevivência dos filhotes.
 - (E) curva convexa ocorre em espécies cuja porcentagem de sobrevivência está diretamente relacionada à idade.
- 35.** Uma forma de classificar os organismos aquáticos é por meio de seu comportamento na água, especialmente quanto à locomoção. Os organismos classificados como plêustons são aqueles que
- (A) não se locomovem contra a correnteza e, portanto, flutuam na água.
 - (B) encontram-se na interface água-sedimento e são capazes de nadar contra a correnteza.
 - (C) vivem no fundo dos mares, rios e lagos, fixos ao substrato ou se arrastando sobre ele.
 - (D) se encontram na interface ar-água, flutuando nesse meio, como aguapés e larvas de muitos mosquitos.
 - (E) se deslocam contra a corrente em toda a massa de água.
- 36.** Após denúncia de uma área contaminada por agrotóxicos carbamatos, foi solicitada uma forma de se fazer uma avaliação preliminar da possível contaminação. Sugeriu-se o uso de um biomarcador, como a
- (A) indução de mono-oxigenase.
 - (B) inibição da acetilcolinesterase.
 - (C) fragilidade das cascas de ovos de aves.
 - (D) indução de metalotionina.
 - (E) inibição da ácido aminolevulínico desidratase.
- 37.** Suponha que o peso molecular de um determinado aminoácido seja 125 daltons e de um polipeptídeo eucariótico seja 50 000 daltons. Admita que o RNA mensageiro transcrito que especifica esse polipeptídeo possua um códon de início e um de término. Quantos códons possui essa molécula de RNA mensageiro?
- (A) 150 002.
 - (B) 1 202.
 - (C) 402.
 - (D) 377.
 - (E) 43.
- 38.** Entre as diferentes tecnologias de tratamento de esgoto, as lagoas anaeróbias têm como vantagem e desvantagem, respectivamente:
- (A) os custos de implantação e operação reduzidos; e a contaminação do solo.
 - (B) a eficiência de remoção de coliformes de 90 a 99%; e a produção de maus odores e insetos.
 - (C) pequena superfície e grande profundidade; aplicação apenas a efluentes com baixo teor de matéria orgânica.
 - (D) a eliminação de patógenos de 60 a 99%; e a remoção anual do lodo formado.
 - (E) o alto custo de implantação; e a necessidade de equipamentos complexos para funcionamento.
- 39.** São processos que representam, correta e respectivamente, anabolismo e catabolismo:
- (A) Respiração aeróbia e glicólise.
 - (B) Replicação celular e crescimento de tecidos.
 - (C) Formação de proteínas e fermentação.
 - (D) Excreção e degeneração óssea.
 - (E) Síntese de ácidos graxos e síntese de hormônios.

40. Um sítio de uma Floresta Ombrófila Estacional desmatou 3 hectares e foi autuado pelo agente ambiental. Ele alegou que o desmate foi feito em área com vegetação secundária em estágio pioneiro de sucessão. O agente ambiental, ao analisar as características da vegetação, concluiu tratar-se de estágio médio de regeneração, pois
- (A) a fisionomia da área variava de savânica a floresta baixa, com diâmetro do caule ao nível do solo de 2 cm e grande número de epífitas.
 - (B) apresentava árvores com diâmetro a altura do peito até 10 cm, trepadeiras lenhosas, ausência de serapilheira e de epífitas e biodiversidade baixa.
 - (C) apresentava serapilheira presente com intensa decomposição, grande biodiversidade, árvores com diâmetro a altura do peito maior que 20 cm.
 - (D) havia árvores de diversos tamanhos de altura (de 4 a 12 m), trepadeiras não lenhosas e arbustos umbrófilos.
 - (E) havia ocorrência de distribuição contínua de copas, ausência de líquens, musgos, hepática, orquídeas e bromélias.
41. Ensaios físicos e químicos de um novo agrotóxico mostraram eficácia do produto ao organismo-alvo, atuação em baixas concentrações e moderada persistência no solo. Além desses ensaios é essencial que sejam avaliados seus efeitos ecotoxicológicos, entre eles sua potencial genotoxicidade. O Analista Técnico Científico – Biólogo sugeriu a realização de dois testes: um com células procarióticas e outro com animais. Assinale a alternativa que apresenta, correta e respectivamente, os dois tipos de testes sugeridos.
- (A) Metástases e Linfócitos do sangue periférico.
 - (B) Letal dominante e Conversão gênica.
 - (C) Letal recessivo e Mutação reversa.
 - (D) Ames e Micronúcleo.
 - (E) Plasmídeo e Nucleoide.
42. Um teste com alta especificidade tem probabilidade de
- (A) dar um resultado negativo quando o indivíduo não tem a doença.
 - (B) detectar de modo seguro muitos resultados falsos negativos.
 - (C) ser positivo quando o indivíduo realmente não tem a doença.
 - (D) afastar outras doenças em uma fase inicial do diagnóstico.
 - (E) ser positivo quando a doença está presente.
43. A coleta de diferentes tipos de plantas envolve cuidados específicos durante o procedimento. Assinale a alternativa correta sobre esses cuidados.
- (A) Plantas aquáticas límnicas devem ser conservadas em água com sal ou em formol a 4%, quando não for possível herborizar logo.
 - (B) Na coleta de plantas ramifloras ou caulifloras, se possível, deve-se destacar os frutos e as flores junto com a área de suporte do tronco.
 - (C) Os espécimes pequenos de palmeiras devem ser coletados inteiros, separando folhas do caule e das demais partes da planta.
 - (D) Para coleta de algas unicelulares, pode-se fazer uso de uma folha de papel, colocando-a sob o indivíduo, retirando-o da água, de modo que a amostra fique apegada à folha.
 - (E) As briófitas, sendo vasculares, devem ser prensadas e depois acondicionadas em sacos de papel.
44. As principais características dos esgotos domésticos são matéria sólida, temperatura, odor, cor e turbidez, variação de vazão e ação de bactérias na degradação da matéria. Além disso,
- (A) contêm aproximadamente 50% de água e 50% de sólidos, sendo esses resíduos sólidos que causam os problemas de poluição das águas, trazendo a necessidade de se tratar os esgotos.
 - (B) a temperatura do esgoto é bastante elevada, cerca de 5 vezes superior à das águas de abastecimento, e a velocidade de decomposição do esgoto é proporcional à diminuição da temperatura.
 - (C) os odores característicos do esgoto são causados pelos gases formados no processo de decomposição aeróbia. O odor de mofo é típico de esgoto fresco e o odor de ovo podre é típico do esgoto séptico.
 - (D) a cor e a turbidez indicam de imediato o estado de decomposição do esgoto, sendo a cor preta típica do esgoto fresco e a tonalidade acinzentada acompanhada de alguma turbidez típica do esgoto velho.
 - (E) os excretas lançados no solo sofrem ação de natureza bioquímica pela presença de bactérias saprófitas até sua mineralização, e a decomposição aeróbia acontece quando a matéria orgânica está em íntimo contato com o gás oxigênio.

45. O enriquecimento ecológico da vegetação secundária da Mata Atlântica, promovido por meio do plantio ou da semeadura de espécies nativas, independe de autorização do órgão ambiental competente, quando realizado
- (A) nas práticas silviculturais que gerem produtos ou subprodutos comercializáveis a fim de melhorar a renda dessa população.
 - (B) em remanescentes de vegetação nativa secundária nos estágios inicial, médio e avançado de regeneração, sem necessidade de qualquer corte ou supressão de espécies nativas existentes.
 - (C) com supressão de espécies nativas no estágio primário e exóticas que gere produtos necessários à fabricação de rações animais.
 - (D) nos casos em que o enriquecimento ecológico exigir o corte ou a supressão de espécies nativas que gerem produtos ou subprodutos não comercializáveis.
 - (E) em remanescentes florestais nos estágios inicial e médio de regeneração, em áreas de até vinte hectares por ano, que envolva o corte e o manejo seletivo de espécies nativas.
46. A bacterioscopia com a coloração de Gram é um método de triagem, ou até mesmo confirmatório em alguns casos, constituindo-se uma peça importante e fundamental. Sua técnica é simples, rápida e tem capacidade de resolução. Além disso, os custos com investimento e manutenção são consideravelmente baixos diante da eficácia alcançada com os resultados imediatos dos testes. Esse método baseia-se na composição da parede celular, sendo que
- (A) havendo questionamento sobre a Gram positividade ou Gram negatividade da cultura, deve ser feita uma coloração controle paralela, com uso de culturas bacterianas conhecidas como Gram positivas, como, por exemplo, a *Escherichia coli*, e Gram negativas, como o *Staphylococcus aureus*.
 - (B) nas bactérias Gram negativas, o tratamento com álcool-acetona não é capaz de remover o corante inicialmente aplicado à cultura devido à espessa camada de peptidoglicanas na parede celular.
 - (C) após a primeira coloração, as bactérias Gram positivas formam um complexo azul intenso que não é removido pelo álcool-acetona, pois a parede celular é formada por lipoproteínas, fosfolipídeos, proteínas e polissacarídeos que impedem a retirada do complexo cristal violeta-iodo.
 - (D) o descoloramento para mais ou para menos da cultura é resultante da incorreta diferenciação pelo álcool-acetona, caracterizando as Gram positivas com coloração rosa ou vermelha e as Gram negativas, roxas.
 - (E) as bactérias Gram negativas possuem uma fina camada de peptidoglicanas sob uma camada de lipoproteínas, fosfolipídeos, proteínas e lipopolissacarídeos, que tem seus lipídeos removidos pelo tratamento álcool-acetona, aumentando a permeabilidade e permitindo a descoloração para posterior revelação.
47. Pelo artigo 54 da Lei nº 9.605/98, quem causar poluição de qualquer natureza em níveis que resultem ou possam resultar em danos à saúde humana, ou que provoquem a mortandade de animais ou a destruição significativa da flora, caso o crime torne uma área, urbana ou rural, imprópria para a ocupação humana; cause poluição hídrica que torne necessária a interrupção do abastecimento público de água de uma comunidade; ou ocorra por lançamento de resíduos sólidos, líquidos ou gasosos, ou detritos, óleos ou substâncias oleosas, em desacordo com as exigências estabelecidas em leis ou regulamentos, terá pena de
- (A) reclusão de um a cinco anos.
 - (B) reclusão de um a quatro anos e multa.
 - (C) reclusão de um a três anos ou multa.
 - (D) reclusão de um ano e multa.
 - (E) multa.
48. A fragmentação de ambientes naturais, especialmente florestas, cria paisagens semelhantes a um mosaico, com manchas do habitat original separadas por outro tipo de ocupação. Isso acarreta uma série de alterações microclimáticas que se iniciam na periferia dos fragmentos (efeito de borda) e têm como consequência
- (A) maior penetração de luz no solo do que no interior da floresta fechada, estimulando a germinação de sementes de novas árvores e o crescimento de espécies climáticas que antes era inibido.
 - (B) o aumento da temperatura do solo e o aquecimento do ar na parte mais periférica, estimulando o desenvolvimento da microbiota local, o que leva ao enriquecimento do solo.
 - (C) a tendência de populações pequenas e isoladas a praticar endogamia, aumentando a heterozigose e a incidência de indivíduos geneticamente semelhantes, contribuindo assim para manutenção da espécie.
 - (D) maior perda de umidade por evaporação e ressecamento do solo, possibilitando a proliferação de heliófitas, gramíneas e plantas arbustivas.
 - (E) inibição ou redução da migração e da imigração de espécies exóticas para as áreas desmatadas circundantes e para o fragmento. Esse fenômeno é mais intenso quanto maior for a área do fragmento.

49. Em relação ao processo de especiação, é correto afirmar que
- (A) a dispersão é uma das maneiras de ocorrer o isolamento de populações na especiação simpátrica, por meio de uma barreira física.
 - (B) a especiação decorrente de uma mutação, viável, por poliploidia, isolando reprodutivamente os indivíduos mutantes é um exemplo de alopatria.
 - (C) diferenciação ecológica é quando ocorre a diversificação de uma espécie para preencher uma ampla variedade de espaços físicos similares.
 - (D) vicariância é um processo geográfico e dispersão é um processo ecológico, ambos relacionados com barreiras ecológicas.
 - (E) especiação simpátrica ocorre quando o isolamento ambiental entre populações interrompe o fluxo gênico, levando a diferenças genéticas.
50. A região Noroeste de São Paulo caracteriza-se pela predominância de
- (A) Floresta Estacional Semidecidual Altamontanha e Floresta Ombrófila Mista.
 - (B) Floresta Estacional Decidual e Mata Paludosa.
 - (C) Floresta Ombrófila Densa e Cerradão.
 - (D) Vegetação de Restinga e Floresta Ombrófila Densa Altamontanha.
 - (E) Cerrado e Floresta Estacional Semidecidual.
51. Um agente tóxico com elevado coeficiente de partição octanol-água e baixa polaridade foi lançado acidentalmente em um lago usado para pesca esportiva. Peritos avaliaram o local e constataram haver risco para o ecossistema límnic, principalmente pela ocorrência de
- (A) salinização.
 - (B) bioacumulação.
 - (C) impermeabilização do sedimento.
 - (D) impedimento da entrada de luz.
 - (E) acúmulo de oxigênio.
52. Um dado importante na restauração de florestas tropicais é a classe de substrato usado para garantir a germinação de sementes e um bom desenvolvimento das mudas. Devem ser consideradas as seguintes características: boa estrutura e consistência, porosidade suficiente para boa drenagem e aeração das raízes, capacidade de retenção de água, ausência de sementes de ervas daninhas, viabilidade econômica e boa disponibilidade e facilidade de preparo. Assinale a alternativa que contém correta e respectivamente a classe, o exemplo e as vantagens de substratos comumente usados.
- (A) Grupo A; Composto orgânico de bovinos, casca de eucalipto e pinus, bagaço de cana e lixo urbano; Produzido por processos naturais, boa consistência, média a alta porosidade e retenção de água, fácil obtenção e baixo custo.
 - (B) Grupo B; Turfa; Alta densidade, partículas grandes, elevando aeração e drenagem, equilíbrio entre macro e micro poros, difícil obtenção e baixo custo.
 - (C) Grupo C; Casca de arroz carbonizada, cinza da caldeira de biomassa e bagaço de cana carbonizado; Formado a partir de processos naturais com alta atividade biológica, elevada capacidade de retenção de água e média e alta concentração de N, P e K.
 - (D) Grupo D; Vermiculita; Baixa densidade global e alta porosidade (>80%), fácil obtenção, alto custo e isento de inóculos de doenças.
 - (E) Grupo E; Terra de subsolo; Se mais argilosa, eleva a aeração e a drenagem, fácil obtenção e de baixo custo.
53. Águas classificadas como Classe Especial são destinadas ao abastecimento doméstico, sem prévia ou com simples desinfecção, e à preservação do equilíbrio natural das comunidades aquáticas em unidades de conservação e apresentam os seguintes limites ou condições:
- (A) odor e aspecto não objetáveis e índice de fenóis de até 1,0 mg/L C_6H_5OH .
 - (B) lançamentos de despejos tolerados, desde que pH esteja entre 5 e 9 e materiais sedimentáveis apresentem até 1 mL/L.
 - (C) turbidez até 100 unidades nefelométricas e iridicências de óleos e graxas toleráveis.
 - (D) coliformes fecais totais ausentes em qualquer amostra, bem como corantes artificiais virtualmente ausentes.
 - (E) presença de óleos minerais até 20 mg/L e óleos vegetais e gorduras animais até 50 mg/L.

54. Um lago vizinho a uma indústria de detergentes e outros produtos de limpeza biodegradáveis começou a apresentar uma intensa proliferação de plantas aquáticas, que acabaram quase por impedir a visualização da massa de água. Foi solicitado um parecer técnico da situação, o qual constatou
- (A) o fenômeno chamado maré vermelha, em que alguns produtos estimulam o crescimento da vegetação.
 - (B) a assoreamento do lago com a necessidade de dragagem para remoção do sedimento e plantas acumulados.
 - (C) a ocorrência de eutrofização decorrente da liberação de fosfatos e nitratos na água do lago.
 - (D) o risco de aumento excessivo do zooplâncton aquático em função da quantidade de alimento disponível.
 - (E) a laterização do sedimento devido à ausência da penetração de luz.
55. A implantação de um aterro sanitário envolve o conhecimento
- (A) da declividade do terreno, devendo ser superior a 1% e inferior a 30%, já que terrenos planos são mais indicados.
 - (B) da presença de mananciais e zonas de proteção ambiental nas imediações, para melhorar a paisagem do local onde será instalado o empreendimento.
 - (C) do tipo de solo, uma vez que solos mais arenosos são mais indicados do que solos argilosos, pois apresentam maior porosidade.
 - (D) do nível de profundidade do lençol freático, pois quanto menos profundo, mais fácil é a remoção dos possíveis contaminantes.
 - (E) da ocupação antrópica da área, uma vez que áreas com grande adensamento populacional facilitam a implantação desse tipo de empreendimento.
56. Assinale a alternativa que apresenta uma das premissas para definir os padrões filogeográficos básicos.
- (A) A vicariância leva à semelhança genética entre populações ou espécies em marcadores genéticos, seja por ação de seleção ou por deriva genética, mutação e sorteio de linhagens.
 - (B) Se o tempo de isolamento for longo o suficiente, as populações apresentarão polifiletismo. Se o tempo de separação for longo, os clados identificados estarão separados por uma baixa divergência genética.
 - (C) Quando ocorre contato primário entre duas populações que permaneceram isoladas no passado, é possível encontrar linhagens convergentes ocupando a mesma área geográfica.
 - (D) Na ausência de barreiras para o fluxo gênico, há um efeito homogeneizante que impede o surgimento de linhagens divergentes geograficamente estruturadas.
 - (E) Em alguns casos de presença de barreiras, existem linhagens que possuem ampla ocorrência com alto fluxo gênico contemporâneo entre populações historicamente ligadas.
57. Nos oceanos, é correto afirmar que
- (A) na zona batial, a temperatura fica em torno de 15 °C, devido a correntes marinhas quentes que se originam no Equador e se deslocam por grandes profundidades.
 - (B) a zona nerítica atinge cerca de 200 m de profundidade e aproximadamente 50 km de extensão a partir do litoral, sendo rica em produtividade e biomassa e intensivamente explorada comercialmente.
 - (C) a ressurgência que corresponde à subida de águas profundas para a superfície é um fenômeno que ocorre em várias regiões costeiras entre 30 e 45° de latitude e que depende da rotação do planeta e da alta incidência de chuvas na costa.
 - (D) a Corrente de Humboldt tem origem na América Central e se desloca para leste em direção ao norte da Europa, possibilitando um clima ameno na costa atlântica europeia, especialmente na Irlanda, Grã-Bretanha e sul da Escandinávia.
 - (E) na zona intertidal, há a presença maciça de organismos nectônicos de grande porte em função da presença de algas pluricelulares em abundância, possibilitando a pesca de muitas espécies marinhas para consumo humano.
58. De uma maneira geral, os microrganismos estão envolvidos em vários processos de grande interesse agrônomo, particularmente no que se refere à agricultura orgânica e à rotação de culturas. Dentre os processos, destaca(m)-se a
- (A) ciclagem de substância inibidoras do crescimento excessivo das plantas.
 - (B) mineralização anaeróbica da matéria inorgânica.
 - (C) fixação abiótica do enxofre.
 - (D) ação sinérgica aos patógenos.
 - (E) decomposição e a ressíntese da matéria orgânica.

59. Nos termos do que dispõe a Lei nº 12.527/2011 – Lei de Acesso à Informação, é correto afirmar que

- (A) dados, processados ou não, que podem ser utilizados para produção e transmissão de conhecimento, contidos em qualquer meio, suporte ou formato, são considerados integridade.
- (B) os Municípios com população igual ou superior a 12000 (doze mil) habitantes ficam dispensados da divulgação obrigatória na internet, ou de divulgação em tempo real, de informações relativas à execução orçamentária e financeira.
- (C) a informação em poder dos órgãos e entidades públicas, observado o seu teor e em razão de sua imprescindibilidade à segurança da sociedade ou do Estado, poderá ser classificada, dentre outras, como reservada, pelo prazo de 5 (cinco) anos, a partir da data de sua produção.
- (D) os interessados terão amplo acesso às informações pessoais, independentemente de classificação de sigilo como ultrassecreta, pelo prazo máximo de 10 (dez) anos, a contar da sua data de produção.
- (E) qualquer interessado poderá apresentar pedido de acesso à informação de interesse público aos órgãos e entidades públicas, por qualquer meio legítimo, devendo o pedido conter a identificação do requerente e os motivos determinantes da solicitação.

60. De acordo com o Decreto Estadual nº 58.052/2012, será o órgão responsável pela fiscalização da aplicação da Lei Federal nº 12.527/2011, e desse Decreto, no âmbito da Administração Pública Estadual, sem prejuízo da atuação dos órgãos de controle interno,

- (A) a Comissão de Acesso à Informação.
- (B) a Corregedoria Geral da Administração.
- (C) o Serviço de Informação ao Cidadão.
- (D) o Grupo Especial de Apoio ao Cidadão.
- (E) a Secretaria de Gestão Pública.

