



## CÂMARA MUNICIPAL DE SANTANA DE PARNAÍBA

CONCURSO PÚBLICO

EDITAL Nº 01/2016

### 104 – ASSISTENTE ADMINISTRATIVO

NOME DO CANDIDATO

NÚMERO DE INSCRIÇÃO

--	--	--	--	--	--	--	--	--	--

- VOCÊ RECEBEU SUA FOLHA DE RESPOSTAS E ESTE CADERNO CONTENDO **40** QUESTÕES OBJETIVAS.
- VERIFIQUE SE ESTE CADERNO CORRESPONDE AO CARGO QUE VOCÊ SE INSCREVEU, HAVENDO DIVERGÊNCIA, INFORME IMEDIATAMENTE AO FISCAL DA SALA. NÃO SERÃO ACEITAS RECLAMAÇÕES POSTERIORES.
- VERIFIQUE SE O CONTEÚDO DESTES CADERNO ENCONTRA-SE COMPLETO E LEGÍVEL, HAVENDO DIVERGÊNCIA, INFORME IMEDIATAMENTE AO FISCAL DA SALA. NÃO SERÃO ACEITAS RECLAMAÇÕES POSTERIORES.
- PREENCHA COM SEU NOME E NÚMERO DE INSCRIÇÃO OS ESPAÇOS RESERVADOS NA CAPA DESTES CADERNO.
- LEIA CUIDADOSAMENTE AS QUESTÕES E ESCOLHA A RESPOSTA QUE VOCÊ CONSIDERA CORRETA.
- RESPONDA A TODAS AS QUESTÕES.
- TRANSCREVA PARA A FOLHA DE RESPOSTAS, COM CANETA DE TINTA AZUL OU PRETA.
- A DURAÇÃO DA PROVA É DE **3 HORAS**.
- A SAÍDA DO CANDIDATO DO PRÉDIO SERÁ PERMITIDA APÓS TRANSCORRIDO O TEMPO MÍNIMO ESTABELECIDO NO EDITAL DO CONCURSO PÚBLICO.
- AO SAIR, VOCÊ ENTREGARÁ AO FISCAL A FOLHA DE RESPOSTAS.

**É EXPRESSAMENTE PROIBIDO O USO DE CELULAR E OUTROS APARELHOS ELETRÔNICOS NAS DEPENDÊNCIAS DO LOCAL DE PROVA.**

**AGUARDE A ORDEM DO FISCAL PARA ABRIR ESTE CADERNO DE QUESTÕES.**

## LÍNGUA PORTUGUESA

### Pechada

O apelido foi instantâneo. No primeiro dia de aula, o aluno novo já estava sendo chamado de "Gaúcho". Porque era gaúcho. Recém-chegado do Rio Grande do Sul, com um sotaque carregado.

— Aí, Gaúcho!

— Fala, Gaúcho!

Perguntaram para a professora por que o Gaúcho falava diferente. A professora explicou que cada região tinha seu idioma, mas que as diferenças não eram tão grandes assim. Afinal, todos falavam português. Variava a pronúncia, mas a língua era uma só. E os alunos não achavam formidável que num país do tamanho do Brasil todos falassem a mesma língua, só com pequenas variações?

— Mas o Gaúcho fala "tu"! — disse o gordo Jorge, que era quem mais implicava com o novato.

— E fala certo — disse a professora. — Pode-se dizer "tu" e pode-se dizer "você". Os dois estão certos. Os dois são português.

O gordo Jorge fez cara de quem não se entregara.

Um dia o Gaúcho chegou tarde na aula e explicou para a professora o que acontecera.

— O pai atravessou a sinaleira e pechou.

— O que?

— O pai. Atravessou a sinaleira e pechou.

A professora sorriu. Depois achou que não era caso para sorrir. Afinal, o pai do menino atravessara uma sinaleira e pechara. Podia estar, naquele momento, em algum hospital. Gravemente pechado. Com pedaços de sinaleira sendo retirados do seu corpo.

— O que foi que ele disse, tia? — quis saber o gordo Jorge.

— Que o pai dele atravessou uma sinaleira e pechou.

— E o que é isso?

— Gaúcho... Quer dizer, Rodrigo: explique para a classe o que aconteceu.

— Nós vinha...

— Nós vínhamos.

— Nós vínhamos de auto, o pai não viu a sinaleira fechada, passou no vermelho e deu uma pechada noutra auto.

A professora varreu a classe com seu sorriso. Estava claro o que acontecera? Ao mesmo tempo, procurava uma tradução para o relato do gaúcho. Não podia admitir que não o entendera. Não com o gordo Jorge rindo daquele jeito.

"Sinaleira", obviamente, era sinal, semáforo. "Auto" era automóvel, carro. Mas "pechar" o que era? Bater, claro. Mas de

onde viera aquela estranha palavra? Só muitos dias depois a professora descobriu que "pechar" vinha do espanhol e queria dizer bater com o peito, e até lá teve que se esforçar para convencer o gordo Jorge de que era mesmo brasileiro o que falava o novato. Que já ganhara outro apelido: Pechada.

— Aí, Pechada!

— Fala, Pechada!

Luis Fernando Veríssimo, Revista Nova Escola.

1. No que se refere ao novo aluno, mencionado no texto, leia as afirmativas abaixo.

- I. Os alunos estranharam a forma como o novo aluno falava, afinal, como a professora admitiu, o Brasil possui várias línguas, além do português.
- II. A professora, a princípio, teve dificuldade para entender o significado da palavra "pechar".
- III. O estranhamento presente na palavra "pechar" reside no fato de que o português foi influenciado pelo espanhol, e por isso, essa palavra até então desconhecida, foi descoberta pela professora como um estrangeirismo.

É correto o que se afirma em

- (A) II, apenas.  
 (B) I e II, apenas.  
 (C) II e III, apenas.  
 (D) I, II e III.

2. As alternativas abaixo apresentam os verbos destacados no pretérito imperfeito do indicativo, **EXCETO**, uma. Assinale-a.

- (A) "... afinal, todos **falavam** português ..."  
 (B) "... **variava** a pronúncia, mas a língua era uma só ..."  
 (C) "... E os alunos não **achavam** formidável que num país do tamanho do Brasil todos falassem a mesma língua..."  
 (D) "... Afinal, o pai do menino **atracessara** uma sinaleira e pechara ..."

3. Assinale a alternativa correta que seja um exemplo de apostro.

- (A) "... No primeiro dia de aula, o aluno novo já estava sendo chamado de "Gaúcho" ..."  
 (B) "... Variava a pronúncia, mas a língua era uma só ..."  
 (C) "... A professora, que já era uma profissional experiente, explicou que cada região tinha seu idioma, mas que as diferenças não eram tão grandes assim ..."  
 (D) "... Afinal, todos falavam português ..."

4. Assinale a alternativa correta cujo termo destacado seja um exemplo de conjunção explicativa.

- (A) "A professora explicou que cada região tinha seu idioma, **mas** que as diferenças não eram tão grandes assim".  
 (B) "No primeiro dia de aula, o aluno novo já estava sendo chamado de "Gaúcho", **porque** era gaúcho".  
 (C) "Variava a pronúncia, **porém** a língua era uma só".  
 (D) "Ao mesmo tempo, procurava uma tradução para o relato do gaúcho, **no entanto**, o entendera".



5. As alternativas abaixo apresentam trechos adaptados do texto. Analise as afirmativas a respeito dos verbos.

- I. "O apelido foi instantâneo e, sem que ela esperasse, naquele excepcional dia de aula, o aluno novo já estava sendo chamado de "Gaúcho". O termo destacado é um verbo na forma nominal do gerúndio.
- II. "Variava a pronúncia, porém o idioma é o mesmo. E os alunos não achavam espetacular que num país do tamanho do Brasil todos falassem em consonância a mesma língua". O termo destacado é um verbo na forma nominal do particípio.
- III. A professora sorriu, porém arrependeu-se e achou que não era caso para sorrir. O termo destacado é um verbo na forma nominal do infinitivo.

É correto o que se afirma em

- (A) I e II, apenas.  
(B) II e III, apenas.  
(C) I e III, apenas.  
(D) I, II e III.

6. Na frase: "Perguntaram para a professora por que o Gaúcho falava diferente", usa-se o "porquê" de forma separada, pois

- (A) a frase é uma pergunta indireta.  
(B) a frase apresenta uma afirmativa.  
(C) há uma substantivação do termo.  
(D) há a presença de uma conjunção integrante.

7. As alternativas abaixo apresentam preposições destacadas, **EXCETO**, uma. Assinale-a.

- (A) "No primeiro dia de aula, o aluno novo já estava sendo chamado de 'Gaúcho'".  
(B) "Recém-chegado do Rio Grande do Sul, com um sotaque carregado".  
(C) "E os alunos não achavam formidável que num país do tamanho do Brasil todos falassem a mesma língua".  
(D) "Ao mesmo tempo, procurava uma tradução para o relato do gaúcho".

8. "O apelido foi instantâneo. No primeiro dia de aula, o aluno novo já estava sendo chamado de 'Gaúcho'".

O termo destacado pode ser substituído, sem que haja prejuízo semântico, por

- (A) inevitável.  
(B) rápido.  
(C) controverso.  
(D) indiscreto.

9. Assinale a alternativa correta na qual o uso do "que" tenha valor de pronome relativo.

- (A) A professora explicou que cada região tinha seu idioma.  
(B) — Mas o Gaúcho fala "tu"! — disse o gordo Jorge, que era quem mais implicava com o novato.  
(C) A professora sorriu. Depois achou que não era caso para sorrir.  
(D) Não podia admitir que não o entendera.

10. Assinale a alternativa que apresenta **ERRO** em relação ao uso do "porquê".

- (A) "Os alunos quiseram entender por que a professora ficou tão alterada".  
(B) "É preciso que todos entendam o porquê da gravidade do problema".  
(C) "Não resolveram hoje o problema com a professora por quê?"  
(D) "Todos aceitaram a situação por que era mais conveniente".

### MATEMÁTICA

11. A construção de uma ponte está utilizando 150 pessoas já há 6 meses, mas essa equipe concluiu apenas 25% da obra estimada para ser entregue em um ano. Sabendo-se que a produção é diretamente proporcional à quantidade de trabalhadores e que a produtividade esperada será a mesma da atual, pode-se concluir que a quantidade de pessoas a serem agregadas às existentes para entregar a obra no prazo estará numa faixa

- (A) inferior a 100.  
(B) entre 100 e 200.  
(C) entre 201 e 300.  
(D) superior a 300.

12. Um triângulo com 50 m de base e 20 m de altura tem uma superfície, em relação à superfície de um retângulo com 100 m de base e 20 m de altura, numa faixa

- (A) inferior a 30%.  
(B) entre 30% e 50%.  
(C) entre 51% e 75%.  
(D) superior a 75%.

13. A superfície de um hexágono regular de lado = 30 cm pode ser considerada como a soma das superfícies de seis triângulos equiláteros com lado = 30 cm. Dessa forma, pode-se dizer que a superfície total desse hexágono está numa faixa

- (A) inferior a 900 cm<sup>2</sup>.  
(B) entre 900 e 2500 cm<sup>2</sup>.  
(C) entre 2501 e 4000 cm<sup>2</sup>.  
(D) superior a 4000 cm<sup>2</sup>.

14. O volume de uma esfera pode ser calculado pela fórmula  $\frac{4}{3} \times \pi \times R^3$  onde R é o raio da mesma. Uma esfera com raio 20% inferior a outra terá um volume inferior em relação à primeira numa faixa

- (A) de até 25%.  
(B) entre 25% e 40%.  
(C) entre 41% e 60%.  
(D) de mais de 60%.

15. Uma geladeira vendida à vista por R\$ 3.500,00 pode ser vendida com uma entrada de R\$ 500,00 e em mais 3 parcelas mensais com juros simples de 10% ao mês. O montante a ser despendido nessa hipótese de venda parcelada estará numa faixa

- (A) inferior a R\$ 3.900,00.  
(B) entre R\$ 3.900,00 e R\$ 4.200,00.  
(C) entre R\$ 4.201,00 e R\$ 4.500,00.  
(D) superior a R\$ 4.500,00.



16. Um mapa estelar usa uma escala em que cada centímetro corresponde a 100 anos-luz. Dessa forma, um corpo celeste que no mapa está a 38 cm da Terra deverá estar, na realidade, a uma distância da Terra, em anos-luz, numa faixa

- (A) inferior a 4 mil.
- (B) entre 4 mil e 12 mil.
- (C) entre 12.001 e 38 mil.
- (D) superior a 38 mil.

17. Uma quadra de vôlei deve ter 18 m de comprimento por 9 m de largura, mas, para oferecer mais segurança aos jogadores, o administrador do ginásio a ser construído decidiu oferecer um espaço de 4 metros em cada um dos lados da quadra e de 6 metros em cada fundo da quadra de forma que o terreno necessário aumentou em relação ao estritamente necessário para a quadra oficial numa faixa

- (A) inferior a 50%.
- (B) entre 50% e 100%.
- (C) entre 101% e 200%.
- (D) superior a 200%.

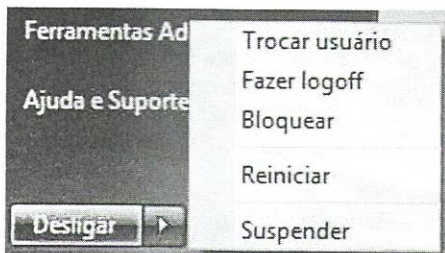
18. Um automóvel flex pode usar gasolina, que custa R\$ 3,40/l, ou álcool (etanol) que custa R\$ 2,40/l. Com um litro de gasolina esse veículo percorre uma distância 50% maior do que com um litro de álcool, caso em que seu consumo é de 10 Km/l.

Considerando uma viagem de 5 mil Km se o proprietário do veículo optar por usar gasolina em vez de álcool ele irá

- (A) economizar mais de R\$ 100,00.
- (B) economizar entre R\$ 1,00 e R\$ 100,00.
- (C) desperdiçar entre R\$ 1,00 e R\$ 100,00.
- (D) desperdiçar mais de R\$ 100,00.

### CONHECIMENTOS BÁSICOS DE INFORMÁTICA


19. Observe a figura abaixo.



No Sistema Operacional Windows 7 (64 bits versão em português), a opção de economia de energia que permite ao computador reiniciar rapidamente a operação para o estado em que foi deixado antes do desligamento, ficando pronto para o usuário continuar o trabalho é

- (A) Trocar usuário.
- (B) Bloquear.
- (C) Fazer logoff.
- (D) Suspender.

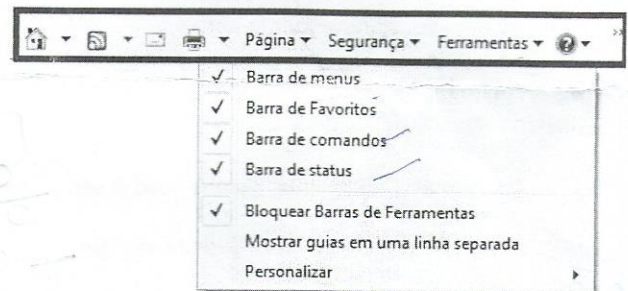
20. Observe a figura abaixo.



No Microsoft Office Word 2007 (versão em português), o ícone indicado pela seta se refere à ferramenta Formatar Pincel, que

- (A) limpa toda a formatação de texto, deixando o documento inteiro sem formatação.
- (B) aplica a mesma formatação, como cor, estilo da fonte, tamanho e o estilo de borda de uma parte do texto para outras partes do texto.
- (C) realça múltiplos trechos de um documento, fazendo parecer como se tivesse sido marcado com um marca texto.
- (D) dá a opção de escolher uma cor para o plano de fundo apenas de uma página ou do documento inteiro.

21. Observe a imagem abaixo.



No Internet Explorer (versão 11 em português), para que as opções em destaque fiquem ocultas no navegador, deve-se desabilitar a opção

- (A) Barra de comandos.
- (B) Barra de menus.
- (C) Barra de status.
- (D) Barra de Favoritos.

22. O Painel de Controle, em um Sistema Operacional Windows 7 (64 bits versão em português), tem a função de

- (A) localizar tópicos de ajuda, tutoriais, soluções de problemas e outros serviços de suporte, dando ao usuário todas as informações necessárias para usar o Windows com segurança.
- (B) exibir informações detalhadas sobre seu computador, como nome do computador, descrição, domínio, índice de classificação, ativação do Windows entre outras, auxiliando em tarefas específicas.
- (C) alterar as configurações do Windows e personalizar as funcionalidades do computador da forma que o usuário achar melhor.
- (D) consultar unidades de disco e outros dispositivos de hardware (Pen Drive, Cartão de Memória, CD-ROM) conectados ao computador.



23. Observe a imagem a seguir, que representa uma planilha desenvolvida no Microsoft Office Excel 2007.

	A	B	C	D
1				
2	<b>PONTUAÇÃO DOS PAÍSES</b>			
3				
4		Austrália		78
5		Brasil		56
6		Canadá		18
7		EUA		86
8		Japão		35
9				
10				
11	Maior pontuação entre todos			86

Na célula D11 foi inserida uma fórmula para indicar a maior pontuação (no intervalo de D4 à D8) entre os países mencionados na planilha.

Assinale a alternativa correta que indica a fórmula inserida.

- (A) =MAIOR(D4&D8; 1)
- (B) =MAIOR(D4:D8; 1)
- (C) =MÁXIMO(D4&D8)
- (D) =MÁXIMO(D4;D8)

24. Para configurar as margens de um documento do Microsoft Office Word 2007, alterar a orientação do papel para Retrato ou Paisagem e configurar quebras de seção, o usuário deve acessar a Guia

- (A) Layout de Página.
- (B) Exibição.
- (C) Início..
- (D) Inserir.

#### CONHECIMENTOS ESPECÍFICOS

25. Conforme dispõe o Regimento Interno da Câmara Municipal de Santana de Parnaíba, extingue-se o mandato do Prefeito e, será declarado pelo Presidente da Câmara Municipal, quando

- (A) sobrevier condenação por sentença civil transitada em julgado.
- (B) deixar de entrar no exercício do cargo, sem motivo justo aceito pela Câmara, na data prevista.
- (C) não se desincompatibilizar, após a posse, no prazo de 10 (dez) dias, a contar do recebimento da notificação promovida pelo Presidente da Câmara Municipal.
- (D) ocorrer a suspensão dos direitos políticos.

26. Assinale a alternativa correta que se encontra em conformidade com a tramitação do pedido de licença do Prefeito, como tal prevista no Regimento Interno da Câmara Municipal de Santana de Parnaíba.

- (A) Recebido o pedido na Secretaria Administrativa, o Presidente deve convocar, em 48 horas, reunião da Mesa para transformar o pedido do Prefeito em Projeto de Decreto Legislativo, nos termos do solicitado.
- (B) Elaborado o Projeto de Decreto Legislativo pela Mesa, o Presidente deve convocar, se necessário, sessão extraordinária para que o pedido seja imediatamente deliberado.
- (C) O Decreto Legislativo concessivo de licença ao Prefeito deve ser considerado aprovado se obtiver o voto da maioria simples dos membros da Câmara.
- (D) O Decreto Legislativo concessivo de licença ao Prefeito deve ser discutido e votado em dois turnos, tendo a preferência regimental sobre qualquer matéria.

27. A licença do cargo de Prefeito, uma vez solicitada expressamente pelo Chefe do Executivo, NÃO poderá ser concedida pela Câmara

- (A) para tratar de interesses particulares, por prazo indeterminado.
- (B) em razão de adoção, maternidade ou paternidade.
- (C) em razão de missão de representação do Município.
- (D) por motivo de doença, devidamente comprovada por médico.

28. NÃO se considera incompatível com o decoro parlamentar

- (A) o uso das prerrogativas inerentes ao mandato.
- (B) a prática de irregularidades no desempenho do mandato.
- (C) a percepção de vantagens indevidas.
- (D) o cometimento de irregularidades decorrente do desempenho do mandato.

29. No que concerne às sessões legislativas da Câmara Municipal de Santana de Parnaíba, assinale a alternativa correta.

- (A) A legislatura compreende quatro sessões legislativas, com início, cada uma, em 1º de fevereiro e término em 15 de dezembro de cada ano, sem qualquer ressalva.
- (B) São considerados como recesso legislativo os períodos compreendidos entre 16 de dezembro e 31 de janeiro de cada Sessão Legislativa.
- (C) Sessão legislativa extraordinária é a correspondente ao período normal de funcionamento da Câmara, durante o ano.
- (D) Sessão legislativa ordinária é a correspondente ao funcionamento da Câmara no período de recesso.

30. A sessão da Câmara Municipal de Santana de Parnaíba NÃO pode ser suspensa para

- (A) permitir, quando for o caso, que a Comissão possa apresentar parecer verbal.
- (B) a preservação da ordem.
- (C) recepcionar munícipes.
- (D) permitir, quando for o caso, que a Comissão possa apresentar parecer escrito.



31. No que se refere à publicidade das sessões da Câmara Municipal de Santana de Parnaíba, assinale a alternativa **INCORRETA**.

- (A) Deve ser dada ampla publicidade às sessões da Câmara, facilitando o trabalho da imprensa e afixando, posteriormente, a Ordem do Dia no Quadro de Avisos.
- (B) Não havendo jornal oficial, a publicação deve ser feita por afixação em local próprio, na sede da Câmara.
- (C) As sessões da Câmara, a critério do Presidente, podem ser transmitidas por emissora local, que será considerada oficial quando contratada, após haver vencido licitação, para essa transmissão.
- (D) Jornal oficial da Câmara é o que tiver sido contratado, após ter vencido licitação, para divulgação dos atos oficiais.

32. As sessões ordinárias da Câmara Municipal de Santana de Parnaíba são compostas de três partes, denominadas

- (A) Abertura, Deliberação e Encerramento.
- (B) Iniciação, Debates e Conclusão.
- (C) Abertura, Debates e Fechamento.
- (D) Expediente, Ordem do Dia e Explicação Pessoal.

33. A Presidência da Câmara Municipal de Santana de Parnaíba deve deixar de receber qualquer proposição que

- (A) seja apresentada por vereador ausente à sessão, sem qualquer ressalva.
- (B) configure emenda, subemenda ou substitutivo não pertinente à matéria contida no projeto.
- (C) contenha matéria de indicação.
- (D) tenha sido rejeitada ou vetada em ulterior sessão legislativa e venha subscrita pela maioria absoluta da Câmara.

34. Finda a legislatura, devem ser arquivadas todas as proposições que, no seu decurso tenham sido submetidas à deliberação da Câmara e ainda se encontrem em tramitação, bem como as que tenham aberto crédito suplementar, com pareceres ou sem eles, tais como as que

- (A) sejam de iniciativa popular.
- (B) contenham pareceres favoráveis na maioria das comissões.
- (C) já tenham sido aprovadas em turno único ou em primeiro e segundo turnos.
- (D) sejam de iniciativa do prefeito.

35. A política de desenvolvimento urbano do Município de Santana de Parnaíba deve ser promovida pela adoção, dentre outros, dos seguintes instrumentos

- (A) Plano Diretor e Código de Obras.
- (B) Lei de Licitações e Estatuto do Servidor Público.
- (C) Lei Orgânica Municipal e Regimento da Câmara Municipal.
- (D) Lei de Diretrizes Orçamentárias e Código de Posturas Municipais.

36. Os atos administrativos de competência do Prefeito devem ser expedidos mediante a edição de decreto, numerado em ordem cronológica, no caso de

- (A) regulamentação de lei.
- (B) instauração de sindicância e processos administrativos disciplinares.
- (C) aplicação de penalidades e demais atos individuais de efeitos internos.
- (D) provimento e vacância dos cargos públicos e demais atos de efeitos individuais.

37. O Município de Santana de Parnaíba deve ter os livros que forem necessários aos seus serviços e, obrigatoriamente, os de

- (A) servidão administrativa.
- (B) ocupação temporária.
- (C) registro de loteamentos aprovados.
- (D) requisição de bens imóveis.

38. A Lei Orçamentária anual deve compreender o

- (A) orçamento fiscal da administração direta e indireta.
- (B) orçamento das organizações sociais que tenham celebrado termo de parceria com o Município.
- (C) orçamento de investimento das empresas em que o Município detenha capital social.
- (D) orçamento das sociedades civis de interesse público que tenham celebrado contrato de gestão com o Município.

39. No que concerne às obras e serviços municipais, dispõe a Lei Orgânica do Município de Santana de Parnaíba que

- (A) o Município deve organizar e prestar, diretamente ou sob o regime da concessão ou permissão, os serviços públicos de sua competência.
- (B) o Município deve retomar, mediante o pagamento de justa indenização, os serviços públicos municipais permitidos ou concedidos, se executados em desconformidade com o ato do contrato.
- (C) nenhuma obra, serviço ou melhoramento, sem qualquer ressalva, será executada sem prévio orçamento de seu custo.
- (D) a concessão de serviço público deve ser outorgada, mediante ajuste precedido de tomada de preços e autorização legislativa.

40. A alienação de bens de uso comum do povo ou de uso especial deve ser precedida de

- (A) autorização administrativa.
- (B) afetação do bem a um interesse público.
- (C) leilão ou convite.
- (D) interesse público devidamente justificado.