

CONCURSO PÚBLICO - 01/2015



INSTITUTO
LEGATUS



008 - DIGITADOR

LEIA ATENTAMENTE AS INSTRUÇÕES SEGUINTE

Informações ao candidato:

- Para a realização desta prova, você está recebendo este CADERNO DE QUESTÕES. No momento oportuno, lhe será entregue a sua FOLHA DE RESPOSTAS personalizada.
- Verifique se este CADERNO DE QUESTÕES corresponde à sua opção de cargo e possui 40 (quarenta) questões, numeradas de 01 a 40. Do contrário, solicite outro ao FISCAL, imediatamente. Não serão aceitas reclamações posteriores.
- Para cada questão existe apenas uma resposta correta, que deverá ser assinalada na FOLHA DE RESPOSTAS, com caneta esferográfica de tinta azul ou preta. Mais de uma resposta assinalada implica na anulação da questão.
- Você terá 04 (quatro) horas para responder a todas às questões e preencher a FOLHA DE RESPOSTAS.
- Nenhum candidato poderá sair da sala antes de decorridos 60 (sessenta) minutos do início da prova, ressalvados os casos de emergência médica.
- O PORTE de quaisquer fontes de consulta, aparelhos de comunicação - inclusive telefone celular - e/ou de registro de dados, no recinto da prova, a qualquer momento, caracteriza TENTATIVA DE FRAUDE, procedendo-se à retirada imediata do candidato e a sua ELIMINAÇÃO SUMÁRIA do concurso. Será igualmente excluído o candidato surpreendido em comunicação com outros candidatos.
- Ao concluir a prova, o candidato terá que devolver a FOLHA DE RESPOSTAS devidamente ASSINADA, bem como este CADERNO DE QUESTÕES. A não devolução de qualquer um deles implicará na eliminação do candidato.
- Os 03 (três) últimos candidatos a concluírem a prova deverão sair juntos e assinar em local apropriado na ATA DA PROVA. Não deixe de também assinar a LISTA DE FREQUÊNCIA.
- Este CADERNO DE QUESTÕES e o GABARITO OFICIAL serão divulgados em até 02 (dois) dias úteis após a aplicação desta prova, no endereço eletrônico www.institutolegatus.com.br, conforme Edital do Concurso.

PREFEITURA MUNICIPAL DE ANGICAL DO PIAUÍ
Concurso Público – 01/2015

01	02	03	04	05	06	07	08	09	10	11	12	13	14	15	16	17	18	19	20

21	22	23	24	25	26	27	28	29	30	31	32	33	34	35	36	37	38	39	40



www.institutolegatus.com.br

LÍNGUA PORTUGUESA

Leia os textos com atenção para responder as questões a eles referentes

Texto 1 - Que país é este?

Imagine um país onde as pessoas só se preocupam com as aparências e escolhem suas profissões não por vocação ou pelo desejo de ser úteis à coletividade, mas apenas pelas vantagens pessoais e “pelo brilho do uniforme”.

Imagine que lá os bacharéis em Direito, Medicina e Engenharia têm direito à prisão especial, mesmo que cometam os crimes mais repugnantes. E ninguém reclama, porque o povo tem um respeito quase religioso pelos nobres bacharéis.

Trata-se de um país essencialmente agrícola; mas, paradoxalmente, não há de fato agricultura, porque tudo ali está baseado em latifúndio, monocultura e trabalho quase escravo.

Lá, a pobreza no campo é geral. A população vive oprimida por chefões políticos inúteis e por latifundiários que preferem viver nas cidades a trabalhar nas fazendas para produzir riquezas que possam ser compartilhadas com os trabalhadores.

Ainda que aquele país tenha uma população numerosa e miserável, os políticos incentivam a imigração em massa, em vez de investirem na população local e dividirem a riqueza do país com quem já vive nele.

Grande parte dos fazendeiros vive à custa do café, que é a maior riqueza daquele país, mas também sua maior pobreza. Isso porque o preço do café é artificialmente controlado pelo governo, que desembolsa fortunas do dinheiro público para que o negócio das oligarquias se mantenha sempre lucrativo.

Os habitantes de lá sonham em viver fora do país, de modo que, como Robson Crusóé, a maioria se concentra no litoral, à espera de um navio que os carregue para terras melhores.

Os poderosos de lá, imaginem! Querem mais ser admirados nos países estrangeiros do que dentro do próprio país. E desprezam grande parte da população, até por preconceito de cor.

Naquele país ninguém vota em quem quer, mas em quem os poderosos mandam. E – coisa assombrosa – até os votos mortos votam.

(Hélio Seixas Guimarães. In: Os Bruzungangas. Lima Barreto. São Paulo: FTD, 2013)

QUESTÃO 01

De acordo com a crítica expressa no texto, as pessoas deveriam escolher suas profissões:

- (A) pelas vantagens pessoais que a profissão oferece .
- (B) por vocação ou pelo desejo de ser úteis à coletividade.
- (C) pelo brilho do uniforme e o status que determinadas profissões garantem.
- (D) entre as áreas de Direito, Medicina e Engenharia, que garantem status.
- (E) Pela vantagem que a agricultura apresenta em nosso país.

QUESTÃO 02

No trecho “Trata-se de um país essencialmente agrícola; mas, paradoxalmente, não há de fato agricultura”, o emprego da palavra “paradoxalmente” justifica-se porque:

- (A) o autor apresenta um país que não tem como base econômica a indústria, portanto deveria ter como base a agricultura, no entanto o que existe nesse lugar são propriedades rurais não cultivadas e/ou onde se pratica alguma cultura sem grandes investimentos.
- (B) de acordo com o texto, os representantes de Bruzundanga concentram grande parte de suas riquezas na busca de maior acesso a mercados para as exportações agrícolas e agroindustriais.
- (C) o autor quis empregar uma linguagem mais rebuscada no texto, fazendo uso de uma figura de linguagem que reflete o comportamento da população de Bruzundanga.
- (D) segundo o texto, os líderes políticos de Bruzundanga querem mais ser admirados nos países estrangeiros do que dentro do próprio país. E desprezam grande parte da população, até por preconceito de cor.
- (E) A maioria dos habitantes de lá sonham em viver fora do país, de modo que a maioria se concentra no litoral, à espera de um navio que os carregue para terras melhores.

Analise o excerto abaixo, retirado da música “Que país é este?”, de Renato Russo, cantor do grupo Legião Urbana, grupo musical brasileiro da década de 80, para responder à questão 3.

Texto 2 – Que país é este?

*Nas favelas, no senado
Sujeira pra todo lado
Ninguém respeita a constituição
Mas todos acreditam no futuro da nação*

[...]

*No Amazonas, no Araguaia, na Baixada fluminense
No Mato Grosso, Minas Gerais e no Nordeste tudo em paz
Na morte eu descanso mas o sangue anda solto
Manchando os papéis, documentos fiéis
Ao descanso do patrão*

[...]

*Terceiro Mundo se for
Piada no exterior
Mas o Brasil vai ficar rico*

[...]

Link: <http://www.vagalume.com.br/legiao-urbana/que-pais-e-esse.html#ixzz3v9i2CUd2>

QUESTÃO 03

Com a leitura global dos dois textos e analisando-se as relações intertextuais, pode-se afirmar que a interrogação tem efeito de:

- (A) Uma pergunta retórica aos cidadãos, a fim de que alguém responda o que os autores não conseguem responder.
- (B) Uma exclamação exprimindo dúvida acerca de que lugar o enunciador se encontra no momento da enunciação.
- (C) Uma pergunta políticos inúteis e por latifundiários que preferem viver nas cidades, a fim de que eles respondam o que fazem com as riquezas do país.
- (D) Uma exclamação exprimindo o descontentamento de ambos os enunciadores com o país em que vivem e as injustiças sociais que vislumbram.**
- (E) Uma pergunta que será respondida ao longo dos textos com o nome dos países, Bruzundangas e Brasil.

QUESTÃO 04

Segundo o autor do Texto 1, a população de Bruzundanga vive oprimida por chefões políticos inúteis e por latifundiários que preferem viver nas cidades a trabalhar nas fazendas. Assinale a alternativa que ratifica essa opressão que os bruzundangas sofrem.

- (A) Trata-se de um país essencialmente agrícola; mas, paradoxalmente, não há de fato agricultura, porque tudo ali está baseado em latifúndio, monocultura e trabalho quase escravo.
- (B) Grande parte dos fazendeiros vive à custa do café, que é a maior riqueza daquele país, mas também sua maior pobreza.
- (C) Os habitantes de lá sonham em viver fora do país, de modo que, como Robson Crusóé, a maioria se concentra no litoral, à espera de um navio que os carregue para terras melhores.
- (D) Os poderosos de lá, imaginem! Querem mais ser admirados nos países estrangeiros do que dentro do próprio país.
- (E) Naquele país ninguém vota em quem quer, mas em quem os poderosos mandam.**

QUESTÃO 05

“Ainda que aquele país tenha uma população numerosa e miserável, os políticos incentivam a imigração em massa”

No trecho acima, a oração em destaque é:

- (A) Coordenada adversativa e exprime a contrariedade entre a população numerosa e o incentivo à imigração.
- (B) Coordenada explicativa e exprime a justificativa de os políticos incentivarem a imigração em massa, mesmo a população sendo numerosa e miserável.
- (C) Subordinada adverbial causal e apresenta a justificativa de os políticos incentivarem a imigração em massa, mesmo a população sendo numerosa e miserável.
- (D) Subordinada adverbial concessiva e a partir dela pressupõe-se que o fato de a população ser numerosa e miserável deveria impedir o incentivo à imigração, mas não impede.**
- (E) Subordinada adverbial condicional e indica a condição para que os políticos incentivem a imigração em massa, mesmo que a população seja numerosa e miserável.

QUESTÃO 06

“Os habitantes de lá sonham em viver fora do país, **de modo que**, como Robson Crusoé, a maioria se concentra no litoral”.

A locução conjuntiva nesse trecho estabelece entre as orações a ideia de:

- (A) conclusão.
- (B) retificação.
- (C) consequência.
- (D) modo.
- (E) causa.

QUESTÃO 07

As palavras podem alterar sua classificação morfológica e sintática dependendo do contexto em que estão inseridas. No trecho, “*Imagine um país onde as pessoas só se preocupam com as aparências*”, a palavra **onde**, morfossintaticamente, é:

- (A) Conjunção subordinativa e sujeito
- (B) Pronome relativo e sujeito
- (C) Conjunção subordinativa e adjunto adverbial
- (D) Advérbio de lugar e adjunto adverbial
- (E) Pronome relativo e adjunto adverbial

QUESTÃO 08

Analise o emprego das vírgulas nos trechos abaixo para responder ao que se pede:

- 1) E ninguém reclama, que o povo tem um respeito quase religioso pelos nobres bacharéis.
- 2) Grande parte dos fazendeiros vive à custa do café, que é a maior riqueza daquele país, mas também sua maior pobreza.
- 3) Lá, a pobreza no campo é geral.
- 4) (...) tudo ali está baseado em latifúndio, monocultura e trabalho quase escravo.
- 5) O preço do café é artificialmente controlado pelo governo, que desembolsa fortunas do dinheiro público, que o negócio das oligarquias se mantenha sempre lucrativo.

Nos trechos acima ocorrem cinco casos de emprego de vírgulas, devidamente numerados. Os números que indicam casos em que a vírgula foi empregada em função de idênticos motivos são

- (A) 1 e 2.
- (B) 1 e 3.
- (C) 2 e 3.
- (D) 2 e 5.
- (E) 4 e 5.

QUESTÃO 09

Analise o excerto, julgue os itens como verdadeiro (V) ou falso (F) e marque a alternativa que contém a resposta adequada, de cima para baixo, respectivamente

“Imagine que lá os **bacharéis** em Direito, Medicina e Engenharia **têm** direito à prisão especial, mesmo que cometam os crimes mais repugnantes. E **ninguém** reclama, porque o povo tem um respeito quase religioso pelos nobres **bacharéis**.”

() Na palavra bacharéis a acentuação se justifica porque é uma palavra oxítona terminada em ditongo.

() A palavra “**têm**” está acentuada, porque mantém concordância com **bacharéis**, portanto a forma verbal está na terceira pessoa do plural.

() As palavras “**têm**” e “**ninguém**” são acentuadas pelo mesmo motivo, ambas terminam em “**em**”.

() Se substituirmos, nesse excerto, o verbo **ter** sublinhado, por **manter**, obteremos a forma verbal mantém, para que haja adequação à norma culta da língua.

- (A) FVVV
- (B) VVVV
- (C) VFFF
- (D) VVVF
- (E) FVFF

QUESTÃO 10

- I. Imagine que lá os bacharéis em Direito, Medicina e Engenharia têm direito **à** prisão especial.
- II. Grande parte dos fazendeiros vive **à** custa do café, que é a maior riqueza daquele país.
- III. Os habitantes de lá sonham em viver fora do país, de modo que, como Robson Crusoé, a maioria se concentra no litoral, **à** espera de um navio que os carregue para terras melhores.

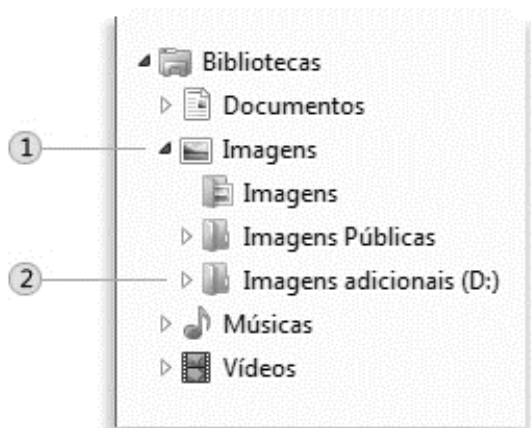
Nesse segmento do texto há três ocorrências do acento grave indicativo da crase; sobre esse emprego pode-se afirmar com correção que

- (A) na segunda e na terceira ocorrências a justificativa para o uso do acento indicador da crase é a mesma.
- (B) somente na segunda ocorrência há a junção da preposição a com o artigo definido feminino singular a.
- (C) na segunda ocorrência ocorre a junção da preposição a com um pronome demonstrativo a.
- (D) na terceira ocorrência, o acento indicador da crase é devido à presença de uma locução prepositiva formada com uma palavra feminina.
- (E) na primeira ocorrência, o emprego do acento grave é devido à necessidade de se desfazer uma ambigüidade.

NOÇÕES DE INFORMÁTICA

QUESTÃO 11

A figura abaixo foi extraída de um computador com sistema operacional Windows 7. Julgue os itens abaixo em verdadeiro (V) ou falso (F):



() Na figura, 1 representa uma biblioteca. Uma biblioteca é o local onde o usuário pode gerenciar documentos, músicas, imagens e outros arquivos.

() Na figura, 2 representa um arquivo de imagem localizado no diretório D: do Windows.

() Uma pasta é um contêiner de arquivos, ou seja, todo arquivo é armazenado em uma pasta ou uma subpasta (uma pasta dentro de outra).

() A diferença de uma biblioteca para uma pasta é que uma biblioteca pode reunir os arquivos que estão armazenados em diversos locais no computador.

A sequência correta, de cima para baixo, é:

- (A) V V F F
- (B) V F V V**
- (C) V F F V
- (D) F V F V
- (E) F V V F

QUESTÃO 12

Analise os itens abaixo sobre noções de Internet:

- I. São exemplos de ferramentas de navegação na internet: Mozilla Firefox e Internet Explorer.
- II. Um dos sites de busca mais utilizados atualmente é o Google Chrome.
- III. O correio eletrônico é o nome de um serviço que permite trocar mensagens através de sistemas de comunicação eletrônicos, enquanto o termo e-mail refere-se a mensagem em si que é enviada e recebida por usuários.

Está(ão) correto(s):

- (A) Apenas I.**
- (B) Apenas III.
- (C) I e II.
- (D) II e III.
- (E) I, II e III.

QUESTÃO 13

A imagem abaixo ilustra uma planilha feita no Microsoft Excel por uma secretária de uma escola municipal. O objetivo da planilha era controlar a quantidade de alunos interessados em participar de aulas extras nas disciplinas citadas.

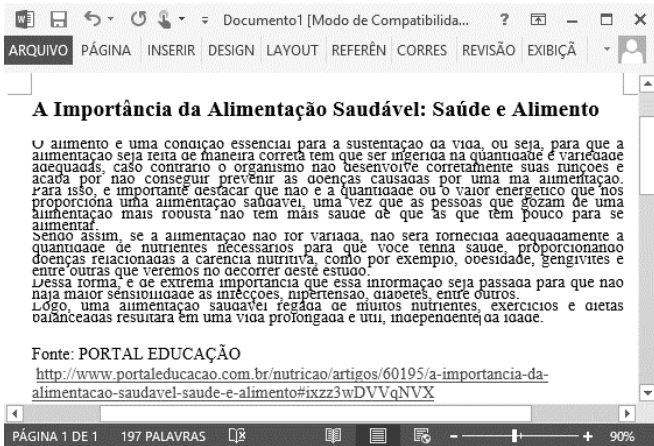
	A	B	C	D
1	DISCIPLINA	MENINAS	MENINOS	
2	Matemática	4	10	
3	Física	3	3	
4	Química	8	0	
5	Português	6	2	
6				

Equivocadamente, a secretária aplicou a fórmula =SOMA(B2;B5;C2:C5) com o objetivo de obter o total de alunos (meninos e meninas) interessados nas aulas extras. Porém, o resultado obtido com a fórmula aplicada foi:

- (A) 0
- (B) 22
- (C) 25**
- (D) 31
- (E) #REF!

QUESTÃO 14

A imagem abaixo foi extraída de um documento editado no Microsoft Word:



É possível verificar que o texto está ilegível devido ao pouco distanciamento vertical entre as linhas do texto. A melhor forma de resolver esse problema e melhorar a legibilidade do texto é:

- (A) Mudar a direção do texto.
- (B) Diminuir o recuo do parágrafo.
- (C) Alterar a orientação da página.
- (D) Inserir uma quebra no documento.
- (E) Aumentar o espaçamento do texto.**

QUESTÃO 15

Computação em nuvem, ou *cloud computing*, é uma tecnologia que permite acesso remoto a programas (softwares), arquivos (documentos, músicas, jogos, fotos, vídeos) e serviços por meio da internet, sem que os mesmos estejam instalados em computadores ou dispositivos específicos. Um serviço bastante difundido atualmente que utiliza essa tecnologia e tem a finalidade de armazenar e compartilhar arquivos entre os usuários é o:

- (A) Linux.
- (B) Foursquare.
- (C) Twitter.
- (D) Dropbox.**
- (E) Instagram.

RACIOCÍNIO LÓGICO-MATEMÁTICO
QUESTÃO 16

João pretende fazer uma liquidação em sua loja e irá colocar todos os seus produtos em liquidação com desconto de 30%. Maria, cliente da loja, deseja comprar uma máquina de lavar que custava inicialmente R\$ 520,00. Qual o valor da máquina de lavar após aplicar o desconto?

- (A) R\$ 156,00
- (B) R\$ 364,00**
- (C) R\$ 420,00
- (D) R\$ 454,00
- (E) R\$ 490,00

QUESTÃO 17

Marcos e Antônio são médicos e atendem 24 pacientes em 6 horas. Mantidas as proporções, se um novo sócio entrar para a equipe de médicos, eles atenderão 24 pacientes em quantas horas?

- (A) 2h
- (B) 3h
- (C) 4h**
- (D) 5h
- (E) 6h

QUESTÃO 18

Ao tentar pagar a fatura de seu cartão, José percebeu que teria que pagar 12% de juros sobre o valor da fatura, devido a mesma estar atrasada. O valor total da fatura com juros é de R\$ 918,40. Se José tivesse pago a fatura sem atraso, o valor seria:

- (A) R\$ 820,00
- (B) R\$ 808,19
- (C) R\$ 785,20
- (D) R\$ 800,00
- (E) R\$ 900,00

QUESTÃO 19

Em uma pesquisa realizada com 80 pessoas sobre qual supermercado preferem ir fazer compras, verificou-se que 28 pessoas preferem ir ao Sacolão, 41 pessoas preferem ir ao Feira Fácil e 10 pessoas costumam frequentar os dois. Pode-se afirmar que a quantidade de pessoas que não faz compras em nenhum dos dois supermercados é:

- (A) 11
- (B) 15
- (C) 18
- (D) 21
- (E) 24

QUESTÃO 20

A sequência 1, 4, 16, 64, ..., obedece a uma regra lógica. Qual o próximo número dessa sequência?

- (A) 86
- (B) 94
- (C) 126
- (D) 204
- (E) 256

CONHECIMENTOS GERAIS E ESPECÍFICOS

QUESTÃO 21

Julgue os itens abaixo em verdadeiro (V) ou falso (F) sobre os conceitos de Internet:

- () *Home page* é a página inicial de um site da Internet.
 () O navegador é um programa de computador que habilita seus usuários a interagirem com as páginas da Internet.
 () Cache é o recurso do navegador que salva somente os sites preferenciais escolhidos pelo usuário.

A sequência correta, de cima para baixo, é:

- (A) V V V
 (B) V V F
 (C) V F F
 (D) F V F
 (E) F F V

QUESTÃO 22

Qual dos componentes abaixo é essencial para o funcionamento de um computador?

- (A) Placa de rede.
 (B) Modem.
 (C) **Processador.**
 (D) Drive óptico.
 (E) Placa de som.

QUESTÃO 23

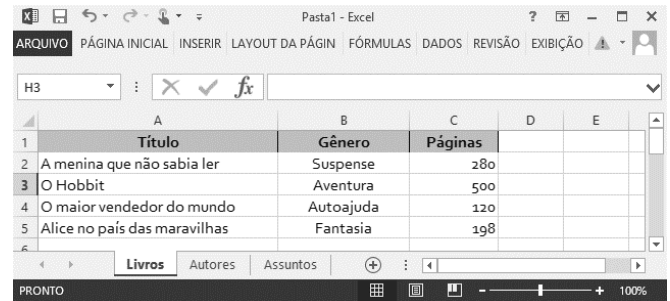
A figura abaixo foi extraída de uma planilha do Microsoft Excel:

	A	B
1	Bairro	Habitantes
2	Centro	570
3	Vila de Fátima	230
4	Sacramento	112
5	Petropolis	456
6	Flores	215
7		
8		
9		

A fórmula correta para somar o total de habitantes de todos os bairros é:

- (A) =SOMA(B2+B6)
 (B) =SOMA(B2;B6)
 (C) =SOMA(B2-B6)
 (D) =SOMA(B2&B6)
 (E) **=SOMA(B2:B6)**

Use a figura abaixo, retirada do Microsoft Excel, para responder as questões 24 e 25:



	A	B	C	D	E
1	Título	Gênero	Páginas		
2	A menina que não sabia ler	Suspense	280		
3	O Hobbit	Aventura	500		
4	O maior vendedor do mundo	Autoajuda	120		
5	Alice no país das maravilhas	Fantasia	198		

QUESTÃO 24

“Livros”, “Autores” e “Assuntos” representam, na figura:

- (A) dados.
 (B) células.
 (C) fórmulas.
 (D) **planilhas.**
 (E) tabelas.

QUESTÃO 25

Para alterar o tamanho das margens do documento, o usuário deve acessar a guia:

- (A) Inserir.
 (B) **Layout da página.**
 (C) Fórmulas.
 (D) Dados.
 (E) Revisão.

QUESTÃO 26

Analise os itens abaixo sobre sistemas operacionais:

- I. O sistema operacional determina quais programas vão executar, quando, e quais recursos ele poderá utilizar.
- II. Todo programa em execução no sistema operacional ocupa espaço na memória do computador.
- III. O termo software pode denominar um conjunto de programas ou apenas um programa específico. Entretanto, um sistema operacional não pode ser considerado um software.

Está(ão) corretos(s):

- (A) Apenas I.
 (B) Apenas II.
 (C) **I e II.**
 (D) II e III.
 (E) I, II e III.

QUESTÃO 27

É atualmente a unidade de armazenamento de dados em massa mais utilizada em microcomputadores, podendo ser de uso interno ou externo:

- (A) Disco rígido.
- (B) Memória RAM.
- (C) DVD.
- (D) CPU.
- (E) Memória USB Flash Drive.

QUESTÃO 28

Sobre as opções de quebra de seção e quebra de página disponíveis no Microsoft Word, julgue os itens abaixo em verdadeiro (V) ou falso (F):

() A quebra de seção **Próxima Página** insere uma quebra de seção e começa a nova seção na próxima página. Esse tipo de quebra de seção é especialmente útil para iniciar novos capítulos em um documento.

() Uma quebra de seção **Contínua** insere uma quebra de seção e começa a nova seção na mesma página. É útil para criar uma alteração de formatação, como um número diferente de colunas em uma página.

() O Word insere uma quebra de página automaticamente quando o usuário atinge o final de uma página.

() É possível excluir as quebras de página que o Word insere automaticamente.

- (A) V V V V
- (B) V V V F
- (C) V F F V
- (D) F V F V
- (E) F F V F

QUESTÃO 29

Os programas utilitários atuam sobre o sistema operacional para melhorar o desempenho dos mesmos ou lhes incluir novos recursos, ou seja, ampliam os recursos do sistema facilitando o uso e auxiliando a manutenção de programas. São exemplos de programas utilitários, EXCETO:

- (A) Programa de *backup*.
- (B) Software antivírus.
- (C) Compactador de dados.
- (D) Desfragmentador de disco.
- (E) Gerenciador de banco de dados.

QUESTÃO 30

Analise os itens abaixo sobre o uso de correio eletrônico (e-mail):

- I. Todo e-mail precisa obrigatoriamente do símbolo @.
- II. O MS-Outlook é um programa cliente de e-mail que tem como principal finalidade enviar e receber mensagens.
- III. É impossível enviar um e-mail diretamente para mais de um destinatário, exceto utilizando o campo cópia oculta para enviar o e-mail, onde nenhum destinatário que receber a cópia da mensagem saberá quais outros destinatários que também receberam cópias.

Está(ão) corretos(s):

- (A) Apenas I.
- (B) Apenas II.
- (C) I e II.
- (D) II e III.
- (E) I, II e III.

QUESTÃO 31

Qual das extensões abaixo NÃO é correspondente a um arquivo de imagem no Windows?

- (A) .avi
- (B) .bmp
- (C) .tiff
- (D) .gif
- (E) .png

QUESTÃO 32

Assinale a alternativa INCORRETA, sobre alguns conceitos do sistema operacional Windows:

- (A) A Área de Transferência do Windows é o local onde o Windows armazena os itens “copiados” (Ctrl+C) ou “recortados” (Ctrl+X) de alguns documentos, para serem “colados” em outros (Ctrl+V).
- (B) As pastas também podem ser armazenadas em outras pastas. A pasta dentro de uma pasta é chamada subpasta.
- (C) O Windows Explorer é um gerenciador de arquivos e pastas do Windows, que auxilia na organização dos mesmos através de menus e botões.
- (D) A lixeira do Windows não possui uma capacidade máxima de armazenamento.
- (E) Para excluir uma pasta, pode-se apenas pressionar o botão delete sobre ela, ou então clicar com o botão direito em cima da pasta e selecionar a opção: Excluir.

QUESTÃO 33

Na versão em português do Microsoft Word, a combinação das teclas CTRL + B tem a função de:

- (A) Localizar um texto ou outro conteúdo no documento.
- (B) **Salvar o documento.**
- (C) Sublinhar o texto selecionado.
- (D) Alterar o tipo de fonte de todo o documento.
- (E) Selecionar todo o texto do documento.

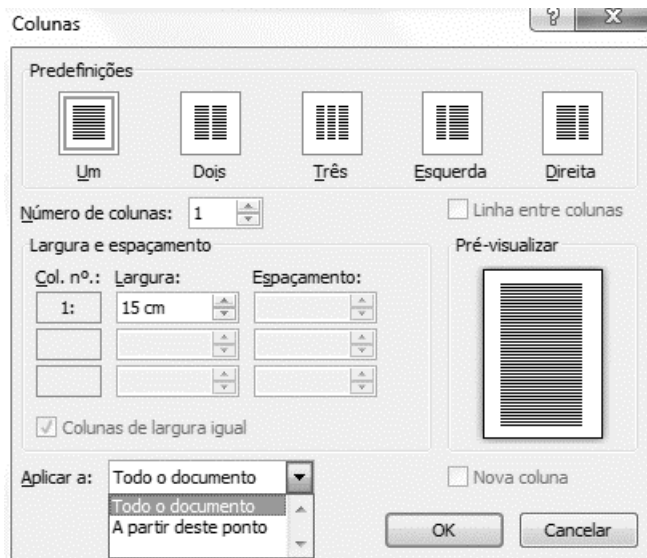
QUESTÃO 34

No sistema operacional Windows existem alguns arquivos com a extensão “.dll”. Esse tipo de arquivo representa um:

- (A) arquivo de imagem.
- (B) arquivo de dados.
- (C) arquivo executável.
- (D) arquivo temporário.
- (E) **arquivo de biblioteca.**

QUESTÃO 35

A figura abaixo foi retirada do Microsoft Word e apresenta a edição de colunas em um documento:

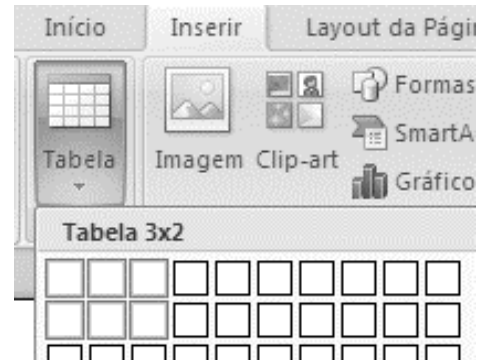


Analisando a figura, assinale a alternativa CORRETA:

- (A) As colunas devem ter sempre o mesmo espaçamento.
- (B) **Pode-se aplicar colunas somente em uma parte do documento.**
- (C) 3 (três) é a quantidade máxima de colunas que é possível criar.
- (D) A largura das colunas deve ser a mesma para todas.
- (E) As colunas não podem ser separadas por linhas.

QUESTÃO 36

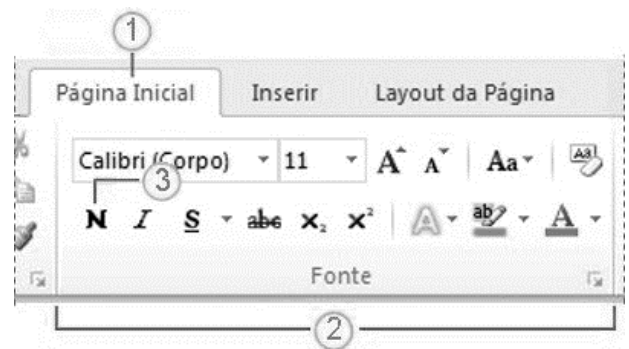
A figura abaixo foi retirada do Microsoft Word e apresenta a inserção de tabelas em um documento:



Analisando a figura, pode-se afirmar que será criada uma tabela no documento com:

- (A) **2 linhas e 3 colunas.**
- (B) 3 linhas e 2 colunas.
- (C) 3 linhas e 6 colunas.
- (D) 6 linhas e 1 coluna.
- (E) 6 linhas e 2 colunas.

Use a figura abaixo, retirada do Microsoft Word, para responder as questões 37 e 38:



QUESTÃO 37

Os números 1 e 2 representam, respectivamente:

- (A) uma borda e edição de layout.
- (B) uma aba e edição de página.
- (C) **uma guia e edição de fonte.**
- (D) um ícone e edição de página.
- (E) uma macro e edição de fonte.

QUESTÃO 38

O número 3 representa uma opção da ferramenta que altera a formatação do texto para:

- (A) sobrescrito.
- (B) itálico.
- (C) tachado.
- (D) sublinhado.
- (E) **negrito.**

QUESTÃO 39

O município de Angical do Piauí limita-se territorialmente com os seguintes municípios, EXCETO:

- (A) Palmeirais.
- (B) Jardim do Mulato.
- (C) Santo Antônio dos Milagres.
- (D) Regeneração.
- (E) **São Gonçalo do Piauí.**

QUESTÃO 40

Julgue os itens abaixo em verdadeiro (V) ou falso (F) a respeito do município de Angical do Piauí:

- () Segundo o último censo demográfico do IBGE (Instituto Brasileiro de Geografia e Estatística), a população total do município é superior a 6.000 habitantes.
- () O gentílico de quem nasce no município é Angicalense.
- () O município pertence à Microrregião do Médio Parnaíba Piauiense.

- (A) **V V V**
- (B) V F V
- (C) F F V
- (D) F V F
- (E) F V V