

P 01




CONCURSO PÚBLICO
CAERN

Caderno de Provas

ECONOMISTA

Edital nº 02/2013-CAERN

09 de fevereiro de 2014

INSTRUÇÕES GERAIS PARA A REALIZAÇÃO DA PROVA

- Use apenas **caneta** esferográfica **azul ou preta**.
- Escreva o seu nome completo e o número do seu documento de identificação no espaço indicado nesta capa.
- A prova terá **duração** máxima de **5 (cinco) horas**, incluindo o tempo para responder a todas as questões do Caderno de Provas e preencher as Folhas de Respostas.
- O **Caderno de Provas** somente poderá ser levado depois de **transcorridas 2 (duas) horas** do início da aplicação da prova.
- Confira, com máxima atenção, o Caderno de Provas, observando o número de questões contidas e se há defeito(s) de encadernação e/ou de impressão que dificultem a leitura.
- A quantidade de questões e respectivas pontuações desta prova estão apresentadas a seguir:

<i>Tipo de questão</i>	<i>Total de questões</i>	<i>Total de pontos</i>
<i>Redação em Língua Portuguesa (Discursiva)</i>	<i>01</i>	<i>40,0000</i>
<i>Conhecimentos Específicos (Discursivas)</i>	<i>02</i>	<i>60,0000</i>
<i>Língua Portuguesa (Objetivas)</i>	<i>05</i>	<i>10,0000</i>
<i>Raciocínio Lógico (Objetivas)</i>	<i>05</i>	<i>10,0000</i>
<i>Atualidade e Legislação (Objetivas)</i>	<i>05</i>	<i>10,0000</i>
<i>Informática (Objetivas)</i>	<i>05</i>	<i>10,0000</i>
<i>Conhecimentos Específicos (Objetivas)</i>	<i>15</i>	<i>60,0000</i>

- Para cada questão de múltipla escolha, há apenas **1 (uma) opção** de resposta correta.
- Confira, com máxima atenção, se os dados (nome do candidato, inscrição, número do documento de identidade) constantes nas Folhas de Respostas estão corretos.
- Em havendo falhas nas Folhas de Respostas, comunique imediatamente ao fiscal de sala.
- As Folhas de Respostas não poderão ser dobradas, amassadas ou danificadas. Em hipótese alguma serão substituídas.
- Assine as Folhas de Respostas nos espaços apropriados.
- Cada questão discursiva tem uma folha de Resposta própria, com uma cor específica. Transfira as respostas para as Folhas de Respostas somente quando não mais pretender fazer modificações.
- Não ultrapasse o **limite dos círculos** na Folha de Respostas das Questões de Múltipla Escolha.
- A redação em Língua Portuguesa deverá ser transcrita unicamente no **espaço destinado** na Folha de Respostas da Redação. Respostas redigidas fora do espaço reservado serão desconsideradas.
- As questões discursivas deverão ser respondidas unicamente no **espaço destinado** para cada resposta nas Folhas de Respostas das Questões Discursivas. Respostas redigidas fora do espaço reservado serão desconsideradas.
- Ao retirar-se definitivamente da sala, **entregue as Folhas de Respostas ao fiscal**.

Nome Completo

Documento de Identificação

REDAÇÃO EM LÍNGUA PORTUGUESA

A REDAÇÃO DEFINITIVA DEVERÁ SER ESCRITA NA FOLHA DE RESPOSTAS DA REDAÇÃO.

Debaixo do gelo do Ártico há petróleo suficiente para encher 83 bilhões de barris. É o triplo do estimado para o pré-sal brasileiro. Tem também gás natural para abastecer o planeta todo por 14 anos. Isso dá ao Ártico 20% dos combustíveis fósseis ainda não explorados no mundo. E não para por aí: há minérios como ferro, carvão, urânio. E ouro. E diamantes. De olho na riqueza, Canadá, Estados Unidos, Noruega, Rússia e Groenlândia estão investindo em expedições científicas, propaganda, pressão militar e discussão diplomática para dividir a região. A última partilha de território dessa proporção aconteceu na virada para o século 20, quando europeus retalharam a África no auge do colonialismo.

(Disponível em <http://super.abril.com.br/ecologia/guerra-gelada-634675.shtml>. Acesso em 07/12/2013.)

Considerando as informações acima, o texto “Amor pelo Ártico”, na página 6 desse caderno de provas, e o seu conhecimento de mundo, escreva um **artigo de opinião** posicionando-se sobre a seguinte questão: a escolha mais viável para todos nós seria a criação de um Santuário Mundial ao redor do Polo Norte ou a exploração da vasta riqueza existente abaixo do seu gelo?

ORIENTAÇÕES:

Escreva apenas no espaço determinado e não se identifique fora do espaço para esse fim. Assine seu artigo de opinião com o pseudônimo “Marco Polo”.

Ao redigir sua resposta, use caneta esferográfica azul ou preta, escreva com letra legível, identifique-se apenas no local indicado, use as informações presentes na prova, sem, no entanto, copiar trechos dos textos motivadores e não faça desenhos e/ou marcas na folha de resposta da produção textual.

A produção textual só será avaliada quando se apresentar com, no mínimo, 10 (dez) linhas.

Lembre-se de que seu texto será avaliado, levando-se em consideração os seguintes critérios:

- ✓ abordagem do tema proposto no comando da questão;
- ✓ presença de ponto de vista e consistência argumentativa;
- ✓ produção do gênero textual proposto no comando da questão;
- ✓ presença de marcas características do gênero textual solicitado;
- ✓ uso da variedade linguística adequada ao gênero textual solicitado e à situação de comunicação;
- ✓ e uso adequado de elementos linguístico-textuais responsáveis pelos processos de progressão, informatividade, coesão e coerência textuais e pela construção da argumentação.

Rascunho

Rascunho

QUESTÕES DISCURSIVAS

AS RESPOSTAS DESTAS QUESTÕES DEVERÃO SER ASSINALADAS NA FOLHA DE RESPOSTAS DAS QUESTÕES DISCURSIVAS.

1. Considere as seguintes Demonstrações Financeiras:

DEMONSTRAÇÃO DO RESULTADO DO EXERCÍCIO EM 31-12-2012

Receita Operacional Bruta		150.000,00
(-) Deduções da Receita Bruta		
Imposto incidente sobre vendas	15.000,00	(15.000,00)
Receita Operacional Líquida		135.000,00
(-) Custo da Mercadoria Vendida (CMV)		(100.000,00)
= Lucro Operacional Bruto		35.000,00
(-) Despesa com Depreciação		(1.800,00)
= Lucro Operacional Líquido		33.200,00
(-) Provisão para IR		(4.200,00)
= Lucro Líquido do Exercício		29.000,00

BALANÇO PATRIMONIAL EM 31-12-2012

ATIVO		PASSIVO	
ATIVO CIRCULANTE		PASSIVO CIRCULANTE	
Disponibilidades	1.000,00	Fornecedores	70.000,00
Mercadoria em Estoque	50.000,00	Títulos a pagar	10.000,00
Duplicatas a receber	80.000,00	Contas a pagar	7.000,00
(-) Provisão para devedores duvidosos	(1.500,00)	Provisão para IR	4.200,00
TOTAL AC	129.500,00	TOTAL PC	91.200,00
ATIVO NÃO CIRCULANTE		PATRIMÔNIO LÍQUIDO	
Investimentos		Capital Realizado	80.000,00
Participações em Coligadas	15.000,00	Reservas de Capital	5.000,00
Imobilizado		Reservas de Lucros	2.000,00
Móveis e utensílios	20.000,00	Lucros Acumulados	56.800,00
Veículos	80.000,00	TOTAL PL	143.800,00
(-) Depreciação Acumulada	(15.500,00)		
Ativo intangível			
Marcas e patentes	6.000,00		
TOTAL ANC	105.500,00		
TOTAL DO ATIVO	235.000,00	TOTAL DO PASSIVO	235.000,00

Calcule os índices de

- liquidez seca;
- liquidez corrente;
- endividamento geral.

E as taxas de

- retorno sobre o patrimônio líquido;
- rentabilidade sobre o capital realizado.

Rascunho

2. Suponha que uma dada economia apresente os seguintes parâmetros macroeconômicos:

Consumo autônomo	100
Propensão marginal a consumir	0,6
Investimento autônomo	100
Arrecadação tributária	50
Despesas do governo	50
Exportações autônomas	60
Importações autônomas	50

Determine:

- o nível de equilíbrio da renda.
- o multiplicador de investimentos.
- o nível de consumo de equilíbrio.
- a propensão marginal a poupar.

Rascunho

QUESTÕES DE MÚLTIPLA ESCOLHA

AS RESPOSTAS DESTAS QUESTÕES DEVERÃO SER ASSINALADAS NA FOLHA DE RESPOSTAS DAS QUESTÕES DE MÚLTIPLA ESCOLHA.

LÍNGUA PORTUGUESA

Amor pelo Ártico

Atividade do Greenpeace no Rio pede proteção a um dos ecossistemas mais ameaçados do planeta.
A ação aconteceu simultaneamente em 36 países

Voluntários brasileiros se reúnem na praia de Botafogo, no Rio de Janeiro, e se juntam ao Dia Mundial de ação para proteger o Ártico.

O Rio de Janeiro foi uma das 280 cidades, em 36 países, que participou, neste sábado, de um ato do Greenpeace em defesa do Ártico, um dos ecossistemas mais ameaçados do planeta devido aos efeitos do aquecimento global.

Mais de 20 voluntários usaram seus próprios corpos para formar, nas areias de Botafogo, a mensagem *I love Arctic* (Eu amo o Ártico) – mote da ação que envolveu milhares de pessoas em todo o mundo.

A campanha do Greenpeace em proteção ao Ártico foi lançada em junho de 2012, durante a Rio+20. A organização defende a criação de um santuário mundial na área em torno do polo norte, que seria dedicado exclusivamente à pesquisa. Pela proposta, a exploração de petróleo em alto mar e a pesca predatória seriam banidas.

A pesca intensiva, em lugares antes congelados, prejudica comunidades nativas da região que sobrevivem dessa atividade, além de causar desequilíbrios ao ecossistema marítimo. Além disso, a exploração de petróleo em um local inóspito e frio como o Ártico torna a operação altamente arriscada. Um vazamento de óleo ali teria efeitos devastadores e irreversíveis.

De acordo com Cristine Rosa, coordenadora da campanha de Clima e Energia do Greenpeace Brasil, a intenção da atividade deste sábado foi ressaltar a importância que a população tem em apoiar a campanha e pedir que seus governantes ajudem a levar a discussão à Assembleia Geral da ONU.

“O Ártico está derretendo a um ritmo nunca antes visto e seu desaparecimento vai acelerar ainda mais o aquecimento global e as mudanças climáticas”, disse Rosa. “Por isso, proteger o Ártico é proteger a todos nós”, concluiu.

(Disponível em: <http://www.greenpeace.org/brasil/pt/Noticias/Amor-pelo-Artico1/>. Acesso em: 07/12/2013)

1. De acordo com o texto, a atividade realizada no Rio de Janeiro e em mais 36 países teve a intenção de
 - A) destacar a importância em se defender a preservação do Ártico e pedir apoio para a criação do Santuário Mundial na área do Polo Norte.
 - B) enfatizar o apoio da população à campanha em defesa do Ártico e solicitar aos governantes ajuda no sentido de levar o tema à discussão na Assembleia Geral da ONU.
 - C) denunciar a pesca intensiva e predatória e em lugares antes congelados e solicitar apoio contra as empresas que se dedicam à exploração de petróleo em alto mar.
 - D) defender o ecossistema do Ártico contra os efeitos do aquecimento global e solicitar apoio à população mundial à campanha do Greenpeace.

2. Analise as assertivas a seguir:

- I. O título “Amor pelo Ártico” antecipa a temática do texto.
- II. De acordo com o texto, o aquecimento global ameaça o Ártico. E o desaparecimento do Ártico, por sua vez, pode acelerar o aquecimento global e as mudanças climáticas.
- III. O movimento do Greenpeace, a favor do Ártico, posiciona-se a favor da exploração de petróleo e contrário à pesca predatória naquela região.
- IV. A proposta de criação de um santuário mundial ao redor do Polo Norte objetiva a pesquisa, a exploração controlada do petróleo e a pesca sustentável.

Estão corretas as assertivas

- A) I e III.
- B) II e IV.
- C) III e IV.
- D) I e II.

Leia o trecho a seguir para responder às questões 3 e 4.

A pesca intensiva, em lugares antes congelados, prejudica comunidades nativas da região **que** sobrevivem dessa atividade, além de causar desequilíbrios ao ecossistema marítimo. Além disso, a exploração de petróleo em um local **inóspito** e frio como o Ártico torna a operação altamente arriscada. Um vazamento de óleo **ali** teria efeitos devastadores e irreversíveis.

3. Mantendo seu sentido original, a palavra que substitui “inóspito” é

- A) pesado.
- B) severo.
- C) inabitável.
- D) abrupto.

4. O primeiro período do trecho em destaque é composto, porque apresenta

- A) uma oração principal, uma oração subordinada adjetiva e uma oração coordenada aditiva.
- B) duas orações coordenadas assindéticas e uma oração subordinada adverbial causal.
- C) uma oração principal, uma oração coordenada explicativa e uma oração adverbial consecutiva.
- D) duas orações coordenadas assindéticas e uma oração coordenada aditiva.

5. Analise as afirmativas a seguir.

- I. A ocorrência dos acentos nas palavras “voluntários” e “países” justifica-se pela mesma regra gramatical.
- II. A ocorrência do acento grave indicador de crase, no quarto parágrafo do texto, justifica-se devido à regência do vocábulo “dedicado” e por ser “pesquisa” uma palavra feminina que admite o artigo “a”.
- III. No 6º parágrafo do texto, justifica-se o uso das vírgulas por isolarem um aposto.
- IV. No último parágrafo, o uso das aspas objetiva assinalar um termo que necessita ser realçado.

Estão corretas as afirmativas

- A) I e IV.
- B) II e III.
- C) I e III.
- D) II e IV.

ATUALIDADE E LEGISLAÇÃO

6. Leia o texto a seguir

“No plano dos episódios que movem, de fato, a história brasileira, a luta pelo petróleo, em fins dos anos 40, de onde nasceu a Petrobras, pode ser identificada como a pré-história do Pré-sal. No plano político, resguardadas as diferenças promovidas em um mundo que, por razões da física, não para de girar, o Governo brasileiro optou por um caminho novo ao ter que definir em 21/10/2013, um novo modelo de exploração do petróleo em território Brasileiro.”

(Texto adaptado da Carta Capital, publicado 26/10/2013 09:27. Disponível em: <http://www.cartacapital.com.br/revista/772/pre-historia-do-pre-sal-1097.html>. Acesso em 26 dez. 2013.)

O novo modelo de exploração a que o texto faz referência é

- A) o sistema de partilha com a criação de uma empresa estatal brasileira responsável pela gestão e fiscalização dos investimentos.
 - B) a implantação da concessão total da exploração à iniciativa privada, com uma política diferenciada no recolhimento dos Royalties.
 - C) a definição das regras de exploração com base no monopólio total da Petrobras sob o controle do Ministério das Minas e Energia.
 - D) a criação de um consórcio de empresas nacionais que exploram petróleo sob a coordenação da Petrobras e dos governos estaduais.
7. Com o intuito de diminuir parte do problema da saúde nos municípios do interior e nas periferias das grandes cidades do país, áreas prioritárias para o Sistema Único de Saúde - SUS, o Governo Federal brasileiro lançou este ano o Projeto Mais Médicos para o Brasil, que abriu a possibilidade de atuação de médicos estrangeiros para trabalharem em regime de dedicação total nos municípios e regiões carentes desses serviços. Essa medida provocou reação de algumas entidades médicas, resultando num intenso debate e uma grande exploração pela grande mídia nacional. Sobre o “Mais Médicos” analise as proposições a seguir.
- I. A educação permanente é uma das prioridades desse Programa, fortalecida via integração ensino-serviço, realizada por meio da UNA-SUS e das Universidades que compõem a Rede.
 - II. O programa não inclui supervisão acadêmica das universidades no que tange às atividades desempenhadas pelos médicos nem estimula a realização de pesquisas aplicadas ao SUS.
 - III. A atuação dos profissionais prevê uma carga horária de 40 horas semanais, incluindo as ações de aperfeiçoamento como componente assistencial.
 - IV. O programa enfrentou muita resistência por dar exclusividade a médicos cubanos e deixar de fora médicos brasileiros.

Estão corretas as proposições

- A) II e IV.
 - B) II e III.
 - C) I e III.
 - D) I e IV.
8. A Lei nº 9.433, de 8 de janeiro de 1997, institui a Política Nacional de Recursos Hídricos, entre outros, e tem como fundamento
- A) a gestão sistemática dos recursos hídricos.
 - B) que a água é um bem de domínio público.
 - C) os planos de recursos hídricos.
 - D) o incentivo à racionalização do uso da água.

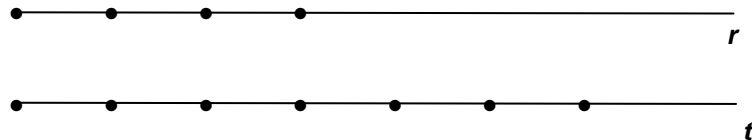
9. A Lei Municipal nº 5.250, de 10 de janeiro de 2001 dispõe sobre a autorização do Executivo Municipal a outorgar concessão exclusiva à Companhia de Águas e Esgotos do Rio Grande do Norte - CAERN, para a prestação dos serviços públicos locais de abastecimento de água e de esgotamento sanitário. Sobre essa concessão, analise as afirmativas a seguir.
- I. A inalterabilidade da natureza privada da concessionária é condição para manutenção da concessão.
 - II. Os serviços sanitários devem atender 100% da população no prazo de 20 anos, a contar do termo inicial contratual.
 - III. O prazo de vigência é de 25 anos.
 - IV. É condicional a fiscalização e participação do Poder Executivo Municipal na administração do sistema.

Dentre as afirmações, de acordo com o texto da Lei, estão corretas

- A) I e III.
 - B) II e IV.
 - C) III e IV.
 - D) I e II.
10. Uma ação de fiscalização observou uma infração das normas de utilização de recursos hídricos que foi a perfuração de poços para extração de água subterrânea sem a devida autorização. Os recursos arrecadados com essa infração, de acordo com a Lei nº 9.984, de 17 de julho de 2000, constituem receita
- A) da Agência Nacional de Águas.
 - B) da Concessionária local.
 - C) do Governo Estadual.
 - D) do Governo Municipal.


RACIOCÍNIO LÓGICO

11. Dadas as retas r e t , paralelas entre si, considere quatro pontos sobre a reta r e sete pontos sobre a reta t .



O número de triângulos que podemos formar, unindo três desses pontos, é igual a

- A) 165.
B) 126.
C) 161.
D) 130.
12. Na figura que segue, os números foram dispostos em forma de triângulo, seguindo determinado critério.



A soma dos três termos que faltam para completar esse triângulo é igual a

- A) 144.
B) 152.
C) 123.
D) 178.
13. Em um dia de sábado, foram reunidos, em um clube, 50 funcionários de uma empresa. Foi feita uma pesquisa, com todos eles, para saber suas preferências em relação a três opções de esporte oferecidos pelo clube. Obtivemos o seguinte resultado:
- i. Dez gostam apenas de futebol.
 - ii. Vinte e oito gostam de natação.
 - iii. Três gostam dos três esportes.
 - iv. Cinco gostam apenas de futebol e natação.
 - v. Nove gostam de natação e vôlei.
 - vi. Quatro gostam apenas de futebol e vôlei.

De acordo com a pesquisa, podemos afirmar que o número de funcionários que gostam apenas de natação é igual a

- A) 16.
B) 12.
C) 14.
D) 10.

14. Após um assalto em uma loja de roupas, quatro clientes descreveram quatro características do assaltante:

Cliente 1- “Ele é gordo, de olhos verdes, barbudo e careca.”

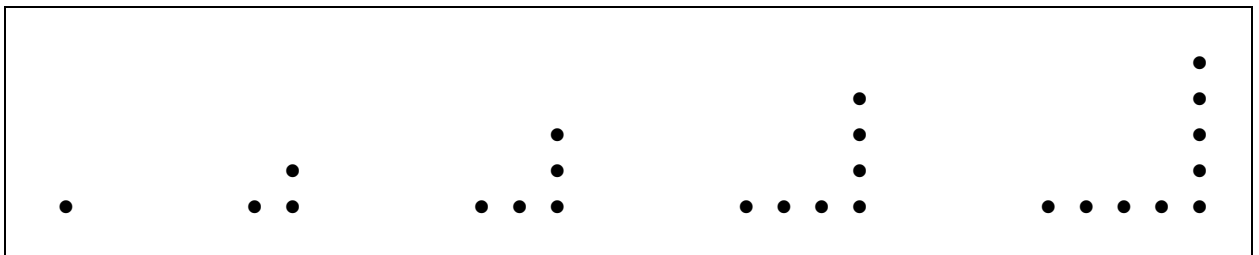
Cliente 2- “Ele é magro, de olhos azuis, barbudo e careca.”

Cliente 3- “Ele é de peso médio, de olhos negros, sem barba e careca.”

Cliente 4- “Ele é gordo, de olhos castanhos, barbudo e cabeludo.”

Cada cliente descreveu corretamente uma, e apenas uma, das características do assaltante, e cada característica foi corretamente descrita por uma das clientes. Dessa forma, é correto afirmar que o assaltante é

- A) gordo, olhos verdes, sem barba e cabeludo.
 B) magro, olhos azuis, barbudo e cabeludo.
 C) gordo, olhos azuis, sem barba e careca.
 D) magro, olhos verdes, sem barba e cabeludo.
15. A figura a seguir mostra uma sequência de bolinhas que obedece a um determinado padrão. A primeira figura foi formada por uma bolinha; a segunda, por três bolinhas; a terceira, por cinco; e assim sucessivamente.

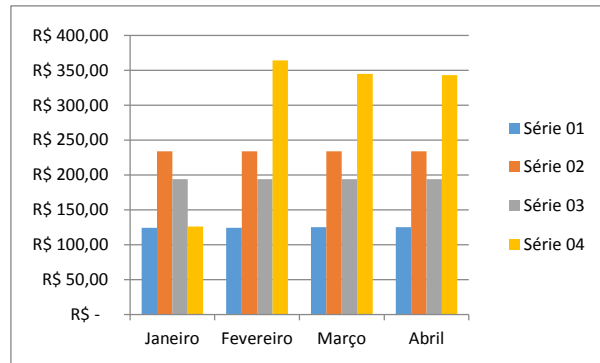


Marque a opção que apresenta a quantidade de bolinhas necessárias, mantendo o padrão dado, para a construção da quadragésima quarta figura.

- A) 88
 B) 87
 C) 89
 D) 99

INFORMÁTICA

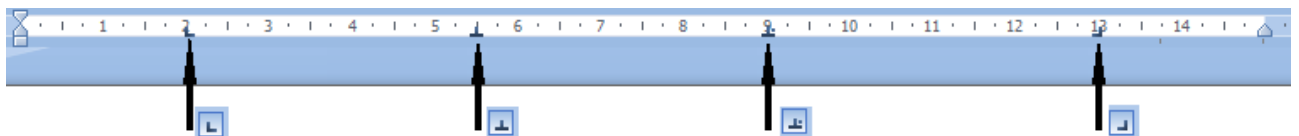
16. A ferramenta Gráfico existe para facilitar a compreensão dos dados, e o Excel 2010 oferece vários tipos que podem ser escolhidos de acordo com o objetivo pretendido. O gráfico a seguir é um exemplo dos disponíveis no Excel 2010.



Fonte: FUNCERN, 2014.

A denominação correta desse tipo de gráfico é

- A) Barras
 - B) Superfície
 - C) Linhas
 - D) Colunas
17. Protocolo é uma espécie de linguagem utilizada pelo computador para estabelecer comunicação com outras máquinas através da rede. São protocolos usados para comunicação na Internet,
- A) IEEE 801.n e POP.
 - B) IMAP e FireWire.
 - C) PCI e WiFi.
 - D) HTTP e SMTP.
18. Tabulação é um recurso do editor de textos Microsoft Word 2010, que permite ordenar esteticamente os dados de um texto de uma forma organizada. Ao usar esse recurso, o Microsoft Word 2010 exibe, em sua régua, figuras que representam o alinhamento escolhido na posição de parada definida. A figura a seguir apresenta quatro alinhamentos em quatro posições de parada.



Marque a opção que apresenta o tipo de alinhamento correto, conforme a posição de parada definida.

- A) Direito em 2 cm; Decimal em 5,5 cm; Centralizado em 9 cm; e Esquerdo em 13 cm.
- B) Esquerdo em 2 cm; Centralizado em 5,5 cm; Decimal em 9 cm; e Direito em 13 cm.
- C) Esquerdo em 2 cm; Decimal em 5,5 cm; Centralizado em 9 cm; e Direito em 13 cm.
- D) Direito em 2 cm; Centralizado em 5,5 cm; Decimal em 9 cm; e Esquerdo em 13 cm.

19. A navegação em guias é um recurso usado pelo Internet Explorer 11, que permite a abertura de vários sites em uma única janela do navegador. A configuração da navegação por guias é exercida através do ícone Ferramentas, Opções da internet, na aba

- A) Geral.
- B) Conexão.
- C) Conteúdo.
- D) Programas.

20. Na figura a seguir, do Excel 2010, deseja-se encontrar o valor total na coluna “D”, que será o resultado da soma dos valores das colunas “A” e “B” multiplicado pelo valor de referência fixa, que se encontra na célula “C2”.

D2				
	A	B	C	D
1	Valor 1	Valor 2	V. Referencia	Total
2	3	10	100	
3	4	20		
4	5	30		
5	6	40		

Utilizando a referência absoluta, marque a opção que apresenta a fórmula que deverá ser digitada em “D2” e copiada, respectivamente, para D3, D4 e D5.

- A) =SOMA(A2:B2)*\$C2
- B) =SOMA(A2:B2)*&C&2
- C) =SOMA(A2:B2)*C&2
- D) =SOMA(A2:B2)*C\$2

CONHECIMENTOS ESPECÍFICOS

21. Assinale a opção composta, exclusivamente, por impostos de competência estadual.
- A) Imposto sobre a Propriedade Predial e Territorial Urbana e Imposto sobre Produtos Industrializados.
 - B) Imposto sobre a Propriedade Predial e Territorial Urbana e Imposto sobre Propriedade de Veículo Automotor.
 - C) Imposto sobre Produtos Industrializados e Imposto sobre a Transmissão de Bens por Doação ou Causa Mortis.
 - D) Imposto sobre Propriedade de Veículo Automotor e Imposto sobre a Transmissão de Bens por Doação ou Causa Mortis.
22. De acordo com o Código Tributário Nacional, o tributo cuja obrigação tem por fato gerador uma situação independente de qualquer atividade estatal específica relativa ao contribuinte tem a natureza jurídica de
- A) taxa.
 - B) contribuição de melhoria.
 - C) preço público.
 - D) imposto.
23. Diante dos diversos estados patrimoniais a seguir, indique aquele que apresenta a pior situação.
- A) Situação líquida igual a zero
 - B) Passivo exigível maior do que o ativo
 - C) Situação líquida igual ao ativo
 - D) Passivo exigível igual a zero
24. A análise das demonstrações financeiras tem o objetivo de fornecer informações numéricas de dois ou mais períodos de forma que possa subsidiar acionistas, administradores, fornecedores, clientes, governo, instituições financeiras, investidores e demais pessoas físicas ou jurídicas que estejam interessadas em conhecer a situação de empresas. Dentre os tipos de análise dessas demonstrações, a que avalia o aumento ou a diminuição dos valores que expressam os elementos patrimoniais ou do resultado, em uma determinada série histórica de exercícios, é a análise
- A) vertical.
 - B) horizontal.
 - C) por diferenças absolutas.
 - D) por quocientes.
25. Em uma determinada empresa, os seus passivos circulantes e não circulantes apresentam um saldo total de R\$ 53.130,00 e o seu patrimônio líquido no valor de R\$ 7.370,00. Dessa forma, a referida empresa apresenta-se com um capital próprio de
- A) R\$ 60.500,00.
 - B) R\$ 53.130,00.
 - C) R\$ 7.370,00.
 - D) R\$ 45.760,00.

26. São instrumentos de Política Monetária:

- A) reservas obrigatórias, operações de mercado aberto e política de redesconto.
- B) superávit primário, metas de inflação e câmbio flutuante.
- C) reservas obrigatórias, metas de inflação e emissão monetária.
- D) operações de mercado aberto, emissão de debêntures e arbitragem de juros.

27. Analise as afirmativas a seguir, referentes ao fenômeno da inflação.

- I. A inflação de demanda diz respeito ao excesso de demanda agregada na economia.
- II. A inflação de custos está ligada a uma insuficiência da demanda agregada.
- III. Normalmente, uma valorização cambial eleva os custos dos produtos importados.
- IV. Altas taxas de inflação afetam negativamente a distribuição de renda e o Balanço de Pagamentos e desestimulam a aplicação de recursos em terras e imóveis.

Estão corretas as afirmativas

- A) I e III.
- B) II e IV.
- C) III e IV.
- D) I e II.

28. Considere as afirmativas, a seguir, referentes a Contabilidade Nacional.

- I. O PIB corresponde ao PNB mais a renda líquida enviada ao exterior.
- II. O Produto Nacional a preços de mercado equivale ao Produto Nacional a custo dos fatores menos os impostos indiretos.
- III. A Renda Nacional é igual ao Produto Nacional Líquido a custo dos fatores.
- IV. A depreciação é a diferença entre o Produto Nacional a preços de mercado e o Produto Nacional a custo dos fatores.

Estão corretas as afirmativas

- A) II e III.
- B) II e IV.
- C) I e III.
- D) I e IV.

29. Sobre o Modelo da Demanda Quebrada é correto afirmar que o mesmo

- A) é mais conhecido como Modelo de Cournot, e mostra como as empresas são dependentes da ação de outras no oligopólio.
- B) está adequado às empresas em concorrência monopolista, que produzem produtos diferenciados, embora substitutos próximos.
- C) busca explicar a estabilidade dos preços dos oligopólios, mesmo diante de mudanças nos custos.
- D) é um modelo em que a firma líder observa que sua demanda é a demanda de mercado menos a parte atendida pelas outras firmas.

30. Analise as afirmativas a seguir e assinale verdadeira (V) ou falsa (F).

- () Curvas de indiferença mais distantes da origem representam cestas de mercadorias mais desejadas.
- () Se o aumento do preço do bem X ocasionar uma queda na demanda do bem Y, então esses bens são complementares.
- () A curva de isocusto representa o mapa da produção, e a isoquanta representa os diferentes níveis de produção realizáveis pela firma.
- () No equilíbrio de uma firma, esta vai buscar maximizar a produção para determinado custo total ou minimizar o custo total para certo nível de produção.

A sequência correta é

- A) V – V – F – V
- B) F – V – F – V
- C) F – V – F – F
- D) V – F – V – F

31. Sobre a Teoria da Dotação dos Fatores, é correto afirmar que

- A) essa teoria teve suas previsões reforçadas pelo Paradoxo de Leontief.
- B) a vantagem comparativa depende exclusivamente do fator trabalho.
- C) a vantagem comparativa explica-se somente pela diferença nas condições de oferta relativas.
- D) essa teoria foi uma resposta ao mecanismo preço-fluxo-espécie, proposto por David Hume.

32. O Balanço de Pagamentos apresenta os seguintes componentes (em US\$ milhões):

Exportações	152.995
Importações	127.705
Transferências Unilaterais Correntes	3.338
Serviços e Rendas	- 52.930
Conta Capital	1.129
Conta Financeira	70.172
Erros e Omissões	- 347

Baseando-se nos dados apresentados, é correto afirmar que há

- A) déficit na Conta de Transações Correntes e saldo positivo no Balanço de Pagamentos.
- B) déficit na Conta de Transações Correntes e saldo negativo no Balanço de Pagamentos.
- C) superávit na Conta de Transações Correntes e saldo positivo no Balanço de Pagamentos.
- D) superávit na Conta de Transações Correntes e saldo negativo no Balanço de Pagamentos.

- 33.** Foram características dos planos econômicos Verão, Bresser e Cruzado, respectivamente:
- A) congelamento de preços, juros altos, desvalorização da moeda nacional.
 - B) mudança de Cruzado para Cruzado Novo, aumento real de salários, política do feijão-com-arroz.
 - C) reforma monetária, criação da URP (Unidade Referencial de Preços), extinção da ORTN (Obrigações Reajustáveis do Tesouro Nacional).
 - D) congelamento de preços e aluguéis por 90 dias, queda nos juros, tabelamento de preços.
- 34.** São considerados acontecimentos econômicos do segundo mandato presidencial de Fernando Henrique Cardoso:
- A) adoção do câmbio flutuante, apagão elétrico, adoção do regime de metas de inflação.
 - B) altas taxas de juros, adoção de câmbio fixo, aumento real nos salários.
 - C) baixo crescimento médio do produto, adoção do sistema de câmbio múltiplo, acordo com o FMI.
 - D) retenção de depósitos bancários, congelamento de preços por 30 dias, altas taxas de juros.
- 35.** Foram iniciativas do governo de Juscelino Kubitschek:
- A) criação do GTDN, criação da RFFSA e expansão das rodovias.
 - B) criação do BNDE, criação da CMBEU e adoção dos Certificados de Equipamentos.
 - C) criação da CHESF, criação da PETROBRAS e criação do BNB.
 - D) criação da RFFSA, criação do Plano de Metas e edição da Instrução 70 da SUMOC.