



CÂMARA MUNICIPAL DE SERRANA

ESTADO DE SÃO PAULO

CONCURSO PÚBLICO

004. PROVA OBJETIVA

ANALISTA LEGISLATIVO

- ◆ Você recebeu sua folha de respostas e este caderno contendo 60 questões objetivas.
- ◆ Confira seus dados impressos na capa deste caderno e na folha de respostas.
- ◆ Quando for permitido abrir o caderno, verifique se está completo ou se apresenta imperfeições. Caso haja algum problema, informe ao fiscal da sala.
- ◆ Leia cuidadosamente todas as questões e escolha a resposta que você considera correta.
- ◆ Marque, na folha de respostas, com caneta de tinta preta, a letra correspondente à alternativa que você escolheu.
- ◆ A duração da prova é de 3 horas e 30 minutos, já incluído o tempo para o preenchimento da folha de respostas.
- ◆ Só será permitida a saída definitiva da sala e do prédio após transcorridos 75% do tempo de duração da prova.
- ◆ Ao sair, você entregará ao fiscal a folha de respostas e este caderno, podendo levar apenas o rascunho de gabarito, localizado em sua carteira, para futura conferência.
- ◆ Até que você saia do prédio, todas as proibições e orientações continuam válidas.

AGUARDE A ORDEM DO FISCAL PARA ABRIR ESTE CADERNO DE QUESTÕES.

Nome do candidato _____

RG _____

Inscrição _____

Prédio _____

Sala _____

Carteira _____

CONHECIMENTOS GERAIS

LÍNGUA PORTUGUESA

Leia o texto para responder às questões de números **01** a **10**.

Por que temos filhos?

A pergunta do título comporta vários níveis de resposta. No plano biológico, a reprodução é um imperativo, fazendo parte de várias das definições de vida. Mas a biologia é só parte da história. A paternidade também encerra dimensões culturais, econômicas e emocionais.

Inspirado em “Anti-Pluralism”, de William Galston, arrisco algumas reflexões sobre a matéria.

Até o começo do século 19, filhos eram um ativo econômico. Ajudavam desde cedo com o trabalho doméstico, colaborando para o bem-estar da família, e ainda faziam as vezes de plano de aposentadoria para os pais.

Hoje, contudo, crianças ficaram caras. E, para piorar, elas demoram muito até começar a trazer contribuições econômicas. Como observa Galston, no espaço de dois séculos, a criação de filhos deixou de ser um bem privado para tornar-se um bem público.

Embora a paternidade possa trazer recompensas emocionais, do ponto de vista estritamente econômico, ela favorece a sociedade como um todo, enquanto a maior parte dos custos recai sobre os genitores.

E por que crianças beneficiam a sociedade? A crer na análise de economistas como Julian Simon, riqueza são pessoas. Quanto mais gente, melhor, já que são indivíduos que têm ideias (além de consumir produtos) e são as novas ideias que vêm assegurando o brutal aumento de produtividade a que assistimos nos últimos 200 anos.

E isso nos coloca diante de um dos grandes dilemas dos tempos modernos. Para assegurar a sustentabilidade da exploração dos recursos naturais do planeta, precisaríamos estabilizar ou até reduzir a população. Só que fazê-lo é uma espécie de suicídio econômico, já que ficaria muito difícil manter taxas positivas de crescimento, sem as quais instituições como previdência e até democracia representativa podem entrar em colapso.

(Hélio Schwartzman. *Folha de S.Paulo*. 18.11.2018. Adaptado)

01. Segundo o texto,

- (A) a paternidade representa hoje, assim como nos séculos passados, a certeza de auxílio doméstico e a expectativa de futura aposentadoria.
- (B) os filhos simbolizaram, ao longo dos séculos passados, um investimento caro, que poderia inclusive comprometer a aposentadoria dos pais.
- (C) a percepção sobre o papel dos filhos manteve-se historicamente inalterada, já que continuam sendo vistos como essenciais para o bem-estar da família.
- (D) economicamente, a geração de crianças é atualmente vista como um bem público, já que elas beneficiam a sociedade de diferentes maneiras.
- (E) a mentalidade segundo a qual crianças trazem benefícios econômicos para a sociedade vem sendo questionada, já que eles demoram a gerar riquezas.

02. A frase “E isso nos coloca diante de um dos grandes dilemas dos tempos modernos.” refere-se à seguinte informação:

- (A) a recompensa pela paternidade estaria resumida aos laços de afetividade familiar.
- (B) a geração de novas crianças onera igualmente as famílias, o estado e toda a sociedade.
- (C) a falta de consenso entre os economistas quanto aos efeitos do aumento populacional.
- (D) a análise segundo a qual pessoas geram riquezas, então, quanto mais pessoas, melhor.
- (E) a necessidade de aumentar a baixa produtividade registrada nos últimos 200 anos.

03. Conforme opinião do autor, constitui um dos mais importantes dilemas da atualidade

- (A) a emergência de as famílias assumirem mais despesas com os filhos, já que os custos da paternidade pesam sobre estado, onerando-o cada vez mais.
- (B) a necessidade de contenção do aumento populacional, visando atenuar a exploração dos recursos naturais, e as consequências econômicas dessa medida.
- (C) a percepção da paternidade a partir do viés econômico, colocando em segundo plano as dimensões cultural e afetiva que envolvem as relações familiares.
- (D) a decisão entre manter ou impor controle sobre os altos índices de produtividade dos últimos anos, para ajustá-los à tendência de queda nos níveis de consumo.
- (E) o aumento sistemático da produtividade fundado na crença, muito combatida por economistas, de que quanto mais pessoas maior a geração de riqueza.

04. Considere as frases:

- No plano biológico, a reprodução é **um imperativo**...
- A paternidade também **encerra** dimensões culturais...
- ... do ponto de vista **estritamente** econômico...

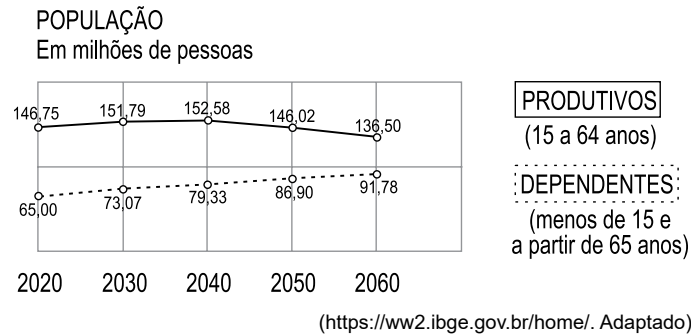
As expressões destacadas nas frases têm como sinônimos adequados ao contexto

- (A) uma imposição; contém; precisamente.
- (B) um propósito; estende; plenamente.
- (C) um estímulo; propicia; manifestamente.
- (D) uma obsessão; sobrepõe; devidamente.
- (E) uma afirmação; atenua; incontestavelmente.

05. A frase do quarto parágrafo “Hoje, contudo, crianças ficaram caras.” estabelece, em relação ao que é enunciado no parágrafo anterior, relação com sentido de
- (A) causa.
 - (B) condição.
 - (C) contraste.
 - (D) finalidade.
 - (E) proporção.
06. O termo “até”, em destaque nas frases: “... instituições como previdência e até democracia representativa podem entrar em colapso.” / “**Até** o começo do século 19, filhos eram um ativo econômico.” expressa circunstância de
- (A) inclusão e de tempo, respectivamente.
 - (B) modo, em ambas as ocorrências.
 - (C) tempo e de modo, respectivamente.
 - (D) inclusão, em ambas as ocorrências.
 - (E) tempo, em ambas as ocorrências.
07. Assinale a alternativa em que o pronome que substitui a expressão destacada está em conformidade com a norma-padrão de uso e de colocação dos pronomes.
- (A) A pergunta do título comporta **vários níveis de resposta**. / A pergunta do título lhes comporta.
 - (B) A paternidade também encerra **dimensões culturais**... / A paternidade também encerra-lhes...
 - (C) ... demoram muito até começar a trazer **contribuições econômicas**. / ... demoram muito até começar a trazer-nas.
 - (D) Para assegurar **a sustentabilidade**... / Para lhe assegurar...
 - (E) ... ficaria muito difícil manter **taxas positivas de crescimento**... / ... ficaria muito difícil mantê-las...
08. Assinale a alternativa em cuja redação há emprego de palavra ou expressão em sentido figurado.
- (A) Mas a biologia é só parte da história.
 - (B) Ajudavam desde cedo com o trabalho doméstico...
 - (C) ... elas demoram muito até começar a trazer contribuições econômicas.
 - (D) E por que crianças beneficiam a sociedade?
 - (E) Só que fazê-lo é uma espécie de suicídio econômico...
09. Assinale a alternativa em que a reescrita da frase do texto atende à norma-padrão de pontuação.
- (A) Dimensões culturais, econômicas e emocionais, também se encerram, na paternidade.
 - (B) Colaboravam desde cedo, para o bem-estar, da família, ajudando nos trabalhos domésticos.
 - (C) Crianças, por demorarem muito a contribuir economicamente com os pais, ficaram caras.
 - (D) A criação de filhos, perdeu a condição de bem privado, passando a ser um bem público.
 - (E) Embora traga recompensas emocionais, o custo da paternidade, é alto para os genitores.
10. Com a substituição do verbo destacado na frase “... são as novas ideias que vêm assegurando o brutal aumento de produtividade a que **assistimos** nos últimos 200 anos.”, a redação atende a norma-padrão de regência verbal em:
- (A) ... assegurando o brutal aumento de produtividade à que **percebemos** nos últimos 200 anos.
 - (B) ... assegurando o brutal aumento de produtividade que **constatamos** nos últimos 200 anos.
 - (C) ... assegurando o brutal aumento de produtividade de que **verificamos** nos últimos 200 anos.
 - (D) ... assegurando o brutal aumento de produtividade em que **presenciamos** nos últimos 200 anos.
 - (E) ... assegurando o brutal aumento de produtividade com que **acompanhamos** nos últimos 200 anos.

Considere as informações a seguir para responder às questões de números 11 e 12.

O gráfico a seguir mostra uma projeção para as próximas décadas da população brasileira dividida em dois grupos: economicamente produtivos e economicamente dependentes.



11. Segundo os valores apresentados, a população brasileira atingirá seu maior número em

- (A) 2020.
- (B) 2030.
- (C) 2040.
- (D) 2050.
- (E) 2060.

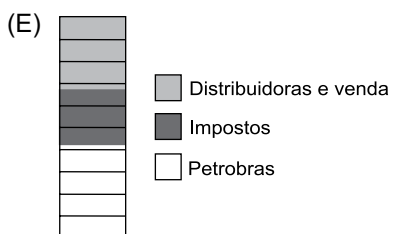
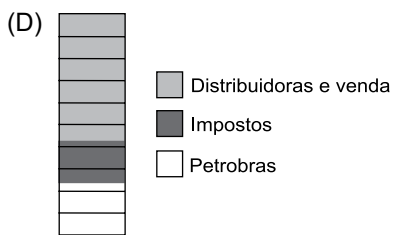
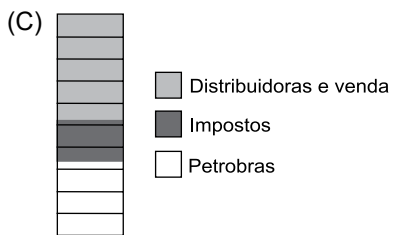
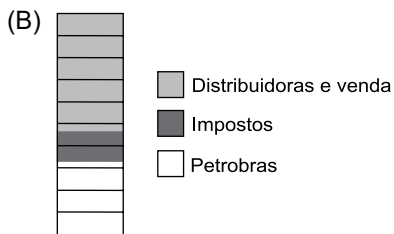
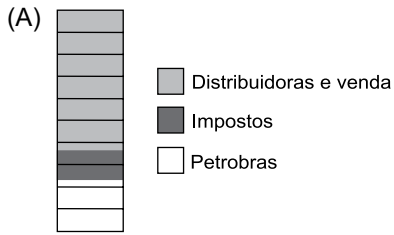
12. A razão entre a projeção da população economicamente dependente e da população economicamente produtiva, nessa ordem, será mais próxima de $\frac{4}{9}$ no ano de

- (A) 2020.
- (B) 2030.
- (C) 2040.
- (D) 2050.
- (E) 2060.

13. O valor que o consumidor paga no botijão de gás de cozinha de 13 kg é constituído de três partes: uma é o valor cobrado pela Petrobras para fornecer o gás; a segunda corresponde ao valor dos impostos que o governo cobra ao longo de todo o processo e a terceira é o valor das taxas de distribuição e de venda final.

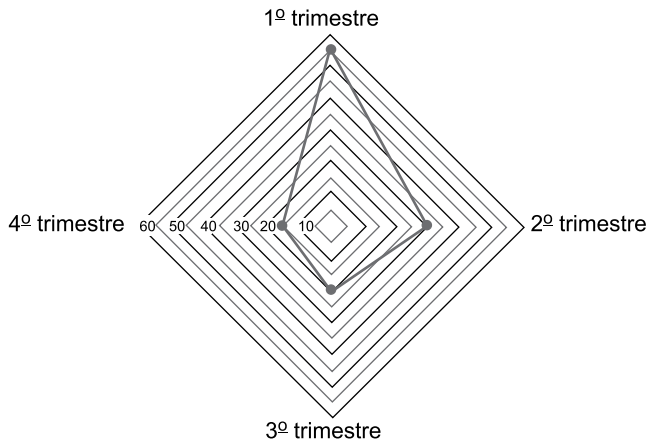
Considere, por exemplo, que, no final de novembro de 2018, um botijão custava R\$ 70,00. Desse valor, R\$ 23,10 era o valor cobrado pela Petrobras, R\$ 13,30 era o valor dos impostos do governo e o restante era o valor da taxa de distribuição e de venda.

O gráfico que ilustra corretamente o percentual dos valores que compõem o preço do exemplo em questão é

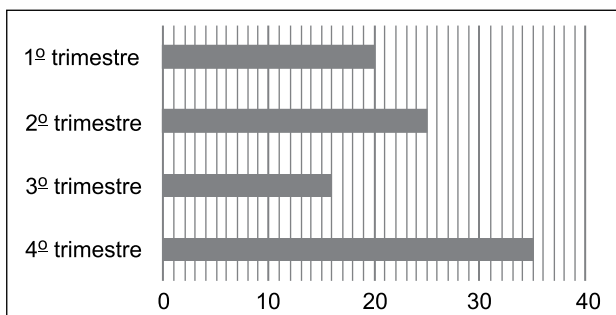


14. Uma pesquisa feita no Brasil mostrou os carros que mais desvalorizam ao longo de um ano. Para tanto, a pesquisa levou em consideração o preço do carro zero quilômetro e o preço do carro exatamente um ano após a retirada da concessionária, de acordo com um *site* especializado em revenda. Dado que o primeiro colocado nessa pesquisa desvalorizou 19,8% e seu preço com um ano de uso era igual a R\$ 88.220,00, a desvalorização desse carro com um ano de uso foi igual a
- (A) R\$ 17.500,00.
 (B) R\$ 18.650,00.
 (C) R\$ 19.800,00.
 (D) R\$ 20.200,00.
 (E) R\$ 21.780,00.

15. O volume médio de chuva é igual a razão entre o volume total de chuva e o número de dias chuvosos. Considere os gráficos a seguir, que apresentam dados relativos à quantidade de chuva em uma cidade ao longo de um ano. O primeiro apresenta o número de dias chuvosos para cada trimestre.



O segundo traz o volume médio de chuva, em mm, para esses mesmos períodos.



Segundo os dados apresentados nos gráficos e considerando o volume total de chuva para cada trimestre, tem-se que o maior volume e o menor volume de chuva foram registrados, respectivamente, no

- (A) 1º e 3º trimestres.
 (B) 1º e 4º trimestres.
 (C) 2º e 3º trimestres.
 (D) 2º e 4º trimestres.
 (E) 4º e 3º trimestres.

16. Um vendedor retornou ao escritório às 13h00, após visitar 8 clientes. Ele se comprometeu a enviar 3 orçamentos de pedidos para cada cliente até as 18h00 do mesmo dia. Para cumprir o acordado, ele terá, em média, que produzir e enviar cada orçamento em, no máximo,
- (A) 12 minutos e 30 segundos.
 - (B) 12 minutos e 50 segundos.
 - (C) 20 minutos e 50 segundos.
 - (D) 37 minutos e 30 segundos.
 - (E) 37 minutos e 50 segundos.

17. Especialistas em segurança no trânsito apontam que a distância mínima D , em metros, necessária para que dois motoristas de habilidade média, conduzindo veículos que percorram, em sentidos opostos, uma mesma faixa de tráfego, possam evitar o choque frontal, recorrendo aos freios, pode ser obtida, de modo simplificado, pelo seguinte cálculo:

$$D = 2 \cdot (0,5 \cdot V + 0,01 \cdot V^2)$$

Na expressão indicada, V corresponde à velocidade máxima permitida, em km/h, que cada um dos veículos pode manter, no referido trecho, com V positivo.

A distância mínima de 300 m, necessária para evitar o choque frontal, está associada a uma velocidade V igual a

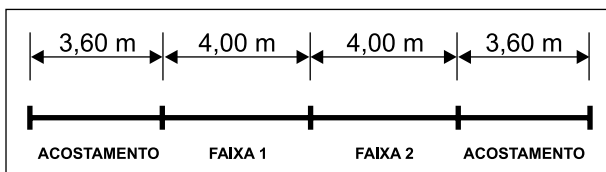
- (A) 60 km/h.
 - (B) 80 km/h.
 - (C) 100 km/h.
 - (D) 120 km/h.
 - (E) 150 km/h.
18. Tadeu pretende instalar em sua residência um painel fotovoltaico para produção de sua própria energia. O resultado será uma economia mensal de $2/3$ na sua conta de energia elétrica. O investimento de Tadeu para aquisição do painel será de R\$15.000,00 e, baseado no valor médio mensal da conta de energia elétrica, estima-se que depois de 50 meses a economia acumulada na conta de energia elétrica será igual ao valor pago pelo equipamento.
- Segundo essa estimativa de retorno, o valor médio da conta mensal de energia elétrica da casa de Tadeu antes da compra do painel é igual a
- (A) R\$ 300,00.
 - (B) R\$ 350,00.
 - (C) R\$ 400,00.
 - (D) R\$ 450,00.
 - (E) R\$ 500,00.

19. Uma empresa está organizando um evento para o lançamento de um novo produto. O responsável pelo evento solicitou o orçamento de brindes montados com sacolas, agendas ou canetas para distribuição no dia. O esquema a seguir ilustra três possibilidades de brindes e seus respectivos custos:

OPÇÃO DE BRINDE	CUSTO DO BRINDE
	R\$ 6,50
	R\$ 6,40
	R\$ 7,30

Por fim, o responsável pelo evento acabou solicitando nova cotação, em que era oferecida uma unidade de cada item. Mantidos os preços, essa nova opção de brinde deverá custar

- (A) R\$ 8,00.
 (B) R\$ 7,70.
 (C) R\$ 7,40.
 (D) R\$ 7,10.
 (E) R\$ 6,80.
20. Uma empresa foi contratada para recapear 3,5 km de extensão de uma rodovia, incluindo o acostamento. O esquema a seguir apresenta a largura das faixas e do acostamento da via que será recapeada.



Considerando que será aplicada uma mesma espessura de massa asfáltica ao longo de toda a via e que o metro quadrado da superfície a ser recapeada foi orçado em R\$ 75,00, o preço total dessa obra será um valor

- (A) inferior a R\$ 3.500.000,00.
 (B) entre R\$ 3.500.000,00 e R\$ 3.800.000,00.
 (C) entre R\$ 3.800.000,00 e R\$ 4.100.000,00.
 (D) entre R\$ 4.100.000,00 e R\$ 4.400.000,00.
 (E) superior a R\$ 4.400.000,00.

LEGISLAÇÃO

21. De acordo com a Lei Orgânica do Município de Serrana, no que diz respeito aos seus bens, pode-se afirmar como correto que

- (A) a alienação de bens do Município só se dará em obediência ao que for determinado em lei estadual.
- (B) o Município tem direito à participação no resultado da exploração de petróleo ou gás natural, de recursos hídricos para fins de geração de energia elétrica e de outros recursos minerais de seu território.
- (C) qualquer forma de alienação de bens imóveis deverá ser feita por contrato de permissão de uso, conforme os termos de lei municipal específica.
- (D) o uso de bens municipais por terceiros poderá ser feito por autorização quando não houver interesse público.
- (E) a concessão administrativa dos bens públicos de uso comum dependerá de publicação de Decreto expedido pelo Prefeito.

22. A Lei Orgânica do Município de Serrana disciplina que não será admitido aumento de despesa prevista nos projetos

- (A) da Mesa da Câmara Municipal.
- (B) de qualquer dos membros da Câmara Municipal.
- (C) de direito da soberania popular.
- (D) sobre organização dos serviços administrativos da Câmara.
- (E) de iniciativa comum do Prefeito e Vereador.

23. O Regimento Interno da Câmara Municipal de Serrana estabelece que à Mesa compete, dentre outras atribuições previstas na Lei Orgânica do Município, a direção dos trabalhos legislativos e dos serviços administrativos da Câmara, especialmente, quanto aos trabalhos legislativos,

- (A) determinar abertura de sindicâncias e procedimentos administrativos.
- (B) conceder licenças e gratificações aos servidores da Câmara Municipal.
- (C) pôr em disponibilidade, aposentar ou punir os Vereadores.
- (D) propor privativamente à Câmara projeto de lei que disponha sobre a remuneração dos Vereadores.
- (E) propor privativamente à Câmara projeto de decreto legislativo sobre a remuneração do Prefeito e do Vice-Prefeito.

24. Com relação às Comissões, conforme disciplinado no Regimento Interno da Câmara Municipal de Serrana, assinale a alternativa correta.

- (A) As Comissões Permanentes não têm competência para solicitar informações e colher depoimentos de autoridades ou cidadãos.
- (B) Em todos os projetos de lei, decretos legislativos e resoluções que tramitarem pela Câmara, é facultativa a participação da Comissão de Legislação, Justiça e Redação.
- (C) À Comissão de Finanças e Orçamento serão distribuídas a proposta orçamentária, as diretrizes orçamentárias, o plano plurianual e o processo referente às contas do Município, este acompanhado do parecer prévio correspondente, sendo-lhes vedado solicitar audiência de outra Comissão.
- (D) As Comissões Permanentes, ao apreciarem proposições ou qualquer outra matéria submetida ao seu exame, obrigatoriamente deverão opinar sobre os aspectos que sejam ou não de sua atribuição específica.
- (E) Poderão funcionar na Câmara até 6 (seis) Comissões Parlamentares de Inquérito, que serão instaladas da seguinte forma: 04 (quatro) concomitantemente e 2 (duas) em caráter excepcional e por motivo relevante, mediante deliberação em Plenário da maioria simples dos Vereadores.

25. Aos servidores que agirem de acordo com os requisitos estabelecidos no Estatuto dos Servidores Públicos do Município de Serrana, serão deferidas gratificações. Em relação a elas, assinale a alternativa correta.

- (A) Ao servidor de provimento efetivo ou em comissão poderá ser atribuída uma gratificação de conformidade com o grau de responsabilidade, disponibilidade de horário, complexidade e importância dos trabalhos ou o local de prestação dos serviços.
- (B) Aos servidores ocupantes de cargo de direção, supervisão e chefia deverá ser paga uma gratificação de até 30% (trinta por cento) sobre todos os seus vencimentos.
- (C) Aos servidores designados para exercer função gratificada será devida uma gratificação de até 40% (quarenta por cento) sobre toda a sua remuneração.
- (D) As gratificações de servidores que acumulem as funções de chefia e função gratificada de dois ou mais setores, departamentos ou secretarias serão cumuladas sobre toda a sua remuneração.
- (E) Os servidores designados para exercer função de chefia ou função gratificada e que perceberem as respectivas gratificações, farão jus ao pagamento e adicionais de horas extraordinárias diurnas e noturnas.


26. Têm-se os seguintes recursos para aplicar na edição de um texto.

- I – Formatação em negrito
- II – Localizar e substituir
- III – Alterar a fonte de letra

Considerando os aplicativos Bloco de Notas e WordPad, em um computador com Microsoft Windows 7, em sua configuração original, assinale a alternativa que indica corretamente onde cada recurso, de I a III, pode ser aplicado.

- (A) I – Ambos; II – ambos; III – ambos.
- (B) I – Wordpad, apenas; II – ambos; III – ambos.
- (C) I – Ambos; II – ambos; III – Bloco de Notas, apenas.
- (D) I – Bloco de Notas, apenas; II – WordPad, apenas; III – ambos.
- (E) I – Wordpad, apenas; II – Wordpad, apenas; III – Wordpad, apenas.

27. Tem-se o seguinte documento sendo editado no Microsoft Word 2010, em sua configuração padrão, com uma tabela de 4 linhas e 3 colunas. Observe que o cursor do mouse está posicionado exatamente entre a primeira e a segunda células da segunda linha da tabela, e que a terceira linha tem as 2 primeiras células mescladas.



Assinale a alternativa que apresenta o resultado correto quando o usuário pressionar o botão principal do mouse e, mantendo-o pressionado, arrastar o mouse para a esquerda até o valor 2,5 da régua superior.

- (A)

- (B)

- (C)

- (D)

- (E)

28. Tem-se a seguinte planilha, criada no Microsoft Excel 2010, em sua configuração original.

	A	B	C	D
1	Nome	Cidade	Estado	Valor
2	Ricardo	São Paulo	SP	100
3	Ana Paula	Boa Vista	RR	90
4	Valéria	Mucajaí	RR	80
5	Lucas	Araxá	MG	70
6	Rogério	São Paulo	SP	60
7	Isabela	Rio de Janeiro	RJ	50

Assinale a alternativa que contém o resultado correto da função =CONT.SE(C2:C7;"SP") a ser inserida na célula D8.

- (A) SP, SP
- (B) Ricardo, Rogério
- (C) São Paulo, São Paulo
- (D) 2
- (E) 160

29. Considerando uma apresentação com 10 slides no Microsoft PowerPoint 2010, em sua configuração padrão, sendo que o slide ativo é o slide 10 e ele está oculto, assim como o slide 1 também está oculto, assinale a alternativa correta.

- (A) Ao pressionar as teclas SHIFT+F5 para iniciar o modo de apresentação, a apresentação inicia-se pelo slide 11.
- (B) Ao pressionar as teclas SHIFT+F5 para iniciar o modo de apresentação, a apresentação inicia-se pelo slide 1.
- (C) Ao pressionar a tecla F5 para iniciar o modo de apresentação, a apresentação inicia-se pelo slide 1.
- (D) Ao pressionar a tecla F5 para iniciar o modo de apresentação, a apresentação inicia-se pelo slide 10.
- (E) Ao pressionar a tecla F5 para iniciar o modo de apresentação, a apresentação inicia-se pelo slide 2.

30. Considerando o termo de pesquisa a seguir, feito no site de pesquisas Google, assinale a alternativa com o resultado correto.

"filmes indicados ao oscar 2018"



- (A) Oscar 2018 | Conheça os filmes indicados - Omelete
<https://www.omelete.com.br/oscar/osca-2018-conheca-os-indicados> ▼
23 de jan de 2018 - A Academia de Artes e Ciências Cinematográficas divulgou hoje (23) os **indicados ao Oscar 2018**. A Forma da Água, de Guillermo del Toro, ...
- (B) Veja a lista de filmes indicados ao Oscar 2018 - Jornal O Globo
<https://oglobo.globo.com > Cutura > Filmes> ▼
Veja a lista de **filmes indicados ao Oscar 2018**. Anúncio acontece na manhã desta terça-feira. O Globo, 23/01/2018 - 11:25 / 04/03/2018 - 16:25. A estátua do...
- (C) Oscar 2018: Filmes indicados retratam o pior da sociedade norte...
noticias.cenoticias.com/8989330?origin=relative&pageld=10eadf8d-6709... ▼
Oscar 2018: Filmes indicados retratam o pior da sociedade norte-americana. Central das Notícias – Notícias, vídeos, esportes e diversão.
- (D) Veja quando estreiam no Brasil os filmes indicados ao Oscar – EXAME
<https://exame.abril.com.br/.../veja-quando-estreiam-no-brasil-os-filmes-indicados-ao-o-...> ▼
Veja quando estreiam no Brasil os **filmes indicados ao Oscar**. Os filmes do Oscar. Ao contrário do que acontece nos EUA, das oito obras que concorrem ao...
- (E) Oscar 2018: Confira a lista completa de indicados! - Notícias de ...
www.adorocinema. > Notícias de Filmes < Notícias cinema: Festivais e premiações ▼
Oscar 2018: Confira a lista completa de **indicados!** ... completa de **indicados!** Por Taiani Mendes – 23/01/2018 às 11:52 ... MELHOR FILME ESTRANGEIRO.

CONHECIMENTOS ESPECÍFICOS

- 31.** Conforme a Lei de Introdução às normas do Direito Brasileiro (Decreto-Lei nº 4.657/1942), a lei começa a vigorar em todo o país
- (A) imediatamente depois de publicada ou em outro prazo estabelecido em seu texto.
 - (B) no primeiro dia útil seguinte depois de oficialmente publicada, exceto se seu texto estabelecer prazo diferente.
 - (C) 30 (trinta) dias depois de oficialmente publicada, podendo a lei estabelecer prazo maior.
 - (D) 45 (quarenta e cinco) dias depois de oficialmente publicada, salvo disposição contrária.
 - (E) 60 (sessenta) dias depois de oficialmente publicada, exceto se outro prazo for estabelecido na própria lei.
- 32.** Assinale a alternativa que está em consonância com o disposto na Lei de Introdução às normas do Direito Brasileiro.
- (A) Não se destinando à vigência temporária, a lei terá vigor por, no máximo, 1 (um) ano.
 - (B) A lei posterior não revoga a anterior quando, simplesmente, regule inteiramente a matéria de que tratava a lei anterior.
 - (C) Salvo disposição em contrário, a lei revogada não se restaura por ter a lei revogadora perdido a vigência.
 - (D) A lei nova, que estabeleça disposições gerais ou especiais a par das já existentes, revoga a lei anterior.
 - (E) As correções a texto de lei já em vigor não são consideradas lei nova.
- 33.** Segundo a Lei de Introdução às normas do Direito Brasileiro, o juiz decidirá o caso de acordo com a analogia, os costumes e os princípios gerais de direito na seguinte situação:
- (A) quando o caso for regido por lei temporária.
 - (B) quando se tratar de direito estrangeiro.
 - (C) se a lei for injusta.
 - (D) se o juiz não concordar com o texto da lei.
 - (E) quando a lei for omissa.
- 34.** Conforme a Lei Complementar nº 95/1998, a lei será estruturada em três partes básicas:
- (A) parte inicial, parte dispositiva e parte conclusiva.
 - (B) parte preliminar, parte normativa e parte final.
 - (C) relatório, fundamentos e dispositivo.
 - (D) ementa, redação e disposições gerais.
 - (E) preâmbulo, parte dispositiva e disposições finais.
- 35.** Nos termos da Lei Complementar nº 95/1998, a integração de todas as leis pertinentes à determinada matéria, em um único diploma legal, denomina-se
- (A) consolidação.
 - (B) ementa.
 - (C) solidificação.
 - (D) ordenação.
 - (E) esquematização.
- 36.** Personalidade de direito público: capacidade de autoadministração, porém sob o controle finalístico; atribuições tipicamente públicas, como a prestação de serviço público ou a atividade de polícia administrativa; e patrimônio próprio, sujeito à fiscalização do Estado. Estas são características das
- (A) fundações públicas.
 - (B) sociedades de economia mista.
 - (C) empresas públicas.
 - (D) autarquias.
 - (E) permissionárias.
- 37.** É um exemplo de entidade da administração pública indireta:
- (A) Secretaria da Fazenda Municipal.
 - (B) Ministério das Relações Exteriores.
 - (C) Defensoria Pública.
 - (D) Procuradoria Geral do Estado.
 - (E) Empresa Pública.
- 38.** De acordo com o direito brasileiro, o concessionário presta o serviço público por sua conta e risco e, em caso de causar dano ao usuário,
- (A) responde subjetivamente pelos prejuízos, e o poder concedente assume a responsabilidade de forma objetiva.
 - (B) responde conjuntamente com o Estado de forma objetiva e solidária, independentemente de dolo ou culpa.
 - (C) assume a responsabilização de forma objetiva, e o poder concedente responde de forma subsidiária.
 - (D) assume, subjetivamente, a responsabilização, e o poder concedente somente responde no caso de dolo ou culpa.
 - (E) responde objetiva e solidariamente com o poder concedente, desde que haja dolo ou culpa de agente público.

39. Com relação às agências reguladoras, o mandato dos seus Conselheiros e dos seus Diretores
- (A) terá o prazo fixado na lei de criação de cada Agência.
 - (B) será de 2 (dois) anos, prorrogável pelo mesmo prazo.
 - (C) será por tempo indeterminado.
 - (D) não poderá exceder o tempo máximo de 5 (cinco) anos.
 - (E) vigorará pelo prazo certo a ser estabelecido por Decreto Federal.
40. Assinale a alternativa que contempla um princípio constitucional implícito relacionado à Administração Pública.
- (A) Moralidade.
 - (B) Razoabilidade.
 - (C) Publicidade.
 - (D) Eficiência.
 - (E) Impessoalidade.
41. Uma das justificativas jurídicas para a contratação direta emergencial, sem licitação, pela Administração Pública, é
- (A) a vantagem econômica da Administração Pública.
 - (B) a qualidade do serviço a ser contratado.
 - (C) a obtenção do melhor preço.
 - (D) o fornecimento de serviço especializado por prestador único.
 - (E) o princípio da continuidade do serviço público.
42. O princípio da segurança jurídica tem por escopo dar maior estabilidade às situações jurídicas. Nesse sentido, assinale a alternativa que contempla o instituto jurídico relacionado diretamente a esse princípio.
- (A) Dignidade humana.
 - (B) *Habeas corpus*.
 - (C) Sigilo da correspondência.
 - (D) Direito de greve.
 - (E) Coisa julgada.
43. São dois atributos do ato administrativo:
- (A) presunção de legitimidade e normatividade.
 - (B) vinculatividade e eficiência.
 - (C) presunção de legalidade e discricionariedade.
 - (D) imperatividade e autoexecutoriedade.
 - (E) executoriedade e discricionariedade.
44. A respeito do controle judicial dos atos administrativos, é correto afirmar:
- (A) ele tem por finalidade principal avaliar e controlar o mérito do ato discricionário.
 - (B) ocorre nas situações em que o ato poderia ter sido revogado pela Administração, mas esta não o fez.
 - (C) muitas vezes precede a edição do ato maculado de vício.
 - (D) pode invalidá-los por motivos de conveniência ou oportunidade, respeitados os direitos adquiridos.
 - (E) atua para revogação dos atos ilegais.
45. O dispositivo constitucional que assegura que ninguém será processado nem sentenciado senão pela autoridade competente, aplicável ao processo administrativo, é representado pelo princípio
- (A) do juiz natural.
 - (B) do amplo acesso ao Poder Judiciário.
 - (C) da dignidade humana.
 - (D) da inafastabilidade da jurisdição.
 - (E) da legitimidade.
46. Nos termos da Lei de Improbidade Administrativa (Lei nº 8.429/1992), quando o ato de improbidade causar lesão ao patrimônio público ou ensejar enriquecimento ilícito, caberá à autoridade administrativa responsável pelo inquérito representar
- (A) ao Ministério Público, para a indisponibilidade dos bens do indiciado.
 - (B) ao juiz criminal responsável, para processar e julgar o acusado.
 - (C) ao seu superior imediato, para aplicação das penalidades cabíveis.
 - (D) à Corregedoria competente do órgão público no qual ocorreu o ato improprio.
 - (E) à Procuradoria Geral competente, com a finalidade de bloquear os bens do infrator.
47. A atribuição para representar à autoridade administrativa competente para que seja instaurada investigação destinada a apurar a prática de ato de improbidade, é conferida, expressamente, pela Lei de Improbidade Administrativa (Lei nº 8.429/1992),
- (A) privativamente ao Ministério Público.
 - (B) a qualquer pessoa.
 - (C) exclusivamente ao corregedor do órgão público.
 - (D) ao Delegado de Polícia quando houve indícios de crime.
 - (E) ao servidor público, desde que autorizado pelo seu superior.

48. Segundo a Constituição Federal, poderá ter direito à fiança aquele que cometer, dentre outros, o crime
- (A) de racismo.
 - (B) de tráfico ilícito de entorpecentes.
 - (C) de terrorismo.
 - (D) hediondo.
 - (E) culposo contra a vida.
49. A Constituição Federal assegura que, além dos atos necessários ao exercício da cidadania, na forma da lei, são gratuitas as seguintes ações:
- (A) mandado de segurança e *habeas corpus*.
 - (B) *habeas corpus* e *habeas data*.
 - (C) mandado de injunção e ação popular.
 - (D) ação popular e ação civil pública.
 - (E) *habeas data* e mandado de segurança.
50. Aquele nascido na República Federativa do Brasil, mas de pais estrangeiros que não estejam a serviço de seu país, é considerado pela Constituição Brasileira como
- (A) estrangeiro.
 - (B) brasileiro naturalizado.
 - (C) brasileiro nato.
 - (D) brasileiro naturalizado, se o país dos seus genitores tiver acordo de reciprocidade.
 - (E) apátrida.
51. Nos moldes da Carta Magna brasileira, a cassação de direitos políticos
- (A) é vedada.
 - (B) se dá no caso de cancelamento da naturalização por sentença transitada em julgado.
 - (C) ocorre na hipótese de incapacidade civil absoluta.
 - (D) decorre de condenação criminal transitada em julgado, enquanto durarem seus efeitos.
 - (E) é uma das penas impostas na condenação por improbidade administrativa.
52. Segundo o texto constitucional, os partidos políticos, após adquirirem personalidade jurídica, na forma da lei civil, registrarão seus estatutos no
- (A) Cartório de Registro Civil das Pessoas Naturais.
 - (B) Juízo Federal de primeira instância.
 - (C) Tribunal Regional Eleitoral.
 - (D) Tribunal Superior Eleitoral.
 - (E) Supremo Tribunal Federal.
53. No processo legislativo federal, segundo a Constituição da República, a matéria reservada à lei complementar
- (A) deve ser aprovada por maioria de três quintos dos votos.
 - (B) não admite emendas parlamentares.
 - (C) não será objeto de delegação.
 - (D) não permite emendas que gerem aumento de despesas.
 - (E) terá seu início de votação no Senado Federal.
54. O deputado federal que não queira participar de votação de projeto de lei, que considere inconstitucional por violar o devido processo legislativo,
- (A) poderá ajuizar uma ação direta de inconstitucionalidade contra o projeto de lei.
 - (B) poderá impetrar um mandado de segurança preventivo para impedir a tramitação.
 - (C) nada poderá fazer, a não ser tentar obstruir a votação em plenário.
 - (D) somente poderá abster-se de votar, mas não pode tomar qualquer medida judicial.
 - (E) deve solicitar ao Ministério Público que tome as medidas legais cabíveis.
55. São exemplos de pessoas que possuem inelegibilidade absoluta os
- (A) militares.
 - (B) menores de 21 anos de idade.
 - (C) membros do Poder Executivo.
 - (D) analfabetos.
 - (E) sucessores de titulares de mandatos eletivos.
56. Assinale a alternativa correta a respeito da fiscalização dos Municípios.
- (A) O parecer prévio do Tribunal de Contas vincula o mérito da decisão da Câmara sobre as contas do Prefeito.
 - (B) As contas dos Municípios ficarão, durante 90 (noventa) dias, anualmente, à disposição dos contribuintes.
 - (C) O controle interno da Câmara Municipal será exercido pelo Poder Judiciário.
 - (D) No exame e na apreciação das contas do Município, é vedado ao contribuinte questionar a sua legitimidade.
 - (E) É vedado aos Municípios criarem Tribunais, Conselhos ou órgãos de contas.

57. De acordo com as súmulas vinculantes do Supremo Tribunal Federal sobre os vencimentos e subsídios dos agentes públicos, é correto afirmar que

- (A) é inconstitucional a vinculação do reajuste de vencimentos de servidores estaduais ou municipais a índices federais de correção monetária.
- (B) o cálculo de gratificações e outras vantagens do servidor público incide sobre o abono utilizado para se atingir o salário-mínimo.
- (C) compete ao Distrito Federal legislar sobre vencimentos dos membros das polícias civil e militar e do corpo de bombeiros militar do Distrito Federal.
- (D) o direito ao auxílio-alimentação que for concedido aos servidores da ativa deve ser estendido aos servidores inativos.
- (E) não cabe ao Poder Judiciário aumentar vencimentos de servidores públicos, exceto com fundamento na isonomia.

58. Leia o texto.

_____,

Apresentamos a _____ o programa *Saúde para a População*, certos de que se trata de uma ação inovadora em políticas de saúde pública, sobretudo no que diz respeito à prevenção de doenças crônicas que tanto afetam os cidadãos em geral. Esperamos que esse programa se torne uma referência em medicina, em consonância com as demandas do século XXI.

_____,

Machado de Alencar (nome fictício)
Secretário de Saúde

As lacunas do texto devem ser preenchidas, correta e respectivamente, com:

- (A) Senhor Prefeito ... Vossa Excelência ... Respeitosamente
- (B) Caro Prefeito ... Sua Excelência ... Atenciosamente
- (C) Ilustríssimo Prefeito ... Você ... Cordialmente
- (D) Estimado Senhor Prefeito ... Sua Excelência ... Respeitosamente
- (E) Senhor Prefeito ... Vossa Senhoria ... Atenciosamente

59. De acordo com o *Manual de Redação da Presidência da República*, os textos oficiais “por seu caráter impessoal, por sua finalidade de informar com o máximo de clareza e concisão, requerem o uso do padrão culto da língua”. Tal preceito está corretamente preservado em:

- (A) Encaminhamos a Vossa Senhoria todos os documentos relativos ao processo, para vossa análise das principais questões ali presente.
- (B) A maioria dos documentos encaminhado já foram protocoladas na semana passada, mas ainda existem alguns que fogem a essa condição.
- (C) Em relação às cópias anexas, cumpre frisar que se trata de uma amostra representativa, adequada para esse primeiro momento de análise.
- (D) Todos os documentos solicitados foram encaminhados, embora tenha faltado dois que seriam básicos para consolidar o relatório do departamento.
- (E) Por haverem questões ainda controversas quanto aos documentos, deixamos eles sob os cuidados dos advogados do setor para que sejam melhor analisados.

60. Considere as seguintes informações:

- ... modalidade de comunicação entre unidades administrativas de um mesmo órgão, que podem estar hierarquicamente em mesmo nível ou em níveis diferentes.
- Pode ter caráter meramente administrativo, ou ser empregado para a exposição de projetos, ideias, diretrizes, etc. a serem adotados por determinado setor do serviço público.
- Sua característica principal é a agilidade. A sua tramitação em qualquer órgão deve pautar-se pela rapidez e pela simplicidade de procedimentos burocráticos.
- Quanto a sua forma, segue o modelo do padrão oficial, com a diferença de que o seu destinatário deve ser mencionado pelo cargo que ocupa.

(Manual de Redação da Presidência da República.
<http://www4.planalto.gov.br>. Adaptado)

As informações apresentadas referem-se

- (A) à carta pessoal.
- (B) ao requerimento.
- (C) ao ofício.
- (D) à carta comercial.
- (E) ao memorando.

