



CÂMARA MUNICIPAL DE SERRANA

ESTADO DE SÃO PAULO

CONCURSO PÚBLICO

003. PROVA OBJETIVA

TÉCNICO LEGISLATIVO

- ◆ Você recebeu sua folha de respostas e este caderno contendo 50 questões objetivas.
- ◆ Confira seus dados impressos na capa deste caderno e na folha de respostas.
- ◆ Quando for permitido abrir o caderno, verifique se está completo ou se apresenta imperfeições. Caso haja algum problema, informe ao fiscal da sala.
- ◆ Leia cuidadosamente todas as questões e escolha a resposta que você considera correta.
- ◆ Marque, na folha de respostas, com caneta de tinta preta, a letra correspondente à alternativa que você escolheu.
- ◆ A duração da prova é de 3 horas, já incluído o tempo para o preenchimento da folha de respostas.
- ◆ Só será permitida a saída definitiva da sala e do prédio após transcorridos 75% do tempo de duração da prova.
- ◆ Ao sair, você entregará ao fiscal a folha de respostas e este caderno, podendo levar apenas o rascunho de gabarito, localizado em sua carteira, para futura conferência.
- ◆ Até que você saia do prédio, todas as proibições e orientações continuam válidas.

AGUARDE A ORDEM DO FISCAL PARA ABRIR ESTE CADERNO DE QUESTÕES.

Nome do candidato _____

RG _____

Inscrição _____

Prédio _____

Sala _____

Carteira _____

CONHECIMENTOS GERAIS

LÍNGUA PORTUGUESA

Leia o texto para responder às questões de números 01 a 12.

Nero e a lira

O Brasil ficou chocado com o incêndio do Museu Nacional no Rio de Janeiro. Só diante das chamas terríveis e do patrimônio desaparecido para sempre que alguns perceberam que nunca tinham ido ao espaço museológico agora perdido. Eu já tinha escrito o mesmo sobre os riscos da nossa Biblioteca Nacional e do seu acervo inestimável em condições de risco similar. Aqui em São Paulo, é o caso do Museu do Ipiranga, fechado há tanto tempo. Perde o público, perde a cultura e empobrecemos em um campo já abalado da memória. Até quando? O que mais precisaria queimar no Brasil, para que a gente percebesse que patrimônio é algo que se vai para sempre?

O descaso tem precedentes terríveis. Em 1978, um conjunto inestimável de quadros virou cinzas no Museu de Arte Moderna do Rio de Janeiro. Patrimônio científico foi carbonizado várias vezes: a coleção do Instituto Butantã em São Paulo e do Museu de Ciências Naturais da PUC de Minas Gerais. Coleções insubstituíveis torraram por completo. O Museu da Língua Portuguesa ardeu em chamas, como também a tapeçaria de Tomie Ohtake no Memorial da América Latina: somos o país que usa cultura como material de combustão. Nenhum Nero foi indiciado, ninguém responde, nada se faz com tantos e repetidos avisos trágicos. É uma política de terra arrasada, de resultados eficazes e criminosos.

Mesmo aquilo que funciona e bem corre o risco do desamparo. A Sala São Paulo enche de orgulho os paulistas e brasileiros. A Osesp é uma joia esculpida com trabalho, talento e muito sacrifício. Manter algo do padrão da Osesp e da Sala São Paulo em um país como o Brasil é quase um milagre. A qualidade material da sala, o esforço de todos e a educação de um público fiel. Por ela passa a fina flor da música brasileira e internacional.

A cultura brasileira é assim. Muita coisa queimou, projetos sobreviveram em estado precário, e todos aguardam poderes sensíveis ao papel insubstituível da cultura na definição da cidadania. **Quando eu vejo o montante do fundo partidário em comparação ao estado precário de orquestras e museus, sou percorrido por uma dor muito forte.**

O que mais terá de silenciar, queimar, desaparecer ou ficar no passado até que acordemos? Quantos artistas deixarão de comunicar seu talento com uma sociedade que necessita desesperadamente de criação e sensibilidade para pensar mais alto e melhor? Alguém aqui acha coincidência que a economia mais forte da Europa, a Alemanha, também seja uma terra de forte investimento privado e público na música e nas artes? O que mais precisa desaparecer para sempre, para que governos e eleitores descubram o valor do nosso patrimônio material e imaterial?

Para nós, pessoas sem poder, resta prestigiar o que ainda existe, visitar mais nossos museus, cobrar dos políticos que elegemos há pouco e valorizar com alunos e filhos os muitos heróis de uma resistência cultural.

(Leandro Kamal. *O Estado de S.Paulo*. 18.11. 2018. Adaptado)

01. O título do texto refere-se ao imperador romano Nero, que ordenou atear fogo em Roma, e à lira, instrumento musical que simboliza as artes. Assinale a alternativa que, de acordo com o texto, explica o sentido expresso no título.
- (A) Os quadros e todo o acervo museológico viraram cinzas, tamanho o descaso na manutenção.
 - (B) O patrimônio científico do museu foi carbonizado, apesar do empenho em salvá-lo.
 - (C) O incêndio nos museus é um alerta de risco para espaços artísticos, como o da Sala São Paulo.
 - (D) Os danos trazidos pelo incêndio poderão motivar as autoridades em evitar outras ocorrências.
 - (E) O empobrecimento do campo científico no país já é consenso entre as autoridades.
02. Ao afirmar que nenhum Nero foi indiciado, o autor ressalta a ideia de que
- (A) figuras como Nero desapareceram ao longo dos períodos históricos.
 - (B) os responsáveis pelo descaso com o patrimônio cultural continuam impunes.
 - (C) a população costuma se distanciar dos bens culturais e científicos.
 - (D) crimes contra o patrimônio cultural não carecem de indiciamento.
 - (E) as autoridades brasileiras se empenham em apurar crimes contra a cultura.
03. Com o segmento "...papel insubstituível da cultura na definição da cidadania." [4º parágrafo] o autor
- (A) valoriza mais a cidadania que as questões culturais.
 - (B) expõe a contradição entre cultura e cidadania.
 - (C) admite que a cultura potencializa a cidadania.
 - (D) enfraquece o vínculo entre cultura e cidadania.
 - (E) defende a ruptura entre cidadania e cultura.
04. O trecho em destaque no quarto parágrafo indica
- (A) o nivelamento entre fundos partidários e fundos culturais.
 - (B) a opção prioritária que os partidos fazem pela cultura.
 - (C) o esforço para nivelar verbas para cultura e para partidos.
 - (D) a distribuição igualitária entre orçamentos políticos e culturais.
 - (E) o descompasso entre as verbas destinadas aos partidos e à cultura.

05. Para o autor, de acordo com o quinto parágrafo, não se trata de coincidência o que acontece na Alemanha, mas de

- (A) empenho do cidadão alemão em valorizar mais a arte que a economia.
- (B) questão de opção: os alemães preferem a arte à economia.
- (C) recusa dos alemães em viver pela música e pelas artes.
- (D) importância da valorização da cultura no fortalecimento da economia.
- (E) mérito do governo alemão em priorizar uma economia estável.

06. A sequência de frases interrogativas no penúltimo parágrafo expressa

- (A) aceitação do estado em que se encontra a cultura no país.
- (B) indignação com as condições do patrimônio cultural brasileiro.
- (C) surpresa diante das possibilidades de mudança no cenário cultural.
- (D) adesão ao clima favorável ao fortalecimento da cultura no país.
- (E) certeza de que o Brasil pode igualar-se à Alemanha na cultura.

07. De acordo com o uso indicativo da crase, assinale a alternativa que completa, correta e respectivamente, as lacunas da frase:

_____ qualidade material da Sala São Paulo soma-se _____ educação de um público fiel. Somos os heróis que resistem _____ derrocada da cultura.

- (A) A ... à ... a
- (B) A ... à ... à
- (C) À ... à ... à
- (D) A ... a ... à
- (E) A ... a ... a

08. Assinale a alternativa em que o verbo em destaque apresenta concordância correta, de acordo a norma-padrão.

- (A) Um grande número de quadros **virou** cinzas.
- (B) **Tratam-se** de políticas de terra arrasada.
- (C) Nenhum Nero **assumem** a responsabilidade.
- (D) **Existirá**, ainda hoje, heróis de uma resistência cultural.
- (E) **Conseguirá** os políticos eleitos preocupar-se com a cultura?

09. Observe as frases seguintes:

- O Museu da Língua Portuguesa ardeu em chamas.
- Manter o padrão da Sala São Paulo em um país como o Brasil é quase um milagre.

A preposição “em” nessas frases assume, respectivamente, valor de

- (A) modo e tempo.
- (B) situação e lugar.
- (C) modo e lugar.
- (D) tempo e modo.
- (E) modo e situação.

10. Leia a frase:

- O que mais precisa queimar no Brasil, **para se perceber que patrimônio é algo que se vai para sempre?**

De acordo com a conjugação verbal e sem alteração do sentido, tem-se versão correta de reescrita do trecho destacado em:

- (A) ... para que percebamos que patrimônio é algo que se extingue definitivamente?
- (B) ... para que percebamos que patrimônio é algo que termina alternadamente?
- (C) ... para que percebamos que patrimônio é algo que desaparece irrecuperavelmente?
- (D) ... para que percebamos que patrimônio é algo que se refaz inesperadamente?
- (E) ... para que percebamos que patrimônio é algo que se recupera constantemente?

11. Assinale a alternativa em que a variação da frase – “...somos o país que usa cultura como material de combustão.” – apresenta versão correta, quanto ao uso do pronome, de acordo com a norma-padrão.

- (A) Somos o país do qual usa a cultura como material de combustão.
- (B) Somos o país de que usa cultura como material de combustão.
- (C) Somos o país no qual a cultura é usada como material de combustão.
- (D) Somos o país pelo qual usa a cultura como material de combustão.
- (E) Somos o país que a cultura é usada como material de combustão.

12. As conjunções em destaque nas frases:

- **Quando** eu vejo o montante do fundo partidário, sou percorrido por uma dor muito forte.
- O que mais precisaria queimar no Brasil, **para que** a gente percebesse que patrimônio é algo que se vai para sempre? – assumem, respectivamente, ideia de

- (A) tempo e causa.
- (B) causa e consequência.
- (C) finalidade e concessão.
- (D) tempo e finalidade.
- (E) tempo e conformidade.

Leia trecho da canção *Bom Conselho*, de Chico Buarque, para responder às questões de números 13 a 15.

Ouça um bom conselho
Que eu lhe dou de graça
Inútil dormir que a dor não passa
Espere sentado
Ou você se cansa

Está provado, quem espera nunca alcança
Venha, meu amigo
Deixe esse regaço
Brinque com meu fogo
Venha se queimar
Faça como eu digo
Faça como eu faço
Aja duas vezes antes de pensar (...)

13. De acordo com a canção, é correto afirmar que o eu lírico

- (A) pretende oferecer ao leitor regras para a boa convivência.
- (B) nega a possibilidade de o leitor entender o que ele aconselha.
- (C) recomenda ao leitor não se arriscar irresponsavelmente.
- (D) expressa aceitação dos conselhos legados a todas as gerações.
- (E) sugere ao leitor subverter o que se aprende com o senso comum.

14. Assinale a alternativa com pontuação correta, de acordo com a norma-padrão.

- (A) Ouça um bom conselho, amigo, venha se queimar. Está provado: quem espera, nunca alcança.
- (B) Ouça, um bom conselho, amigo venha se queimar; Está provado quem espera, nunca alcança.
- (C) Ouça um bom conselho amigo, venha se queimar. Está provado quem espera nunca alcança.
- (D) Ouça, um bom conselho amigo, venha se queimar está provado: quem, espera nunca alcança.
- (E) Ouça um bom conselho, amigo venha se queimar; Está provado quem espera nunca, alcança.

15. É correto afirmar sobre o verso – Brinque com meu fogo – que há emprego de sentido

- (A) próprio: é perigoso brincar com fogo e desaconselha-se a sugestão do autor.
- (B) figurado: o autor não se importa com a falta de segurança do amigo.
- (C) próprio: qualquer tipo de fogo acarreta destruição e demanda cuidado.
- (D) próprio: os conselhos do autor merecem crédito e não desconfiança.
- (E) figurado: o autor convida o amigo a compartilhar do seu estado de espírito.

16. Um terreno retangular, cuja frente mede um terço da medida lateral, tem perímetro de 400 metros. Sendo assim, a área desse terreno mede
- (A) 6 500 m².
 - (B) 6 750 m².
 - (C) 7 000 m².
 - (D) 7 250 m².
 - (E) 7 500 m².
17. Em determinada secretaria municipal, a razão entre o número de servidores com até 5 anos de serviços prestados àquele município e o número de servidores com mais de 5 anos de serviços prestados pode ser representada por $\frac{3}{5}$. Sabendo-se que, no total, 104 servidores prestam serviços naquela secretaria, a diferença entre os números de servidores com mais tempo e menos tempo de serviço prestados ao município em questão é igual a
- (A) 25.
 - (B) 26.
 - (C) 27.
 - (D) 28.
 - (E) 29.
18. Um técnico legislativo arquivou, em uma segunda-feira, um terço do total de x documentos que deveria arquivar. Na quarta-feira seguinte, ele arquivou três quintos do que restava para arquivar e, na sexta-feira depois, ele arquivou os 460 documentos restantes. O número de documentos que esse técnico arquivou na quarta-feira foi
- (A) 675.
 - (B) 680.
 - (C) 685.
 - (D) 690.
 - (E) 695.

19. Em um comércio, os valores unitários de venda dos produtos A e B não se modificam em função do número de unidades compradas de cada um desses produtos.

Sabe-se que o valor total necessário para se comprar 5 unidades de um produto A e 9 unidades de um produto B supera em R\$ 180,00 o valor total necessário para se comprar 3 unidades do mesmo produto A e 7 unidades do mesmo produto B. Sendo assim, comprando-se, apenas, uma unidade de cada um desses produtos, se gastará o total de

- (A) R\$ 90,00.
- (B) R\$ 95,00.
- (C) R\$ 100,00.
- (D) R\$ 105,00.
- (E) R\$ 110,00.

20. Um lote contendo 30 mil unidades de determinado produto é produzido por 6 máquinas, todas idênticas e funcionando com a mesma capacidade de produção, trabalhando ao mesmo tempo, de forma ininterrupta, em 5 horas e 30 minutos. Certo dia, uma dessas máquinas quebrou e não pôde ser utilizada. Sendo assim, um lote contendo a mesma quantidade de peças foi produzido nas 5 máquinas, nas mesmas condições, em um período de tempo igual a

- (A) 7 horas e 00 minutos.
- (B) 6 horas e 50 minutos.
- (C) 6 horas e 36 minutos.
- (D) 6 horas e 15 minutos.
- (E) 6 horas e 06 minutos.

21. Um produto teve o seu preço de venda x aumentado em 5%, em determinado ano e, no ano seguinte, o preço desse produto novamente aumentou, de R\$ 42,00 para R\$ 45,20. Sendo assim, com esses dois aumentos, o valor x sofreu um acréscimo de

- (A) R\$ 5,20.
- (B) R\$ 5,30.
- (C) R\$ 5,40.
- (D) R\$ 5,50.
- (E) R\$ 5,60.

22. Três máquinas, A, B e C, produzem o mesmo produto, porém com capacidades de produção distintas: em um mesmo período de tempo, a máquina B produz o dobro de unidades produzidas pela máquina A, e a máquina C produz 10% de unidades a mais do que é produzida pela máquina B. Sabendo-se que, a capacidade de produção da máquina B é de 120 unidades por hora ininterrupta de trabalho, em 3 horas e 15 minutos de trabalho ininterrupto, as três máquinas, juntas, produzirão, com base em suas capacidades, um número total de unidades desse produto igual a

- (A) 990.
- (B) 996.
- (C) 1002.
- (D) 1008.
- (E) 1014.

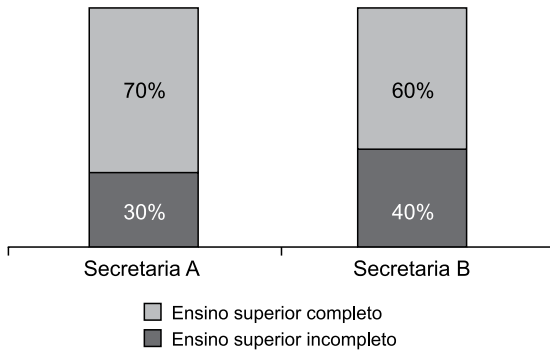
23. Uma fábrica produz 3 tipos diferentes de parafusos, em 3 tipos de máquinas distintas. A cada 40 minutos, uma máquina M_1 produz um lote com 10 mil unidades de um parafuso P_1 ; a cada 36 minutos, uma máquina M_2 produz um lote com 30 mil unidades de um parafuso P_2 ; e, a cada 30 minutos, uma máquina M_3 produz um lote com 20 mil unidades de um parafuso P_3 , todas trabalhando ininterruptamente. Se em determinado instante t as três máquinas iniciarem simultaneamente as produções de seus lotes de parafusos e trabalharem de forma ininterrupta, então é verdade que o número total de parafusos produzidos até a primeira vez em que as três máquinas terminarem, ao mesmo tempo, os lotes que cada uma produz será igual a

- (A) 620 mil.
- (B) 630 mil.
- (C) 640 mil.
- (D) 650 mil.
- (E) 660 mil.

24. Com todos os 126 novos técnicos e 72 novos analistas legislativos, recém incorporados aos quadros de um grande município, em decorrência do último concurso realizado, pretende-se montar o maior número possível de grupos, contendo, cada um, x técnicos e y analistas, para participarem de cursos de capacitação, de modo que cada um desses servidores faça parte de apenas um grupo. Dessa forma, em cada grupo, o número de técnicos deve superar o número de analistas em

- (A) 6 servidores.
- (B) 5 servidores.
- (C) 4 servidores.
- (D) 3 servidores.
- (E) 2 servidores.

25. O gráfico apresenta informações sobre a distribuição do número de servidores de duas secretarias municipais, entre as variáveis ensino superior completo e ensino superior incompleto.



Com base nas informações apresentadas, assinale a alternativa que contém uma informação necessariamente verdadeira, sobre essas secretarias.

- (A) Em ambas as secretarias, o número de servidores com ensino superior incompleto é menor que o número de servidores com o ensino superior completo.
- (B) O número de servidores com o ensino superior incompleto na secretaria A é metade do número de servidores com o ensino superior completo na secretaria B.
- (C) Em ambas as secretarias há o mesmo número de servidores.
- (D) O número de servidores com o ensino superior completo na secretaria A é maior que o número de servidores com o ensino superior completo na secretaria B.
- (E) O número de servidores com o ensino superior incompleto na secretaria A é diferente do número de servidores com o ensino superior incompleto na secretaria B.
26. A tabela apresenta o número de acertos dos 200 candidatos a um cargo, em um concurso interno, composto por uma prova contendo 5 questões de múltipla escolha.

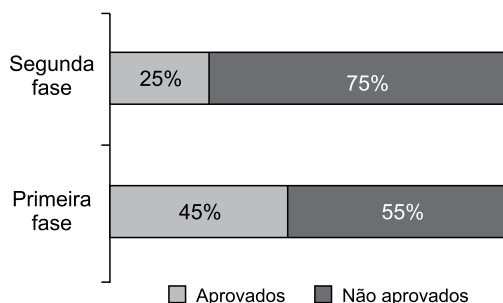
Número de acertos	Número de candidatos
0	8
1	22
2	26
3	32
4	44
5	68

Com base nas informações apresentadas na tabela, é correto afirmar que

- (A) 68 candidatos acertaram a questão de número 5.
- (B) 144 candidatos acertaram, no mínimo, 3 questões.
- (C) 26 candidatos acertaram, no máximo, duas questões.
- (D) mais da metade do número total dos candidatos acertaram menos da metade do número total das questões.
- (E) menos da metade do número total dos candidatos acertaram mais da metade do número total das questões.

27. Carlos e Denise depositaram valores distintos em uma aplicação, totalizando R\$ 12 mil. Ao resgatarem o valor aplicado, o rendimento de Carlos correspondeu a um décimo do valor que ele aplicou, e Denise obteve rendimento de nove décimos do rendimento obtido por Carlos. Se o rendimento do valor total aplicado foi de R\$ 1.425,00, então o valor aplicado por Carlos foi de
- (A) R\$ 7.200,00.
 - (B) R\$ 7.300,00.
 - (C) R\$ 7.400,00.
 - (D) R\$ 7.500,00.
 - (E) R\$ 7.600,00.
30. Um reservatório, com 280 mil litros de água, está sendo esvaziado na razão de 420 litros de água por minuto. O tempo total necessário para que esse reservatório seja totalmente esvaziado é de
- (A) 11 horas, 15 minutos e 20 segundos.
 - (B) 11 horas, 07 minutos e 06 segundos.
 - (C) 11 horas, 06 minutos e 40 segundos.
 - (D) 11 horas, 05 minutos e 15 segundos.
 - (E) 10 horas, 57 minutos e 33 segundos.

28. Considere as informações apresentadas no gráfico, com relação à distribuição dos números de candidatos participantes nas duas fases de um concurso público, entre aprovados e não aprovados.



Sabendo-se que para participar da segunda fase desse concurso público o candidato deve ser aprovado na primeira fase, e que 3 300 candidatos não foram aprovados na primeira fase desse concurso, o número correto dos candidatos que foram aprovados na segunda é igual a

- (A) 371.
 - (B) 480.
 - (C) 675.
 - (D) 743.
 - (E) 825.
29. A média aritmética do lucro obtido em seis dias de vendas, por um estabelecimento comercial, foi de R\$ 3.350,00. Sabendo-se que nos três primeiros dias a soma do lucro foi igual a R\$ 9.950,00, é correto afirmar que a soma do lucro dos três últimos dias foi
- (A) menor que a soma dos lucros dos 3 primeiros dias em R\$ 200,00.
 - (B) menor que a soma dos lucros dos 3 primeiros dias em R\$ 100,00.
 - (C) igual à soma dos lucros dos 3 primeiros dias.
 - (D) maior que a soma dos lucros dos 3 primeiros dias em R\$ 100,00.
 - (E) maior que a soma dos lucros dos 3 primeiros dias em R\$ 200,00.

R A S C U N H O

LEGISLAÇÃO

- 31.** Conforme dispositivos da Lei Orgânica do Município de Serrana, o Município tem como competência comum com a União e o Estado, entre outras, a seguinte atribuição:
- (A) dispor sobre a administração, utilização e alienação de seus bens.
 - (B) estabelecer as servidões necessárias aos seus serviços.
 - (C) cuidar da saúde e assistência públicas, da proteção e garantia das pessoas com deficiência.
 - (D) promover e incentivar o turismo local, como fator de desenvolvimento social e econômico.
 - (E) prover sobre limpeza das vias e logradouros públicos, remoção e destinação do lixo domiciliar e de outros resíduos de qualquer natureza.
- 32.** A permissão de uso de bens municipais que poderá incidir sobre qualquer bem público, de acordo com o que determina a Lei Orgânica do Município de Serrana, será feita a título
- (A) precário e dependerá de lei específica.
 - (B) precário, por decreto.
 - (C) precário e dependerá de autorização legislativa.
 - (D) transitório para uso específico, por decreto.
 - (E) oneroso e sempre dependerá de portaria do legislativo.
- 33.** De acordo com a Lei Orgânica do Município de Serrana, no que diz respeito às Deliberações da Câmara Municipal, assinale a alternativa correta.
- (A) A discussão e a votação da matéria constante da ordem do dia poderão ser efetuadas com a presença de qualquer número dos membros da Câmara.
 - (B) A aprovação da matéria colocada em discussão dependerá do voto favorável da maioria absoluta dos vereadores, ressalvados os casos previstos em outras leis.
 - (C) O vereador que tiver interesse pessoal na deliberação não poderá votar, sob pena de nulidade, se o seu voto não for declarado.
 - (D) O vereador que tiver interesse pessoal na deliberação não poderá votar, sob pena de nulidade, se o seu voto for decisivo.
 - (E) O voto será sempre secreto nas deliberações da Câmara.
- 34.** Roberto, que é Vereador na Câmara Municipal de Serrana, pretende se licenciar para ocupar o cargo de Secretário Municipal. No caso, e em obediência aos preceitos contidos na Lei Orgânica do Município, é correto afirmar que a licença pretendida
- (A) não depende de requerimento oficial.
 - (B) depende de aprovação do Plenário da Câmara.
 - (C) lhe garante o direito ao recebimento dos subsídios devidos por ser Vereador.
 - (D) não lhe dá o direito de reassumir o cargo de Vereador no mesmo período legislativo.
 - (E) lhe garante o direito de se considerar automaticamente licenciado, podendo optar pela remuneração do mandato.
- 35.** Em relação às Comissões Permanentes, conforme disciplina o Regimento Interno da Câmara Municipal de Serrana, assinale a alternativa correta.
- (A) São Comissões Permanentes as criadas para apreciar assunto específico, que se extinguem com o término da legislatura, ou antes dele.
 - (B) As Comissões Permanentes da Câmara são em número de 05 (cinco) e, cada uma será composta por 03 (três) Vereadores.
 - (C) A Comissão de Finanças e Orçamento tem competência para reconhecer como de utilidade pública outras entidades privadas.
 - (D) Os membros das Comissões Permanentes serão destituídos caso não compareçam a 04 (quatro) reuniões ordinárias consecutivas, durante o período de dois meses legislativos.
 - (E) A destituição se dará por simples petição do Presidente da Comissão ou de pelo menos dois Vereadores, dirigida ao Prefeito.
- 36.** O Regimento Interno da Câmara Municipal de Serrana estabelece que requerimento é todo pedido dirigido por Vereador ou Comissão ao Presidente ou à Mesa sobre matéria de competência da Câmara e serão em regra apresentados por escrito, em Plenário para deliberação. Assinale a alternativa que contenha um exemplo de requerimento que deverá ser apresentado por escrito.
- (A) retirada de proposição já colocada sob deliberação do Plenário.
 - (B) dispensa de leitura da matéria para votação.
 - (C) permissão para falar sentado.
 - (D) verificação nominal de votação.
 - (E) encerramento de discussão.

37. Assinale a alternativa que está em consonância com o disposto no Regimento Interno da Câmara Municipal de Serrana.

- (A) As proposições serão apresentadas por escrito, diretamente ao Secretário da Câmara que as encaminhará à Mesa.
- (B) Os relatórios das Comissões Permanentes serão apresentados nos próprios processos e protocolados na Secretaria da Câmara Municipal.
- (C) As emendas à proposta orçamentária, à lei de diretrizes orçamentárias e ao plano plurianual serão oferecidas no prazo de 10 (dez) dias a partir da inserção da matéria no expediente da sessão plenária.
- (D) As emendas aos projetos de codificação serão apresentadas no prazo de até 10 (dez) dias à Comissão de Legislação, Justiça e Redação, a partir da data em que foram elaboradas.
- (E) O Presidente ou a Mesa deverão aceitar todas as proposições, mesmo que sejam apresentadas por Vereador licenciado ou afastado.

38. Maria, que é servidora pública municipal, foi transferida para outra localidade, distinta daquela em que exerce suas funções. Nos termos da Lei Complementar nº 300/2012, para entrar em exercício na nova localidade terá o prazo de até

- (A) 10 (dez) dias, excluído o prazo para o deslocamento até a nova sede.
- (B) 10 (dez) dias úteis, incluído o prazo para o deslocamento até a nova sede.
- (C) 20 (vinte) dias, incluído o prazo para deslocamento até a nova sede.
- (D) 30 (trinta) dias, incluindo nesse prazo o tempo necessário ao deslocamento para a nova sede.
- (E) 35 (trinta e cinco) dias, incluindo nesse prazo o tempo necessário ao deslocamento para a nova sede.

39. O ato pelo qual o servidor aposentado reingressa no serviço público a pedido ou de ofício, de acordo com o Estatuto dos Servidores Públicos Municipais de Serrana, denomina-se

- (A) aproveitamento.
- (B) disponibilidade.
- (C) reintegração.
- (D) redistribuição.
- (E) reversão.

40. O Estatuto dos Servidores Públicos Municipais de Serrana disciplina que o servidor investido em mandato eletivo,

- (A) ficará afastado do cargo quando se tratar de mandato federal ou estadual.
- (B) investido no mandato de Prefeito, será afastado do cargo, não podendo optar pela remuneração.
- (C) investido no mandato de vereador, havendo compatibilidade de horário, poderá optar pela remuneração.
- (D) investido no mandato de vereador e não havendo compatibilidade de horário, ficará afastado de seu cargo e somente receberá a remuneração do mandato eletivo.
- (E) em todos os casos de afastamento ou não do cargo, o servidor em mandato eletivo ficará dispensado da contribuição para a Seguridade Social.

NOÇÕES DE INFORMÁTICA

41. Tem-se a seguinte imagem ilustrativa da hierarquia da pasta Projetos e suas subpastas, do Microsoft Windows 7, em sua configuração original.

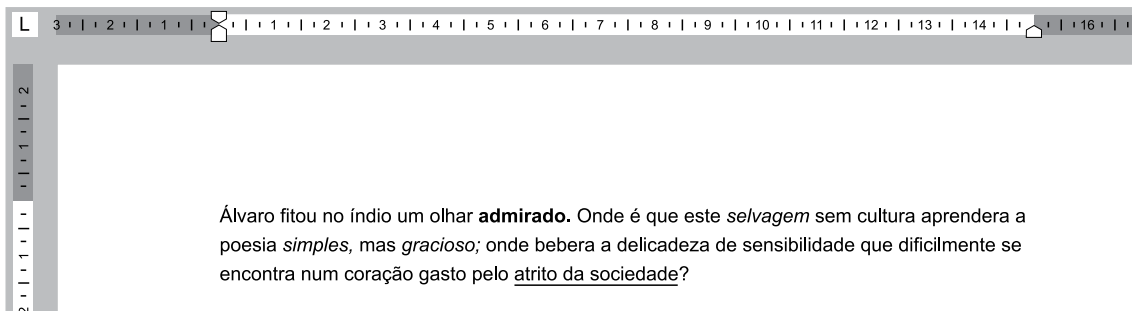


Considerando que o arquivo texto tarefas.txt só existe na pasta Projetos, assinale a alternativa que indica onde o arquivo tarefas.txt estará, quando o usuário clicar sobre ele com o botão principal do mouse e, mantendo o botão pressionado, o arrastar para a pasta 201801, sem pressionar nenhuma tecla no teclado.

- (A) Projetos, 201801 e Controle.
- (B) Projetos e 201801, apenas.
- (C) 201801, 201802, 201803, 201804, 201805, 201806, apenas.
- (D) 201801, apenas.
- (E) Controle, apenas.

42. Usando o Microsoft Windows 7, em sua configuração original, um usuário abriu o aplicativo Paint. Em seguida, abriu o Bloco de Notas. Finalmente, abriu o WordPad. Todos foram abertos com a janela maximizada. Ao pressionar ALT+TAB uma vez, para colocar em primeiro plano o Bloco de Notas, e minimizar essa janela do Bloco de Notas, assinale a alternativa que indica qual aplicativo aparece em primeiro plano.
- (A) WordPad.
 - (B) Bloco de Notas.
 - (C) Paint.
 - (D) Área de Trabalho.
 - (E) Área de Transferência.
43. Um usuário está editando um documento de 10 páginas no Microsoft Word 2010, em sua configuração original. Com o cursor no meio da página 5, assinale a alternativa que indica a posição do cursor após o usuário pressionar CTRL+Page Up.
- (A) Página 1, início do documento.
 - (B) Página 4, início da página.
 - (C) Página 5, início da página.
 - (D) Página 5, início do parágrafo onde está o cursor.
 - (E) Página 10, final do documento.

44. Tem-se o seguinte documento sendo editado no Microsoft Word 2010, em sua configuração padrão.



Observe que o texto contém algumas palavras com formatação em negrito, itálico ou sublinhado. Assinale a alternativa que indica o resultado correto ao selecionar todo o texto e depois clicar no ícone de formatação em negrito.

- (A) **Álvaro fitou no índio um olhar admirado. Onde é que este selvagem sem cultura aprendera a poesia simples, mas gracioso; onde bebera a delicadeza de sensibilidade que dificilmente se encontra num coração gasto pelo atrito da sociedade?**
- (B) **Álvaro fitou no índio um olhar admirado. Onde é que este selvagem sem cultura aprendera a poesia simples, mas gracioso; onde bebera a delicadeza de sensibilidade que dificilmente se encontra num coração gasto pelo atrito da sociedade?**
- (C) **Álvaro fitou no índio um olhar admirado. Onde é que este selvagem sem cultura aprendera a poesia simples, mas gracioso; onde bebera a delicadeza de sensibilidade que dificilmente se encontra num coração gasto pelo atrito da sociedade?**
- (D) **Álvaro fitou no índio um olhar admirado. Onde é que este selvagem sem cultura aprendera a poesia simples, mas gracioso; onde bebera a delicadeza de sensibilidade que dificilmente se encontra num coração gasto pelo atrito da sociedade?**
- (E) **Álvaro fitou no índio um olhar admirado. Onde é que este selvagem sem cultura aprendera a poesia simples, mas gracioso; onde bebera a delicadeza de sensibilidade que dificilmente se encontra num coração gasto pelo atrito da sociedade?**

45. Tem-se a seguinte planilha criada no Microsoft Excel 2010, em sua configuração original.

	A
1	10
2	18
3	3
4	20
5	20
6	13
7	
8	

Assinale a alternativa com o resultado correto da fórmula =MAIOR(A1:A6;3), a ser inserida na célula A8.

- (A) 3
- (B) 13
- (C) 18
- (D) 20
- (E) 58

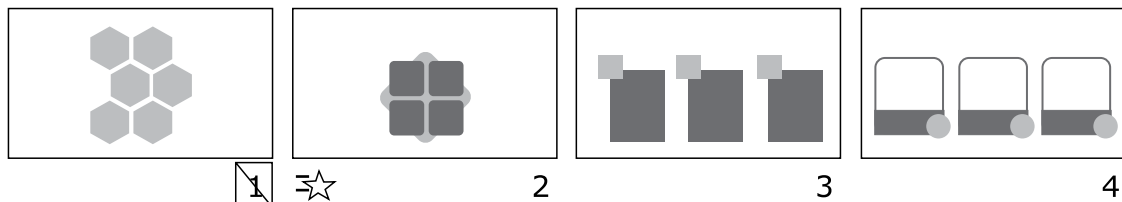
46. Tem-se a seguinte planilha criada no Microsoft Excel 2010, em sua configuração padrão.

	A	B	C	D
1	Nome	Data de nascimento	Data da Admissão	Tempo de trabalho
2	Aguinaldo Lima	06/11/1970	19/10/1998	20
3	Aires Vilas Boas	05/06/1971	19/10/1998	20
4	Almeno Lages	15/04/1974	05/07/2000	18
5	Anabela Quadros	22/01/1983	05/05/2003	15
6	Bruno Canedo	11/10/1976	08/05/2006	12

Considerando que as células D2 até D6 estão formatadas como número, sem casas decimais, assinale a alternativa que contém a fórmula correta na célula D2 e que pode ser copiada até a célula D6, para apresentar o tempo de trabalho, partindo da data de admissão, sempre de forma atualizada, em anos.

- (A) =C2-AGORA()
- (B) =C2-AGORA()/360
- (C) =DIAS360(C2)
- (D) =C2/360
- (E) =INT((AGORA()-C2)/360)

47. Tem-se a seguinte apresentação de slides criada no Microsoft PowerPoint 2010, em sua configuração original.



Observe que o slide 1 está oculto e que há uma transição de slides configurada no slide 2. Considerando que não há nenhuma animação configurada nas AutoFormas contidas na apresentação, ao iniciar o modo de apresentação pressionando a tecla F5, a apresentação

- (A) se inicia pelo slide 2, mas sem a transição de slides.
- (B) se inicia pelo slide 1, exibindo a transição de slides para o slide 2 assim que for pressionado ENTER.
- (C) se inicia pelo slide 2, apresentando de imediato a transição de slides.
- (D) se inicia pelo slide 1, mas sem exibir a transição de slides para o slide 2 assim que for pressionado ENTER.
- (E) se inicia pelo slide 2, exibindo a transição de slides para o slide 3 assim que for pressionado ENTER.

48. No Microsoft Powerpoint 2010, em sua configuração padrão, um slide pode ser configurado como oculto. No entanto, se o usuário desejar retirar essa configuração de slide oculto, ele deve selecionar o slide no painel de navegação à esquerda e

- (A) clicar com o botão invertido do mouse e selecionar a opção Ocultar Slide.
- (B) pressionar CTRL+C e depois CTRL+V.
- (C) pressionar CTRL+A.
- (D) clicar com o botão invertido do mouse e selecionar a opção Reiniciar Slide.
- (E) clicar com o botão invertido do mouse e selecionar a opção Adicionar Seção.

49. Assinale a alternativa que indica o termo de busca utilizado no site do Google que trará a menor quantidade de resultados possíveis.

- (A) "camara" "municipal" "de" "serrana"
- (B) "camara municipal de serrana"
- (C) camara municipal de serrana
- (D) [camara municipal de serrana]
- (E) -camara municipal de serrana-

50. Um usuário preparou uma mensagem de correio eletrônico no Microsoft Outlook 2010, em sua configuração original, com as seguintes características:

Para: danilo@empresa.com.br

Cc: andreia@empresa.com.br; rogerio@empresa.com.br

Cco: roberto@empresa.com.br

Anexo: contrato.pdf

Considerando que a mensagem foi enviada e entregue com sucesso, assinale a alternativa que indica qual(is) usuário(s) recebeu(ram) o anexo.

- (A) Danilo, apenas.
- (B) Roberto, apenas.
- (C) Andreia, Rogerio, apenas.
- (D) Danilo, Andreia, Rogerio, apenas.
- (E) Danilo, Andreia, Rogerio e Roberto.

