



PREFEITURA MUNICIPAL DE ITAPEVI

ESTADO DE SÃO PAULO

CONCURSO PÚBLICO

037. PROVA OBJETIVA

AUDITOR FISCAL TRIBUTÁRIO

- ◆ Você recebeu sua folha de respostas e este caderno contendo 50 questões objetivas.
- ◆ Confira seus dados impressos na capa deste caderno e na folha de respostas.
- ◆ Quando for permitido abrir o caderno, verifique se está completo ou se apresenta imperfeições. Caso haja algum problema, informe ao fiscal da sala.
- ◆ Leia cuidadosamente todas as questões e escolha a resposta que você considera correta.
- ◆ Marque, na folha de respostas, com caneta de tinta preta, a letra correspondente à alternativa que você escolheu.
- ◆ A duração da prova é de 3 horas, já incluído o tempo para o preenchimento da folha de respostas.
- ◆ Só será permitida a saída definitiva da sala e do prédio após transcorridos 75% do tempo de duração da prova.
- ◆ Ao sair, você entregará ao fiscal a folha de respostas e este caderno, podendo levar apenas o rascunho de gabarito, localizado em sua carteira, para futura conferência.
- ◆ Até que você saia do prédio, todas as proibições e orientações continuam válidas.

AGUARDE A ORDEM DO FISCAL PARA ABRIR ESTE CADERNO DE QUESTÕES.

Nome do candidato _____

RG _____

Inscrição _____

Prédio _____

Sala _____

Carteira _____

CONHECIMENTOS GERAIS

LÍNGUA PORTUGUESA

Leia o texto para responder às questões de números **01** a **09**.

“Tire suas próprias conclusões”

Essa é a frase que mais tenho ouvido recentemente. Passada a euforia de uma notícia qualificada como “bomba”, logo os atores de uma das partes corriam a público para disponibilizar a íntegra daquilo que antes foi veiculado em partes.

É preciso saber de tudo e entender de tudo. É preciso tirar as próprias conclusões para não depender de ninguém, e é esse o grande e contraditório imperativo dos nossos tempos. É uma ordem a uma experimentação libertária, e uma quase contradição do termo. O imperativo que liberta também aprisiona: você só passa a ser, ou a pertencer, se tiver uma conclusão. Sobre qualquer coisa.

Nas últimas décadas psicanalistas se debruçaram sobre as mudanças nos arranjos produtivos e sociais de cada período histórico para compreender e nomear as formas de sofrimento decorrentes delas. A revolução industrial, a divisão social do trabalho, a urbanização desenfreada e as guerras, por exemplo, fizeram explodir o número de sujeitos impacientes, irritadiços e perturbados com a velocidade das transformações e suas conseqüentes perdas de referências simbólicas.

Pensando sobre o imperativo “Leia/Veja/Assista” e “Tire suas próprias conclusões”, começo a desconfiar de que estamos diante de uma nova forma de sofrimento relacionado a um mal-estar ainda não nomeado.

Afinal, que tipo de sujeito está surgindo de nossa nova organização social? O que a vida em rede diz sobre as formas como nos relacionamos com o mundo? Que tipos de valores surgem dali? E, finalmente, que tipo de sofrimento essa vida em rede tem causado?

Vou arriscar e sair correndo, já sob o risco de percorrer um campo que não é meu: estamos vendo surgir o sujeito preso à ideia da obrigação de ter algo a dizer. Ao longo dos séculos essa angústia era comum aos chamados formadores de opinião e artistas, responsáveis por reinterpretar o mundo. Hoje basta ter um celular com conexão 3G para ser chamado a opinar sobre qualquer coisa. Pensamos estar pensando mesmo quando estamos apenas terceirizando convicções ao compartilhar aquilo que não escrevemos.

É uma nova versão de um conflito descrito por Clarice Lispector a respeito da insuficiência da linguagem. Algo como: “Não só não consigo dizer o que penso como o que penso passa a ser o que digo”. Se vivesse nas redes que atribuem a ela frases que jamais disse, o “dizer” e o “pensar” teriam a interlocução de um outro verbo: “compartilhar”.

(Matheus Pichonelli, *Carta Capital*. 18.03.2016.
www.cartacapital.com.br. Adaptado)

01. Na opinião do autor, o mal-estar provado pelos indivíduos atualmente está relacionado com
 - (A) a obrigação de produzir conteúdos que sejam instigantes e inéditos.
 - (B) o imperativo de consultar fontes de informação dignas de credibilidade.
 - (C) a exigência de ter de emitir uma opinião sobre qualquer assunto.
 - (D) a perda de referências simbólicas que impulsionou a revolução industrial.
 - (E) o fato de não haver valores éticos sólidos balizando os formadores de opinião.
02. No contexto do segundo parágrafo, a “experimentação libertária” refere-se
 - (A) a uma pretensa liberdade de interpretação sem intermediários.
 - (B) ao acesso aos canais de comunicação mais atualizados.
 - (C) a uma característica peculiar às notícias impactantes.
 - (D) à experiência de criar publicações que gerem controvérsia.
 - (E) à liberdade que a imprensa tem de defender sua ideologia.
03. No sexto parágrafo, o verbo **pensar** em “Pensamos estar pensando...” veicula, em cada ocorrência respectivamente, sentidos que equivalem a
 - (A) lembrar e corroborar uma opinião.
 - (B) refutar uma ideia e elucidar.
 - (C) induzir a erro e suscitar uma impressão.
 - (D) fantasiar e agir com intransigência.
 - (E) supor e conceber uma ideia.
04. Da menção ao conflito descrito por Clarice Lispector, no último parágrafo, deduz-se o seguinte:
 - (A) para o autor, Clarice Lispector estava equivocada ao ignorar a importância do “compartilhar” como intermediário entre o “dizer” e o “pensar”.
 - (B) ao se exprimir com exatidão o pensamento, a insuficiência da linguagem é superada, ainda que provisoriamente.
 - (C) quando o pensamento é traduzido em palavras, e essas palavras são partilhadas, exaltam-se os valores morais da sociedade.
 - (D) não é possível expressar com exatidão o que pensamos, e nos iludimos ao crer que o que dizemos equivale ao que pensamos.
 - (E) o “pensar” adquire valor a partir do momento em que encontra um equivalente no “dizer” e assume forma ao ser compartilhado.

05. Assinale a alternativa em que a segunda expressão destacada denota, no contexto, um evento posterior ao designado pela primeira expressão destacada.
- (A) Passada a euforia de uma notícia **qualificada** como “bomba”, logo os atores de uma das partes **corriam** a público para disponibilizar a íntegra daquilo que antes foi veiculado em partes. (1º parágrafo)
- (B) É preciso **saber** de tudo e **entender** de tudo. (2º parágrafo)
- (C) O imperativo que **liberta** também **aprisiona**: você só passa a ser, ou a pertencer, se tiver uma conclusão. (2º parágrafo)
- (D) **Pensando** sobre o imperativo “Leia/Veja/Assista” e “Tire suas próprias conclusões”, começo a desconfiar de que **estamos** diante de uma nova forma de sofrimento relacionado a um mal-estar ainda não nomeado. (4º parágrafo)
- (E) O que a vida em rede **diz** sobre as formas como **nos relacionamos** com o mundo? (5º parágrafo)
06. No trecho – ... **você só** passa a ser, ou a pertencer, **se** tiver uma conclusão. (2º parágrafo) –, os vocábulos **você, só e se** contêm, respectivamente, os seguintes sentidos:
- (A) especificação; limitação; concessão.
- (B) indeterminação; isolamento; modo.
- (C) identificação; condição; reciprocidade.
- (D) indefinição; restrição; condição.
- (E) apelo; ênfase; finalidade.
07. A passagem do texto que, após o acréscimo da vírgula, está de acordo com a norma-padrão é:
- (A) Essa é a frase que, mais tenho ouvido recentemente. (1º parágrafo)
- (B) É preciso tirar as próprias conclusões, para não depender de ninguém... (2º parágrafo)
- (C) Nas últimas décadas psicanalistas se debruçaram, sobre as mudanças nos arranjos produtivos e sociais de cada período histórico... (3º parágrafo)
- (D) Ao longo dos séculos essa angústia era comum aos chamados, formadores de opinião e artistas, responsáveis por reinterpretar o mundo. (6º parágrafo)
- (E) Hoje basta ter um celular com conexão 3G para ser chamado, a opinar sobre qualquer coisa. (6º parágrafo)
08. Assinale a alternativa em que o trecho entre colchetes substitui o destacado, independentemente do sentido e de acordo com a norma-padrão de concordância.
- (A) Essa é a frase que mais **tenho ouvido** recentemente. [tem sido ouvido por mim]
- (B) ... corriam a público para disponibilizar a íntegra **daquilo que antes foi veiculado** em partes. [das notícias que antes se veicularam]
- (C) **Nas últimas décadas** psicanalistas se debruçaram sobre as mudanças... [Fazem algumas décadas que]
- (D) Que tipos de valores **surgem** dali? [são possível surgir]
- (E) Pensamos estar pensando mesmo quando **estamos apenas terceirizando convicções**... [houverem apenas convicções sendo terceirizadas]
09. Considere o trecho: O imperativo que **liberta** também **aprisiona**: você só passa a ser, ou a pertencer, se tiver uma conclusão. **Sobre** qualquer coisa. (2º parágrafo)
- Respeitando-se as regras de regência nominal e preservando-se o sentido original, o vocábulo destacado pode ser substituído por
- (A) De acordo com
- (B) De encontro a
- (C) Acima de
- (D) Em virtude de
- (E) A respeito de
10. Assinale a alternativa redigida em conformidade com a norma-padrão quanto às regras de regência e à ocorrência da crase.
- (A) Telejornais apresentam à população um resumo dos eventos que lhe despertaram interesse nas redes sociais.
- (B) Indivíduos são chamados à tirar suas conclusões sobre fatos que os são apresentados diariamente.
- (C) Cada vez mais têm chegado à mim frases das quais me fazem refletir sobre os valores da sociedade atual.
- (D) É inegável que às redes sociais influenciam o modo como interagimos com o mundo e o damos sentido.
- (E) Tem sido comum pessoas compartilharem informações de maneira instantânea, sem analisar-lhes à fundo.

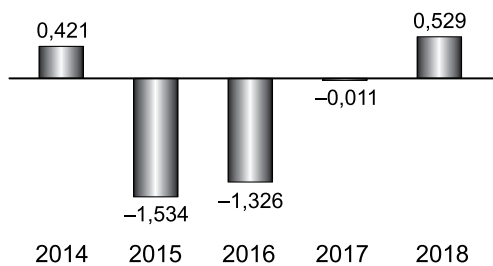
11. Um reservatório continha, inicialmente, x litros de água. Com a adição de mais 150 litros, a quantidade de água inicial foi aumentada em $\frac{3}{5}$ e passou a ser igual a $\frac{2}{5}$ da capacidade total do reservatório. A capacidade total desse reservatório é de
- (A) 1250 litros.
 - (B) 1150 litros.
 - (C) 1000 litros.
 - (D) 950 litros.
 - (E) 900 litros.
12. A quantidade de metros de fio elétrico de um rolo, que não chega a 40 m, deverá ser dividida em pedaços iguais, de mesmo comprimento. Sabe-se que se os pedaços tiverem comprimento de 4 m, ou de 6 m, ou de 9 m, sempre restarão 2 m de fio no rolo. Se o electricista decidir obter o número máximo de pedaços iguais, com 7,5 m de comprimento cada um, a quantidade de fio que restará no rolo será igual a
- (A) 0,5 m.
 - (B) 1 m.
 - (C) 1,5 m.
 - (D) 1,75 m.
 - (E) 2,5 m.
13. Determinada mistura é formada por 1,6 kg do componente A e por 0,9 kg do componente B. Sabendo-se que cada 200 gramas de A e cada 200 gramas de B custam, respectivamente, R\$ 4,50 e R\$ 6,00, é correto afirmar que o custo de 0,75 kg dessa mistura é igual a
- (A) R\$ 18,90.
 - (B) R\$ 26,50.
 - (C) R\$ 33,75.
 - (D) R\$ 40,50.
 - (E) R\$ 47,25.

14. De acordo com o monitoramento por satélites feito pelo Instituto Nacional de Pesquisas Espaciais, de agosto de 2017 a julho de 2018 foram desmatados 6675 km² no bioma Cerrado, configurando uma redução de 11% em relação à área desmatada de agosto de 2016 a julho de 2017 que, por sua vez, havia apresentado um crescimento de 9% em relação à área desmatada de agosto de 2015 a julho de 2016.

A área desmatada no Cerrado, de agosto de 2015 a julho de 2016 foi de, aproximadamente,

- (A) 5980 km².
- (B) 6250 km².
- (C) 6760 km².
- (D) 6880 km².
- (E) 7170 km².

15. No gráfico a seguir estão representados, em milhões de vagas, os saldos anuais (criação menos fechamento) do número de postos de trabalho com carteira assinada no Brasil, referentes aos anos de 2014 a 2018.

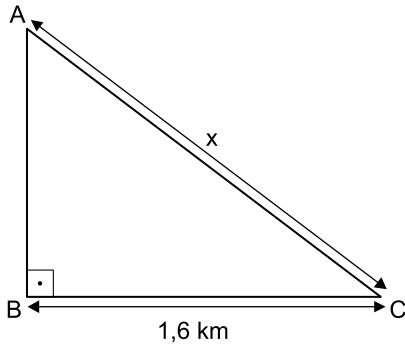


(Cadastro Geral de Empregados e Desempregados.
O Estado de S.Paulo, 24.01.2019)

De acordo com os dados do gráfico, é correto afirmar que, no período considerado, o valor da média aritmética dos saldos anuais de postos de trabalho representa o fechamento de

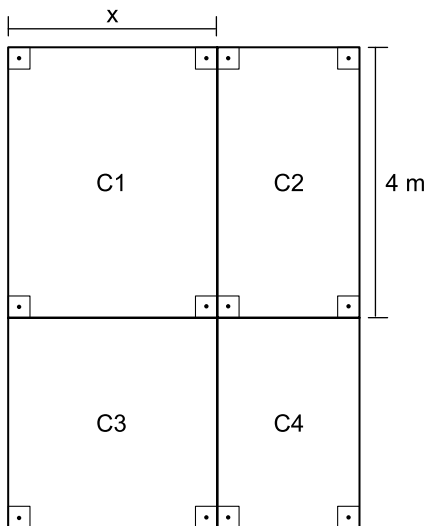
- (A) 957 000 vagas.
- (B) 764 200 vagas.
- (C) 574 200 vagas.
- (D) 479 000 vagas.
- (E) 384 200 vagas.

16. Uma gleba destinada a reflorestamento tem a forma de um triângulo retângulo ABC, conforme mostra a figura.



Se a área dessa gleba é $0,96 \text{ km}^2$, então a medida do lado AC, indicada por x na figura, é igual a

- (A) 2,2 km.
 (B) 2,1 km.
 (C) 2 km.
 (D) 1,9 km.
 (E) 1,8 km.
17. Um jardim, de formato retangular, é formado por 4 canteiros distintos, C1, C2, C3 e C4, sendo C3 quadrado e C1, C2 e C4, retangulares, conforme mostra a figura, cujas dimensões indicadas estão em metros.



Sabe-se que a área do canteiro C4 é igual à metade da área do canteiro C1, e que a soma das áreas de ambos é igual a 18 m^2 . Nessas condições, é correto afirmar que o perímetro desse jardim é igual a

- (A) 26 m.
 (B) 24 m.
 (C) 22 m.
 (D) 20 m.
 (E) 18 m.

18. Ricardo abasteceu o tanque de combustível de seu carro com gasolina e etanol, na razão de 1 para 4, nessa ordem. Se ele tivesse colocado 4 litros de gasolina a mais e 4 litros de etanol a menos, a razão entre o número de litros de gasolina e o número de litros de etanol passaria a ser $\frac{1}{2}$.

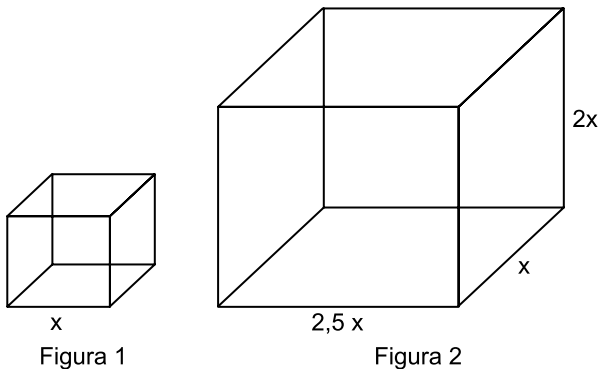
O número total de litros de combustível colocados nesse abastecimento foi

- (A) 40.
- (B) 36.
- (C) 32.
- (D) 30.
- (E) 28.

19. Uma comissão formada por professores de Matemática e de Português, num total de 26 professores, elaborou um total de 150 questões para treinamento de vestibulandos. Sabe-se que cada professor de português elaborou 7 questões e cada professor de Matemática elaborou 5 questões. Nessa comissão, o número de professores de Português corresponde, do número de professores de Matemática, a

- (A) 38,5%
- (B) 44%
- (C) 50,5%
- (D) 56%
- (E) 62,5%

20. Considere um recipiente cúbico e um recipiente com formato de bloco reto retangular, ambos inicialmente vazios, cujas medidas das arestas internas estão mostradas nas figuras 1 e 2, respectivamente.



Com vazão constante, uma torneira enche totalmente o recipiente cúbico, sem transbordar, em 40 minutos. Aberta nas mesmas condições, essa mesma torneira irá encher totalmente o recipiente com formato de bloco retangular, sem transbordar, em

- (A) 3 horas e 40 minutos.
- (B) 3 horas e 20 minutos.
- (C) 3 horas e 10 minutos.
- (D) 2 horas e 40 minutos.
- (E) 2 horas e 20 minutos.

21. Entre 311 concorrentes, o prêmio Nobel da Paz de 2018 foi concedido hoje [05.out] a uma dupla: o congolês Denis Mukwege e a ativista do povo yazidi Nadia Murad.

(Agência Brasil. <https://bit.ly/2Nr3oAK>. Acesso em 25.jan.2019. Adaptado)

Os ganhadores do prêmio tiveram destaque

- (A) na defesa das liberdades individuais e, principalmente, dos imigrantes e refugiados africanos.
- (B) no combate à pobreza das populações que habitam os países subdesenvolvidos.
- (C) na defesa dos direitos humanos das minorias étnicas em países em conflitos armados.
- (D) nos esforços para acabar com o uso da violência sexual como arma de guerra e conflito armado.
- (E) nas campanhas de erradicação do analfabetismo entre crianças trabalhadoras.

22. Em 14 de novembro, a máquina mais cara e sofisticada da ciência brasileira começou a testar suas turbinas. O projeto já consumiu cerca de R\$ 1,3 bilhão (de um total previsto de R\$ 1,8 bilhão) e, quando ficar pronto, colocará o país na vanguarda das pesquisas que utilizam esse tipo de artefato, como as que envolvem a visualização em altíssima resolução de estruturas de vírus e proteínas (em busca de novas vacinas), de solo (com a ideia de aprimorar fertilizantes) e de rochas e de novos materiais (para melhorar a exploração de gás e petróleo), entre outras.

(Folha de S.Paulo. <https://bit.ly/2G1oHbX>. Acesso em 25.jan.2019. Adaptado)

O texto destaca a inauguração do acelerador de partículas que está sendo construído

- (A) em Campinas (SP).
- (B) na Base de Alcântara (MA).
- (C) no Rio de Janeiro (RJ).
- (D) em Curitiba (PR).
- (E) em Porto Alegre (RS).

23. “Este é o melhor acordo possível.”

A premiê britânica, Theresa May, tem repetido há semanas essa frase na tentativa de convencer o Parlamento de seu país a aprovar o acordo que ela negociou com a União Europeia, estabelecendo os termos do *Brexit* - o processo de saída do Reino Unido do bloco.

Mas, na segunda-feira [17.dez], a premiê adiou indefinidamente a votação do acordo no Parlamento, reconhecendo que ele seria rejeitado pela maioria dos parlamentares britânicos

(G1. <https://glo.bo/2FTOmUF>. Acesso em 24.jan.2019. Adaptado)

Tem sido considerado como o ponto mais delicado do acordo para viabilizar o *Brexit*

- (A) o retorno imediato dos cidadãos europeus que vivem no Reino Unido para os seus países de origem, fato que provocaria forte déficit de mão de obra no Reino Unido.
- (B) a rápida desvalorização da libra nos mercados europeu e mundial, fato que provocaria forte abalo econômico-financeiro para todo o Reino Unido.
- (C) o fechamento da fronteira entre a Irlanda do Norte (parte do Reino Unido) e a Irlanda, fato que retomaria antigas tensões entre norte-irlandeses e irlandeses.
- (D) a perda do prestígio político do Reino Unido frente à Europa, o que inviabilizaria a permanência do país na OTAN (Organização do Tratado do Atlântico Norte).
- (E) a obrigação do governo britânico em continuar recebendo grupos de refugiados do Oriente Médio e África mesmo após a saída do bloco econômico europeu.

24. Em 05 de dezembro, o Instituto Brasileiro de Geografia e Estatística (IBGE) divulgou uma pesquisa denominada Síntese de Indicadores Sociais (SIS) que utiliza e compara dados socioeconômicos dos dois últimos anos para retratar a situação atual da população brasileira.

(G1. <https://glo.bo/2KX2fRR>. Acesso em 29.jan.2019. Adaptado)

A pesquisa mostrou que

- (A) o trabalho com carteira assinada cresceu entre os jovens.
- (B) a diferença salarial entre homens e mulheres foi reduzida.
- (C) o trabalho infantil apresentou expressivo declínio.
- (D) a proporção de crianças no conjunto da população aumentou.
- (E) a desigualdade social e a pobreza tiveram aumento.

25. O recém-empossado presidente da República, Jair Bolsonaro, assinou, nesta terça-feira (02.01), três decretos e uma medida provisória. Dentre as primeiras ações tomadas está a Medida Provisória (MP) que reestrutura a Esplanada dos Ministérios e estabelece a organização básica dos órgãos da presidência da República e dos ministérios. O documento confirma a estrutura de governo já anunciada, com 22 pastas, algumas delas com competências ampliadas.

(UOL. <https://bit.ly/2Upz5hO>. Acesso em 25.jan.2019. Adaptado)

Na nova estrutura ministerial destaca-se o Ministério

- (A) da Agricultura, Pecuária e Abastecimento que incorpora as políticas de criação e conservação da infraestrutura.
- (B) da Cidadania que incorpora as ações que envolvem o desenvolvimento social, a cultura e os esportes.
- (C) das Relações Exteriores que incorpora o comércio internacional e os estudos sobre a balança comercial.
- (D) da Justiça que incorpora a regulamentação das políticas dos direitos humanos e a demarcação de terras indígenas.
- (E) do Meio Ambiente que incorpora setores da tecnologia e pesquisa de fontes de energia renováveis.


NOÇÕES DE INFORMÁTICA

26. Considere a janela do WordPad no MS-Windows 7, em sua configuração original, apresentada a seguir na qual se verifica a tentativa de se editar um arquivo.



O WordPad não conseguiu interpretar o arquivo porque se trata de um(a)

- (A) planilha eletrônica do Excel e o WordPad entende documentos XML.
- (B) documento do Word e o WordPad entende documentos de texto sem formatação.
- (C) apresentação do PowerPoint e o WordPad entende documentos com extensão RTF.
- (D) página Web e o WordPad entende imagens JPG.
- (E) imagem JPG e o WordPad entende páginas Web.

27. Assinale a alternativa que contém pelo menos uma palavra formatada pelo ícone , encontrado no grupo Fonte da guia Página Inicial, e sublinhada no MS-Word 2010, em sua configuração padrão.

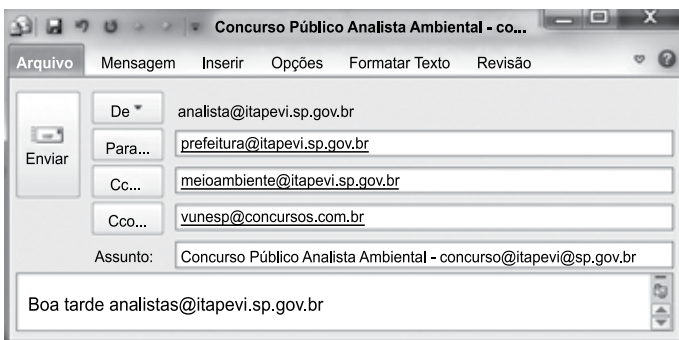
- (A) Prefeitura ^{Municipal} de Itapevi.
- (B) Prefeitura Municipal de Itapevi.
- (C) Prefeitura ~~Municipal~~ de Itapevi.
- (D) Analista Ambiental.
- (E) Analista Ambiental.

28. No MS-Excel 2010, na sua configuração padrão, assinale a alternativa que contém a situação da região norte após aplicação da fórmula =SE(D5>0;"Atrasado";SE(D5<0;"Adiantado";"No Prazo")) na célula E5 da planilha a seguir.

	A	B	C	D	E
1	Laudos Ambientais				
2	Região	Data Original	Nova Data	Var Dias	Situação
3	Leste	20/jan	02/fev	13	
4	Oeste	05/fev	25/jan	-11	
5	Norte	14/abr	14/abr	0	
6	Sul	25/jan	30/mar	64	

- (A) "Adiantado"
- (B) Adiantado
- (C) Atrasado
- (D) No Prazo
- (E) "No Prazo"

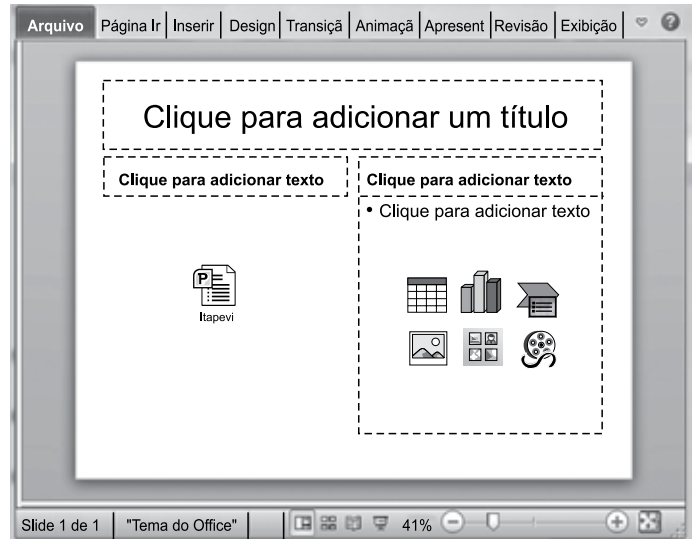
29. Observe a mensagem de correio eletrônico que está sendo digitada no MS-Outlook 2010, na sua configuração padrão, apresentada a seguir.



Assinale a alternativa que contém a conta de e-mail que também receberá a mensagem e que estará visível para o destinatário prefeitura@itapevi.sp.gov.br.






- (A) analista@itapevi.sp.gov.br
- (B) vunesp@concursos.com.br
- (C) concurso@itapevi@sp.gov.br
- (D) analistas@itapevi.sp.gov.br
- (E) meioambiente@itapevi.sp.gov.br

30. Considere o slide do MS-PowerPoint 2010, em sua configuração original, exibido na figura a seguir:



Assinale a alternativa que contém o ícone da guia Inserir que foi usado para incluir a apresentação Itapevi no slide.



- (A)  Objeto
- (B)  Tabela
- (C)  Clip-Art
- (D)  SmartArt
- (E)  Formas

CONHECIMENTOS ESPECÍFICOS

AUDITORIA

31. A suscetibilidade de uma afirmação a respeito de uma transação, saldo contábil ou divulgação, a uma distorção que possa ser relevante, individualmente ou em conjunto com outras distorções, antes da consideração de quaisquer controles relacionados, é denominada risco
- (A) inerente.
 - (B) de detecção.
 - (C) sistemático.
 - (D) de controle.
 - (E) não sistêmico.
32. Em relação à utilização da amostragem para obtenção de evidência de auditoria, é correto afirmar que
- (A) o tamanho da amostra deve ser determinado mediante aplicação de fórmula com base em estatística, e o auditor está impedido de utilizar seu julgamento profissional para evitar qualquer escolha tendenciosa.
 - (B) a amostra estratificada consiste na seleção aleatória dos itens da amostra, com probabilidade conhecida de cada evento possível.
 - (C) para os testes de controles, se a taxa esperada de desvio for inaceitavelmente baixa, o auditor geralmente decide por executar os testes de controles.
 - (D) o nível de risco de amostragem que o auditor está disposto a aceitar está inversamente correlacionado com o tamanho da amostra exigido.
 - (E) a seleção de bloco geralmente pode ser usada em amostragem de auditoria porque a maioria das populações está estruturada de modo que esses itens em sequência podem ter características semelhantes entre si.
33. O auditor independente, ao proceder ao exame das contas bancárias da companhia auditada, observou que, no Livro Razão da entidade, o saldo devedor da conta analítica do Banco X, em 31.12.2018, era de R\$ 18.600,00, enquanto que o respectivo extrato bancário apontava um saldo de R\$ 19.300,00. Ao proceder à reconciliação dos saldos, o auditor constatou que
- dois cheques emitidos pela companhia a favor de terceiros, no valor total de R\$ 830,00, não haviam sido sacados pelos beneficiários, de acordo com o extrato bancário.
 - despesas bancárias no valor de R\$ 350,00 não haviam sido contabilizadas pela companhia.
 - depósitos efetuados por terceiros a favor da companhia, no valor de R\$ 320,00, também não haviam sido contabilizados.
 - Um depósito feito pela companhia no banco 24 horas, após o expediente bancário do último dia do ano, no valor de R\$ 100,00, não tinha sido computado no extrato do banco.
- Após os ajustes propostos pelo auditor serem efetuados pela contabilidade da companhia, o saldo registrado no Livro Razão, relativo ao Banco X, correspondia, em R\$, a:
- (A) 19.010,00.
 - (B) 18.770,00.
 - (C) 18.570,00.
 - (D) 18.520,00.
 - (E) 18.610,00.
34. Em um trabalho de asseguarção realizado na Cia. A, o auditor independente observou que a referida entidade tinha efetuado o teste de recuperabilidade do valor de ativos, obedecendo às novas normas contábeis brasileiras, instituídas a partir da vigência das Leis n^{os} 11.638/2007 e 11.941/2009. Constatou a existência física de um ativo imobilizado, adquirido pela entidade em julho de 2014 por R\$ 490.000,00 e imediatamente colocado em operação. A sua vida útil tinha sido estimada em 15 anos, e seu valor residual, em R\$ 10.000,00. Em 31.12.2018, o departamento contábil da companhia, seguindo a legislação pertinente, registrou uma perda desse ativo em função do teste de recuperabilidade respectivo, no valor de R\$ 20.000,00. Tendo feito os cálculos necessários, o auditor concluiu pela exatidão do teste realizado pela entidade. Portanto, o valor recuperável desse ativo, em 31.12.2018, correspondeu, em R\$, a
- (A) 450.000,00.
 - (B) 326.000,00.
 - (C) 310.000,00.
 - (D) 306.000,00.
 - (E) 290.000,00.

35. O procedimento de auditoria que consiste na avaliação das informações feitas por meio de estudo das relações plausíveis entre dados financeiros e não financeiros é denominado
- (A) Conferência de cálculos.
 - (B) Confirmação Interna.
 - (C) Inspeção.
 - (D) Observação.
 - (E) Revisão Analítica.
36. Na auditoria de participações societárias permanentes, registradas no Ativo Não Circulante como Investimentos, entre os procedimentos listados a seguir, relacionados à aplicação do método da equivalência patrimonial (MEP), quando esta é obrigatória, o único que deve ser considerado correto pelo auditor é:
- (A) registro da participação da investidora no lucro da investida como receitas antecipadas, a serem classificadas no passivo circulante da investidora, mesmo que não tenha ocorrido venda de ativos entre as duas.
 - (B) exclusão do lucro da investida, decorrente da venda de ativos para a investidora, do valor da participação societária permanente, quando este lucro não for considerado realizado.
 - (C) recebimento de dividendos contabilizados como receita na investidora.
 - (D) avaliação, pelo MEP, de investimentos em sociedades que não sejam controladas ou coligadas da investidora.
 - (E) registro de mais-valia na contabilidade da investidora quando esta adquire ações da investida por um valor superior ao seu valor justo.
37. Em relação ao acompanhamento de estoques pelo auditor independente, é correto afirmar que
- (A) se a empresa auditada utilizar o controle permanente de seus estoques, o auditor pode considerar desnecessário acompanhar a respectiva contagem física no final do exercício.
 - (B) o auditor que não puder estar presente à contagem física dos estoques deve emitir parecer com ressalva em relação a esse item.
 - (C) a inspeção dos estoques, ao acompanhar sua contagem física, ajuda o auditor a averiguar a existência física deles e a identificar, por exemplo, estoques obsoletos, danificados ou sem movimentação.
 - (D) o auditor, caso faça pessoalmente os testes de contagem física dos estoques, está dispensado de solicitar documentos da administração sobre a referida contagem.
 - (E) mesmo que os estoques custodiados e controlados por terceiros sejam irrelevantes para as demonstrações contábeis, o auditor deve obter evidência de auditoria apropriada e suficiente com relação à existência e às condições desse tipo de estoque.

38. Se o auditor independente, ao finalizar o seu trabalho, constatar que as demonstrações contábeis da empresa auditada apresentam distorções relevantes, mas que não são generalizadas, ele deve emitir um relatório de auditoria
- (A) com parágrafo de ênfase.
 - (B) sem ressalvas.
 - (C) adverso.
 - (D) com abstenção de opinião.
 - (E) com ressalvas.

NOÇÕES DE DIREITO ADMINISTRATIVO

39. Segundo o disposto na Lei nº 8.666/93, num processo licitatório para aquisição de bens ou serviços pela Administração, a empresa licitante que comprove cumprimento de reserva de cargos prevista em lei para pessoa com deficiência e que atenda às regras de acessibilidade previstas na legislação,
- (A) ficará isenta dos tributos federais incidentes sobre a contratação.
 - (B) pode ser contratada diretamente por dispensa de licitação.
 - (C) assegura preferência, em igualdade de condições, para fins de desempate.
 - (D) pode ser contratada diretamente por inexigibilidade de licitação.
 - (E) será dispensada das formalidades contratuais na licitação.
40. Após a data de apresentação de propostas num procedimento licitatório, celebrado o contrato administrativo, houve a majoração imprevista de um tributo que incidia sobre o bem contratado que repercutiu no preço ofertado. Nessa situação hipotética, nos termos do que dispõe a Lei nº 8.666/93, é correto afirmar que esse fato
- (A) não poderá causar o reajuste do valor do bem já contratado.
 - (B) redundará na rescisão unilateral do contrato por parte da Administração.
 - (C) pode causar a revisão contratual, desde que o tributo majorado seja do mesmo ente contratante.
 - (D) pode gerar reajuste do valor do contrato, se este já estiver em vigor por, no mínimo, doze meses.
 - (E) implicará na revisão do preço do bem contratado, nos termos da lei.

ESTRUTURAS DAS DEMONSTRAÇÕES CONTÁBEIS

Com base nas informações fornecidas pela empresa Calcule Certo Ltda., responda às questões de números 41 a 43.

- Data base: exercício findo em 31/12/2018
- Valores hipotéticos:
 - Total do Ativo Circulante – R\$ 190.000,00
 - Capital Circulante Líquido Positivo – R\$ 60.000,00
 - Valor do Patrimônio Líquido – R\$ 80.000,00
 - Passivo Não Circulante – R\$ 90.000,00
 - Vendas Líquidas – R\$ 95.000,00
 - Deduções de vendas – 25% sobre o faturamento
 - Estoques iniciais do exercício – R\$ 65.000,00
 - Compras no exercício – R\$ 5.500,00
 - Estoques finais no exercício – R\$ 25.000,00
 - Despesas operacionais, incluindo IR/CSLL – R\$ 19.500,00

Obs.: o Patrimônio Líquido já contém o fechamento do resultado do exercício.

41. Baseado nessas informações, assinale a alternativa que representa o índice de liquidez corrente dessa empresa, no final do período. Utilize apenas duas casas decimais, sem a aplicação do critério de arredondamento.

- (A) 1,10
- (B) 1,26
- (C) 1,34
- (D) 1,46
- (E) 1,70

42. Assinale a alternativa que contém o valor em R\$ do lucro bruto no exercício.

- (A) 51.000,00
- (B) 49.500,00
- (C) 45.500,00
- (D) 40.000,00
- (E) 35.500,00

43. A rentabilidade do ativo da empresa Calcule Certo Ltda. em 31/12/2018 é de:

- (A) 5%
- (B) 8%
- (C) 9,5%
- (D) 10%
- (E) 11,5%

44. Assinale a alternativa que indica o índice de participação de capital de terceiros, utilizando-se do balanço patrimonial fornecido pela contabilidade de uma empresa. Utilize apenas duas casas decimais, sem a aplicação do critério de arredondamento.

Balanço patrimonial findo em 31/12/2018			
Ativo circulante		Passivo Circulante	
Caixa e equivalentes de caixa	5.000,00	Fornecedores	90.000,00
Aplicações financeiras	25.000,00	Salários a pagar	60.000,00
Contas a receber	155.000,00	Empréstimos bancários	20.000,00
Estoques de mercadorias	115.000,00	IRPJ e CSLL a recolher	45.000,00
Adiantamentos diversos	12.000,00	Impostos e contribuições a recolher	25.000,00
Impostos a recuperar	<u>37.000,00</u>	Contas a pagar	<u>35.000,00</u>
Total dos ativos circulantes	349.000,00	Total dos passivos circulantes	275.000,00
Ativo não circulante		Passivo não circulante	
Contas a receber de LP	70.000,00	Contingências trabalhistas	<u>84.000,00</u>
Ativo imobilizado	160.000,00	Total de passivos não circulantes	84.000,00
Depreciação/Amortização	(40.000,00)	Capital	100.000,00
Ativos intangíveis	<u>50.000,00</u>	Lucro líquido do exercício	<u>130.000,00</u>
Total dos ativos não circulantes	240.000,00	Total do patrimônio líquido	230.000,00
Total do Ativo	589.000,00	Total do Passivo	589.000,00

- (A) 1,56
- (B) 1,65
- (C) 1,77
- (D) 1,80
- (E) 2,05

Utilize do balanço patrimonial a seguir para responder às questões de números 45 e 46.

Balanço Patrimonial em 31 dezembro de					
	<u>2018</u>	<u>2017</u>		<u>2018</u>	<u>2017</u>
Ativo Circulante			Passivo Circulante		
Caixa e equivalentes de caixa	52.400,00	44.500,00	Fornecedores	94.500,00	80.320,00
Contas a receber de clientes	262.500,00	223.100,00	Empréstimos bancários	105.000,00	89.280,00
PCLD	(26.500,00)	(22.400,00)	Impostos a recolher	16.800,00	14.200,00
Estoques	<u>184.800,00</u>	<u>157.000,00</u>	Salários a pagar	18.900,00	16.600,00
	473.200,00	402.200,00	Contas a pagar	<u>8.400,00</u>	<u>7.000,00</u>
				243.600,00	207.400,00
Ativo não circulante			Passivo não circulante		
Títulos a receber	10.400,00	8.800,00	Contingências trabalhistas	30.100,00	27.600,00
Investimentos	42.000,00	35.600,00	Capital	168.000,00	142.800,00
Imobilizado líquido	107.200,00	92.800,00	Reservas de capital	157.500,00	133.800,00
Intangíveis	<u>16.800,00</u>	<u>14.200,00</u>	Reserva de lucros	31.500,00	26.000,00
	176.400,00	151.400,00	Lucro do exercício	<u>18.900,00</u>	<u>16.000,00</u>
				375.900,00	318.600,00
Total do Ativo	649.600,00	553.600,00	Total do Passivo	649.600,00	553.600,00

Demonstração do Resultado em 31/12/2018	
Receitas de vendas	410.000,00
Deduções das vendas	<u>(108.700,00)</u>
Receita líquida de vendas	301.300,00
Custos dos produtos vendidos	<u>(150.000,00)</u>
Lucro bruto	151.300,00
Despesas operacionais	(106.000,00)
Outras despesas operacionais	<u>(17.300,00)</u>
Lucro antes do IR e CSLL	28.000,00
Imposto de renda	(6.400,00)
Contribuição social	<u>(2.700,00)</u>
Lucro líquido	18.900,00

Obs. trabalhar com apenas a segunda casa decimal após a vírgula e não aplicar o critério de arredondamento.

45. Assinale a alternativa que indica o valor, em Reais, em 31 de dezembro de 2018, do índice de liquidez seca.

- (A) 1,18
- (B) 1,20
- (C) 1,27
- (D) 1,35
- (E) 1,39

46. Assinale a alternativa que contém o resultado, em 31 de dezembro de 2018, da aplicação do quociente de giro do ativo, utilizando os balanços de 2017 e 2018 para cálculo do ativo médio.

- (A) 0,75
- (B) 0,70
- (C) 0,65
- (D) 0,60
- (E) 0,50

47. O índice de rentabilidade sobre o patrimônio líquido, considerando as informações do balanço patrimonial e demonstração do resultado do exercício, em 31/12/2018, é:
- (A) 12%
 - (B) 10%
 - (C) 8%
 - (D) 5%
 - (E) 3%

LEGISLAÇÃO TRIBUTÁRIA

48. No que tange ao acesso a informações e da sua respectiva divulgação, segundo a Lei nº 12.527/11, Art. 8º, os órgãos e entidades públicas deverão promover a divulgação de informações de interesse coletivo ou geral por ele produzidas ou custodiadas, tais como estrutura organizacional, registro de operações financeiras, entre outras. Para o cumprimento dessa norma, os órgãos e entidades deverão utilizar os meios de comunicação de que dispuserem, sendo obrigatória a divulgação
- (A) em jornais de grande circulação nas esferas públicas, incluindo distrito federal.
 - (B) por meio de “mailing-list”.
 - (C) em sítios oficiais da rede mundial de computadores (internet).
 - (D) a disposição completa nos quadros de aviso e balcões dos referidos órgãos e entidades públicas.
 - (E) nas mídias jornalísticas e televisivas.
49. Dispor sobre conflitos de competência, em matéria tributária, entre a União, os Estados, o Distrito Federal e os Municípios, é atribuição
- (A) do Supremo Tribunal de Justiça.
 - (B) do Poder Judiciário em geral.
 - (C) da Comissão de Assuntos Tributários.
 - (D) de Lei Complementar.
 - (E) de Decreto-Lei.
50. Assinale a alternativa que contém o tributo de competência da União.
- (A) Imposto sobre a Propriedade Predial e Territorial Urbana.
 - (B) Imposto sobre a Transmissão de Bens Imóveis e de Direitos a eles Relativos.
 - (C) Imposto sobre Operações Relativas à Circulação de Mercadorias – ST.
 - (D) Imposto sobre propriedade de veículos automotores.
 - (E) Imposto sobre a Propriedade Territorial Rural.

