



**PREFEITURA DE SÃO JOSÉ DOS CAMPOS**

ESTADO DE SÃO PAULO

CONCURSO PÚBLICO

## **004. PROVA OBJETIVA**

### **ANALISTA EM GESTÃO MUNICIPAL – ADMINISTRAÇÃO DE EMPRESAS**

- ◆ Você recebeu sua folha de respostas e este caderno contendo 50 questões objetivas.
- ◆ Confira seus dados impressos na capa deste caderno e na folha de respostas.
- ◆ Quando for permitido abrir o caderno, verifique se está completo ou se apresenta imperfeições. Caso haja algum problema, informe ao fiscal da sala.
- ◆ Leia cuidadosamente todas as questões e escolha a resposta que você considera correta.
- ◆ Marque, na folha de respostas, com caneta de tinta azul ou preta, a letra correspondente à alternativa que você escolheu.
- ◆ A duração da prova é de 3 horas, já incluído o tempo para o preenchimento da folha de respostas.
- ◆ Só será permitida a saída definitiva da sala e do prédio após transcorridos 75% do tempo de duração da prova.
- ◆ Ao sair, você entregará ao fiscal a folha de respostas e este caderno, podendo levar apenas o rascunho de gabarito, localizado em sua carteira, para futura conferência.
- ◆ Até que você saia do prédio, todas as proibições e orientações continuam válidas.

**AGUARDE A ORDEM DO FISCAL PARA ABRIR ESTE CADERNO DE QUESTÕES.**

Nome do candidato \_\_\_\_\_

RG \_\_\_\_\_

Inscrição \_\_\_\_\_

Prédio \_\_\_\_\_

Sala \_\_\_\_\_

Carteira \_\_\_\_\_



01. Leia a tira.



(Adão Iturrusgarai, "A vida como ela yeah".  
Em: Folha de S.Paulo. 22.09.2018. Adaptado)

Entre outros fatores, o humor da tira decorre

- (A) do reconhecimento das vantagens do mundo moderno, para as quais o tempo tem sido mais escasso para que as pessoas possam desfrutá-las plenamente.
- (B) da exaltação ao mundo moderno que, apesar de tirar uma fatia de tempo considerável das pessoas, traz a elas uma série de comodidades e facilidades.
- (C) da ambiguidade das ações humanas na modernidade que reportam as pessoas a uma vida de solidão, deixando de interagir com os seus semelhantes.
- (D) da crítica às situações cotidianas que, além de mostrarem a efemeridade do tempo, reforçam a ideia de que ele pode ser mal utilizado muitas vezes.
- (E) do empenho das pessoas em potencializarem o uso do tempo de forma mais produtiva, embora surjam situações em que ele é, eventualmente, desperdiçado.

Leia o texto para responder às questões de números 02 a 06.

Característica básica da inovação social é ser criação daqueles que dela vão se beneficiar. Por isso não é possível replicar experiências inovadoras, como se elas pudessem gerar modelos prontos.

A relevância das experiências inovadoras no debate sobre a transformação do sistema educacional está no fato de que elas criam novos conceitos, processos, estruturas e metodologias, que podem indicar as mudanças necessárias nos vários elementos que constituem o ecossistema da educação.

Vejam, então, algumas experiências inovadoras. Para ficarmos na América do Sul, na Argentina, a QMark High School, em Bariloche, decidiu inovar observando sua paisagem.

Os dias começam e terminam com longas caminhadas na montanha, e os estudantes têm oportunidade de identificar os problemas em sua comunidade e desenvolver pesquisas que possibilitem enfrentá-los, usando as ferramentas disponíveis em seu ambiente. Foi assim que eles construíram um banheiro seco em 2016, que não polui o meio ambiente e, em 2017, criaram um aplicativo que ajuda os turistas a não se perderem nas estradas da montanha.

Novas propostas pedagógicas também ganham cada vez mais espaço entre as escolas brasileiras. Na Escola Estadual Alan Pinho Tabosa, na cidade de Pentecoste (CE), de ensino médio, não há aulas como conhecemos.

Os estudantes, sob orientação dos professores, se organizam em células de aprendizagem e colaboram para resolver problemas. Reconhecem-se dessa forma como agentes de mudança, pensando criticamente sobre o mundo e trabalhando em equipe.

O que essas iniciativas demonstram é que as aprendizagens mais importantes para que os jovens possam produzir mudanças positivas no mundo só podem acontecer em organizações educativas (escolas ou não) que se identificam como centros locais de produção e cultura, reinventando as estruturas, os processos e as metodologias para isso.

(Antonio Lovato, Helena Singer e Maria Mérola,  
"Empreendedorismo social e inovação na educação transformam o mundo".  
Em: <https://www1.folha.uol.com.br>. Adaptado)

02. Ao referir-se à inovação, o texto assinala que o empreendedorismo em educação se fortalece com

- (A) a utilização de uma mesma ferramenta para resolver diferentes problemas, garantindo uma redução de processos e metodologias.
- (B) a replicação de experiências de êxito, de tal forma que o sucesso em ações anteriores se repita com perfeição e rapidez.
- (C) as mudanças no ecossistema em que esta se constitui, abandonando as práticas educativas tradicionais, dando espaço ao moderno.
- (D) o reconhecimento da tradição escolar e seus valores, de tal forma que as mudanças sejam sutis e não criem impactos negativos.
- (E) o conhecimento da comunidade onde a instituição está inserida, para que seja possível identificar suas necessidades e atendê-las.

03. O texto deixa claro que

- (A) os empreendimentos educativos podem realizar-se em organizações não educativas, nas quais não se produz cultura.
- (B) as práticas inovadoras podem ser vistas no cenário educacional internacional, mas ainda não chegaram ao Brasil.
- (C) as mudanças no sistema educacional implicam revisar as estruturas, os processos e as metodologias nas organizações educativas.
- (D) a criação de produtos que atendam a demandas específicas de uma comunidade não pode ser vista realmente como inovação.
- (E) os maiores benefícios de uma transformação educacional decorrem de estudos estratégicos alheios aos interesses de uma comunidade.

04. Assinale a alternativa em que a frase reescrita a partir das informações textuais atende à norma-padrão de concordância.

- (A) Com as caminhadas é que os estudantes argentinos identificaram problemas em sua comunidade.
- (B) Na Escola Estadual Alan Pinho Tabosa, não acontece as aulas da forma como as conhecemos.
- (C) Reinventa-se, nos centros locais de produção e cultura, as estruturas, os processos e as metodologias.
- (D) A relevância das experiências inovadoras são importantes para o debate sobre a transformação do sistema educacional.
- (E) O banheiro seco e o aplicativo para os turistas mostra como os alunos enfrentaram os problemas locais.

05. Conforme o sentido que expressa, o período “Há muitos outros exemplos, não só entre as escolas, mas também entre empreendimentos educativos de outra natureza” (8º parágrafo) pode ser reescrito da seguinte forma:

- (A) Há muitos outros exemplos, não entre as escolas, mas entre empreendimentos educativos de outra natureza.
- (B) Há muitos outros exemplos, entre as escolas e entre empreendimentos educativos de outra natureza.
- (C) Há muitos outros exemplos, entre as escolas, apesar de empreendimentos educativos de outra natureza.
- (D) Há muitos outros exemplos, entre as escolas ou entre empreendimentos educativos de outra natureza.
- (E) Há muitos outros exemplos, entre as escolas, ainda que entre empreendimentos educativos de outra natureza.

06. Assinale a alternativa em que o enunciado atende à pontuação de acordo com a norma-padrão.

- (A) Em Bariloche, a QMark High School, decidiu inovar observando sua paisagem quando acontecem longas caminhadas dos estudantes na montanha.
- (B) Os estudantes, durante as caminhadas, têm oportunidade de identificar os problemas em sua comunidade que, posteriormente, serão solucionados.
- (C) Os estudantes, organizam-se em células de aprendizagem e colaboram para resolver problemas e dessa forma, reconhecem-se como agentes de mudança.
- (D) Novos conceitos, processos, estruturas e metodologias, que podem indicar as mudanças necessárias são criados a partir das experiências inovadoras.
- (E) As aprendizagens mais importantes para produzir mudanças positivas como demonstram as iniciativas, só podem acontecer em organizações educativas.

Leia a charge para responder às questões de números 07 e 08.

GANHEI NO DIA DAS CRIANÇAS,  
MAS TROCARIA TODOS POR MAIS  
PAZ E MENOS ÓDIO!!!



(Duke. Em: [www.otempo.com.br](http://www.otempo.com.br))

07. A charge faz uma crítica

- (A) à falta de diálogo entre as crianças na sociedade contemporânea.
- (B) ao desinteresse que as crianças demonstram por brinquedos novos.
- (C) à disseminação do sentimento de ódio no cotidiano da sociedade.
- (D) às contradições dos adultos, que agem contra a vontade das crianças.
- (E) ao comportamento das crianças, tratando de assuntos de adultos.

08. No contexto de comunicação entre as personagens, a frase do garoto poderia ser reescrita, de acordo com a norma-padrão e com o sentido da charge, da seguinte forma:

- (A) Ganhei no dia das crianças, embora realmente trocária-os por mais paz e menos ódio!!!
- (B) Ganhei no dia das crianças, e realmente até trocava eles por mais paz e menos ódio!!!
- (C) Ganhei no dia das crianças, pois realmente trocária-lhes por mais paz e menos ódio!!!
- (D) Ganhei no dia das crianças, portanto realmente troco-os por mais paz e menos ódio!!!
- (E) Ganhei no dia das crianças, porém realmente os trocária por mais paz e menos ódio!!!

Leia o texto para responder às questões de números 09 e 10.

Evitar campanhas de desinformação no Whatsapp pode ser uma tarefa hercúlea, principalmente em razão da criptografia que impede que terceiros acessem as mensagens. É o que explica Fabrício Benevenuto, professor de ciência da computação da Universidade Federal de Minas Gerais (UFMG). \_\_\_\_\_ frente do projeto Eleições Sem Fake, o acadêmico reconhece que mentiras podem ser espalhadas em qualquer meio, mas alguns fatores tornam o Whatsapp um terreno especialmente fértil ao boato.

Aliadas \_\_\_\_\_ descrença generalizada, as facilidades que acompanham o Whatsapp enchem os olhos de muita gente. Benevenuto comentou que diversas operadoras oferecem pacotes em que o uso do aplicativo é gratuito, mesmo que as pessoas não tenham internet para acessar outras plataformas. “Isso é perigoso no sentido de que a pessoa passa \_\_\_\_\_ ver notícia através do Whatsapp. O acesso \_\_\_\_\_ grande mídia é menor. A checagem de fatos também é menor. Para ler alguns sites, é preciso pagar; mas no aplicativo, a informação de má qualidade chega gratuita e incluída no plano.”

(<https://epoca.globo.com>. Adaptado)

09. Em conformidade com a norma-padrão, as lacunas do texto devem ser preenchidas, respectivamente, com:

- (A) À ... à ... a ... à
- (B) A ... a ... à ... a
- (C) Há ... a ... a ... à
- (D) À ... à ... à ... à
- (E) A ... à ... à ... a

10. No texto, está empregada em sentido figurado e corretamente associada ao seu significado a expressão

- (A) “tarefa hercúlea”, remetendo ao sentido de amenidade.
- (B) “em qualquer meio”, remetendo ao sentido de mídia impressa.
- (C) “terreno especialmente fértil”, remetendo ao sentido de infecundo.
- (D) “enchem os olhos”, remetendo ao sentido de atração.
- (E) “é preciso pagar”, remetendo ao sentido de ser explorado.

11. Érica comprou um rolo de fio e usou  $\frac{3}{7}$  desse fio para fazer embrulhos. Depois ela usou  $\frac{3}{8}$  do fio restante para fazer um pacote e cortou o fio que ainda sobrou em 14 pedaços de 30 cm cada. O comprimento original do rolo de fio era

- (A) 10,38 m.
- (B) 11,76 m.
- (C) 12,14 m.
- (D) 13,52 m.
- (E) 14,90 m.

12. Do total de docentes em uma escola, 24% são maratonistas, e o número de maratonistas mulheres é 6 a mais do que o número de maratonistas homens. Nessa escola, 56% dos docentes são mulheres, e o número de mulheres excede o número de homens em 9. O número de docentes homens que são maratonistas é

- (A) 2.
- (B) 4.
- (C) 6.
- (D) 8.
- (E) 10.

13. André tinha 8 livros de história para cada 3 livros de matemática. Desses livros, ele vendeu 60 de história e 41 de matemática e ficou com um número de livros de história que é igual ao quádruplo do número de livros de matemática. Após a venda, a diferença entre os números de livros de história e de matemática que André possui é

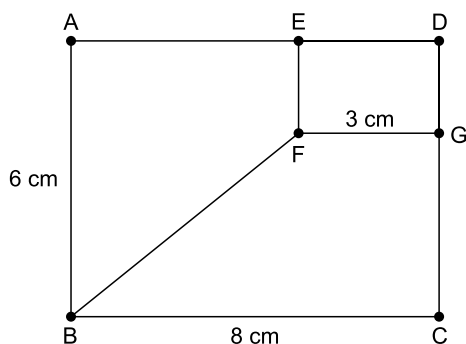
- (A) 111.
- (B) 121.
- (C) 131.
- (D) 141.
- (E) 151.

14. Para preparar 60 copos de suco de maracujá, são necessários L litros de água. Com a mesma quantidade de água, também é possível preparar 108 copos de suco de uva. Um vasilhame continha L litros de água, que foi usada para preparar 20 copos de suco de maracujá e 63 copos de suco de uva. Com a água restante no vasilhame, o número máximo de copos de suco de uva que podem ser preparados é
- (A) 6.
  - (B) 8.
  - (C) 9.
  - (D) 12.
  - (E) 15.
15. Um atleta correu um total de 722 km em 61 dias não consecutivos. Se era um dia de semana, esse atleta corria 10 km e, se era sábado ou domingo, ele corria 17 km. A diferença entre o número de dias em que ele correu 10 km e o número de dias em que ele correu 17 km é
- (A) 21.
  - (B) 23.
  - (C) 25.
  - (D) 27.
  - (E) 29.
16. Alguns aniversariantes comemoraram juntos seus aniversários e convidaram 15 amigos para uma festa. Cada convidado trouxe um presente para cada aniversariante. Cada aniversariante também trouxe um presente para cada outro aniversariante, mas não para si próprio. Se, no total, foram oferecidos 351 presentes, o número de aniversariantes era um número divisor de
- (A) 20.
  - (B) 22.
  - (C) 24.
  - (D) 26.
  - (E) 28.
17. Como parte de um projeto de sustentabilidade, cada aluno da turma A de uma escola juntou 70 lacres de alumínio. Na turma B, que tem 6 alunos a menos do que a turma A, cada aluno juntou 84 lacres. Se o total de lacres coletados pela turma A é igual ao total de lacres coletados pela turma B, a soma do número de alunos dessas duas turmas é igual a
- (A) 62.
  - (B) 63.
  - (C) 64.
  - (D) 65.
  - (E) 66.

18. A média aritmética dos salários de 30 funcionários de uma empresa é igual a R\$ 3.800,00. Desses funcionários, 25 ganham R\$ 4.000,00 ou mais, e a média aritmética dos salários dessas 25 pessoas é R\$ R\$ 4.200,00. A média dos salários dos funcionários que ganham menos de R\$ 4.000,00 é

- (A) R\$ 1.800,00.  
 (B) R\$ 2.200,00.  
 (C) R\$ 2.600,00.  
 (D) R\$ 3.000,00.  
 (E) R\$ 3.400,00.

19. Os pontos E e G estão sobre os lados de um retângulo ABCD e formam o retângulo DEFG, conforme a figura.






Se a área do retângulo DEFG é  $6 \text{ cm}^2$ , a área do trapézio ABFE, em  $\text{cm}^2$ , é

- (A) 18.  
 (B) 20.  
 (C) 22.  
 (D) 24.  
 (E) 26.
20. A razão entre os volumes de dois paralelepípedos é igual a  $\frac{8}{3}$ . O paralelepípedo de maior volume tem uma face quadrangular de área  $16 \text{ cm}^2$ , e sua maior aresta mede 12 cm. Se o paralelepípedo de menor volume tem uma face quadrangular de área  $9 \text{ cm}^2$ , a sua área total é

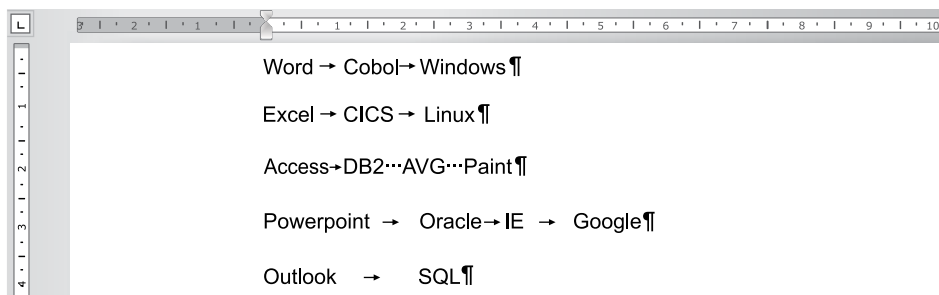
- (A)  $84 \text{ cm}^2$ .  
 (B)  $99 \text{ cm}^2$ .  
 (C)  $109 \text{ cm}^2$ .  
 (D)  $114 \text{ cm}^2$ .  
 (E)  $124 \text{ cm}^2$ .

21. Considere a barra de tarefas de um computador com MS-Windows 7 exibida a seguir e assinale a alternativa correta.



- (A) Ao digitar a palavra Imagens em  e pressionar Enter, será aberta a respectiva biblioteca do Windows.
- (B) Ao digitar www.vunesp.com.br em  e pressionar Enter, será exibida uma mensagem de erro, pois o computador não está conectado à Internet.
- (C) Tanto o Excel quanto o Windows Explorer estão em execução no momento.
- (D) O Outlook, o Google Chrome e o Word estão em execução no momento.
- (E) Ao clicar em , todas as janelas serão minimizadas para exibição da área de trabalho.

22. Observe o texto e as respectivas marcas de parágrafos e formatações presentes em um documento do MS-Word 2010, na sua configuração padrão.



Após selecionar todo o texto, o usuário executou o comando de conversão de texto em tabela com os parâmetros: largura de coluna fixa e texto separado por tabulações. Assinale a alternativa que contém a quantidade de colunas criadas na tabela resultante.

- (A) 1.
- (B) 2.
- (C) 3.
- (D) 4.
- (E) 5.

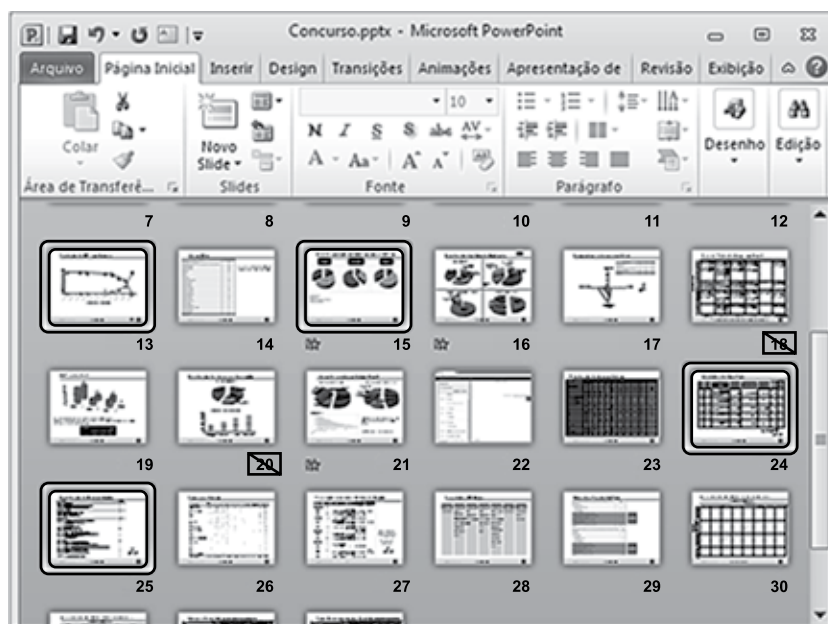
23. Assinale a alternativa que apresenta o resultado correto para a seguinte fórmula, digitada na célula A1 de uma planilha do MS-Excel 2010, na sua configuração padrão:


$$=SOMA(5;25)+15+4^2*5+8/4-MÉDIA(17;25)$$

- (A) 1816
- (B) 462,25
- (C) 106
- (D) 36
- (E) 31



24. Na figura a seguir, é apresentada parcialmente uma apresentação do MS-PowerPoint 2010, em sua configuração original. Note que alguns slides estão selecionados.



No slide 17, foi inserido o botão de ação , que, ao ser clicado em modo de exibição de slides, levará a apresentação para o slide

- (A) 18.
  - (B) 19.
  - (C) 20.
  - (D) 21.
  - (E) 24.
25. Considere os elementos apresentados na janela do Internet Explorer 11, na sua configuração padrão, apresentada a seguir.



O usuário pretende imprimir o conteúdo visitado. No cabeçalho da página impressa, o Internet Explorer imprimirá o seguinte conteúdo, além do número da página:

- (A) PREFEITURA SÃO JOSÉ DOS CAMPOS
- (B) <https://www.sjc.sp.gov.br/>
- (C) <https://www.sjc.sp.gov.br/secretarias/>
- (D) Secretarias
- (E) Prefeitura de São José dos Campos

## CONHECIMENTOS ESPECÍFICOS

### ADMINISTRAÇÃO

26. Uma das abordagens considerada revolucionária no campo da Administração, e em suas teorias, e que foi, em um primeiro momento, experimentada com sucesso em alguns setores industriais no Japão, preconiza que os processos administrativos devem passar por algumas etapas fundamentais em busca da qualidade. Assinale a alternativa que contém corretamente e, na sequência correta, o nome dessa abordagem e seus passos respectivos.
- (A) Taylorismo; Planejamento, Execução e Controle.
  - (B) Ciclo de Deming; PDCA – Plan, Do, Check e Control.
  - (C) 5 Disciplinas; Domínio Pessoal, Modelos Mentais; Visão Compartilhada; Aprendizagem em equipe e Pensamento Sistêmico.
  - (D) Análise SWOT; Diagnóstico Interno: ameaças e oportunidades e Análise Externa: pontos fortes e pontos fracos.
  - (E) Fordismo; Planejamento, Organização, Execução e Controle.
27. A parte da despesa social que tem por objetivo financiar a Seguridade Social, em suas áreas fundamentais, incluindo aí a Previdência Social, a Assistência Social e a Saúde Pública é o
- (A) FGTS.
  - (B) PIS-PASEP.
  - (C) eSocial.
  - (D) IRPJ.
  - (E) COFINS.
28. A Lei do Orçamento nº 4.320/64, em seu parágrafo único do art. 3º, determina que todas as receitas, inclusive as de operações de crédito autorizadas em lei, são compreendidas por ela, com exceção das operações de crédito
- (A) suplementares de qualquer importância e de qualquer origem.
  - (B) resultantes de alienação de bens imóveis mesmo que forem especificamente autorizadas pelo Poder Legislativo.
  - (C) advindas das receitas tributárias, de contribuições, patrimonial, agropecuária e industrial.
  - (D) por antecipação de receita, das emissões de papel-moeda e outras entradas compensatórias no ativo e passivo financeiros.
  - (E) provenientes da realização de recursos financeiros oriundos de constituição de dívidas; e da conversão, em espécie, de bens e direitos; recursos recebidos de outras pessoas.
29. Quanto à Lei de Responsabilidade Fiscal nº 101/2000, é correto afirmar que
- (A) é um dispositivo legal que afeta tão somente o poder executivo das três esferas de governo.
  - (B) estabelece que as metas devem ser fixadas no âmbito exclusivo das receitas públicas.
  - (C) fixa limites para despesas com pessoal, para dívida pública e determina que metas sejam criadas para controlar receitas e despesas.
  - (D) mesmo que o espaço de tempo for menor do que dois anos, o governante não poderá criar uma nova despesa continuada sem indicação da fonte.
  - (E) o seu objetivo principal é tratar das consequências resultantes da improbidade administrativa e do mau uso dos recursos públicos.
30. A verificação de obediência aos limites da Lei de Responsabilidade Fiscal para as despesas com pessoal será verificada ao final \_\_\_\_\_, com base nos últimos \_\_\_\_\_ ao período verificado.
- (A) do ano fiscal ... doze meses
  - (B) de cada trimestre ... seis meses
  - (C) de cada quadrimestre ... seis meses
  - (D) do ano fiscal ... seis meses
  - (E) de cada quadrimestre ... doze meses
31. João das Palmeiras recebeu uma proposta em janeiro e aceitou deixar seus recebimentos mensais de R\$ 100.000,00, depositados no banco. Ele teria como rendimento 1% ao mês, em juros reais, pelo valor acumulado. Ao final de março, quanto João teria no banco, desconsideradas as casas decimais?
- (A) R\$ 300.003,00.
  - (B) R\$ 303.030,00.
  - (C) R\$ 303.040,00.
  - (D) R\$ 306.040,00.
  - (E) R\$ 306.060,00.
32. Qual o nome da taxa de desconto que faz com que o Valor Presente Líquido (VPL) de um fluxo de caixa se iguale a zero?
- (A) Payback.
  - (B) TIR – Taxa Interna de Retorno.
  - (C) ROI – Retorno sobre Investimento.
  - (D) TMA – Taxa Mínima de Atratividade.
  - (E) FV – Future Value.

- 33.** Os indicadores que medem o desempenho dos projetos são genericamente chamados de KPIs. Eles ocorrem em quatro vertentes: impacto, efetividade, desempenho e operacionais. Assinale a alternativa que apresenta o conceito dos indicadores de impacto.
- (A) Cumprimento dos prazos pré-estabelecidos.
  - (B) Relação entre o valor agregado e o custo real.
  - (C) Utilização adequada dos recursos.
  - (D) Contribuições dos resultados do projeto.
  - (E) Atingimento do objetivo geral, do propósito do projeto.
- 34.** Uma das subdivisões do mercado financeiro ocupa-se de títulos, ações e derivativos em bolsas de valores, sociedades corretoras e outras instituições financeiras. Esse é chamado de mercado
- (A) de crédito.
  - (B) de capitais.
  - (C) de câmbio.
  - (D) de títulos imobiliários.
  - (E) monetário.
- 35.** Em um processo de planejamento econômico-financeiro e orçamentário, programação
- (A) tem como finalidade aperfeiçoar as atividades ou eventos no curto prazo e tem como produto o programa operacional.
  - (B) está vinculada diretamente às atividades realizadas, sendo um processo decisório de médio a longo prazo.
  - (C) visa garantir a missão da organização no longo prazo, estabelecendo planos estratégicos de ação vinculados a essa missão.
  - (D) está vinculada diretamente às atividades estratégicas de identificação, integração, avaliação e monitoramento do plano a ser realizado.
  - (E) representa um processo decisório que busca avaliar o comportamento das variáveis, principalmente externas advindas do cenário.
- 36.** Os princípios administrativos possuem por função orientar e limitar a atuação da Administração Pública, norteados de que modo a conduta do gestor deve ser compatível com o Direito. A respeito dos princípios administrativos, assinale a alternativa correta.
- (A) O princípio da impessoalidade afasta a obrigação da Administração conferir tratamento não igualitário para os desiguais.
  - (B) A invocação do bem comum ou do interesse público abstrato legitima a atuação do gestor público em desconformidade com a boa-fé, tornando-a compatível com o princípio da moralidade.
  - (C) A adoção do princípio da eficiência não implica na subordinação da atividade administrativa à pura racionalidade econômica.
  - (D) Em função do princípio da legalidade, o contrato firmado entre a Administração e o particular não pode ser fonte de direitos e obrigações.
  - (E) O princípio da legalidade significa que toda e qualquer conduta do gestor público deve ter base lei formal, sendo proibida postura administrativa que se funde exclusivamente em norma constitucional.
- 37.** A respeito do ato administrativo, assinale a alternativa correta.
- (A) A avocação e a delegação de competência para a realização de ato administrativo pressupõem a existência de uma relação de hierarquia entre os agentes envolvidos.
  - (B) O motivo ou motivação é a exteriorização das razões de fato e de direito que autoriza a atuação administrativa.
  - (C) Nos atos discricionários, em regra, todos os seus elementos estão sujeitos a controle pelo Poder Judiciário.
  - (D) Atos autoexecutáveis são os que podem ser implementados unilateralmente pela Administração, sem prévia autorização do Poder Judiciário.
  - (E) A presunção de legitimidade é atributo do ato administrativo, que implica na impossibilidade do particular comprovar que o ato contraria a lei.
- 38.** O ato administrativo que concluiu todas as suas etapas de formação é classificado como
- (A) perfeito.
  - (B) eficaz.
  - (C) complexo.
  - (D) legítimo.
  - (E) discricionário.

39. Suponha que determinado órgão da Administração Municipal, em janeiro de 2018, realizou a contratação de produtos de papelaria para suprir a necessidade de serviço, com base no art. 24, II, da Lei nº 8.666/93, no valor de R\$ 5.000,00 (cinco mil reais). Em setembro do mesmo ano, o setor responsável pela gestão de suprimentos constatou que o material se esgotaria no mês de outubro e que uma nova aquisição de materiais seria necessária para a continuidade das atividades até o fim do exercício, no valor de R\$ 2.500,00 (dois mil e quinhentos reais). Considerando a situação hipotética e o disposto na legislação de licitações e contratos, assinale a alternativa correta.
- (A) A contratação direta narrada é ilegal, uma vez o material se caracteriza como bem comum, tornando obrigatória a realização de pregão, independentemente do valor do contrato.
  - (B) Tanto a contratação originária como a subsequente podem ser realizadas de maneira direta, desde que ambas somadas respeitem o limite de valor previsto no art. 24, II, da Lei nº 8.666/93.
  - (C) Embora a contratação originária seja legal, eventual contratação suplementar com base no mesmo fundamento, dentro do mesmo exercício financeiro, será considerada ilegal, por configurar fracionamento indevido do objeto.
  - (D) A contratação do material suplementar, no presente caso, não pode ser realizada por aditivo contratual, mesmo que haja concordância do contratado.
  - (E) A contratação, nesse caso, deve ser realizada de maneira direta, por tratar a hipótese de contratação dispensada.
40. A respeito do regime de servidores previsto na Constituição Federal, assinale a alternativa correta.
- (A) Os conceitos de estabilidade e vitaliciedade se confundem, pois ambos admitem a destituição de agente investido em cargo público após processo administrativo disciplinar.
  - (B) Somente podem ser providos em funções de confiança agentes que possuam, previamente, vínculos com a Administração.
  - (C) A remuneração, no âmbito municipal, está limitada aos vencimentos percebidos pelo Governador do Estado.
  - (D) Os acréscimos pecuniários percebidos por servidor público poderão ser computados ou acumulados para fins de concessão de acréscimos ulteriores, desde que respeitado o teto constitucional.
  - (E) Os vencimentos dos cargos do Poder Legislativo e do Poder Judiciário poderão ser superiores aos pagos pelo Poder Executivo.
41. “Modalidade de licitação entre interessados devidamente cadastrados ou que atenderem a todas as condições exigidas para cadastramento até o terceiro dia anterior à data do recebimento das propostas, observada a necessária qualificação”. De acordo com a Lei nº 8.666/93, esse é o conceito
- (A) da tomada de preço.
  - (B) do pregão.
  - (C) do convite.
  - (D) do concurso.
  - (E) do leilão.
42. A respeito dos poderes administrativos e institutos correlatos, assinale a alternativa correta.
- (A) O poder hierárquico autoriza a Administração a aplicar penas a servidores públicos pelo cometimento de infrações disciplinares.
  - (B) O poder regulatório somente pode ser exercido pela chefia do Poder Executivo, não podendo ser delegado para agentes ou entidades vinculadas à Administração direta.
  - (C) O poder vinculado é o atribuído à Administração para a prática de atos com um razoável grau de liberdade, avaliada por um juízo de conveniência e oportunidade.
  - (D) O poder de polícia é indelegável a particulares, o que compreende as atividades materiais prévias ou posteriores vinculadas a essa atividade.
  - (E) O poder disciplinar possibilita à Administração Pública punir infrações administrativas cometidas por particulares a ela ligados mediante um vínculo jurídico específico.
43. A respeito do serviço público, assinale a alternativa correta.
- (A) O serviço público, em sentido subjetivo, é definido a partir de uma determinada atividade ou conjunto de atividades, independentemente do sujeito responsável pela sua execução.
  - (B) As permissões de serviço público devem ser precedidas de licitação, após a qual será conferida a terceiro a execução da atividade por meio de ato administrativo precário.
  - (C) A concessão de serviço público, precedida ou não da execução de obra pública, será formalizada mediante contrato.
  - (D) Em função do princípio da continuidade, a prestação de serviço público pela Administração ou concessionário não pode ser interrompida em caso de inadimplência do particular.
  - (E) Com a delegação de um serviço público a um particular, a atividade passa a estar submetida integralmente a um regime jurídico de direito privado.

- 44.** O controle da Administração Pública consiste na atividade de avaliar se as condutas adotadas pela Administração estão em conformidade com os padrões de boa atuação fixados pelo Direito. O exercício dessa atividade pode ser realizado tanto pela própria Administração como pelos demais Poderes. Acerca do controle da Administração, assinale a alternativa correta.
- (A) O controle exercido pelo Tribunal de Contas não pode ter por objetivo avaliar a economicidade da contratação pública.
- (B) O controle jurisdicional implica ao Judiciário poder revogar os atos discricionários expedidos pela Administração, sempre que fundado num juízo concreto de conveniência e oportunidade.
- (C) Os Tribunais de Contas podem efetuar diretamente a correção das irregularidades verificadas em contratos executados pela Administração.
- (D) As Comissões Parlamentares de Inquérito podem ser instituídas pelas Casas Legislativas com o objetivo de viabilizar o controle da Administração, devendo apurar fatos determinados e por prazo certo, com poderes próprios de autoridades judiciais.
- (E) Em função do princípio da separação dos poderes, o Poder Legislativo não possui competência para sustar atos normativos expedidos pelo Poder Executivo.
- 45.** Acerca do regime jurídico dos contratos administrativos e das cláusulas exorbitantes, assinale a alternativa correta.
- (A) A Administração pode alterar unilateralmente o projeto ou as especificações do contrato, para melhor adequação técnica aos seus objetivos, desde que isso não descaracterize o objeto da contratação.
- (B) A alteração unilateral do contrato pode ocorrer sem a preservação do equilíbrio econômico-financeiro, desde que vantajoso à Administração.
- (C) A Administração pode, unilateralmente, reduzir o objeto de qualquer contrato administrativo em 50% (cinquenta por cento) do valor inicialmente estimado.
- (D) A rescisão unilateral do contrato administrativo sem culpa do particular deve ocorrer sem o respeito ao contraditório e à ampla defesa, desde que preservado o interesse público.
- (E) A nulidade do contrato, em regra, exonera a Administração do dever de indenizar o contratado pelo que este houver executado até a data em que ela for declarada.
- 46.** Com relação aos papéis de trabalho na auditoria, assinale a alternativa correta.
- (A) Não devem, de forma alguma, ser escriturados a lápis.
- (B) Não devem ser identificados, de modo a manter o sigilo.
- (C) Os dados, números e informações devem ser colocados logo após o título.
- (D) As explicações sobre o trabalho de auditoria devem vir no verso da folha.
- (E) Não devem ser usados tiques (símbolos de identificação), pois dificultam a compreensão.
- 47.** A evidência obtida por declarações por escrito que tratam de afirmações da administração, assinadas por indivíduos responsáveis, é denominada evidência
- (A) documental.
- (B) analítica.
- (C) verbal.
- (D) por confirmação.
- (E) por representações.
- 48.** A ação regressiva da Administração Pública
- (A) é uma ação que o particular que sofreu o dano faz contra o agente público responsável por causá-lo.
- (B) é onde a Administração Pública tem a finalidade de buscar ressarcimento do valor pago ao particular, do agente público que causou o dano por dolo ou culpa.
- (C) ocorre quando o agente público que causou o dano deve ressarcir a Administração Pública independente de dolo ou culpa.
- (D) cabe quando houver a aprovação de leis consideradas inconstitucionais pelo Supremo Tribunal Federal.
- (E) ocorre quando o dano é decorrente de caso fortuito ou de força maior.

**49.** A Lei de Responsabilidade Fiscal (Lei Complementar nº 101, de 4 de maio de 2000) trata, no seu artigo 14, da concessão de benefícios tributários. Diante disso, assinale a alternativa correta.

- (A) A concessão ou ampliação de benefício tributário, se houver renúncia de receita, deverá estar acompanhada de estimativa do impacto orçamentário-financeiro apenas no exercício em que iniciar sua vigência.
- (B) A concessão ou ampliação de benefício tributário deve necessariamente ser acompanhada por demonstração pelo proponente de que a renúncia foi considerada na estimativa de receita e de que não afetará as metas de resultados fiscais.
- (C) A concessão ou ampliação de benefício tributário deve necessariamente ser acompanhada de medidas de compensação por meio do aumento de receita.
- (D) O disposto no artigo não se aplica ao cancelamento de débito cujo montante seja inferior ao dos respectivos custos de cobrança.
- (E) O benefício só poderá entrar em vigor quando implementadas as medidas de compensação por meio do aumento de receita.

**50.** Para efeito da Lei de Responsabilidade Fiscal, é adotada a seguinte definição:

- (A) operação de crédito é o compromisso financeiro assumido em razão de mútuo, emissão e aceite de título, aquisição financiada de bens e outras operações assemelhadas, inclusive com o uso de derivativos financeiros.
- (B) dívida pública mobiliária é o montante total, apurado sem duplicidade, das obrigações financeiras do ente da Federação para amortização em prazo superior a doze meses.
- (C) dívida pública consolidada ou fundada é a dívida pública representada por títulos emitidos pela União, inclusive os do Banco Central do Brasil, Estados e Municípios.
- (D) refinanciamento da dívida consolidada é a emissão de títulos para pagamento do principal acrescido da atualização monetária.
- (E) concessão de garantia é a admissão, o reconhecimento ou a confissão de dívidas pelo ente da Federação.



