

TÉCNICO DE LABORATÓRIO / ÁREA: ODONTOLOGIA

17/05/2015



SÓ ABRA ESTE CADERNO QUANDO AUTORIZADO LEIA ATENTAMENTE AS INSTRUÇÕES

1. Quando for permitido abrir o caderno, verifique se ele está completo ou se apresenta imperfeições gráficas que possam gerar dúvidas. Se houver algum defeito dessa natureza, peça ao aplicador de prova para entregar-lhe outro exemplar.
2. Este caderno contém 50 questões objetivas. Cada questão apresenta quatro alternativas de resposta, das quais apenas uma é a correta. Preencha no cartão-resposta a letra correspondente à resposta assinalada na prova.
3. O cartão-resposta é personalizado e não será substituído, em caso de erro durante o seu preenchimento. Ao recebê-lo, verifique se seus dados estão impressos corretamente; se for constatado algum erro, notifique-o ao aplicador de prova.
4. No cartão-resposta, as respostas devem ser marcadas com caneta esferográfica de tinta PRETA, preenchendo-se integralmente o alvéolo, rigorosamente dentro dos seus limites e sem rasuras.
5. Esta prova tem a duração de **quatro horas**, incluindo o tempo destinado à coleta de impressão digital, às instruções e à transcrição para o cartão-resposta.
6. Você só poderá retirar-se definitivamente da sala e do prédio após decorridas **duas horas** de prova, e somente será permitido levar o caderno de prova a partir das **16 horas**, desde que permaneça na sala até esse horário.
7. **AO TERMINAR, DEVOLVA O CARTÃO-RESPOSTA AO APLICADOR DE PROVA.**

CONHECIMENTOS GERAIS – LÍNGUA PORTUGUESA

Leia o Texto 1 para responder às questões de **01 a 07**.

Texto 1**Cem cruzeiros a mais**

Ao receber certa quantia num guichê do Ministério, verificou que o funcionário lhe havia dado cem cruzeiros a mais. Quis voltar para devolver, mas outras pessoas protestaram: entrasse na fila.

Esperou pacientemente a vez, para que o funcionário lhe fechasse na cara a janelinha de vidro:

– Tenham paciência, mas está na hora do meu café.

Agora era uma questão de teimosia. Voltou à tarde, para encontrar fila maior – não conseguiu sequer aproximar-se do guichê antes de encerrar-se o expediente.

No dia seguinte era o primeiro da fila:

– Olha aqui: o senhor ontem me deu cem cruzeiros a mais.
– Eu?

Só então reparou que o funcionário era outro.

– Seu colega, então. Um de bigodinho.

– O Mafra.

– Se o nome dele é Mafra, não sei dizer.

– Só pode ter sido o Mafra. Aqui só trabalhamos eu e o Mafra. Não fui eu. Logo...

Ele coçou a cabeça, aborrecido:

– Está bem, foi o Mafra. E daí?

O funcionário lhe explicou com toda urbanidade que não podia responder pela distração do Mafra:

– Isto aqui é uma pagadoria, meu chapa. Não posso receber, só posso pagar. Receber, só na recebedoria. O próximo!

O próximo da fila, já impaciente, empurrou-o com o cotovelo. Amar o próximo como a ti mesmo! Procurou conter-se e se afastou, indeciso. Num súbito impulso de indignação – agora iria até o fim – dirigiu-se à recebedoria.

– O Mafra? Não trabalha aqui, meu amigo, nem nunca trabalhou.

– Eu sei. Ele é da pagadoria. Mas foi quem me deu os cem cruzeiros a mais.

Informaram-lhe que não podiam receber: tratava-se de uma devolução, não era isso mesmo? E não de pagamento. Tinha trazido a guia? Pois então? Onde já se viu pagamento sem guia? Receber mil cruzeiros a troco de quê?

– Mil não: cem. A troco de devolução.

– Troco de devolução. Entenda-se.

– Pois devolvo e acabou-se.

– Só com o chefe. O próximo!

O chefe da seção já tinha saído: só no dia seguinte. No dia seguinte, depois de fazê-lo esperar mais de meia hora, o chefe informou-lhe que deveria redigir um ofício historizando o fato e devolvendo o dinheiro.

– Já que o senhor faz tanta questão de devolver.

– Questão absoluta.

– Louvo o seu escrúpulo.

– Mas o nosso amigo ali do guichê disse que era só entregar ao senhor – suspirou ele.

– Quem disse isso?

– Um homem de óculos naquela seção do lado de lá. Recebedoria, parece.

– O Araújo. Ele disse isso, é? Pois olhe: volte lá e diga-lhe para deixar de ser besta. Pode dizer que fui eu que falei. O Araújo sempre se metendo a entender!

– Mas e o ofício? Não tenho nada com essa briga, vamos fazer logo o ofício.

– Impossível: tem de dar entrada no protocolo. Saindo dali, em vez de ir ao protocolo, ou ao Araújo para dizer-lhe que deixasse de ser besta, o honesto cidadão dirigiu-se ao guichê onde recebera o dinheiro, fez da nota de cem cruzeiros uma bolinha, atirou-a lá dentro por cima do vidro e foi-se embora.

SABINO, Fernando. Disponível em: <<http://www.velhosamigos.com.br/Colaboradores/Diversos/fernandosabino2.html>>. Acesso em: 13 abr. 2015.

— QUESTÃO 01 —

O Texto 1 é uma crônica e infere-se, a partir do fato do cotidiano narrado, uma crítica à

- (A) dificuldade para solucionar problemas.
- (B) rigidez do sistema burocrático estatal.
- (C) superficialidade da linguagem burocrática.
- (D) falta de consciência política das pessoas.

— QUESTÃO 02 —

A expressão “com toda urbanidade” torna o enunciado irônico. Esse recurso é utilizado no texto para criticar a

- (A) popularização do uso de estruturas eruditas.
- (B) vulgarização do emprego de termos especializados.
- (C) forma como as pessoas são atendidas nas repartições.
- (D) maneira como os cidadãos comuns se tratam em público.

— QUESTÃO 03 —

O texto traz trechos que apontam para a morosidade do atendimento no Ministério. Essa morosidade se confirma no seguinte trecho:

- (A) “não conseguiu sequer aproximar-se do guichê antes de encerrar-se o expediente.”
- (B) “Mas o nosso amigo ali do guichê disse que era só entregar ao senhor – suspirou ele.”
- (C) “Não posso receber, só posso pagar. Receber, só na recebedoria.”
- (D) “Impossível: tem de dar entrada no protocolo.”

— QUESTÃO 04 —

Nos diálogos do texto, à pergunta “Receber mil cruzeiros a troco de quê?” é dada a resposta “A troco de devolução”, para causar efeito de humor. Esse efeito decorre

- (A) do entendimento equivocado da instrução recebida.
- (B) da interpretação literal de um sentido figurado.
- (C) do nervosismo do público presente na fila.
- (D) da irritação do atendente da seção.

— QUESTÃO 05 —

No trecho: “para que o funcionário lhe fechasse na cara a janelinha de vidro”, a construção destacada significa que

- (A) o funcionário feriu o rosto do narrador com a janela de vidro.
- (B) a espera na fila de repartição pública é sempre um transtorno.
- (C) o expediente foi interrompido quando chegou a vez do narrador.
- (D) a seção de atendimento ao público foi aberta no horário previsto.

— QUESTÃO 06 —

Na construção do texto, a conjunção “mas” no trecho “Tenham paciência, mas está na hora do meu café”, estabelece

- (A) conexão entre os períodos do texto.
- (B) encadeamento sequencial ao texto.
- (C) efeitos discursivos aos sentidos do texto.
- (D) coerência entre os argumentos do texto.

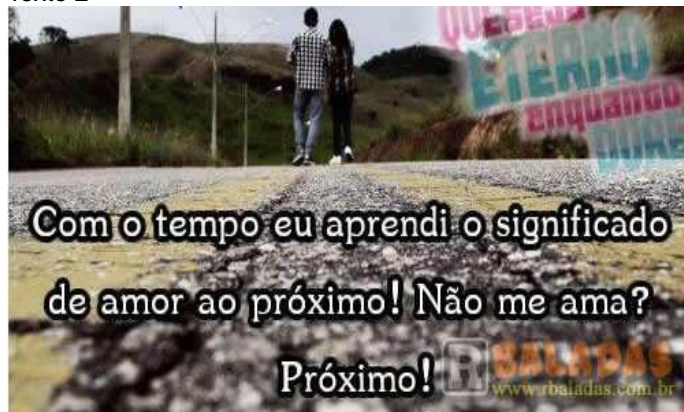
— QUESTÃO 07 —

A linguagem utilizada na construção do texto caracteriza-se por

- (A) um estilo espontâneo e padrão normativo.
- (B) um registro particular e escolhas lexicais próprias.
- (C) uma figurativização verbal e plasticidade do conteúdo.
- (D) uma estruturação oracional erudita e construção semântica arcaica.

Releia o Texto 1 e leia o Texto 2 para responder às questões de **08 a 10**.

Texto 2



Disponível em: <<http://www.rbaladas.com.br/index.php?pagina=humor&pag=35>>. Acesso em: 13 abr. 2015.

— QUESTÃO 08 —

A palavra “Próximo!” é empregada nos Textos 1 e 2 significando que

- (A) há pessoas na fila que têm esse apelido.
- (B) é uma senha de chamada nas filas de atendimento.
- (C) chegou a vez da próxima pessoa a aguardar na fila.
- (D) é um tratamento ofensivo em filas de espera.

— QUESTÃO 09 —

Nos Textos 1 e 2, a palavra “Próximo!” auxilia na produção do

- (A) entendimento do discurso público.
- (B) sentido pejorativo atribuído a termos usuais na língua.
- (C) efeito de sentido predominante nos dois textos.
- (D) conteúdo semântico da mensagem.

— QUESTÃO 10 —

O recurso empregado para a produção do efeito de humor no Texto 2 é a

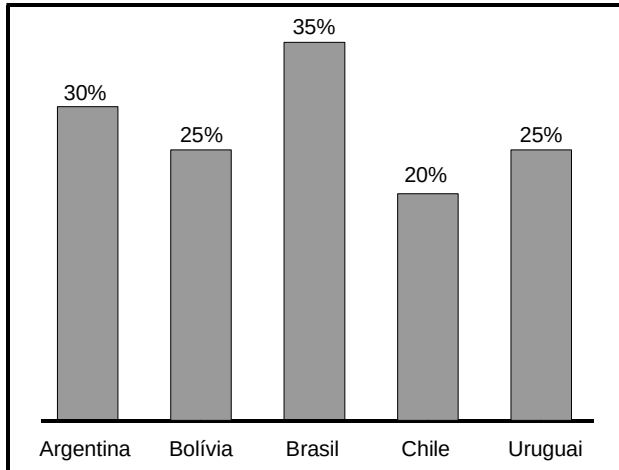
- (A) ambiguidade.
- (B) inferência.
- (C) pressuposição.
- (D) intertextualidade.

CONHECIMENTOS GERAIS – MATEMÁTICA

— QUESTÃO 11 —

O gráfico a seguir mostra a porcentagem do produto interno bruto (PIB) que representa o total de impostos recolhidos por alguns países da América Latina.

Total de impostos como porcentagem do PIB, 2012.



OECD et al. Tax revenue trends 1990-2013. In: _____. Revenue Statistics. In: Latin America and the Caribbean, 2015. OECD, Publishins. Disponívem em: <http://dx.doi.org/10.1787/rev_lat-2015-3-en-f>. Acesso em: 12 mar. 2015. (Adaptado).

A tabela a seguir mostra o valor do PIB desses mesmos países, também no ano de 2012.

PIB, em 2012.

País	PIB do ano 2012 (em bilhões de dólares)
Argentina	U\$ 600,00
Bolívia	U\$ 28,00
Brasil	U\$ 2 220,00
Chile	U\$ 266,00
Uruguai	U\$ 50,00

Disponível em: <<http://data.worldbank.org/indicator/NY.GDP.MKTP.CD>>. Acesso em: 12 mar. 2015. (Adaptado).

Com base nas informações apresentadas, colocando em ordem crescente o valor, em bilhões de dólares, do total de impostos recolhidos por esses países em 2012, obtém-se a seguinte ordenação:

- (A) Bolívia, Uruguai, Chile, Argentina e Brasil.
- (B) Chile, Bolívia, Uruguai, Brasil e Argentina.
- (C) Brasil, Argentina, Chile, Uruguai e Bolívia.
- (D) Argentina, Brasil, Uruguai, Bolívia e Chile.

— QUESTÃO 12 —

Leia o texto a seguir.

O desmatamento acumulado nos sete primeiros meses do calendário oficial de medição, na Amazônia, é de 1 674 quilômetros quadrados, enquanto, no período anterior, foram desmatados 540 quilômetros quadrados.

Disponível em: <<http://noticias.uol.com.br/ultimas-noticias/agencia-estado>>. Acesso em: 4 abr. 2015. (Adaptado).

De acordo com o texto, o aumento do desmatamento, do período anterior para o outro, foi de

- (A) 0,31%
- (B) 2,10%
- (C) 210%
- (D) 310%

— QUESTÃO 13 —

Um microempreendedor estocou, em sua empresa distribuidora, a mesma quantidade de galões de água mineral de duas diferentes marcas. A empresa conseguiu vender 50 galões por mês da marca “Água Pura”. Já os galões de água da marca “Minas Claras” esgotaram-se ao final do décimo mês de venda, pois a empresa vendeu 150 galões por mês. Em certo momento desse período, a quantidade estocada de galões da marca “Água Pura” ficou igual ao dobro da quantidade estocada de galões da outra marca. Isso aconteceu ao final de qual mês de venda?

- (A) Do terceiro mês.
- (B) Do quarto mês.
- (C) Do quinto mês.
- (D) Do sexto mês.

— QUESTÃO 14 —

A embalagem de um produto de limpeza contém uma tampa para medir a quantidade do produto a ser utilizada. No rótulo, estão as seguintes instruções:

Diluição recomendada:

Diluir duas tampas cheias do produto em 1 litro de água ou, de forma equivalente, diluir $\frac{3}{5}$ de um copo de 300 mL em um balde de cinco litros de água.

Considerando essas recomendações, a tampa da embalagem desse produto tem capacidade, em mL, de:

- (A) 15
- (B) 18
- (C) 150
- (D) 180

— QUESTÃO 15 —

Em uma padaria, o pão de queijo é vendido a R\$ 28,00 o quilo. Um cliente pede ao atendente para embalar a quantidade de pães de queijo correspondente a R\$ 10,50. Nessas condições, a quantidade, em gramas, que o atendente deve embalar é

- (A) 75
- (B) 125
- (C) 250
- (D) 375

— RASCUNHO —**— RASCUNHO —**

CONHECIMENTOS GERAIS – INFORMÁTICA**— QUESTÃO 16 —**

O recurso Localizar e Substituir em um texto, no software livre BrOffice, permite encontrar uma palavra e substituí-la por outra. Este recurso está localizado no menu

- (A) Arquivo.
- (B) Editar.
- (C) Exibir.
- (D) Ferramenta.

— QUESTÃO 17 —

No WORD, após a edição de um texto com o nome UFG.-docx, é necessário salvá-lo com seu nome atual e, em seguida, fazer uma cópia com um nome que indique uma versão, por exemplo, UFG2015.docx, utilizando, respectivamente, os seguintes comandos:

- (A) Salvar e Salvar Como.
- (B) Salvar e Trocar Nome.
- (C) Gravar e Converter.
- (D) Gravar e Atualizar.

— QUESTÃO 18 —

Na Universidade Federal de Goiás, um funcionário da secretaria de um curso fica encarregado de digitalizar uma série de documentos, contendo cada um somente textos digitados em antigas máquinas de escrever. Os tipos de equipamento e de classe de software que permitem proceder a esta digitalização de forma que o documento digitalizado possa ser editado, por exemplo, no editor de textos Word, são, respectivamente,

- (A) Scanner e ADR.
- (B) Printer e FTC.
- (C) Printer e DDR.
- (D) Scanner e OCR.

— QUESTÃO 19 —

No Sistema Operacional Windows, é possível adicionar ou remover programas usando o

- (A) PAINEL DE CONTROLE.
- (B) WINDOWS UPDATE.
- (C) CENTRAL DE SEGURANÇA.
- (D) INICIAR NOVO PROGRAMA.

— QUESTÃO 20 —

No contexto da Internet, quando é citado tecnicamente 'Computação na Nuvem' (*Cloud Computing*), o termo utilizado genericamente como "nuvem" representa, simbolicamente,

- (A) a rede local.
- (B) a internet.
- (C) as bases de dados.
- (D) os servidores.

— RASCUNHO —

CONHECIMENTOS ESPECÍFICOS**— QUESTÃO 21 —**

Em um exame radiográfico odontológico é importante o uso de protetores, isto é, vestimentas de chumbo para a proteção individual contra os raios X. Estes protetores devem ser utilizados:

- (A) pelo cirurgião dentista (CD).
- (B) pelo CD e pela equipe auxiliar.
- (C) pelo paciente.
- (D) pelo CD, pela equipe auxiliar e pelo paciente.

— QUESTÃO 22 —

O processamento das imagens radiográficas em odontologia pode ser de modo convencional ou digital. Para o processamento convencional é imperativo que as seguintes etapas sejam, pela ordem, executadas após a abertura do filme:

- (A) fixação, revelação, lavagem final e secagem.
- (B) revelação, fixação, lavagem final e secagem.
- (C) fixação, lavagem intermediária, revelação, lavagem final e secagem.
- (D) revelação, lavagem intermediária, fixação, lavagem final e secagem.

— QUESTÃO 23 —

No armazenamento, os frascos do pó e líquido de cimento de ionômero de vidro devem estar bem fechados, para evitar:

- (A) o aquecimento.
- (B) o ganho ou a perda de água.
- (C) o resfriamento.
- (D) a sedimentação.

— QUESTÃO 24 —

A saliva é um fluido, produzido por glândulas salivares, que pode influenciar o processo patológico da doença cárie. São funções da saliva:

- (A) neutralização da produção dos ácidos e inibição da perda mineral do elemento dentário.
- (B) neutralização da produção dos ácidos e aumento da perda mineral do elemento dentário.
- (C) inibição da perda mineral do elemento dentário e aumento da produção de sacarose.
- (D) aumento do processo de desmineralização do elemento dentário e aumento da produção de sacarose.

— QUESTÃO 25 —

Após identificar a presença de um dente não irrompido na região anterior da maxila, o CD informa ao técnico que utilizará o método de localização de Clark para descobrir se o dente está localizado por vestibular ou palatino. Na ocasião, ele deverá preparar:

- (A) um filme periapical e um filme oclusal.
- (B) dois filmes periapicais.
- (C) dois filmes oclusais.
- (D) um filme oclusal e um filme panorâmico.

— QUESTÃO 26 —

O campo do conhecimento que visa modificar os sistemas de trabalho para adequar a atividade nele existente às características, habilidades e limitações das pessoas com vistas ao desempenho eficiente, confortável e seguro dos profissionais da saúde, é chamado de:

- (A) biossegurança.
- (B) ética.
- (C) ergonomia.
- (D) deontologia.

— QUESTÃO 27 —

A legislação brasileira, especificamente a Lei n. 11.889/2008, enfatiza que realizar isolamento do campo operatório é competência do

- (A) ASB.
- (B) TSB.
- (C) TPD e do TSB.
- (D) ASB e do TSB.

— QUESTÃO 28 —

Um cirurgião-dentista, ao atender um adolescente com atividade de cárie, indica uma solução para bochecho visando à remineralização. Esta solução deverá conter:

- (A) hipoclorito de sódio.
- (B) hidróxido de sódio.
- (C) solução de Milton.
- (D) flúor.

— QUESTÃO 29 —

O CD solicita ao seu auxiliar que monte uma mesa com o arco de Ostby, pinça de Palmer e grampo n. 211. O profissional está prestes a realizar um procedimento de:

- (A) cirurgia periodontal.
- (B) isolamento absoluto.
- (C) exodontia de dente incluso.
- (D) tratamento de alveolite.

— QUESTÃO 30 —

Em um procedimento clínico, o CD necessita realizar o bloqueio ou a anestesia da região na qual vai intervir. Para a realização da anestesia, o CD solicitará:

- (A) a seringa carpule.
- (B) a seringa centrix.
- (C) o Hollenback.
- (D) o alveolótomo.

— QUESTÃO 31 —

Após anamnese, o CD inicia exame clínico em criança de seis anos de idade. Na ocasião, diagnostica presença de lesão de cárie nos dentes 51 e 61. Estes dentes correspondem aos

- (A) incisivos centrais superiores permanentes.
- (B) incisivos centrais superiores decíduos.
- (C) incisivos centrais inferiores permanentes.
- (D) incisivos centrais inferiores decíduos.

— QUESTÃO 32 —

A aglutinação do pó e líquido do cimento de ionômero de vidro pode ser feita sobre a placa de vidro grossa ou sobre um bloco de papel fornecido pelo fabricante. Esta manipulação não deve prolongar além do recomendado pelo fabricante para a incorporação de todo o pó ao líquido. Qual deve ser o aspecto superficial do cimento após sua correta manipulação?

- (A) Opaco.
- (B) Fosco.
- (C) Rugoso.
- (D) Brilhante.

— QUESTÃO 33 —

Para a realização do tratamento endodôntico, é importante o uso de solução de irrigação capaz de matar bactérias, dissolver tecido necrótico e lubrificar o canal. Das soluções a seguir, qual é utilizada para irrigação no tratamento endodôntico?

- (A) Verniz fluoretado.
- (B) Hipoclorito de sódio.
- (C) Formol.
- (D) Ionômero de vidro.

— QUESTÃO 34 —

Um CD solicita que em sua mesa clínica estejam presentes os seguintes instrumentos: brocas de Gates-Gliden e alargadores de Peeso. Na ocasião, o dentista realizará um procedimento de:

- (A) dentística.
- (B) cirurgia.
- (C) periodontia.
- (D) endodontia.

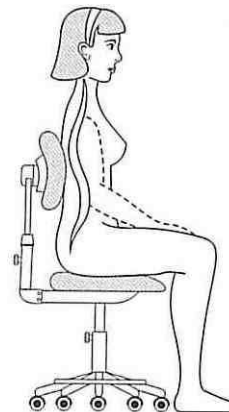
— QUESTÃO 35 —

Durante o atendimento odontológico, o CD solicita à TSB que marque no odontograma do prontuário clínico que o dente 34 possui uma lesão de cárie na superfície mesial. Qual é o dente 34?

- (A) Primeiro pré-molar inferior direito.
- (B) Primeiro pré-molar inferior esquerdo.
- (C) Segundo molar inferior direito.
- (D) Segundo molar inferior esquerdo.

— QUESTÃO 36 —

Para o atendimento clínico em odontologia é importante que tanto o CD quanto o profissional auxiliar utilizem um mocho para o trabalho sentado. Analise a imagem a seguir do ponto de vista ergonômico.



De acordo com essa representação,

- (A) a posição do encosto do mocho está adequada.
- (B) o assento do mocho está baixo, e a posição está inadequada.
- (C) os pés estão tocando totalmente o solo, e a posição está inadequada.
- (D) o encosto do mocho está alto demais, e a posição está inadequada.

— QUESTÃO 37 —

Para o atendimento clínico em odontologia é importante que a equipe de saúde conte com alguns equipamentos, tais como armário e peças de alta e baixa rotação. A seringa que faz parte do equipamento odontológico e permite ao profissional ejetar ar, água e *spray* é a seringa:

- (A) Tríplice.
- (B) Centrix.
- (C) Luer.
- (D) Carpule.

— QUESTÃO 38 —

Considere que, por descuidos em biossegurança, um dentista que havia atendido um paciente com herpes labial transmitiu tal doença para outros pacientes. Nesse caso, ocorreu uma

- (A) transmissão bacteriana.
- (B) transmissão universal biológica.
- (C) contaminação cruzada.
- (D) contaminação vertical.

— QUESTÃO 39 —

Ao realizar atividade de escovação supervisionada, o técnico orienta ao paciente que ele posicione a escova diretamente no sulco gengival, num ângulo de 45° com o eixo do dente e que force as cerdas para dentro do sulco gengival. Então, é solicitado ao paciente que ele faça um movimento curto para frente e para trás. Qual é a técnica de escovação recomendada?

- (A) Bass.
- (B) Baumer.
- (C) Fones.
- (D) Starkey.

— QUESTÃO 40 —

O processo que visa destruir ou eliminar todas as formas de vida microbianas presentes em um artigo de uso odontológico é conhecido por:

- (A) degermação.
- (B) assepsia.
- (C) desinfecção.
- (D) esterilização.

— QUESTÃO 41 —

Os materiais utilizados em procedimentos que possuem alto risco para desencadear infecção ou que penetram em tecido conjuntivo e ósseo, como no caso do cinzel e da alavanca, são considerados como artigos

- (A) críticos.
- (B) semicríticos.
- (C) acríticos.
- (D) não críticos.

— QUESTÃO 42 —

Dentre os principais desinfetantes químicos utilizados em odontologia, aquele que possui a qualidade de desinfecção de alto nível é o

- (A) álcool 70%.
- (B) álcool 90%.
- (C) glutaraldeído 2%.
- (D) hipoclorito de sódio 1%.

— QUESTÃO 43 —

O SB-Brasil é um levantamento epidemiológico de saúde bucal em nível nacional realizado pelo Ministério da Saúde. Um dos índices avaliados nesta pesquisa é o índice CPO-D. Este índice avalia a história de:

- (A) periodontite.
- (B) oclusopatias.
- (C) traumatismo dentário.
- (D) cárie.

— QUESTÃO 44 —

O ambiente odontológico possibilita que o ar seja uma via potencial de transmissão de micro-organismos que podem contaminar diretamente a equipe de saúde. Qual é a ação que diminui o risco de transmissão de micro-organismos pelo ar?

- (A) Aumento do fluxo de saída de água da refrigeração da alta rotação.
- (B) Uso frequente da seringa tríplice na forma de *spray*.
- (C) Uso de dique de borracha quando o procedimento permitir.
- (D) Uso de sugadores de baixa potência.

— QUESTÃO 45 —

Quando o ASB prepara a liga de amálgama para uma restauração, ele se encontra em um risco ocupacional classificado como:

- (A) físico.
- (B) químico.
- (C) mecânico.
- (D) biológico.

— QUESTÃO 46 —

Na prática odontológica cotidiana é comum encontrar-se a presença de situações de risco, isto é, de riscos ocupacionais. Quando os profissionais estão submetidos, por exemplo, a um ambiente com iluminação deficiente, eles ficam sujeitos a um risco

- (A) físico.
- (B) químico.
- (C) mecânico.
- (D) biológico.

— QUESTÃO 47 —

De acordo com o calendário de vacinação ocupacional recomendado pela Sociedade Brasileira de Imunizações, os profissionais da equipe odontológica devem ser vacinados contra a Hepatite B, segundo o seguinte esquema:

- (A) dose única.
- (B) duas doses, com 0 e 12 meses.
- (C) três doses, com 0, 1 e 6 meses.
- (D) quatro doses, com 0, 4, 6 e 12 meses.

— QUESTÃO 48 —

A Estratégia Saúde da Família (ESF) visa à reorganização da atenção básica no país, de acordo com os preceitos do Sistema Único de Saúde. O profissional responsável pelas visitas domiciliares e pelo preenchimento da Ficha "A" é o

- (A) médico.
- (B) cirurgião-dentista.
- (C) técnico em saúde bucal.
- (D) agente comunitário de saúde.

— QUESTÃO 49 —

O amálgama é um dos materiais restauradores utilizados em odontologia. Em sua composição encontra-se o mercúrio. Segundo a RDC 306/04 da Anvisa, os resíduos que contêm mercúrio devem ser:

- (A) acondicionados em recipientes sob selo d'água e encaminhados para a recuperação.
- (B) envoltos em gaze estéril e descartados em saco de lixo preto.
- (C) envoltos em gaze estéril e descartados em saco de lixo branco leitoso.
- (D) misturados à solução de água e hipoclorito e, seqüencialmente, aspirados por sugador.

— QUESTÃO 50 —

Em determinada situação, um CD solicita que o TSB realize uma tomada radiográfica periapical de um paciente que aguarda atendimento na recepção. Prontamente, o TSB atende ao solicitado e realiza o procedimento. Nesta situação, segundo o Código de Ética Odontológica, ocorreu um caso de:

- (A) falta de ética exclusiva do TSB.
- (B) falta de ética exclusiva do CD.
- (C) falta de ética do CD e do TSB.
- (D) cumprimento do código de ética pelo TSB e pelo CD.