

# Prefeitura Municipal de Simonésia/MG

## CONCURSO PÚBLICO Nº 001/2016



## Assistente Social

**Tarde**

Organizadora:



PCI Concursos

**Senilidade e a invisibilidade social**

(...) A maioria dos idosos no Brasil encontra-se em condição de invisibilidade social, política e muitas vezes familiar. Morte social? Morte familiar? Estão vivos, mas não possuem lugar. A visão sobre o ancião mudou, do patriarca para... para o quê? Em muitas famílias não há o espaço para o idoso. Há alguns anos atrás o idoso era tido como patriarca, que era dotado de sabedoria. (...)

O ancião era o guia familiar, os mais novos pediam conselho e ouviam as suas orientações. Eles exerciam um papel que, após o término da sua função de produtividade, assumiam o de líderes familiares. O idoso saía do lugar de provedor, cargo este assumido por seus filhos, para ocupar o de orientador. A sabedoria nada tinha a ver com estudos, era o arquivo das experiências da vida.

Hoje, algumas famílias encontram-se cada vez mais fechadas e mais focadas na produção, aquele que não produz não tem espaço. O idoso dessa forma perde o seu lugar na família e na sociedade. No entanto, acredito que, assim como os jovens conseguiram, ao longo da história, mudar sua posição social e familiar, tornando-se importante foco da sociedade, a senilidade conseguirá novamente o respeito.

Como? Se cada família jovem conseguir compreender que, em determinado momento, precisará cuidar de seus idosos, irá construir em seus filhos a mesma compreensão. Se conseguir sair das justificativas capitalistas, conseguir valorizar o saber, sobrepondo o valor da produção, irá reconstruir o valor do idoso. Se pais, filhos e netos assimilarem o ciclo vital e conseguirem ressignificar os papéis familiares, todos terão direito e lugar na sociedade.

(...) A população está envelhecendo e precisamos modificar o nosso olhar, a nossa educação e o respeito por aqueles que fizeram parte da história.

(Disponível em: <http://camilamacielopolonio.blogspot.com.br/search/label/Senilidade>. Acesso em: abril de 2016.)

**01**

**No título do texto, pode-se afirmar que a autora**

- A) contrapõe, fundamentalmente, dois estados sociais que serão abordados no texto.
- B) apresenta uma alternância em que a mesma ênfase é atribuída às duas situações apresentadas.
- C) expressa a existência de uma associação entre elementos distintos, mas presentes na sociedade.
- D) estabelece a união de duas situações, demonstrando ser a primeira fundamental e a outra, subsidiária.

**02**

**Quanto à função sintática das palavras, dentre os termos destacados identifique o que se difere dos demais.**

- A) “A sabedoria nada tinha a ver com estudos, era o arquivo das experiências da vida.” (2º§)
- B) “O ancião era o guia familiar, os mais novos pediam conselho e ouviam as suas orientações.” (2º§)
- C) “[...] tornando-se importante foco da sociedade, a senilidade conseguirá novamente o respeito.” (3º§)
- D) “Eles exerciam um papel que, após o término da sua função de produtividade, assumiam o de líderes familiares.” (2º§)

**03**

**Em “Em muitas famílias não há o espaço para o idoso.” (1º§) ocorre o emprego do verbo “haver”, verbo impessoal e que se apresenta na terceira pessoa do singular por este motivo. Dentre as concordâncias a seguir, apenas uma está correta por se tratar também de um verbo impessoal; assinale-a.**

- A) Faz invernos rigorosos no Sul do Brasil.
- B) Choveu asneiras nas provas de redação.
- C) Soa quinze horas no relógio do Parque Central.
- D) Aqui não se comete equívocos nem se pratica tais coisas.

**04**

**No primeiro parágrafo, o uso de reticências em “patriarca para... para o quê?” tem por objetivo**

- A) assinalar inflexão de natureza subjetiva.
- B) marcar suspensão provocada por surpresa do enunciador.
- C) indicar a interrupção de uma ideia cuja expressão teve apenas início.
- D) indicar que a ideia que se pretende exprimir deve ser suprida pelo próprio leitor.

05

Diante da construção argumentativa feita, é possível identificar a citação de uma possível causa para que o cenário em relação à atual situação do idoso esteja da forma como é apresentado no texto. Sua identificação está correta em:

- A) “A maioria dos idosos no Brasil encontra-se em condição de invisibilidade, social, política e muitas vezes familiar.” (1º§)
- B) “Hoje, algumas famílias encontram-se cada vez mais fechadas e mais focadas na produção, aquele que não produz não tem espaço.” (3º§)
- C) “Em muitas famílias não há o espaço para o idoso. Há alguns anos atrás o idoso era tido como patriarca, que era dotado de sabedoria.” (1º§)
- D) “A população está envelhecendo e precisamos modificar o nosso olhar, a nossa educação e o respeito por aqueles que fizeram parte da história.” (5º§)

06

Dentre os recursos utilizados pela autora para compor a estrutura textual de acordo com a tipologia apresentada, pode-se afirmar acerca das duas primeiras indagações do primeiro parágrafo que, EXCETO:

- A) Seu emprego produz no leitor uma ação reflexiva diante da situação apresentada.
- B) São incoerentes, já que fazem referência a apenas duas condições das três citadas anteriormente.
- C) É possível que os dois tipos de mortes possam ser vividos concomitantemente pelo sujeito em questão.
- D) O termo “morte” que compõe as expressões possui um significado que extrapola o utilizado usualmente.

07

“O idoso dessa forma perde o seu lugar na família e na sociedade. No entanto, acredito que, assim como os jovens conseguiram, ao longo da história, mudar sua posição social e familiar, tornando-se importante foco da sociedade, a senilidade conseguirá novamente o respeito.” (3º§) A expressão em destaque no trecho anterior, mantendo a relação já estabelecida, poderia ser substituída por todas as opções da alternativa:

- A) Todavia, contudo, entretanto.
- B) Pois, ainda que, mas também.
- C) Embora, consoante, porquanto.
- D) Não obstante, de modo que, por conseguinte.

08

Diante do tema abordado no texto, a autora apresenta sugestão de intervenção relacionada à discussão desenvolvida de forma pontual no(s):

- A) 4º e 5º parágrafos.
- B) 1º e 2º parágrafos.
- C) 4º parágrafo apenas.
- D) 3º, 4º e 5º parágrafos.

09

Diante dos limites estruturais do texto apresentado, pode-se afirmar que tem por principal objetivo

- A) desconstruir a tese de que o idoso possui uma condição de fragilidade na sociedade de produção.
- B) demonstrar a organização textual para que as informações cheguem até o leitor de forma satisfatória.
- C) discutir a necessidade de que haja uma transformação na posição ocupada pelo idoso na sociedade atual.
- D) apresentar, objetivamente, informações necessárias para a constatação do verdadeiro papel do idoso na sociedade contemporânea.

10

“Há alguns anos atrás o idoso era tido como patriarca, que era dotado de sabedoria.” (1º§) Assinale a alternativa cuja paráfrase para a frase anterior em destaque mantém o sentido original.

- A) “Há alguns anos o idoso era tido como patriarca cuja sabedoria lhe era pertinente.”
- B) “Faz alguns anos que o idoso era tido como exemplo, que era dotado de sabedoria.”
- C) “Há alguns anos atrás, tinha-se o idoso como patriarca, onde era dotado de sabedoria.”
- D) “O idoso, há alguns anos atrás, era visto como fonte de conhecimento, sendo dotado de sabedoria.”

NOÇÕES DE INFORMÁTICA

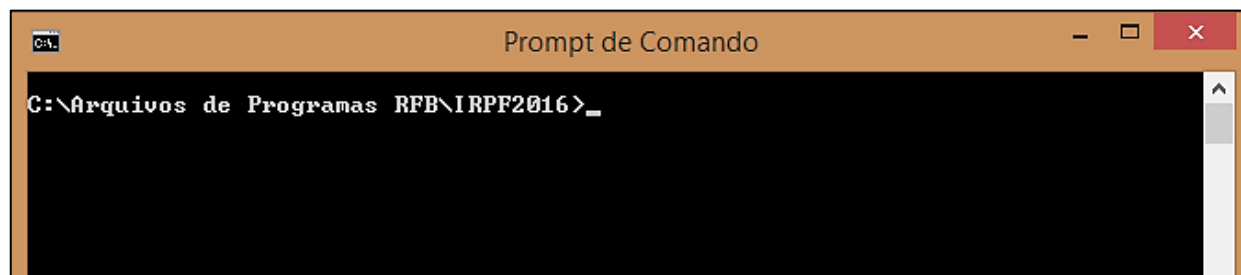
11

O único periférico que pode ser considerado exclusivo para entrada de dados em um computador é:

- A) Pen Drive. C) Leitor de código de barras.  
B) Monitor Touch Screen. D) Impressora multifuncional.

12

Considere a seguinte tela com um comando digitado no *prompt* de comandos do MS-DOS.



O comando que pode ser utilizado para voltar ao diretório raiz do computador é:

- A) cd B) cd.. C) cd\ D) cd\*

13

No Sistema Operacional *Microsoft Windows 8.1* (configuração padrão), são opções de exibição de arquivos em um diretório, EXCETO:

- A) Lista. B) Detalhes. C) Ícones grandes. D) Ícones miniaturas.

14

Na ferramenta *Microsoft Office Word 2007* (configuração padrão), o recurso para comparar duas versões de um documento está disponível no grupo:

- A) Controle da guia Início. C) Gerenciador da guia *Layout* da Página.  
B) Comparar da guia Revisão. D) Comparar Documentos da guia Exibição.

15

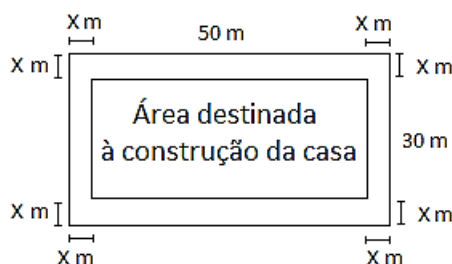
Na ferramenta *Microsoft Office Excel 2007* (configuração padrão), um usuário digitou a fórmula =MÉDIA(10;1;10;"A") na célula A1 da planilha. Pode-se afirmar que será exibido

- A) o valor 6.  
B) o valor 0.  
C) o valor 21.  
D) um erro, pois foi utilizado um tipo de dados incorreto na fórmula.

RACIOCÍNIO LÓGICO

16

Um terreno foi dividido para a construção de uma casa e a área destinada a mesma foi distanciada X m das bordas do terreno, como mostra a figura a seguir:



Sabendo que “a área destinada à construção da casa” tem 1.125 m<sup>2</sup>, então a distância X é igual a:

- A) 2,5 m. B) 2,75 m. C) 3 m. D) 3,5 m.

**17**

Uma empresa de aluguel de veículos oferece dois planos para o aluguel de carros. No primeiro o pagamento é diário cujo valor é de R\$ 75,00. No segundo o pagamento inclui um valor fixo de R\$ 300,00 e R\$ 25,00 diários. O dia no qual o cliente começa a ter economia utilizando o segundo plano é:

- A) 6. B) 7. C) 8. D) 9.

**18**

Uma moto A percorreu uma distância de 40 km com uma velocidade média de 90 km/h. Uma moto B fez o mesmo percurso com um tempo de 6 min e 40 segundos maior que o gasto pela moto A. A diferença entre a velocidade média das motos A e B, nesse percurso, foi de:

- A) 12 km/h. B) 16 km/h. C) 18 km/h. D) 24 km/h.

**19**

Uma progressão aritmética finita de razão 7 tem a soma dos 10 últimos termos igual a 1.195. Sabendo-se que o 1º termo é 4, então o número de termos da progressão é:

- A) 18. B) 21. C) 22. D) 23.

**20**

Afonso, Tamires e Jorge compraram carne para um churrasco. Afonso comprou 2,5 kg de picanha e 800 g de alcatra, pagando um total de R\$ 77,70. Tamires comprou 1,2 kg de picanha e 1,5 kg de alcatra e pagou um total de R\$ 58,50. Sabendo que Jorge comprou 1 kg de picanha e 1,8 kg de alcatra, então o preço total pago por Jorge foi de:

- A) R\$ 32,50. B) R\$ 46,30. C) R\$ 53,50. D) R\$ 59,20.

**CONHECIMENTOS GERAIS**


**21**

A Estrada Real foi construída pelos africanos escravizados ligando as terras mineiras ao litoral brasileiro. Inicialmente essa estrada ligava a antiga Vila Rica ao porto de Paraty no Rio de Janeiro. Com a necessidade de ter um caminho mais rápido e seguro foi construída uma nova estrada que dessa vez passou a ligar Vila Rica ao então porto do Rio de Janeiro. Em qual município há o encontro do Caminho Velho com o Caminho Novo da Estrada Real?

- A) Petrópolis. B) Ouro Preto. C) Diamantina. D) São João Del Rei.

**22**

Vários artistas deixaram registrados em suas obras aspectos dos lugares onde viveram ou que somente conheceram. “A pintura a seguir é de uma famosa artista brasileira, considerada uma das pioneiras do Modernismo no Brasil.”



Trata-se da artista:

- A) Anita Malfatti. B) Tarsila do Amaral. C) Rachel de Queiroz. D) Abigail de Andrade.

**23**

O cangaço tem suas origens históricas por volta do século XVIII; se constituiu num movimento social relacionado à questão fundiária do Nordeste e teve seu auge entre os anos de 1919 e 1927. São nomes relacionados ao Cangaço, EXCETO:

- A) Virgulino Ferreira da Silva, o Lampião. C) Manuel Batista de Moraes, o Antônio Silvino.  
B) Cristiano Gomes da Silva Cleto, o Corisco. D) Antônio Vicente Maciel, o Antônio Conselheiro.

**24**

O Brasil possui um potencial energético privilegiado se comparado ao de muitos países. A exploração e a produção de petróleo e gás natural são essenciais para garantir o atendimento à crescente demanda de energia do país. Entretanto, a maior parte de nossas reservas de petróleo estão localizadas em campos marítimos. A área de maior exploração petrolífera *onshore* em nosso país é na Bacia

- A) do Recôncavo, na Bahia. C) de Campos, no Rio de Janeiro.  
B) de Santos, em São Paulo. D) Potiguar, no Rio Grande do Norte.

**25**

O período regencial foi marcado pela abdicação do trono do então imperador Dom Pedro I e pela ascensão de seu sucessor Pedro de Alcântara, ainda uma criança, situação que tornava inviável sua real efetivação no poder. O país então passou a ser comandado por regentes até que Dom Pedro II atingisse sua maioridade. Entretanto, a disputa pelo controle do governo gerou uma grave crise política que culminou no surgimento de inúmeras revoltas pelo império. São revoltas do período regencial, EXCETO:

- A) Cabanagem. C) Guerra de Canudos.  
B) Revolta dos Malês. D) Guerra dos Farrapos.

**26**

A maior parte do Acre é formada por florestas e reservas indígenas e extrativistas. Ele só passou a ser considerado um estado brasileiro em 1962, mesmo tendo sido integrado ao território nacional em 1903 após anos de disputa. Antes de pertencer ao território brasileiro, o Acre era uma possessão de qual país sul-americano?

- A) Peru. B) Bolívia. C) Colômbia. D) Venezuela.

**27**

A Segunda Revolução Industrial trouxe para muitos a sensação de que a capacidade inventiva do ser humano não tinha limites. A todo momento uma nova descoberta científica ou tecnológica era anunciada. O entusiasmo foi tão grande que o período compreendido entre a segunda metade do século XIX e os primeiros anos do século XX ficou conhecido como:

- A) *Belle Époque*. C) Mecenato secular.  
B) Trovadorismo. D) Renascimento cultural.

**28**

O estado mais novo do Brasil surgiu após um movimento emancipacionista que se fortaleceu em 1988 e se concretizou com a criação do estado do(de)

- A) Pará. B) Acre. C) Goiás. D) Tocantins.

**29**

“As primeiras transmissões radiofônicas no Brasil foram realizadas em 1922, durante os festejos do primeiro centenário da Independência. Na década de 40 surgiu a primeira rede nacional de radiofonia e com a popularização do rádio diversos artistas se transformaram em ídolos nacionais. Considerada uma das maiores intérpretes da música popular brasileira foi eleita, em 1953, a rainha do rádio. Um dos grandes sucessos interpretados por ela foi Chiquita Bacana, cantado nas marchinhas de carnaval até os dias atuais.” Trata-se de:

- A) Emilinha Borba. B) Elizeth Cardoso. C) Carmen Miranda. D) Chiquinha Gonzaga.

**30**

Analise as afirmativas referentes ao período de 1969 a 1974 no Brasil.

- I. A economia brasileira entrou em um período de intenso crescimento econômico, dando a essa época a denominação de “milagre econômico brasileiro”.  
II. Esse período foi também denominado “anos de chumbo” e considerado o mais violento da ditadura militar.  
III. O general Artur da Costa e Silva era o presidente do Brasil nesse momento.  
IV. Foi instituído o Ato Institucional nº 1 (AI-1), o mais repressivo de todos os dispositivos militares.

Estão corretas as afirmativas

- A) I, II, III e IV. B) I e II, apenas. C) III e IV, apenas. D) II, III e IV, apenas.

**CONHECIMENTOS ESPECÍFICOS**

**31**

A título de senso comum aceita-se que a profissionalização do Serviço Social a partir de um determinado discurso da maioria dos pioneiros e da literatura especializada, inclusive na época do movimento de reconceituação sendo esta, uma visão de dentro e por dentro das fronteiras do Serviço Social, como se ele fosse fruto de uma evolução interna e autônoma das formas de proteção e de apoio social. Sobre a sustentação do movimento de reconceituação em relação ao Serviço Social e à profissão do assistente social, assinale a afirmativa correta.

- A) O Serviço Social se torna profissão ao se atribuir uma base técnico-científica de atividades de ajuda à filantropia.
- B) O Serviço Social se torna profissão ao se atribuir uma base empírica e experimental de atividades de ajuda à filantropia.
- C) O Serviço Social se torna profissão ao se atribuir uma base política de atividades de proposição de políticas públicas e pleno exercício de direitos sociais e cidadania.
- D) O Serviço Social se torna profissão ao se atribuir uma base técnico-científica de atividades de proposição de políticas públicas e pleno exercício de direitos sociais e cidadania.

**32**

No cenário contemporâneo, a competitividade intercapitalista impõe a exigência de qualidade dos produtos para garantir a rentabilidade da produção, em um contexto de globalização da produção e dos mercados. As empresas tornam-se empresas enxutas: cria-se uma empresa mãe (*holding*), que reúne em torno de si, pequenas e médias. Neste cenário, inúmeros estudiosos apontam algumas tendências do mercado de trabalho. Acerca das tendências de trabalho mencionadas, analise as afirmativas a seguir.

- I. Uma classe trabalhadora polarizada, com uma pequena parcela com emprego estável, dotada de força de trabalho altamente qualificada e com acesso a direitos trabalhistas e sociais.
- II. Uma classe trabalhadora polarizada, com uma larga parcela da população com trabalhos precários, temporários, subcontratados etc.
- III. Uma classe trabalhadora polarizada, com uma grande parcela com emprego estável, dotada de força de trabalho altamente qualificada e com acesso a direitos trabalhistas e sociais.
- IV. Uma classe trabalhadora despolarizada.
- V. Surge, neste contexto, o trabalhador polivalente, aquele que é chamado a exercer várias funções, no mesmo tempo de trabalho e com o mesmo salário, como consequência do enxugamento do quadro de pessoal das empresas.

**Estão INCORRETAS apenas as afirmativas**

- A) I e IV.
- B) II e III.
- C) III e V.
- D) III e IV.

**33**

Com renovada capacidade intelectual, ético-política e organizativa, a categoria profissional dos assistentes sociais, as unidades acadêmicas, docentes e discentes da graduação e pós-graduação, sob a coordenação de suas entidades representativas apresentaram-se, à entrada dos anos de 1990, para um amplo repensar coletivo e democrático da profissão. Cabia redimensionar o projeto profissional, a partir de então denominado projeto ético-político, frente às alterações no mundo do trabalho, nas manifestações da questão social, nas práticas do Estado e suas relações com as classes sociais. Foi emblemático começar pela atualização do código de ética, confirmando e ampliando princípios imperativos já definidos no código de 1986. A Resolução CFESS nº 273, de 13/03/1993, mais que um instrumento de normatização, assentou as bases da direção social da profissão. Em relação às bases eleitas na direção social da profissão dos assistentes sociais, conforme contexto anterior, marque V para as alternativas verdadeiras e F para as falsas.

- ( ) A liberdade como valor central.
- ( ) O trabalho como fundante do ser social.
- ( ) A radicalidade democrática descomprometida com a socialização dos meios de produção da riqueza material e cultural.
- ( ) A equidade traduzida em justiça social.
- ( ) O reconhecimento do pluralismo de ideias e de práticas na profissão e na sociedade.

**A sequência está correta em**

- A) V, F, F, V, F.
- B) F, V, F, V, F.
- C) V, V, F, V, V.
- D) V, F, V, F, V.

**34**

De acordo com o Código de Ética do assistente social e a Lei de Regulamentação da profissão (Lei nº 8.662/1993), a competência de firmar jurisprudência na observância do Código de Ética e nos casos omissos é exercida por um órgão específico que funciona como Tribunal Superior de Ética Profissional. A denominação do órgão que exerce a função de Tribunal Superior de Ética Profissional do assistente social é:

- A) Supremo Tribunal Federal. C) Conselho Regional de Serviço Social.  
B) Conselho Federal de Serviço Social. D) Ministério do Desenvolvimento Social.

**35**

Uma característica da presente fase do capitalismo é a brutal ofensiva sobre o mundo do trabalho e o empenho no sentido de impor maior domínio e subordinação aos trabalhadores, subsumindo sua existência de classe (Dias, 1999; Gurgel, 2003). Na década de 1980, inicia-se um ataque aberto e declarado aos Estados-nação do capitalismo periférico, efetivado por um amplo processo de ajustes e reformas destinado a “reestruturar nações” (Moraes, 2006) ou, como analisa *Eric Toussaint* em seu caústico *A Bolsa ou a Vida* (2002, p. 33), a “domesticar os países do Terceiro Mundo”. No Brasil, esse enquadramento ocorre na década de 1990, cujas medidas características deterioraram, sobretudo, as condições de vida das classes subalternizadas. Em relação às características, consequências e medidas observadas no ataque do capitalismo periférico aos Estados-nação, citado no contexto acima, analise as afirmativas a seguir.

- I. Há a redefinição do ciclo das mercadorias.  
II. Instala-se o predomínio do capital financeiro.  
III. O trabalho, reestruturado e tecnificado, torna-se mais heterogêneo e diferenciado.  
IV. O Estado é suplantado pelo mercado nas funções de regulação da vida social.

**Estão corretas apenas as afirmativas**

- A) I, II e IV. B) I, III e IV. C) II e III. D) III e IV.

**36**

No Brasil, apesar dos consideráveis avanços na proteção social, garantidos pela Constituição Federal de 1988, expressos por exemplo, no ECA (Estatuto da Criança e do Adolescente), na LOAS (Lei Orgânica da Assistência Social) e no SUS (Sistema Único de Saúde), esses últimos anos não romperam com as características neoliberais que se expandiram desde os anos 90, face as necessidades sociais da população. No caso da assistência social, merece destaque uma política que propôs uma nova arquitetura institucional e a criação de um Sistema Único de Assistência Social – SUAS que é constituído por programas, projetos e benefícios no âmbito da Assistência Social. Qual a política que propôs uma nova arquitetura institucional e a criação de um Sistema Único de Assistência Social – SUAS supracitada?

- A) Bolsa Família (BF). C) Política Nacional de Assistência Social (PNAS).  
B) Política de Transferência de Renda (PTR). D) Política Nacional por Amostra de Domicílios (PNAD).

**37**

A Resolução nº 33, de 12 de dezembro de 2012, aprovou a Norma Operacional Básica do Sistema Único de Assistência Social – NOB/SUAS e definiu a competência. A política de assistência social, que tem por funções a proteção social, a vigilância socioassistencial e a defesa de direitos, organiza-se sob a forma de sistema público não contributivo, descentralizado e participativo, denominado Sistema Único de Assistência Social – SUAS. Analise as afirmativas a seguir em face das responsabilidades comuns à União, Estados, Distrito Federal e Municípios em relação ao SUAS (Sistema Único de Assistência Social), definidas pela Resolução supracitada.

- I. Garantir que a elaboração da peça orçamentária esteja de acordo com os Planos de Assistência Social e compromissos assumidos no Pacto de Aprimoramento do SUAS.  
II. Garantir e organizar a oferta dos serviços socioassistenciais conforme Tipificação Regional de Serviços Socioassistenciais.  
III. Garantir o comando múltiplo das ações do SUAS pelos órgãos gestores da política de assistência social, conforme preconiza a LOAS.  
IV. Assegurar recursos orçamentários e financeiros próprios para o financiamento dos serviços tipificados e benefícios assistenciais de sua competência, alocando-os no fundo de assistência social.

**Estão corretas apenas as afirmativas**

- A) I e IV. B) II e IV. C) I, II e III. D) I, III e IV.



38

O Código de Ética do assistente social e a Lei de Regulamentação da profissão (Lei nº 8.662/1993) estabelecem a participação e o apoio dos assistentes sociais nos movimentos sociais e organizações populares vinculados à luta pela consolidação e ampliação da democracia e dos direitos de cidadania. Sobre a natureza da participação dos assistentes sociais no contexto supracitado, é correto afirmar que constitui um

- A) dever do assistente social. C) dever assessorio do assistente social.  
B) direito do assistente social. D) direito e um dever do assistente social.

39

A crescente elevação da taxa de juros favorece o sistema bancário e instituições financeiras, assim como a ampliação do superávit primário interfere nas políticas públicas. Ela combina-se com a desigual distribuição de renda e a menor tributação de rendas altas, fazendo com que a carga de impostos recaia sobre a maioria dos trabalhadores. Assinale a alternativa que descreve, corretamente, a forma de interferência que a ampliação do superávit primário supracitado produz sobre as políticas públicas.

- A) Ampliação dos gastos sociais. C) Manutenção dos gastos sociais.  
B) Erradicação dos gastos sociais. D) Compressão dos gastos sociais.

40

Efetivamente, a reorientação da profissão dos assistentes sociais, para atender às novas configurações do desenvolvimento capitalista, exige a qualificação e sistematização de seu espaço sócio-ocupacional tendo em vista atender às requisições de um Estado que começa a implementar políticas no campo social. Nesse contexto, a legitimação do profissional, expressa em seu assalariamento e ocupação de um espaço na divisão sociotécnica do trabalho, vai colocar o emergente Serviço Social brasileiro frente à matriz positivista, na perspectiva de ampliar seus referenciais técnicos para a profissão. Esse processo vai constituir, segundo lamamoto (1992), uma denominação caracterizada pela junção do discurso humanista cristão com o suporte técnico-científico de inspiração na teoria social positivista, reiterando para a profissão o pensamento conservador. Assinale a alternativa que descreve a denominação constituída e citada no contexto acima, segundo lamamoto (1992).

- A) Acordo teórico-religioso. C) Arranjo teórico-doutrinário.  
B) Arranjo racionalista-cristão. D) Acordo humanista-conservador.

## ATENÇÃO



NÃO É PERMITIDA a anotação das respostas da prova em QUALQUER MEIO. O candidato flagrado nesta conduta poderá ser ELIMINADO do processo.



PCI Concursos

## INSTRUÇÕES

1. Material a ser utilizado: caneta esferográfica de tinta azul ou preta, feita de material transparente e de ponta grossa. Os objetos restantes devem ser colocados em local indicado pelo fiscal da sala, inclusive aparelho celular desligado e devidamente identificado.
2. Não é permitida, durante a realização das provas, a utilização de máquinas calculadoras e/ou similares, livros, anotações, impressos ou qualquer outro material de consulta, protetor auricular, lápis, borracha ou corretivo. Especificamente, não é permitido que o candidato ingresse na sala de provas sem o devido recolhimento, com respectiva identificação, dos seguintes equipamentos: *bip*, telefone celular, *walkman*, agenda eletrônica, *notebook*, *palmtop*, *ipod*, *ipad*, *tablet*, *smartphone*, mp3, mp4, receptor, gravador, máquina de calcular, máquina fotográfica, controle de alarme de carro, relógio de qualquer modelo e etc.
3. Não será permitido ao candidato fazer anotações de suas opções de resposta em qualquer meio.
4. Durante a prova, o candidato não deve levantar-se, comunicar-se com outros candidatos e fumar.
5. A duração da prova é de 03 (três) horas, já incluindo o tempo destinado à entrega do Caderno de Provas e à identificação – que será feita no decorrer da prova – e ao preenchimento do Cartão de Respostas (Gabarito).
6. Somente em caso de urgência pedir ao fiscal para ir ao sanitário, devendo no percurso permanecer absolutamente calado, podendo antes e depois da entrada sofrer revista através de detector de metais. Ao sair da sala no término da prova, o candidato não poderá utilizar o sanitário. Caso ocorra uma emergência, o fiscal deverá ser comunicado.
7. O Caderno de Provas consta de 40 (quarenta) questões para os cargos de Nível Superior e 30 (trinta) questões para os demais cargos. Leia-o atentamente.
8. **As questões das provas objetivas são do tipo múltipla escolha, com 04 (quatro) opções (A a D) e uma única resposta correta.**
9. Ao receber o material de realização das provas, o candidato deverá conferir atentamente se o Caderno de Provas corresponde ao cargo a que está concorrendo, bem como se os dados constantes no Cartão de Respostas (Gabarito) que lhe foi fornecido estão corretos. Caso os dados estejam incorretos, ou o material esteja incompleto, ou tenha qualquer imperfeição, o candidato deverá informar tal ocorrência ao fiscal.
10. Os fiscais não estão autorizados a emitir opinião e prestar esclarecimentos sobre o conteúdo das provas. Cabe única e exclusivamente ao candidato interpretar e decidir.
11. O candidato poderá retirar-se do local de provas somente a partir dos 90 (noventa) minutos após o início de sua realização, contudo, não poderá levar consigo o Caderno de Provas, sendo permitida essa conduta apenas no decurso dos últimos 30 (trinta) minutos anteriores ao horário previsto para o seu término.
12. Os 3 (três) últimos candidatos de cada sala somente poderão sair juntos. Caso o candidato insista em sair do local de aplicação das provas, deverá assinar um termo desistindo do Concurso Público e, caso se negue, deverá ser lavrado Termo de Ocorrência, testemunhado pelos 2 (dois) outros candidatos, pelo fiscal da sala e pelo Coordenador da Unidade.

## RESULTADOS E RECURSOS

- As provas aplicadas, assim como os gabaritos oficiais preliminares das provas objetivas serão divulgados na *internet*, no endereço eletrônico [www.idecan.org.br](http://www.idecan.org.br), a partir das 16h00min do dia subsequente ao da realização das provas.
- O candidato que desejar interpor recursos contra os gabaritos oficiais preliminares das provas objetivas disporá de 3 (três) dias úteis, a partir do dia subsequente à divulgação, em requerimento próprio disponibilizado no *link* correlato ao Concurso Público no endereço eletrônico [www.idecan.org.br](http://www.idecan.org.br).
- A interposição de recursos poderá ser feita via *internet*, através do Sistema Eletrônico de Interposição de Recursos, com acesso pelo candidato ao fornecer dados referentes à sua inscrição apenas no prazo recursal, ao IDECAN, conforme disposições contidas no endereço eletrônico [www.idecan.org.br](http://www.idecan.org.br), no *link* correspondente ao Concurso Público. Será disponibilizado um ponto de acesso à *internet* para o candidato localizado na sede da Prefeitura Municipal, à Praça Getúlio Vargas, nº 50, Centro, Simonésia – MG, no horário de 8h00min as 11h00min e de 13h00min as 17h00min.