



## PREFEITURA MUNICIPAL DE SERRANA

ESTADO DE SÃO PAULO

CONCURSO PÚBLICO

### 040. PROVA OBJETIVA

#### MÉDICO OTORRINOLARINGOLOGISTA

- ◆ Você recebeu sua folha de respostas e este caderno contendo 60 questões objetivas.
- ◆ Confira seus dados impressos na capa deste caderno e na folha de respostas.
- ◆ Quando for permitido abrir o caderno, verifique se está completo ou se apresenta imperfeições. Caso haja algum problema, informe ao fiscal da sala.
- ◆ Leia cuidadosamente todas as questões e escolha a resposta que você considera correta.
- ◆ Marque, na folha de respostas, com caneta de tinta azul ou preta, a letra correspondente à alternativa que você escolheu.
- ◆ A duração da prova é de 3 horas e 30 minutos, já incluído o tempo para o preenchimento da folha de respostas.
- ◆ Só será permitida a saída definitiva da sala e do prédio após transcorridos 75% do tempo de duração da prova.
- ◆ Deverão permanecer em cada uma das salas de prova os 3 últimos candidatos, até que o último deles entregue sua prova, assinando termo respectivo.
- ◆ Ao sair, você entregará ao fiscal a folha de respostas e este caderno, podendo levar apenas o rascunho de gabarito, localizado em sua carteira, para futura conferência.
- ◆ Até que você saia do prédio, todas as proibições e orientações continuam válidas.

**AGUARDE A ORDEM DO FISCAL PARA ABRIR ESTE CADERNO DE QUESTÕES.**

Nome do candidato \_\_\_\_\_

RG \_\_\_\_\_

Inscrição \_\_\_\_\_

Prédio \_\_\_\_\_

Sala \_\_\_\_\_

Carteira \_\_\_\_\_



## CONHECIMENTOS GERAIS

### LÍNGUA PORTUGUESA

Leia o texto, para responder às questões de números **01** a **08**.

#### *Elas vão substituir você*

Quando, em 1956, o cientista da computação americano John McCarthy cunhou o termo “inteligência artificial”, durante uma conferência na universidade de Dartmouth, nos Estados Unidos, a intenção já era desenvolver máquinas capazes de livrar os seres humanos de tarefas de alguma complexidade, porém largamente enfadonhas.

“A proposta é usar todo o nosso conhecimento para construir um programa de computador que saiba e, também, conheça”, resumiu McCarthy, expressando uma ambição que vem de muito antes de ele proferir tais palavras. Uma narrativa mitológica judaica, por exemplo, já apresentava, milênios atrás, a ideia de um ser artificial pensante, o Golem, feito de barro e que serviria os humanos. Na Idade Média, alquimistas chegaram a sonhar em dar vida à criatura por eles batizada de Homunculus. Era apenas um devaneio que o tempo e a ciência se encarregaram de trazer para o plano das realidades.

E a inteligência artificial (IA) de hoje em dia, tal como foi formulada por McCarthy, é a concretização dessa aspiração que se confunde com a história. No entanto, no momento em que a humanidade parece estar perto de construir um robô capaz de substituir o homem em um sem-número de atividades – o Golem do século XXI –, o que poderia ser motivo de unânime comemoração arrasta consigo o pavor de que tais softwares deixem milhões de seres humanos desempregados. A preocupação é tamanha que o tema ganhou lugar de destaque na agenda do Fórum Econômico Mundial – evento anual que reúne líderes políticos e empresariais em Davos. Segundo levantamento feito pela organização do fórum, a soma de empregos perdidos para a IA será de 5 milhões nos próximos dois anos. No estudo, as áreas de negócios mais afetadas serão as administrativas e as industriais.

Um estudo publicado pela consultoria americana McKinsey avalia que em torno de 50% das atividades tidas como repetitivas serão automatizadas na próxima década. Nesse período, no Brasil, 15,7 milhões de trabalhadores serão afetados pela automação. Em todo o mundo, o **legado** da mecanização avançada será de até 800 milhões de pessoas à procura de oportunidades de trabalho. Desse total, boa parte terá de se readaptar, mas 375 milhões deverão aprender competências inteiramente novas para não cair no desemprego.

Nem tudo, entretanto, é pessimismo. Os economistas ingleses Richard e Daniel Susskind, ambos professores de Oxford, defendem a ideia de que quando atribuições são extintas, ou modificadas, os seres humanos se transformam no mesmo ritmo. “O benefício é que os profissionais farão mais, em menos tempo”, defendem. Para eles, a **bonança** tecnológica levará à criação de novos tipos de emprego.

(Veja, 31.01.2018. Adaptado)

01. É correto deduzir, a partir do texto, que o advento de máquinas providas de inteligência apresenta perspectivas negativa e positiva para os humanos, respectivamente:
- (A) o crescimento do desemprego entre os profissionais não especializados; a extinção de atribuições na indústria.
  - (B) a mecanização de processos em ritmo acelerado; a necessidade de readaptação a novas exigências tecnológicas.
  - (C) a possibilidade de os profissionais produzirem mais em menos tempo; a exigência de rápida transformação do trabalhador.
  - (D) a possibilidade de se reduzirem drasticamente postos de trabalho; a criação de novas especialidades.
  - (E) prejuízos às áreas administrativas e de produção industrial; a mudança de comportamentos arraigados.
02. As referências ao Golem judaico e ao Homunculus dos alquimistas são uma forma de o autor
- (A) contextualizar a contemporânea Inteligência Artificial no quadro de um histórico ideal criativo da humanidade.
  - (B) expressar a magnitude da conquista humana de novas tecnologias para substituir velhos padrões.
  - (C) apontar as contradições entre a modernidade e as visões de mundo que acreditavam no sobrenatural.
  - (D) esclarecer ao leitor que o desejo de criar substitutos eletrônicos para o homem é inconcebível e ilusório.
  - (E) estabelecer parâmetros que delimitem a idealização excessiva, afirmando a prevalência do cientificismo.
03. O trecho iniciado pela conjunção “que”, destacado na passagem – A preocupação é tamanha **que o tema ganhou lugar de destaque na agenda do Fórum Econômico Mundial** –, expressa, em relação ao trecho que o precede, o sentido de
- (A) causa.
  - (B) consequência.
  - (C) modo.
  - (D) lugar.
  - (E) concessão.

04. Assinale a alternativa que reescreve livremente passagem do texto de acordo com a norma-padrão de concordância e de regência.
- (A) Afirmam-se que resultados que poderiam resultar a uma unânime comemoração seja capaz de arrastar consigo o medo que tais softwares ocasionem desemprego.
  - (B) Desejos humanos, que existe fazem séculos e até se confundem com a história, concretiza-se pela Inteligência Artificial.
  - (C) Entre as narrativas mitológicas judaicas que haviam, uma já mencionava ao Golem, ao qual se concebiam como ser artificial pensante feito de barro.
  - (D) Tanto o tempo quanto a ciência tratou de apontar como devaneio a ideia dos alquimistas da Idade Média, de gerar a uma criatura chamada Homunculus.
  - (E) Realizam-se em Davos as reuniões do Fórum Econômico Mundial; trata-se de reuniões das quais participam líderes políticos e empresariais.
05. Considere o sentido das palavras destacadas – **legado** da mecanização (4º parágrafo) e **bonança** tecnológica (5º parágrafo) – nos contextos em que se encontram. É correto afirmar que
- (A) ambas estão empregadas em sentido próprio, significando, respectivamente, *testamento* e *avanço*.
  - (B) ambas em sentido próprio, significando, respectivamente, *posses* e *avanço*.
  - (C) ambas estão empregadas em sentido figurado, significando, respectivamente, *aquilo que é transmitido, como efeito, e boa fase*.
  - (D) a primeira está empregada em sentido próprio, significando *bens materiais*; a segunda, em sentido figurado, significando *fase posterior*.
  - (E) a primeira está empregada em sentido figurado, significando *bens transmitidos*; a segunda, em sentido próprio, significando *bondade*.
06. Na passagem – ... a intenção já era desenvolver máquinas capazes de livrar os seres humanos de tarefas de alguma complexidade, **porém** largamente enfadonhas. – a conjunção destacada pode ser substituída, sem prejuízo de sentido, por:
- (A) não obstante.
  - (B) ademais.
  - (C) caso.
  - (D) contanto que.
  - (E) visto que.
07. Assinale a alternativa em que a expressão posta entre colchetes substitui corretamente a destacada no trecho, segundo a norma-culta de emprego e colocação do pronome.
- (A) ... um ser artificial pensante, o Golem, feito de barro e que **serviria os humanos**. [serviria-os]
  - (B) Uma narrativa mitológica judaica, por exemplo, já **apresentava a ideia...** [a apresentava]
  - (C) ... alquimistas chegaram a sonhar em **dar vida à criatura...** [dá-la vida]
  - (D) ... construir um robô capaz de **substituir o homem...** [substituir-lhe]
  - (E) ...evento anual que **reúne líderes políticos...** [lhes reúne]
08. Assinale a alternativa em que a relação de sentido que existe entre as palavras *pessimismo* (5º parágrafo) e *otimismo* está presente também entre as palavras destacadas nas expressões.
- (A) arrasta o **pavor** / arrasta a **repulsão**.
  - (B) atribuições **extintas** / atribuições **extensivas**.
  - (C) **concretização** dessa aspiração / **corporificação** dessa aspiração.
  - (D) expressando uma **ambição** / expressando um **alento**.
  - (E) tarefas **enfadonhas** / tarefas **estimulantes**.



(Quino, *Toda Mafalda.*)

09. O comentário de Mafalda à resposta de sua mãe revela que, para a menina,

- (A) a mãe tem a expectativa de fazer Mafalda crer em ideais nobres para construir o futuro.
- (B) rir do futuro é uma boa maneira de enfrentar as rotinas e melhorar as relações afetivas.
- (C) as convicções da mãe baseiam-se em uma concepção de vida que desafia o senso comum.
- (D) a afirmação de valores e propósitos, na fala da mãe, não é algo que deva ser levado a sério.
- (E) o destino de cada um está sujeito a reveses, que acabam se transformando em piada.

10. Assinale a alternativa que preenche, correta e respectivamente, as lacunas do trecho.

Empresas brasileiras estão \_\_\_\_ venda e vários grandes grupos já saíram \_\_\_\_ caça de bons alvos para aquisição. Em 16 de março foi anunciada \_\_\_\_ fusão da X com \_\_\_\_ Y, operação que deu origem \_\_\_\_ maior empresa de celulose do mundo.

- (A) à ... à ... a ... à ... a
- (B) a ... à ... à ... a ... à
- (C) à ... à ... a ... a ... à
- (D) a ... a ... a ... à ... a
- (E) à ... a ... a ... à ... à

11. De acordo com a Constituição Federal, é correto afirmar que

- (A) a seguridade social compreende um conjunto integrado de ações de iniciativa dos poderes públicos e da sociedade, destinadas a assegurar especificamente os direitos relativos à assistência social.
- (B) a seguridade social não pode ser confundida com ações de benemerência ou caridade, assim, seu financiamento não é de responsabilidade da sociedade, mas da União, dos Estados, do Distrito Federal e dos Municípios.
- (C) em função da sua relevância social é excepcionalmente permitido, desde que regulamentado por lei, que benefício ou serviço da seguridade social seja criado, majorado ou estendido sem a correspondente fonte de custeio total.
- (D) o pescador artesanal, bem como os respectivos cônjuges, que exerçam suas atividades em regime de economia familiar, sem empregados permanentes, contribuirão para a seguridade social mediante a aplicação de uma alíquota sobre o resultado da comercialização da produção.
- (E) a organização da seguridade social é de caráter democrático e descentralizado, garantido mediante gestão bipartite, com participação dos trabalhadores e do Governo nos órgãos colegiados.

12. A Constituição Federal estabelece que as políticas que devem garantir que a saúde seja um direito de todos e dever do Estado são de natureza

- (A) social e assistencial.
- (B) social e econômica.
- (C) individual e coletiva.
- (D) ambulatorial e hospitalar.
- (E) assistencial e preventiva.

13. Os Conselhos de Saúde são órgãos colegiados compostos por representantes do governo, prestadores de serviço, profissionais de saúde e usuários. De acordo com a legislação que dispõe sobre a participação da comunidade na gestão do Sistema Único de Saúde – SUS, a proporção dos usuários em relação ao conjunto dos demais segmentos nesses conselhos deve ser de:

- (A) 10%
- (B) 25%
- (C) 33%
- (D) 50%
- (E) 75%

14. De acordo com a história natural e as formas de prevenção da febre amarela, é correto afirmar que
- (A) a sua vacina pode ser aplicada a partir dos 9 meses de idade, sendo contraindicada apenas para imunodeprimidos e pessoas alérgicas a gema de ovo.
  - (B) cerca de 50% dos casos apresentam a forma mais grave da doença, com insuficiências hepática e renal, icterícia, manifestações hemorrágicas e cansaço intenso.
  - (C) na modalidade urbana da doença, a única forma de prevenção é a vacina.
  - (D) essa doença é exclusiva das Américas Central e do Sul.
  - (E) os vetores de transmissão da doença, na modalidade silvestre, são os mosquitos dos gêneros *Haemagogus* e *Sabethes*.
15. De acordo com a legislação, que dispõe sobre a organização do Sistema Único de Saúde - SUS, o planejamento da saúde, a assistência à saúde e a articulação interfederativa, é correto afirmar que
- (A) compete à Secretaria de Estado da Saúde pactuar as etapas do processo e os prazos do planejamento municipal em consonância com os planejamentos estadual e nacional.
  - (B) o processo de planejamento da saúde será descendente e integrado, do nível federal até o local, ouvidos os respectivos Conselhos de Saúde, compatibilizando-se as necessidades das políticas de saúde com a disponibilidade de recursos financeiros.
  - (C) as únicas portas de entrada às ações e aos serviços de saúde nas Redes de Atenção à Saúde devem ser os serviços de atenção primária, de atenção de urgência e emergência e de atenção psicossocial.
  - (D) a cada dois anos a Agência Nacional de Vigilância Sanitária – ANVISA consolidará e publicará as atualizações da Relação Nacional de Medicamentos Essenciais – RENAME.
  - (E) o acesso universal e igualitário aos medicamentos da RENAME pressupõe, dentre outros quesitos, ter o medicamento sido prescrito por profissional de saúde, no exercício regular de suas funções no SUS.
16. O conjunto de ações que abrange o controle de bens de consumo e o controle da prestação de serviços, que se relacionam direta ou indiretamente com a saúde, está compreendido no campo da
- (A) medicina preventiva.
  - (B) seguridade sanitária.
  - (C) vigilância sanitária.
  - (D) vigilância epidemiológica.
  - (E) vigilância ambiental.
17. São de notificação semanal no Sistema de Informação de Agravos de Notificação – Sinan
- (A) todos os acidentes de trabalho.
  - (B) os acidentes de trabalho com exposição a material biológico.
  - (C) os acidentes de trabalho ocorridos em crianças e adolescentes.
  - (D) os acidentes por animal peçonhento.
  - (E) os acidentes por animal potencialmente transmissor da raiva.
18. Epizootia significa
- (A) doença ou morte de animal ou de grupo de animais que possa apresentar riscos à saúde pública.
  - (B) morte de seres humanos causada por animal peçonhento.
  - (C) surto ou epidemia de doença causada por vetor animal.
  - (D) estudo dos vetores animais causadores de doença em seres humanos.
  - (E) doença causada por inseto ou qualquer outro tipo de artrópode.
19. O Calendário Nacional de Vacinação – 2018, do Ministério da Saúde, propõe, no tocante à população adulta (20 a 59 anos), a verificação da situação vacinal e a aplicação, se for o caso, das seguintes vacinas:
- (A) Hepatite B, Febre Amarela, Tríplice Viral e Dupla Adulto.
  - (B) Hepatite A, Hepatite B, Tríplice Viral e Dupla Adulto.
  - (C) Hepatite A, Febre Amarela, VIP/VOP e Dupla Adulto.
  - (D) Hepatite B, Febre Amarela, Tríplice Viral e Pneumocócica 10 V (conjugada).
  - (E) Hepatite A, VIP/VOP, Pneumocócica 10 V (conjugada) e Dupla Adulto.
20. Ao longo de 1 ano, foram registrados 5 acidentes de trabalho numa empresa com 100 trabalhadores (empresa A) e, no mesmo período de tempo, foram registrados 20 acidentes de trabalho em outra empresa com 200 trabalhadores (empresa B).
- Com base nesses dados, é correto afirmar que
- (A) não é possível calcular o risco de acidente de trabalho nas duas empresas.
  - (B) o cálculo do risco depende da comparação da prevalência de acidentes nas duas empresas.
  - (C) o risco de acidente de trabalho na empresa B é duas vezes maior que na empresa A.
  - (D) o risco de acidente de trabalho na empresa A é quatro vezes menor que na empresa B.
  - (E) o risco de acidente de trabalho é igual nas duas empresas.

## ATUALIDADES

21. O governo anunciou nesta segunda-feira, 26 de fevereiro, o general da reserva do Exército Joaquim Silva e Luna como novo ministro da Defesa. Ele substituirá Raul Jungmann, deslocado para o recém-criado Ministério Extraordinário da Segurança Pública.

(Exame, fev. 2018. Disponível em: <<https://goo.gl/FL9oUo>>. Adaptado)

O anúncio chamou a atenção

- (A) pelo fato de ter sido a primeira vez que um militar assume o Ministério da Defesa.
- (B) pelos inúmeros processos e denúncias de corrupção que recaem sobre o indicado.
- (C) pela falta de familiaridade do indicado com os temas da Defesa e da segurança pública.
- (D) pelas declarações polêmicas, favoráveis à ditadura, feitas recentemente pelo indicado.
- (E) pelo perfil militarista e beligerante que a pasta assumiu após a sua troca de comando.

22. O ministro da Agricultura, Blairo Maggi, disse nesta terça-feira (17 de abril) que o Brasil vai entrar com uma ação na Organização Mundial do Comércio (OMC) por causa do embargo às importações brasileiras.

(Época, abr. 2018. Disponível em: <<https://goo.gl/YmQKKB>>. Adaptado)

A notícia trata do embargo à importação

- (A) pela Rússia da carne de vaca produzida na região Centro-Oeste, sob a alegação de haver uso excessivo de conservantes como o ácido ascórbico, comprometendo a qualidade da carne.
- (B) pela China da soja produzida por alguns conglomerados, sob a alegação de estarem desmatando áreas de proteção ambiental para dedicar à pecuária e à produção agrícola.
- (C) pelos EUA do suco de laranja produzido no interior de São Paulo, sob a alegação de haver uma alta concentração de agrotóxicos que aumenta o problema da toxicidade do produto.
- (D) pela Índia da carne de porco produzida em pequenas e médias propriedades, sob a alegação de não respeitarem os procedimentos exigidos pelos indianos hindus para o consumo de suínos.
- (E) pela União Europeia da carne de frango produzida por alguns frigoríficos, sob a alegação de terem descumprido a regra relacionada à presença de salmonelela.

23. Roraima virou o principal destino no Brasil de quem foge da crise econômica e política na Venezuela. Nos registros da Polícia Federal, mais de 24 mil entraram no estado nos dois primeiros meses deste ano. A prefeitura de Boa Vista calcula que 40 mil estejam vivendo na capital, inclusive em abrigos e praças. O governo de Roraima afirma que não tem condições de lidar com a entrada de tantos venezuelanos no estado.

(G1, abr. 2018. Disponível em: <<https://goo.gl/zf44Ca>>. Adaptado)

A situação descrita no trecho levou o governo estadual de Roraima a solicitar

- (A) a transferência dos imigrantes para outros estados.
- (B) o fechamento da fronteira com a Venezuela.
- (C) uma intervenção militar na segurança pública.
- (D) a expulsão dos venezuelanos atualmente no país.
- (E) a autorização de uso da moeda venezuelana no Brasil.

24. Os Estados Unidos e seus aliados anunciaram na noite desta sexta-feira (13 de abril) que lançaram um ataque em conjunto contra estabelecimentos de armas químicas na Síria, em resposta ao suposto ataque químico no dia 7 de abril. O regime sírio nega o uso de armas químicas, que são proibidas por convenções da ONU. As forças aéreas e marinhas dos três países lançaram os primeiros ataques por volta das 21h de Washington (22h, no horário de Brasília).

(G1, abr. 2018. Disponível em: <<https://goo.gl/o7QujL>>. Adaptado)

Os EUA foram responsáveis pelo ataque junto com

- (A) a Turquia e a Rússia.
  - (B) o Canadá e a Irlanda.
  - (C) o Reino Unido e a França.
  - (D) a Alemanha e a Áustria.
  - (E) a Austrália e o Japão.
25. O candidato governista no Paraguai, Mario Abdo Benítez, venceu as eleições presidenciais no domingo com a promessa de manter o rumo econômico e atrair mais investimentos ao país.

(Terra, abr. 2018. Disponível em: <<https://goo.gl/7Zpoki>>. Adaptado)

Mario Abdo Benítez é um

- (A) líder oriundo das camadas populares e ligado à esquerda.
- (B) político tradicional que luta por pautas da centro-esquerda.
- (C) militante dos povos nativos que luta pela reforma agrária.
- (D) jovem conservador com laços com a última ditadura do país.
- (E) religioso ligado aos católicos e defensor do conservadorismo moral.

26. A partir do Microsoft Windows 7, em sua configuração original, um usuário com permissão de acesso para leitura e gravação em todas as pastas abriu a pasta C:\ARQUIVOS, selecionou o arquivo Projetos.txt e pressionou as teclas CTRL+C. Em seguida, abriu a pasta C:\TEMPORARIO e pressionou as teclas CTRL+V. Finalmente, abriu a pasta C:\PROJETOS e pressionou as teclas CTRL+V novamente. Considerando que as pastas C:\TEMPORARIO e C:\PROJETOS estavam originalmente vazias, assinale a alternativa correta.

- (A) O arquivo Projetos.txt existe apenas nas pastas C:\ARQUIVOS e C:\TEMPORARIO.
- (B) O arquivo Projetos.txt existe apenas nas pastas C:\ARQUIVOS e C:\PROJETOS.
- (C) O arquivo Projetos.txt existe apenas na pasta C:\PROJETOS.
- (D) O arquivo Projetos.txt existe nas 3 pastas mencionadas no enunciado.
- (E) O arquivo Projetos.txt existe apenas na pasta C:\TEMPORARIO.

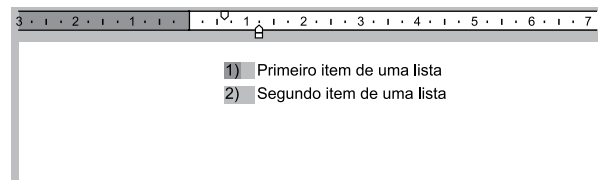
27. Um usuário copiou e colou uma relação de cidades do estado de SP com códigos de um determinado sistema, para uma planilha do Microsoft Excel 2010, em sua configuração padrão, na coluna A. O conteúdo é o código e a cidade, separados por um traço, como é exibido na imagem a seguir.

	A	B
1	Código-Cidade	
2	5-São Paulo	
3	55-Guarulhos	
4	741-Campinas	
5	37-São Bernardo do Campo	
6	51-Santo André	
7	628-São José dos Campos	
8	98-Osasco	
9	35-Ribeirão Preto	
10	80-Sorocaba	
11	72-Mauá	
12	6-São José do Rio Preto	

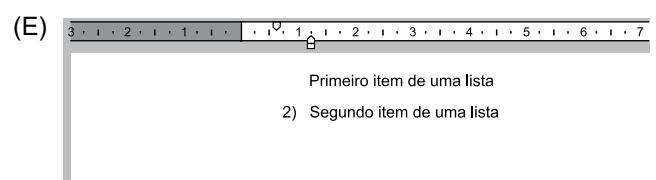
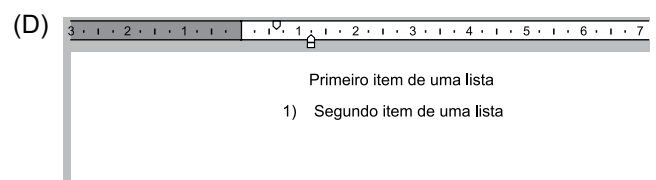
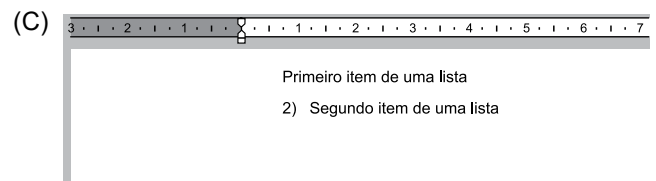
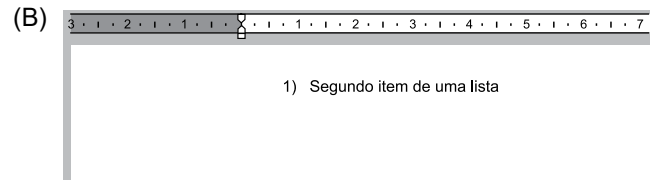
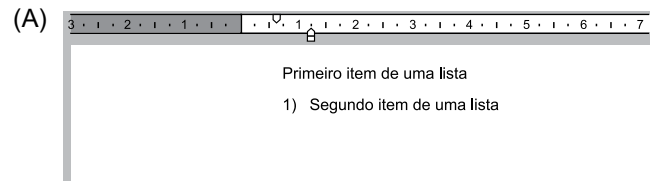
Assinale a alternativa que indica corretamente a fórmula que deve ser aplicada na célula B2 para que seja exibido apenas o código numérico da cidade da célula A2 que está antes do traço.

- (A) =ESQUERDA(A2;3)
- (B) =ESQUERDA(A2;3) & = LOCALIZAR("-",A2;1)
- (C) =LOCALIZAR("-",A2;1)
- (D) =LOCALIZAR("-",ESQUERDA(A2);1)
- (E) =ESQUERDA(A2; LOCALIZAR("-",A2;1)-1)

28. A partir do Microsoft Word 2010, em sua configuração original, um usuário está editando o seguinte documento e clicou uma vez com o botão principal do mouse sobre o número 1 da lista numerada, deixando esse marcador selecionado e os demais destacados, conforme a imagem a seguir.

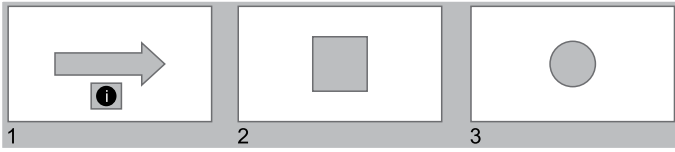


Assinale a alternativa que apresenta o resultado correto quando o usuário pressiona a tecla DEL.

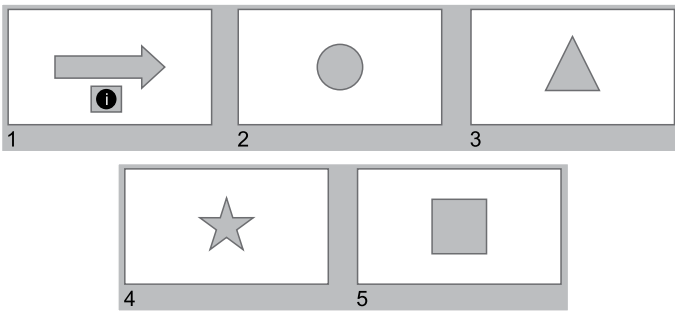




29. Usando o Microsoft PowerPoint 2010, em sua configuração original, um usuário criou a seguinte apresentação, com um Botão de Ação no slide 1, configurado com o comando Hiperlink para Último slide.



Algum tempo depois, o usuário incluiu nessa apresentação um novo slide, com um triângulo. Em outro momento, incluiu mais um slide, com uma estrela. Finalmente, movimentou o slide 2, do quadrado, para a última posição, ficando a apresentação com o seguinte aspecto.



Assinale a alternativa que indica corretamente qual slide será exibido quando o usuário clicar no botão de ação do slide 1, no modo de apresentação.

- (A) 2, o slide com o círculo.
- (B) 3, o slide com o triângulo.
- (C) 4, o slide com a estrela.
- (D) 5, o slide com o quadrado.
- (E) Não será exibido nenhum slide.

30. Paulo preparou uma mensagem de correio eletrônico usando o Microsoft Outlook 2010, em sua configuração original, com as características a seguir.

De: paulo@site.com.br

Para: hidalgo@site.com.br, bruna@outrosite.com.br

Cc: isabela@site.com.br

Cco: rogerio@site.com.br

Assunto: ata da reunião

Anexo: ata\_reuniao.docx

Isabela respondeu depois de algum tempo, usando a opção Responder a Todos, destacando no corpo do e-mail alterações que precisam ser feitas na ata. Assinale a alternativa que indica corretamente quais usuários receberam as alterações que precisam ser feitas na ata e, portanto, estão atualizados sobre o assunto.

- (A) Paulo, Hidalgo, Bruna e Rogerio.
- (B) Paulo, Hidalgo e Bruna, apenas.
- (C) Paulo, apenas.
- (D) Hidalgo, Bruna e Rogerio, apenas.
- (E) Rogerio, apenas.

## CONHECIMENTOS ESPECÍFICOS

31. Paciente do gênero feminino, 35 anos, foi submetida à cirurgia endoscópica endonasal devido à rinosinusite crônica sem polipose nasal há 6 meses. Refere melhora parcial da obstrução nasal, mas mantém rinorreia amarelada bilateral recorrente. À nasofibroscopia, observam-se todos os seios paranasais abertos, com edema leve de mucosa e secreção purulenta em pequena quantidade. Fez uso de 3 ciclos de antibióticos e corticoides sistêmicos prescritos pelo clínico geral nos últimos 3 meses. Faz uso contínuo de corticoide tópico. Tem perfil laboratorial negativo para processos alérgicos. Traz tomografia computadorizada com espessamento mucoso discreto de todos os seios paranasais, sem outras alterações. A conduta mais adequada nesse momento é:

- (A) introduzir macrolídeo por 3 meses.
- (B) repetir a tomografia computadorizada de seios paranasais.
- (C) suspender o uso de corticoide tópico.
- (D) indicar nova cirurgia endoscópica endonasal.
- (E) introduzir antifúngico sistêmico por 21 dias.

32. No tratamento da rinite gestacional, o corticoide tópico mais seguro é:

- (A) fluticasona.
- (B) mometasona.
- (C) budesonida.
- (D) triancinolona.
- (E) beclometasona.

33. No tratamento da rinite alérgica, são medicações que podem ser utilizadas em criança de 5 anos:

- (A) desloratadina e budesonida.
- (B) fexofenadina e propionato de fluticasona.
- (C) rupatadina e furoato de mometasona.
- (D) epinastina e ciclesonida.
- (E) loratadina e dipropionato de beclometasona.

34. Paciente do gênero feminino, 45 anos, com queixa de obstrução nasal e rinorreia amarelada unilateral à direita há 7 meses traz a tomografia computadorizada de seios paranasais apresentada a seguir. À nasofibroscopia, observam-se edema e secreção purulenta em meato médio direito.



Frente a esse quadro, a conduta mais adequada é:

- (A) amoxicilina com clavulanato de potássio por 21 dias.
- (B) prednisolona por 30 dias.
- (C) budesonida por 60 dias.
- (D) cirurgia.
- (E) anfotericina B por 15 dias.

35. Em paciente com rinosinusite crônica e mucoviscidose, as bactérias responsáveis pela inflamação e infecção crônica dos seios paranasais são:

- (A) *Streptococcus pneumoniae* e *Streptococcus pyogenes*.
- (B) *Klebsiella pneumoniae* e *Enterobacter sp.*
- (C) *Haemophilus influenzae* e *Moraxella catarrhalis*.
- (D) *Legionella pneumophila* e *Staphylococcus coagulase-negativo*.
- (E) *Staphylococcus aureus* e *Pseudomonas aeruginosa*.

36. Paciente apresenta crostas nasais, perfuração septal com bordas edemaciadas e hiperemiadas, hematúria e proteinúria e procura atendimento ambulatorial devido à epistaxe intermitente. O exame mais adequado para confirmação diagnóstica do quadro é:

- (A) sorologia para leishmaniose.
- (B) VHS.
- (C) sorologia para paracoccidiodomicose.
- (D) c-ANCA.
- (E) FTA-Abs.

37. O local mais comum da origem do nasoangiofibroma é:
- (A) o seio maxilar.
  - (B) a fossa pterigopalatina.
  - (C) o seio esfenoidal.
  - (D) a fossa temporal.
  - (E) o seio etmoide anterior.
38. Paciente de 66 anos, gênero masculino, tem história de hiposmia progressiva nos últimos 4 meses. Nega outras queixas nasais ou otorrinolaringológicas. Tem nasofibrocopia sem alterações. A conduta mais adequada é:
- (A) orientar sobre vazamentos de gás e armazenamento de alimentos para evitar acidentes e intoxicações.
  - (B) prescrever corticoide sistêmico para diminuir o processo inflamatório do nervo olfatório.
  - (C) solicitar ressonância magnética de crânio e seios paranasais.
  - (D) introduzir corticoide tópico e lavagem nasal por 3 meses.
  - (E) fazer teste terapêutico com ácido alfalipoico por 2 meses.
39. Paciente submetida à cirurgia endoscópica endonasal há 2 meses, devido à rinossinusite crônica e concha média bolhosa bilateral, relata epífora à direita há 1 mês. Nega qualquer queixa nasal e traz nasofibrocopia com antrostomia maxilar, etmoidectomia anterior e posterior e esfenotomia amplas, com mucosa normal e sem secreções patológicas. O passo cirúrgico relacionado à complicação apresentada é a:
- (A) etmoidectomia anterior.
  - (B) turbinoplastia média.
  - (C) etmoidectomia posterior.
  - (D) antrostomia maxilar.
  - (E) sinusotomia esfenoidal.
40. Paciente do gênero masculino, 68 anos, tem perda auditiva progressiva à esquerda há anos, associada a zumbido ipsilateral. Traz audiometria com perda sensorineural moderada em frequências agudas à esquerda e limiares auditivos normais à direita. A conduta mais adequada é:
- (A) indicar uso de aparelho de amplificação sonora individual à esquerda.
  - (B) solicitar ressonância magnética de ossos temporais.
  - (C) introduzir corticoide sistêmico por 30 dias.
  - (D) solicitar exames laboratoriais pra descartar diabetes.
  - (E) repetir a audiometria em 6 meses para avaliar a progressão da perda auditiva.
41. Paciente apresenta pericondrite de pavilhão auricular direito após colocar *piercing* na orelha há 3 dias. O antibiótico mais adequado para o tratamento da afecção é:
- (A) amoxicilina.
  - (B) levofloxacina.
  - (C) metronidazol.
  - (D) ciprofloxacina.
  - (E) eritromicina.
42. Em paciente com paralisia facial há 4 dias associada à otite média aguda, a conduta mais adequada é:
- (A) mastoidectomia simples.
  - (B) mastoidectomia radical sem descompressão do nervo facial.
  - (C) mastoidectomia radical com descompressão do nervo facial.
  - (D) antibiótico e corticoide sistêmicos.
  - (E) timpanotomia, antibiótico e corticoide sistêmicos.
43. Qual das seguintes doenças leva mais frequentemente à perda auditiva sensorineural unilateral?
- (A) Citomegalovirose.
  - (B) Caxumba.
  - (C) Sarampo.
  - (D) Mononucleose infecciosa.
  - (E) Rubéola.
44. A complicação intracraniana mais frequente nas infecções da orelha média é:
- (A) abscesso epidural.
  - (B) empiema subdural.
  - (C) meningite.
  - (D) tromboflebite do seio sigmoide.
  - (E) abscesso cerebelar.
45. Paciente de 24 anos, gênero masculino, tem queixa de perda auditiva bilateral progressiva nos últimos 2 anos. Apresenta esclera azulada e audiometria com perda condutiva moderada bilateral. A principal hipótese diagnóstica é:
- (A) otospongiose.
  - (B) displasia fibro-óssea.
  - (C) doença de Paget.
  - (D) osteogênese imperfecta.
  - (E) doença de Albers-Schönberg.

46. Paciente de 28 anos, gênero feminino, tem história de zumbido pulsátil não progressivo à esquerda há 3 anos. Refere melhora com a rotação da cabeça para o lado do zumbido e piora quando vira a cabeça para o lado oposto ao zumbido. Nega outras queixas auditivas. A principal hipótese diagnóstica é:
- (A) hum venoso.
  - (B) tumor glômico.
  - (C) schwannoma vestibular.
  - (D) mioclonia do músculo estapédio.
  - (E) hemangioma.
47. Assinale a alternativa com a correlação correta.
- (A) Manobra de Dix-Hallpike – VPPB canal semicircular lateral – manobra de Semont.
  - (B) *Head Roll Test* – VPPB canal semicircular lateral – manobra de Epley.
  - (C) Manobra de Brandt-Daroff – VPPB canal semicircular superior – manobra de Lempert.
  - (D) *Head Roll Test* – VPPB canal semicircular lateral – manobra *Barbecue*.
  - (E) Manobra de Lempert – VPPB canal semicircular posterior – manobra de Semont.
48. Assinale a alternativa que descreve o quadro clínico mais característico da vertigem paroxística benigna da infância.
- (A) Lactente, 8 meses, com episódios de torção cervical para a direita, com duração de minutos, associados a náuseas e nistagmo.
  - (B) Criança, 12 anos, com crise aguda de vertigem após resfriado, com duração de 1 dia, associada a náuseas e vômitos, sem outras queixas auditivas.
  - (C) Criança, 4 anos, com crises súbitas de vertigem, com duração menor que 1 minuto, sem fator desencadeante evidente, com melhora espontânea.
  - (D) Lactente, 18 meses, com febre, otalgia, desequilíbrio e sonolência excessiva há 3 dias.
  - (E) Criança, 5 anos, com episódios de náuseas e vômitos quando vai de ônibus para a escola.
49. Potencial Evocado Auditivo de Tronco Encefálico com o seguinte achado: “Latências de todas as ondas aumentadas com intervalos interpicos preservados” é encontrado em qual das afecções apresentadas a seguir?
- (A) Schwannoma do nervo vestibular.
  - (B) Cerúmen.
  - (C) Neuropatia auditiva.
  - (D) Presbiacusia.
  - (E) Esclerose múltipla.
50. Lactente, 4 meses, tem história de estridor há 3 meses, com episódios de dispneia e cianose durante o choro. Mantém-se assintomático durante outros períodos do dia. A nasofibrolaringoscopia demonstra paralisia de pregas vocais bilateral em posição paramediana sem outras alterações. A conduta inicial mais adequada é:
- (A) indicar traqueostomia.
  - (B) solicitar ressonância magnética de crânio.
  - (C) realizar eletromiografia laríngea.
  - (D) indicar injeção de toxina botulínica nas pregas vocais.
  - (E) introduzir corticoide sistêmico por 4 semanas.
51. Paciente, 45 anos, gênero feminino, com artrite reumatoide há 15 anos, apresenta quadro de disфонia progressiva há 2 meses. Nega tabagismo, etilismo ou outras comorbidades. Traz laringoscopia com paralisia de prega vocal direita, sem outras alterações. Nesta paciente, a principal causa dessa alteração é:
- (A) neurite do nervo laríngeo recorrente.
  - (B) inflamação crônica da lâmina própria da prega vocal.
  - (C) deposição de imunocomplexos no músculo tireoaritenóideo.
  - (D) anquilose da articulação cricoaritenóidea.
  - (E) uso crônico de medicações imunossupressoras.
52. Qual dos sintomas a seguir está relacionado ao movimento paradoxal das pregas vocais?
- (A) Disфонia.
  - (B) Estridor.
  - (C) Dor.
  - (D) Sialorreia.
  - (E) Disfagia.
53. Voz soprosa é uma característica menos provável em qual das afecções a seguir?
- (A) Nódulos vocais.
  - (B) Pólipo vocal.
  - (C) Disфонia espasmódica.
  - (D) Cisto intracordal.
  - (E) Câncer de prega vocal.

54. O *Haemophilus influenzae* do tipo B é responsável por qual das seguintes doenças?
- (A) Laringotraqueobronquite.
  - (B) Laringite estridulosa.
  - (C) Laringite catarral aguda.
  - (D) Crupe espasmódico.
  - (E) Epiglotite.
55. A síndrome de Eagle é causada pelo(a):
- (A) alongamento do processo pterigoide.
  - (B) calcificação do ligamento estilo hióideo.
  - (C) trombose de veia jugular interna.
  - (D) lesão do nervo vago.
  - (E) estreitamento da artéria carótida externa.
56. O tipo histológico mais comum e o seio paranasal mais acometido pelos tumores malignos de seios paranasais são, respectivamente:
- (A) adenocarcinoma e células etmoidais anteriores.
  - (B) carcinoma espinocelular e células etmoidais anteriores.
  - (C) linfoma e seio maxilar.
  - (D) carcinoma espinocelular e seio maxilar.
  - (E) adenocarcinoma e seio frontal.
57. Paciente do gênero masculino, 28 anos, morador de rua, refere dor de garganta, odinofagia e febre não medida há 5 dias. Nega tabagismo, etilismo e outras comorbidades. Ao exame físico, regular estado geral, emagrecido, com presença de lesão úlcero-necrótica associada a exsudato purulento em amígdala esquerda, dentes em mal estado, sem outras alterações. A hipótese diagnóstica mais provável é:
- (A) carcinoma espinocelular.
  - (B) mononucleose infecciosa.
  - (C) herpangina.
  - (D) linfoma.
  - (E) amigdalite de Plaut-Vincent.
58. Segundo os critérios de Paradise, a tonsilectomia está indicada para qual dos pacientes a seguir?
- (A) Criança, 3 anos, com 2 episódios de tonsilite aguda por ano, nos últimos 3 anos.
  - (B) Criança, 6 anos, com 3 episódios de tonsilite aguda por ano, nos últimos 2 anos.
  - (C) Adulto, 28 anos, com 5 episódios de tonsilite aguda no último ano.
  - (D) Adulto, 35 anos, com 3 episódios de tonsilite aguda por ano, nos últimos 3 anos.
  - (E) Adulto, 24 anos, com caseum e halitose.
59. A glossite atrófica está relacionada à:
- (A) mononucleose infecciosa.
  - (B) síndrome da imunodeficiência adquirida humana.
  - (C) deficiência de vitamina B12 e ácido fólico.
  - (D) insuficiência renal crônica.
  - (E) tireotoxicose.
60. Paciente de 58 anos, gênero masculino, é trazido por sua esposa devido a roncos e pausas respiratórias observadas durante o sono. Tem IMC de 45 kg/m<sup>2</sup>, amígdalas grau I de Brodski, índice de Mallampati modificado II e desvio septal grau II em área III de Cottle. Apresenta polissonografia com IAH de 35 eventos/hora e saturação mínima de O<sub>2</sub> de 87%. A conduta mais adequada para controle dos eventos respiratórios é:
- (A) amigdalectomia.
  - (B) uvulopalatofaringoplastia.
  - (C) aparelho intraoral.
  - (D) CPAP.
  - (E) septoplastia.





