



## PREFEITURA MUNICIPAL DE SERRANA

ESTADO DE SÃO PAULO

CONCURSO PÚBLICO

### 014. PROVA OBJETIVA

#### MONITOR DE CRECHE

- ◆ Você recebeu sua folha de respostas e este caderno contendo 50 questões objetivas.
- ◆ Confira seus dados impressos na capa deste caderno e na folha de respostas.
- ◆ Quando for permitido abrir o caderno, verifique se está completo ou se apresenta imperfeições. Caso haja algum problema, informe ao fiscal da sala.
- ◆ Leia cuidadosamente todas as questões e escolha a resposta que você considera correta.
- ◆ Marque, na folha de respostas, com caneta de tinta azul ou preta, a letra correspondente à alternativa que você escolheu.
- ◆ A duração da prova é de 3 horas, já incluído o tempo para o preenchimento da folha de respostas.
- ◆ Só será permitida a saída definitiva da sala e do prédio após transcorridos 75% do tempo de duração da prova.
- ◆ Deverão permanecer em cada uma das salas de prova os 3 últimos candidatos, até que o último deles entregue sua prova, assinando termo respectivo.
- ◆ Ao sair, você entregará ao fiscal a folha de respostas e este caderno, podendo levar apenas o rascunho de gabarito, localizado em sua carteira, para futura conferência.
- ◆ Até que você saia do prédio, todas as proibições e orientações continuam válidas.

**AGUARDE A ORDEM DO FISCAL PARA ABRIR ESTE CADERNO DE QUESTÕES.**

Nome do candidato \_\_\_\_\_

RG \_\_\_\_\_

Inscrição \_\_\_\_\_

Prédio \_\_\_\_\_

Sala \_\_\_\_\_

Carteira \_\_\_\_\_



## CONHECIMENTOS GERAIS

### LÍNGUA PORTUGUESA

Leia o texto e responda às questões de números **01** a **07**.

#### *Metade dos artigos científicos no Brasil são escritos por mulheres*

Recentemente circulou com força pelas redes sociais um relatório que destaca o Brasil como um dos exemplos de sucesso em promover a igualdade entre homens e mulheres no ambiente acadêmico. O documento, feito pela editora Elsevier, é de 2017 e leva em conta dados de artigos científicos escritos entre 1995 e 2015.

Nesses 20 anos, as mulheres brasileiras passaram a assinar a mesma proporção de artigos científicos que os homens – um crescimento considerável, já que, entre 1996 e 2000, só 38% dos artigos publicados tinham sido escritos por mulher.

Outras facetas positivas do Brasil aparecem no relatório. Aumentou o número de inventoras brasileiras: elas registram 17% das patentes criadas desde 2000. A única notícia ruim do relatório é que as mulheres permanecem sendo menos citadas que seus colegas homens em outros artigos – e isso é verdade não apenas no Brasil, mas em outros países latinos, como Chile e México.

(Ana Carolina Leonardi. <https://super.abril.com.br>. 28.03.2018. Adaptado)

**01.** O texto aborda o seguinte assunto:

- (A) invenções dirigidas ao público feminino.
- (B) relevância da pesquisa científica latino-americana.
- (C) publicação de estudos acerca do feminismo.
- (D) igualdade de gêneros na produção de textos acadêmicos.
- (E) influência do sexo na escolha de temas de pesquisa.

**02.** A leitura do último parágrafo permite concluir que

- (A) recentemente o número de inventoras tornou-se maior que o de inventores.
- (B) as inventoras brasileiras têm se mostrado tão produtivas quanto as chilenas e as mexicanas.
- (C) o trabalho das cientistas ainda precisa de maior reconhecimento no meio acadêmico brasileiro.
- (D) não é verdade que as mulheres estão ganhando espaço no ambiente acadêmico.
- (E) quanto ao registro de patentes, as mulheres já estão em igualdade com os homens.

**03.** No primeiro parágrafo, o sentido expresso pela palavra “relatório” é retomado por

- (A) exemplos.
- (B) acadêmico.
- (C) documento.
- (D) dados.
- (E) artigos.

**04.** Os vocábulos “considerável” (2º parágrafo) e “facetas” (3º parágrafo) podem ser substituídos, respectivamente e com os sentidos preservados, por:

- (A) importante; distorções.
- (B) previsível; conquistas.
- (C) expressivo; peculiaridades.
- (D) modesto; singularidades.
- (E) improvável; inovações.

**05.** Uma frase coerente com as informações do texto é:

- (A) As mulheres passaram a assinar a mesma proporção de artigos científicos que os homens, de modo que elas permanecem sendo menos citadas que eles.
- (B) Devido ao fato de as mulheres terem passado a assinar a mesma proporção de artigos científicos que os homens, elas permanecem sendo menos citadas que eles.
- (C) As mulheres passaram a assinar a mesma proporção de artigos científicos que os homens, portanto, elas permanecem sendo menos citadas que eles.
- (D) Visto que as mulheres tenham passado a assinar a mesma proporção de artigos científicos que os homens, elas permanecem sendo menos citadas que eles.
- (E) Embora as mulheres tenham passado a assinar a mesma proporção de artigos científicos que os homens, elas permanecem sendo menos citadas que eles.

06. A expressão empregada de acordo com a concordância da norma-padrão está destacada em:
- (A) As mulheres **vêm assinando** metade dos artigos científicos no Brasil.
  - (B) As mulheres **são responsável** por metade dos artigos científicos no Brasil.
  - (C) As mulheres **compõe** metade dos artigos científicos no Brasil.
  - (D) As mulheres **passa a responder** por metade dos artigos científicos no Brasil.
  - (E) As mulheres **tornou-se autoras** da metade dos artigos científicos no Brasil.

07. A expressão que substitui a destacada em “Outras facetas positivas do Brasil **aparecem no** relatório”, conforme a regência da norma-padrão, é
- (A) integram do
  - (B) constam do
  - (C) estão inclusas do
  - (D) são referidas do
  - (E) são mencionadas do

Considere a tira para responder às questões de números 08 e 09.



(M. Schulz. Minduim Charles. <http://cultura.estadao.com.br>. 23.04.2018)

08. A fala do último quadrinho dá a entender que a aluna
- (A) se esforçou ao máximo para elaborar seu resumo.
  - (B) está convicta de que a professora lhe dará uma boa nota.
  - (C) demonstra estar segura quanto à qualidade do trabalho realizado.
  - (D) espera que a professora seja condescendente ao avaliar o resumo.
  - (E) entregou um resumo que não foi feito por ela própria.

09. A fala do último quadrinho está reescrita em conformidade com a norma-padrão em:
- (A) Quais são as chances de que a senhora o avalie com carinho e compreensão?
  - (B) Quais são as chances que a senhora lhe avalie com carinho e compreensão?
  - (C) Quais são as chances de que a senhora avalie-lhe com carinho e compreensão?
  - (D) Quais são as chances que a senhora avalia-o com carinho e compreensão?
  - (E) Quais são as chances de que a senhora lhe avalie com carinho e compreensão?

10. O sinal indicativo de crase está empregado corretamente na frase:
- (A) Os alunos foram instruídos à ler um livro.
  - (B) A obra deu margem à várias interpretações.
  - (C) Fazer um resumo foi uma tarefa atribuída à todos.
  - (D) O resumo era referente à uma narrativa ficcional.
  - (E) Ela entregou o resumo do livro à professora.

11. André guardou todas as suas revistas em 30 caixas. As revistas com 100 páginas ele guardou em 12 caixas, com 45 revistas por caixa; em 7 caixas ele guardou as revistas com 130 páginas, num total de 33670 páginas; nas demais caixas ele guardou as revistas com 200 páginas, com 22 revistas por caixa. O total de revistas que André guardou em caixas foi
- (A) 1023.  
(B) 1037.  
(C) 1041.  
(D) 1059.  
(E) 1067.
12. Dois carrinhos dão voltas continuamente em uma pista, o carrinho vermelho completa uma volta a cada 64 segundos e o carrinho azul completa uma volta a cada 72 segundos. Em certo momento, o carrinho vermelho alcança o azul e, por ser mais rápido, o ultrapassa. A partir desse momento, o tempo que o carrinho vermelho levará para alcançar o carrinho azul será de
- (A) 9 minutos e 20 segundos.  
(B) 9 minutos e 36 segundos.  
(C) 10 minutos.  
(D) 10 minutos e 24 segundos.  
(E) 10 minutos e 40 segundos.
13. Alguns alunos do ensino médio de uma escola formarão equipes para um torneio. Cada equipe precisa ter alunos do 1º, 2º e 3º ano, o número de alunos de cada ano, em cada equipe, deve ser o mesmo e o número de equipes formadas deve ser o maior possível. Se participarão do torneio 56 alunos do 1º ano, 48 alunos do 2º ano e 40 alunos do 3º ano, o número de alunos do 2º ano por equipe será
- (A) 4.  
(B) 6.  
(C) 8.  
(D) 12.  
(E) 16.

14. A razão entre o número de integrantes de uma equipe A e o número de integrantes de uma equipe B é de 2 para 7. Se 36 pessoas passarem da equipe B para a equipe A, a razão passa a ser de 4 para 5. O total de pessoas nas duas equipes é
- (A) 162.  
(B) 171.  
(C) 180.  
(D) 189.  
(E) 198.
15. O número de mulheres em uma empresa correspondia a 52% do total de funcionários. Após a contratação de 4 mulheres e 11 homens, o número de homens passou a ser igual ao número de mulheres. Após essa contratação, o total de funcionários dessa empresa, ou seja, o número de homens mais o número de mulheres, é
- (A) 90.  
(B) 115.  
(C) 140.  
(D) 165.  
(E) 190.
16. A média aritmética dos números de gols marcados por 18 jogadores após a metade de um campeonato foi igual a 7. Na outra metade do campeonato,  $\frac{1}{3}$  desses jogadores marcou 6 gols cada,  $\frac{2}{9}$  desses jogadores marcaram 2 gols cada e os demais marcaram, no total, 10 gols. Considerando os gols marcados por esses 18 jogadores durante todo o campeonato, a média aritmética dos números de gols marcados por jogador foi
- (A) 7.  
(B) 8.  
(C) 9.  
(D) 10.  
(E) 11.

17. Uma pessoa sacou R\$ 390,00 em um caixa eletrônico, tendo recebido 16 notas de 3 valores diferentes. Se o número de notas de R\$ 10,00 foi igual à soma do número de notas de R\$ 50,00 com o número de notas de R\$ 20,00, o valor que essa pessoa recebeu, em notas de R\$ 20,00, foi
- (A) R\$ 60,00.
- (B) R\$ 80,00.
- (C) R\$ 100,00.
- (D) R\$ 120,00.
- (E) R\$ 140,00.

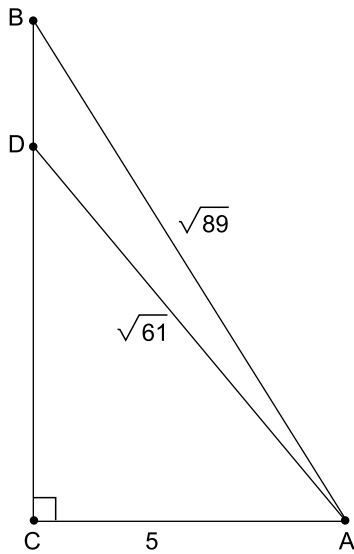
18. Uma pesquisa foi feita com 600 pessoas, entre crianças, adolescentes e adultos, por uma empresa que oferece filmes e séries pela internet. Todas as perguntas deveriam ser respondidas com “sim” ou “não” e a tabela seguinte registra a porcentagem, para cada faixa etária e pergunta, daqueles que responderam “sim”.

<b>Caro espectador, você:</b>	<i>crianças</i>	<i>adolescentes</i>	<i>adultos</i>
Gosta da quantidade de filmes disponíveis?	90%	65%	75%
Acha fácil localizar um filme?	90%	100%	80%
Gosta de séries com zumbis?		85%	
Gosta da série Larvas?	80%		
Gostaria de assistir ao novo filme A Mosca?		75%	60%
Assiste filmes junto com seus pais?	60%	30%	
Já indicou nossa empresa aos amigos?		60%	90%

Os campos em branco na tabela indicam que a pergunta não foi feita à faixa etária correspondente. Se 30 adultos não acham fácil localizar um filme e 303 pessoas já indicaram a empresa aos amigos, o número de crianças que assistem a filmes junto aos pais é

- (A) 48.
- (B) 85.
- (C) 102.
- (D) 120.
- (E) 153.

19. Um ponto D pertence ao lado BC de um triângulo retângulo ABC. O segmento AD divide o triângulo ABC em dois triângulos menores, conforme a figura, que também indica as medidas, em cm, de alguns lados.



A área do triângulo ABD, em  $\text{cm}^2$ , vale

- (A) 2.  
(B) 3.  
(C) 4.  
(D) 5.  
(E) 6.
20. Lucas dividiu suas figurinhas repetidas em 24 pacotes, cada pacote com o mesmo número de figurinhas. Ele deu três pacotes para seus primos, um pacote para cada primo, e antes de distribuir os demais pacotes retirou de cada um destes 4 figurinhas. Com essas figurinhas Lucas voltou a fazer mais 7 pacotes, cada um com 3 figurinhas a menos do que os pacotes originais. O número de figurinhas repetidas que Lucas tinha era

- (A) 144.  
(B) 192.  
(C) 240.  
(D) 288.  
(E) 360.



## ATUALIDADES

21. O grupo terrorista Boko Haram sequestrou 110 estudantes de um colégio feminino de ensino médio na cidade de Dapchi, no noroeste do país, no último dia 19.02, de acordo com informações do governo. O atentado aconteceu após quatro anos do sequestro de 276 garotas, em uma escola em Chibok, que chocou o mundo em 2014.

(<https://noticias.uol.com.br>. Acesso em 13.04.2018. Adaptado)

O país da notícia é

- (A) Angola.
  - (B) Cabo Verde.
  - (C) Congo.
  - (D) Namíbia.
  - (E) Nigéria.
22. A 8ª Cúpula das Américas, reunindo chefes de Estado e de governo, além de vários vice-presidentes e chanceleres do continente, realizou-se em Lima, no Peru, nos dias 13 e 14 de abril de 2018. O tema definido para o encontro foi
- (A) governabilidade democrática frente à corrupção.
  - (B) direitos humanos e eleições livres e diretas.
  - (C) o desenvolvimento sustentável e a crise econômica.
  - (D) novas relações comerciais com a União Europeia.
  - (E) as Américas e a Organização Mundial do Comércio.
23. A menor inflação em duas décadas pode representar a consolidação de uma era de preços mais comportados no Brasil. Essa é a análise de economistas, após o IBGE divulgar nesta quarta-feira [10.01.2018] que o Índice de Preços ao Consumidor Amplo (IPCA) encerrou 2017 em 2,95%, menor patamar desde 1998 (...).

(<https://glo.bo/2rSmFIX>. Acesso em 15.04.2018. Adaptado)

A redução registrada, no período medido, teve como uma das explicações

- (A) a maior autonomia do Banco Central.
- (B) a queda nos preços dos alimentos.
- (C) o crescimento do consumo de produtos importados.
- (D) o aumento da oferta de produtos da linha branca.
- (E) o aquecimento do mercado informal.

24. Com o apoio do Reino Unido e da França, os Estados Unidos lançaram bombardeios contra a Síria, em 13.04.2018. Essa operação foi uma reação que teve como justificativa

- (A) o uso de armas químicas protagonizado, segundo denúncias, pelo regime do presidente da Síria, Bashar al-Assad.
- (B) a prisão de centenas de civis, de várias nacionalidades, na cidade de Duma, pelas forças militares do governo sírio.
- (C) o atentado realizado por dezenas de homens-bomba nos territórios ocupados pelas forças humanitárias da ONU.
- (D) o apoio bélico prestado pelo governo sírio de Bashar al-Assad às forças do Estado Islâmico e da Al Qaeda.
- (E) a instalação de bases militares da Ucrânia em território sírio, no início de 2018, em apoio ao presidente Assad.

25. O Senado Federal seguiu a Câmara dos Deputados e também aprovou o Decreto Federal nº 9.288/2018, que autoriza a intervenção federal no Rio de Janeiro. Com a decisão de ambas as casas legislativas, o comando da segurança pública do Estado permanece transferido às Forças Armadas até 31 de dezembro de 2018.

(<https://bit.ly/2ka9Yzz>. Acesso em 14.04.2018. Adaptado)

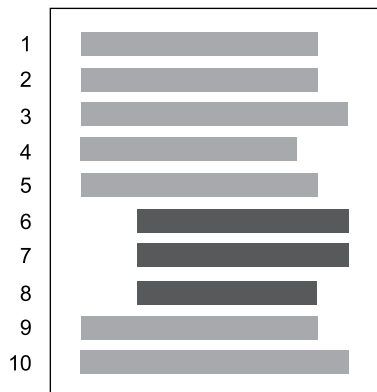
Em razão da referida intervenção, está correto afirmar que

- (A) o interventor nomeado passou a ter total controle para gerir a segurança pública fluminense, bem como outras áreas da Administração Pública que interferiram nessa gestão.
- (B) as garantias constitucionais estão temporariamente suspensas, em todo o Estado do Rio de Janeiro, uma vez que se trata de uma intervenção de caráter civil-militar.
- (C) as polícias civis e militares do Governo do Estado do Rio de Janeiro encontram-se desautorizadas para a realização de investigações e de ações repressivas.
- (D) o andamento da reforma da Previdência está suspenso, pois a Constituição veda a tramitação de Propostas de Emenda à Constituição (PEC) durante esse período.
- (E) o mercado imobiliário foi aquecido, em razão da pacificação ocorrida nas comunidades do Rio de Janeiro, havendo crescimento, ainda, do mercado formal de trabalho.

26. Assinale a alternativa que apresenta a extensão de arquivos e o aplicativo do Windows 7, em sua configuração original, que consegue abrir corretamente para edição.

- (A) .bmp no Bloco de Notas
- (B) .txt no Wordpad
- (C) .docx no Bloco de Notas
- (D) .txt no Paint
- (E) .cal na Calculadora

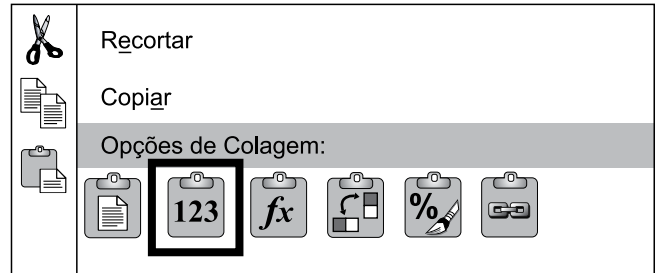
27. Tem-se uma imagem que ilustra um documento de 1 página e 10 linhas, criado no Microsoft Word 2010, em sua configuração padrão, com a identificação das linhas à esquerda.



Assinale a alternativa que indica a formatação aplicada apenas nas linhas 6, 7 e 8 para que tenham a aparência exibida anteriormente.

- (A) Alinhamento do texto à direita.
- (B) Margem esquerda aumentada.
- (C) Texto em 2 colunas.
- (D) Alinhamento do texto centralizado.
- (E) Recuo de parágrafo.

28. Usando o Microsoft Excel 2010, em sua configuração padrão, um usuário inseriu a função =AGORA() na célula A1 e o conteúdo exibido foi 16/04/2018 13:10:32. Em seguida, o usuário selecionou a célula A1, pressionou as teclas CTRL+C, clicou com o botão invertido do mouse e selecionou a opção destacada na figura a seguir, que é exibida como menu de contexto.




Finalmente, gravou e fechou a planilha. Dois dias mais tarde, às 10:40:00, o usuário abriu a planilha.

Assinale a alternativa que indica o conteúdo que será exibida na célula A1.

- (A) 16/04/2018 13:10:32
- (B) 18/04/2018 10:40:00
- (C) A célula não apresenta nenhum conteúdo.
- (D) Abril/2018 13:10:32
- (E) Abril/2018 10:40:00

29. Um usuário acabou de abrir uma apresentação no Microsoft PowerPoint 2010, em sua configuração padrão.



Assinale a alternativa que indica a sequência correta para configurar uma animação de entrada no triângulo que dure 2 segundos.

- I. Alterar a duração da animação para 2 segundos, na caixa Duração, no grupo Intervalo.
- II. Abrir a guia Animações.
- III. Clicar no ícone Aparecer, no grupo Animação.
- IV. Selecionar o triângulo.

- (A) I, II, III, IV.
- (B) II, III, I, IV.
- (C) III, II, I, IV.
- (D) IV, I, III, II.
- (E) IV, II, III, I.

30. Usando o navegador Google Chrome versão 65, em sua configuração original, um usuário acessou o web site da Vunesp, a partir do endereço [www.vunesp.com.br](http://www.vunesp.com.br).

Pressionando e sem soltar a tecla CTRL, o usuário clicou com o botão principal do mouse sobre os links Quem Somos, Como Contratar e, finalmente, Instituições Atendidas. Sempre com a tecla CTRL pressionada. O resultado é ilustrado na imagem a seguir, onde as páginas foram abertas automaticamente em outras abas.



Assinale a alternativa que indica quais páginas ficaram gravadas no histórico de navegação.

- (A)  10:12 PM  Instituições Atendidas [www.vunesp.com.br](http://www.vunesp.com.br)
- (B)  10:12 PM  Instituições Atendidas [www.vunesp.com.br](http://www.vunesp.com.br)  
 10:07 PM  Fundação Vunesp | Excelência em Concursos, Vestibulares e Avaliações [www.vunesp.com.br](http://www.vunesp.com.br)
- (C)  10:07 PM  Fundação Vunesp | Excelência em Concursos, Vestibulares e Avaliações [www.vunesp.com.br](http://www.vunesp.com.br)
- (D)  10:12 PM  Instituições Atendidas [www.vunesp.com.br](http://www.vunesp.com.br)  
 10:11 PM  Como nos Contratar [www.vunesp.com.br](http://www.vunesp.com.br)  
 10:11 PM  Quem somos [www.vunesp.com.br](http://www.vunesp.com.br)  
 10:07 PM  Fundação Vunesp | Excelência em Concursos, Vestibulares e Avaliações [www.vunesp.com.br](http://www.vunesp.com.br)
- (E)  10:11 PM  Como nos Contratar [www.vunesp.com.br](http://www.vunesp.com.br)  
 10:11 PM  Quem somos [www.vunesp.com.br](http://www.vunesp.com.br)  
 10:07 PM  Fundação Vunesp | Excelência em Concursos, Vestibulares e Avaliações [www.vunesp.com.br](http://www.vunesp.com.br)

## CONHECIMENTOS ESPECÍFICOS

- 31.** Adriana, monitora de creche, preocupada em aprimorar os conhecimentos na área, realizou algumas pesquisas em fontes idôneas sobre o desenvolvimento de brincadeiras na educação infantil. Após algumas leituras, concluiu acertadamente que para favorecer um brincar de qualidade em uma instituição infantil é
- (A) imprescindível fazer com que as crianças realizem atividades além do seu nível de desenvolvimento.
  - (B) necessário planejamento do espaço físico e de ações intencionais por parte do educador.
  - (C) suficiente que o educador disponibilize diferentes tipos de brinquedos para as crianças.
  - (D) essencial que a maior parte das brincadeiras exija alto desempenho físico e mental.
  - (E) suficiente deixar as crianças brincarem livremente por um tempo diário determinado.
- 32.** A monitora de creche, Carina, tem atribuição de orientar as crianças em atividades pedagógicas recreativas. Tal atribuição atende ao art. 16 da Lei Federal nº 8.069/90, Estatuto da Criança e do Adolescente (ECA) que é:
- (A) brincar com materiais que facilitem a autoexpressão.
  - (B) perceber-se membro integrante da sociedade.
  - (C) desenvolver a ideia de grupo e a tolerância.
  - (D) ter acesso a vagas em escolas públicas.
  - (E) brincar, praticar esportes e divertir-se.
- 33.** O art. 4º do Estatuto da Criança e do Adolescente (ECA), Lei nº 8.069/90, apresenta a seguinte redação: “É dever da família, da comunidade, da sociedade em geral e do poder público assegurar, com absoluta prioridade, a efetivação dos direitos referentes à vida, à saúde, à alimentação, à educação, ao esporte, ao lazer, à profissionalização, à cultura, à dignidade, ao respeito, à liberdade e à
- (A) convivência familiar e comunitária”.
  - (B) obtenção da certidão de nascimento”.
  - (C) amamentação com leite da própria mãe”.
  - (D) proteção plena por parte dos seus semelhantes”.
  - (E) presença dos pais durante a internação em hospitais”.
- 34.** O Conselho Tutelar é um órgão socialmente encarregado de zelar pelo cumprimento dos direitos da criança e do adolescente. É correto afirmar que, conforme o art. 13 da Lei nº 8.069/90, Estatuto da Criança e do Adolescente (ECA), cabe comunicar a esse órgão os casos em que a criança apresente
- (A) sinais de carência financeira.
  - (B) indicativos de problemas de saúde.
  - (C) modos agressivos com os demais colegas de sala.
  - (D) indícios de tratamento cruel ou degradante e de maus-tratos.
  - (E) atitudes ou hábitos incompatíveis com o bom andamento das aulas.
- 35.** É correto afirmar que o art. 58 da Lei nº 8.069/90, Estatuto da Criança e do Adolescente (ECA), dispõe que: “no processo educacional respeitar-se-ão os valores culturais, artísticos e históricos próprios do contexto social da criança e do adolescente, garantindo-se a estes a liberdade da criação e o acesso às fontes de
- (A) inspiração”.
  - (B) sabedoria”.
  - (C) instrução”.
  - (D) pesquisa”.
  - (E) cultura”.
- 36.** Embora haja diferentes linhas teóricas sobre a nutrição infantil, é consenso que o aleitamento ao seio é, de todas, a forma mais saudável. Trata-se de uma atividade tão importante que o art. 9º da Lei nº 8.069/90, Estatuto da Criança e do Adolescente (ECA), dispõe que: “O poder público, as instituições e os empregadores propiciarão condições adequadas ao aleitamento materno,
- (A) até que a criança atinja dezoito meses de idade”.
  - (B) inclusive aos filhos adotivos de mães contratadas pelo regime da CLT”.
  - (C) inclusive aos filhos de mães submetidas a medida privativa de liberdade”.
  - (D) até os seis meses de vida, quando a criança iniciará a alimentação por papinhas”.
  - (E) concedendo à mulher, durante a jornada de trabalho, quatro descansos de quarenta minutos, para amamentar o filho”.

37. Conforme o parágrafo 3º do art. 11 da Lei nº 8.069/90, Estatuto da Criança e do Adolescente (ECA), "(...) Os profissionais que atuam no cuidado diário ou frequente de crianças na primeira infância receberão formação específica e permanente para a detecção de sinais de risco para o desenvolvimento psíquico, bem como para
- (A) a terapêutica cabível em cada caso".
  - (B) o acompanhamento que se fizer necessário".
  - (C) o encaminhamento legal a ser oferecido às crianças".
  - (D) o tratamento das principais doenças psicossomáticas".
  - (E) as ações necessárias à promoção do desenvolvimento infantil".
38. O monitor de creche, por lidar diretamente com crianças pequenas, necessita ter competência para trabalhar com conteúdos de naturezas diversas que abrangem desde cuidados básicos essenciais até conhecimentos específicos provenientes das diversas áreas do conhecimento. Dessa forma, cabe a ele propiciar atividades que incentivem o desenvolvimento infantil, sendo uma delas:
- (A) propor brincadeiras no espaço interno e ao ar livre.
  - (B) organizar o refeitório após a alimentação das crianças.
  - (C) fazer registros avaliativos dos progressos das crianças.
  - (D) montar um álbum registrando as atividades das crianças.
  - (E) fazer as trocas de roupas das crianças sempre que se sujarem.
39. O espaço da creche deve ser limpo, seguro e confortável, envolvendo, para isso, uma boa ventilação e higiene, tanto do ambiente quanto dos objetos, utensílios e brinquedos. Sendo assim, o monitor de creche precisa ter noções
- (A) básicas de assepsia, desinfecção e esterilização.
  - (B) essenciais sobre o tratamento de doenças infecto-contagiosas.
  - (C) claras dos principais materiais de limpeza necessários à creche.
  - (D) consistentes das normas técnicas sobre a guarda dos materiais de limpeza.
  - (E) específicas dos equipamentos de segurança que não podem faltar na creche.
40. O acesso às creches vem sendo difundido não apenas como um direito da mãe trabalhadora, mas também como um direito da criança. Antigamente, a creche tinha como objetivo simplesmente "guardar" a criança. Hoje admite-se que os objetivos da creche consistem em "cuidar e educar", contudo, o cuidado na creche é diferente do cuidado familiar porque é um cuidado
- (A) assistencialista.
  - (B) profissional.
  - (C) filantrópico.
  - (D) esporádico.
  - (E) informal.
41. Na rotina da creche, cabe ao monitor a fiscalização da entrada e saída das crianças. Trata-se de uma ocupação de extrema importância por estar diretamente associada
- (A) à qualidade escolar.
  - (B) à comodidade dos pais.
  - (C) ao conforto dos perueiros.
  - (D) à segurança das crianças.
  - (E) ao bem-estar dos funcionários.
42. É verdade sabida que o sono é um fator indispensável para o desenvolvimento das crianças e sua necessidade varia de criança para criança, como também em relação à idade delas. Sendo um elemento da rotina das instituições de educação infantil, é correto afirmar que a organização do momento da "soneca" na creche deve
- (A) acontecer no horário do almoço dos funcionários, dispensando a presença de adulto no local.
  - (B) dispor os colchonetes próximos uns dos outros, facilitando assim o contato direto entre as crianças.
  - (C) ocorrer em ambiente preparado de tal forma que se apresente completamente escuro e totalmente silencioso.
  - (D) ser realizado com as portas e janelas totalmente fechadas, sem circulação de ar, para facilitar que as crianças durmam.
  - (E) conservar as características próprias do ambiente e horário, mantendo pouca luminosidade e baixo nível de ruído.

**43.** O monitor de creche Flávio trabalha com uma turma de crianças de um ano de idade. Ele tem conhecimento de que as crianças, durante o primeiro ano de vida, processam informações, constroem conhecimentos e se expressam por meio das ações que realizam. Sendo assim, ele propõe, acertadamente, atividades em que elas possam se expressar e aprender por meio dos movimentos.

Assinale a alternativa que apresenta a atividade que Flávio pode propor às crianças de sua turma, por ser adequada à faixa etária delas.

- (A) Jogar peteca: colocar as crianças em círculo – ou uma de frente para o outra, no caso de apenas dois jogadores; elas devem jogar a peteca de um lado para outro, batendo no fundo dela. Quem deixar a peteca cair é eliminado do jogo.
- (B) Agrupar algumas crianças e amarrar uma fralda na parte de trás da roupa de cada uma delas, como se fosse o rabo de um animal; a um sinal combinado, todas devem correr e tentar tirar a cauda dos amiguinhos.
- (C) Colocar a criança no colo, segurar os bracinhos dela estendidos e fazer movimentos para frente e para trás cantando: “serra, serra, serrador, serra o papo do vovô! Quantas tábuas já serrou? Uma, duas, três!”
- (D) Brincar de “morto-vivo”: um dos participantes é escolhido como líder e ficará à frente do grupo: é ele quem vai dar as instruções que devem ser obedecidas pelos outros jogadores. Ao dizer “morto”, todos se deitam no chão, “vivo”, todos ficam de pé.
- (E) Brincar de “passa-anel”: as crianças ficam em fila e uma delas passa pela fila tocando as mãos dos amiguinhos, deixando cair uma pedrinha nas mãos de um deles; terminada a fila, escolhe-se alguém para adivinhar com quem está a pedrinha.

**44.** Ao ler o edital do Concurso Público nº 01/2018 (Município de Serrana) para Monitor de Creche, Orlando constatou que esse profissional necessita “executar atividades previstas no planejamento escolar”. Conversando com um especialista no assunto, este lhe explicou, corretamente, que é importante que o educador execute as atividades planejadas porque estas foram pensadas visando à obtenção de avanços no desenvolvimento cognitivo, afetivo e social da criança. Nessa ótica, o monitor de creche, ao seguir o que consta no planejamento da escola, estará cumprindo uma atividade

- (A) dispensável.
- (B) excêntrica.
- (C) aleatória.
- (D) contínua.
- (E) mecânica.

**45.** O edital do Concurso Público nº 01/2018 (Município de Serrana) expõe uma lista de conhecimentos específicos necessários ao exercício do cargo de Monitor de Creche, sendo um deles a fiscalização da manutenção dos aspectos físicos do prédio. Isto se justifica, pois, para que a aprendizagem aconteça, é necessário que o ambiente seja propício. Como é verdade sabida, o patrimônio compõe a identidade da escola, devendo estar sempre em ordem e salvaguardado, porque, caso contrário, poderá colocar em risco a \_\_\_\_\_ das pessoas e o projeto pedagógico da instituição.

Assinale a alternativa que completa corretamente a lacuna do texto.

- (A) autoimagem
- (B) autoestima
- (C) segurança
- (D) esperança
- (E) felicidade

**46.** Conforme o parágrafo único do artigo 53 do Estatuto da Criança e do Adolescente, Lei Federal nº 8.069/90, “É direito dos pais ou responsáveis ter ciência do processo pedagógico, bem como

- (A) decidir as sanções a serem aplicadas ao filho, quando for o caso”.
- (B) visitar a sala de aula do filho no horário de sua conveniência”.
- (C) estar presente em todas as reuniões pedagógicas”.
- (D) participar da definição das propostas educacionais”.
- (E) escolher o professor que dará aulas para seu filho”.

**47.** Rosana, monitora de creche em Serrana, sabe que é seu dever cuidar das crianças, proporcionando-lhes um convívio harmonioso, convívio esse que depende de ordem e organização, isto é, de disciplina. Sabendo que disciplina implica em obediência a regras e normas estabelecidas, assinale, dentre as atividades a seguir, aquela que, pelas suas características intrínsecas, se apresenta como a mais adequada para contribuir com a construção da disciplina com crianças de três anos:

- (A) desenho livre.
- (B) jogo de boliche.
- (C) pintura espontânea.
- (D) brincar no parquinho.
- (E) brincar com massa de modelar.

- 48.** Hoje em dia, há uma preocupação real com os primeiros anos de vida das crianças por sua susceptibilidade a diferentes fatores que podem interferir no desenvolvimento, tanto em nível biológico como social. Observa-se que a preocupação com as crianças em risco social ou socialmente vulneráveis tem crescido e, sob esse aspecto, a creche tem se mostrado importante dispositivo para
- (A) alfabetizar as crianças.
  - (B) oferecer educação informal.
  - (C) substituir a função da família.
  - (D) praticar diversas modalidades de esportes.
  - (E) prevenir riscos e promover a qualidade de vida.
- 49.** Paula, monitora de creche, tem observado que uma criança de sua turma vem faltando sistematicamente, sem justificativas da família. Ciente de que a educação infantil é um direito da criança e de que o excesso de faltas pode prejudicar o avanço de seu desenvolvimento, Paula informou a diretora da unidade sobre a situação. Diante dessa informação, a primeira atitude correta a ser tomada pela diretora deverá ser a de
- (A) conversar com os pais ou responsáveis.
  - (B) notificar a Associação de Pais e Mestres.
  - (C) informar a Secretaria Municipal de Educação.
  - (D) registrar boletim de ocorrência na Delegacia de Polícia.
  - (E) comunicar a Secretaria Municipal de Assistência Social.
- 50.** Visando facilitar a comunicação entre ele, gestor público, e seus subordinados, o diretor de uma creche de Serra-na emitiu \_\_\_\_\_, formalizando a tarefa a ser realizada pelos monitores da instituição que dirige. Esse documento continha todas as especificações técnicas necessárias para que a tarefa fosse devidamente entendida e executada.
- Assinale a alternativa que completa corretamente o texto.
- (A) uma ata
  - (B) um decreto
  - (C) uma portaria
  - (D) uma resolução
  - (E) uma ordem de serviço

