



PREFEITURA MUNICIPAL DE SERTÃOZINHO

ESTADO DE SÃO PAULO

Concurso Público

006. PROVA OBJETIVA

Agente de Vigilância em Saúde

(Cód. 008)

- ◆ Você recebeu sua folha de respostas e este caderno contendo 50 questões objetivas.
- ◆ Confira seus dados impressos na capa deste caderno e na folha de respostas.
- ◆ Quando for permitido abrir o caderno, verifique se está completo ou se apresenta imperfeições. Caso haja algum problema, informe ao fiscal da sala.
- ◆ Leia cuidadosamente todas as questões e escolha a resposta que você considera correta.
- ◆ Marque, na folha de respostas, com caneta esferográfica de tinta azul ou preta, a letra correspondente à alternativa que você escolheu.
- ◆ A duração da prova é de 3 horas, já incluído o tempo para o preenchimento da folha de respostas.
- ◆ Só será permitida a saída definitiva da sala e do prédio após transcorridos 75% do tempo de duração da prova.
- ◆ Ao sair, você entregará ao fiscal a folha de respostas e este caderno, podendo levar apenas o rascunho de gabarito, localizado em sua carteira, para futura conferência.
- ◆ Até que você saia do prédio, todas as proibições e orientações continuam válidas.

Aguarde a ordem do fiscal para abrir este caderno de questões.

Nome do candidato

RG

Inscrição

Prédio

Sala

Carteira

CONHECIMENTOS GERAIS

LÍNGUA PORTUGUESA

Leia a tira para responder às questões de números **01** a **03**.



(Bill Watterson. *O melhor de Calvin*. <http://cultura.estadao.com.br/> quadrinhos. 05.01.2018)

01. Uma interpretação correta da tira está em:

- (A) A família do garoto vê menos TV que a média, pois passa pouco tempo em casa.
- (B) O garoto cita uma pesquisa e consegue persuadir o pai a deixá-lo ver TV das 15:00 às 22:30.
- (C) O garoto insiste que os pais lhe façam companhia para ver TV depois da escola.
- (D) O pai proíbe o filho de ver TV nos dias de aula, mesmo que seja por um curto período.
- (E) O pai do garoto não o autoriza a ver TV por sete horas e meia ininterruptamente.

02. No segundo quadrinho, o vocábulo **enquanto** tem sentido equivalente ao da expressão:

- (A) antes do tempo em que.
- (B) durante o tempo em que.
- (C) por causa do tempo em que.
- (D) apesar do tempo em que.
- (E) muito depois do tempo em que.

03. Ao se empregar o pronome **nós** no lugar de **a gente** na frase do último quadrinho – Você quer que a gente fique abaixo da média? –, a forma verbal **fique** deve ser substituída, conforme a norma-padrão da língua, por

- (A) fiquemos.
- (B) ficamos.
- (C) ficarmos.
- (D) ficaríamos.
- (E) ficássemos.

Leia o texto para responder às questões de números **04** a **09**.

Ex-vice-presidente do Facebook critica redes sociais

Ao falar em uma palestra nos Estados Unidos, Chamath Palihapitiya, ex-vice-presidente de crescimento do Facebook, criticou o efeito causado pelas redes sociais.

Ele sugere que as curtidas e outros tipos de interação automática são voltados para a sensação de gratificação de curto prazo, e não geram conversas entre as pessoas. Palihapitiya diz usar o mínimo possível o Facebook e não permite que seus filhos acessem a plataforma. Apesar das palavras duras, ele **ameniza** o discurso dizendo que a empresa faz o bem no mundo.

Ao *site* Futurism, Lizbeth M. Kim, candidata a doutorado em psicologia social na Universidade Estadual da Pensilvânia, diz que a mensagem de Palihapitiya é importante para nos lembrar de algo que normalmente ignoramos por escolha. Estudos indicam que passar muito tempo usando redes sociais pode levar à depressão.

(Lucas Agrela. <https://exame.abril.com.br/>. 06.01.2018. Adaptado)

04. Segundo Chamath Palihapitiya, a interação característica das redes sociais

- (A) faz com que as pessoas se comuniquem por meio de gírias.
- (B) impossibilita as pessoas de praticarem atos de bondade.
- (C) torna as pessoas mais hostis na interação presencial.
- (D) não favorece o diálogo produtivo entre as pessoas.
- (E) não oferece às pessoas a chance de sentirem prazer.

05. Um sinônimo para **ameniza**, em destaque no segundo parágrafo, é

- (A) enfatiza.
- (B) demonstra.
- (C) abranda.
- (D) esclarece.
- (E) anula.

06. Lizbeth M. Kim usa a mensagem de Palihapitiya a fim de reforçar o alerta para a relação entre o uso prolongado das redes sociais e a depressão, uma informação que geralmente **ignoramos por escolha**, ou seja, uma informação que

- (A) concordamos reparar.
- (B) decidimos apreender.
- (C) resolvemos acatar.
- (D) preferimos desconsiderar.
- (E) aceitamos desvendar.

07. Uma palavra empregada com sentido figurado está destacada em:

- (A) falar em uma **palestra** (1º parágrafo).
- (B) sensação de **gratificação** (2º parágrafo).
- (C) palavras **duras** (2º parágrafo).
- (D) psicologia **social** (3º parágrafo).
- (E) normalmente **ignoramos** (3º parágrafo).

08. De acordo com a norma-padrão de pontuação, o vocábulo do trecho – ... a mensagem de Palihapitiya é importante para nos lembrar de algo que normalmente ignoramos por escolha. – que poderia estar entre vírgulas é:

- (A) importante.
- (B) algo.
- (C) que.
- (D) normalmente.
- (E) ignoramos.

09. A expressão destacada em – ... passar muito tempo usando redes sociais pode **levar à** depressão. – está corretamente substituída, com o sentido preservado e conforme as regras de regência da norma-padrão, por

- (A) resultar na.
- (B) decorrer da.
- (C) provocar da.
- (D) originar na.
- (E) reverter da.

Leia o texto para responder às questões de números 10 a 13.

A China

Quem não está admirado com o milagre da China está apavorado. Não dá para pensar na China sem se entusiasmar ou se assustar.

Dentro de muito pouco tempo, vai acontecer o seguinte: a China vai tornar o resto do mundo supérfluo. Não vai ser preciso existir mais ninguém, de tanto que vai existir a China.

O nosso destino é, enquanto a China cresce, irmos ficando cada vez mais desnecessários. Em... o quê? Vinte anos?

A China terá o maior parque industrial, com a mão de obra mais abundante e, portanto, mais barata, da Terra, e produzirá de tudo para o maior mercado consumidor da Terra, que será qual? O dos chineses, mesmo ganhando pouco.

A China concentrará toda a atividade econômica do planeta entre as suas fronteiras. A China se bastará.

(Luis Fernando Verissimo. <http://noblat.oglobo.globo.com/>.
26.10.2017. Adaptado)

10. De acordo com o autor, em breve, a China será economicamente

- (A) ociosa.
- (B) obsoleta.
- (C) vulnerável.
- (D) depreciada.
- (E) autossuficiente.

11. Considere a forma verbal destacada no trecho:

Dentro de muito pouco tempo, **vai** acontecer o seguinte: a China **vai** tornar o resto do mundo supérfluo. Não **vai** ser preciso existir mais ninguém, de tanto que **vai** existir a China.

O autor emprega a forma verbal em destaque para

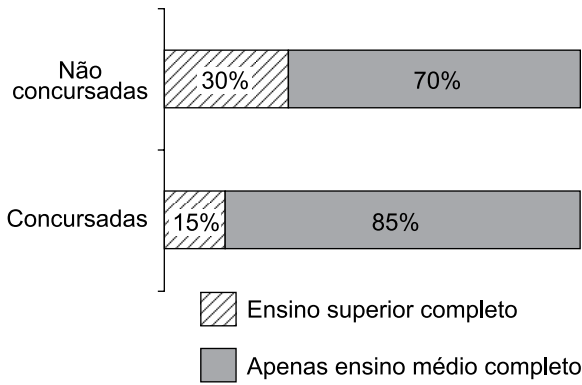
- (A) relatar um fato ocorrido recentemente.
- (B) fazer conjecturas sobre o futuro.
- (C) expressar seu súbito entusiasmo.
- (D) descrever o instante atual como incerto.
- (E) referir-se a eventos improváveis de acontecer.

12. No trecho – ... com a mão de obra mais abundante e, **portanto**, mais barata, da Terra... –, o vocábulo em destaque apresenta a mão de obra barata como
- (A) a razão para haver trabalhadores em abundância.
 (B) a condição que garante a abundância de trabalhadores.
 (C) uma consequência da abundância de trabalhadores.
 (D) um entrave ao fato de haver trabalhadores em abundância.
 (E) uma situação sem relação com a abundância de trabalhadores.
13. Dois vocábulos empregados com sentidos que se opõem no texto são:
- (A) milagre – China (1º parágrafo).
 (B) admirado – apavorado (1º parágrafo).
 (C) destino – desnecessários (3º parágrafo).
 (D) abundante – barata (4º parágrafo).
 (E) concentrará – bastará (5º parágrafo).
14. A concordância está em conformidade com a norma-padrão na frase:
- (A) A mão de obra é abundante e os salários não são muito altos na China.
 (B) O autor receia que os demais países se tornem supérfluo diante da China.
 (C) O milagre da China tem deixado muitas pessoas extremamente preocupada.
 (D) As transações econômicas mais relevantes do planeta deve ocorrer na China.
 (E) Os operários na China tende a produzir mercadorias para eles próprio consumir.
15. Quanto à ocorrência da crise, assinale a alternativa que preenche, correta e respectivamente, as lacunas da frase a seguir:
- O autor comparou _____ situação da China _____ dos demais países e chegou _____ uma conclusão um tanto preocupante.
- (A) a ... à ... a
 (B) a ... a ... à
 (C) à ... à ... a
 (D) à ... a ... à
 (E) à ... à ... à

16. Um jardim retangular tem perímetro de 36 metros. Sabendo-se que o maior lado desse jardim tem o dobro da medida do menor lado, pode-se afirmar que a área desse jardim, em metros quadrados, é igual a
- (A) 64.
 (B) 66.
 (C) 68.
 (D) 70.
 (E) 72.
17. Do dinheiro que eu tinha no bolso, utilizei um quarto na compra de um tênis; dois quintos do restante na compra de uma calça, e ainda me sobraram R\$ 216,00. Sendo assim, o valor que eu tinha no bolso, antes de fazer essas compras, era
- (A) R\$ 480,00.
 (B) R\$ 460,00.
 (C) R\$ 440,00.
 (D) R\$ 420,00.
 (E) R\$ 400,00.
18. Carlos tem certa quantidade de unidades de um produto para vender. Se cada unidade do produto for vendida a R\$ 25,00, faltarão R\$ 250,00 para ele atingir o total que pretende arrecadar com a venda. Se ele vender cada unidade do produto a R\$ 30,00, ele ultrapassa em R\$ 50,00 o valor total que pretende arrecadar com a venda. A quantidade de unidades que Carlos tem para vender do produto é
- (A) 50.
 (B) 55.
 (C) 60.
 (D) 65.
 (E) 70.
19. A tabela apresenta informações sobre a opção de 100 candidatos em um concurso para dois cargos, em determinado município:
- | | Homens | Mulheres |
|-----------|--------|----------|
| Psicólogo | 25 | 25 |
| Motorista | 38 | 12 |
- Analisando-se as informações apresentadas, é correto afirmar que
- (A) 50% dos que optaram pelo cargo de psicólogo eram homens.
 (B) 38% dos homens optaram pelo cargo de motorista.
 (C) 25% do total de candidatos optaram pelo cargo de psicólogo.
 (D) 12% dos que optaram pelo cargo de motorista eram mulheres.
 (E) 80% das mulheres optaram pelo cargo de psicólogo.

20. A razão entre o número de estabelecimentos comerciais em uma cidade A e o número de estabelecimentos comerciais em uma cidade B é $\frac{9}{7}$. Sabendo-se que, no total, há 80 estabelecimentos comerciais nessas cidades, pode-se concluir corretamente que o número de estabelecimentos comerciais na cidade A supera o da cidade B em
- (A) 14.
 - (B) 13.
 - (C) 12.
 - (D) 11.
 - (E) 10.
21. Um total de 15 máquinas, todas iguais, realiza determinada tarefa em 1 hora e 20 minutos de trabalho ininterrupto. Com apenas dois terços desse número de máquinas, é esperado que a mesma tarefa seja realizada, nas mesmas condições,
- (A) em menos de 1 hora e 55 minutos.
 - (B) entre 1 hora e 55 minutos e 2 horas e 05 minutos.
 - (C) entre 2 horas e 05 minutos e 2 horas e 10 minutos.
 - (D) entre 2 horas e 10 minutos e 2 horas e 20 minutos.
 - (E) em mais de 2 horas e 20 minutos.
22. No computador de Roberto, um programa confere se há novas mensagens recebidas no e-mail, de 15 em 15 minutos. No computador de Fabiana, ocorre a mesma conferência, mas de 18 em 18 minutos.
- Suponha que, às 12 horas e 15 minutos, o programa conferiu se havia novas mensagens, nesses 2 computadores, e que eles funcionaram normalmente, até às 19 horas e 10 minutos. Durante o período identificado, incluindo a conferência das 12 horas e 15 minutos, o programa conferiu novas mensagens em ambos os computadores, ao mesmo tempo, uma quantidade de vezes igual a
- (A) 8.
 - (B) 7.
 - (C) 6.
 - (D) 5.
 - (E) 4.
23. Um pintor cobra por metro quadrado de área pintada. Se para executar o serviço em uma parede retangular ele cobrou o total de R\$ 500,00, então, em outra parede retangular, com os lados medindo 50% a mais que a primeira parede, ele cobrará o total de
- (A) R\$ 750,00.
 - (B) R\$ 875,00.
 - (C) R\$ 1.000,00.
 - (D) R\$ 1.125,00.
 - (E) R\$ 1.500,00.

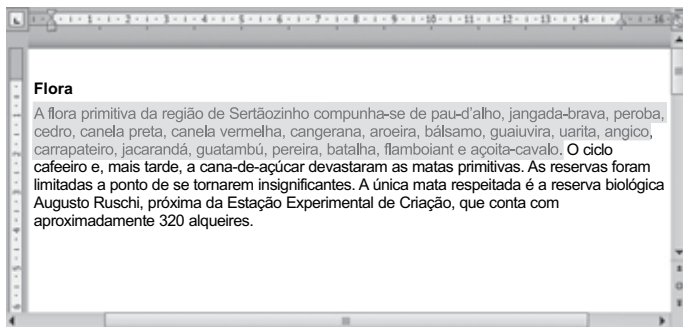
24. Considere as informações apresentadas no gráfico, sobre um grupo de pessoas:



Com base nas informações apresentadas, assinale a alternativa que contém uma afirmação necessariamente verdadeira.

- (A) O número de pessoas não concursadas é igual ao de pessoas concursadas.
- (B) O número de pessoas não concursadas é diferente do de pessoas concursadas.
- (C) O número de pessoas com apenas o ensino médio é maior que o de pessoas com o ensino superior completo.
- (D) O número de pessoas concursadas e com o ensino superior completo é metade do de pessoas não concursadas e com o mesmo grau de instrução.
- (E) O número de pessoas concursadas e com apenas o ensino médio é maior que o de pessoas não concursadas e com o mesmo grau de instrução.
25. Uma torneira, totalmente aberta, e com vazão contínua, enche um reservatório de água, inicialmente vazio, em 4 horas. Outra torneira, também totalmente aberta e com vazão contínua, porém menor que a primeira, enche o mesmo reservatório, inicialmente vazio, em 6 horas. Se esse reservatório estiver com $\frac{1}{5}$ de sua capacidade de água e, ao mesmo tempo, ambas as torneiras, totalmente abertas, começarem a despejar água nele, ele estará totalmente cheio em, aproximadamente,
- (A) 1 hora e 30 minutos.
- (B) 1 hora e 55 minutos.
- (C) 2 horas e 20 minutos.
- (D) 2 horas e 45 minutos.
- (E) 3 horas e 05 minutos.

26. Considere a imagem a seguir, extraída do MS-Word 2010, em sua configuração padrão. A primeira frase do parágrafo foi selecionada pelo usuário.



No contexto apresentado na imagem, quando o usuário utilizar o atalho de teclado Ctrl+X, a frase selecionada será

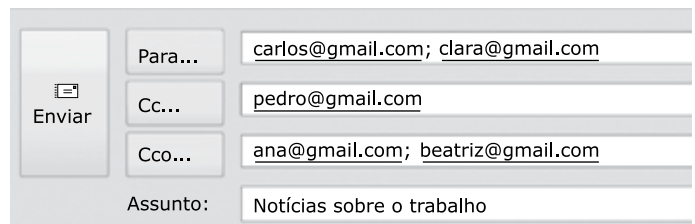
- (A) duplicada no parágrafo.
 (B) enviada para impressão.
 (C) recortada e colocada na área de transferência.
 (D) localizada no documento inteiro.
 (E) alinhada à direita.
27. Para responder à questão, utilize a planilha a seguir, extraída do MS-Excel 2010, em sua configuração padrão. O desempenho de 4 alunos é apresentado em 3 notas na planilha, e a coluna E é um cálculo dessas notas. A célula E2 é um cálculo das células B2, C2 e D2, por exemplo.

	A	B	C	D	E
1	Nome	Nota 1	Nota 2	Nota 3	M
2	Carlos	8	7	6	7
3	Andrea	6	6	6	6
4	Paula	8	9	10	9
5	Daniel	5	10	6	

Assinale a alternativa que contém a fórmula que, ao ser inserida na célula E5, mantém o mesmo tipo de cálculo apresentado nas células E2, E3 e E4 em relação às notas.

- (A) =SOMA(B2:D5)
 (B) =SOMA(B5:D5)
 (C) =MÁXIMO(B5:D5)
 (D) =MÍNIMO(B5:D5)
 (E) =MÉDIA(B5:D5)

28. Considere a figura a seguir, extraída do MS-Outlook 2010, em sua configuração padrão, que mostra os cinco destinatários de um e-mail (Carlos, Clara, Pedro, Ana e Beatriz) pronto para ser enviado.



Assinale a alternativa que contém os nomes dos destinatários que receberão uma cópia do e-mail, mas não terão os seus endereços vistos pelos outros destinatários.

- (A) Carlos e Clara.
 (B) Carlos, Clara e Pedro.
 (C) Pedro, Ana e Beatriz.
 (D) Ana e Beatriz.
 (E) Carlos, Clara, Pedro, Ana e Beatriz.
29. Observe os ícones a seguir, extraídos do Windows Explorer do MS-Windows 7, na configuração de exibição de Ícones Médios. Os ícones foram marcados de 1 a 5 e não foram modificados desde a sua criação.

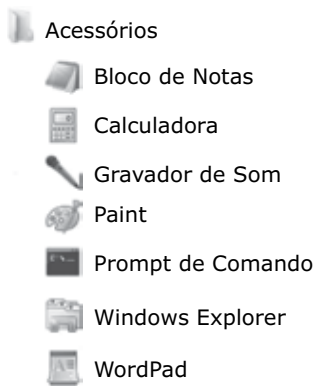


Assinale a alternativa que contém o número correspondente ao ícone de um atalho de uma pasta que não está vazia.

- (A) 1
 (B) 2
 (C) 3
 (D) 4
 (E) 5

CONHECIMENTOS ESPECÍFICOS

30. Considere a imagem a seguir, extraída do MS-Windows 7, em sua configuração padrão. Ela apresenta parte dos programas da pasta Acessórios, do Menu Iniciar > Todos os Programas.



Assinale a alternativa que contém o nome do aplicativo destinado a criar, colorir e editar imagens.

- (A) Paint.
- (B) Prompt de Comando.
- (C) Bloco de Notas.
- (D) WordPad.
- (E) Windows Explorer.

31. O objetivo do SUS é “articular e coordenar ações de promoção de saúde, prevenção de agravos, cura e reabilitação”. Os princípios doutrinários que conferem legitimidade ao SUS nas ações e serviços de saúde são:

- (A) centralização, equalização e hierarquização.
- (B) equidade, interdisciplinaridade e estatização.
- (C) humanização, igualdade e centralização.
- (D) centralização, universalidade e democratização.
- (E) universalidade, integralidade e equidade.

32. Durante a visita domiciliar, o profissional de saúde demonstra ter uma postura ética,

- (A) compreendendo o domicílio como sendo um espaço coletivo da comunidade.
- (B) mantendo sigilo das informações obtidas no domicílio.
- (C) avaliando as atitudes dos moradores sobre suas crenças.
- (D) realizando perguntas que induzem as respostas que o profissional de saúde espera escutar.
- (E) restringindo as perguntas sobre doenças pré-existentes.

33. Os desastres naturais fazem cada vez mais parte do cotidiano das pessoas, independentemente de estas residirem ou não em áreas de risco. A identificação dos riscos e a adoção de medidas preventivas de controle relacionadas aos agravos à saúde são executadas

- (A) pela Vigilância Ambiental.
- (B) pela Vigilância Zoossanitária.
- (C) pelo Conselho Gestor da Unidade Básica de Saúde.
- (D) pela Equipe de Imunização.
- (E) pela Vigilância de Serviços e Produtos para a Saúde.

34. Existe uma estreita relação entre a incidência de casos de dengue, a situação sanitária do país e a falta de cidadania dos indivíduos quando produzem situações favoráveis à proliferação do mosquito *Aedes aegypti* no meio ambiente. O favorecimento à proliferação desse mosquito se exemplifica
- (A) no acúmulo de inservíveis e lixo nas ruas e nos imóveis e no desrespeito às normas técnicas de construção com edificações que acumulam água.
 - (B) na manutenção dos quintais sem a presença de criadouros e na realização da limpeza rotineiramente no intra e peridomicílio.
 - (C) na cooperação com a equipe de zoonoses durante a realização de nebulizações nos bairros onde estão ocorrendo casos autóctones de dengue.
 - (D) na construção de fossas sépticas para que o esgoto não gere agravos à saúde, escorrendo pelas ruas.
 - (E) na eliminação de matéria orgânica em decomposição de terrenos baldios e margens de córregos.
35. Nas doenças de transmissão vetorial, as ações que são realizadas pelas equipes de controle de vetores têm como objetivo
- (A) identificar e erradicar os vetores que estão contaminados e, por isso, são capazes de transmitir doenças.
 - (B) realizar o teste rápido para diagnosticar a doença, iniciando o tratamento para evitar sequelas.
 - (C) reduzir a infestação de vetores como forma de minimizar o risco de ocorrência das doenças por eles transmitidas.
 - (D) utilizar inseticidas de efeito residual em todos os imóveis para erradicar os vetores, imunizando o quarteirão.
 - (E) tratar o paciente, minimizando as sequelas deixadas no organismo dos indivíduos que tiveram a doença.
36. Com a temporada de chuvas de verão, os rios transbordam, e as águas entram em contato com o esgoto e inundam as ruas. Esse é o sinal de alerta com relação à leptospirose,
- (A) verminose de transmissão hídrica resultante do contato com a água dos rios.
 - (B) inflamação dermatológica resultante do contato da pele com água dos rios.
 - (C) doença causada pelo choque térmico resultante do contato do corpo quente com a água fria dos rios.
 - (D) doença de transmissão oral-fecal, muito comum nos meses mais quentes.
 - (E) doença resultante de uma bactéria presente na urina de ratos.
37. A Constituição Federal de 1988 estabelece o direito a um meio ambiente equilibrado, com condições de saneamento básico, moradia e água potável, fatores condizentes com a saúde socioambiental.
- São doenças ligadas diretamente à falta de tratamento de água e esgoto:
- (A) dengue, tuberculose, câncer de estômago.
 - (B) verminoses, meningite, toxoplasmose.
 - (C) tuberculose, tracoma, meningite.
 - (D) diarreias, verminoses, hepatite A.
 - (E) herpes, leishmaniose, diarreias.
38. As leishmanioses são denominadas zoonoses porque
- (A) são doenças causadas por parasitas que acometem primariamente os animais e depois o homem, tendo manifestações variáveis em diferentes regiões.
 - (B) acometem os animais que vivem em zoológicos, devido ao estresse que sofrem diariamente.
 - (C) atingem apenas animais que vivem próximos aos seres humanos.
 - (D) afetam apenas aves e mamíferos exóticos, ou seja, que não fazem parte originalmente da fauna brasileira.
 - (E) são doenças transmitidas ao ser humano pelo contato direto com outros mamíferos.
39. A leishmaniose visceral (LV) é uma zoonose crônica caracterizada no ser humano por febre de longa duração, perda de peso e anemia, entre outras manifestações. Quando não tratada, pode evoluir para óbito em mais de 90% dos casos.
- Assinale a alternativa que apresenta o principal reservatório e fonte de infecção no meio urbano.
- (A) Gato.
 - (B) Cão.
 - (C) Ave.
 - (D) Morcego.
 - (E) Roedor.

40. A leishmaniose visceral (LV) é uma doença endêmica no Brasil que ainda se encontra em franca expansão territorial. A transmissão ocorre por meio
- (A) de contato sexual com indivíduos que estão no período de viremia da doença.
 - (B) da picada de flebotomíneos infectados pelo protozoário *Leishmania (L.) chagasi*.
 - (C) do contato com outro indivíduo contaminado pelo flebotomíneo.
 - (D) da ingestão de carne mal passada de ave doente com leishmaniose visceral.
 - (E) da picada de carrapato conhecido como carrapato-estrela, cujo pico de reprodução ocorre no verão.
41. A leishmaniose tegumentar americana (LTA) é uma infecção da qual o homem pode ser hospedeiro acidental. A doença manifesta-se sob duas formas: leishmaniose cutânea e mucosa. As estratégias de controle dessa endemia estão centradas
- (A) na eutanásia dos animais silvestres infectados e na realização diária de desinsetização nos locais onde há ocorrência de mosquitos.
 - (B) na retirada de entulho e inservíveis que podem acumular água nas residências.
 - (C) na execução de projetos de canalização de córregos e de manutenção de valetas.
 - (D) no diagnóstico e no tratamento precoce dos casos humanos, na redução da população de mosquitos e nas atividades de educação em saúde.
 - (E) no tratamento precoce dos casos animais e na vacinação da população residente próximo aos locais de ocorrência de casos autóctones.
42. Cada parasita tem uma forma particular de transmissão. A malária e a leishmaniose são transmitidas
- (A) pela ingestão de carne de porco.
 - (B) pela ingestão de água contaminada.
 - (C) por vetores específicos contaminados.
 - (D) pelo contato com objetos de uso pessoal (fômites) de indivíduos doentes.
 - (E) pelo contato com morcegos contaminados.
43. Em uma comunidade onde existe um grande número de cães e gatos, vem aumentando o número de notificações de agressões por esses animais. Nesse caso, a população deve ser orientada a
- (A) observar o animal agressor durante três dias.
 - (B) sacrificar o animal para que não ocorram outras agressões.
 - (C) procurar o proprietário do animal para notificar a agressão e exigir a carteira de vacinação do animal.
 - (D) tomar vacina antirrábica assim que o ferimento cicatrizar, adquirindo imunidade caso ocorram outras agressões.
 - (E) lavar imediatamente o ferimento com água e sabão e procurar a Unidade Básica de Saúde mais próxima para atendimento e avaliação médica.
44. A raiva é uma zoonose viral que se caracteriza como uma encefalite progressiva aguda e de letalidade de aproximadamente 100%, considerando casos raros de cura. Sobre o vírus rábico, assinale a alternativa correta.
- (A) O vírus encontra-se na saliva do animal infectado e penetra no organismo principalmente por meio de mordedura e, mais raramente, por arranhadura e lambedura de mucosas. No ciclo urbano, as principais fontes de infecção são o cão e o gato.
 - (B) O vírus encontra-se na saliva e na urina do animal e pode penetrar através da pele com ferimentos. No ciclo urbano, a principal fonte de infecção são os morcegos.
 - (C) O vírus encontra-se na saliva, na urina e nas fezes do animal e penetra no organismo por meio de mordedura. No ciclo urbano, a principal fonte de infecção são as aves e os morcegos.
 - (D) O vírus encontra-se na secreções do animal e pode penetrar no organismo por meio de contato indireto por fômites. O principal hospedeiro, no meio silvestre, são os macacos.
 - (E) O vírus encontra-se na saliva do animal e penetra no organismo pela arranhadura. No ciclo urbano, a principal fonte de infecção são o cão e o morcego.
45. O Brasil vem observando o aumento do número de macacos mortos por febre amarela. A preocupação da reintrodução dessa arbovirose no ambiente urbano está relacionada com
- (A) a infestação de flebotomíneos nas cidades.
 - (B) a concentração elevada de morcegos insetívoros.
 - (C) uma competição entre as diferentes populações de mosquitos, levando-os à extinção.
 - (D) a elevada densidade no meio urbano do *Aedes aegypti*, mosquito vetor da dengue.
 - (E) a presença de anofelinos nas cidades.

46. Para ocorrer uma epidemia de dengue em uma comunidade, é necessário que existam os seguintes fatores para sua transmissão:
- (A) o reservatório, o agente causador, que é o *Aedes aegypti*, e indivíduos doentes.
 - (B) a fonte de infecção, o agente causador, que é o *Anopheles*, e indivíduos imunes.
 - (C) a fonte de infecção, o agente transmissor, que é o *Aedes aegypti*, e indivíduos suscetíveis.
 - (D) o agente causador, que é o *Aedes aegypti*, a fonte de infecção, que é o mosquito, e indivíduos suscetíveis.
 - (E) o reservatório, que é o vírus, o agente causador, que é o mosquito, e indivíduos saudáveis.
47. Num determinado território, existe um local com águas limpas de baixa correnteza e sombreado, onde foi encontrado um dos vetores da malária, o *Anopheles darlingi*, conhecido por muriçoca, mosquito-prego, etc. Diante dessa situação, as informações relevantes para os moradores são:
- (A) a malária é causada pelo *Plasmodium*, e a transmissão pode ocorrer por meio de transfusão sanguínea, uso de seringas contaminadas, acidentes de laboratório, por ocasião de parto e pelo ar contaminado.
 - (B) a malária é uma doença que se caracteriza por acessos intermitentes de febre, calafrios, cefaleia e sudorese, sendo causada por um parasita que entra no corpo humano através da picada do mosquito, que tem hábitos crepusculares ou noturnos e que, durante o dia, fica ao abrigo da luz excessiva.
 - (C) a malária é uma doença crônica, infecciosa, causada pelo protozoário denominado *Plasmodium*; se não for tratada a tempo, pode levar à morte. Ao sentir febre, que é sinal do rompimento das hemácias, o morador deve ir à farmácia adquirir medicação para malária.
 - (D) a malária divide o território brasileiro em duas áreas: a região endêmica e a região não endêmica, em virtude da diversidade das situações maláricas no país.
 - (E) a malária é uma doença infecciosa, e o seu controle se restringe à aplicação seletiva de medidas antivegetativas que compreendem as borrifações espaciais com aplicação de inseticida em nebulizações térmicas diárias, sempre que o número de infectados atingir 50% dos moradores.
48. A dengue é uma doença cuja prevenção deve ser feita por meio da eliminação dos criadouros do mosquito; quando não for possível a eliminação deste, devem-se tratar esses focos com larvicidas. Os principais focos de reprodução do *Aedes aegypti* são
- (A) córregos a céu aberto.
 - (B) grandes alagadiços, com peixes e aguapé.
 - (C) calhas desobstruídas, bebedouros de animais lavados diariamente, manejo adequado de resíduos sólidos.
 - (D) pequenas lagoas, garrafas armazenadas de boca para baixo, pneus guardados em locais cobertos, caixas-d'água tampadas.
 - (E) pratos localizados sob vasos de plantas, produtos descartáveis que acumulam água, caixas-d'água sem tampa, pneus descartados inadequadamente e depósitos de ferro-velho.
49. Os animais podem ser veículos de transmissão de doenças direta ou indiretamente para o ser humano. Diante disso, devem-se adotar hábitos a fim de evitar a convivência com insetos e roedores, que podem ter seu controle realizado por meio da adoção das seguintes medidas:
- (A) manter os alimentos armazenados em vasilhas com tampa, acondicionar adequadamente o lixo em locais elevados do solo e manter o intra e o peridomicílio limpos.
 - (B) deixar ração à noite disponível para os animais, limpar os terrenos a cada 6 meses e recolher o lixo sempre que possível.
 - (C) fechar buracos de telhas, paredes e rodapés, deixar ração à noite para cães e gatos e manter as caixas-d'água e vasos sanitários destampados.
 - (D) clorar a água, manter calhas obstruídas, não jogar restos de comida no chão e canalizar os córregos.
 - (E) tampar adequadamente a caixa-d'água, vedar ralos e janelas com telas milimétricas, reduzir o consumo de sal e canalizar os córregos.

50. Antes de encerrar as visitas domiciliares, a agente de vigilância sanitária Joana, além de realizar as atividades planejadas, orientou os moradores, instruindo-os a adotar as seguintes ações: telar portas e janelas; usar repelentes; usar calças, meias, roupas de manga longa e sapatos fechados durante a realização de atividades em áreas de mata; realizar medidas de manejo ambiental, a fim de alterar as condições do meio que propiciem o acúmulo inadequado de resíduos, capazes de favorecer a proliferação de vetores; não deixar água parada.

É correto afirmar que Joana está

- (A) aplicando um dos princípios do SUS que prevê a igualdade, a fim de que a população tenha o mesmo comportamento em todos os imóveis.
- (B) realizando orientações desnecessárias, já que a população sabe onde ocorrem casos autóctones de doenças de transmissão vetorial e como evitá-las.
- (C) falando sobre controle de vetores, mas essas orientações não se referem às ações de promoção de saúde.
- (D) realizando ações de educação em saúde para a prevenção e o controle de doenças transmitidas por vetores, como dengue, leishmaniose, malária etc.
- (E) invadindo a área de atuação do Agente de Controle de Endemias ao fornecer orientações sobre controle de vetores, devendo, assim, ser advertida pelo chefe.

