



PREFEITURA MUNICIPAL DE SERTÃOZINHO

ESTADO DE SÃO PAULO

Concurso Público

007. PROVA OBJETIVA

Almoxarife / Escriturário

(Cód. 009 e 010)

- ◆ Você recebeu sua folha de respostas e este caderno contendo 50 questões objetivas.
- ◆ Confira seus dados impressos na capa deste caderno e na folha de respostas.
- ◆ Quando for permitido abrir o caderno, verifique se está completo ou se apresenta imperfeições. Caso haja algum problema, informe ao fiscal da sala.
- ◆ Leia cuidadosamente todas as questões e escolha a resposta que você considera correta.
- ◆ Marque, na folha de respostas, com caneta esferográfica de tinta azul ou preta, a letra correspondente à alternativa que você escolheu.
- ◆ A duração da prova é de 3 horas, já incluído o tempo para o preenchimento da folha de respostas.
- ◆ Só será permitida a saída definitiva da sala e do prédio após transcorridos 75% do tempo de duração da prova.
- ◆ Ao sair, você entregará ao fiscal a folha de respostas e este caderno, podendo levar apenas o rascunho de gabarito, localizado em sua carteira, para futura conferência.
- ◆ Até que você saia do prédio, todas as proibições e orientações continuam válidas.

Aguarde a ordem do fiscal para abrir este caderno de questões.

Nome do candidato _____

RG _____

Inscrição _____

Prédio _____

Sala _____

Carteira _____

CONHECIMENTOS GERAIS

LÍNGUA PORTUGUESA

Leia a tira para responder às questões de números **01** a **03**.



(Bill Watterson. *O melhor de Calvin*. <http://cultura.estadao.com.br/quadrinhos>. 05.01.2018)

01. Uma interpretação correta da tira está em:

- (A) A família do garoto vê menos TV que a média, pois passa pouco tempo em casa.
- (B) O garoto cita uma pesquisa e consegue persuadir o pai a deixá-lo ver TV das 15:00 às 22:30.
- (C) O garoto insiste que os pais lhe façam companhia para ver TV depois da escola.
- (D) O pai proíbe o filho de ver TV nos dias de aula, mesmo que seja por um curto período.
- (E) O pai do garoto não o autoriza a ver TV por sete horas e meia ininterruptamente.

02. No segundo quadrinho, o vocábulo **enquanto** tem sentido equivalente ao da expressão:

- (A) antes do tempo em que.
- (B) durante o tempo em que.
- (C) por causa do tempo em que.
- (D) apesar do tempo em que.
- (E) muito depois do tempo em que.

03. Ao se empregar o pronome **nós** no lugar de **a gente** na frase do último quadrinho – Você quer que a gente fique abaixo da média? –, a forma verbal **fique** deve ser substituída, conforme a norma-padrão da língua, por

- (A) fiquemos.
- (B) ficamos.
- (C) ficarmos.
- (D) ficaríamos.
- (E) ficássemos.

Leia o texto para responder às questões de números **04** a **09**.

Ex-vice-presidente do Facebook critica redes sociais

Ao falar em uma palestra nos Estados Unidos, Chamath Palihapitiya, ex-vice-presidente de crescimento do Facebook, criticou o efeito causado pelas redes sociais.

Ele sugere que as curtidas e outros tipos de interação automática são voltados para a sensação de gratificação de curto prazo, e não geram conversas entre as pessoas. Palihapitiya diz usar o mínimo possível o Facebook e não permite que seus filhos acessem a plataforma. Apesar das palavras duras, ele **ameniza** o discurso dizendo que a empresa faz o bem no mundo.

Ao *site* Futurism, Lizbeth M. Kim, candidata a doutorado em psicologia social na Universidade Estadual da Pensilvânia, diz que a mensagem de Palihapitiya é importante para nos lembrar de algo que normalmente ignoramos por escolha. Estudos indicam que passar muito tempo usando redes sociais pode levar à depressão.

(Lucas Agrela. <https://exame.abril.com.br/>. 06.01.2018. Adaptado)

04. Segundo Chamath Palihapitiya, a interação característica das redes sociais

- (A) faz com que as pessoas se comuniquem por meio de gírias.
- (B) impossibilita as pessoas de praticarem atos de bondade.
- (C) torna as pessoas mais hostis na interação presencial.
- (D) não favorece o diálogo produtivo entre as pessoas.
- (E) não oferece às pessoas a chance de sentirem prazer.

05. Um sinônimo para **ameniza**, em destaque no segundo parágrafo, é

- (A) enfatiza.
- (B) demonstra.
- (C) abranda.
- (D) esclarece.
- (E) anula.

06. Lizbeth M. Kim usa a mensagem de Palihapitiya a fim de reforçar o alerta para a relação entre o uso prolongado das redes sociais e a depressão, uma informação que geralmente **ignoramos por escolha**, ou seja, uma informação que

- (A) concordamos reparar.
- (B) decidimos apreender.
- (C) resolvemos acatar.
- (D) preferimos desconsiderar.
- (E) aceitamos desvendar.

07. Uma palavra empregada com sentido figurado está destacada em:

- (A) falar em uma **palestra** (1º parágrafo).
- (B) sensação de **gratificação** (2º parágrafo).
- (C) palavras **duras** (2º parágrafo).
- (D) psicologia **social** (3º parágrafo).
- (E) normalmente **ignoramos** (3º parágrafo).

08. De acordo com a norma-padrão de pontuação, o vocábulo do trecho – ... a mensagem de Palihapitiya é importante para nos lembrar de algo que normalmente ignoramos por escolha. – que poderia estar entre vírgulas é:

- (A) importante.
- (B) algo.
- (C) que.
- (D) normalmente.
- (E) ignoramos.

09. A expressão destacada em – ... passar muito tempo usando redes sociais pode **levar à** depressão. – está corretamente substituída, com o sentido preservado e conforme as regras de regência da norma-padrão, por

- (A) resultar na.
- (B) decorrer da.
- (C) provocar da.
- (D) originar na.
- (E) reverter da.

Leia o texto para responder às questões de números 10 a 13.

A China

Quem não está admirado com o milagre da China está apavorado. Não dá para pensar na China sem se entusiasmar ou se assustar.

Dentro de muito pouco tempo, vai acontecer o seguinte: a China vai tornar o resto do mundo supérfluo. Não vai ser preciso existir mais ninguém, de tanto que vai existir a China.

O nosso destino é, enquanto a China cresce, irmos ficando cada vez mais desnecessários. Em... o quê? Vinte anos?

A China terá o maior parque industrial, com a mão de obra mais abundante e, portanto, mais barata, da Terra, e produzirá de tudo para o maior mercado consumidor da Terra, que será qual? O dos chineses, mesmo ganhando pouco.

A China concentrará toda a atividade econômica do planeta entre as suas fronteiras. A China se bastará.

(Luis Fernando Verissimo. <http://noblat.oglobo.globo.com/>. 26.10.2017. Adaptado)

10. De acordo com o autor, em breve, a China será economicamente

- (A) ociosa.
- (B) obsoleta.
- (C) vulnerável.
- (D) depreciada.
- (E) autossuficiente.

11. Considere a forma verbal destacada no trecho:

Dentro de muito pouco tempo, **vai** acontecer o seguinte: a China **vai** tornar o resto do mundo supérfluo. Não **vai** ser preciso existir mais ninguém, de tanto que **vai** existir a China.

O autor emprega a forma verbal em destaque para

- (A) relatar um fato ocorrido recentemente.
- (B) fazer conjecturas sobre o futuro.
- (C) expressar seu súbito entusiasmo.
- (D) descrever o instante atual como incerto.
- (E) referir-se a eventos improváveis de acontecer.

12. No trecho – ... com a mão de obra mais abundante e, **portanto**, mais barata, da Terra... –, o vocábulo em destaque apresenta a mão de obra barata como
- (A) a razão para haver trabalhadores em abundância.
 (B) a condição que garante a abundância de trabalhadores.
 (C) uma consequência da abundância de trabalhadores.
 (D) um entrave ao fato de haver trabalhadores em abundância.
 (E) uma situação sem relação com a abundância de trabalhadores.
13. Dois vocábulos empregados com sentidos que se opõem no texto são:
- (A) milagre – China (1º parágrafo).
 (B) admirado – apavorado (1º parágrafo).
 (C) destino – desnecessários (3º parágrafo).
 (D) abundante – barata (4º parágrafo).
 (E) concentrará – bastará (5º parágrafo).
14. A concordância está em conformidade com a norma-padrão na frase:
- (A) A mão de obra é abundante e os salários não são muito altos na China.
 (B) O autor receia que os demais países se tornem supérfluo diante da China.
 (C) O milagre da China tem deixado muitas pessoas extremamente preocupada.
 (D) As transações econômicas mais relevantes do planeta deve ocorrer na China.
 (E) Os operários na China tende a produzir mercadorias para eles próprio consumir.
15. Quanto à ocorrência da crase, assinale a alternativa que preenche, correta e respectivamente, as lacunas da frase a seguir:
- O autor comparou _____ situação da China _____ dos demais países e chegou _____ uma conclusão um tanto preocupante.
- (A) a ... à ... a
 (B) a ... a ... à
 (C) à ... à ... a
 (D) à ... a ... à
 (E) à ... à ... à
16. Determinada quantia de dinheiro foi totalmente dividida entre três irmãos. O mais velho recebeu $\frac{3}{8}$ da quantia, o irmão do meio recebeu $\frac{3}{5}$ do valor restante e o irmão mais novo recebeu R\$ 1.000,00. O valor recebido pelo irmão mais velho foi
- (A) R\$ 1.500,00.
 (B) R\$ 1.600,00.
 (C) R\$ 1.700,00.
 (D) R\$ 1.800,00.
 (E) R\$ 1.900,00.
17. Para a realização de uma determinada atividade cultural, os alunos participantes serão divididos em grupos, com o mesmo número de alunos em cada um deles. Com o número total de alunos participantes, é possível formar grupos ou com 5, ou com 6 ou com 8 alunos de modo que todos os alunos participantes estarão em algum grupo. Nessas condições, o menor número de alunos que estão participando dessa atividade é
- (A) 180.
 (B) 140.
 (C) 120.
 (D) 100.
 (E) 60.
18. Em um escritório, foram organizados 200 processos, e constatou-se que 8% deles já estavam concluídos. Dos demais processos, 25% estavam parados, pois faltavam alguns documentos, e os processos restantes estavam em andamento. Em relação ao número total de processos que foram organizados, os que estavam em andamento representavam
- (A) 58%.
 (B) 62%.
 (C) 65%.
 (D) 69%.
 (E) 74%.

19. Em uma pesquisa feita com 600 jovens, constatou-se que a razão entre o número de jovens que trabalham e estudam e o número de jovens que só estudam é $\frac{1}{3}$. Se 10 jovens que só estudam também começarem a trabalhar, a razão entre o número de jovens que trabalham e estudam e o número de jovens que só estudam passará a ser de
- (A) $\frac{2}{11}$
- (B) $\frac{4}{11}$
- (C) $\frac{6}{11}$
- (D) $\frac{8}{11}$
- (E) $\frac{10}{11}$
20. Uma criança ganhou um pacote de balas mastigáveis e, após contar o número total delas, concluiu que, comendo 5 balas por dia, teria balas por n dias, mas, se comesse 3 balas por dia, teria balas por 8 dias a mais e, em qualquer das duas situações, todas as balas do pacote seriam consumidas. Se essa criança comer somente 2 balas por dia, o número de dias necessários para consumir todas as balas do pacote será
- (A) 10.
- (B) 15.
- (C) 20.
- (D) 25.
- (E) 30.
21. Uma pessoa comprou determinado número de caixas para empacotar livros que serão doados, e irá colocar em cada caixa o mesmo número de livros. Se forem colocados 25 livros em cada caixa, 4 livros ficarão de fora, mas, se forem colocados 22 livros em cada caixa, será necessário comprar mais uma caixa, e, desse modo, todos os livros ficarão empacotados. O número total de livros que serão doados é
- (A) 150.
- (B) 152.
- (C) 154.
- (D) 156.
- (E) 158.

22. Em um escritório, havia 432 pastas que foram colocadas em caixas, de modo que cada caixa continha o mesmo número de pastas. Sabendo que o número de pastas por caixa é três vezes o número de caixas, então o número de pastas de uma caixa é
- (A) 40.
 - (B) 36.
 - (C) 32.
 - (D) 28.
 - (E) 24.

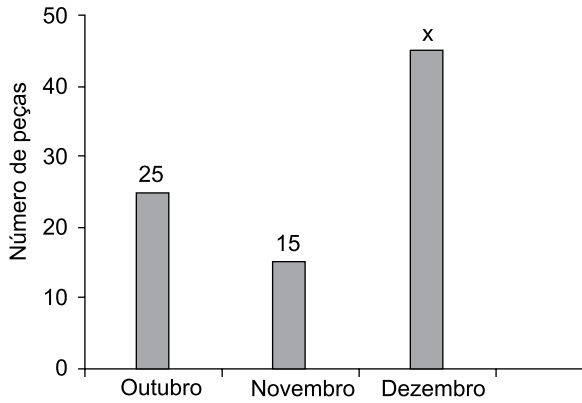
23. Uma impressora gasta exatamente 7 minutos para imprimir 3 documentos A, B e C. A tabela mostra o tempo gasto na impressão dos documentos A e B.

Documento	Tempo
A	2 minutos e 30 segundos
B	3 minutos e 5 segundos
C	?

O tempo gasto na impressão do documento C foi

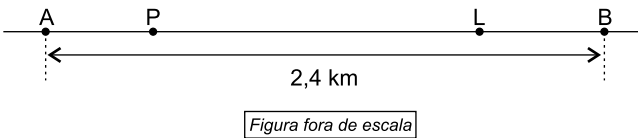
- (A) 2 minutos e 20 segundos.
 - (B) 2 minutos e 05 segundos.
 - (C) 1 minuto e 40 segundos.
 - (D) 1 minuto e 25 segundos.
 - (E) 1 minuto e 10 segundos.
24. Uma escola comprou blocos de anotações, cada um por R\$ 2,50, e canetas, cada uma por R\$ 3,50. Sabendo que entre blocos e canetas foram compradas 65 unidades e que o valor total dessa compra foi R\$ 187,50, então o número de blocos comprados foi
- (A) 40.
 - (B) 38.
 - (C) 35.
 - (D) 32.
 - (E) 30.
25. Em determinado setor de uma empresa, trabalham 7 funcionários, cuja média das idades é 31 anos, e a idade do mais velho é o dobro da idade do mais novo. Desconsiderando-se as idades do mais velho e do mais novo, a média das idades dos demais funcionários é 31,4 anos. A idade do funcionário mais velho é
- (A) 48.
 - (B) 46.
 - (C) 44.
 - (D) 42.
 - (E) 40.

26. Uma empresa vende determinado tipo de peça a R\$ 70,00 a unidade. O gráfico mostra o número de peças vendidas nos 3 últimos meses do ano.



Sabendo que o valor arrecadado com a venda dessas peças, nesses 3 meses, foi R\$ 5.950,00, o número de peças vendidas em dezembro foi

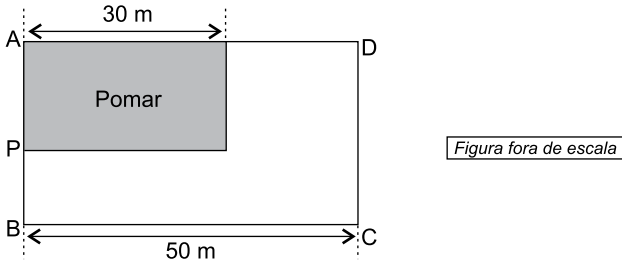
- (A) 30.
 (B) 35.
 (C) 40.
 (D) 45.
 (E) 50.
27. Em um mesmo lado de uma avenida plana, há duas farmácias, A e B, distantes entre si 2,4 km, uma padaria P e uma livraria L, conforme mostra a figura.



Sabendo que a distância entre A e P é $\frac{4}{5}$ da distância entre P e L, e que a distância entre L e B é 600 m, então, a distância entre P e B é

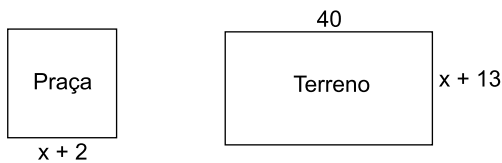
- (A) 1,8 km.
 (B) 1,6 km.
 (C) 1,4 km.
 (D) 1,2 km.
 (E) 1,0 km.

28. Um terreno retangular ABCD, com 50 m de comprimento, terá 40% de sua área destinada à construção de um pomar, também retangular, com 30 m de comprimento, conforme mostra a figura a seguir.



Sabendo que a área do pomar é 600 m^2 , é correto afirmar que a medida do segmento \overline{PB} é

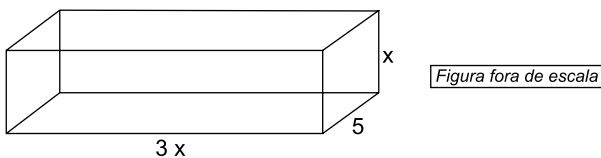
- (A) 10 m.
 - (B) 15 m.
 - (C) 20 m.
 - (D) 25 m.
 - (E) 30 m.
29. Uma praça quadrada e um terreno retangular têm suas medidas, em metros, indicadas nas figuras a seguir.



Figuras fora de escala

Sabendo que o perímetro do terreno é o dobro do perímetro da praça, então o perímetro do terreno é

- (A) 128 m.
 - (B) 130 m.
 - (C) 132 m.
 - (D) 134 m.
 - (E) 136 m.
30. A figura a seguir mostra as dimensões, em centímetros, de um prisma reto de base retangular.



Sabendo que o volume desse prisma é 240 cm^3 , então o maior lado da base, indicado na figura por $3x$, mede

- (A) 4 cm.
- (B) 8 cm.
- (C) 12 cm.
- (D) 16 cm.
- (E) 20 cm.

31. Leia o trecho da matéria.


Na quinta-feira (11.01) o *bitcoin*, registrou queda significativa após o Governo da Coreia do Sul anunciar que discute um plano para bani-lo do mercado local, um dos mais importantes do mundo. Nesta sexta-feira (12.01), foi a vez de instituições do Brasil entrarem na lista das autoridades mundiais que estão buscando formas para regulamentar um ativo cujos preços dispararam no ano passado.

(goo.gl/n2hQWt. Adaptado)

Bitcoin é

- (A) uma letra de câmbio emitida pelo governo brasileiro.
- (B) uma ação comercializada nas bolsas de valores da China.
- (C) um investimento baseado na cotação do ouro no mercado internacional.
- (D) uma moeda digital, criada por computadores e que circula apenas na internet.
- (E) um fundo de ações controlado pelo Banco Central alemão.

32. Observe a charge publicada em agosto de 2017.



(<https://www.uol/noticias/especiais/retrospectiva-nyt-ilustracoes.htm#tematico-7>. Acesso em 27.12.2017)

A charge faz alusão a um embate que se manteve em evidência até dezembro de 2017. Trata-se

- (A) da negativa dos EUA em vender armamentos para a Coreia do Sul.
- (B) da disputa sobre o comércio de armas entre os EUA e países asiáticos.
- (C) das ameaças militares da Coreia do Norte sobre os EUA.
- (D) das intensas negociações econômicas e militares entre EUA e Japão.
- (E) da concorrência comercial entre os norte-americanos e os chineses.

33. Com a decisão de declarar *persona non grata* o embaixador brasileiro, o governo do país tenta fechar deliberadamente mais uma porta para o diálogo com seus vizinhos e, ao mesmo tempo, volta a usar a velha técnica de criar inimigo externo para desviar a atenção da grave crise em que o governo mergulhou o país. Depois do imperialismo americano, chegou a vez do Brasil e do Canadá.

(O Estado de S.Paulo, 27.12.2017. goo.gl/Rg2PVD. Adaptado)

O embaixador brasileiro foi declarado *persona non grata*

- (A) em Cuba.
- (B) na Bolívia.
- (C) no Chile.
- (D) na Colômbia.
- (E) na Venezuela.

34. O clima ainda é de indefinição na Catalunha. Os catalães foram às urnas na quinta-feira (21.12.2017) com participação recorde de mais de 80% dos eleitores. Mas a indefinição na região está longe de ser resolvida: a sociedade está polarizada e isso foi refletido no resultado do pleito.

(G1, 22.12.2017. goo.gl/Ya13z3. Adaptado)

A indefinição na Catalunha destacada na notícia está relacionada

- (A) à disputa entre os grupos que querem a região independente e os que pretendem continuar como parte da Espanha.
- (B) ao pedido de anexação da região à França, feito pelos radicais, e a manutenção da região junto ao governo espanhol.
- (C) à reivindicação dos catalães para manter sua língua em detrimento do espanhol e os que exigem a permanência da língua-mãe.
- (D) à exigência dos grupos de esquerda para libertar seu líder, foragido na Bélgica, e os grupos de direita que o condenam.
- (E) à rivalidade entre os separatistas que exigem a retirada dos grupos que defendem a Espanha e os governistas que defendem a Constituição.

35. Na reunião do G-20, em julho de 2017, a chanceler alemã disse que o documento final da reunião deixa absolutamente claro que os 19 líderes mundiais reunidos em Hamburgo não compartilham da posição do presidente do país que saiu do Acordo de Paris, que luta contra o aquecimento global. A decisão foi classificada como "lamentável".

(O Globo, 09.07.2017. goo.gl/z5KQjt. Adaptado)

Saiu do Acordo climático o presidente

- (A) da França.
- (B) do Japão.
- (C) dos Estados Unidos.
- (D) do México.
- (E) da Rússia.

36. Publicado em 16 de outubro, o texto expôs o país a mais um vexame. A ONU manifestou “profunda preocupação” e lembrou que o Brasil convive com sérios problemas “em fazendas, fábricas e domicílios”. A Organização Internacional do Trabalho alertou para o “aumento da desproteção e vulnerabilidade de uma parcela da população já muito fragilizada”.

Por aqui, a repercussão também foi desastrosa. A procuradora-geral da República, Raquel Dodge, definiu a portaria como um “claro retrocesso”. A ministra Rosa Weber, do STF, afirmou que o texto afrontava direitos fundamentais das pessoas e decidiu suspender seus efeitos.

(Folha de S.Paulo, 28.12.2017. goo.gl/21LtzJ. Adaptado)

A Portaria destacada na notícia tratava

- (A) do conceito de trabalho escravo, substituída apenas em dezembro.
- (B) da permissão de aborto em caso de estupro, confirmada em novembro.
- (C) da redução de pena em caso de homofobia, anulada no final do ano de 2017.
- (D) do indulto em caso de prisão por crime não violento, suspensa em dezembro.
- (E) da redução da menoridade penal, mantida em novembro.

37. Leia a notícia de 26 de novembro.

Uma das maiores empresas ferroviárias do mundo estuda liderar um consórcio para construir a Fiol (Ferrovia de Integração Oeste-Leste) e integrá-la ao porto de Ilhéus (BA). Hoje, a ferrovia tem um pequeno trecho em operação.

A intenção é clara: escoar soja (segundo principal produto que este país compra do Brasil, atrás do minério de ferro) do Centro-Oeste até o porto baiano.

(Folha de S.Paulo, 26.11.2017. goo.gl/9W9CLa. Adaptado)

O país interessado na construção da ferrovia é

- (A) a Alemanha.
- (B) a China.
- (C) o Reino Unido.
- (D) a Índia.
- (E) a França.

38. Leia o trecho da notícia sobre uma entrevista do Ministro da Fazenda.

Ao falar da recuperação da economia, o Ministro citou que o nível de ocupação aumentou e os indicadores de confiança seguem em trajetória de alta. Ele ressaltou que a retomada da confiança de empresários e consumidores é essencial para a recuperação da economia. “A confiança agora está em contínuo aumento”, disse ele, ressaltando que isso é reflexo da agenda de reformas que o presidente começou a implementar no País.

(IstoÉ, 26.10.2017. goo.gl/3gDKnb. Adaptado)

O ministro entrevistado ao qual a notícia se refere é

- (A) Osmar Serraglio.
- (B) Dyogo Oliveira.
- (C) Pedro Parente.
- (D) Eliseu Padilha.
- (E) Henrique Meirelles.

39. O Parque Nacional da Chapada dos Veadeiros, em Goiás, foi notícia durante o mês de outubro.

(UOL, 29.10.2017. goo.gl/AF8izZ. Adaptado)

O noticiário destacou que o Parque Nacional

- (A) foi invadido por um grupo de sem-terras.
- (B) cedeu parte da área para criadores de gado.
- (C) teve parte da área transformada em reserva indígena.
- (D) sofreu um incêndio que destruiu 25% de sua área.
- (E) contém uma grande jazida de ouro.

40. O governo do estado decretou neste sábado (06.01), em publicação no Diário Oficial, situação de calamidade na segurança pública. Com a paralisação das polícias há mais de duas semanas, o Estado tem enfrentado uma onda de violência.

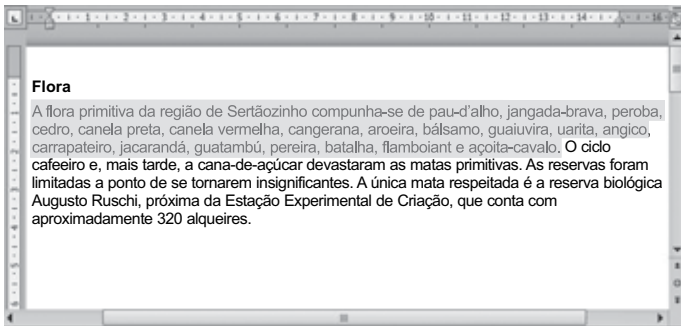
(Folha S.Paulo, 06.01.2018. http://folha.com/no1948509. Adaptado)

A situação de calamidade na segurança foi decretada

- (A) em Pernambuco.
- (B) no Rio Grande do Norte.
- (C) na Bahia.
- (D) na Paraíba.
- (E) no Maranhão.

NOÇÕES DE INFORMÁTICA

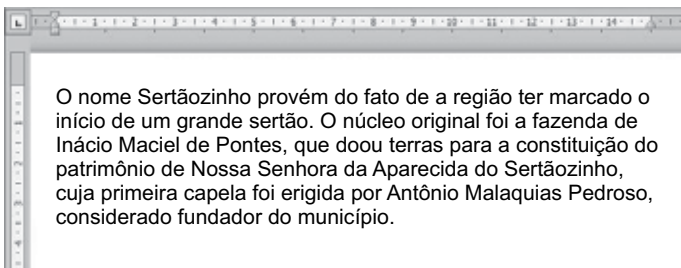
41. Considere a imagem a seguir, extraída do MS-Word 2010, em sua configuração padrão. A primeira frase do parágrafo foi selecionada pelo usuário.



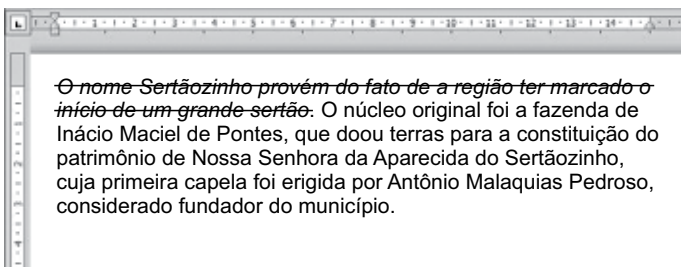
No contexto apresentado na imagem, quando o usuário utilizar o atalho de teclado Ctrl+X, a frase selecionada será

- (A) duplicada no parágrafo.
 (B) enviada para impressão.
 (C) recortada e colocada na área de transferência.
 (D) localizada no documento inteiro.
 (E) alinhada à direita.
42. Considere o documento de texto a seguir, extraído do MS-Word 2010 em sua configuração padrão e apresentado em dois momentos: **antes** e **depois** da utilização de dois recursos de formatação na primeira frase do parágrafo.

ANTES



DEPOIS



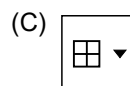

Assinale a alternativa que contém o nome dos dois recursos de formatação utilizados entre os momentos apresentados.

- (A) Itálico e Tachado.
 (B) Tachado e Sublinhado.
 (C) Itálico e Sublinhado.
 (D) Sublinhado e Sobrescrito.
 (E) Itálico e Subscrito.

Utilize a planilha a seguir, extraída do MS-Excel 2010, em sua configuração padrão, para responder às questões de números 43 a 45. O desempenho de 4 alunos é apresentado em 3 notas na planilha, e a coluna E é um cálculo dessas notas. A célula E2 é um cálculo das células B2, C2 e D2, por exemplo.

	A	B	C	D	E
1	Nome	Nota 1	Nota 2	Nota 3	M
2	Carlos	8	7	6	7
3	Andrea	6	6	6	6
4	Paula	8	9	10	9
5	Daniel	5	10	6	

43. Assinale a alternativa que contém a fórmula que, ao ser inserida na célula E5, mantém o mesmo tipo de cálculo apresentado nas células E2, E3 e E4 em relação às notas.
- (A) =SOMA(B2:D5)
 (B) =SOMA(B5:D5)
 (C) =MÁXIMO(B5:D5)
 (D) =MÍNIMO(B5:D5)
 (E) =MÉDIA(B5:D5)
44. Para colorir o plano de fundo das células do intervalo A1:E1, foi utilizado o recurso do grupo Fonte, da guia Página Inicial, representado pelo seguinte ícone, ilustrado a seguir:



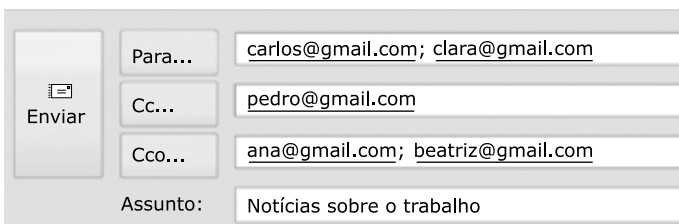
45. Ao selecionar o intervalo A2:E5 e clicar no ícone do recurso "Classificar de Z a A", que pertence ao grupo "Classificar e Filtrar" da guia Dados, o conteúdo da célula C5 será
- (A) 10
 (B) 7
 (C) 6
 (D) Daniel
 (E) Carlos

46. Na Internet, a função do _____ em uma URL é indicar que o site é seguro para navegação, ou seja, que será acessado utilizando um protocolo de transferência de hipertexto considerado seguro.

Assinale a alternativa contendo a informação que preenche corretamente a lacuna do enunciado.

- (A) prefixo http://
- (B) prefixo https://
- (C) sufixo .edu.br
- (D) sufixo .com.br
- (E) sufixo .org.br

47. Considere a figura a seguir, extraída do MS-Outlook 2010, em sua configuração padrão, que mostra os cinco destinatários de um e-mail (Carlos, Clara, Pedro, Ana e Beatriz) pronto para ser enviado.



Assinale a alternativa que contém os nomes dos destinatários que receberão uma cópia do e-mail, mas não terão os seus endereços vistos pelos outros destinatários.

- (A) Carlos e Clara.
- (B) Carlos, Clara e Pedro.
- (C) Pedro, Ana e Beatriz.
- (D) Ana e Beatriz.
- (E) Carlos, Clara, Pedro, Ana e Beatriz.

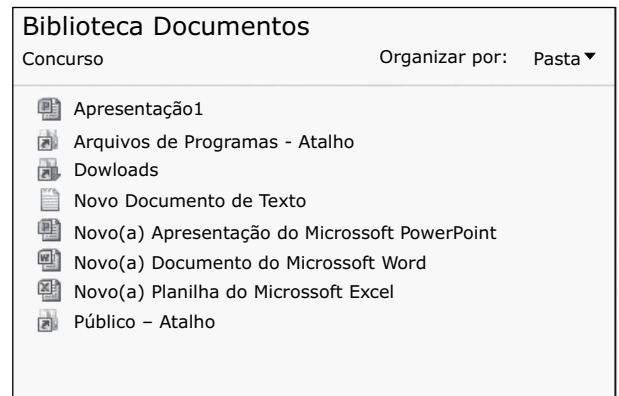
48. Observe os ícones a seguir, extraídos do Windows Explorer do MS-Windows 7, na configuração de exibição de Ícones Médios. Os ícones foram marcados de 1 a 5 e não foram modificados desde a sua criação.



Assinale a alternativa que contém o número correspondente ao ícone de um atalho de uma pasta que não está vazia.

- (A) 1
- (B) 2
- (C) 3
- (D) 4
- (E) 5

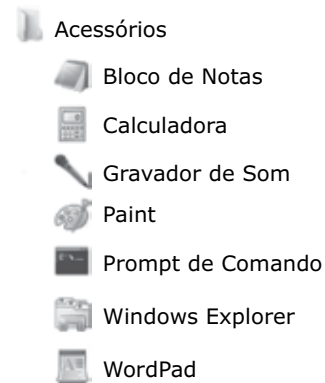
49. Observe a seguinte ilustração da Biblioteca de Documentos, do MS-Windows 7, em sua configuração padrão.



Quando o usuário selecionar a planilha do MS-Excel 2010, utilizando apenas um clique do botão primário do mouse, e depois utilizar as teclas de atalho Ctrl+C e Ctrl+V, nessa sequência, ela será

- (A) enviada para impressão.
- (B) copiada e colada como uma nova planilha.
- (C) eliminada imediatamente.
- (D) enviada para Lixeira.
- (E) enviada para Área de Trabalho.

50. Considere a imagem a seguir, extraída do MS-Windows 7, em sua configuração padrão. Ela apresenta parte dos programas da pasta Acessórios, do Menu Iniciar > Todos os Programas.



Assinale a alternativa que contém o nome do aplicativo destinado a criar, colorir e editar imagens.

- (A) Paint.
- (B) Prompt de Comando.
- (C) Bloco de Notas.
- (D) WordPad.
- (E) Windows Explorer.

