

PREFEITURA MUNICIPAL DE BARRETOS
ESTADO DE SÃO PAULO

CONCURSO PÚBLICO

019. PROVA OBJETIVA

MOTORISTA SOCORRISTA – SAMU

- ◆ Você recebeu sua folha de respostas e este caderno contendo 40 questões objetivas.
- ◆ Confira seus dados impressos na capa deste caderno e na folha de respostas.
- ◆ Quando for permitido abrir o caderno, verifique se está completo ou se apresenta imperfeições. Caso haja algum problema, informe ao fiscal da sala.
- ◆ Leia cuidadosamente todas as questões e escolha a resposta que você considera correta.
- ◆ Marque, na folha de respostas, com caneta de tinta preta, a letra correspondente à alternativa que você escolheu.
- ◆ A duração da prova é de 3 horas, já incluído o tempo para o preenchimento da folha de respostas.
- ◆ Só será permitida a saída definitiva da sala e do prédio após transcorridos 75% do tempo de duração da prova.
- ◆ Ao sair, você entregará ao fiscal a folha de respostas e este caderno, podendo levar apenas o rascunho de gabarito, localizado em sua carteira, para futura conferência.
- ◆ Até que você saia do prédio, todas as proibições e orientações continuam válidas.

AGUARDE A ORDEM DO FISCAL PARA ABRIR ESTE CADERNO DE QUESTÕES.

Nome do candidato _____

RG _____

Inscrição _____

Prédio _____

Sala _____

Carteira _____

CONHECIMENTOS GERAIS

LÍNGUA PORTUGUESA

Leia o texto para responder às questões de números **01** a **09**.

Sociedade escrava das aparências

A mistura de indelicadeza e discriminação social foi tema de uma reportagem feita pela jornalista Helenice Laguardia. Durante dois dias, ela visitou 27 lojas de *shoppings* sofisticados de Belo Horizonte: no primeiro, vestida com uma calça de moletom, uma camisa masculina e chinelos; no segundo dia, “fantasiada” de madame, com vestido de tecido fino e usando joias.

No primeiro dia, Helenice ia ao banheiro várias vezes para chorar e se acalmar. Foi ignorada, humilhada e muito observada por seguranças. Alguns vendedores riram dela, outros fizeram perguntas agressivas ou até mesmo ofensivas, e muitos simplesmente fingiram que ela não estava ali. Em nenhuma das 27 lojas ela encontrou uma demonstração de gentileza.

No segundo dia, porém, com roupas de madame e sem ser reconhecida pelos vendedores, Helenice recebeu tratamento excelente, não teve que esperar para ser atendida, viu produtos que na véspera estavam “em falta”, ouviu elogios, tomou café e saiu dos *shoppings* morrendo de raiva, sentindo-se pior do que no dia anterior. Ela não sabia que as pessoas eram capazes dessa crueldade. Por mais que tivesse consciência de tudo o que acontece no mundo, ela não enxergava essa maldade. Viu que as pessoas valem pelo que vestem, que é tudo um grande teatro, uma grande ilusão. Ela não culpa os vendedores, o que Helenice questiona são os valores de uma sociedade escrava das aparências, em que as pessoas tratam bem apenas quem interessa a elas.

(Leila Ferreira. *A arte de ser leve*. São Paulo: Globo, 2010. Adaptado)

01. De acordo com o texto, as roupas usadas por Helenice tinham por objetivo mostrar

- (A) o gosto pessoal dela.
- (B) o interesse por estilos modernos.
- (C) a naturalidade e o conforto.
- (D) a diferença social.
- (E) o bom senso ao se vestir.

02. Segundo o texto, no primeiro dia da reportagem, Helenice reagiu com

- (A) tranquilidade.
- (B) tristeza.
- (C) indiferença.
- (D) ânimo.
- (E) agressividade.

03. Conforme o texto, os vendedores dão importância às pessoas de acordo com

- (A) o valor das compras que elas fazem.
- (B) a rapidez na decisão de comprar.
- (C) a educação delas com os atendentes.
- (D) a quantidade de produtos que adquirem.
- (E) o nível social a que elas aparentam pertencer.

04. No trecho – Durante dois dias, ela visitou 27 lojas de *shoppings sofisticados*... – a palavra destacada pode ser substituída, sem alteração de sentido, por

- (A) invejados.
- (B) procurados.
- (C) requintados.
- (D) espaçosos.
- (E) famosos.

05. Assinale a alternativa em que há palavras empregadas com sentido figurado.

- (A) ... Helenice ia ao banheiro várias vezes...
- (B) Foi ignorada, humilhada e muito observada...
- (C) Alguns vendedores riram dela...
- (D) ... saiu dos *shoppings* morrendo de raiva...
- (E) Ela não culpa os vendedores...

06. Assinale a alternativa em que a forma verbal destacada está no tempo presente.

- (A) Durante dois dias, ela **visitou** 27 lojas...
- (B) Helenice **ia** ao banheiro várias vezes...
- (C) Por mais que **tivesse** consciência de tudo...
- (D) ... ela não **enxergava** essa maldade.
- (E) Ela não **culpa** os vendedores...

07. No trecho do 1º parágrafo – vestida **com** uma calça de moletom... –, a palavra destacada estabelece sentido de

- (A) finalidade.
- (B) origem.
- (C) causa.
- (D) modo.
- (E) meio.

08. Assinale a alternativa em que a pontuação das frases está de acordo com a norma-padrão da língua portuguesa.

- (A) A discriminação social, é um atraso, para a sociedade em geral.
- (B) Helenice Laguardia, a jornalista, foi quem fez essa reportagem.
- (C) Costuma-se, dar muita importância, às aparências das pessoas.
- (D) Helenice, chorou várias vezes, durante aquela reportagem.
- (E) A jornalista ficou, inconformada, com a postura dos vendedores.

09. O acento indicativo da crase está empregado conforme a norma-padrão da língua portuguesa em:

- (A) Ela dedicou-se à uma profissão difícil, mas que amava muito.
- (B) Quando ela usou às melhores roupas, foi muito bem tratada.
- (C) O atendente dirigiu-se à jornalista com bastante desrespeito.
- (D) A reportagem foi feita à fim de mostrar a discriminação social.
- (E) A jornalista estava disposta à falar a verdade na entrevista.

Leia os textos dos quadrinhos para responder às questões de números 10 e 11.



(<http://www.blogcariri.com.br> – Acesso em 13.01.2018)

10. Conforme a leitura do 2º e 3º quadrinhos, é correto afirmar que o menino se refere

- (A) à dificuldade de enxergar de perto.
- (B) a pessoas que são deficientes visuais.
- (C) a outro sentido da palavra visão.
- (D) a problemas de visão que requerem cirurgia.
- (E) a situações em que o melhor é usar lentes.

11. De acordo com a leitura do último quadrinho, é correto afirmar que o menino está se referindo

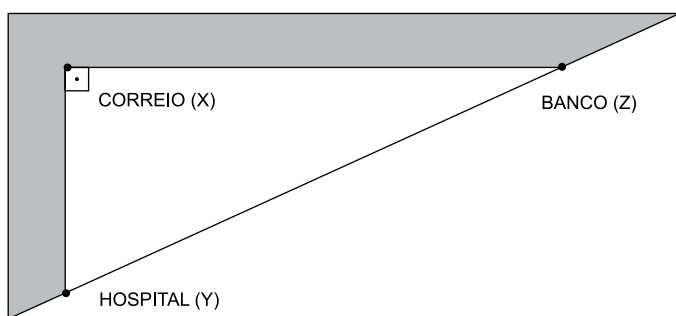
- (A) ao quanto as pessoas desvalorizam a aparência.
- (B) à dificuldade de se perceber a essência das pessoas.
- (C) à necessidade de enxergar para avaliar bem as aparências.
- (D) a problemas de baixa visão de muitas pessoas.
- (E) à discriminação com os que têm problemas visuais graves.

12. A alternativa em que a colocação dos pronomes e a concordância das palavras está de acordo com a norma-padrão da língua portuguesa está em:

- (A) Não nos disseram que as reportagens seriam demoradas.
- (B) As clientes que informaram-me o fato estavam mais tranquila.
- (C) Ela mesmo nunca dispôs-se a ajudar os próprios irmãos.
- (D) Quem perguntou-lhes se haveria mais duas ou três oferta?
- (E) Sua mãe parecia meia nervosa quando apresentou-se para nós.

13. Em uma sala de aula, há 8 meninos e 32 meninas. Metade dos meninos e um quarto das meninas não farão o exame final de matemática. A porcentagem de alunos que fará o exame final, de matemática, será
- (A) 55%.
(B) 60%.
(C) 65%.
(D) 70%.
(E) 75%.
14. O perímetro de um terreno retangular é 166 metros. O comprimento desse terreno tem 13 metros a mais do que a medida da largura. A área desse terreno, em metros quadrados, é de
- (A) 1680.
(B) 1860.
(C) 2158.
(D) 3118.
(E) 5810.
15. Um peão treina diariamente 1h45 na montaria em cavalos e mais 1h30 na montaria em touros. Ontem ele começou seu treino às 13h25 e terminou às 16h50. O intervalo de descanso, em minutos, entre uma montaria e outra foi igual a
- (A) 5.
(B) 10.
(C) 18.
(D) 20.
(E) 22.
16. Sônia comeu $\frac{1}{5}$ de um ovo de Páscoa na sexta-feira. No sábado, ela comeu $\frac{1}{4}$ do ovo, e no domingo ela comeu $\frac{1}{3}$ do que havia sobrado. A fração do ovo de Páscoa que ela irá comer a partir de segunda-feira é
- (A) $\frac{11}{60}$
(B) $\frac{9}{20}$
(C) $\frac{11}{20}$
(D) $\frac{11}{30}$
(E) $\frac{19}{30}$

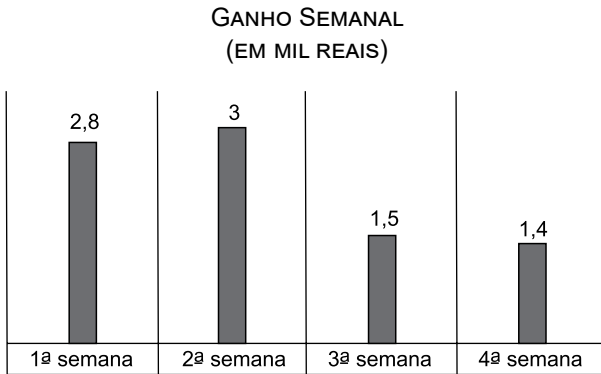
17. Uma estudante de música estuda, a cada quatro dias, teoria musical, a cada dois dias, teclado, e a cada cinco dias estuda violão. Sabendo-se que no dia 03 de abril ela estudou teoria, teclado e violão, o dia de abril em que ela voltará a estudar também teoria, teclado e violão, no mesmo dia, será dia
- (A) 8.
(B) 9.
(C) 14.
(D) 18.
(E) 23.
18. Num hospital de Barretos, 12 médicos fazem, por dia, aproximadamente, 1248 consultas em 8 horas de trabalho. Supondo que o número de consultas é dividido igualmente entre os médicos, o número de consultas que cada médico realiza em uma hora trabalhada é igual a
- (A) 10.
(B) 11.
(C) 13.
(D) 14.
(E) 16.
19. O cruzamento de duas ruas se dá a 90° , conforme mostra a figura.



Sendo as distâncias aproximadas entre o correio (X) e o banco (Z) de 24 metros e entre o banco (Z) e o hospital (Y) de 25 metros, a distância, aproximada, entre o hospital (Y) e o correio (X), em metros, é igual a

- (A) 7.
(B) 8,5.
(C) 23.
(D) 24,5.
(E) 49.

20. O gráfico a seguir representa o ganho semanal de uma vendedora de produtos de beleza.



Analisando o gráfico, é correto afirmar que o ganho, em reais, nas duas primeiras semanas, supera o ganho nas duas últimas em

- (A) 3.000,00.
(B) 2.900,00.
(C) 2.000,00.
(D) 1.200,00.
(E) 200,00.
21. A razão entre a largura e o comprimento de uma rua é de 3 para 186. Sendo a medida da largura dessa rua igual a 20 metros, conclui-se que o comprimento dela, em quilômetros, é
- (A) 1,18.
(B) 1,20.
(C) 1,24.
(D) 1,30.
(E) 1,42.
22. Um trabalhador ganhava, mensalmente, um salário líquido de R\$ 2.700,00. Devido à redução de sua jornada de trabalho, seu salário mensal líquido passou para R\$ 2.430,00. Conclui-se que o salário desse trabalhador foi reduzido em
- (A) 10%.
(B) 12%.
(C) 14%.
(D) 18%.
(E) 27%.

ATUALIDADES

23. O principal líder do país disse nesta quarta-feira [18 out.2017] que o país permanecerá no acordo nuclear com as potências mundiais que respeitem o tratado, mas que irá rasgá-lo se os Estados Unidos abandonarem o acordo, relatou a televisão estatal. O líder fez a declaração mais de uma semana após o presidente dos Estados Unidos, Donald Trump, ter anunciado uma abordagem mais rígida em relação ao país e dizendo que pode encerrar o tratado.

(G1 – goo.gl/pabmV8. Acesso em 26.01.2018. Adaptado)

Os Estados Unidos ameaçaram abandonar o acordo assinado com

- (A) a China.
- (B) o Irã.
- (C) o Líbano.
- (D) a Arábia Saudita.
- (E) o Paquistão.

24. Leia a notícia de 05 de novembro de 2017.

Milhares de pessoas deixam o país em crise em busca de uma nova vida no Brasil, especialmente no estado de Roraima, que pediu ajuda ao governo do presidente Michel Temer para lidar com o fluxo de milhares de pedidos de refúgio em 2017.

(UOL – goo.gl/uaoRjP. Acesso em 27.01.2018. Adaptado)

O Brasil e, principalmente, o estado de Roraima, tem recebido milhares de pedidos de

- (A) haitianos.
- (B) bolivianos.
- (C) argentinos.
- (D) paraguaios.
- (E) venezuelanos.

25. Indicada ao cargo pelo pai e presidente de um dos partidos aliados do governo, a deputada foi anunciada como ministra pelo presidente Temer em 3 de janeiro, mas foi impedida de tomar posse por força de uma decisão judicial, em 8 de janeiro. Após várias idas e vindas, em 22 de janeiro a deputada foi novamente impedida de assumir o ministério.

(Último Segundo – goo.gl/6Y9DhT. Acesso em 27.01.2018. Adaptado)

Esses impedimentos ocorreram para a posse no ministério

- (A) da Fazenda.
- (B) da Saúde.
- (C) do Trabalho.
- (D) da Educação.
- (E) da Cultura.

26. Em 26 de janeiro, o governo federal divulgou notas sobre fatos sociais e econômicos que interessam à sociedade brasileira. Uma delas é que a arrecadação de taxas e impostos aumentou em 2017.

(G1 – goo.gl/edNEFE. Acesso em 27.01.2018. Adaptado)

Também foi noticiado que

- (A) o número de demissões superou o de contratações.
- (B) o INSS fez um reajuste de 10% nas aposentadorias e pensões.
- (C) o setor de construção civil apresentou uma grande expansão.
- (D) os homens e as mulheres passaram a ter salários iguais.
- (E) o dólar dobrou de valor no último semestre de 2017.






NOÇÕES DE INFORMÁTICA

27. Um usuário, por meio do WordPad, aplicativo padrão do MS-Windows 7, em sua configuração padrão, abre um arquivo salvo no computador para atualização.

Depois de realizar as alterações desejadas, o usuário pode salvar o arquivo por meio do atalho

- (A) Ctrl + S
- (B) Ctrl + B
- (C) Ctrl + F
- (D) Alt + B
- (E) Alt + S






28. O ícone de formatação de Fonte “sobrescrito” do MS-Word 2010, em sua configuração padrão, é

- (A) 
- (B) 
- (C) 
- (D) 
- (E) 

29. Assinale a alternativa que apresenta um intervalo contendo 8 células, de acordo com o padrão de definição de intervalo do MS-Excel 2010, em sua configuração padrão.

- (A) A1-A8
- (B) A3;A8
- (C) A6:A14
- (D) A4:A11
- (E) A5;A12

30. Assinale a alternativa que apresenta o ícone do MS-Outlook 2010, em sua configuração padrão, usado para “Responder a Todos”.

- (A) 
- (B) 
- (C) 
- (D) 
- (E) 

CONHECIMENTOS ESPECÍFICOS

31. De acordo com o artigo 35, parágrafo único do Código de Trânsito Brasileiro, entende-se por deslocamento lateral a transposição de faixas, movimentos de conversão à direita, à esquerda e

- (A) ultrapassagens.
- (B) passagens.
- (C) retornos.
- (D) estacionamentos.
- (E) paradas.

32. Analise a figura.



Ela mostra um veículo sendo flagrado pelo radar existente na rodovia, onde a velocidade máxima permitida é de 80 km/h, sendo que seu condutor passou a 87 km/h. Nesse caso, o condutor cometeu uma infração de natureza

- (A) leve.
- (B) gravíssima.
- (C) grave.
- (D) levíssima.
- (E) média.

33. Além do disposto no art. 145 do CTB, para conduzir ambulâncias, nos termos da normatização do Contran, o candidato que tenha até 65 anos de idade deverá comprovar treinamento especializado e reciclagem em cursos específicos a cada

- (A) 7 (sete) anos.
- (B) 6 (seis) anos.
- (C) 5 (cinco) anos.
- (D) 4 (quatro) anos.
- (E) 3 (três) anos.

34. De acordo com o artigo 293 do CTB, a penalidade de suspensão ou de proibição de se obter a permissão ou a habilitação para dirigir veículo automotor tem a duração de

- (A) um ano a dois anos.
- (B) três meses a um ano.
- (C) um mês a dois anos.
- (D) dois anos a quatro anos.
- (E) dois meses a cinco anos.

35. Via caracterizada por interseções em nível, geralmente controlada por semáforo, com acessibilidade aos lotes lindeiros e que possibilita o trânsito entre as regiões da cidade é denominada via

- (A) secundária.
- (B) arterial.
- (C) local.
- (D) trânsito rápido.
- (E) coletora.

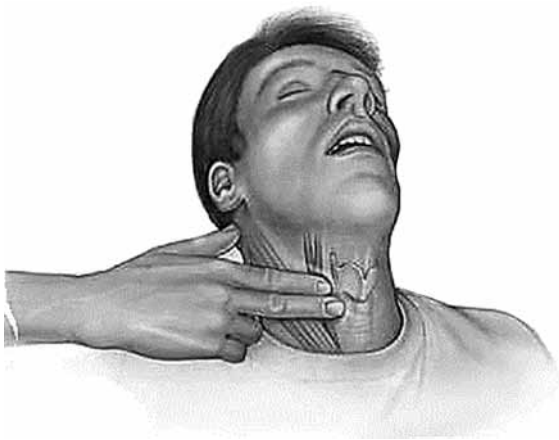
36. Os sinais de trânsito que têm por finalidade alertar os usuários da via para condições potencialmente perigosas, indicando sua natureza, é denominada sinalização de

- (A) regulamentação.
- (B) serviços auxiliares.
- (C) indicação.
- (D) advertência.
- (E) intervenção.

37. Trafegando por uma rodovia de pista simples não sinalizada com placas de velocidade máxima permitida, e estiver conduzindo um veículo de grande porte, com capacidade de peso bruto total de 45 toneladas, um condutor não poderá ultrapassar a velocidade máxima de

- (A) 50 km/h.
- (B) 60 km/h.
- (C) 70 km/h.
- (D) 80 km/h.
- (E) 90 km/h.

38. Assinale a alternativa que contempla um equipamento que faz parte do sistema de admissão do motor de um veículo de combustão interna.
- (A) Comando de válvulas.
 - (B) Eixo piloto.
 - (C) Caixa de satélites.
 - (D) Conjunto homocinéticas.
 - (E) Coroa e pinhão.
39. Em dias de chuva, a falta de aderência do pneu com a pista molhada pode ocasionar o fenômeno da
- (A) força centrífuga.
 - (B) corrente térmica.
 - (C) corrente aerodinâmica.
 - (D) aquaplanagem.
 - (E) força centrípeta.
40. Analise a figura.



Em Primeiros Socorros, a ação que está sendo executada na artéria carótida, pelo socorrista, ajuda a identificar

- (A) a temperatura exata do corpo.
- (B) os batimentos cardíacos.
- (C) a respiração ineficiente.
- (D) os sangramentos no pescoço.
- (E) a fratura vertebral.

