



**PREFEITURA MUNICIPAL DE CONGONHINHAS  
ESTADO DO PARANÁ  
CONCURSO PÚBLICO Nº 01/2018**

**AGENTE DE CONSTRUÇÃO CIVIL, AGENTE DE  
SERVIÇOS GERAIS, GARI, MOTORISTA,  
OPERADOR DE MÁQUINAS PESADAS**

**Instruções**

Leia atentamente e cumpra rigorosamente as instruções que seguem, pois elas são parte integrante das provas e das normas que regem esse Concurso Público.

1. Atente-se aos avisos contidos no quadro da sala.
2. Seus pertences deverão ser armazenados dentro do saco plástico fornecido pelo fiscal. Somente devem permanecer em posse do candidato caneta esferográfica de ponta grossa, de material transparente, com tinta azul ou preta, documento de identidade, lanche e água, se houver. A utilização de qualquer material não permitido em edital é expressamente proibida, acarretando a imediata exclusão do candidato.
3. Certifique-se de que este caderno:
  - contém 40 (quarenta) questões;
  - refere-se ao cargo para o qual realizou a inscrição;
4. Cada questão oferece 5 (cinco) alternativas de respostas, representadas pelas letras A, B, C, D e E, sendo apenas 1 (uma) a resposta correta.
5. No caderno de prova, pode-se rabiscar, riscar e calcular.
6. Será respeitado o tempo para realização da prova conforme previsto em edital, incluindo o preenchimento da grade de respostas.
7. A responsabilidade referente à interpretação dos conteúdos das questões é exclusiva do candidato.
8. Os dois últimos candidatos deverão retirar-se da sala de prova ao mesmo tempo, devendo assinar a Ata de Prova.
9. Os gabaritos preliminares da prova objetiva serão divulgados na data descrita no Cronograma de Execução.

Boa prova!



**Instrução: As questões de números 01 a 15 referem-se ao texto abaixo. Os destaques ao longo do texto estão citados nas questões.**

### Fotos em família

01 Na era da selfie e da pose para as redes sociais, o fotógrafo Renato DPaula propõe o resgate  
02 do que há de mais autêntico na vida cotidiana das pessoas por meio da fotografia documental  
03 de família. **O** sol está raiando, a família começa a despertar, o café da manhã nem foi preparado  
04 **ainda**, mas o fotógrafo Renato D'Paula já está pronto para clicar. E não se trata de retratar sua  
05 própria filha, esposa ou parentes próximos. Ele está na casa de outras pessoas e passará o dia  
06 inteiro com elas, observando e registrando as atividades rotineiras do seu cotidiano. Sem  
07 interferir, sem pedir ou sugerir nada. "Não acendo nem sequer uma luz, nem aperto o botão do  
08 elevador. A única coisa que repito é para que elas fa\_\_am tudo como costumam fa\_\_er, como  
09 se eu não estivesse ali", explica.

10 **Essa** é a essência da fotografia documental de família, uma tendência que quer reter o lado  
11 mais autêntico das histórias de vida das pessoas. Completamente diferente da cobertura de  
12 eventos, como, casamentos, aniversários e ensaios fotográficos, que contam com muito  
13 planejamento e controle sobre a situação (iluminação, figurino, cenário, etc.). Uma proposta que  
14 chega a ser bastante ousada na atual era das selfies e das poses produzidas para as redes sociais.

15 Em "Um Dia na Vida", como intitula a proposta para facilitar o entendimento, Renato sempre  
16 começa bem cedo, mas sabe que a melhor parte só vem depois do almoço. "No início as  
17 pessoas estão mais '**armadas**' para sair bem na foto. É natural do ser humano", conta. Mas, ao  
18 longo do dia de convivência, as máscaras vão caindo, elas se entregam e acabam acontecendo  
19 os melhores momentos. Assim como as melhores fotos.

20 Renato já viajou boa parte do país acompanhando um dia – ou mais – na vida de dezenas de  
21 famílias, de Porto Alegre (RS) a Recife (PE), incluindo Campo Grande (MS). Mas ainda são, na  
22 maioria, os colegas fotógrafos que **abrem** as portas de suas casas para essa ideia. Há um longo  
23 caminho a ser pavimentado na divulgação desse estilo. "Meu principal objetivo é educar as  
24 pessoas sobre a importância de uma foto da criança chorando". Ele **ilustra** seu argumento com  
25 uma fotografia da criança aos prantos dentro do carro com a mãe ao lado, respirando fundo. A  
26 criança revoltada por ter de ir embora de uma tarde **intensa** na praia. A mãe firme na sua  
27 decisão de que é hora de ir para casa e ciente de que tudo isso é pura demonstração de cansaço,  
28 e de que é preciso paciência, porque ainda tem muito mais por vir: banho♦ comida♦ cama♦ Em  
29 outro caso, o clique congela aquele instante em que um pai precisa lidar com a frustração do  
30 filho que não consegue fa\_\_er a tarefa da escola, mas também não quer escutar suas explicações  
31 a respeito da matéria. "A magia dessas fotos é que, na verdade, elas não mostram o choro ou a  
32 cara emburrada das crianças, mas, sim, o amor dos pais pelos filhos e a dedicação em educá-  
33 los", ressalta.

Texto adaptado. Disponível em: <https://www.revistaplaneta.com.br/fotos-de-familia/>

**QUESTÃO 01** – Qual das afirmações abaixo está INCORRETA de acordo com o texto?

- A) As selfies retratam a realidade das famílias.
- B) A vida de todos os fotógrafos se apresenta através das fotos.
- C) A convivência com estranhos faz bem para a saúde.
- D) A importância de preservarmos as lembranças do cotidiano, do real.
- E) Mães não são tão pacientes com seus filhos.

**QUESTÃO 02** – Assinale a alternativa que apresenta a correta separação silábica de palavras retiradas do texto.

- A) Pa – ssa – rá.
- B) Cas – amen – tos.
- C) Em – bur – ra – da.
- D) Obs – er – van – do.
- E) Pe – sso – as.

**QUESTÃO 03** – A palavra “começa” é escrita com Ç da mesma forma que:

- A) Far\_\_a.
- B) Ofen\_\_a.
- C) Remor\_\_o.
- D) Bagun\_\_a.
- E) Descan\_\_o.

**QUESTÃO 04** – Considerando a grafia correta das palavras em Língua Portuguesa, assinale a alternativa que preenche, correta e respectivamente, as lacunas das linhas 08 (duas ocorrências) e 30.

- A) ss – ç – s
- B) ss – z – z
- C) ç – s – z
- D) s – ss – s
- E) ç – z – z

**QUESTÃO 05** – Com base no texto e na palavra sublinhada na linha 17, é correto afirmar que:

- A) Pessoas se comportam de forma menos autêntica e mais adulterada.
- B) Sujeitos não se sentem vulneráveis.
- C) Tirar foto é natural para os fotografados.
- D) Fotografados possuem comportamentos fidedignos durante o processo fotográfico.
- E) Fotografar traz contentamento ao fotógrafo e aos fotografados.

**QUESTÃO 06** – Qual das seguintes palavras se classifica como substantivo?

- A) Retratar.
- B) Documental.
- C) Clicar.
- D) Família.
- E) Inteiro.

**QUESTÃO 07** – Qual das palavras abaixo, retiradas do texto, classifica-se como verbo?

- A) Essa (l. 10).
- B) ainda (l. 04).
- C) O (l. 03).
- D) abrem (l. 22).
- E) intensa (l. 26).

**QUESTÃO 08** – Assinale a alternativa que apresenta o antônimo de “autêntico” (linha 11).

- A) Válido.
- B) Original.
- C) Legítimo.
- D) Ilegítimo.
- E) Natural.

**QUESTÃO 09** – Qual das seguintes palavras está grafada INCORRETAMENTE?

- A) Aconpanhando.
- B) Paciência.
- C) Dedicção.
- D) Banho.
- E) Cansaço.

---

**QUESTÃO 10** – As palavras Porto Alegre, Recife e Campo Grande, na linha 21, estão escritas com letra maiúscula por qual motivo?

- A) Iniciam frases.
  - B) São nomes importantes.
  - C) São nomes próprios.
  - D) São nomes comuns.
  - E) São expressões de tratamento.
- 

**QUESTÃO 11** – A palavra 'humano' tem quantos fonemas?

- A) 4.
  - B) 5.
  - C) 6.
  - D) 7.
  - E) 8.
- 

**QUESTÃO 12** – Considerando o que trata o texto, é possível afirmar que a mágica do projeto "Um Dia na Vida" está na(o):

- A) Era dos selfies e das poses espontâneas da era digital.
  - B) Distanciamento entre as pessoas.
  - C) Afeto e na entrega dos pais aos seus frutos.
  - D) Dedicção do fotógrafo.
  - E) Falta de privacidade das famílias.
- 

**QUESTÃO 13** – Considerando o contexto em que ocorre, qual das seguintes palavras poderia substituir o vocábulo 'ilustra' (linha 24)?

- A) Traz.
  - B) Responde.
  - C) Desperta.
  - D) Demonstra.
  - E) Esconde.
- 

**QUESTÃO 14** – Assinale a alternativa cujos sinais de pontuação substituem, correta e respectivamente, as figuras da linha 28.

- A) Travessão – ponto de interrogação – ponto de exclamação.
  - B) Aspas – vírgula – ponto.
  - C) Ponto final – vírgula – vírgula.
  - D) Travessão – ponto final – ponto de exclamação.
  - E) Vírgula – vírgula – ponto final.
- 

**QUESTÃO 15** – Em qual das alternativas abaixo as palavras seguem a ordem alfabética?

- A) Cotidiana – Esposa – Registrando – Pessoas.
  - B) Esposa – Registrando – Pessoas – Cotidiana.
  - C) Cotidiana – Esposa – Pessoas – Registrando.
  - D) Registrando – Pessoas – Cotidiana – Esposa.
  - E) Pessoas – Esposa – Cotidiana – Registrando.
-

**LEGISLAÇÃO**

**QUESTÃO 16** – A Lei Orgânica prevê que a integridade do Município de Congonhinhas só poderá ser modificada através de \_\_\_\_\_ e mediante aprovação da população interessada em plebiscito prévio.

Assinale a alternativa que preenche corretamente a lacuna do trecho acima.

- A) Lei Federal
- B) Lei Estadual
- C) Lei Municipal
- D) determinação do Prefeito
- E) votação da Câmara de Vereadores

**QUESTÃO 17** – Como tarefa de casa, a professora pediu à turma que cada aluno fizesse um cartaz com um símbolo do Município. No dia seguinte, os alunos apresentaram:

Marcel:

Congonhinhas minha querida cidade  
 Siga firme pela senda da vitória  
 O teu nome viverá a eternidade  
 Pois já surgistes com o destino da glória  
 Das reduções imortais  
 Nascestes Congonhinhas  
 Dos mais nobres ideais

E hoje deste Paraná tão forte  
 É sentinela do mais altivo porte  
 Congonhinhas terra de encantos mil  
 Recanto feliz do Brasil

(continua)

Rodrigo:



Letícia:



Manuela:



Qual dos alunos está ERRADO?

- A) Somente Marcel.
- B) Somente Manuela.
- C) Somente Letícia.
- D) Somente Rodrigo.
- E) Somente Letícia e Manuela.

**QUESTÃO 18** – De acordo com a Lei Orgânica, os órgãos do Governo Municipal são os poderes:

- A) Judiciário e Legislativo.
- B) Administrativo e Executivo.
- C) Democrático e Judiciário.
- D) Legislativo e Executivo.
- E) Executivo e Judiciário.

---

**QUESTÃO 19** – Segundo a Lei Orgânica, quando ocorre eleição dos Vereadores?

- A) Na mesma data da eleição do Prefeito.
  - B) A cada três anos.
  - C) Junto com a eleição do Governador.
  - D) Sempre que o número de Vereadores for menor que o determinado na Lei.
  - E) Na época de eleição presidencial.
- 

**QUESTÃO 20** – Assinale a alternativa que apresenta um bem público municipal de uso comum do povo, segundo a Lei Orgânica.

- A) Edifícios das repartições públicas.
  - B) Parques.
  - C) Aparelhos de telefone.
  - D) Matadouros.
  - E) Computadores.
- 

**QUESTÃO 21** – De acordo com a Lei Orgânica, a competência de administrar os bens públicos municipais cabe:

- A) Ao Secretário de Administração.
  - B) Ao Presidente da Mesa da Câmara de Vereadores.
  - C) À sociedade civil organizada.
  - D) À Secretaria de Finanças.
  - E) Ao Prefeito.
- 

**QUESTÃO 22** – Conforme a Lei nº 300/2001, a pessoa legalmente investida em cargo ou emprego público é chamada de:

- A) Servidor.
  - B) Cooperador.
  - C) Associado.
  - D) Colaborador.
  - E) Contribuinte.
- 

**QUESTÃO 23** – Na Lei nº 300/2001, o conjunto de atribuições e responsabilidades cometidas a um funcionário é denominado(a):

- A) Função.
  - B) Trabalho.
  - C) Cargo.
  - D) Tarefa.
  - E) Incumbência.
- 

**QUESTÃO 24** – Conforme a Lei nº 300/2001, quando uma pessoa sofre o ato de investidura em cargo público, dizemos que ela foi:

- A) Sancionada.
  - B) Conduzida.
  - C) Contratada.
  - D) Alistada.
  - E) Nomeada.
-

**QUESTÃO 25** – O regime próprio de previdência social dos servidores públicos do Município de Congonhinhas tem caráter contributivo, financiado através das contribuições dos servidores ativos, servidores inativos e pensionistas e de recursos provenientes do:

- A) Tesouro Nacional.
- B) País.
- C) Distrito Federal.
- D) Estado.
- E) Município.

**QUESTÃO 26** – Dentre outras finalidades, para que serve o Regime Próprio de Previdência Social?

- A) Arrecadar recursos para pagar despesas administrativas da Prefeitura.
- B) Garantir o pagamento de aposentadoria aos servidores públicos efetivos.
- C) Custear viagens dos servidores para representar o Município em outras cidades.
- D) Angariar fundos para pagamento de processos judiciais em que o Município seja réu.
- E) Firmar convênios com empresas de construção e pavimentação, visando à manutenção da cidade.

**QUESTÃO 27** – NÃO é dependente do segurado do Regime Próprio de Previdência Social o:

- A) Pai.
- B) Cônjuge.
- C) Filho menor de idade.
- D) Enteado com 10 anos de idade que não recebe pensão.
- E) Filho de 18 anos, solteiro, sem renda própria e cursando faculdade.

**QUESTÃO 28** – Afonso ingressou no serviço público municipal na vigência da Lei nº 305/2001. Qual é o intervalo mínimo para ele passar de um nível para outro?

- A) 06 (seis) meses.
- B) 01 (um) ano.
- C) 02 (dois) anos.
- D) 03 (três) anos.
- E) 04 (quatro) anos.

**QUESTÃO 29** – A Lei nº 305/2001 determina que a progressão horizontal será realizada pelo critério exclusivo de avaliação de desempenho, realizada pela Comissão Permanente de Avaliação de Desempenho:

- A) Mensalmente.
- B) Bimestralmente.
- C) Trimestralmente.
- D) Semestralmente.
- E) Anualmente.

**QUESTÃO 30** – Conforme a Lei nº 305/2001, para cada cargo efetivo de carreira, haverá, no máximo, quantos níveis?

- A) Cinco.
- B) Quatro.
- C) Três.
- D) Dois.
- E) Um.

**MATEMÁTICA**

**QUESTÃO 31** – Rosana trabalha na praça de pedágio de Sobrado. No último final de semana, devido ao feriado, 353 motoristas passaram pela cabine de Rosana, sendo que, destes, 230 eram motoristas de carros, 96, de caminhões e 27, de motocicletas. Sabendo que o valor cobrado pela empresa de pedágio é de R\$ 5,40 para carros de passeio, R\$ 8,30 para caminhões e R\$ 2,25 para motocicletas, qual o valor que Rosana tinha em seu caixa ao final do expediente, considerando que ela iniciou o dia de trabalho com o valor de R\$ 135,00 no caixa?

- A) R\$ 1.595,10.
- B) R\$ 2.107,00.
- C) R\$ 2.099,55.
- D) R\$ 2.221,15.
- E) R\$ 2.234,55.

**QUESTÃO 32** – Qual será o resultado da expressão matemática  $13 \times 6 + 8 + 3$ ?

- A) 30.
- B) 78.
- C) 89.
- D) 185.
- E) 221.

**QUESTÃO 33** – Toni é gari de um determinado município e diariamente precisa percorrer 3.000 metros durante suas 8 horas de trabalho. Como quer controlar melhor seu tempo para que não precise fazer horas extras, Toni calculou quanto deve percorrer a cada hora, encontrando como resultado:

- A) 6 quilômetros.
- B) 50 metros.
- C) 438 metros.
- D) 375 metros.
- E) 333 metros.

**QUESTÃO 34** – Observe os números naturais abaixo:

1 - 2 - 3 - 4 - 5 - 6 - 7 - 8 - 9 - 10 - 11 - 12 - 13 - 14

Qual será o resultado da soma dos números primos, considerando somente os números mostrados acima?

- A) 30.
- B) 38.
- C) 39.
- D) 41.
- E) 42.

**QUESTÃO 35** – Qual dos números abaixo NÃO é divisível por 5?

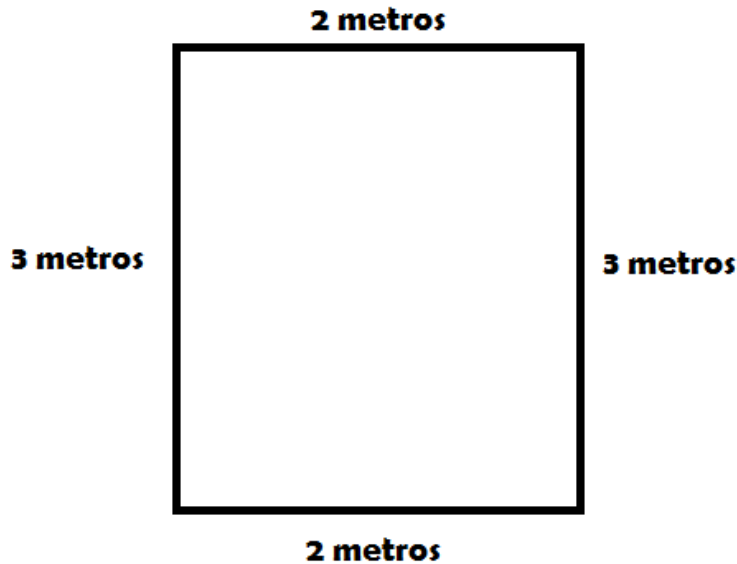
- A) 1300.
- B) 942.
- C) 865.
- D) 130.
- E) 125.



**QUESTÃO 36** – Péricles é pedreiro e foi visitar a casa de Aurora, uma de suas clientes, que tem a intenção de trocar todo o piso de sua sala. Ao chegar na casa de Aurora, tratou logo de realizar a medida e fez o seguinte desenho no caderno em que a organiza todos os seus trabalhos:

**SALA DONA AURORA**

Projeto: trocar o piso



De acordo com o desenho de Péricles, qual é a medida da sala de Aurora?

- A) 3 m<sup>2</sup>.
- B) 5 m<sup>2</sup>.
- C) 6 m<sup>2</sup>.
- D) 10 m<sup>2</sup>.
- E) 12 m<sup>2</sup>.

**QUESTÃO 37** – Thiago é servidor e motorista do município de Oregon e levou um grupo de 6 servidores para um Congresso de dois dias na capital, que está localizada a 690 km de distância da cidade de Oregon. Para cada dia, a prefeitura reembolsará ao servidor o valor de R\$ 45,00, referente à diária. Sabendo que o veículo da Prefeitura realiza 15 km por litro e que o posto escolhido por Thiago para abastecer o veículo cobra R\$ 3,80 por litro, qual será o valor gasto pela prefeitura, considerando os gastos de ida e volta com combustível e as diárias de todos os servidores?

- A) R\$ 979,60.
- B) R\$ 889,60.
- C) R\$ 804,80.
- D) R\$ 714,80.
- E) R\$ 444,80.

**QUESTÃO 38** – Qual o MMC – Mínimo Múltiplo Comum – dos números 32, 56 e 70?

- A) 2.
- B) 14.
- C) 22.
- D) 32.
- E) 1.120.











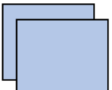

**QUESTÃO 39** – Cléo está participando de um processo seletivo para uma vaga de emprego, e uma das etapas consiste em responder algumas questões de raciocínio lógico. A primeira questão da prova de Cléo traz a seguinte sequência de números naturais:

32, 33, 34, 32, 34, 36, 32, 35, 38, 32, 36, \_\_\_\_.

Com qual número Cléo deve preencher a lacuna?

- A) 32.
- B) 34.
- C) 38.
- D) 40.
- E) 42.

**QUESTÃO 40** – A próxima questão da prova de Cléo apresenta a seguinte imagem:

	+		+		=	15
	+		+		=	13
	x		+		=	17
	+		+		=	_____

Sabendo que figuras iguais representam valores iguais, com qual número Cléo deve preencher a lacuna da quarta linha de figuras?

- A) 12.
- B) 16.
- C) 17.
- D) 20.
- E) 21.