



**PREFEITURA MUNICIPAL DE RIBEIRÃO PRETO**  
ESTADO DE SÃO PAULO

CONCURSO PÚBLICO

**001. PROVA OBJETIVA**

**AGENTE COMUNITÁRIO DE SAÚDE**

- ◆ Você recebeu sua folha de respostas e este caderno contendo 50 questões objetivas.
- ◆ Confira seus dados impressos na capa deste caderno e na folha de respostas.
- ◆ Quando for permitido abrir o caderno, verifique se está completo ou se apresenta imperfeições. Caso haja algum problema, informe ao fiscal da sala.
- ◆ Leia cuidadosamente todas as questões e escolha a resposta que você considera correta.
- ◆ Marque, na folha de respostas, com caneta de tinta preta, a letra correspondente à alternativa que você escolheu.
- ◆ A duração da prova é de 3 horas, já incluído o tempo para o preenchimento da folha de respostas.
- ◆ Só será permitida a saída definitiva da sala e do prédio após transcorridos 75% do tempo de duração da prova.
- ◆ Deverão permanecer em cada uma das salas de prova os 3 últimos candidatos, até que o último deles entregue sua prova, assinando termo respectivo.
- ◆ Ao sair, você entregará ao fiscal a folha de respostas e este caderno, podendo levar apenas o rascunho de gabarito, localizado em sua carteira, para futura conferência.
- ◆ Até que você saia do prédio, todas as proibições e orientações continuam válidas.

**AGUARDE A ORDEM DO FISCAL PARA ABRIR ESTE CADERNO DE QUESTÕES.**

Nome do candidato

RG

Inscrição

Prédio

Sala

Carteira



## CONHECIMENTOS GERAIS

### LÍNGUA PORTUGUESA

Leia o texto para responder às questões de números **01** a **07**.

#### *Cidades inteligentes e urbanização eficaz*

A população mundial tem um aumento diário de 100 mil pessoas e mais da metade delas vive em áreas urbanas. Projeções da ONU mostram que a população global deve chegar a 9,3 bilhões de pessoas até 2050, 66% dos quais morarão em áreas urbanas.

Estudo encomendado pela Federação das Indústrias do Rio de Janeiro revela que a falta de investimentos em transportes públicos, com o consequente aumento nos congestionamentos, diminui a qualidade de vida dos cidadãos e causa prejuízos anuais de R\$111 bilhões à economia brasileira.

Além disso, a questão ambiental é premente. Logo, encontrar soluções concretas para a expansão da oferta de transporte público com qualidade e sem emissão de gases de efeito estufa, que garantam o bem-estar da população, está no horizonte de todos os agentes responsáveis por direcionar as discussões em torno do desenvolvimento das cidades.

O conceito de “cidades inteligentes” está diretamente ligado à infraestrutura e à capacidade do uso de tecnologias para a construção de serviços e ações sustentáveis. Uma cidade inteligente utiliza as tecnologias da informação e comunicação como suporte para o aumento de eficiência operacional de seu centro urbano.

Como resultado disso pode-se citar grandes projetos e investimentos focados no princípio do espaço público útil, conectando bairros que antes não entravam no eixo turístico e sempre buscando boas opções de transporte sustentável. Desenvolver um planejamento de mobilidade é bastante complexo para a engenharia urbana e deve se basear em dados reais da cidade para ter sucesso. O importante é se pensar em fatores que possam contribuir para o desenvolvimento ou melhoria da cidade, que já é ou pode se tornar inteligente.

(Cristiano Lopes Saito. Revista Planeta. Edição 531, ano 45, jun 2017. Adaptado)

**01.** De acordo com o texto, a falta de investimentos em transportes públicos

- (A) desestimula o uso do espaço público para eventos associados ao turismo.
- (B) provoca o crescimento desordenado do espaço urbano nas áreas centrais da cidade.
- (C) prejudica a descentralização do espaço urbano e o aceleração da urbanização.
- (D) representa um prejuízo anual de 9,3 bilhões à economia brasileira.
- (E) resulta em prejuízos à economia e compromete a qualidade de vida da população.

**02.** Segundo informações do texto, consta(m) entre os investimentos que podem contribuir para a urbanização eficaz:

- (A) a expansão da oferta de transporte sustentável e a democratização na conexão entre bairros que circundam a cidade.
- (B) o estímulo ao aumento frequente de pessoas que vivem em áreas urbanas e a redução da demanda por mobilidade.
- (C) a melhoria das condições para o tráfego de veículos particulares e a busca de projetos inovadores em outros países.
- (D) a adoção de medidas de incentivo ao deslocamento de pessoas que vivem em áreas urbanas para o entorno das cidades.
- (E) a divisão de responsabilidades, atribuindo ao setor privado a criação de tecnologias de gerenciamento e, ao poder público, a melhoria da mobilidade urbana.

**03.** Segundo o texto, nas chamadas cidades inteligentes, o que pode contribuir para a obtenção de resultados positivos de urbanização é

- (A) o incentivo à redução da demanda por transporte em áreas pouco urbanizadas.
- (B) o estudo das projeções da ONU acerca dos maiores centros urbanos nacionais.
- (C) a aplicação de recursos tecnológicos informacionais e de comunicação.
- (D) a oferta de investimentos públicos para estimular o crescimento econômico.
- (E) a disposição dos gestores de enfrentar o problema do aumento populacional.

**04.** O termo destacado na frase do último parágrafo – Como resultado **disso** podem-se citar grandes projetos e investimentos focados no princípio do espaço público útil... – refere-se

- (A) à opção de mais da metade da população por viver em áreas urbanas.
- (B) ao emprego de tecnologias como suporte operacional.
- (C) às discussões sobre o desenvolvimento das cidades.
- (D) à expansão da oferta de transporte sustentável.
- (E) à emissão de gases de efeito estufa.

05. Considere as frases do texto.

- "... um aumento diário de 100 mil pessoas e mais da metade delas vive **em** áreas urbanas."
- "... oferta de transporte público com qualidade e **sem** emissão de gases de efeito estufa..."
- "... e deve se basear em dados reais da cidade **para** ter sucesso".

As preposições destacadas expressam, correta e respectivamente, noção de

- (A) modo, ausência e causa.
- (B) definição, meio e direção.
- (C) causa, concessão e instrumento.
- (D) finalidade, modo e direção.
- (E) lugar, ausência e finalidade.

06. Na passagem – **Logo**, encontrar soluções concretas para a expansão da oferta de transporte público...–, o termo em destaque pode ser corretamente substituído, sem alteração de sentido do texto original, por:

- (A) no entanto.
- (B) além disso.
- (C) portanto.
- (D) pois.
- (E) apesar disso.

07. Nas passagens "... a questão ambiental é **premente**". e "... utiliza as tecnologias da informação e da comunicação como **propulsoras**...", os termos em destaque significam, correta e respectivamente:

- (A) dispensável e progressistas.
- (B) urgente e impulsionadoras.
- (C) remoto e persistentes.
- (D) posterior e impulsivas.
- (E) instantâneo e resistentes.

Leia a tira para responder às questões de números 08 a 10.



(Bill Watterson. O melhor de Calvin. Disponível em: <https://cultura.estadao.com.br/quadrinhos>. Acesso em 15.07.2018)

08. A leitura da tira revela que o garoto Calvin

- (A) tem a expectativa de encontrar aventuras e animação em Marte.
- (B) comporta-se em Marte como um legítimo protetor do meio ambiente.
- (C) compara a Terra a Marte sem depreciar nosso planeta como lugar para viver.
- (D) contradiz seu discurso ao contribuir para dar início à poluição em Marte.
- (E) discorda do amigo tigre quanto a estar agindo para poluir o ambiente.

09. Com a substituição dos termos destacados nas frases "Só deixei **ele** ali um minuto. Já **ia** tirar.", a redação estará de acordo com a norma-padrão da língua e preservando o sentido do texto original em:

- (A) Só o deixei ali um minuto. Já iria tirar.
- (B) Só deixei-o ali um minuto. Já vou tirar.
- (C) Só o deixei ali um minuto. Já fui tirar.
- (D) Só deixei-o ali um minuto. Já irei tirar.
- (E) Só deixei-o ali um minuto. Já foi tirar.

10. Assinale a alternativa cujo termo em destaque expressa circunstância de tempo:
- (A) Marte pode ser um **pouco** monótono.
  - (B) Temos o planeta inteiro **só** para nós.
  - (C) Nada além de belezas naturais **até** onde os olhos alcançam.
  - (D) Aquilo **ali** não é o papel do seu chocolate?
  - (E) **Já** ia tirar.

Leia o texto para responder às questões de números 11 a 13.

*A vida não mais nos pertence*

Os encontros deveriam ser marcados na última hora. Pena que não funcionam. Agendamos compromissos quando estamos dispostos de manhã e não nos damos conta da exaustão do final do dia. Planejamos um cinema, um show, uma balada com amigos no momento de tranquilidade, e não percebemos que ainda teremos que atravessar um percurso inteiro de preocupações. Não há como ter conhecimento prévio do estresse que nos espera.

Sempre ocorre um desgaste mental, um jogo de nervos, um dilema moral: será que vou ou não vou?

O contentamento vai desaparecendo lentamente, devido às atribuições da rotina. Somos um ao combinar saídas e outro completamente diferente na véspera de sair. Não é desamor pelas amizades, não é velhice ou depressão, é simplesmente cansaço inesperado. Não possuímos controle do que virá pela frente, dos improvisos e desmandos profissionais. Somos sugados pela carga cada vez maior do emprego, pois não descansamos nem um minuto dos apelos das obrigações, dos e-mails e das ligações. Morreu o lanche da tarde que animava o serviço e renovava o gás – o recreio e a sirene ficaram enterrados na vida escolar. A jornada de 8 horas é folclore – não conheço quem não se dedique mais de 12 horas para a sobrevivência.

Quando um amigo desmarca um encontro, não condeno. Perdoos os furões. Sei que ele também é vítima da insalubridade digital.

(Fabrício Carpinejar. Disponível em:  
<http://carpinejar.blogspot.com/2018/01/a-vida-nao-mais-nos-pertence.html>.  
Acesso em: 23.08.2018. Fragmento).

11. De acordo com a opinião do autor, os encontros com os amigos
- (A) poderão acontecer se forem marcados em momentos em que nossa disposição é maior.
  - (B) causam-nos contentamento, desde que não tenhamos falta de amor por eles.
  - (C) podem ser desmarcados, em decorrência do cansaço e das atribuições da rotina diária.
  - (D) são agradáveis diante do desejo de rever pessoas com as quais há muito tempo não se tem contato.
  - (E) são obrigatórios, diante da necessidade de preservar a amizade por toda a vida.
12. Uma frase do texto em que há emprego de palavra(s) em sentido figurado é:
- (A) Os encontros deveriam ser marcados na última hora.
  - (B) O contentamento vai desaparecendo lentamente, devido às atribuições da rotina.
  - (C) Agendamos compromissos quando estamos dispostos pela manhã...
  - (D) Não possuímos controle do que virá pela frente, dos improvisos e desmandos profissionais.
  - (E) Morreu o lanche da tarde que animava o serviço e renovava o gás...
13. Assinale a alternativa em que a reescrita de passagem do texto está adequada quanto à concordância, de acordo com a norma-padrão da língua.
- (A) Os improvisos e os desmandos profissionais impossibilita as pessoas de cumprir com os compromissos agendado antecipadamente.
  - (B) É planejado shows e baladas com amigos, sem considerar as preocupações que surge ao longo do dia.
  - (C) É possível cancelar encontro previamente agendados se for considerado o ânimo e o entusiasmo dos amigos.
  - (D) Procurar desculpas para não comparecer a um encontro é perdoável entre amigos de longa data.
  - (E) Para a sobrevivência no emprego, são necessários o cumprimento de aproximadamente 12 horas de trabalho ininterrupto.

14. A tabela a seguir apresenta alguns cargos de um supermercado e os respectivos salários e números de funcionários.

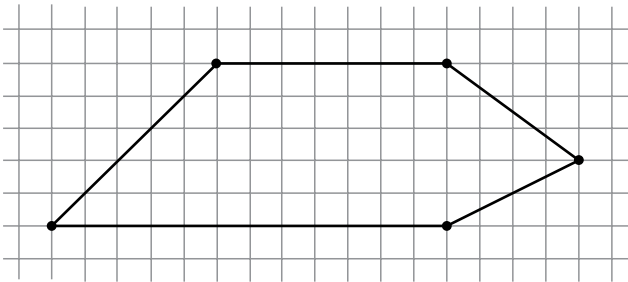
CARGO	SALÁRIO MENSAL (R\$)	Nº DE FUNCIONÁRIOS
Gerente	5.000,00	2
Caixa	X	8
Atendente	1.500,00	10
Estoquista	1.200,00	20

Sabe-se que salário médio desses funcionários é de R\$ 1.625,00. Assim, é correto concluir que o salário X de cada caixa é

- (A) R\$ 1.350,00.  
(B) R\$ 1.500,00.  
(C) R\$ 1.750,00.  
(D) R\$ 2.000,00.  
(E) R\$ 2.250,00.
15. Um número maior que  $\frac{2}{3}$  e menor que  $\frac{8}{9}$  é
- (A) 0,6.  
(B) 0,8.  
(C) 2,1.  
(D) 4,6.  
(E) 9,1.
16. Uma loja de eletrodomésticos publica o seguinte anúncio para todo seu estoque de televisões:
- Compre uma TV hoje e só pague daqui a um mês, ou pague hoje e tenha um desconto de 10%.
- Quem decidir comprar uma TV e pagar um mês depois pagará juros a uma taxa mensal em torno de
- (A) 5%  
(B) 7,5%  
(C) 10%  
(D) 11,1%  
(E) 15%
17. Júlia tem 50 selos em sua coleção enquanto sua prima Luísa tem 86. Se em todos os meses Júlia acrescentar à sua coleção 16 novos selos e Luísa acrescentar 13, ambas as coleções terão a mesma quantidade de selos em
- (A) 8 meses.  
(B) 9 meses.  
(C) 10 meses.  
(D) 11 meses.  
(E) 12 meses.

18. Uma fotografia de formato retangular tem 16 cm de comprimento e 20 cm de largura. Uma outra fotografia, também retangular, tem 30 cm de largura e conserva a mesma razão entre o comprimento e a largura da primeira. Desse modo, o comprimento da segunda fotografia deverá ser de
- (A) 15 cm.  
 (B) 18 cm.  
 (C) 24 cm.  
 (D) 26 cm.  
 (E) 32 cm.

19. Na malha quadriculada a seguir, está desenhado um pentágono. Os quadrados que compõem essa malha são congruentes.



Considerando os quadrados da malha como unidades de área, é correto afirmar que a área do pentágono é igual a

- (A) 57,5 unidades.  
 (B) 59 unidades.  
 (C) 59,5 unidades.  
 (D) 60 unidades.  
 (E) 61,5 unidades.
20. A tabela mostra a quantidade de cada tipo de salgado que Dona Ana fez para vender.

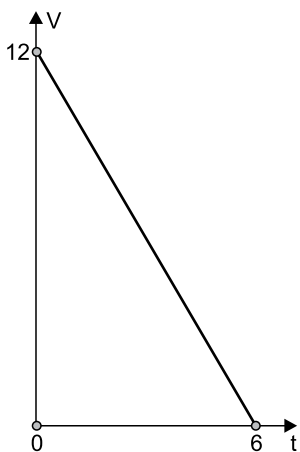
SALGADO	QUANTIDADE
Esfirra	84
Quibe	126
Coxinha	210

Dona Ana vai embalar todos esses salgados em caixas de modo que cada uma contenha apenas um tipo de salgado. Além disso, ela pretende que todas as caixas tenham quantidades iguais de salgados e que cada caixa tenha o maior número possível de salgados. Assim, o número total de caixas que Dona Ana utilizará é

- (A) 6.  
 (B) 7.  
 (C) 10.  
 (D) 12.  
 (E) 14.

21. Do total de alunos de uma faculdade,  $\frac{2}{9}$  têm 30 anos ou mais de idade. Sabe-se que  $\frac{3}{7}$  dos estudantes restantes têm idades que variam de 26 a 29 anos. Se o número de estudantes com menos de 26 anos é 280, é correto afirmar que o número de estudantes que têm entre 26 e 29 anos é
- (A) 150.  
(B) 180.  
(C) 210.  
(D) 240.  
(E) 300.

22. O gráfico a seguir mostra a relação entre a quantidade  $V$  (em  $\text{m}^3$ ) de água em uma caixa e o tempo  $t$  (em h) em que uma torneira permaneceu aberta, esvaziando essa caixa.



A relação entre  $V$  e  $t$  pode ser expressa por:

- (A)  $V = 12 - 6t$   
(B)  $V = 12 - 2t$   
(C)  $V = 12 + 6t$   
(D)  $V = 6 + 12t$   
(E)  $V = 6 - 2t$
23. A equação  $x^2 + 5x - 14 = 0$  tem duas raízes reais. Subtraindo-se a menor da maior obtém-se
- (A)  $-9$ .  
(B)  $-5$ .  
(C)  $5$ .  
(D)  $7$ .  
(E)  $9$ .



## ATUALIDADES

**24.** Em julho, os mortos por causa dos incêndios no país já totalizaram 82 pessoas. O evento foi considerado o mais mortal registrado na Europa neste século. As pessoas tentaram fugir em direção ao mar. A maioria dos sobreviventes ficou impotente e aterrorizada dentro da água, observando as chamas durante horas.

(UOL. Disponível em <https://bit.ly/2C6MbME>.  
26.07.2018. Adaptado)

Os incêndios ocorreram

- (A) na Espanha.
- (B) na Alemanha.
- (C) na Grécia.
- (D) no Reino Unido.
- (E) na Suécia.

**25.** O presidente dos Estados Unidos, Donald Trump, anunciou, na noite desta quarta-feira (29.ago), que vai aliviar as cotas de importação de aço e alumínio que excedam as cotas livres do pagamento das sobretaxas impostas pelo governo em março.

(G1.Globo. Disponível em <https://glo.bo/2MBa5oa>.  
30.08.2018. Adaptado)

A decisão de facilitar as importações de aço e alumínio ocorreu devido

- (A) à pressão das indústrias estadunidenses e beneficiam países como a Argentina e o Brasil.
- (B) à guerra comercial com a China cujos produtos têm melhor qualidade que os estadunidenses.
- (C) aos novos acordos comerciais entre os Estados Unidos e os países da União Europeia.
- (D) ao reestabelecimento de relações econômicas e diplomáticas entre os EUA e a Rússia.
- (E) à reabertura de indústrias automobilísticas que foram fechadas antes da posse de Trump.

**26.** A falta de percepção de risco contribui para a baixa procura das vacinas. Se nós baixarmos a guarda, mantivermos nossa população com baixas coberturas vacinais, o campo é propício para a reintrodução de doenças. Os dados do Ministério da Saúde mostram que 312 cidades do país não conseguiram vacinar 50% das crianças de até um ano.

(G1-Globo. Disponível em <https://glo.bo/2OdWQXA>.  
03.07.2018. Adaptado)

A doença que está na iminência de reaparecer no Brasil é

- (A) o tifo.
- (B) a coqueluche.
- (C) a rubéola.
- (D) a poliomielite.
- (E) a difteria.

**27.** A explosão de violência no último fim de semana (18.ago) em Pacaraima, cidade de Roraima na fronteira com a Venezuela, tornou visível para o restante do Brasil a grave situação em que se encontra o Estado devido à incapacidade de receber adequadamente o fluxo de imigrantes que fogem da crise no país vizinho.

(Globo. Disponível em <https://glo.bo/2llVaJa>.  
22.08.2018. Adaptado)

Para conter a crise provocada pelos imigrantes, o governo

- (A) federal retirou a embaixada brasileira de Caracas e solicitou a retirada do embaixador venezuelano do Brasil.
- (B) federal ofereceu ajuda humanitária ao governo venezuelano com o objetivo de conter a imigração.
- (C) do Amazonas propôs abrigo a mais de cem imigrantes com o objetivo de diminuir a pressão em Roraima.
- (D) federal convocou governos estaduais para enviar alimentos e recursos para atender os imigrantes venezuelanos.
- (E) de Roraima solicitou o fechamento temporário das fronteiras, pedido rejeitado pelo governo federal.

**28.** Quatro mil ações contestavam entendimento do Tribunal Superior do Trabalho sobre um item específico da reforma trabalhista que ainda gerava dúvidas. O plenário do Supremo Tribunal Federal (STF) decidiu nesta quinta-feira (30.ago), por 7 votos a 4, sobre a constitucionalidade deste item.

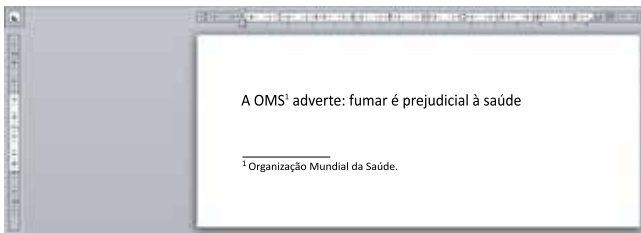
(Globo. Disponível em <https://glo.bo/2LJ9MCJ>.  
30.08.2018. Adaptado)

O STF julgou constitucional

- (A) o trabalho de gestantes em ambientes insalubres.
- (B) o emprego de terceirizados nas atividades-fim das empresas.
- (C) o parcelamento de férias e décimo terceiro em até três vezes.
- (D) a redução da jornada de trabalho em finais de semana e feriados.
- (E) a flexibilização das regras de segurança do trabalho nas atividades comerciais.

## NOÇÕES DE INFORMÁTICA

29. Assinale a alternativa que contém nomes de arquivos cuja extensão pode ser salva, respectivamente, pelos aplicativos acessórios Paint e WordPad, pertencentes ao MS-Windows 7, em sua configuração padrão.
- (A) arquivo.txt e arquivo.doc.  
 (B) arquivo.doc e arquivo.png.  
 (C) arquivo.bmp e arquivo.png.  
 (D) arquivo.png e arquivo.bmp.  
 (E) arquivo.bmp e arquivo.rtf.
30. As imagens a seguir foram retiradas do MS-Word 2010, em sua configuração padrão, e representam um documento e um ícone utilizado na edição de tal documento.



AB<sup>1</sup>

O nome do ícone utilizado é


- (A) Inserir Nota de Rodapé.  
 (B) Inserir Legenda.  
 (C) Marcar Entrada.  
 (D) Inserir Citação.  
 (E) Inserir Nota de Fim.
31. A imagem a seguir, elaborada por meio do MS-Excel 2010, em sua configuração padrão, mostra uma planilha elaborada por um agente de saúde, indicando o nome do Bairro (coluna A), o número de cidadãos adicionados ao cadastro (coluna B) e o número de casos ocorridos (coluna C) no respectivo bairro referente a um surto de uma doença.

	A	B	C
1	Bairro	Cadastros	Casos
2	B1	75	8
3	B2	98	4
4	B3	50	2
5	B4	88	6
6			

A fórmula utilizada para calcular o número médio de casos ocorridos nos bairros B1, B2, B3 e B4 é

- (A) =MÉDIA(B2:C5)  
 (B) =MÉDIA(B2;C5)  
 (C) =MÉDIA(C2:C5)  
 (D) =MÉDIA(C2;C5)  
 (E) =MÉDIA(B2;B5)

32. Por meio do MS-PowerPoint 2010, em sua configuração padrão, um usuário preparou alguns slides, relacionados ao painel exibido a seguir.



Ao ser iniciada a apresentação de slides, por meio da tecla F5, a quantidade de slides exibidos durante toda a apresentação será:

- (A) 0  
 (B) 1  
 (C) 2  
 (D) 3  
 (E) 4
33. Atualmente, é muito comum utilizar sistemas corporativos por meio da Internet. No Windows 7, em sua configuração original, o navegador de internet padrão é o \_\_\_\_\_, mas outros navegadores podem ser utilizados após serem instalados, como \_\_\_\_\_ e \_\_\_\_\_.
- Assinale a alternativa que preenche, correta e respectivamente, as lacunas do enunciado.
- (A) Chrome ... Firefox ... Internet Explorer  
 (B) Internet Explorer ... Chrome ... Firefox  
 (C) Firefox ... Internet Explorer ... Chrome  
 (D) Safari ... Chrome ... Internet Explorer  
 (E) Chrome ... Safari ... Firefox

- 34.** Narciso ingressou, recentemente, no serviço público do Município de Ribeirão Preto, por meio de concurso público, e assumiu um cargo de provimento efetivo na Administração Municipal. Ainda dentro do período de estágio probatório, Narciso quer contar como de efetivo exercício o tempo que trabalhou na Câmara Municipal em cargo de comissão de livre nomeação e exoneração como assessor de Vereador. Segundo o Estatuto do Servidor Público do Município de Ribeirão Preto (Lei nº 3.181/1976), é correto afirmar que Narciso
- (A) terá direito a computar o tempo de efetivo serviço público prestado na Câmara Municipal, uma vez que exercia função pública.
- (B) poderia computar o tempo de efetivo serviço público prestado no Legislativo, mas não poderá fazê-lo por ainda estar em estágio probatório.
- (C) não terá direito a computar o tempo de efetivo serviço público prestado na Câmara, uma vez que seu cargo não era de provimento efetivo.
- (D) terá direito a computar o tempo de efetivo serviço público prestado na Câmara, desde que não haja ocorrido solução de continuidade do exercício.
- (E) poderá computar no máximo doze meses de tempo de efetivo serviço público prestado em qualquer outro órgão público, mesmo durante o estágio probatório.
- 35.** No tocante às responsabilidades funcionais, o Estatuto do Servidor Público do Município de Ribeirão Preto (Lei nº 3.181/1976) dispõe que o funcionário que for responsabilizado administrativamente por determinado ato no exercício de suas funções
- (A) também responderá, automaticamente, nas esferas civil e penal, devendo ressarcir os prejuízos que causou ao erário ou a terceiros.
- (B) não mais responderá civil ou criminalmente pelo mesmo ato, mas poderá ser obrigado a pagar indenização se prejudicou terceiros.
- (C) será, obrigatoriamente, processado criminalmente por delito contra a Administração Pública.
- (D) somente poderá responder pelo mesmo ato na esfera penal, mas não será processado na esfera cível por ser funcionário público.
- (E) não ficará isento de responsabilidade civil ou penal que couber, nem do pagamento da indenização a que ficar obrigado.
- 36.** De acordo com a Lei nº 11.350/2006 e alterações, o Agente Comunitário de Saúde (ACS) é um profissional integrante da equipe de saúde da família, que exerce serviços exclusivamente no âmbito do SUS (Sistema Único de Saúde), realizando
- (A) ações educativas para a conscientização de práticas restritas ao controle de doenças infectocontagiosas, resultantes da ausência de saneamento ambiental.
- (B) ações no ambiente, como a aplicação de produtos químicos para o controle de roedores (desratização) e vetores.
- (C) necropsia de animais com diagnóstico suspeito de zoonoses que são de relevância para saúde pública, auxiliando assim na coleta de amostras laboratoriais ou por meio de outros procedimentos pertinentes.
- (D) planejamento e execução de ações de controle da população de animais, com vista ao combate à propagação de zoonoses de relevância para saúde pública.
- (E) prevenção de doenças, promoção da saúde e outras atividades planejadas pela equipe mediante ações domiciliares ou comunitárias, desenvolvidos em conformidade com as diretrizes do SUS.
- 37.** Durante a visita domiciliar, o ACS visitou uma família, morando em uma casa de madeira e constituída por: pai, mãe e cinco filhos com idades entre 3 e 9 anos. Apenas a criança mais velha frequenta a escola, as demais permanecem em casa brincando às margens de um córrego que passa nos fundos da casa. Diante do exposto, será necessário(a)
- (A) uma ação intersetorial, iniciando-se com o cadastramento da família, a orientação da mãe sobre os agravos à saúde a que todos estão expostos e expor o caso para a equipe de Estratégias de Saúde da Família.
- (B) acionar o Conselho Tutelar para intervir na situação, afastando assim as crianças da convivência familiar, encaminhando-as para adoção.
- (C) conscientizar a comunidade sobre a necessidade de colaborar com a melhoria da moradia da família.
- (D) registrar a visita domiciliar e expor a situação da família durante as reuniões da Conferência Nacional de Saúde.
- (E) acionar outro setor da saúde, a vigilância sanitária, denunciando a situação em que a família se encontra.

38. São exemplos de prevenção primária as seguintes ações:
- (A) promoção da saúde (alimentação etc) e recuperação de sequelas (órteses etc).
  - (B) ações para limitar as incapacidades (fisioterapias etc) e recuperação de sequelas (próteses etc).
  - (C) recuperação das sequelas (transplantes, etc) e proteção específica contra vetores (desinsetização etc).
  - (D) recuperação das sequelas (próteses etc) e cirurgias estéticas.
  - (E) promoção da saúde (alimentação etc) e proteção específica contra agentes patológicos (imunização etc).
39. O princípio do SUS que pode ser definido como o cuidado em saúde que abrange todas as esferas da vida do indivíduo e das coletividades, desde a promoção e prevenção até o diagnóstico, tratamento e reabilitação em saúde, denomina-se:
- (A) equidade.
  - (B) universalidade.
  - (C) integralidade.
  - (D) sustentabilidade.
  - (E) diversidade.
40. O controle social na saúde é exercido pela população por meio da participação voluntária
- (A) nos conselhos de saúde e conselhos de classe.
  - (B) na eleição dos gestores das Unidades Básicas de Saúde.
  - (C) na escolha do secretário de saúde.
  - (D) nos conselhos e conferências de saúde.
  - (E) no Conselho Federal de Medicina.
41. Uma das principais atividades do ACS, que possibilita conhecer o contexto social e identificar as necessidades de saúde das famílias assistidas pela equipe de Estratégia de Saúde da Família (ESF), permitindo conhecer os determinantes do processo saúde-doença, ocorrem durante
- (A) a inspeção sanitária.
  - (B) a visita domiciliar.
  - (C) a visita epidemiológica.
  - (D) o cadastro inicial.
  - (E) a inspeção de saúde.
42. No cadastramento, o ACS coloca no papel todas as informações a respeito da comunidade, e, para isso, preenche fichas que irão ajudá-lo a priorizar suas ações. Assim sendo, em uma comunidade onde predominam crianças menores de 5 anos, o ACS deve
- (A) estar atento às vacinas e pronto para o trabalho de orientar as mães para a prevenção das doenças, principalmente diarreias e infecções respiratórias agudas, além de estimular as mães a amamentarem seus filhos exclusivamente até os 6 meses de idade.
  - (B) estimular a realização do pré-natal entre as gestantes, exames preventivos de câncer de mama e de colo de útero e de outras doenças a que as mulheres sejam mais vulneráveis.
  - (C) orientar as mães quanto à prevenção das doenças cardiovasculares, principalmente as que envolvem problemas respiratórios, além de estimular as mães a alimentarem seus filhos com legumes e frutas até os 12 meses de idade.
  - (D) realizar ações de conscientização sobre os agravos à saúde restritos à população de 0-5 anos, como sífilis, toxoplasmose e malária.
  - (E) conferir se as imunizações estão em dia, notificando a mãe para procurar a unidade de saúde para atualizar as vacinas; orientar a realização de exames hormonais para as crianças e teste de glicemia para as famílias.
43. A territorialização possibilita conhecer os aspectos ambientais, sociais, demográficos, econômicos e os principais problemas referentes à saúde da população da área, possibilitando desenvolver
- (A) intervenções epidemiológicas e atividades voltadas às necessidades da comunidade adstrita, favorecendo, dessa forma, que a hierarquização e a regionalização preconizadas pelo SUS se concretizem.
  - (B) ações para eliminar vetores causadores de doenças, tornando a microárea livre de ações da vigilância epidemiológica.
  - (C) intervenções no território descentralizando as ações de saúde nos domicílios existentes na comunidade adstrita, eliminando os fatores desencadeantes de doenças e agravos à saúde na micro área.
  - (D) uma rede de atenção à saúde por meio da centralização político administrativa, distribuindo as ações e os serviços por complexidade (equidade) e por necessidades territoriais específicas (setorização).
  - (E) barreiras específicas direcionadas aos fatores determinantes de doenças, como um cordão sanitário com a imunização de toda a população residente na micro área.

44. O SUS busca uma assistência de qualidade e, por meio do acolhimento, aproximar o usuário dos profissionais de saúde. Por isso, é importante que o profissional da saúde entenda que o acolhimento
- (A) deve ser realizado pelo psicólogo da unidade que atende os usuários que apresentam problemas de saúde, emocional e social.
  - (B) é uma simples triagem, que pressupõe hora e profissional específico para realizá-la.
  - (C) não pressupõe hora nem profissional específico para realizá-lo, mas requer desse profissional a percepção integral do que é acolher.
  - (D) deve ser realizado pelo médico, único profissional que tem uma percepção integral do que é acolher, sendo capaz de elaborar estratégias resolutivas para o usuário.
  - (E) decorre da falta de humanização dentro dos serviços de saúde oferecidos para a população, razão pela qual o trabalhador deve ficar mais atento à quantidade de pacientes atendidos.
45. O Brasil tem passado por uma transição epidemiológica apresentando redução da taxa de mortalidade infantil e de crianças menores de 5 anos, além do aumento do coeficiente de longevidade. Essas questões apontam para uma transformação na pirâmide etária da população.
- Os dados apresentados referem-se a:
- (A) Princípios doutrinários em saúde.
  - (B) Etapas de desenvolvimento da doença.
  - (C) Índice de desenvolvimento humano.
  - (D) Indicadores de saúde.
  - (E) Indicadores de doenças.
46. O saneamento básico tem implicações diretas na saúde, tais como:
- (A) redução da incidência de doenças infecciosas e parasitárias, do número de internações hospitalares e do número de insetos vetores de doenças.
  - (B) melhoraria da qualidade de vida do ser humano, que pode manter a esterilização do domicílio, erradicando os vetores e bactérias.
  - (C) redução das doenças inflamatórias utilizando métodos de limpeza, como desinfecção e pasteurização para conservar a saúde.
  - (D) melhoraria da produtividade dos indivíduos, que não têm que se preocupar em armazenar água para utilizar no dia a dia.
  - (E) redução dos agravos à saúde dos seres humanos, pois todas as doenças se desenvolvem apenas onde o saneamento é precário.
47. São ações do ACS na promoção da saúde da gestante e da criança:
- (A) encaminhar a gestante para o pré-natal, no 1º mês, garantindo no mínimo 9 (nove) consultas durante a gravidez e 3 (três) no puerpério, e orientar a mãe sobre a sua higiene pessoal.
  - (B) garantir no mínimo 3 (três) consultas durante a gravidez e 1 (uma) no puerpério, sendo 4 (quatro) consultas para o atendimento à gestante na seguinte distribuição: 1 (uma) no primeiro trimestre; 1 (uma) no segundo trimestre; e 1 (uma) no terceiro trimestre, e complementar a amamentação com leite em pó.
  - (C) ao identificar a gestante, solicitar a realização dos exames iniciais do pré-natal, assim, na primeira consulta médica, os exames estarão prontos, e indicar o uso de ácido fólico para a criança não nascer com malformação do sistema nervoso.
  - (D) captação precoce da gestante para o pré-natal, que deve ser iniciado antes do 3º mês, garantindo no mínimo 7 (sete) consultas durante a gravidez e 1 (uma) no puerpério, e realizar a visita domiciliar à puérpera e ao recém-nascido logo após sua alta hospitalar.
  - (E) captação precoce da gestante, encaminhando-a para consulta de pré-natal, que deve ser iniciado antes do 5º mês, garantindo no mínimo 5 (cinco) consultas durante o período gestacional, e encaminhar o recém-nascido com dificuldade de amamentação à UBS para receber leite em pó.
48. Recentemente, as ocorrências de nascimento de crianças com microcefalia foram associadas à infecção da mãe pelo Zika vírus durante a gestação. Esta arbovirose, assim como a dengue e chikungunya, circula no Brasil e não há vacina para ela, nem medicamento específico para o tratamento da infecção. Portanto, a única maneira de evitar a incidência dessas doenças é combater o seu principal vetor, denominado:
- (A) *Anopheles darlingi*.
  - (B) *Culex quinquefasciatus*.
  - (C) *Aedes aegypti*.
  - (D) *Amblyomma cajennensis*.
  - (E) *Triatoma infestans*.

**49.** A malária é uma preocupação nos programas de combate às grandes endemias e a doença se caracteriza por acessos intermitentes de febre, calafrios, cefaleia e sudorese. O ACS, nas ações de controle da malária, realiza ações de educação em saúde orientando

- (A) a população para evitar o contato com a água e a lama das enchentes ou esgoto, impedindo que crianças nadem ou brinquem nesses locais que podem estar contaminados com caramujos, vetores da doença.
- (B) a construção de casas de tijolos, rebocadas, cobrindo com telhas ou lajes, pulverizar a casa com inseticida, evitar locais esburacados para não abrigar barbeiros, vetores da doença.
- (C) sobre a mais importante medida de controle que é a vacinação, já que não existe tratamento antiviral específico, devendo ser recebida aos nove meses de idade com reforço a cada 10 anos.
- (D) sobre a necessidade de manter hábitos saudáveis como escorrer a água dos pratinhos dos vasos de plantas, lavar com uma escova e colocar areia grossa até a borda; manter sempre limpos e vedados as caixas d'águas e poços, evitando o contato com urina de animais.
- (E) o uso de medidas de proteção individual e coletiva; mobilizando a comunidade para desenvolver medidas simples de manejo ambiental para o controle de vetores; identificar sintomas da malária e encaminhar o paciente à unidade de saúde para diagnóstico e tratamento.

**50.** O Estatuto do Idoso afirma que é assegurada a atenção integral à saúde do idoso, por intermédio do Sistema Único de Saúde – SUS. A prevenção e a manutenção da saúde do idoso serão efetivadas por meio de

- (A) atendimento geriátrico da população de idosos, acima de 75 anos, nos hospitais do território.
- (B) atendimento geriátrico e gerontológico em ambulatórios, à população acima de 60 anos, com pessoal especializado nas áreas de geriatria e gerontologia social.
- (C) atendimento domiciliar, incluindo a internação em hospitais de referência, para os idosos acima de 65 anos que têm planos de saúde.
- (D) instituições filantrópicas mantidas pelo governo, aos idosos acima de 80 anos, impossibilitados de se locomover e/ou acamados.
- (E) ações de reabilitação física do paciente, acima de 65 anos, orientadas pela assistente social que atende a área de moradia do idoso.



