



CÂMARA MUNICIPAL DE MARÍLIA
ESTADO DE SÃO PAULO

CONCURSO PÚBLICO

002. PROVA OBJETIVA

BIBLIOTECÁRIO

- ◆ Você recebeu sua folha de respostas e este caderno contendo 60 questões objetivas.
- ◆ Confira seus dados impressos na capa deste caderno e na folha de respostas.
- ◆ Quando for permitido abrir o caderno, verifique se está completo ou se apresenta imperfeições. Caso haja algum problema, informe ao fiscal da sala.
- ◆ Leia cuidadosamente todas as questões e escolha a resposta que você considera correta.
- ◆ Marque, na folha de respostas, com caneta de tinta preta, a letra correspondente à alternativa que você escolheu.
- ◆ A duração da prova é de 3 horas e 30 minutos, já incluído o tempo para o preenchimento da folha de respostas.
- ◆ Só será permitida a saída definitiva da sala e do prédio após transcorridos 75% do tempo de duração da prova.
- ◆ Ao sair, você entregará ao fiscal a folha de respostas e este caderno, podendo levar apenas o rascunho de gabarito, localizado em sua carteira, para futura conferência.
- ◆ Até que você saia do prédio, todas as proibições e orientações continuam válidas.

AGUARDE A ORDEM DO FISCAL PARA ABRIR ESTE CADERNO DE QUESTÕES.

Nome do candidato _____

RG _____

Inscrição _____

Prédio _____

Sala _____

Carteira _____

CONHECIMENTOS GERAIS

LÍNGUA PORTUGUESA

Leia o texto para responder às questões de números **01** a **10**.

A fórmula chinesa

A China vai virar uma democracia? Liberais, especialmente os da vertente institucionalista, apostam que ou ela se transforma numa sociedade aberta ou verá o fim de sua pujança econômica. Pequim, porém, parece empenhada em desmentir os liberais.

Um resumo rápido do último quinquênio sob a liderança de Xi Jinping é que o dirigente, que acaba de ser escolhido para permanecer mais cinco anos à frente do Partido Comunista chinês, conseguiu concentrar poderes e sufocar as tímidas tentativas de abertura, tudo isso sem ameaçar o crescimento.

Os liberais, porém, não precisam, por enquanto, atirar a toalha. Como nunca deram um prazo preciso para que sua profecia se concretizasse, não foram formalmente contraditados. É até possível que tenham razão e que, em horizontes mais dilatados, a China ou promova uma abertura ou sofra um apagão econômico.

O pressuposto teórico dessa tese é bastante razoável. A prosperidade sustentável, afinal, depende de um fluxo constante de inovações e ganhos de produtividade que são coibidos quando indivíduos não podem trocar ideias livremente.

Dá para construir uma boa argumentação mostrando que esse foi um grande problema na antiga URSS e contribuiu para seu ocaso* econômico.

O ponto central é descobrir se a liberdade é condição necessária para o desenvolvimento científico e econômico ou só um tempero desejável. Gostaria de acreditar na primeira alternativa, mas receio que ela não passe de um desejo liberal. Não me parece “a priori” impossível criar um sistema fortemente autoritário na política e suficientemente liberal nas áreas científicas. A China pelo menos tem conseguido.

(Hélio Schwartzman. *Folha de São Paulo*. 27.10.2017. Adaptado)

* enfraquecimento que leva à destruição; perda de influência, de poder; decadência.

- 01.** O autor aponta como um aspecto em tese contraditório, mas que tem dado certo no caso da China,
- (A) a resistência em se transformar numa democracia liberal, a despeito dos avanços desse país na concessão das liberdades individuais.
 - (B) a ampla abertura econômica promovida por um governo que, apesar disso, continua concentrando em suas mãos todo o poder político.
 - (C) o respeito às liberdades individuais, e, ao mesmo tempo, a negação, nessa sociedade, ao direito de escolha dos governantes por meio de eleições.
 - (D) a manutenção de um sistema político fortemente autoritário, porém liberal em áreas essenciais que garantem o sucesso econômico do país.
 - (E) a dificuldade da China em prosperar economicamente, a despeito das transformações ocorridas no país que o tornaram uma democracia liberal.

- 02.** Para o autor, a teoria dos que defendem que a China precisa se transformar numa sociedade aberta, sob o risco de ter sua economia seriamente comprometida,
- (A) é refutável, já que o país é uma prova de que um governo forte e controlador, e não a liberdade, é o que determina o sucesso de uma economia.
 - (B) é sustentável, já que prosperidade costuma depender de inovação e aumento da produtividade, o que não ocorre em sociedades em que não há liberdade.
 - (C) viável, já que as tímidas tentativas de abertura incentivadas recentemente pelo governo mostraram-se ineficientes para alavancar a economia do país.
 - (D) contestável, já que a liberdade não é condição necessária para o desenvolvimento científico ou para a prosperidade econômica de uma sociedade.
 - (E) inquestionável, sendo que governos totalitários, como a antiga URSS, estão fadados a quebrarem economicamente, justamente o que vem acontecendo com a China.
- 03.** O termo destacado em “... tudo **isso** sem ameaçar o crescimento.” refere-se à seguinte informação:
- (A) A China vai virar uma democracia?
 - (B) Um resumo rápido do último quinquênio sob a liderança de Xi Jinping...
 - (C) ... ela se transforma numa sociedade aberta ou verá o fim de sua pujança...
 - (D) Pequim, porém, parece empenhada em desmentir os liberais.
 - (E) ... conseguiu concentrar poderes e sufocar as tímidas tentativas de abertura...
- 04.** No trecho “Como nunca deram um prazo preciso para que sua profecia se concretizasse, não foram formalmente contraditados.”, a profecia em questão se refere à afirmação de que
- (A) a China verá o fim de seu poder econômico, caso não se transforme em uma sociedade aberta.
 - (B) a China desmentiria os críticos ao seu sistema político quanto às suas previsões a respeito da economia do país.
 - (C) o dirigente chinês não continuaria concentrando o poder ante o crescente desejo de abertura política no país.
 - (D) o governo não conseguiria ser eleito pelo Partido Comunista para dirigir o país pelos próximos cinco anos.
 - (E) a falta de abertura permaneceria sem interferir nos altos índices de crescimento econômico registrados no país.

05. Assinale a alternativa cujo termo apresentado entre parênteses substitui, sem prejuízo de sentido do texto, o termo destacado na frase.

- (A) Liberais, especialmente os da **vertente** institucionalista... (objeção)
- (B) ... se transforma numa sociedade aberta ou verá o fim de sua **pujança** econômica. (presunção)
- (C) ... não foram formalmente **contraditados**. (esnobados)
- (D) É até possível que tenham razão e que, em horizontes mais **dilatados**... (previsíveis)
- (E) ... fluxo constante de inovações e ganhos de produtividade que são **coibidos** quando indivíduos não podem trocar ideias livremente. (impedidos)

06. Uma frase do texto em que há emprego de palavra ou expressão em sentido figurado é:

- (A) ... acaba de ser escolhido para permanecer mais cinco anos à frente do Partido Comunista...
- (B) Os liberais, porém, não precisam, por enquanto, atirar a toalha.
- (C) O pressuposto teórico dessa tese é bastante razoável.
- (D) Dá para construir uma boa argumentação mostrando que esse foi um grande problema...
- (E) ... descobrir se a liberdade é condição necessária para o desenvolvimento científico...

Considere o seguinte trecho do texto para responder às questões de números 07 e 08.

A prosperidade sustentável, afinal, depende de um fluxo constante de inovações e ganhos de produtividade que são coibidos quando indivíduos não podem trocar ideias livremente.

07. Assinale a alternativa em que o acréscimo da conjunção destacada dá sequência à passagem inicial – A prosperidade sustentável, afinal, depende de um fluxo constante de inovações e ganhos de produtividade... – expressando sentido compatível com o contexto do trecho.

- (A) ... que **enquanto** são coibidos quando indivíduos não podem trocar ideias livremente.
- (B) ... que **como** são coibidos quando indivíduos não podem trocar ideias livremente.
- (C) ... que, **todavia**, são coibidos quando indivíduos não podem trocar ideias livremente.
- (D) ... que, **portanto**, são coibidos quando indivíduos não podem trocar ideias livremente.
- (E) ... que, **por isso**, são coibidos quando indivíduos não podem trocar ideias livremente.

08. Quanto ao uso das vírgulas, o trecho apresenta rescrita correta, conforme a norma-padrão da língua, em

- (A) Afinal, a prosperidade sustentável depende de um fluxo constante de inovações e ganhos, coibidos quando não se podem trocar ideias livremente.
- (B) Afinal a prosperidade sustentável, depende de um fluxo constante de inovações e ganhos, coibidos quando não se podem trocar ideias livremente.
- (C) Afinal a prosperidade sustentável depende, de um fluxo, constante de inovações e ganhos coibidos, quando não se podem trocar ideias livremente.
- (D) Afinal a prosperidade sustentável depende de um fluxo constante, de inovações e ganhos coibidos, quando não se podem trocar ideias livremente.
- (E) Afinal, a prosperidade, sustentável depende de um fluxo constante de inovações e ganhos, coibidos quando não se podem trocar, ideias, livremente.

09. Na frase “É até possível que **tenham** razão...” a forma verbal em destaque expressa a ideia de possibilidade de que um fato ou evento se realize, assim como ocorre com a forma verbal destacada em:

- (A) ... **acaba** de ser escolhido para permanecer mais cinco anos à frente do Partido Comunista...
- (B) Como nunca deram um prazo preciso para que sua profecia se **concretizasse**...
- (C) A prosperidade sustentável, afinal, **depende** de um fluxo constante de inovações e ganhos...
- (D) Dá para construir uma boa argumentação **mostrando** que esse foi um grande problema...
- (E) ... esse foi um grande problema na antiga URSS e **contribuiu** para seu ocaso econômico.

10. Considere o seguinte trecho do texto:

“Os liberais, porém, não precisam, por enquanto, atirar **a toalha**. Como nunca deram **um prazo preciso**...”

Assinale a alternativa em que os pronomes que substituem as expressões destacadas têm emprego e colocação de acordo com a norma-padrão da língua.

- (A) Os liberais, porém, não precisam, por enquanto, **a** atirar. Como nunca deram-**no**...
- (B) Os liberais, porém, não precisam, por enquanto, **lhe** atirar. Como nunca **o** deram...
- (C) Os liberais, porém, não precisam, por enquanto, atirá-**la**. Como nunca **o** deram...
- (D) Os liberais, porém, não precisam, por enquanto, atirar-**lhe**. Como nunca **lhe** deram...
- (E) Os liberais, porém, não precisam, por enquanto, atirá-**la**. Como nunca deram-**lhe**...

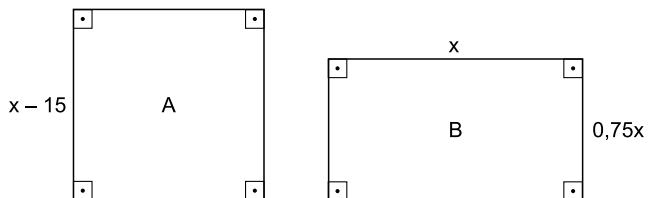
11. Usando um mesmo copo como medida, Clara misturou $\frac{1}{2}$ copo de iogurte líquido sabor frutas vermelhas, $\frac{3}{4}$ de copo de iogurte líquido de morango e $\frac{2}{3}$ de copo de iogurte líquido natural. Ingeriu um copo (medida) cheio da mistura obtida e reservou o restante para levar para a escola. Se a quantidade da mistura levada para a escola foi igual a 275 mililitros, então a quantidade de iogurte de morango utilizada para compor a mistura foi, em mililitros, igual a
- (A) 125.
(B) 150.
(C) 175.
(D) 200.
(E) 225.
12. Em uma unidade fabril, uma mesma peça é produzida em três máquinas, A, B e C, programadas para emitir sinais sonoros a cada 500 unidades produzidas. Sabe-se que a máquina A produz 500 unidades a cada 40 minutos, a máquina B a cada 36 minutos e a máquina C a cada 30 minutos. Admita que elas iniciem a produção diária juntas, em um mesmo horário, e funcionem sem interrupções. Desse modo, quando as três máquinas emitirem, pela primeira vez, um sinal sonoro simultâneo, o número total de unidades produzidas até aquele momento pela máquina C será igual a
- (A) 4500.
(B) 5000.
(C) 5500.
(D) 6000.
(E) 6500.
13. Uma bibliotecária levou três dias para catalogar um lote de livros distintos, composto por livros didáticos e não didáticos, na razão de 1 para 4, nessa ordem. Sabe-se que seis em cada dez livros do lote foram catalogados no primeiro dia, a quarta parte dos restantes no segundo dia e os últimos 24 livros no terceiro dia. Desse modo, é correto afirmar que esse lote continha um número de livros didáticos igual a
- (A) 15.
(B) 16.
(C) 18.
(D) 20.
(E) 25.

14. Dimas e Raul entregaram ao professor os respectivos trabalhos feitos para a conclusão de certo curso, sendo constatado que o trabalho de Dimas tinha uma página e meia a mais que o trabalho de Raul. Se Dimas tivesse conseguido reduzir em 20% o número de páginas do seu trabalho, ambos os trabalhos teriam ficado com o mesmo número de páginas. O número de páginas do trabalho de Dimas é igual a
- (A) 7,5.
 - (B) 8.
 - (C) 8,5.
 - (D) 9.
 - (E) 9,5.
15. Cinco impressoras de mesmo rendimento imprimem x páginas de certo trabalho em 7 minutos e 30 segundos de funcionamento simultâneo. Nas mesmas condições, três das mesmas impressoras, funcionando simultaneamente, imprimiriam as mesmas x páginas desse mesmo trabalho em
- (A) 13 min 20 s.
 - (B) 12 min 50 s.
 - (C) 12 min 30 s.
 - (D) 12 min 10 s.
 - (E) 11 min 40 s.
16. Em uma biblioteca escolar havia um grupo com 14 alunos de uma mesma classe, cujas idades somavam 160 anos. Após a saída de dois integrantes do grupo, André e Bernardo, que têm exatamente a mesma idade, a média aritmética das idades dos alunos restantes passou a ser de 11,5 anos. A idade de Bernardo é
- (A) 10 anos.
 - (B) 10,5 anos.
 - (C) 11 anos.
 - (D) 11,5 anos.
 - (E) 12 anos.
17. Uma editora enviou para uma biblioteca três pacotes que tinham, respectivamente, y , w e z livros em cada um. Sabendo-se que $y + w = 40$, $y + z = 30$ e $w + z = 38$, é correto afirmar que os três pacotes tinham, juntos, um número total de livros igual a
- (A) 54.
 - (B) 56.
 - (C) 58.
 - (D) 60.
 - (E) 64.

18. Em uma empresa, as unidades prontas de certo produto são acondicionadas em caixas cúbicas, com 50 cm de aresta, que são encaminhadas para um depósito, onde são armazenadas em contêineres, todos contendo o mesmo número total de caixas. Em certo momento constatou-se que em um contêiner, que estava sendo completado, já havia 84% do número total de caixas, faltando apenas $2,5 \text{ m}^3$ para completá-lo. Nesse momento, o número de caixas já armazenadas nesse contêiner era igual a

- (A) 125.
- (B) 115.
- (C) 110.
- (D) 105.
- (E) 100.

19. Um painel quadrado A e um painel retangular B, mostrados nas figuras a seguir, com dimensões indicadas em centímetros, têm perímetros iguais.



Se S_A a área do painel A e S_B a área do painel B, é correto afirmar que $S_A - S_B$ é igual a

- (A) 250 cm^2 .
- (B) 225 cm^2 .
- (C) 220 cm^2 .
- (D) 215 cm^2 .
- (E) 210 cm^2 .

20. Na figura a seguir, com dimensões indicadas em centímetros, o lado BC do triângulo retângulo ABC determina a medida do lado do quadrado BCDE, de área igual a 100 cm^2 .

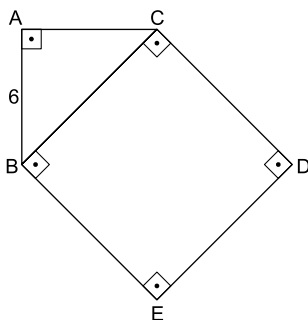


figura fora de escala

A área do triângulo ABC é, em cm^2 , igual a

- (A) 48.
- (B) 36.
- (C) 30.
- (D) 28.
- (E) 24.

LEGISLAÇÃO

21. De acordo com a Lei Orgânica do Município de Marília, compete privativamente à Câmara Municipal exercer as seguintes atribuições, dentre outras:

- (A) aprovar o Plano Diretor de Desenvolvimento Integrado.
- (B) autorizar a aquisição de bens imóveis, salvo quando se tratar de doação sem encargos.
- (C) dar denominação a próprios, vias e logradouros públicos, assim como modificá-las.
- (D) autorizar a realização de empréstimos, operação ou acordo externo de qualquer natureza, de interesse do Município.
- (E) estabelecer normas urbanísticas, particularmente as relativas a zoneamento e loteamento.

22. De acordo com o Regimento Interno da Câmara Municipal de Marília, a Biblioteca “Vereador Rangel Pietrarória” está subordinada diretamente

- (A) à Secretaria de Cultura.
- (B) à Secretaria Administrativa.
- (C) à Secretaria do Gabinete do Prefeito.
- (D) aos Vereadores.
- (E) ao Presidente da Câmara Municipal.

23. Em relação à posse e ao exercício, conforme descrito no Código de Administração do Município de Marília, assinala a alternativa correta.

- (A) Não haverá posse nos casos de promoção, transferência, reintegração e recondução.
- (B) O ato de provimento será tornado sem efeito, por Decreto Municipal, se a posse não ocorrer no prazo de 40 (quarenta) dias.
- (C) Em se tratando de servidor em licença médica, a posse deverá ser tomada por procurador legal.
- (D) É de 15 (quinze) dias improrrogáveis o prazo para o servidor entrar em exercício, contados da data da posse.
- (E) A remuneração será devida ao servidor a partir da comprovação da data da posse.

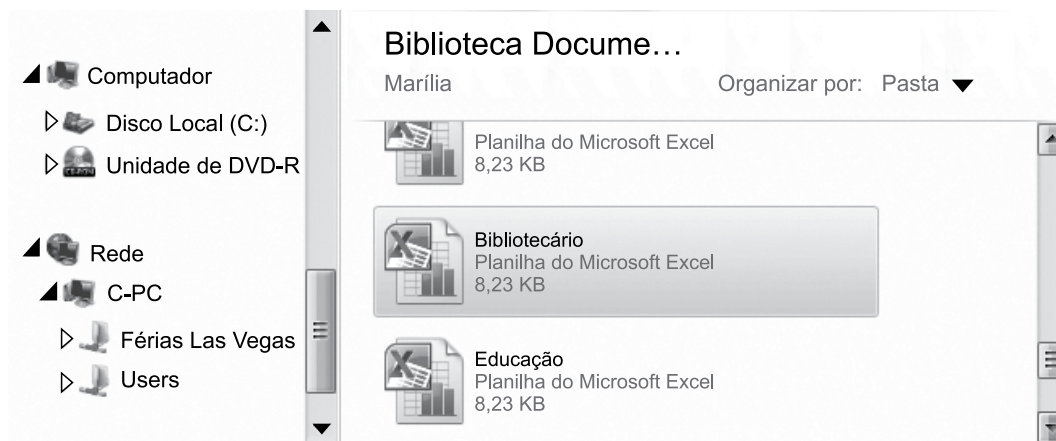
24. De acordo com o Código de Ética do Município de Marília, são vedadas várias condutas aos servidores públicos municipais, dentre elas, a conduta de

- (A) cumprir as ordens superiores, exceto quando manifestamente ilegais.
- (B) exercer, com estrita moderação, as prerrogativas funcionais que lhe sejam atribuídas, abstendo-se de fazê-las quando contrárias ao interesse público.
- (C) retirar da repartição pública, sem estar autorizado, qualquer documento, livro ou bem pertencente ao patrimônio público.
- (D) jamais retardar qualquer prestação de contas, condição essencial da gestão dos bens, direitos e serviços da coletividade a seu cargo.
- (E) comunicar imediatamente a seus superiores todo e qualquer ato ou fato contrário ao interesse público, exigindo as providências cabíveis.

25. O instrumento destinado aos casos de exame de proposta de exoneração de servidor em estágio probatório, por insuficiência de desempenho, de acordo com a Lei Complementar nº 680/2013 denomina-se

- (A) apuração de fatos ilícitos.
- (B) processo administrativo disciplinar.
- (C) sindicância.
- (D) investigação interna.
- (E) processo sumário.

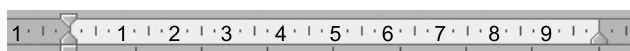
26. As planilhas apresentadas na figura a seguir estão armazenadas na biblioteca Documentos do MS-Windows 7, em sua configuração original.



Assinale a alternativa que indica corretamente a ação que o Windows executará quando o usuário selecionar a planilha Bibliotecário e, mantendo o botão principal do mouse clicado, arrastá-lo e soltá-lo na pasta de rede Users.

- (A) Colar.
- (B) Mover.
- (C) Recortar.
- (D) Copiar.
- (E) Excluir.

27. Considere o documento do MS-Word 2010, em sua configuração original, que contém um índice de ilustrações, conforme exibido na figura a seguir.



Ilustrações

Figura 1 Trator2
 Figura 2 Chuva2



Figura 2 Chuva

Figura 1 Trator

Assinale a alternativa que expressa corretamente o motivo pelo qual o índice do documento encontra-se incompleto.

- (A) Não foi executada a ação de atualização de campo no índice.
- (B) Faltou incluir a legenda em uma das figuras.
- (C) Não foi atribuído o estilo de título em uma das figuras.
- (D) Uma das figuras não foi marcada como referência cruzada.
- (E) Não foi inserida uma nota de fim em uma das figuras.

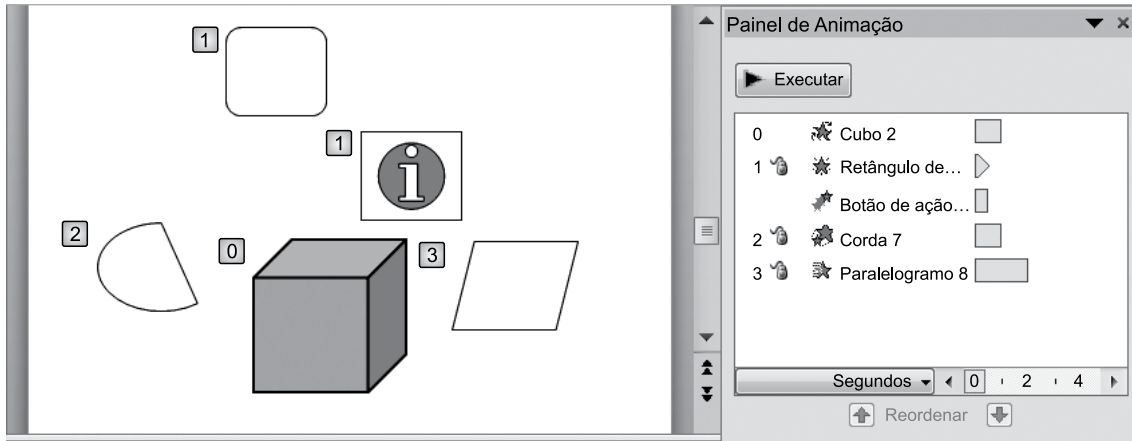
28. Observe a planilha do MS-Excel 2010, em sua configuração original.

	I	J	K	L	M	N
1						
2	Cargo	Nível	Salário		Níveis Salariais	
3	An Júnior	I	R\$ 5.000		Nível	Valor
4	An Sênior	III	R\$ 9.000		I	R\$ 5.000
5	An Pleno	II	R\$ 7.500		II	R\$ 7.500
6	An Júnior	I	R\$ 5.000		III	R\$ 9.000
7	An Sênior	III	R\$ 9.000			
8	An Pleno	II	R\$ 7.500			

Assinale a alternativa que mostra a fórmula correta que foi inserida na célula K3, sabendo-se que o usuário clicou com o botão principal do mouse na alça de preenchimento dessa célula e, sem soltar o botão do mouse, arrastou-a até a célula K8, copiando, assim, a fórmula e preenchendo, automaticamente, o salário de todas as linhas a partir da tabela de níveis salariais.

- (A) =procv(J3;M:N;2;falso)
- (B) =procv(\$J\$3;M:N;2;falso)
- (C) =procv(J3;M4:N6;2;falso)
- (D) =procv(\$J\$3;M4:N6;2;falso)
- (E) =procv(\$J\$3;\$M\$4:\$N\$6;2;falso)

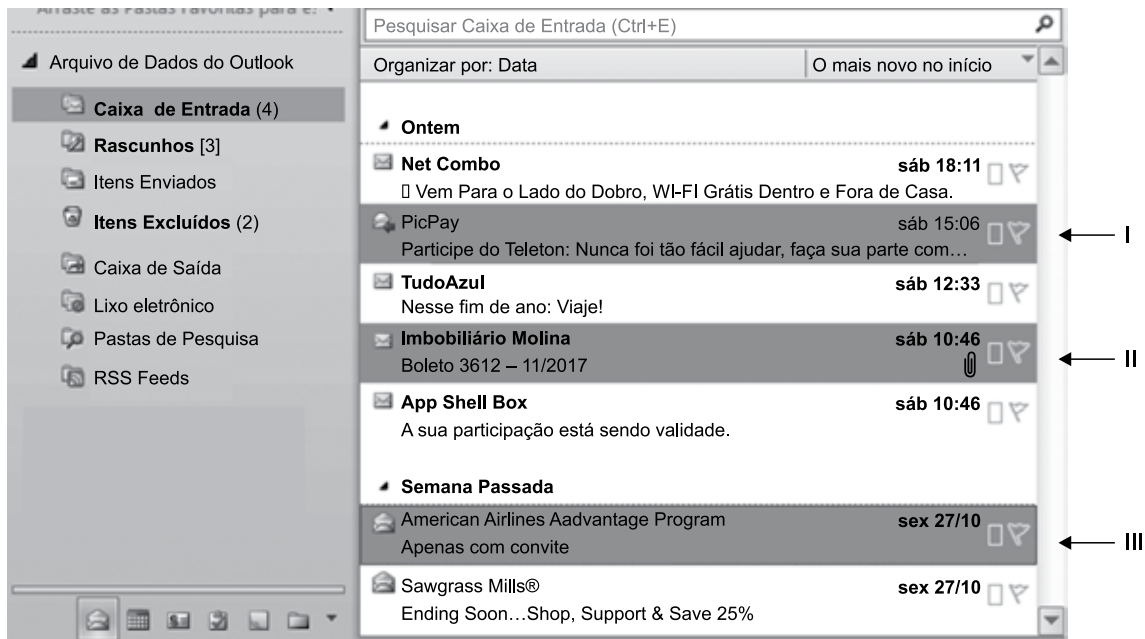
29. Observe o slide do MS-PowerPoint 2010, na sua configuração padrão:



Todas as figuras foram configuradas com efeitos de animação de entrada. Assinale a alternativa que apresenta a figura que aparecerá no slide no mesmo momento em que é exibida a figura anterior.

- (A) Cubo 2.
- (B) Retângulo de ...
- (C) Botão de ação...
- (D) Corda 7.
- (E) Paralelograma 8.

30. Considere a janela do MS-Outlook 2010, na sua configuração padrão, exibida parcialmente na figura a seguir.



Assumindo que os e-mails identificados por I, II e III foram selecionados nessa ordem, assinale a alternativa que apresenta a ação correta que será executada pelo Outlook quando o usuário pressionar a tecla Del ou Delete.

- (A) Os e-mails II e III permanecerão na Caixa de Entrada e o e-mail I será enviado para Itens Excluídos.
- (B) Os e-mails I e II permanecerão na Caixa de Entrada e o e-mail III será enviado para Itens Excluídos.
- (C) Os três e-mails serão enviados para Lixo eletrônico.
- (D) Os três e-mails serão eliminados definitivamente.
- (E) Os três e-mails serão enviados para Itens Excluídos.

CONHECIMENTOS ESPECÍFICOS

31. Em relação a aspectos históricos da Biblioteconomia, Documentação e Ciência da Informação, é correto afirmar que
- (A) Gabriel Naudé formalizou as bases conceituais da Ciência da Informação no século XVIII, abrindo caminho para a afirmação do conceito de ordem bibliográfica.
 - (B) essas ciências formam um único campo de conhecimento, compartilham os mesmos problemas e formas de definição, questões teóricas e modelos explicativos a partir do século XVII.
 - (C) o termo Biblioteconomia foi usado pela primeira vez por Hesse no século XIX, marcando o início da sistematização das técnicas e práticas bibliotecárias.
 - (D) no século XX, devido à explosão da informação, Henri La Fontaine e Paul Otlet estabeleceram as bases para a Biblioteconomia reunindo a produção mundial impressa.
 - (E) o aparecimento dos periódicos e sua crescente importância fizeram surgir a Documentação, no século XVIII, para tratar tecnicamente e recuperar as informações produzidas.
32. Documento, mensagem e informação são conceitos distintos em Ciência da Informação, de forma que
- (A) informação é o que é levado de um emissor a um receptor em um processo de comunicação.
 - (B) mensagem é o processo de dar forma, consistência e atribuir sentido à informação.
 - (C) documento é o que traz um fator novo, na medida em que se trata de um processo realizado para armazenamento.
 - (D) mensagem pode ser definida como a interface ou o estímulo externo cognoscível do processo de informação.
 - (E) documento é toda base de conhecimento fixada materialmente e suscetível de estudo, prova ou confronto.
33. A respeito da produção de informação documentária, é correto afirmar que
- (A) armazenada em bases de dados, bibliotecas, arquivos ou museus produz conhecimento imediato e efetivo.
 - (B) constitui atividades orientadas para a organização e o controle de estoques de informação, recuperação e uso imediato ou futuro.
 - (C) possui compromisso direto, final e efetivo com a produção do conhecimento em diferentes níveis de uso.
 - (D) desprovida de estruturas significantes operacionaliza-se por meio de práticas de reunião, seleção, codificação, redução, classificação e armazenamento.
 - (E) representa uma ação de comunicação unilateralmente consentida entre a fonte ou o estoque e o receptor.
34. Considere os itens a seguir e assinale a alternativa correta.
- (A) Fontes de informação secundária correspondem a documentos que contêm novas informações ou novas interpretações de ideias ou fatos acontecidos.
 - (B) Fontes de informação terciária correspondem a documentos originais que podem ter aspecto de registro de observações ou documentos descritivos de experiências científicas.
 - (C) Fontes de informação primária contêm informações a respeito dos documentos primários, arranjados de acordo com um plano definido para permitir a recuperação da informação.
 - (D) Fontes de informação secundária correspondem a documentos organizadores dos documentos primários e levam o usuário aos documentos originais.
 - (E) Fontes de informação terciárias correspondem a documentos quantitativamente medidos ou qualitativamente medidos sob a forma de dados.
35. Os documentos legislativos, a jurisprudência e a doutrina constituem a denominada
- (A) Documentação Administrativa.
 - (B) Documentação Científica.
 - (C) Documentação Jurídica.
 - (D) Documentação Textual.
 - (E) Documentação Cartográfica.
36. A respeito da catalogação e catálogos, é correto afirmar que
- (A) o catálogo é um canal de comunicação estruturado, que veicula mensagens contidas nos itens, e sobre os itens, de um ou vários acervos, apresentando-as de forma codificada e organizada.
 - (B) os catálogos mais usados atualmente são os manuais com ficha padrão de 10,5 x 14,8 cm, ou os automatizados coletivos que permitem a localização de documentos de várias bibliotecas.
 - (C) a catalogação é o processo intelectual que resulta em base de dados desenvolvida com linguagem de marcação, sem instrumentos normalizados de comunicação.
 - (D) a catalogação é o estudo, a preparação e organização de mensagens decodificadas sobre acervos de forma a permitir interseção entre as informações da web e os usuários.
 - (E) o catálogo de acervo deve ter uniformidade de informações, ser exaustivo na preparação e na manutenção para economia de recursos e tempo, cobrindo todos os documentos da web de interesse para os usuários.

37. Os pontos de acesso para a recuperação de dados bibliográficos
- (A) controlados apresentam informações livres a respeito do título da manifestação, item e o autor.
 - (B) autorizados são fornecidos por formulários específicos para título, expressão, manifestação e item.
 - (C) sem controle são fornecidos por formulários com variantes de nomes de entidades, pessoas, famílias, e corpo corporativo.
 - (D) controlados fornecem a consistência necessária para localizar os dados bibliográficos dos conjuntos de recursos dos acervos.
 - (E) controlados fornecem nomes, títulos, códigos e palavras-chave sem dados de autoridade.
38. Assinale a alternativa que indica corretamente a representação descritiva manual.
- (A) Tepedino, Gustavo; Barboza, Heloisa Helena; Moraes, Maria Celina Bodin de. Código civil interpretado: conforme a Constituição da República / Gustavo Tepedino, Heloisa Helena Barboza, Maria Celina Bodin de Moraes. – Rio de Janeiro: Renovar, 2014. – 988 p. 1. Assunto. I Título.
 - (B) Código civil interpretado: conforme a Constituição da República / Rio de Janeiro: Renovar, 2014. – 988 p. 1. Assunto. I. Tepedino, Gustavo. II. Barbosa, Heloisa Helena. III. Moraes, Maria Celina Bodin de.
 - (C) Tepedino, Gustavo. Código civil interpretado: conforme a Constituição da República / Gustavo Tepedino, Heloisa Helena Barboza, Maria Celina Bodin de Moraes. – Rio de Janeiro: Renovar, 2014. – 988 p. 1. Assunto. I. Barbosa, Heloisa Helena. II. Moraes, Maria Celina Bodin de. III. Título.
 - (D) Código civil interpretado: conforme a Constituição da República / Gustavo Tepedino, Heloisa Helena Barboza, Maria Celina Bodin de Moraes. – Rio de Janeiro: Renovar, 2014. – 988 p. I. Tepedino, Gustavo. II. Barbosa, Heloisa Helena. III. Moraes, Maria Celina Bodin de. IV. Título.
 - (E) Tepedino, Gustavo. Código civil interpretado: conforme a Constituição da República / Gustavo Tepedino [et al]. – Rio de Janeiro: Renovar, 2014. – 988 p. 1. Assunto. I. Barbosa, Heloisa Helena. II. Moraes, Maria Celina Bodin de.
39. A respeito dos sistemas de classificação, é correto afirmar que
- (A) as classificações filosóficas desenvolvidas principalmente para a organização de livros foram a base para os sistemas de classificação bibliográfica.
 - (B) a CDD surgiu como uma classificação direcionada para o uso bibliográfico e a CDU como uma classificação para a organização de bibliotecas.
 - (C) a LCC (Classificação da Biblioteca do Congresso) baseada na Classificação de Bliss utiliza notação mista com letras e números, divisão geográfica e tabelas cronológicas.
 - (D) a *Colon Classification*, criada por Brown, é uma classificação facetada, usada para relacionar as características dos diversos assuntos e focos.
 - (E) a Classificação de Cutter, ou Expansiva, por considerar o sistema ajustável à expansão do conhecimento, possui notação alfabética e números para as subdivisões.
40. A Classificação Decimal, de Dewey, apresenta
- (A) subordinação das classes e subclasses com numeração hierárquica de expansão limitada.
 - (B) publicação na web e impressa, sendo editada pela OCLC – Online Computer Library Center.
 - (C) inclusão de um índice sistemático para os esquemas e tabelas auxiliares desde sua primeira edição.
 - (D) publicação em três tipos de edições: a completa, atualmente na 22^a ed., a abreviada e a revisada.
 - (E) revisão realizada por especialistas em computação, com foco na garantia literária e no impacto para os usuários.
41. Considere as afirmações a seguir e assinale a alternativa correta.
- (A) A atividade de indexação é um processo realizado mais intensamente desde o aumento de publicações periódicas e de literatura técnico-científica.
 - (B) O aparecimento de mecanismos de controle bibliográfico da literatura científica e serviços de indexação surgem dentro do contexto das bibliotecas tradicionais.
 - (C) Na perspectiva evolutiva do tratamento da informação, a indexação está vinculada ao tratamento temático e realiza análise, síntese e recuperação.
 - (D) O conceito de indexação surgiu a partir da elaboração de tabelas e atualmente está mais ligado à classificação.
 - (E) A indexação é vista como uma operação de recuperação da informação com a finalidade pragmática de representação documentária.

42. Sistemas de Organização do Conhecimento referem-se a diferentes linguagens de indexação com diferentes propostas em momentos históricos distintos, e o modelo de metadados desenvolvido pelo *World Wide Web Consortium* para compartilhar e vincular tesouros por meio da web é o
- (A) OWL.
 - (B) SKOS.
 - (C) SPARQL.
 - (D) LIMBER.
 - (E) CERES.
43. Assinale a alternativa correta.
- (A) O conjunto de atividades que consiste em identificar intelectualmente os traços descritivos dos documentos e extrair os sintagmas indicadores do seu conteúdo denomina-se indexação semiautomática.
 - (B) O conjunto de atividades que consiste na análise de documentos por computadores, tendo os termos de indexação propostos validados e editados por um profissional refere-se à indexação automática.
 - (C) O conjunto de atividades que consiste na seleção de descritores por máquina e pelo profissional para constituir elementos indicadores do conteúdo do documento relaciona-se à indexação semiautomática.
 - (D) O conjunto de atividades que consiste na análise de documentos para identificar os termos por máquina, com programa que auxilia o processo de armazenamento de descritores refere-se à indexação assistida por computador.
 - (E) O conjunto de atividades que consiste na leitura e identificação intelectual de conteúdo de documentos com seleção exaustiva de sintagmas nominais para representar os descritores principais de assunto, relaciona-se à indexação automática.
44. A gestão de coleções para a formação e desenvolvimento de acervos
- (A) acrescenta elementos como preservação a longo prazo, aspectos legais do acesso e uso de materiais e excelência no estoque informacional.
 - (B) proporciona o distanciamento de outras instituições e pessoas para prover o melhor custo-benefício possível no acesso e uso do acervo.
 - (C) dispensa a busca por recursos financeiros e informacionais tanto interna quanto externamente.
 - (D) promove o gerenciamento de acervos como localizar, agrupar e conservar sem depender dos recursos disponíveis.
 - (E) desconsidera o acompanhamento, a avaliação de recursos e das necessidades da comunidade usuária.
45. No processo de aquisição de materiais bibliográficos a
- (A) compra requer pouco trabalho por parte do profissional encarregado, reduzindo-se à checagem da lista sugerida de aquisições e os materiais adquiridos.
 - (B) doação e a permuta são as atividades mais complexas e exigem extensa verificação e controle do material originário dessas modalidades.
 - (C) doação deve atender à Lei nº 8.666, de 21 de junho de 1993, que classifica livros e periódicos como material de consumo.
 - (D) permuta deve ser realizada rapidamente, para a incorporação definitiva ao acervo a fim de criar uma coleção imensa que atenda à realidade dos interesses a que se destina.
 - (E) compra na administração pública deve ser realizada por licitação que engloba as modalidades de convite, tomada de preço e concorrência.
46. O Serviço de Referência tem como função, entre outras,
- (A) desenvolver atividades pedagógicas realizadas com o objetivo de divulgar a instituição e iniciar o público na prática da leitura.
 - (B) fornecer informação mediante o pagamento de taxas, a partir da indicação de fontes para transferência de conhecimento.
 - (C) indicar fontes e fornecer informações relativas aos acervos para torná-los acessíveis aos usuários.
 - (D) executar atividades de tratamento documentário e de conservação do acervo institucional.
 - (E) gerenciar e atualizar o acervo bibliográfico bem como desenvolver atividades de preservação de documentos.
47. O Serviço de Disseminação Seletiva da Informação pode ser definido como um serviço de
- (A) informação que canaliza periodicamente o envio de novos itens para usuários, com perfil de interesse específico.
 - (B) documentação que abrange o processo de consulta a índices e catálogos, para informar a respeito de documentos disponíveis no acervo.
 - (C) referência que enfatiza a análise e a transferência de informação para o usuário generalista.
 - (D) documentação para fornecimento presencial de informação a respeito dos documentos existentes na biblioteca.
 - (E) informação para obtenção de documentos disponíveis em outras unidades de informação.

48. As tecnologias de informação no século XXI facilitam a criação de bibliotecas sem paredes, sendo que
- (A) a biblioteca polimídia apresenta sempre efetiva utilização dos computadores na armazenagem, tratamento, recuperação e disponibilização de registros.
 - (B) a biblioteca eletrônica é similar à biblioteca convencional, com processos manuais contendo livros, vídeos, fitas, CD-ROMs e microfimes.
 - (C) a biblioteca virtual existe independentemente de uma instituição e seus links apontam para documentos digitalizados.
 - (D) a biblioteca digital refere-se à coleção de serviços e objetos de informação que disponibilizam o acervo direta ou indiretamente via meio digital.
 - (E) a biblioteca eletrônica contempla informações que existem somente na forma digital, como disquetes, CDs, não contendo livros na forma convencional.
49. A rede cooperativa de bibliotecas, coordenada pela Biblioteca do Senado Federal, que agrega recursos de bibliotecas da Administração Pública Federal, dos Poderes Legislativo, Executivo e Judiciário é a
- (A) BVS.
 - (B) RVBI.
 - (C) LEXIS NEXUS.
 - (D) CAPES.
 - (E) BIBJUR.
50. Assinale a alternativa que apresenta, exclusivamente, *softwares* para desenvolvimento de repositórios digitais.
- (A) DSpace, Eprints, Greenstone, Nou-Rau e Fedora.
 - (B) OpenBIBLIO, GNUTECA, Eprints, WSIS, OAIS.
 - (C) DSpace, MicroISIS, MySQL, Greenstone, Eprints.
 - (D) GNUTECA, Nou-Rau, Fedora, OAIS, ATOM.
 - (E) Greenstone, Fedora, OpenBIBLIO, OAIS, ATOM.
51. A respeito das redes de comunicação de dados, é correto afirmar que
- (A) a comunicação entre computadores de diferentes organizações, geograficamente dispersos, é denominada rede LAN – *Local Area Network*.
 - (B) a comunicação entre computadores da mesma organização, geograficamente próximos, é denominada rede WAN - *Wide Area Network*.
 - (C) a comunicação de dados é a transmissão de informação entre sistemas computacionais por meios físicos que compõem as redes.
 - (D) o acesso à intranet é feito por um servidor local em uma rede instalada na própria instituição chamada WAN - *Wide Area Network*.
 - (E) as redes permitem acesso simultâneo a programas e dados, e o compartilhamento de dispositivos periféricos que retardam a comunicação.
52. O fluxo de informação na web está relacionado a especificações técnicas, recomendações e padrões para a garantia de qualidade técnica e editorial, de forma que
- (A) CSS é a tecnologia fundamental para o desenvolvimento de páginas web porque define a estrutura de publicação das informações.
 - (B) HTML e XHTML são as tecnologias com foco para o estilo de publicação e *layout*, incluindo *webfonts*.
 - (C) RDF é uma estrutura e um modelo de dados de declarações por conjuntos de elementos com três componentes: sujeito, predicado e objeto.
 - (D) APIs são formatos desenvolvidos para representações visuais e gráficas com capacidades vetoriais específicas.
 - (E) PNG e SVG são padrões para o desenvolvimento de aplicações web, incluindo geolocalização.
53. Assinale a alternativa que se refere corretamente ao planejamento em unidades de informação.
- (A) No âmbito do planejamento operacional, as metas são transformadas em decisões estratégicas para planos concretos de curto e médio prazo.
 - (B) No âmbito do planejamento tácito, as tarefas e operações são detalhadas com caráter imediatista, de curto prazo e abrangência local.
 - (C) No âmbito do planejamento estratégico, os objetivos devem ser alterados para atender as necessidades da organização conforme forem ocorrendo.
 - (D) No âmbito do planejamento tácito, os dados a respeito do perfil da entidade devem ser levantados para garantir autossuficiência, evitando futuras parcerias.
 - (E) No âmbito do planejamento estratégico, a administração define missão, objetivos e metas, e os meios para atingi-los, num período de tempo determinado.
54. Considerando sua importância no planejamento e a gestão da unidade de informação, é correto afirmar que os estudos de usuário
- (A) têm início na década de 1920 com ênfase no aprimoramento dos serviços das bibliotecas e os primeiros estudos a respeito das necessidades dos usuários.
 - (B) incluem a pesquisa de usuários, que é considerada a forma de estudo de usuários na qual é realizada análise de documentos nas bibliotecas.
 - (C) desconsideram as pesquisas a respeito do impacto da web nas bibliotecas e estudos com abordagem qualitativa.
 - (D) incluem estudos a respeito do comportamento do usuário, a unidade de informação e iniciativas no atendimento das necessidades dos usuários.
 - (E) excluem os estudos a respeito de redes sociais, mobilidade, portabilidade da informação e pesquisas sobre Internet e ferramentas 2.0.

55. De acordo com a norma ABNT NBR 6034 Informação e documentação – Índice – Apresentação,

- (A) “cabeçalho” é a palavra ou símbolo com significado próprio que determina a entrada do índice formado sempre por unitermos.
- (B) “indicativo” é o número(s), da(s) página(s) ou outra(s) indicação(ões) especificada(s), do local onde os itens podem ser localizados no texto.
- (C) “remissiva ver” é a indicação que amplia as opções de consulta, remetendo a cabeçalhos correlatos no índice.
- (D) “sumário” é a relação de palavras ou frases, ordenadas segundo determinado critério, que localiza e remete para as informações contidas em um texto.
- (E) “remissiva ver também” é a indicação que elimina uma forma de cabeçalho, remetendo ao cabeçalho adotado pelo índice.

56. Considere o quadro a respeito da Lei de Acesso à Informação – (LAI) e indique a referência bibliográfica correta, de acordo com a norma da ABNT.

Presidência da República
Casa Civil
Subchefia para Assuntos Jurídicos
LEI Nº 12.527, DE 18 DE NOVEMBRO DE 2011.

Regula o acesso a informações previsto no inciso XXXIII do Art. 5º, no inciso II do § 3º do Art. 37 e no § 2º do Art. 216 da Constituição Federal; altera a Lei nº 8.112, de 11 de dezembro de 1990; revoga a Lei nº 11.111, de 5 de maio de 2005, e dispositivos da Lei nº 8.159, de 8 de janeiro de 1991; e dá outras providências.

Publicado em: Diário Oficial da União, Poder Executivo. Edição Extra, Seção 1.

Local: Brasília.

Data de publicação: 18 de novembro de 2011.

- (A) BRASIL. Lei nº 12.527, de 18 de novembro de 2011. Regula o acesso a informações previsto no inciso XXXIII do Art. 5º, no inciso II do § 3º do Art. 37 e no § 2º do Art. 216 da Constituição Federal; altera a Lei nº 8.112, de 11 de dezembro de 1990; revoga a Lei nº 11.111, de 5 de maio de 2005, e dispositivos da Lei nº 8.159, de 8 de janeiro de 1991; e dá outras providências. **Diário Oficial da União**, Poder Executivo, Brasília, DF, 18 nov. 2011. Edição Extra. Seção 1, p. 5.
- (B) Lei nº 12.527, de 18 de novembro de 2011 (Brasil). Regula o acesso a informações previsto no inciso XXXIII do Art. 5º, no inciso II do § 3º do Art. 37 e no § 2º do Art. 216 da Constituição Federal; altera a Lei nº 8.112, de 11 de dezembro de 1990; revoga a Lei nº 11.111, de 5 de maio de 2005, e dispositivos da Lei nº 8.159, de 8 de janeiro de 1991; e dá outras providências. **Diário Oficial da União, Poder Executivo**, Brasília, DF, 18 nov. 2011. Ed. Extra. Seção 1.

(C) BRASIL (República Federativa). Lei nº 12.527, de 18 de novembro de 2011.

Regula o acesso a informações previsto no inciso XXXIII do Art. 5º, no inciso II do § 3º do Art. 37 e no § 2º do Art. 216 da Constituição Federal; altera a Lei nº 8.112, de 11 de dezembro de 1990; revoga a Lei nº 11.111, de 5 de maio de 2005, e dispositivos da Lei nº 8.159, de 8 de janeiro de 1991; e dá outras providências. **Diário Oficial da União, Poder Executivo**, Brasília, DF, 18 nov. 2011.

(D) BRASIL. Lei nº 12.527, de 2011.

Regula o acesso a informações previsto no inciso XXXIII do Art. 5º, no inciso II do § 3º do Art. 37 e no § 2º do Art. 216 da Constituição Federal; altera a Lei nº 8.112, de 11 de dezembro de 1990; revoga a Lei nº 11.111, de 5 de maio de 2005, e dispositivos da Lei nº 8.159, de 8 de janeiro de 1991; e dá outras providências. **Diário Oficial da União, Poder Executivo**, Brasília, 2011. Edição Extra.

(E) Lei nº 12.527, de 18 de novembro de 2011 (BRASIL).

Regula o acesso a informações previsto no inciso XXXIII do Art. 5º, no inciso II do § 3º do Art. 37 e no § 2º do Art. 216 da Constituição Federal; altera a Lei nº 8.112, de 11 de dezembro de 1990; revoga a Lei nº 11.111, de 5 de maio de 2005, e dispositivos da Lei nº 8.159, de 8 de janeiro de 1991; e dá outras providências. **Diário Oficial da União, Poder Executivo**, Brasília, DF, 18 nov. 2011. Edição Extra. Seção 1, p. 5.

57. Indique a alternativa que apresenta apenas normas de referências bibliográficas:

- (A) NBR6022, Vancouver, ISO 15489, APA Quinta Edição.
- (B) NBR10520, Dublin, ISO 11620, APA Sétima Edição.
- (C) NBR6029, Vancouver, ISO 2789, APA Quarta Edição.
- (D) NBR6022, Dublin, ISO 21127, APA Quinta Edição.
- (E) NBR6023, Vancouver, ISO 690, APA Sexta Edição.

58. Analise as informações do quadro a seguir e assinale a alternativa correta a respeito das regras de apresentação de resumo conforme a norma da ABNT.

D'ANDREA, G. et al. Direito à saúde: uma proposta de conceito para a operacionalização de pesquisas qualitativas. **Revista Direito Sanitário**, São Paulo, v.18, n.1, p. 57-74, mar./jun. 2017.

RESUMO

Desde 1988, o direito à saúde tem sido objeto de estudo de investigações tanto no campo da saúde quanto no do direito sob distintas perspectivas e abordagens. Este trabalho visa a propor um conceito sobre o tema considerando o prisma histórico e sua evolução conceitual para contribuir com a operacionalização das pesquisas qualitativas.

Por meio de consulta à literatura técnica e científica sobre o assunto, a partir de sua regulamentação na Constituição Federal de 1988 até o ano de 2015, utilizou-se o descritor “direito à saúde” e o qualificador “história” para elencar os artigos científicos e identificar as perspectivas estudadas.

Da leitura dos artigos selecionados, emergiram quatro grandes aspectos: sociopolítico, legislativo, bioético e de demandas específicas na área da saúde, que nortearam a discussão e elaboração do conceito de direito à saúde.

Pode-se dizer que a definição de direito à saúde exige contextualização histórica, cultural, política, econômica e social e depende também de sua organização normativa, de sua natureza (individual e coletiva), da responsabilidade moral e do reconhecimento de sua exigibilidade.

Palavras-chave: Direito à Saúde. História. Pesquisa Qualitativa.

- (A) A recomendação sobre o uso de parágrafo que consta da norma foi mantida nesse resumo.
- (B) A extensão do resumo está adequada à recomendada pela norma para o resumo do tipo indicativo.
- (C) A ordem e a extensão dos itens do documento estão apresentadas de forma adequada para resumo de tipo informativo.
- (D) A referência e as palavras-chave não atendem ao que as regras de apresentação sugerem.
- (E) O uso do verbo em relação à voz e pessoa não está de acordo com a recomendação.

59. De acordo com a Lei nº 9.674, de 25 de junho de 1998, a respeito da profissão de Bibliotecário, é correto afirmar que

- (A) o exercício dessa profissão é privativo dos portadores de diploma de Bacharel em Biblioteconomia e de diploma de Gestor da Informação expedido por instituição de ensino superior oficialmente reconhecida, registrada nos órgãos competentes, de acordo com a legislação em vigor.
- (B) as pessoas não portadoras de diploma, que tenham exercido a atividade até 30 de janeiro de 1987, e que já estão devidamente registradas nos quadros dos Conselhos Regionais de Biblioteconomia, estão habilitadas no exercício da profissão.
- (C) o exercício da profissão de Bibliotecário não é permitido aos portadores de diploma de graduação em Biblioteconomia, conferido por instituições estrangeiras de ensino superior, reconhecidas pelas leis do país de origem, mesmo que revalidados no Brasil, por instituição de ensino superior oficialmente reconhecida.
- (D) são equivalentes, para todos os efeitos, os diplomas de Bibliotecário, de Bacharel em Biblioteconomia e de Bacharel em Gestor em Ciência da Informação, expedidos até a data da Lei por escolas oficialmente reconhecidas e registradas nos órgãos competentes.
- (E) o exercício da função de Bibliotecário é privativo dos bibliotecários inscritos nos quadros do Conselho Federal de Biblioteconomia, nos termos da Lei, sendo desnecessária a citação do número de registro no Conselho Regional da respectiva jurisdição, em todos os documentos de responsabilidade profissional.

60. O Código de Ética Profissional, estabelecido por meio da Resolução nº 42 do Conselho Federal de Biblioteconomia, de 11 de janeiro de 2002, prevê

- (A) observar a ciência e a técnica que se sobrepõem ao poder público, à iniciativa privada e à sociedade em geral.
- (B) respeitar leis e normas estabelecidas para o exercício da profissão quando for adequado às demandas existentes.
- (C) contribuir apenas como profissional, para o incessante desenvolvimento da sociedade e dos princípios legais que regem o país.
- (D) dignificar a profissão por meio dos seus atos, tendo em vista a elevação moral, ética e profissional da classe.
- (E) respeitar exclusivamente as atividades de seus colegas, considerando que outros profissionais são regidos por outros códigos de ética.

