

CONCURSO PÚBLICO

**001. PROVA OBJETIVA**

ALMOXARIFE

- ◆ Você recebeu sua folha de respostas e este caderno contendo 50 questões objetivas.
- ◆ Confira seus dados impressos na capa deste caderno e na folha de respostas.
- ◆ Quando for permitido abrir o caderno, verifique se está completo ou se apresenta imperfeições. Caso haja algum problema, informe ao fiscal da sala.
- ◆ Leia cuidadosamente todas as questões e escolha a resposta que você considera correta.
- ◆ Marque, na folha de respostas, com caneta de tinta azul ou preta, a letra correspondente à alternativa que você escolheu.
- ◆ A duração da prova é de 3 horas, já incluído o tempo para o preenchimento da folha de respostas.
- ◆ Só será permitida a saída definitiva da sala e do prédio após transcorridos 75% do tempo de duração da prova.
- ◆ Ao sair, você entregará ao fiscal a folha de respostas e este caderno, podendo levar apenas o rascunho de gabarito, localizado em sua carteira, para futura conferência.
- ◆ Até que você saia do prédio, todas as proibições e orientações continuam válidas.

**AGUARDE A ORDEM DO FISCAL PARA ABRIR ESTE CADERNO DE QUESTÕES.**

Nome do candidato \_\_\_\_\_

RG \_\_\_\_\_ Inscrição \_\_\_\_\_ Prédio \_\_\_\_\_ Sala \_\_\_\_\_ Carteira \_\_\_\_\_



## CONHECIMENTOS GERAIS

### LÍNGUA PORTUGUESA

Leia o texto para responder às questões de números **01** a **04**.

#### *Cidades sustentáveis*

A correta destinação dos resíduos sólidos é condição primordial para uma cidade sustentável. A Política Nacional de Resíduos Sólidos (PNRS), aprovada em agosto de 2010, trouxe importantes instrumentos para que municípios de todo o Brasil iniciassem o enfrentamento aos principais problemas ambientais, sociais e econômicos decorrentes do manejo inadequado dos resíduos sólidos. A PNRS tem como pilar o princípio da responsabilidade compartilhada. Isso significa que indústrias, distribuidores e varejistas, prefeituras e consumidores são todos responsáveis pelos resíduos sólidos, e cada um terá de contribuir para que eles tenham uma disposição final adequada.

Buscar um melhor ordenamento do ambiente urbano primando pela qualidade de vida da população é trabalhar por uma cidade sustentável. Melhorar a mobilidade urbana, a poluição sonora e atmosférica, o descarte de resíduos sólidos, a distribuição energética, a economia de água, entre outros aspectos, contribui para tornar uma cidade sustentável.

(Martim Garcia. [www.mma.gov.br/cidades-sustentaveis](http://www.mma.gov.br/cidades-sustentaveis). Adaptado)

**01.** Para a PNRS, é importante que os habitantes de uma cidade

- (A) exijam das autoridades punições mais severas para as empresas poluidoras.
- (B) dividam responsabilidades no que respeita ao manejo dos resíduos sólidos.
- (C) pesquisem detalhadamente os procedimentos que tornam uma cidade sustentável.
- (D) proponham leis específicas para aprimorar o ordenamento do ambiente urbano.
- (E) recebam auxílio financeiro do governo para colaborar com a preservação ambiental.

**02.** No segundo parágrafo, o autor

- (A) defende que a poluição sonora e a atmosférica devem ser toleradas em cidades sustentáveis.
- (B) contesta a opinião de que a qualidade de vida seja responsabilidade do poder público.
- (C) reforça a ideia de que o setor privado deve custear as obras de melhoria para as cidades.
- (D) menciona iniciativas que favorecem o desenvolvimento de uma cidade sustentável.
- (E) apresenta diferentes estratégias que podem ser usadas no manejo de resíduos sólidos.

**03.** “A correta destinação dos resíduos sólidos é condição primordial para uma cidade sustentável.” (1º parágrafo)

A reescrita dessa frase que está em conformidade com a norma-padrão da língua portuguesa e que preserva o sentido do texto é:

- (A) Uma cidade sustentável requer a correta destinação dos resíduos sólidos.
- (B) A correta destinação dos resíduos sólidos decorrem de uma cidade sustentável.
- (C) Para uma cidade ser sustentável, a correta destinação dos resíduos sólidos se fará necessário.
- (D) Em uma cidade sustentável, é recomendável houver a correta destinação dos resíduos sólidos.
- (E) A correta destinação dos resíduos sólidos seria importante para que se mantesse uma cidade sustentável.

**04.** “Buscar um melhor ordenamento do ambiente urbano primando pela qualidade de vida da população é trabalhar por uma cidade sustentável.” (2º parágrafo)

A forma verbal destacada na frase do texto – **é** – pode ser corretamente substituída, sem prejuízo do sentido e de acordo com a norma-padrão da língua portuguesa, por:

- (A) iguala-se de
- (B) equipara-se à
- (C) identifica-se de
- (D) equivale à
- (E) corresponde a

*A moça e o trem*

O trem de ferro  
passa no campo  
entre telégrafos.  
Sem poder fugir  
sem poder voar  
sem poder sonhar  
sem poder ser telégrafo.

A moça na janela  
vê o trem correr  
ouve o tempo passar.  
O tempo é tanto  
que se pode ouvir  
e ela o escuta passar  
como se outro trem.

Cresce o oculto  
elástico dos gestos:  
a moça na janela  
vê a planta crescer  
sente a terra rodar:  
que o tempo é tanto  
que se deixa ver.

(João Cabral de Melo Neto. *Poesia completa e prosa*. Nova Aguilar, Rio de Janeiro, 2008, p. 48, 49)

**05.** A imagem do trem, no poema, associa-se à

- (A) ingenuidade do tempo de infância.
- (B) falta de infraestrutura no meio rural.
- (C) representação concreta e sensível do tempo.
- (D) dificuldade de comunicação no campo.
- (E) demora da chegada do tempo de colheita.

**06.** Considere os trechos:

- O tempo é tanto / **que** se pode ouvir (2ª estrofe)
- [...] o tempo é tanto / **que** se deixa ver. (3ª estrofe)

Em ambos os trechos, o termo **que** introduz ideia de

- (A) consequência.
- (B) explicação.
- (C) concessão.
- (D) finalidade.
- (E) proporção.

*E se no futuro o trabalho, tal como o entendemos, não fizer parte de nossa vida?*

Ter um trabalho nos proporciona estabilidade, ao mesmo tempo em que nos rouba liberdade na hora de administrar nosso tempo. Essa contradição abre o debate sobre se trabalhar é uma fonte de felicidade ou infelicidade. A instabilidade econômica e a chamada quarta revolução industrial, que substituirá o esforço humano por máquinas, podem nos obrigar a repensar nosso eu profissional. A filósofa, feminista e autora de repercussão internacional, a britânica Nina Power, analisa se, em tempos em que o futuro do trabalho é pouco promissor, deveríamos buscar alternativas.

A felicidade foi devorada pelo capitalismo, Power proclama em seus escritos, nos quais defende que nos fizeram entender a qualidade de vida como um acúmulo de posses materiais que obtemos a partir do trabalho. Por isso, em suas intervenções públicas, ela expõe a possibilidade de ser feliz com novas formas de emprego ou a ausência dele.

“As novas gerações são as que estão menos de acordo com uma existência laboral feita de horários impossíveis e salários miseráveis. O capitalismo nos vendeu que o contrário do trabalho é a vadiagem; mas os mais jovens já não compram essa ideia. **Tampouco** acreditam que devamos nos sentir felizes porque nossas longas jornadas de trabalho nos tornam mais produtivos”, diz Power.

Colaboradora habitual do jornal *The Guardian*, em um de seus artigos para o jornal, Power conta como a Loteria Nacional do Reino Unido acertou na hora de lançar um prêmio em forma de salário anual em vez de outorgar uma grande quantidade em espécie. É um sistema que também funciona na Espanha e que seus criadores explicam como “a forma de se libertar de todas as coisas irritantes do dia a dia”. Surge então a questão sobre se o trabalho é, talvez, não só uma dessas coisas irritantes, mas a maior de todas elas.

Com suas ideias, Power não está nos incentivando a abraçar uma vida ociosa, mas a buscar novas formas de ser autossuficientes no aspecto laboral. Uma das possibilidades que se apresentam para um futuro próximo é que as máquinas ocupem boa parte dos trabalhos que agora os humanos desempenham. “Nesse caso, seria uma oportunidade para prestar mais atenção a profissões próximas do cuidado humano, aquelas das quais a inteligência artificial não se pode encarregar. São trabalhos relacionados com o cuidado de bebês, idosos ou doentes, e que, na atualidade, são os mais mal pagos e os que permanecem mais ocultos em termos de reconhecimento social”, destaca.

(Héctor Llanos Martínez. <https://brasil.elpais.com>, 17.07.2017. Adaptado)

**07.** O vocábulo **Tampouco**, em destaque no terceiro parágrafo, pode ser substituído, sem prejuízo do sentido, por

- (A) Porém.
- (B) Tanto que.
- (C) Também não.
- (D) Portanto.
- (E) No entanto.

08. Na opinião de Nina Power,

- (A) a instabilidade econômica a ser enfrentada nas próximas décadas terá como consequência a ampliação das jornadas de trabalho sem paralelo com o já testemunhado historicamente.
- (B) a obtenção de posses materiais constitui uma justificativa louvável para a dedicação de muitas horas ao exercício de atividades laborais classificadas como entediantes.
- (C) os jovens da atualidade estão afinados com os ideais capitalistas, o que explica a importância que eles costumam atribuir à produtividade, ao lucro e ao consumo.
- (D) as máquinas com inteligência artificial tornarão extintos os postos de trabalho humano, o que levará ao caos econômico em um futuro mais próximo do que se tem imaginado.
- (E) a chamada quarta revolução industrial poderá gerar um novo contexto em que trabalhos atualmente pouco valorizados, como o cuidado de idosos, recebam maior atenção.

09. “Com suas ideias, Power não está nos incentivando a abraçar uma vida **ociosa**...” (5º parágrafo)

Um sinônimo para a palavra **ociosa**, e que a substitui no contexto, é:

- (A) produtiva.
- (B) inativa.
- (C) atarefada.
- (D) tumultuada.
- (E) civilizada.

10. O sentido que se aplica com maior propriedade à palavra destacada em – A felicidade foi **devorada** pelo capitalismo... (2º parágrafo) – é:

- (A) percorrer rapidamente.
- (B) destruir rápida e completamente.
- (C) afligir-se intensamente.
- (D) pôr sistematicamente em evidência.
- (E) digerir com lentidão.

11. No quarto parágrafo, a alusão ao novo sistema de premiação de loterias no Reino Unido e na Espanha reforça a tese de que

- (A) o tempo gasto com o consumo é proporcional ao gasto com o trabalho.
- (B) as pessoas têm trabalhado tradicionalmente para alcançar a realização pessoal.
- (C) a relação do homem com o trabalho não tem a ver com o salário.
- (D) o trabalho está associado à infelicidade na sociedade capitalista.
- (E) os empregos que predominaram até hoje são os mais prazerosos.

12. A preposição **de**, em destaque, foi acrescida respeitando-se a regência padrão da língua portuguesa na seguinte passagem do texto:

- (A) ... nos fizeram **de** entender a qualidade de vida como um acúmulo de posses materiais... (2º parágrafo)
- (B) ... uma existência laboral feita de horários impossíveis e **de** salários miseráveis. (3º parágrafo)
- (C) ... Power não está nos incentivando a abraçar **de** uma vida ociosa, mas a buscar novas formas... (5º parágrafo)
- (D) ... as máquinas ocupem boa parte dos trabalhos **de** que agora os humanos desempenham. (5º parágrafo)
- (E) ... aquelas das quais a inteligência artificial não se pode **de** encarregar. (5º parágrafo)

13. Uma vírgula foi acrescida a um trecho selecionado do texto. Com essa alteração, o trecho em que a pontuação está correta é:

- (A) ... nos quais defende, que nos fizeram entender a qualidade de vida... (2º parágrafo)
- (B) ... um acúmulo de posses materiais, que obtemos a partir do trabalho. (2º parágrafo)
- (C) As novas gerações são, as que estão menos de acordo com uma existência... (3º parágrafo)
- (D) O capitalismo nos vendeu, que o contrário do trabalho é a vadiagem... (3º parágrafo)
- (E) Tampouco acreditam, que devemos nos sentir felizes... (3º parágrafo)

14. Assinale a alternativa cuja frase está escrita segundo a norma-padrão da língua portuguesa.

- (A) Embora nos seja dado a estabilidade, o trabalho nos priva da liberdade na hora de administrar nosso tempo.
- (B) Muitos de nós temos nos perguntado se dedicar muitas horas ao trabalho podem levar à felicidade ou à infelicidade.
- (C) A instabilidade econômica e a chamada quarta revolução industrial fará com que repensemos nosso eu profissional.
- (D) Às pessoas foi vendido a ideia de que a qualidade de vida depende de posses materiais provenientes do trabalho.
- (E) Novas formas de emprego ou mesmo a ausência dele podem representar maneiras alternativas de ser feliz.

15. Há quem considere o trabalho como uma forma de realização pessoal. Mas também é verdade que muitos **veem o trabalho** como fonte de desprazer e, se possível, não hesitariam em **abandonar o trabalho** completamente ou **substituir o trabalho** por tarefas mais instigantes.

Para evitar as repetições da palavra “trabalho”, as expressões destacadas devem ser substituídas, conforme a norma-padrão da língua portuguesa, respectivamente, por:

- (A) lhe veem ... abandonar-lhe... substituir-lhe
- (B) o veem ... lhe abandonar ... lhe substituir
- (C) veem-lhe ... o abandonar ... substituir-lhe
- (D) o veem ... abandoná-lo ... substituí-lo
- (E) o veem ... abandonar-lhe ... o substituir

16. No depósito de uma empresa, há 2520 caixas para serem organizadas. No primeiro dia de serviço, foram organizados  $\frac{2}{9}$  do número total de caixas. No segundo dia, foram organizados  $\frac{1}{4}$  das caixas restantes. Ao final do segundo dia, a razão do número de caixas não organizadas para o número de caixas organizadas era

- (A)  $\frac{8}{7}$
- (B)  $\frac{7}{6}$
- (C)  $\frac{9}{7}$
- (D)  $\frac{7}{5}$
- (E)  $\frac{8}{5}$

17. Em uma caixa, há menos de 200 fichas que precisam ser colocadas em pastas, de modo que cada pasta contenha o mesmo número de fichas. Ao realizar a tarefa, percebeu-se que era possível colocar em cada pasta ou 8, ou 12 ou 14 fichas e que em qualquer uma dessas opções não restaria ficha alguma na caixa. O número de fichas que há nessa caixa é

- (A) 152.
- (B) 160.
- (C) 168.
- (D) 174.
- (E) 180.

18. Um supermercado vende latas de um mesmo refrigerante nas versões light e tradicional. Após um mês, percebeu-se que a razão entre o número de latas vendidas da versão tradicional e o número de latas vendidas da versão light foi  $\frac{2}{7}$ . Se nesse mês o número de latas vendidas desse refrigerante, nas duas versões juntas, foi 5040, então, o número de latas vendidas da versão light superou o número de latas vendidas da versão tradicional em

- (A) 2800.
- (B) 2850.
- (C) 2900.
- (D) 2950.
- (E) 3000.

19. No início de uma palestra, no auditório de uma empresa, estavam presentes 300 funcionários, dos quais 60% eram mulheres. Por motivos profissionais, pouco antes do término da palestra, 20% das mulheres e 35% dos homens tiveram que sair. Sabendo que nenhum funcionário chegou após o início da palestra, é correto afirmar que, em relação ao número inicial de funcionários presentes, aqueles que tiveram que sair antes do término da palestra representavam

- (A) 50%
- (B) 42%
- (C) 38%
- (D) 30%
- (E) 26%

20. Determinada quantidade de suco será servida em copos. Se forem colocados 300 mL em cada copo, serão servidos  $n$  copos, e todo o suco será servido; mas se forem colocados 250 mL em cada copo, será possível servir 4 copos a mais e todo o suco também será servido. A quantidade de suco, em litros, a ser servida é

- (A) 6,5.
- (B) 6,0.
- (C) 5,5.
- (D) 5,0.
- (E) 4,5.

21. A tabela mostra a quantidade de itens comprados por uma pessoa em uma papelaria e o seu respectivo valor unitário.

	QUANTIDADE	VALOR UNITÁRIO
FITA ADESIVA	8	R\$ 3,00
CANETAS	12	R\$ 4,00
LÁPIS	20	?
PASTAS	10	R\$ 2,60

Considerando-se o número total de itens comprados, na média, o preço de um item saiu por R\$ 2,40. O valor de um lápis é

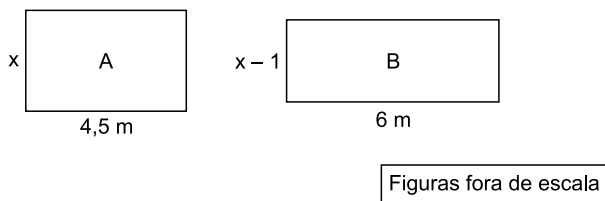
- (A) R\$ 0,90.
- (B) R\$ 1,00.
- (C) R\$ 1,10.
- (D) R\$ 1,20.
- (E) R\$ 1,30.

- 22.** Um capital aplicado a juro simples, com taxa de 10,2% ao ano, durante 4 meses, rendeu um juro de R\$ 68,00. O valor do capital aplicado era
- (A) R\$ 2.000,00.
  - (B) R\$ 2.100,00.
  - (C) R\$ 2.200,00.
  - (D) R\$ 2.300,00.
  - (E) R\$ 2.400,00.
- 23.** No estoque de uma loja, há um lote de camisetas que será dividido em caixas, cada uma delas com o mesmo número de camisetas. Se forem colocadas 15 camisetas em cada caixa, 3 camisetas do lote ficarão de fora, mas colocando 18 camisetas em cada caixa, serão utilizadas 2 caixas a menos e nenhuma camiseta do lote ficará de fora. O número de camisetas desse lote é
- (A) 178.
  - (B) 184.
  - (C) 192.
  - (D) 198.
  - (E) 206.
- 24.** A soma das idades de André, Bruno e Caio é 75 anos, e a soma das idades de André e Bruno é o dobro da idade de Caio. Sabendo que Bruno tem 6 anos a mais que André, a idade, em anos, do mais velho é
- (A) 30.
  - (B) 28.
  - (C) 26.
  - (D) 24.
  - (E) 22.
- 25.** Uma loja organizou 512 pacotes de papel sulfite em pilhas, todas com o mesmo número de pacotes, de modo que o número de pacotes de uma pilha fosse o dobro do número de pilhas. O número de pacotes de uma pilha é
- (A) 24.
  - (B) 26.
  - (C) 28.
  - (D) 30.
  - (E) 32.



26. A razão entre a largura e o comprimento do tampo retangular de uma mesa é  $\frac{3}{7}$ . Sabendo que o comprimento desse tampo é 1,40 m, sua área, em metros quadrados, é
- (A) 0,70.  
(B) 0,78.  
(C) 0,84.  
(D) 0,92.  
(E) 0,99.

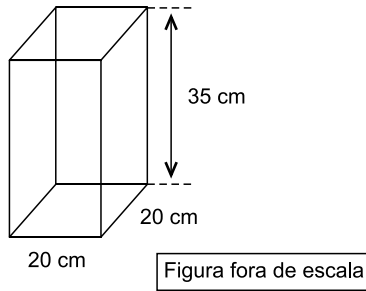
27. Em um escritório, há duas salas retangulares, A e B, cujas medidas, em metros, estão indicadas na figura.



Sabendo que as duas salas têm áreas iguais, a soma dos perímetros das duas salas, em metros, é

- (A) 35,0.  
(B) 35,5.  
(C) 36,0.  
(D) 36,5.  
(E) 37,0.
28. Em uma papelaria, há uma caixa com 32 borrachas verdes e 60 borrachas brancas. Essas borrachas serão separadas em pacotinhos, cada um deles com o mesmo número de borrachas e na maior quantidade possível. Sabendo que cada pacotinho terá borrachas de uma só cor, o número máximo de pacotinhos que poderão ser feitos será
- (A) 9.  
(B) 12.  
(C) 17.  
(D) 20.  
(E) 23.

29. Um recipiente que possui o formato de um bloco retangular, com as seguintes medidas internas: 20 cm de comprimento, 20 cm de largura e 35 cm de altura, está completamente cheio de água, conforme mostra a figura.



Sabendo que  $1 \text{ cm}^3 = 1 \text{ mL}$ , então, após serem retirados 2 litros de água desse recipiente, a altura da água restante dentro dele será de

- (A) 32 cm.  
(B) 30 cm.  
(C) 28 cm.  
(D) 26 cm.  
(E) 24 cm.
30. Um vendedor de uma empresa recebeu R\$ 8.000,00, que corresponde ao seu salário bruto mais 2% de comissão sobre o valor de uma venda realizada. Sabendo que seu salário bruto é  $\frac{1}{30}$  do valor da venda realizada por ele, o valor da comissão recebida foi
- (A) R\$ 4.500,00.  
(B) R\$ 4.000,00.  
(C) R\$ 3.500,00.  
(D) R\$ 3.000,00.  
(E) R\$ 2.500,00.

## ATUALIDADES

**31.** O premiê do Iraque, Haider al-Abadi, proclamou, neste domingo (9 de julho), a vitória das suas Forças Armadas em Mossul, a segunda maior cidade iraquiana. Comunicado do gabinete do primeiro-ministro informou que premiê “chegou à cidade libertada e felicitou os combatentes heroicos e o povo iraquiano pela importante vitória”.

(F.S.P. – goo.gl/T3hMs2. Adaptado. Acesso em 15 jul. 2017)

A vitória iraquiana foi muito comemorada porque, em Mossul,

- (A) o maior grupo do Estado Islâmico foi derrotado.
- (B) a base norte-americana foi bombardeada.
- (C) os soldados aliados ao governo sírio foram derrotados.
- (D) as tropas de mercenários turcos foram expulsas.
- (E) os rebeldes talibãs foram dominados e presos.

**32.** Com seu míssil balístico intercontinental, lançado em 04 de julho, o país aposta em aumentar seu poder de barganha frente a eventuais negociações com os Estados Unidos, afirmam analistas, ainda que, ao mesmo tempo, esse movimento afaste a possibilidade de um diálogo.

(Carta Capital – goo.gl/M1dsu4. Adaptado. Acesso em 14 jul. 2017)

O míssil foi lançado

- (A) pelo Afeganistão.
- (B) pela Coreia do Norte.
- (C) pelo Irã.
- (D) pela Turquia.
- (E) pelo Paquistão.

**33.** Em 12 de abril, reuniu-se o Comitê de Política Monetária (Copom), órgão do Banco Central. A decisão era esperada pelos analistas financeiros e tem forte influência sobre a economia brasileira.

(Agência Brasil – goo.gl/zxFAvD. Adaptado. Acesso em 10 jul. 2017)

O Banco Central decidiu

- (A) reduzir a taxa de juros básicos da economia.
- (B) incentivar as exportações de produtos agrícolas.
- (C) diminuir os impostos sobre o uso do cartão de crédito.
- (D) impedir a venda de poços de petróleo do pré-sal aos norte-americanos.
- (E) retirar os impostos sobre os rendimentos da caderneta de poupança.

**34.** Aprovada no dia 11 de julho pelo Senado Federal, a reforma trabalhista promove mudanças em diversos pontos da antiga lei trabalhista.

(Época Negócios – goo.gl/aGvwr4. Adaptado. Acesso em 16 jul. 2017)

Entre as mudanças previstas na lei trabalhista, é correto citar a

- (A) suspensão do trabalho terceirizado sem direito ao 13º salário.
- (B) proibição de o trabalhador dividir período de férias.
- (C) proibição de grávidas trabalharem em ambiente insalubre.
- (D) valorização da contribuição sindical que deixa de ser facultativa.
- (E) jornada de trabalho, que pode se estender até 12 horas diárias.

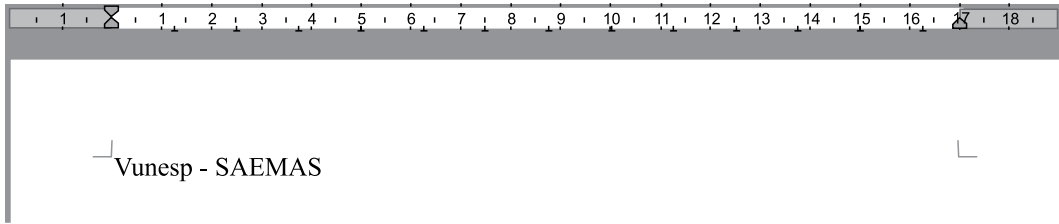
**35.** O ministro Roberto Freire entregou o cargo nesta quinta-feira, 18 de maio, após as denúncias contra o presidente. Seu substituto, ministro interino, também pediu demissão e até meados de julho ainda não havia ministro nomeado.

(F.S.P. – goo.gl/R6kNt3. Adaptado. Acesso em 17 jul. 2017)

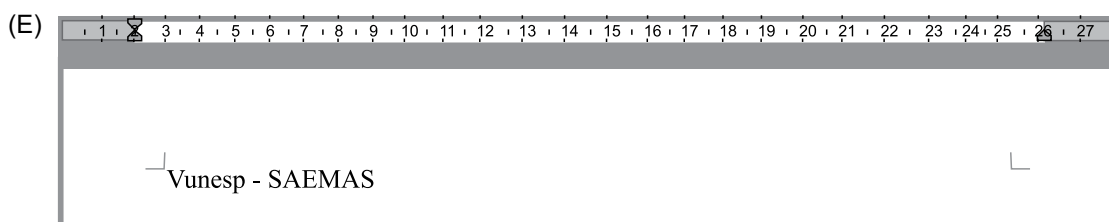
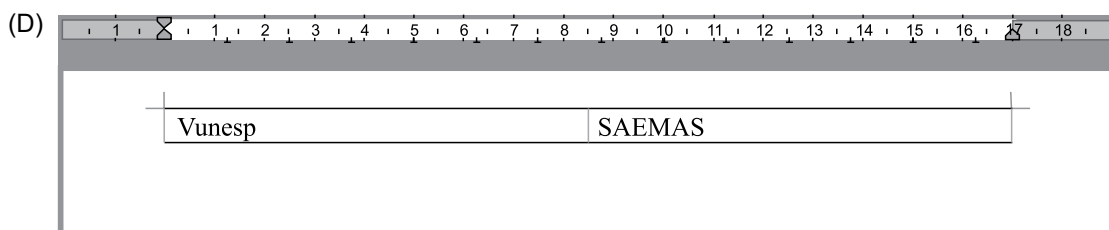
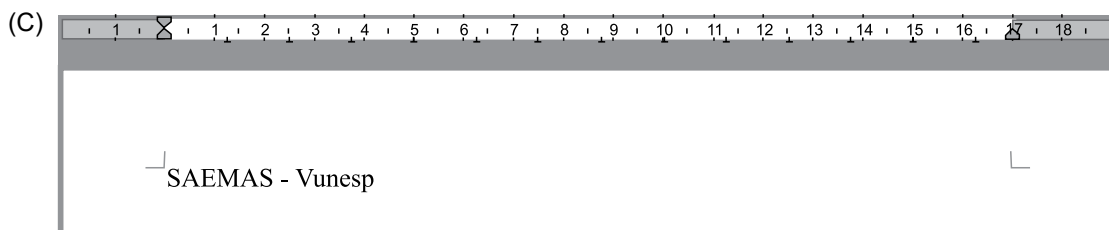
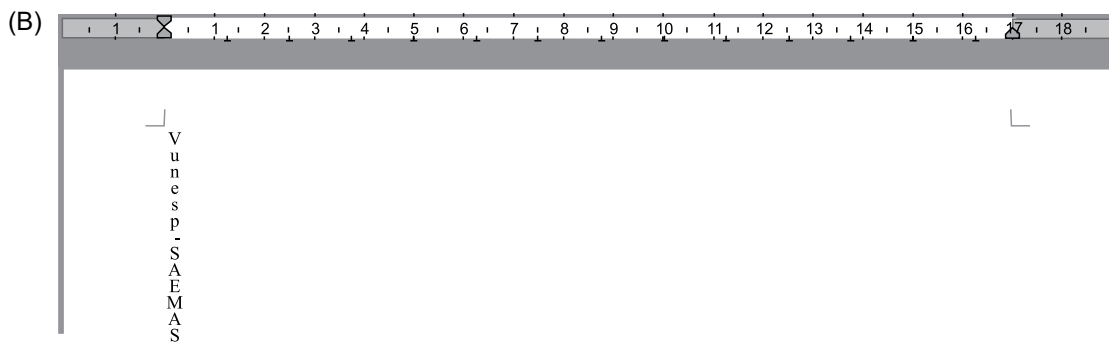
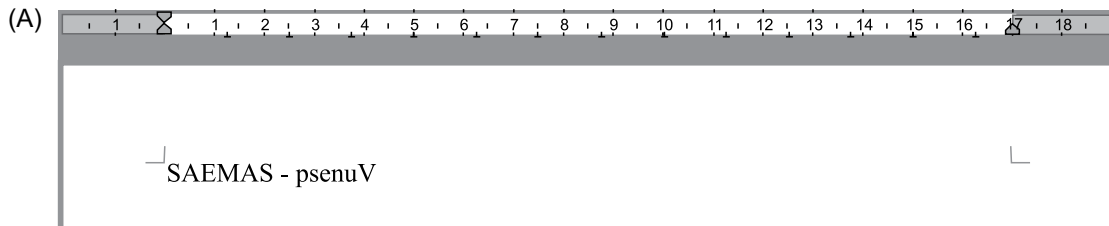
Trata-se do ministério

- (A) do Meio Ambiente.
- (B) do Trabalho.
- (C) da Saúde.
- (D) da Cultura.
- (E) das Minas e Energia.

36. Tem-se o seguinte documento, criado no Libre Office Writer 5.2.7.2, em sua configuração padrão.



Assinale a alternativa que, ao alterar a orientação da página de retrato para paisagem, contém a resposta correta.



37. Em um computador com Microsoft Windows 7, em sua configuração original, a pasta C:\DADOS contém o arquivo arquivo1.docx, e a pasta C:\CONTROLE contém o arquivo arquivo1.txt.

Um usuário abriu a pasta C:\CONTROLE, selecionou o arquivo arquivo1.txt e pressionou as teclas CTRL+C. Em seguida, abriu a pasta C:\DADOS e pressionou as teclas CTRL+V.

Assinale a alternativa correta.

- (A) O arquivo arquivo1.txt não foi copiado para a pasta C:\DADOS porque tem o mesmo nome do arquivo arquivo1.docx.
- (B) O arquivo arquivo1.txt foi copiado para a pasta C:\DADOS, porém seu nome foi automaticamente alterado para arquivo1(1).txt, porque já existia outro arquivo com o mesmo nome na pasta de destino.
- (C) O arquivo arquivo1.txt foi copiado para a pasta C:\DADOS, e o arquivo arquivo1.docx foi apagado automaticamente.
- (D) O arquivo arquivo1.txt foi copiado para a pasta C:\DADOS, e o arquivo arquivo1.docx foi movido automaticamente para a pasta C:\CONTROLE.
- (E) O arquivo arquivo1.txt foi copiado para a pasta C:\DADOS, que agora contém 2 arquivos: arquivo1.docx e arquivo1.txt.

38. Usando o Libre Office Calc 5.2.7.2, em sua configuração original, a célula C3 contém o valor 4.

Assinale a alternativa que apresenta o resultado correto a ser exibido na célula C5, quando for aplicada a fórmula =SE(C3<5;"MENOR DO QUE 5";SE(C3>3;"MAIOR DO QUE 3";SE(C3=4;"IGUAL A 4";"OUTRO")))

- (A) MENOR DO QUE 5
- (B) IGUAL A 4
- (C) MAIOR DO QUE 3
- (D) OUTRO
- (E) #ERRO

39. "Define o efeito especial que será executado quando um slide for exibido durante uma apresentação de slides." A afirmação sobre o Libre Office Impress 5.2.7.2 refere-se ao recurso

- (A) Animação de uma AutoForma.
- (B) Transição de slides.
- (C) Slide mestre.
- (D) Navegador.
- (E) Galeria.

40. Em um programa de correio eletrônico, o usuário Paulo preparou e enviou uma mensagem com as seguintes características:

De: Paulo

Para: João, Maria, Lúcia

Cc: Ricardo, Viviane

João respondeu a mensagem original usando a opção *Responder para todos*.

Viviane respondeu a partir da mensagem de João, usando a opção *Responder para todos*.

Maria respondeu a partir da mensagem de Viviane, usando a opção *Responder para todos*.

Lúcia respondeu a partir da mensagem de Maria, usando a opção *Responder*.

Maria respondeu a partir da mensagem de Lúcia, usando a opção *Responder para todos*.

Assinale a alternativa que indica quantas mensagens Ricardo recebeu, sem considerar a mensagem inicial de Paulo.

- (A) 1 mensagem, apenas.
- (B) 2 mensagens, apenas.
- (C) 3 mensagens, apenas.
- (D) 4 mensagens, apenas.
- (E) 5 mensagens.

## CONHECIMENTOS ESPECÍFICOS

41. As principais atribuições do almoxarifado são:

- (A) verificar as incertezas quanto a entradas e saídas de insumos e confecção de produtos acabados.
- (B) gerenciar e acompanhar o planejamento das necessidades de produção.
- (C) receber para guarda e proteção os materiais, entregar mercadorias mediante requisição de materiais e manter atualizados os registros.
- (D) acompanhar a linha de produção até a entrega dos pedidos aos clientes.
- (E) receber todas as mercadorias da linha de produção e verificar se o planejamento estratégico e o orçamento da empresa estão sendo cumpridos.

42. O registro eletrônico de controle de estoque mostra 5 unidades de determinado item, quando, na verdade, o estoque físico está a zero. Isso pode causar

- (A) erro nos métodos de armazenamento, estocagem e distribuição de materiais.
- (B) discordância entre planejamento geral e dimensionamento do estoque.
- (C) diferença na classificação ABC dos itens em estoque e pedidos a serem entregues.
- (D) parada da linha de produção e entrega dos futuros pedidos.
- (E) impossibilidade de entregar produtos e serviços para exportação.

43. Assinale a alternativa que completa corretamente a frase.

A \_\_\_\_\_ de materiais significa ordená-los segundo critérios adotados, separando-os de acordo com a semelhança, sem, contudo, causar confusão ou dispersão no espaço e alteração da qualidade.

- (A) codificação
- (B) simplificação
- (C) especificação
- (D) catalogação
- (E) classificação

44. Dentre as alternativas a seguir, assinale a que diz respeito a um dispositivo usado para a unitização de cargas para transporte e armazenamento.

- (A) Guindaste.
- (B) Palete.
- (C) Esteira de correia.
- (D) Fresa mecânica.
- (E) Rolete.

45. Na organização do arranjo físico do depósito, algumas demarcações específicas com sinalização horizontal têm o propósito de facilitar o trânsito de pessoas e materiais, bem como proporcionar maior segurança. Dentre as alternativas a seguir, assinale a que apresenta áreas que mereçam essa demarcação.

- (A) Acesso a equipamentos de combate a incêndios.
- (B) Recepção e expedição.
- (C) Mesanino e corredores.
- (D) Desníveis de piso.
- (E) Área para armazenagem e estocagem.

46. Periodicamente a empresa deve efetuar o inventário de materiais, objetivando

- (A) achar possíveis erros de lançamentos entre o depósito e o apontamento da produção.
- (B) identificar possíveis diferenças entre o orçamento geral e o depósito.
- (C) verificar se todos os pedidos feitos pelos clientes foram atendidos.
- (D) atender a legislação vigente, os diretores e superiores imediatos.
- (E) procurar possíveis erros entre o estoque físico e os registros no sistema de controle de estoque.

47. Considerando-se a organização do arranjo físico do depósito, deve-se dar preferência de disposição nas imediações de entrada e/ou saída para os materiais

- (A) de grande peso, grande volume e maior giro.
- (B) de menor giro, menor peso e menor volume.
- (C) de maior valor econômico.
- (D) perecíveis ou delicados.
- (E) importados, de cores escuras e estampadas.

- 48.** A escolha do sistema de estocagem de materiais depende dos seguintes fatores:
- (A) escolha da carga unitária, tipos de cargas, prateleiras e uso de solo.
  - (B) administração dos espaços, dos containers flexíveis e velocidade da circulação de mercadorias.
  - (C) dimensionamento e do planejamento dos estoques e controles internos.
  - (D) espaço disponível, tipos de materiais, número de itens e velocidade de atendimento, tipo de embalagem.
  - (E) gerenciamento das compras e entregas dos fornecedores, do número de funcionários para carregar e descarregar carretas e caminhões.
- 49.** Ao receber mercadorias, o almoxarife deverá ter em mãos o seguinte documento:
- (A) nota de empenho.
  - (B) conhecimento de transporte.
  - (C) nota fiscal.
  - (D) pedido de venda.
  - (E) autorização do chefe.
- 50.** O arranjo físico tem o objetivo de integrar
- (A) clientes, fornecedores e tesouraria.
  - (B) máquinas, pessoas e materias.
  - (C) planejamento, estoque e compras.
  - (D) produção, serviços e expedição.
  - (E) depósito, almoxarifado e financeiro.

