



PREFEITURA MUNICIPAL DO CABO DE SANTO AGOSTINHO

CONCURSO PÚBLICO – EDITAL Nº 01/2019

**MÉDICO GINECO – OBSTETRA –
DIARISTA E PLANTONISTA**

NOME DO CANDIDATO

ASSINATURA DO CANDIDATO

RG DO CANDIDATO

LEIA COM ATENÇÃO AS INSTRUÇÕES ABAIXO

INSTRUÇÕES GERAIS

- I. Nesta prova, você encontrará **07 (sete) páginas** numeradas sequencialmente, contendo **40 (quarenta) questões** objetivas correspondentes às seguintes disciplinas: **Língua Portuguesa 10 (dez) questões, Raciocínio Lógico 10 (dez) questões e Conhecimentos Específicos 20 (vinte) questões.**
- II. Verifique se seu nome e número de inscrição estão corretos no cartão de respostas. Se houver erro, notifique o fiscal.
- III. Verifique se o caderno de provas se refere ao cargo para o qual você se inscreveu. Caso o cargo esteja divergente, solicite ao fiscal de sala para que tome as providências cabíveis, pois não serão aceitas reclamações posteriores nesse sentido.
- IV. Assine e preencha o cartão de respostas nos locais indicados, com caneta azul ou preta.
- V. Verifique se a impressão, a paginação e a numeração das questões estão corretas. Caso observe qualquer erro, notifique o fiscal.
- VI. Marque o cartão de respostas cobrindo fortemente o espaço correspondente à letra a ser assinalada, conforme o exemplo no próprio cartão de respostas.
- VII. O sistema de leitura e processamento das folhas de resposta não registrará a resposta em que houver falta de nitidez na marcação e/ou marcação de mais de uma alternativa.
- VIII. O cartão de respostas não pode ser dobrado, amassado, rasurado ou manchado. Exceto sua assinatura, nada deve ser escrito ou registrado fora dos locais destinados às respostas.
- IX. Ao terminar a prova, entregue ao fiscal o cartão de respostas e este caderno. As observações ou marcações registradas no caderno não serão levadas em consideração.
- X. **Você dispõe de 03 (três) horas para fazer esta prova. Reserve os 20 (vinte) minutos finais para marcar o cartão de respostas.**
- XI. O candidato só poderá retirar-se do setor de prova **02 (duas) horas após seu início.**
- XII. É terminantemente proibido o uso de telefone celular, e demais aparelhos eletrônicos.

Boa Prova!



GABARITO DO CANDIDATO - RASCUNHO



NOME:

ASSINATURA DO CANDIDATO:

INSCRIÇÃO:

1	2	3	4	5	6	7	8	9	10	11	12	13	14	15	16	17	18	19	20
21	22	23	24	25	26	27	28	29	30	31	32	33	34	35	36	37	38	39	40

RASCUNHO

LÍNGUA PORTUGUESA

Leia o texto abaixo para responder às questões de 1 a 8.

Tomar decisões nem sempre é algo fácil. Tomar boas decisões, então, pode ser ainda mais difícil. Mas, chegar lá não tem muito segredo: ponderar sobre as diversas possibilidades e ter um senso crítico são caminhos que costumam fazer tudo dar certo. Ainda que isso, vez ou outra, envolva ir de encontro com suas próprias opiniões.

Agora, imagine você ter uma autoconfiança muito grande e simplesmente não considerar nada disso? Pois é, cientistas da Universidade de Waterloo, no Canadá, constataram que é exatamente o que acontece com pessoas narcisistas.

A origem da palavra “narcisismo” deriva da história de Narciso, o belo jovem da mitologia grega que – *spoiler* – morre por se apaixonar por sua própria imagem refletida num espelho d’água. Além da crítica óbvia ao culto exagerado à própria imagem, o mito também chama atenção para o individualismo e a autoconfiança. Narcisistas geralmente possuem essas características, o que acaba fazendo com que eles realmente achem que não precisam de nada além de seu próprio ponto de vista para tomar uma decisão acertada.

Pessoas narcisistas não costumam fazer isso por mal: elas têm uma convicção clara de que já nasceram pensadores críticos altamente inteligentes – e, por isso, não precisam colocar nada na balança. O problema é que os altos níveis de confiança que eles têm em suas habilidades intelectuais vira e mexe estão equivocados.

(Fonte: Superinteressante)

1) De acordo com o sentido do primeiro parágrafo do texto, assinale a alternativa correta.

- Se já é difícil tomar decisões, tomar decisões difíceis nunca é uma tarefa fácil.
- Seguir a intuição, procurando seguir sempre as próprias opiniões, é um caminho seguro para se tomar uma boa decisão.
- Considerar as várias possibilidades com criticidade garante o êxito de um empreendimento.
- Abandonar certas opiniões, quando contrárias à análise crítica, pode resultar em uma boa decisão.

2) A partir da leitura e interpretação do texto, assinale a alternativa correta.

- Por ser um texto jornalístico, cuja função é expositiva, o texto não utiliza sequências explicativas na sua composição.
- Os cientistas da universidade canadense de Waterloo tornaram-se especialistas nas histórias que se relacionam ao mito grego de Narciso.
- A palavra “narcisismo” transformou-se em um conceito utilizado para pensar a sociedade, sendo utilizado em outras áreas do conhecimento, além da mitologia.
- A autoconfiança dos narcisistas oculta um complexo de inferioridade, que eles tentam esconder apresentando-se como pessoas de intelecto acima da média.

3) De acordo com o texto, analise as afirmativas abaixo.

- A palavra “spoiler”, utilizada no terceiro parágrafo, tem função de prevenir o leitor de que o desfecho da narrativa será revelado, no caso, da narrativa mítica.
- Os narcisistas tendem a se achar autossuficientes, devido ao seu individualismo exagerado e à falta de confiança nas pessoas.
- Apesar de serem inteligentes, os narcisistas, tendem a supervalorizar essa qualidade, o que pode, vez ou outra, levá-los ao erro.

Assinale a alternativa correta.

- Apenas a afirmativa I está correta.
- Apenas as afirmativas I e III estão corretas.
- Apenas as afirmativas II e III estão corretas.
- Apenas a afirmativa III está correta.

4) Leia com atenção a reescrita do trecho e assinale a alternativa que preencha, correta e respectivamente as lacunas.

“_____ crítica óbvia _____ exaltação exagerada da própria imagem, acrescenta-se que o mito chama atenção para _____ autoconfiança, além de fazer referência ao individualismo do narcisista.”

- à/ à/ a
- há/ à/ à
- a/ a/ à
- à/ a/ a

5) De acordo com o texto e com a Gramática Normativa da Língua Portuguesa, analise as afirmativas abaixo e dê valores Verdadeiro (V) ou Falso (F).

- No trecho “Ainda que **isso**, vez ou outra”, a palavra destacada tem função anafórica, já que faz referência a uma ideia já enunciada no texto, retomando-a.
- No trecho “Narcisistas geralmente possuem **essas** características”, a palavra destacada tem função catafórica, já que faz referência a uma expressão ainda não enunciada no texto, antecipando-a.
- No trecho “além de **seu** próprio ponto de vista”, a palavra destacada é, morfologicamente, classificada como um pronome demonstrativo.
- No trecho “O problema é **que** os altos níveis de confiança”, a palavra destacada é classificada, morfologicamente, como um pronome relativo.

Assinale a alternativa que apresenta a sequência correta de cima para baixo.

- V, F, F, F.
- F, V, F, V.
- F, F, V, V.
- V, V, F, F.

6) Leia atentamente os trechos reescritos abaixo e, de acordo com as regras de pontuação previstas na Gramática Normativa da Língua Portuguesa, assinale a alternativa incorreta.

- Deriva da história de Narciso, o belo jovem da mitologia grega, a origem da palavra “narcisismo”.
- É do belo jovem da mitologia grega, Narciso, que se origina a palavra “narcisismo”.
- Narciso, o belo jovem da mitologia grega, é quem inspira a origem da palavra “narcisismo”.
- A origem da palavra “narcisismo”, é inspirada em Narciso, o belo jovem da mitologia grega.

7) De acordo as regras de acentuação da Gramática Normativa da Língua Portuguesa, assinale a alternativa incorreta.

- A palavra “fácil” recebe acento gráfico segundo a mesma regra gramatical da palavra “portátil”.
- A palavra “lá” recebe acento gráfico segundo a mesma regra gramatical da palavra “pá”.
- A palavra “você” recebe acento gráfico segundo a mesma regra gramatical da palavra “caratê”.
- A palavra “é” recebe acento gráfico segundo a mesma regra gramatical da palavra “até”.

8) No trecho “O problema é que os altos níveis de confiança que eles têm em suas habilidades intelectuais vira e mexe estão equivocados.”, se a expressão grifada fosse substituída pela palavra “nível”, algumas alterações deveriam ser realizadas na frase para que ela permanecesse de acordo com o sentido geral do texto e com a Gramática Normativa da Língua Portuguesa, Sendo assim, assinale a alternativa correta.

- O problema é que o alto nível de confiança que eles tem em suas habilidades intelectuais vira e mexe está equivocado.
- O problema é que o alto nível de confiança que eles têm em suas habilidades intelectuais vira e mexe estão equivocados.
- O problema é que o alto nível de confiança que eles têm em suas habilidades intelectuais vira e mexe está equivocado.
- O problema é que o alto nível de confiança que ele têm em sua habilidade intelectual vira e mexe está equivocado.

Leia a tira abaixo para responder às questões de 9 a 11.



9) De acordo com a tira e com a Gramática Normativa da Língua Portuguesa, analise as afirmativas abaixo.

- As reticências na fala da personagem no 1º quadrinho refletem o desânimo da personagem.
- A fala “A gente não aprende tudo na vida?” é uma pergunta retórica, pois a intenção da personagem não é obter uma resposta mas, sim, utilizar a própria pergunta como estratégia de desenvolvimento das suas ideias.
- A fala de Mafalda no último quadrinho surpreende pela crítica ao sistema escola e pela tristeza das festas de formatura, que são comparadas a velórios.

Assinale a alternativa correta.

- Apenas a afirmativa I está correta.
- Apenas as afirmativas I e II estão corretas.
- Apenas as afirmativas II e III estão corretas.
- Apenas a afirmativa III está correta.

10) Leia com atenção a tira e o trecho a seguir e, depois, de acordo com Gramática Normativa da Língua Portuguesa, assinale a alternativa que preencha, correta e respectivamente, as suas lacunas.

“A tira acima relaciona às questões pedagógicas _____ questões existenciais _____ problemas são levantados por duas crianças.”

- às / cujos
- as / cujo os
- as / cujos
- às / cujo os

RACIOCÍNIO LÓGICO

11) Considere as duas sentenças abaixo.

A: Jorge Amado é baiano (X) Guimarães Rosa é mineiro.

B: Jorge Amado não é baiano ou Guimarães Rosa não é mineiro.

Assinale a alternativa que contenha o conectivo lógico faltante (X) na sentença A, de modo que sua negação esteja corretamente expressa pela sentença B.

- a) OU
- b) E
- c) Quando
- d) SE

12) Considere o seguinte quadro de referência de símbolos.

SÍMBOLO	CONECTIVO
~	negação
^	e
v	ou

Dada a frase $p \wedge q$ abaixo, selecione a alternativa que expresse corretamente a sentença: $\sim p \vee \sim q$

“O dia se renova todo dia e eu envelheço cada dia, cada mês”.

- a) O dia não se renova todo dia e eu não envelheço cada dia, cada mês
- b) O dia não se renova todo dia e eu envelheço cada dia, cada mês
- c) O dia não se renova todo dia ou eu não envelheço cada dia, cada mês
- d) O dia se renova todo dia ou eu envelheço cada dia, cada mês

13) Analise a proposição composta abaixo.

“Ou eu me caso ou eu compro uma bicicleta”.

Assinale a alternativa que contém a correta negação dessa proposição.

- a) Eu não me caso se e somente se eu não compro uma bicicleta
- b) Ou eu não me caso ou eu não compro uma bicicleta
- c) Ou eu me caso ou eu não compro uma bicicleta
- d) Eu me caso se e somente se eu compro uma bicicleta

14) Leia a proposição composta abaixo.

“Se há disseminação de informações falsas durante as campanhas eleitorais então há influência no resultado apurado”.

Assinale a alternativa que contém a correta negação dessa proposição.

- a) Não há disseminação de informações falsas durante as campanhas eleitorais ou há influência no resultado apurado
- b) Há disseminação de informações falsas durante as campanhas eleitorais e não há influência no resultado apurado
- c) Se não há disseminação de informações falsas durante as campanhas eleitorais então não há influência no resultado apurado
- d) Há disseminação de informações falsas durante as campanhas eleitorais ou não há influência no resultado apurado

15) O excerto abaixo é uma célebre anedota sobre dois dos grandes filósofos do século XX ligados à lógica, Ludwig Wittgenstein e seu orientador Bertrand Russell.

“Ele, Wittgenstein, considera que nada empírico é conhecível”. Russell se incomodou que o austríaco se recusava a admitir, por exemplo, que não havia rinocerontes na sala de aula, mesmo depois que Russell tinha checado debaixo de todas as mesas e cadeiras.

(Fonte: The independent)

A crítica de Wittgenstein a respeito da verificação da existência de rinocerontes na sala de aula pode ser interpretada com o argumento:

“Se não vejo rinocerontes, então eles não estão aqui. Eu *havia* olhado sob aquela e não vi rinocerontes. Eu *olhei* sob essa mesa e não vi rinocerontes. Portanto, não *há* rinocerontes sob as mesas”.

Sobre a classificação lógica deste argumento, assinale a alternativa correta.

- a) dedução
- b) falácia
- c) paradoxo
- d) indução

16) Uma pessoa cria uma regra de criptografia, cuja lógica envolvida no embaralhamento pode ser vista sequencialmente abaixo sobre a palavra LOGICA

original	L	O	G	I	C	A
passo 1	A	C	I	G	O	L
passo 2	C	A	G	I	L	O
resultado	I	L	O	C	A	G

Essa regra pode ser realizada sobre qualquer sequência de seis símbolos, inclusive números. Considere a sequência numérica 311582 que é resultado da aplicação da regra de criptografia acima. Assinale a alternativa correta que apresenta a sequência numérica original que produziu este resultado.

- a) 181235
- b) 531821
- c) 112358
- d) 231518

CONHECIMENTOS ESPECIFICOS

17) Uma pessoa estima em 60% a chance de seu time ganhar o próximo jogo. E para o jogo seguinte considera 30% a chance de ganhar e 20% a chance de empatar. Quanto à probabilidade de nesses dois jogos ocorrer, respectivamente, as combinações vitória e vitória, vitória e empate, vitória e derrota, assinale a alternativa correta.

- a) 18%, 12%, 30%
- b) 90%, 80%, indefinido
- c) 50%, 30%, 20%
- d) 18%, 12%, 70%

18) A tautologia é uma sentença cuja tabela verdade resulta apenas em valores-lógicos verdadeiros. A esse respeito, assinale a alternativa correta que apresenta uma tautologia.

- a) Se eu estou certo, então você está errado
- b) Eu estou certo ou eu estou errado
- c) Eu estou certo e errado
- d) Ou eu estou certo, ou eu estou certo

19) Considere as proposições abaixo.

P: João teve ciúme de Maria
 Q: Maria estava apenas conversando
 R: João pediu divórcio

Considere a construção da proposição composta: “Se P e Q, então não-R” ($P \wedge Q \rightarrow \sim R$). De acordo com a lógica proposicional, assinale a alternativa que apresenta a negação correta desta construção de acordo com a lógica proposicional.

- a) João teve ciúme de Maria e Maria estava apenas conversando e João pediu o divórcio
- b) João não teve ciúme de Maria e Maria não estava apenas conversando e João pediu o divórcio
- c) Se João não teve ciúme de Maria e Maria não estava apenas conversando, então João pediu o divórcio
- d) João teve ciúme de Maria e Maria não estava apenas conversando e João pediu o divórcio

20) Em uma pesquisa com 200 pessoas sobre a preferência entre dois produtos A e B, 50 pessoas disseram gostar de A, 20 disseram gostar apenas de B, e 10 disseram gostar de A e de B.

Quanto ao número de pessoas que não gostou de nenhum desses produtos e a probabilidade de em um sorteio aleatório, entre as pessoas entrevistadas, ela ter dito gostar apenas de A, assinale a alternativa correta.

- a) 100; 20%
- b) 120; 25%
- c) 130; 20%
- d) 120; 20%

21) Com base nos conhecimentos de anatomia da musculatura do assoalho pélvico, observe os músculos apontados pelas letras A e B na figura abaixo e assinale a alternativa correta.

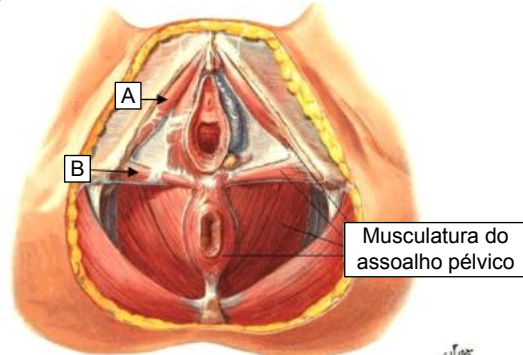


Figura: Modelo anatômica da musculatura do assoalho pélvico.

- a) Isqueococcígeo e bulbocavernoso
- b) Bulboesponjoso e isqueocavernoso
- c) Isqueocavernoso e transverso superficial do períneo
- d) Bulboesponjoso e transverso superficial do períneo

22) O desenvolvimento de infecção no pós-operatório está associado ao aumento de morbimortalidade, sobretudo pelo risco de sepse. Dentre os fatores abaixo, assinale a alternativa que não está relacionada ao aumento do risco infeccioso.

- a) Tabagismo
- b) Perda excessiva de sangue no ato cirúrgico
- c) Tempo cirúrgico prolongado (>3,5 horas)
- d) Infecção urinária tratada previamente ao tempo cirúrgico

23) Mulher, 63 anos, G5P5C0, sem patologias, comparece com queixa de bola na vagina que atrapalha suas atividades diárias, refere ser sexualmente ativa. Foi realizado o exame físico e o seu prolapso genital está representado no diagrama de Pelvic Organ Prolapse Quantification System (POP-Q) (tabela 1) abaixo. Sobre o tipo de cirurgia proposto para a correção do prolapso representado, assinale a alternativa correta.

Aa: - 3	Ap: - 3	C: - 5
Hg: 3	Cp: 4	CVT: 7
Ba: + 1	Bp: + 4	D: - 7

Tabela 1: Pelvic Organ Prolapse Quantification System (Pop-Q)

- a) Colpocleise a Lefort
- b) Colporrafia anterior
- c) Colporrafia posterior
- d) Histerectomia sem técnica de prolapso

24) Mulher, 23 anos, usuária de dispositivo intra-uterino liberador de levonorgestrel (SIU-LNG), comparece com queixa de sangramento irregular há 3 meses. Refere que estava em amenorreia previamente. Foi realizado ultrassom transvaginal que evidenciou cisto simples de 3,8 cm em anexo direito. Com base no caso, assinale a alternativa correta que justifica a queixa da paciente.

- O sangramento é esperado, pois o SIU-LNG, apesar de anovulatório não garante amenorreia na maioria dos casos
- O cisto anexial é compatível com cisto funcional. A paciente deve ser tranquilizada e orientada a utilizar método anovulatório
- O cisto anexial deve ser investigado, pois como a paciente estava em uso de método hormonal não é compatível encontrar cistos funcionais em ovário
- O sangramento é esperado, e o cisto deve ser avaliado com BHCG, pois há mais risco de gravidez ectópica em usuárias de Dispositivo Intra-Uterino (DIU)

25) Mulher, 31 anos, é portadora de enxaqueca sem aura. Comparece para orientação sobre uso de métodos contraceptivos. Refere estar em uso de topiramato para a prevenção das crises. Considere os critérios de elegibilidade para prescrição de contraceptivos da Organização Mundial da Saúde (OMS) de 2015 categoria I e II e assinale a alternativa correta a ser prescrita à paciente.

- Injetável mensal
- Anel vaginal
- Desogestrel
- Combinado oral

26) Mulher com queixa de fogachos há 6 meses deseja iniciar terapia hormonal. Portadora de hipertensão bem controlada e tabagista. Tem mamografia com laudo Bi-Rads 2 há 2 meses e último episódio de sangramento uterino há 14 meses. Com base neste caso, escolha a opção terapêutica para a paciente, considerando a segurança de uso e, possíveis efeitos colaterais, assinale a alternativa correta.

- Estadiol via oral contínuo isoladamente
- Estradiol transdérmico intercalado a progesterona micronizada de segunda fase
- Estradiol via oral contínuo e progesterona micronizada contínua
- Estradiol transdérmico contínuo e progesterona micronizada contínua

27) De acordo com as diretrizes do Ministério da Saúde, dentre os exames recomendados de avaliação no climatério, assinale a alternativa incorreta.

- TSH após os 40 anos
- Glicemia de jejum após os 45 anos
- Densitometria óssea após a menopausa
- Citologia oncótica do colo uterino até os 65 anos

28) Considere o ciclo menstrual. Quanto aos hormônios representados pelas letras A, B e C no gráfico ilustrado abaixo (figura 2), assinale a alternativa que apresenta correta e respectivamente os hormônios representados pelas letras A, B e C.

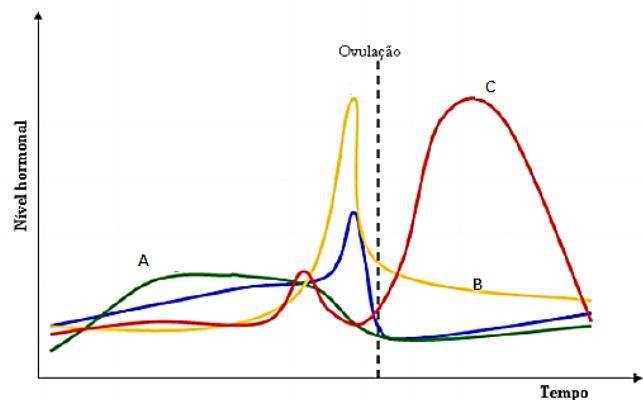


Figura: dosagens hormonais durante o ciclo menstrual humano

- FSH, LH e progesterona
- Estrogênio, FSH, progesterona
- Progesterona, LH, estrogênio
- LH, estrogênio, progesterona

29) Considere o mecanismo de produção hormonal pelos ovários, sabe-se que o colesterol é conduzido a uma célula A que converte este composto em X, por ação do hormônio M. X então é transportado à célula B, que por ação da enzima Y, produz o hormônio Z a partir de X. Com base nestas informações, sobre o hormônio M, a célula B e a enzima Y, assinale a alternativa correta, respectivamente.

- FSH, célula da granulosa, aromatase
- FSH, célula da teca, 5-alfa-redutase
- LH, célula da granulosa, aromatase
- LH, célula da teca, aromatase

30) Mulher, 33 anos, refere sangramento menstrual de padrão de 6 dias com volume aumentado, que atrapalha suas atividades. O intervalo entre os ciclos é de 34 dias, aproximadamente, variando 9 dias entre o maior e menor ciclo nos últimos 6 meses. Considerando o sistema de sangramento anormal da Federação Internacional de Ginecologia e Obstetrícia (FIGO), e assinale a alternativa correta sobre a razão desta paciente apresentar sangramento uterino anormal.

- O número de dias da menstruação é superior a 5 dias
- O volume de sangramento é suficiente para atrapalhar suas atividades
- O intervalo de sangramento é de 34 dias
- A variação de dias entre o maior e o menor ciclo é de 9 dias

31) Mulher, admitida com queixa de corrimento de odor fétido e dor em hipogastro há 4 dias, nega febre e outras queixas; data da última menstruação (dum): há 14 dias. Ao exame físico apresenta dor à palpação de colo uterino e anexo direito. Com base no caso, assinale a alternativa correta.

- a) Trata-se de uma dor do meio e paciente está com vaginose bacteriana, devendo ser tratada com analgésicos e metronidazol
- b) A suspeita é de gestação ectópica e deve-se proceder a realização de bhcg sanguíneo e exame de imagem
- c) Trata-se de um caso de doença inflamatória pélvica, sendo necessária a prescrição de ceftriaxona, doxiciclina e metronidazol
- d) Trata-se de um caso de cervicite, deve-se iniciar tratamento com azitromicina e ceftriaxone e solicitar ultrassom

32) Mulher, 31 anos, comparece para checar resultado de citologia oncótica. Há 6 meses teve diagnóstico de células escamosas atípicas, de significado indeterminado, possivelmente não neoplásicas (ASC-US), retorna hoje com resultado coletado há 15 dias de Lesão Epitelial de Baixo Grau (LIEBG). De acordo com as diretrizes de rastreamento de câncer do colo uterino, sobre a conduta adequada para esta paciente, assinale a alternativa correta.

- a) Observar e encaminhar para seguimento trienal
- b) Repetir citologia novamente em 6 meses
- c) Repetir citologia novamente em 1 ano
- d) Encaminhar paciente a colposcopia

33) Sabe-se que no Brasil, é permitido a casais homoafetivos o uso de técnicas de reprodução assistida para gerar filhos. Sobre o assunto, analise as afirmativas abaixo.

- I. Duas mulheres que desejam realizar implantação de óvulo fecundado de uma das parceiras, no útero da outra.
- II. Dois homens que desejam utilizar óvulo da irmã de um dos parceiros em procedimento de alta complexidade.
- III. Duas mulheres que desejam utilizar útero de substituição, pois uma das parceiras é hysterectomizada e, outra tem, agenesia uterina.

Sobre qual(is) situação(ões) está permitido o uso de técnicas de reprodução assistida, segundo a Resolução nº 2.168 do Conselho Federal de Medicina (CFM) de 2017, assinale a alternativa correta.

- a) Está correta apenas a afirmativa I
- b) Está correta apenas a afirmativa III
- c) Estão corretas apenas as afirmativas I e III
- d) Estão corretas as afirmativas I, II e III

34) Sobre o sangramento de terceiro trimestre, analise as afirmativas abaixo e dê valores de Verdadeiro (V) ou Falso (F).

- () Hipertonia uterina está associada ao diagnóstico de descolamento prematuro de placenta normalmente inserida.
- () A placenta prévia é uma das complicações de cicatrizes uterina.
- () Acretismo e percretismo placentário estão associados a quadros de placenta prévia.
- () A resolução num caso de descolamento prematuro de placenta é sempre por via alta (parto cesariano)

Assinale a alternativa que apresenta a sequência correta de cima para baixo.

- a) V, V, V, F
- b) V, V, F, F
- c) F, F, V, V
- d) V, F, F, V

35) O partograma é uma importante ferramenta na condução do trabalho de parto. Analise as marcações no partograma (figura 3) abaixo.

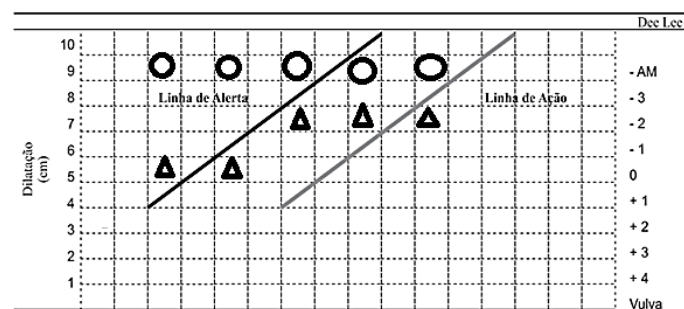


Figura: Partograma

De acordo com o traçado, assinale a alternativa correta.

- a) Trata-se de uma parada secundária da descida, pois o polo cefálico não apresentou descida durante toda evolução do trabalho de parto
- b) Trata-se de uma parada secundária da dilatação, uma vez que há dois toques consecutivos com mais de 2h entre as avaliações, mantendo-se a mesma dilatação
- c) Trata-se de um expulsivo prolongado, pois apesar da dilatação estar evoluindo de maneira lenta não há resposta de descida fetal
- d) Trata-se de uma complicação típica de fetos prematuros, que tem dificuldade de insinuação devido a desproporção cefálica com a pelve

36) Mulher, G4P4, a termo, evoluiu com atonia uterina após o parto normal. Com base neste caso, analise as afirmativas abaixo.

- I. Atonia uterina é mais frequente em partos taquissistólicos.
- II. O manejo ativo do terceiro período é composto por massagem uterina e administração de ocitocina 20 UI endovenosa.
- III. Multiparidade é fato de risco para atonia uterina.

Assinale a alternativa correta.

- a) Apenas a afirmativa I está correta
- b) Apenas as afirmativas II e III estão corretas
- c) Apenas as afirmativas I e III estão corretas
- d) As afirmativas I, II e III estão corretas

37) Mulher, G4P0A3, portadora de Síndrome dos Anticorpos Antifosfolípides (SAAF) e sangramento irregular, comparece para a primeira consulta de pré-natal com 13 semanas (pelo tempo de amenorreia). Ao exame, útero não atinge sínfise púbica, nem se ausculta batimento cardíaco fetal com sonar, porém teste de gravidez urinário é positivo. Com base neste caso, assinale a alternativa correta quanto à conduta a ser adotada.

- a) Aguardar ultrassom para avaliação de viabilidade gestacional e descartar gestação ectópica. Iniciar AAS e cálcio
- b) Iniciar heparina devido a diagnóstico de SAAF, aguardar ultrassom para iniciar AAS e cálcio
- c) Orientar sobre risco de aborto, e solicitar BHCG sanguíneo para confirmação da gestação
- d) Não há necessidade de prevenção de pré-eclampsia em paciente sem histórico de hipertensão ou pré-eclampsia em gestação anterior

38) Mulher, G2P1, 36 semanas, hipertensa crônica em uso de metildopa é admitida assintomática com pressão arterial de 150 por 120 mmHg. Ao exame: AU: 32 cm, batimento cardíaco fetal de 150 bpm. Sobre a conduta farmacológica de escolha para este caso, assinale a alternativa correta.

- a) Iniciar hidralazina endovenosa
- b) Iniciar sulfato de magnésio endovenoso
- c) Aumentar metildopa
- d) Iniciar nifedipino via oral

39) Mulher, G1P0, 26 semanas, comparece para consulta de pré-natal com resultado de teste de tolerância à glicose de 75g; com resultado de 102 em jejum, 188 após a primeira hora; e 203 após a segunda hora. Nega patologias prévias e uso de medicações, não realizou glicemia de jejum no primeiro trimestre. Sobre o diagnóstico desta paciente e qual conduta se faz mais adequada, assinale a alternativa correta.

- a) Diabetes gestacional, iniciar insulinoterapia
- b) Diabetes gestacional, curva glicêmica e avaliação de órgãos alvo
- c) *Overt* diabetes, iniciar insulinoterapia
- d) *Overt* diabetes, curva glicêmica e avaliação de órgãos alvo

40) Gestante internada em trabalho de parto, apresenta taquicardia fetal durante ausculta intermitente do batimento cardíaco fetal. Foi optado por realizar monitorização intra-parto (figura 4) e o resultado está representado abaixo.



Figura: Cardiotografia intra-parto

Com relação ao diagnóstico da monitorização e conduta, respectivamente, assinale a alternativa correta.

- a) Categoria II, hidratação, decúbito lateral esquerdo e oxigenioterapia
- b) Categoria II, resolução do caso por parto cesáreo
- c) Categoria III, hidratação, decúbito lateral esquerdo e oxigenioterapia
- d) Categoria III, resolução do caso por parto cesáreo

PCI Concursos