



PREFEITURA MUNICIPAL DE BIRIGUI

ESTADO DE SÃO PAULO

CONCURSO PÚBLICO

012. PROVA OBJETIVA

OFICIAL ADMINISTRATIVO

(CÓD. 013)

- ◆ Você recebeu sua folha de respostas e este caderno contendo 50 questões objetivas.
- ◆ Confira seus dados impressos na capa deste caderno e na folha de respostas.
- ◆ Quando for permitido abrir o caderno, verifique se está completo ou se apresenta imperfeições. Caso haja algum problema, informe ao fiscal da sala.
- ◆ Leia cuidadosamente todas as questões e escolha a resposta que você considera correta.
- ◆ Marque, na folha de respostas, com caneta de tinta preta, a letra correspondente à alternativa que você escolheu.
- ◆ A duração da prova é de 3 horas, já incluído o tempo para o preenchimento da folha de respostas.
- ◆ Só será permitida a saída definitiva da sala e do prédio após transcorridos 75% do tempo de duração da prova.
- ◆ Deverão permanecer em cada uma das salas de prova os 3 últimos candidatos, até que o último deles entregue sua prova, assinando termo respectivo.
- ◆ Ao sair, você entregará ao fiscal a folha de respostas e este caderno, podendo levar apenas o rascunho de gabarito, localizado em sua carteira, para futura conferência.
- ◆ Até que você saia do prédio, todas as proibições e orientações continuam válidas.

AGUARDE A ORDEM DO FISCAL PARA ABRIR ESTE CADERNO DE QUESTÕES.

Nome do candidato _____

RG _____

Inscrição _____

Prédio _____

Sala _____

Carteira _____

CONHECIMENTOS GERAIS

LÍNGUA PORTUGUESA

Leia o texto, para responder às questões de números **01** a **04**.

O filho de um amigo é negro. Outro dia, na escola, a professora chamou sua atenção e disse: “Você está na minha lista negra”. Meu amigo fez uma reclamação à coordenadora da escola, por entender que a expressão é racista. Por que a lista é “negra”?

Palavras e expressões racistas fazem parte do repertório cotidiano sem que, muitas vezes, a gente tenha consciência do que realmente está dizendo. Eu mesmo me surpreendo dizendo coisas que não quero, por força do hábito. Ainda se ouve “amanhã é dia de branco”, “a coisa tá preta”. Nos anúncios de emprego, pedia-se “boa aparência”. Uma forma de dizer que negros não seriam aceitos?

Continuamos a usar termos racistas. A linguagem forma as pessoas, molda o modo de pensar. Não aceito mais essas palavras e expressões, polio meu vocabulário. É preciso reaprender a falar.

(Walcyr Carrasco, “Uma linguagem racista”. *Veja*, 31.07.2019. Adaptado)

01. É correto afirmar que o autor

- (A) constata existir justa censura a comentários racistas feitos nas escolas.
- (B) sugere que é a intenção de ofender que agride, não as palavras empregadas.
- (C) defende posturas pessoais que evitem o emprego de expressões ofensivas.
- (D) condena o racismo por entender que ele deturpa a linguagem cotidiana.
- (E) reafirma preconceitos que se expressam propositalmente pela linguagem.

02. No texto, o racismo expresso na linguagem

- (A) restringe-se ao contexto de uma cor de pele.
- (B) limita-se a uma situação específica da vida.
- (C) concentra-se no ambiente escolar.
- (D) atinge diferentes etnias no mundo.
- (E) exclui pessoas de diferentes classes sociais.

03. No 1º parágrafo, a substituição do pronome “sua” na passagem “Outro dia, na escola, **a professora chamou sua atenção...**” será correta, clara e coerente com o contexto se a redação do trecho destacado for:

- (A) ... a professora lhe chamou a atenção dele
- (B) ... a professora chamou a atenção para o negro
- (C) ... a professora o chamou a atenção
- (D) ... a professora chamou a atenção para meu amigo
- (E) ... a professora chamou a atenção do aluno

04. É correto afirmar que, na frase final do 1º parágrafo “Por que a lista é “negra?”, a escolha da forma interrogativa tem o objetivo de

- (A) destacar o desconforto do autor com o uso da palavra “negra”, o que ele reforça, colocando-a entre aspas.
- (B) questionar o leitor acerca da atitude da professora ao fazer referência à cor da pele do aluno pela palavra entre aspas.
- (C) expressar a opinião pública acerca do uso de uma palavra que não deveria estar entre aspas.
- (D) pôr em dúvida a necessidade de sinalizar a palavra com aspas, pois ela não tem sentido negativo.
- (E) buscar uma resposta efetiva para a pergunta que o incomoda, tendo em vista o sentido que atribui à palavra entre aspas.

Leia o texto, para responder às questões de números **05** a **09**.

Entre os números que contam a grandeza do Município de Cachoeiro do Itapemirim, há este, capaz de espantar o leitor distraído: 25 379 pios de aves, anualmente. Não, a Prefeitura não espalhou pela cidade e distritos equipes de ouvintes municipais, encarregados de tomar nota cada vez que uma avezinha pia. Trata-se de pios feitos para caçadores de pássaros. E quem os faz é uma família de caçadores de ouvido fino – os Coelho, cujas três gerações moram na mesma e linda ilha, onde o rio se precipita naquele encachoeirado, ou cachoeiro, que deu o nome à cidade.

Trata-se de um artesanato sutil; não lhe basta a perícia técnica de delicados torneiros que faz desses pios bem acabados pequenas obras de arte; exige uma sensibilidade que há de estar sempre aguçada. Direis que é uma arte assassina; e, na verdade, incontáveis milhares de bichos do Brasil e da América do Sul já morreram por acreditar, em algum momento de fome ou de amor, naqueles pios imaginados entre os murmúrios do rio Itapemirim.

Dizem que os Coelho fazem até, em segredo, pios para caçar mulher. Famosa caçada é essa, em que não raro é o caçador a presa da caça. Não sei. Ainda que eu seja Coelho pela parte de mãe, devo ser de outro ramo, visto que nunca me deram um pio desses. Nem quero.

(Rubem Braga, “Quinca Cigano”.

Elenco de cronistas brasileiros modernos. Adaptado)

05. De acordo com o texto, é correto afirmar que o narrador

- (A) conta as desventuras de uma família habituada a caçar pássaros e matar bichos brasileiros.
- (B) discute os problemas decorrentes da falta de ação das autoridades para cercear a ação dos caçadores de pássaros.
- (C) opina favoravelmente à prática da caça de pássaros atraídos pela habilidade da família Coelho.
- (D) apoia a ação de parte de sua família, que faz segredo do fato de criar pios para atrair e caçar mulher.
- (E) comenta a arte de uma família, consistente em fazer instrumentos para imitar o piado dos pássaros, para atraí-los.

06. O dado que leva o narrador a destacar a importância do município de Cachoeiro de Itapemirim é

- (A) a existência de equipes de ouvidores da prefeitura que anotam os pios de aves.
- (B) a quantidade de pios fabricados por ano pela família Coelho, que chega a milhares.
- (C) a ilha em que moram os Coelho, bem à beira da cachoeira que dá nome à cidade.
- (D) a sensibilidade dos que transformam os pios de aves em obras de arte.
- (E) o registro dos inúmeros assassinatos cometidos no município pelos imitadores de pios.

07. Assinale a alternativa em que o pronome destacado pode ser colocado antes ou depois do verbo, segundo a norma-padrão.

- (A) Trata-**se** de pios feitos para caçadores.
- (B) E quem **os** faz é uma família de caçadores de ouvido fino...
- (C) ... não **lhe** basta a perícia técnica de delicados torneiros...
- (D) ... na mesma e linda ilha, onde o rio **se** precipita naquele encachoeirado...
- (E) ... devo ser de outro ramo, visto que nunca **me** deram um pio desses.

08. As expressões destacadas em “**Ainda que** eu seja Coelho pela parte de mãe, devo ser de outro ramo, **visto que** nunca me deram um pio desses” podem ser, correta e respectivamente, substituídas, sem prejuízo de sentido por:

- (A) Mesmo que ... entretanto
- (B) Desde que ... assim
- (C) Quando ... porque
- (D) Embora ... pois
- (E) Enquanto ... porém

09. No contexto em que se encontra, a afirmação do narrador “Famosa caçada é essa, em que não raro é o caçador a presa da caça” expressa a ideia de que,

- (A) muitas vezes, a mulher se deixa prender pelo homem.
- (B) sempre que pode, o homem acaba se deixando prender pela mulher.
- (C) frequentemente, a mulher é que acaba prendendo o homem.
- (D) quando pode, a mulher faz do homem uma presa fácil.
- (E) ocasionalmente, o caçador acaba prendendo sua caça.

Leia o texto, para responder às questões de números 10 a 13.

A proteção da criança e do adolescente é reflexo do clamor mundial pela proteção de um grupo considerado de peculiar vulnerabilidade.

No Brasil, o Estatuto da Criança e do Adolescente (ECA) atribui a obrigação de proteção não somente aos pais, mas também à sociedade e às autoridades públicas.

O atual cenário nacional retrata uma infeliz realidade. Quando analisamos os atos infracionais mais praticados pela população jovem do país, um delito que desponta dos outros é o tráfico de entorpecentes, que é responsável por abreviar o futuro de milhares de jovens no Brasil, causando uma grande preocupação nas famílias.

A sociedade passa por uma constante mudança comportamental, e é preciso trazer o jovem para perto da família, da escola, da religião, representando uma bagagem cultural que possibilite escolhas seguras que o afastem de um mundo muitas vezes sem volta.

(José Roberto Lopes Júnior, *Diário da Região*, 02.08.2019. Adaptado)

10. Segundo o texto, o ECA caracteriza a responsabilidade pela proteção da criança e do adolescente como

- (A) compartilhada.
- (B) consensual.
- (C) relativa.
- (D) espontânea.
- (E) informal.

11. Entre os problemas que afetam a população jovem, o autor destaca

- (A) a falta de perspectivas futuras.
- (B) a carência de formação escolar.
- (C) o envolvimento com tráfico de drogas.
- (D) a perda de referências familiares.
- (E) o abandono de princípios religiosos.

12. Nas expressões “clamor mundial” e “peculiar vulnerabilidade”, os termos destacados têm sinônimos adequados, respectivamente, em:

- (A) súplica e singela.
- (B) consagração e especial.
- (C) movimento e anormal.
- (D) decisão e superior.
- (E) reclamo e particular.

13. Nas expressões “atual cenário” e “abreviar o futuro”, os termos destacados têm antônimos adequados, respectivamente, em:

- (A) desusado e anular.
- (B) antigo e comprometer.
- (C) contemporâneo e sintetizar.
- (D) inatual e prolongar.
- (E) velho e compactar.

Leia o texto, para responder às questões de números 14 a 15.

O *bullying*, segundo a Lei nº 13.185, de 2015, consiste em intimidar, constranger, ofender, castigar, submeter, ridicularizar ou expor alguém, entre pares, a sofrimento físico ou moral, de forma reiterada.

Em 2018, a Lei nº 13.663 incluiu, entre as atribuições das escolas, a promoção da cultura da paz e ações de conscientização, prevenção e combate a diversos tipos de violência, como o *bullying*.

Apesar **dessas duas medidas**, não há nenhuma passagem no Código Penal Brasileiro que caracterize a prática como crime propriamente dito.

Especialistas recomendam que, **por isso**, além das ações planejadas pelas escolas, também haja um acompanhamento cuidadoso dos pais sobre as mudanças de comportamento das crianças, por menores que elas possam ser.

Desta maneira, é possível perceber se a criança está sofrendo *bullying* ou praticando-o.

(Disponível em: [www.terra.com.br/noticias/educação](http://www.terra.com.br/noticias/educa%C3%A7%C3%A3o). Acesso em 05.08.2019. Adaptado)

14. Considerando-se a relação das ações que descrevem o *bullying* no 1º parágrafo, é correto afirmar que, para que este seja caracterizado, é preciso que os comportamentos sejam

- (A) consentidos pelo atingido e anunciados pelo agente.
- (B) repetidos pelo agente e impliquem algum tipo de dor ao atingido.
- (C) praticados conscientemente e consentidos inconscientemente pelo atingido.
- (D) justificados pelo agente e representem ameaça ao atingido.
- (E) esperados pelo atingido e praticados involuntariamente pelo agente.

15. Assinale a alternativa que está redigida de acordo com a norma-padrão de crase e de concordância verbal.

- (A) Já houveram medidas para chegar à uma cultura de paz.
- (B) Não existe ainda normas destinadas à criminalizar o *bullying*.
- (C) Precisamos de ações que resolva à questão do *bullying*.
- (D) Em certos ambientes, pessoas pratica *bullying* à partir da mais tenra idade.
- (E) Estabeleceram-se ações voltadas à instauração da cultura de paz nas escolas.

MATEMÁTICA

16. Durante a realização de uma prova de atletismo, constatou-se, em dado momento, que André e Lucas já haviam percorrido, respectivamente, $\frac{2}{5}$ e $\frac{3}{7}$ do percurso total, e

que restavam ainda 240 m para Lucas completar o percurso total da prova. Nesse momento, a distância entre Lucas e André era igual a

- (A) 10 m.
- (B) 12 m.
- (C) 15 m.
- (D) 18 m.
- (E) 20 m.

17. Em uma escola, 144 meninos e 180 meninas devem ser vacinados contra o sarampo. Para tanto, pretende-se formar grupos somente de meninas ou somente de meninos, de modo que os grupos tenham a mesma quantidade e o maior número possível de integrantes, e que não reste nenhum aluno fora de um grupo. Nessas condições, o número total de grupos formados será igual a

- (A) 5.
- (B) 7.
- (C) 8.
- (D) 9.
- (E) 12.

18. Em um supermercado, Bruno comprou 500 g do produto A e 500 g do produto B. Sabe-se que, nessa compra, a quinta parte do valor pago pelo produto A mais o dobro do valor pago pelo produto B foi igual a R\$ 31,00, e que o valor pago pelo produto A superou o valor pago pelo produto B em R\$ 12,00. Nessas condições, é correto afirmar que o preço de 1 kg do produto B é igual a

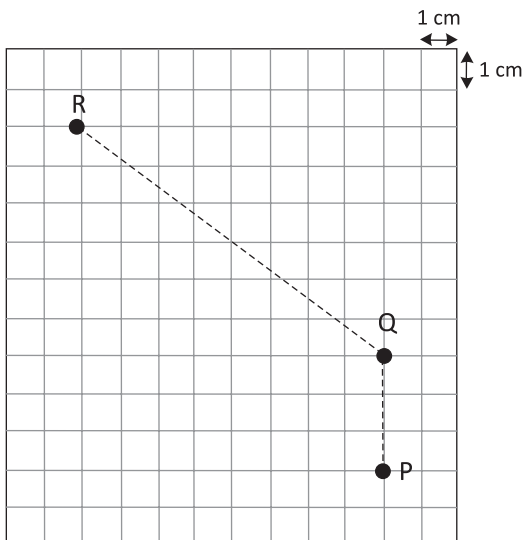
- (A) R\$ 50,00.
- (B) R\$ 44,00.
- (C) R\$ 38,00.
- (D) R\$ 30,00.
- (E) R\$ 26,00.

19. Uma papelaria vende certa caneta esferográfica com ponta grossa ou com ponta média. O preço unitário da caneta de ponta grossa é R\$ 0,70 maior que o preço unitário da caneta de ponta média. Se a papelaria desse um desconto de 25% no preço da caneta de ponta grossa, os preços de ambas ficariam iguais. Então, nessa papelaria, o preço dessa caneta com ponta média é igual a

- (A) R\$ 3,10.
- (B) R\$ 2,80.
- (C) R\$ 2,40.
- (D) R\$ 2,10.
- (E) R\$ 1,80.

20. No estoque de uma loja de ferragens, há uma caixa com menos de 400 unidades de certo parafuso. Para serem colocados à venda, esses parafusos podem ser distribuídos em pacotes com 12 unidades, ou 20 unidades, ou 25 unidades em cada um, sem que sobre nem falte nenhum parafuso. Se o lojista decidir formar pacotes com 25 unidades em cada um, o número de pacotes formados será igual a
- (A) 12.
 (B) 15.
 (C) 18.
 (D) 20.
 (E) 25.

21. Considere uma praça, representada em uma malha quadriculada retangular, em que os quadradinhos são congruentes.



Sabe-se que Ramiro estava em um ponto R dessa praça e que Paula estava em um ponto P. Para encontrar Paula, Ramiro saiu do ponto R, caminhou até o ponto Q e chegou ao ponto P, conforme percurso indicado na figura pela linha tracejada. Se cada centímetro representa 10 m, então a distância total real percorrida por Ramiro, nesse trajeto, foi igual a

- (A) 110 m.
 (B) 120 m.
 (C) 130 m.
 (D) 140 m.
 (E) 150 m.

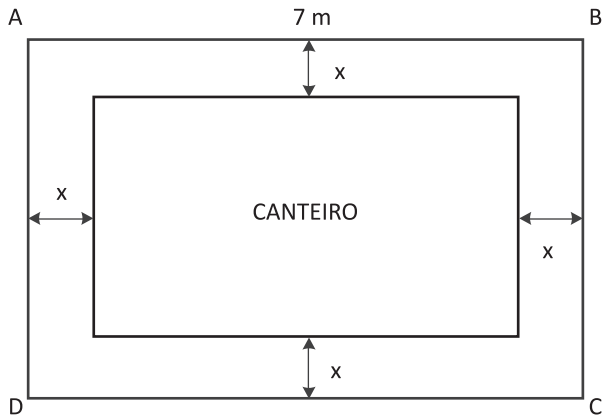
22. Na estrada que liga as cidades A e B, há um posto de pedágio e um posto da polícia rodoviária, representados na figura por P e R, respectivamente.



Sabe-se que o pedágio está localizado exatamente na metade da distância entre as cidades A e B, e que o posto policial está localizado exatamente na metade da distância entre o pedágio e a cidade B. Desse modo, a razão entre as distâncias do pedágio ao posto policial e da cidade A ao posto policial é

- (A) $\frac{1}{6}$
- (B) $\frac{1}{5}$
- (C) $\frac{1}{4}$
- (D) $\frac{1}{3}$
- (E) $\frac{1}{2}$
23. Com certo número de máquinas iguais, de mesmo rendimento, funcionando de forma simultânea e sem interrupções durante o expediente normal diário, uma empresa produzia 1600 unidades de certa peça por dia. Com a incorporação de mais 3 máquinas iguais às primeiras e trabalhando nas mesmas condições anteriores, a empresa passou a produzir 2800 unidades da mesma peça por dia. O número de máquinas em operação, antes da incorporação das 3 máquinas, era igual a
- (A) 3.
- (B) 4.
- (C) 5.
- (D) 6.
- (E) 8.
24. A média aritmética das notas obtidas por Luciana em duas provas e um trabalho é 7,7. Sabe-se que a nota do trabalho foi 8,6, e que a nota da segunda prova foi 0,5 ponto superior à nota da primeira prova. A nota obtida por Luciana na segunda prova foi
- (A) 7.
- (B) 7,5.
- (C) 7,8.
- (D) 8.
- (E) 8,2.

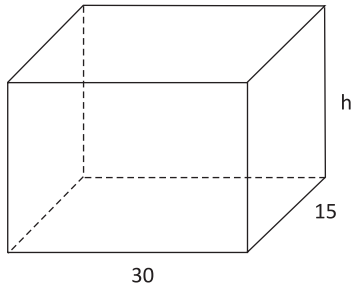
25. Em um jardim retangular ABCD, com área de 35 m^2 , há um canteiro central de formato retangular, que é totalmente rodeado por uma região gramada de largura uniforme x , conforme figura.



Se $x = 1,25 \text{ m}$, então a área do canteiro central é igual a

- (A) $12,75 \text{ m}^2$.
(B) $12,50 \text{ m}^2$.
(C) $12,25 \text{ m}^2$.
(D) $11,75 \text{ m}^2$.
(E) $11,25 \text{ m}^2$.
26. Uma comissão referente à venda de um imóvel foi totalmente dividida entre dois corretores, Gustavo e Rodrigo, em partes diretamente proporcionais a 3 e 4, respectivamente. Se Rodrigo recebeu R\$ 2.500,00 a mais que Gustavo, então o valor total recebido por Rodrigo foi
- (A) R\$ 7.500,00.
(B) R\$ 8.500,00.
(C) R\$ 10.000,00.
(D) R\$ 10.500,00.
(E) R\$ 11.000,00.

27. Considere um recipiente com a forma de um bloco retangular, com arestas internas de medidas indicadas em centímetros na figura, e que contém, inicialmente, 1000 cm^3 de certo líquido.



Se despejarmos mais 5000 cm^3 desse líquido nesse recipiente, este terá $\frac{2}{3}$ da sua capacidade total preenchida.

A medida da altura desse recipiente, indicada por h na figura, é igual a

- (A) 17 cm.
(B) 18 cm.
(C) 20 cm.
(D) 22 cm.
(E) 25 cm.
28. Um piso retangular, de lados com medidas, em metros, iguais a x e $0,6x$, foi totalmente recoberto por 135 ladrilhos quadrados de $0,4 \text{ m}$ de lado, todos iguais e inteiros. O perímetro desse piso é igual a
- (A) 19,2 m.
(B) 19,6 m.
(C) 20,2 m.
(D) 20,8 m.
(E) 21,4 m.
29. Cristiano dividiu a apresentação da previsão de vendas em três etapas distintas: análise mercadológica, análise financeira e conclusões. Do tempo total de duração da apresentação das três etapas, ele gastou $\frac{2}{5}$ na 1ª etapa, a terça parte na 2ª etapa e os últimos 20 minutos na 3ª etapa. Se a apresentação da 1ª etapa teve início às 8 horas e 32 minutos, e não houve interrupções, então a conclusão da apresentação da 1ª etapa ocorreu às
- (A) 9 horas e 2 minutos.
(B) 9 horas e 7 minutos.
(C) 9 horas e 12 minutos.
(D) 9 horas e 17 minutos.
(E) 9 horas e 20 minutos.

30. Considere as informações contidas na ilustração.

● Salto

R\$ 26,3 bilhões
É quanto o governo projeta que será o valor de todas as deduções médicas do Imposto de Renda em 2030; em 2017, essas deduções chegaram a R\$ 15,1 bilhões

(O Estado de S.Paulo. 05.07.2019)

O valor projetado para 2030 para o total das deduções médicas do Imposto de Renda tem, em relação ao valor das mesmas deduções ocorridas em 2017, um aumento de, aproximadamente,

- (A) 57%.
(B) 65%.
(C) 68%.
(D) 71%.
(E) 74%.

R A S C U N H O

ATUALIDADES

31. A primeira-ministra britânica, Theresa May, deve oficializar hoje (07.06) a renúncia como líder do Partido Conservador, mas não da chefia de governo. De acordo com o jornal *Independent*, May deverá comandar o país e cumprir com todas as suas tarefas oficiais até a escolha do sucessor.

(*Correio Braziliense*. <https://bit.ly/2m2qTYV>. 07.06.2019. Acesso em 07.06.2019. Adaptado)

A renúncia de May ocorreu porque

- (A) partes do Reino Unido, como a Escócia e Irlanda do Norte, fazem pressão para a saída imediata da União Europeia mesmo sem acordo.
- (B) discordou da alemã Angela Merkel, que propôs um novo referendo para consultar se os britânicos continuam apoiando a retirada da União Europeia.
- (C) os políticos britânicos se negaram a participar das eleições gerais que ocorreram em maio para o Conselho Gestor da União Europeia.
- (D) não conseguiu a aprovação de um acordo no Parlamento para alavancar o Brexit – o divórcio entre Reino Unido e União Europeia.
- (E) sentiu que o boicote dos deputados do seu partido, o Trabalhista, minaram seus esforços de montar um plano de retirada do Brexit.

32. O movimento “*Fridays For Future*” (Sextas-feiras pelo futuro) ganhou força com a ativista adolescente Greta Thunberg, que uma vez por semana falta às aulas em sua escola, em Estocolmo, para se sentar em uma praça em frente ao Parlamento da Suécia e pedir medidas concretas contra o problema que ela afirma ser mundial. A primeira manifestação mundial aconteceu em 15 de março. A segunda ocorreu em 24 de maio.

(*G1*. <https://glo.bo/2TEilyG>. 24.05.2019. Acesso em 09.08.2019. Adaptado)

O movimento *Fridays For Future* reivindica medidas contra

- (A) o aumento da pobreza.
- (B) o crescimento da xenofobia.
- (C) o avanço da Aids.
- (D) os conflitos étnicos.
- (E) o aquecimento global.

33. Por 70 votos a favor e quatro contrários, o plenário do Senado aprovou sem alterações, na noite desta terça (28.05), a redação saída da Câmara dos Deputados do relatório da Medida Provisória (MP) 870/2019, enviada pelo presidente logo após a sua posse em 01 de janeiro.

(*Socioambiental*. <https://bit.ly/2Kzw0JR>. 29.05.2019. Acesso em 07.08.2019. Adaptado)

De acordo com o texto anteriormente aprovado pela Câmara dos Deputados, a Funai (Fundação Nacional do Índio)

- (A) permaneceu no Ministério da Família, da Mulher e dos Direitos Humanos, e a demarcação de Terras Indígenas passou a ser atribuição do Ministério da Agricultura.
- (B) permaneceu no Ministério da Cidadania, e a criação e a demarcação de Terras Indígenas tornaram-se competência da Casa Civil.
- (C) voltou a ser subordinada ao Ministério da Justiça e da Segurança Pública e a ter a competência de demarcar as Terras Indígenas.
- (D) permaneceu no Ministério da Agricultura, e a demarcação de Terras Indígenas voltou a ser atribuição do Ministério da Cidadania.
- (E) voltou a fazer parte da estrutura da Casa Civil, e a demarcação de Terras Indígenas passou a ser competência do Ministério da Cidadania.

34. Em 06 de junho, o STF (Supremo Tribunal Federal) decidiu por unanimidade que a dispensa de aval legislativo e de licitação somente se aplica às subsidiárias, não valendo para empresas matrizes, que continuam precisando de autorização do Congresso para serem privatizadas.

(*Agência Brasil*. <https://bit.ly/2WOpwxQ>. 06.06.19. Acesso em 07.08.2019. Adaptado)

Com essa decisão do STF, é necessária a autorização do Congresso para a privatização

- (A) dos Correios.
- (B) da Vale.
- (C) da Transpetro.
- (D) da Usiminas.
- (E) da Enel.

35. Encerrada no fim de semana (29.07), depois de quatro meses em cartaz, uma exposição da artista brasileira tornou-se o maior sucesso de público do Masp – 402.850 pessoas foram ver a modernista brasileira neste ano.

(*Folha de S.Paulo*. <https://bit.ly/31Hzakn>. 29.07.2019. Acesso em 09.08.2019. Adaptado)

A artista brasileira sucesso de público no MASP foi

- (A) Djanira.
- (B) Lygia Clark.
- (C) Anita Malfatti.
- (D) Tarsila do Amaral.
- (E) Lina Bo Bardi.

36. A Organização Mundial da Saúde (OMS) declarou, nesta quarta-feira (17.08), que o atual surto de ebola é uma “emergência de saúde pública de interesse internacional”. A classificação só é utilizada para epidemias mais graves, que podem se espalhar para outros países. Desde que o surto começou, em agosto de 2018, ao menos 2512 pessoas foram infectadas. Destas, 1 676 morreram.

(Folha de S.Paulo. <https://bit.ly/2Z2y6G5>. 17.07.19. Acesso em 06.08.2019. Adaptado)

O surto de ebola ocorre

- (A) no Sudão.
- (B) na República Democrática do Congo.
- (C) em Camarões.
- (D) em Angola.
- (E) na República da África do Sul.

37. O presidente dos Estados Unidos, Donald Trump, condenou nesta segunda-feira (05.08) o racismo e a supremacia branca e descreveu os eventos como um “crime contra toda humanidade”, ao pronunciar um discurso à Nação após a morte de 30 pessoas em consequência do que ocorreu no fim de semana.

(IstoÉ. <https://bit.ly/2z3RmZf>. 05.08.2019. Acesso em 10.08.2019. Adaptado)

Em seu pronunciamento, Trump referiu-se aos

- (A) imigrantes mortos pela guarda mexicana na fronteira.
- (B) atropelamentos de civis que se manifestavam em Nova Iorque e Dallas.
- (C) tiroteios em massa ocorridos nos estados do Texas e de Ohio.
- (D) confrontos entre traficantes e policiais ao longo da fronteira com o México.
- (E) ataques contra alunos representantes de minorias em escolas de Chicago e Houston.

38. Criado em 1961, o Inpe (Instituto Nacional de Pesquisas Espaciais) é referência no que faz: trabalho com engenharia espacial, inclusive com satélites lançados, geofísica e ciências atmosféricas. Recentemente, ficou conhecido por monitorar o desmatamento na Amazônia.

(UOL. <https://bit.ly/2YsBGgo>. 24.07.2019. Acesso em 03.09.2019. Adaptado)

O Inpe faz parte da estrutura do Ministério

- (A) da Agricultura.
- (B) da Ciência e Tecnologia.
- (C) da Cidadania.
- (D) da Economia.
- (E) do Desenvolvimento Regional.

39. O Atlas da Violência dos municípios brasileiros, divulgado nesta segunda-feira (05.08) pelo Instituto de Pesquisa Econômica Aplicada (Ipea), aponta que cerca de metade dos homicídios ocorridos no Brasil, em 2017, ocorreu em 120 cidades, ou seja, em 2% do total do país.

(Globo. <https://glo.bo/2z32J3z>. 05.08.19. Acesso em 10.08.2019. Adaptado)

Outra informação importante divulgada pelo Atlas destaca

- (A) o predomínio dos homicídios nas regiões metropolitanas do Sul e do Sudeste.
- (B) a pequena relação entre as mortes e os equipamentos sociais disponíveis.
- (C) a grande concentração de mortes nas regiões Norte e Nordeste.
- (D) a baixa participação do tráfico de drogas no total de homicídios.
- (E) a redução do número de homicídios de mulheres nos cinco últimos anos.

40. Com a votação concluída ontem (14.08) à noite pela Câmara dos Deputados, a Medida Provisória (MP) da Liberdade Econômica segue para o Senado, onde deve ser aprovada até o dia 27 de agosto para não perder a validade.

(Agência Brasil. <https://bit.ly/2YVY6Yv>. 15.08.2019. Acesso em 16.08.2019. Adaptado)

A MP aprovada na Câmara visa

- (A) reforçar elementos da nova legislação trabalhista, como o fracionamento de férias.
- (B) eliminar todo e qualquer trabalho considerado precário ou que ofereça perigo ao trabalhador.
- (C) estabelecer o registro de ponto para as empresas que tenham a partir de 10 funcionários.
- (D) estabelecer novo modelo de carteira de trabalho emitida pelo Ministério da Justiça e validade de 10 anos.
- (E) diminuir a burocracia e facilitar a abertura de empresas, principalmente de micro e pequeno porte.

41. A imagem a seguir mostra um documento simples elaborado por meio do WordPad, por um usuário do MS-Windows 7, em sua configuração padrão.

Texto inicial do documento simples.

Sabendo-se que o tamanho e o tipo da fonte aplicados em todas as palavras são iguais, assinale a alternativa que apresenta a formatação utilizada na palavra “do”.

- (A) Negrito.
 (B) Itálico.
 (C) Sublinhado.
 (D) Subscrito.
 (E) Sobrescrito.
42. Um usuário, por meio do Windows Explorer do MS-Windows 7, em sua configuração padrão, manipula arquivos de uma pasta chamada “atendimento”, contendo arquivos e pastas de arquivos de atendimento ao público interno e externo, conforme se vê na imagem a seguir.

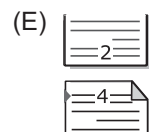
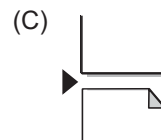
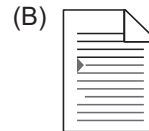
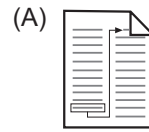
Nome	Tipo
externos	Pasta de arquivos
internos	Pasta de arquivos
atendimento_imprensa	Documento do Mi...
atendimento_contabilidade	Documento do Mi...
atendimento_cidadao	Documento do Mi...
atendimento_fornecedor	Documento do Mi...

Após selecionar dois arquivos, conforme a imagem, o usuário aperta a tecla Del (Delete) e confirma a exclusão dos arquivos. Imediatamente após a exclusão, aperta as teclas de atalho Ctrl + Z. O resultado é que

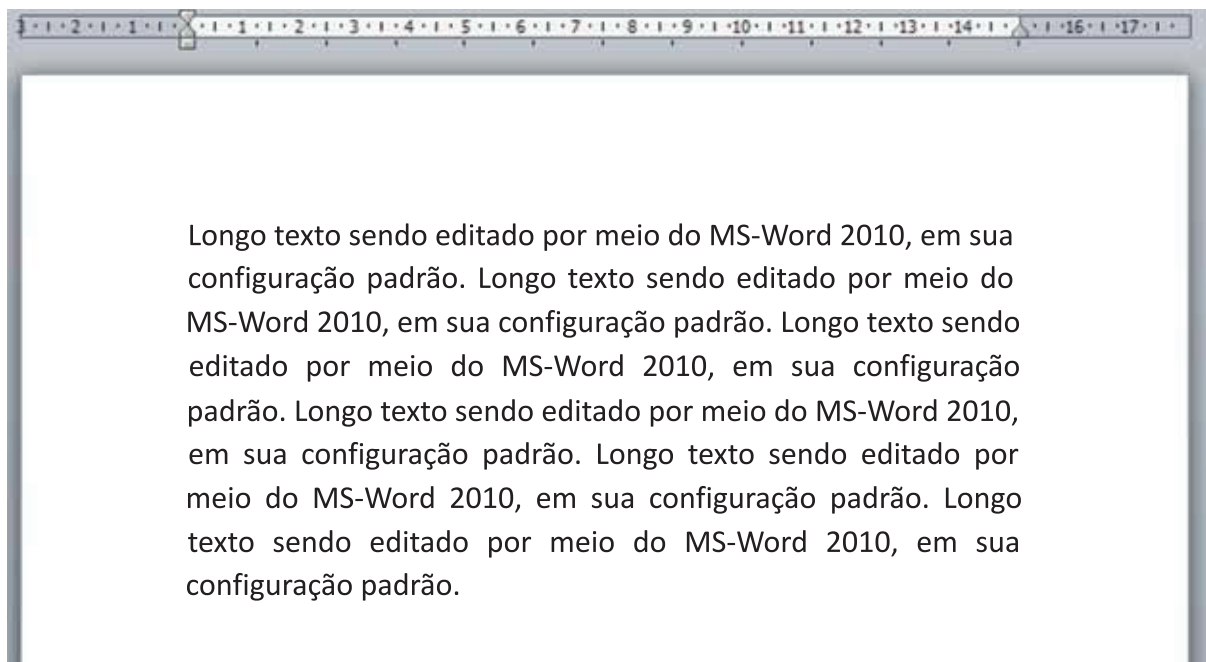
- (A) a ação Del (Delete) é desfeita, voltando os dois arquivos para a pasta “atendimento”.
 (B) apenas os dois arquivos do tipo docx restantes são selecionados.
 (C) os arquivos restantes e as pastas “externos” e “internos” são selecionados.
 (D) os arquivos previamente selecionados são excluídos permanentemente.
 (E) os dois arquivos do tipo docx restantes são excluídos.

43. Um usuário do MS-Word 2010, em sua configuração padrão, preparando um documento, termina a digitação do texto de prefácio e deseja continuar o documento a partir da página seguinte.

A partir da guia Layout da Página, para realizar essa ação de “quebrar a página”, conforme o enunciado, o usuário deve clicar no ícone



44. No MS-Word 2010, em sua configuração padrão, um usuário formata o alinhamento de um parágrafo conforme a imagem a seguir.



O alinhamento de parágrafo é

- (A) centralizado.
 - (B) justificado.
 - (C) alinhado à esquerda.
 - (D) alinhado à direita.
 - (E) linhas espaçadas.
45. Um usuário elaborou a planilha exibida a seguir, por meio do MS-Excel 2010, em sua configuração padrão, para gerenciar datas de entrega de alguns documentos.

	A	B
1	Documento	Data entrega
2	doc1	01/01/2019
3	doc2	02/02/2019
4	doc3	03/03/2019
5	doc4	04/04/2019
6	doc5	05/05/2019
7		
8		
9	Mais recente	05/05/2019
10		

Para localizar a data de entrega mais recente, adicionou uma fórmula na célula B9. A fórmula na célula B9 é

- (A) =MENOR(B2:B6;1)
- (B) =MAIOR(B2:B6;1)
- (C) =MENOR(1;B2:B6)
- (D) =MAIOR(1;B2:B6)
- (E) =RECENTE(B2-B6)

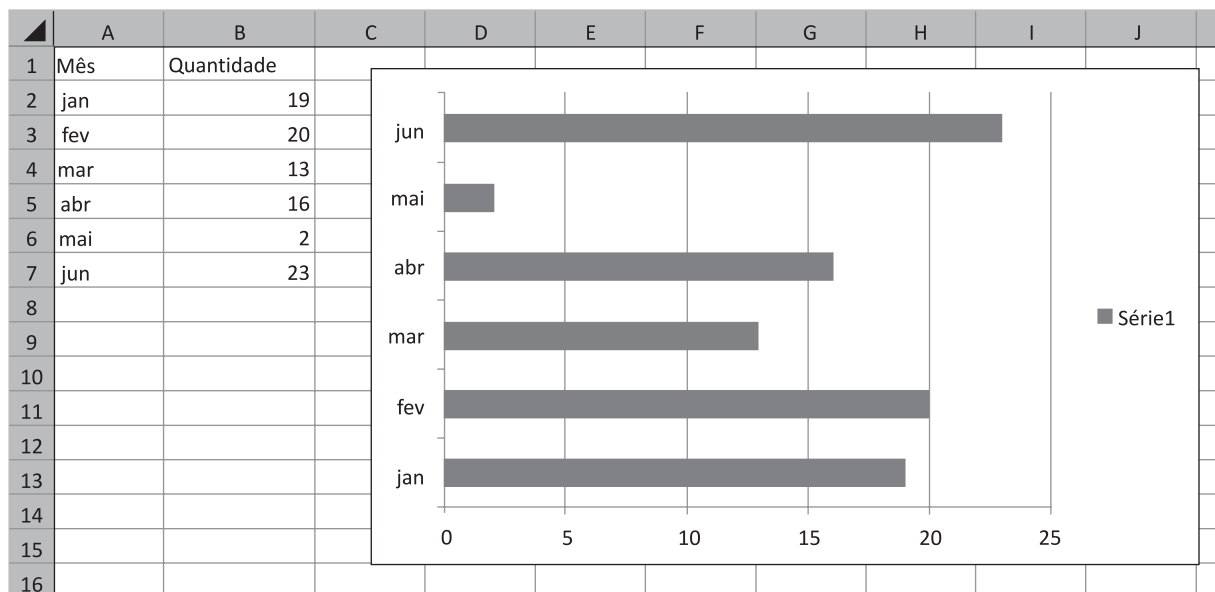
46. A planilha exibida a seguir foi digitada no MS-Excel 2010, em sua configuração padrão.

	A
1	2
2	3
3	1
4	6
5	4
6	8
7	
8	

Ao ser inserida a fórmula =MÉDIA(A1;A6) na célula A8, o valor exibido será

- (A) 1
- (B) 2
- (C) 4
- (D) 5
- (E) 8

47. Um usuário, para apresentar os números de atendimentos mensais (interno e externo somados por mês), elaborou, por meio do MS-Excel 2010, em sua configuração padrão, uma planilha e o gráfico exibido a seguir.



O tipo de gráfico exibido é

- (A) Coluna.
- (B) Linha.
- (C) Ações.
- (D) XY.
- (E) Barra.

48. A forma mostrada na imagem a seguir é um botão de ação padrão no MS-PowerPoint 2010, em sua configuração padrão.



O botão de ação exibido tem o hiperlink padrão para

- (A) Primeiro slide.
 - (B) Slide anterior.
 - (C) Finalizar apresentação.
 - (D) Próximo slide.
 - (E) Último slide.
49. Um usuário deseja comparar o texto de duas páginas na internet. Para isso, abre, em duas abas distintas, as duas páginas que deseja alternar comparando os textos.

O atalho por teclado, no Google Chrome, versão 76, em sua configuração padrão, que permite abrir uma nova aba na mesma janela é

- (A) Ctrl + T
- (B) Ctrl + N
- (C) Ctrl + J
- (D) Ctrl + P
- (E) Ctrl + H

50. Um usuário do MS-Outlook 2010, em sua configuração padrão, recebeu um e-mail, cuja preparação para envio possuía os campos conforme descrito a seguir.

Para: novo@birigui.sp.gov.br

Cc: todos@birigui.sp.gov.br ; lista@birigui.sp.gov.br

Assunto: Resposta

Para que sua resposta seja visualizada pelos demais destinatários que receberam o mesmo e-mail, o usuário deve escolher a opção

- (A) Responder completamente.
- (B) Responder para a Lista.
- (C) Responder a Todos.
- (D) Responder.
- (E) Encaminhar.

