



CONCURSO PARA PROVIMENTO DE CARGOS DA PREFEITURA MUNICIPAL DE UBERLÂNDIA

Edital Nº 01 / 2019

FARMACÊUTICO – BIOQUÍMICO

Código: 402

LEIA COM ATENÇÃO AS SEGUINTE INSTRUÇÕES

1. Este caderno contém as questões da **Prova Objetiva**.
2. Use o Gabarito (Versão do Candidato) reproduzido ao final deste caderno apenas para marcar o gabarito.
3. Ao receber a **Folha de Respostas da Prova Objetiva**:
 - Confira seu nome, número de inscrição e cargo.
 - Assine, **A TINTA**, no espaço próprio indicado.

4. **ATENÇÃO:** transcreva no espaço apropriado da sua **FOLHA DE RESPOSTAS**, com sua caligrafia usual, mantendo as letras maiúsculas e minúsculas, desconsiderando aspas e autoria, a seguinte frase:

“Bravo não é quem sente medo, é quem o vence.” Nelson Mandela

ATENÇÃO:

FOLHA DE RESPOSTAS SEM ASSINATURA NÃO TEM VALIDADE.

5. Ao transferir as respostas para a **Folha de Respostas**:

01 A B C D

• use apenas caneta esferográfica azul ou preta.

02 A B C D

• preencha, sem forçar o papel, toda a área reservada à letra correspondente à resposta solicitada em cada questão.

03 A B C D

• assinale somente **uma** alternativa em cada questão.

04 A B C D

Sua resposta **NÃO** será computada se houver marcação de mais de uma alternativa, questões não assinaladas ou rasuras.

NÃO DEIXE NENHUMA QUESTÃO SEM RESPOSTA.

A **Folha de Respostas** não deve ser dobrada, amassada ou rasurada.

ATENÇÃO: Período de Sigilo – Não será permitido ao candidato se ausentar em definitivo da sala de provas antes de decorridas 2 (duas) horas do início das provas. O candidato não poderá fazer anotação de questões ou informações relativas às suas respostas no Comprovante Definitivo de Inscrição (CDI) ou em quaisquer outros meios, que não os permitidos neste Edital e especificados na capa da prova. Os candidatos não poderão utilizar, em hipótese alguma, lapiseira, corretivos ou lápis-borracha ou outro material distinto do constante no subitem 9.4.11 do Edital. Será proibido, durante a realização das provas, fazer uso ou portar, mesmo que desligados, telefone celular, relógios, *paggers*, *beep*, agenda eletrônica, lápis, borracha, corretivo, calculadora, *walkman*, *notebook*, *palmtop*, gravador, transmissor / receptor de mensagens de qualquer tipo ou qualquer outro equipamento eletrônico, fazer uso de óculos escuros, boné, chapéu, gorro, lenço ou similares, podendo a organização deste Concurso Público vetar o ingresso do candidato com outros aparelhos além dos anteriormente citados. Durante o período de realização das provas, não será permitida qualquer espécie de consulta ou comunicação entre os candidatos ou entre estes e pessoas estranhas, oralmente ou por escrito, assim como não será permitido o uso de livros, códigos, manuais, impressos, anotações ou quaisquer outros meios. O candidato não poderá levar os cadernos de questões das Provas Objetivas e de Redação, quando houver. Não haverá substituição da Folha de Respostas da Prova Objetiva e Caderno Oficial da Prova Redação devido a erro do candidato. Ao término do prazo estabelecido para a prova, os três últimos candidatos deverão permanecer na sala até que o último candidato termine sua prova. As instruções constantes no Caderno de Questões e na Folha de Respostas da Prova Objetiva, bem como as orientações e instruções expedidas pela Fundep durante a realização das provas, complementam o Edital e deverão ser rigorosamente observadas e seguidas pelo candidato.

O Caderno de Questões e o Gabarito da Prova Objetiva serão divulgados no endereço eletrônico www.gestaodeconcursos.com.br no dia 17 de dezembro de 2019.

DURAÇÃO MÁXIMA DA PROVA: 4 (QUATRO) HORAS

ATENÇÃO

Sr.(a) Candidato(a),

Antes de começar a fazer a prova, confira se este caderno contém, ao todo, **50 (cinquenta)** questões de múltipla escolha, cada uma constituída de 4 (quatro) alternativas de resposta, assim distribuídas: 15 (quinze) questões de **Língua Portuguesa**, 5 (cinco) questões de **Legislação**, 5 (cinco) questões de **Atualidades**, 5 (cinco) questões de **Matemática / Raciocínio Lógico** e 20 (vinte) questões de **Conhecimentos Específicos**, todas perfeitamente legíveis.

Havendo algum problema, informe **imediatamente** ao aplicador de provas para que ele tome as providências necessárias.

Caso não observe essa recomendação, não lhe caberão quaisquer reclamações ou recursos posteriores.

INSTRUÇÃO: Leia o texto a seguir para responder às questões de 1 a 5.

O sintomático desprezo pela ciência

Em março de 2018, António Guterres, secretário-geral da ONU, declarou: “As manchetes são naturalmente dominadas pela escalada das tensões, de conflitos ou de eventos políticos de alto nível, mas a verdade é que as mudanças climáticas permanecem a mais sistêmica ameaça à humanidade. Informações divulgadas recentemente pela Organização Meteorológica Mundial, pelo Banco Mundial e pela Agência Internacional de Energia mostram sua evolução implacável”. Meses antes, um discurso proferido em Riad por Christine Lagarde, diretora do Fundo Monetário Internacional, exibiu um teor similar: “Se não fizermos nada a respeito das mudanças climáticas, seremos tostados, assados e grelhados num horizonte de tempo de 50 anos”. Ambas as advertências reconhecem a extrema gravidade de nossa situação, a respeito da qual o Painel Intergovernamental sobre as Mudanças Climáticas (IPCC) é categórico: “O aquecimento do sistema climático é inequívoco. A influência humana sobre o sistema climático é clara. Limitar a mudança climática requer reduções substanciais e contínuas de emissões de gases de efeito estufa” (2007).

[...]

Malgrado esse acúmulo de saber e essa virtual unanimidade, a ciência do clima pode estar equivocada? Em princípio, sim. Ciência não é dogma, é diminuição da incerteza. Contestar um consenso científico, mesmo o mais sólido, não pode ser objeto de anátema. Mas quem o põe em dúvida deve apresentar argumentos convergentes e convincentes em sentido contrário. Na ausência destes, contestação torna-se simples denegação irracional, enfraquece o poder persuasivo da evidência, milita em favor da perda da autoridade da ciência na formação de uma visão minimamente racional do mundo e turbina a virulência das redes sociais, dos “fatos alternativos”, da pós-verdade, do fanatismo religioso e das crenças mais estapafúrdias e até há pouco unimagináveis. O negacionismo climático é apenas mais uma dessas crenças [...], e seu repertório esgrime as mesmas surradas inverdades, mil vezes refutadas: os cientistas estão divididos sobre a ciência do clima, os modelos climáticos são falhos, maiores concentrações atmosféricas de CO₂ são efeito e não causa do aquecimento global e são benéficas para a fotossíntese, o próximo mínimo solar anulará o aquecimento global, não se deve temer esse aquecimento, mas a recaída numa nova glaciação etc. Esse palavreado resulta de esforços deliberados de denegação das evidências. Diretamente ou através, por exemplo, da Donors Trust e da Donors Capital Fund, as corporações injetam milhões de dólares em *lobbies* disseminadores de desinformação sobre as mudanças climáticas.

[...]

Malgrado alguma tangência ideológica entre certa esquerda e a extrema-direita, o negacionismo climático e a negação da ciência em geral são fundamentalmente uma bandeira da extrema-direita e é preciso pôr em evidência uma razão maior dessa estreita afinidade. Ela se encontra, a meu ver, numa mutação histórica fundamental do teor do discurso científico. Das revoluções científicas do século XVII a meados do século XX, a ciência galgou posição de hegemonia, destronando discursos de outra natureza, como o religioso e o artístico, porque foi capaz de oferecer às sociedades vitoriosas mais energia, mais mobilidade, mais bens em geral, mais capacidade de sobrevivência, em suma, mais segurança. Seus benefícios eram indiscutíveis e apenas confirmavam suas promessas, que pareciam ilimitadas. A partir de 1962, se quisermos uma data, o livro de Rachel Carson, “Primavera Silenciosa” punha a nu pela primeira vez o lado sombrio dessas conquistas da ciência: agrotóxicos como o DDT aumentavam, de fato, a produtividade agrícola, mas ao preço de danos tremendos à saúde e à biodiversidade. Essa primeira dissonância tornou-se muito maior nos anos 1980, quando o aquecimento global resultante das emissões de CO₂ pela queima de combustíveis fósseis – justamente esses combustíveis aos quais devíamos o essencial de nosso progresso – tornou-se pela primeira vez inequívoco. A ciência começa, então, a mudar seu discurso. Ela passa a anunciar que havíamos passado da idade das promessas à idade das escolhas, de modo a evitar a idade das consequências. [...] Uma brecha começava a se abrir na imagem social da ciência. Enquanto os cientistas diziam o que queríamos ouvir, tudo era defesa e apologia da ciência. A partir do momento em que seu discurso converteu-se em alertas e advertências sobre os riscos crescentes a que começávamos a nos expor, esse entusiasmo arrefeceu.

[...]

Em nosso século, esse novo mal-estar na civilização não cessou de crescer. Ele toma hoje a forma de uma espécie de divisão esquizofrênica da autoimagem de uma sociedade moldada pela ciência. Quando entramos num avião, atravessamos uma ponte ou tomamos um remédio, somos gratos às tentativas da ciência de compreender o mundo e traduzi-lo em tecnologia. Mas quando dessa mesma ciência vem o aviso que é preciso mudar o modo de funcionamento de nossa economia, conter nossa voracidade, diminuir o consumo de carne, restaurar as florestas e redefinir nossa relação com a natureza, sob pena de nos precipitarmos num colapso de insondáveis proporções, a gratidão cede lugar à indiferença, ao descrédito e mesmo à hostilidade.

[...]

Disponível em: <<https://adunicamp.org.br/artigo-o-sintomatico-desprezo-pela-ciencia/>>. Acesso em: 2 ago. 2019.

QUESTÃO 1

Releia este trecho.

“**Malgrado** alguma tangência ideológica entre certa esquerda e a extrema-direita, o negacionismo climático e a negação da ciência em geral são fundamentalmente uma bandeira da extrema-direita e é preciso pôr em evidência uma razão maior dessa estreita afinidade.”

A conjunção em destaque pode ser substituída, sem prejuízo de sentido, por:

- A) Por causa de
- B) À medida que
- C) Uma vez que
- D) Apesar de

QUESTÃO 2

Uma das ideias que o texto em questão aborda é o declínio da apreciação da ciência ao longo do tempo.

Assinale a alternativa que resume corretamente esse processo.

- A) A ciência foi tomada como verdade incontestável quando de sua implantação na sociedade, à época da Revolução Industrial. Porém, com a evolução do pensamento crítico, começou a ser contestada.
- B) O pensamento científico, a partir do século XVII, teve muita aderência entre a sociedade; porém, quando começou a esbarrar ideologicamente nos discursos religiosos e artísticos, viu seu prestígio entrar em declínio.
- C) Enquanto provia progresso e benefícios à sociedade, o discurso científico foi defendido. Porém, passou a ser questionado quando começou a alarmar a sociedade sobre os riscos do modo de funcionamento dela.
- D) As grandes corporações trabalham atualmente para restabelecer a confiança e o prestígio no discurso científico, o qual começou a ser desacreditado a partir da publicação da obra *Primavera silenciosa*, que questiona os benefícios da ciência.

QUESTÃO 3

Releia este trecho.

“Em março de 2018, António Guterres, secretário-geral da ONU, declarou: ‘As manchetes são naturalmente dominadas pela escalada das tensões, de conflitos ou de eventos políticos de alto nível, mas a verdade é que as mudanças climáticas permanecem a mais sistêmica ameaça à humanidade.’”

Quanto à estratégia argumentativa utilizada nesse trecho, é correto afirmar que se trata de argumentação por

- A) exemplificação: a fala do autor citado é tomada como exemplo de argumentação semelhante à expressa no texto.
- B) autoridade: é utilizada a fala de um especialista na área discutida – António Guterres – com a intenção de reiterar e fundamentar a opinião expressa pelo texto.
- C) causa e consequência: a lógica do texto é construída por meio do encadeamento entre uma causa e uma consequência, referentes ao assunto de discussão.
- D) provas concretas: é utilizada uma prova comprovável extraída da realidade, no sentido de sustentar a argumentação do texto.

QUESTÃO 4

Releia este trecho.

“Ciência não é dogma, é diminuição da incerteza.”

Considerando o trecho e o contexto no qual se insere, é correto afirmar que a ideia que ele expressa também se encontra em:

- A) “Contestar um consenso científico, mesmo o mais sólido, não pode ser objeto de anátema.”
- B) “O negacionismo climático é apenas mais uma dessas crenças [...], e seu repertório esgrime as mesmas surradas inverdades, mil vezes refutadas.”
- C) “Na ausência destes [argumentos convincentes], contestação torna-se simples denegação irracional [...].”
- D) “[...] as corporações injetam milhões de dólares em *lobbies* disseminadores de desinformação sobre as mudanças climáticas.”

QUESTÃO 5

A respeito da argumentação observada no texto sobre a contestação da ciência do clima, analise as afirmativas a seguir.

- I. O autor não acredita na possibilidade de se contestar as notícias alarmantes sobre o tema.
- II. A ideia de que “não se deve temer esse aquecimento, mas a recaída numa nova glaciação” é tomada pelo texto como uma contestação válida contra o alarmismo do aquecimento global.
- III. Segundo o texto, existe uma motivação financeira impulsionando a desinformação a respeito dos avisos feitos pela ciência do clima.

Está correto o que se afirma em

- A) I, apenas.
- B) I e II, apenas.
- C) III, apenas.
- D) II e III, apenas.

QUESTÃO 6

Analise o trecho a seguir.


“Não por acaso, o novo conhecimento deixou o mundo perplexo e foi aplicado na investigação genética dos mais diversos casos: verificação de paternidade, de outros graus de parentesco, identificação de fósseis e até o estudo de predisposição genética a algumas doenças.”

Disponível em: <<https://tinyurl.com/y2c3ot4f>>. Acesso em: 5 ago. 2019.

A respeito do uso dos dois-pontos, é correto afirmar que, nesse trecho, eles marcam uma

- A) enumeração explicativa.
- B) síntese do que foi enunciado.
- C) citação de autoria diversa.
- D) consequência do que foi enunciado.

INSTRUÇÃO: Leia a tirinha a seguir para responder às questões 7 e 8.



Disponível em: <<https://escolaeducacao.com.br/calvin-e-haroldo/>>. Acesso em: 5 ago. 2019.

QUESTÃO 7

A tirinha em questão é a última da série *Calvin e Haroldo*, de autoria de Bill Watterson, publicada dia 31 de dezembro de 1995.

A respeito de seus possíveis significados, analise as afirmativas a seguir.

- I. Os elementos paratextuais dessa tirinha, como a data de sua publicação no último dia do ano e o fato de ser a última tirinha publicada com esses personagens, fornecem ao leitor mais possibilidades interpretativas.
- II. Há um paralelo entre a ideia de neve e a ideia de possibilidade de recomeço, o que ressignifica a ideia de fim, presente no contexto de lançamento da tirinha.
- III. Quando afirma, no terceiro quadrinho, que um dia coberto pela neve é como ter “uma grande folha branca de papel para desenhar”, o tigre utiliza os códigos comunicativos da tirinha para se referir a ela mesma.

Está correto o que se afirma em

- A) I e II, apenas.
- B) II e III, apenas.
- C) I, apenas.
- D) I, II e III.

QUESTÃO 8

No quarto quadrinho, o garoto diz para o tigre: “É um mundo mágico, **Haroldo, velho camarada**...”.

Os termos destacados (“Haroldo” e “velho camarada”) classificam-se, respectiva e corretamente, como

- A) pronome e adjetivo.
- B) vocativo e aposto.
- C) aposto e adjunto adnominal.
- D) pronome e vocativo.

INSTRUÇÃO: Leia os textos a seguir para responder às questões de 9 a 10.

TEXTO I

‘Stamos em pleno mar... Abrindo as velas
Ao quente arfar das virações marinhas,
Veleiro brigue corre à flor dos mares,
Como roçam na vaga as andorinhas...

Donde vem? onde vai? Das naus errantes
Quem sabe o rumo se é tão grande o espaço?
Neste saara os corcéis o pó levantam,
Galopam, voam, mas não deixam traço.

[...]

Negras mulheres, suspendendo às tetas
Magras crianças, cujas bocas pretas
Rega o sangue das mães:
Outras moças, mas nuas e espantadas,
No turbilhão de espectros arrastadas,
Em ânsia e mágoa vãs!

E ri-se a orquestra irônica, estridente...
E da ronda fantástica a serpente
Faz doudas espirais...
Se o velho arqueja, se no chão resvala,
Ouvem-se gritos... o chicote estala.
E voam mais e mais...

Preso nos elos de uma só cadeia,
A multidão faminta cambaleia,
E chora e dança ali!
Um de raiva delira, outro enlouquece,
Outro, que martírios embrutece,
Cantando, geme e ri!

No entanto o capitão manda a manobra,
E após fitando o céu que se desdobra,
Tão puro sobre o mar,
Diz do fumo entre os densos nevoeiros:
“Vibrai rijo o chicote, marinheiros!
Fazei-os mais dançar!...”

(*Navio Negreiro* – Castro Alves – 1880).

Disponível em: <<http://biblio.com.br/defaultz.asp?link=http://biblio.com.br/conteudo/CastroAlves/navionegreiro.htm>>.
Acesso em: 5 ago. 2019.

TEXTO II

Estamos em pleno mar, embarcações de ferro e aço
Onde pessoas disputam palmo a palmo por um espaço
Nesse imenso rio negro de piche e asfalto
Cristo observa tudo calado de braços abertos lá do alto
Onde a lei do silêncio impede que ecoe o grito do morro
Dos poetas em barracos sem forro, que clamam por socorro
Homens de pele escura, sem sobrenome importante
Filhos de reis e rainhas de uma terra tão distante
O mar separa o Brasil da África
Um rio separa as periferias das mansões de magnatas
Uniformes diferenciam funcionários de patrões
A cor denuncia vítimas antigas de explorações
Trazidos em porões e navios negreiros
Tratados como animais, vendidos a fazendeiros
Vivendo em cativos

Negociados como mercadoria
Enriquecendo a classe nobre, hoje chamada burguesia
Deixou pra trás dialetos e crença
Caçados, mortos e açoitados quem tentou resistência
Tratados como gado, sem direito à educação
Emudeceram seus tambores, amaldiçoaram sua religião

[...]

(*Navio Negreiro* – Slim Rimografia – 2011). Disponível em:
<<https://www.lettras.mus.br/slim-rimografia/navio-negreiro/>>.
Acesso em: 5 ago. 2019.

QUESTÃO 9

A respeito da relação que os dois textos estabelecem entre si, analise as afirmativas a seguir.

- I. Apesar de se tratar de textos de gêneros textuais distintos (poesia e letra de música), ambos os abordam o processo de escravidão no Brasil.
- II. A repetição do primeiro verso e o uso do mesmo título do texto I, feitos pelo texto II, contribuem para a construção do significado do texto II.
- III. No texto I, observa-se o uso de aspectos estéticos da linguagem, trabalhada de forma poética por Castro Alves. Essa característica não está presente no texto II.

Está correto o que se afirma em

- A) I, apenas.
- B) I e II, apenas.
- C) I, II e III.
- D) III, apenas.

QUESTÃO 10

O texto de Slim realiza uma intertextualidade com o texto de Castro Alves.

Sobre esse diálogo, é incorreto afirmar:

- A) Observa-se que o texto II objetiva recontar a narrativa contada pelo texto I, realizando uma paráfrase, traduzindo, porém, a linguagem de Castro Alves para uma linguagem contemporânea e urbana, típica do *rap*.
- B) O texto de Slim reformula, à luz da contemporaneidade, as imagens de Castro Alves. Dessa maneira, o mar do navio negreiro transforma-se no mar de asfalto e piche, e as consequências da escravidão na atualidade são abordadas.
- C) Em “O mar separa o Brasil da África / Um rio separa as periferias das mansões de magnatas”, no texto II, está presente a ideia de continuidade temporal e de perpetuação do processo de escravidão, sintetizadas nas imagens de separação causada pelo mar, no passado, e pelo rio, no presente.
- D) Os versos “Vibrai rijo o chicote, marinheiros! / Fazei-os mais dançar!...”, de Castro Alves, encontram correspondência nos versos “Trazidos em porões e navios negreiros / Tratados como animais”, do texto II.

QUESTÃO 11

Analise a tirinha a seguir.



Disponível em: <<https://tinyurl.com/y2daz8x6>>. Acesso em: 5 ago. 2019.

Quanto à regência do verbo “assistir”, assinale a alternativa correta, considerando a norma-padrão.

- A) A regência encontra-se correta, pois, por se tratar de verbo transitivo direto, “assistir” não rege preposição.
- B) No sentido utilizado no último quadrinho, o verbo “assistir”, assim como quando significa “prestar assistência”, é transitivo indireto; portanto, a regência está incorreta.
- C) No sentido de “ver”, como utilizado no quadrinho, o verbo “assistir” é transitivo direto e indireto; portanto, o uso de preposição é facultativo, e a tirinha está correta.
- D) “Assistir”, no sentido utilizado pela última tirinha, é transitivo indireto; portanto, exige preposição, o que coloca a tirinha em desacordo com a norma-padrão.

QUESTÃO 12

Pra você ficar por dentro do que rola, convidamos a jornalista e apresentadora Renata Simões, para te guiar nesse vocabulário das ruas.

Se liga só:

Bapho: Um acontecimento para lá de inesperado, marcante. Algo que pode (ou não) causar uma revolução na vida. Às vezes é dito em tom de fofoca “preciso te contar um bapho” ou como comentário “que bapho!” Quando o bapho é muito bapho mesmo, a gente escreve com PH.

Salve: Um aceno, um alô. A gente manda salve pros amigos e quando quer avisar algo.

Tranqueira: Aquele ou aquilo que ninguém quer. Não é bom pra nada.

Causar: Tem gente que causa uma situação, um problema, um furor, uma excitação. Usado em sua maioria de maneira positiva, causar é o ato de chegar chegando ou perturbar alguma situação. O fulano pode causar no bar ao beber demais ou os amigos podem causar no show ao fazer um *mosh*.”

Disponível em: <<https://tinyurl.com/y39xbjkr>>. Acesso em: 5 ago. 2019.

A respeito do uso das gírias, assinale a alternativa incorreta.

- A) A língua, como elemento de comunicação que está a serviço do falante, modifica-se de acordo com suas necessidades comunicacionais e de criação de identidade, sendo a gíria uma expressão dessa função da linguagem.
- B) As gírias constituem uma criação de códigos linguísticos que empobrecem a linguagem, pois só são acessíveis a determinados grupos sociais. Por isso, os registros nos quais se utilizam gírias não fazem parte da língua portuguesa.
- C) A modalidade coloquial, na qual se verifica o uso das gírias, constitui uma variedade da língua portuguesa que abarca não só esse fenômeno, mas também marcas de oralidade, utilização distinta da sintaxe e criação de neologismos, por exemplo.
- D) Situações formais de comunicação exigem domínio das variantes formais da língua, como o conhecimento da norma-padrão. Nesses contextos, o uso de gírias e outros marcadores de dialeto não configura a escolha mais adequada de variantes linguísticas.

QUESTÃO 13

Analise o trecho a seguir.

“Oh, pedaço de mim
Oh, metade amputada de mim
Leva o que há de ti
**Que a saudade dói latejada
É assim como uma fisgada
No membro que já perdi”**

(*Metade de mim* – Chico Buarque). Disponível em: <<https://www.letras.mus.br/chico-buarque/86030/>>. Acesso em: 5 ago. 2019.

Nos versos em destaque, Chico Buarque utiliza imagens poéticas para descrever a saudade. O processo em questão denomina-se

- A) metonímia, uma vez que há a substituição do nome “saudade” por “fisgada”, na intenção de remeter à dor causada pela saudade.
- B) perífrase, pois, para dar ideia do sentimento provocado pela saudade, o autor recorre a uma expressão que identifica facilmente esse termo.
- C) símile, já que o segundo termo da metáfora (fisgada) é precedido de conjunção comparativa (como), comparando as duas ideias e criando a imagem poética.
- D) pleonasma, visto que ideias já expressas são repetidas ao longo dos versos, com o objetivo de enfatizar a imagem criada pelo autor.

QUESTÃO 14

Leia a tirinha a seguir.



Disponível em: <<http://dc.rbsdiret.com.br/imagesrc/23603232.jpg?w=660>>. Acesso em: 5 ago. 2019.

Quanto ao que afirma a tirinha, assinale com V as afirmativas verdadeiras e com F as falsas.

- () O paradoxo reside no fato de que locuções adverbiais femininas, como “às vezes”, recebem crase em todas as incidências, o que consiste num contraste entre as ideias expressas em “às vezes” e “sempre”.
- () O personagem Camilo identifica um paradoxo devido ao fato de que a instrução dada pela garota está errada: há casos específicos em que a locução adverbial “às vezes” não recebe crase.
- () Se “às vezes” for grafado sem crase, a depender da frase, pode haver mudança de sentido. É a isso que o personagem Camilo se refere quando afirma haver um “paradoxo” na fala da colega.

Assinale a sequência correta.

- A) V F F
- B) F V V
- C) V F V
- D) F V F

QUESTÃO 15

Analise a tirinha a seguir.



Disponível em: <<https://static.todamateria.com.br/upload/ti/ri/tirinha-0.jpg>>. Acesso em: 5 ago. 2019.

O motivo pelo qual a personagem sentiu-se “vingada”, em relação à fala “tenho bebido menas coca-cola” está corretamente justificado em:

- A) Há um desvio da norma-padrão no que diz respeito à concordância de número entre substantivo e determinante.
- B) A concordância verbal da frase está incorreta, uma vez que o verbo não concorda com o sujeito ao qual ele se refere.
- C) Uma palavra invariável está incorretamente flexionada, na tentativa de realizar concordância de gênero.
- D) A concordância de gênero entre o nome e o advérbio da frase está incorreta, pois o advérbio deveria acompanhar a flexão de gênero do nome.

LEGISLAÇÃO

QUESTÃO 16

Baseando-se no que que dispõe a Constituição da República de 1988, a Lei Orgânica do Município de Uberlândia trata da organização dos poderes municipais.

Tendo em vista o Poder Legislativo municipal, assinale com V as afirmativas verdadeiras e com F as falsas.

- () Cabe à Câmara Municipal, com a sanção do prefeito, dispor sobre a aquisição onerosa ou alienação de bens imóveis do município.
- () O subsídio dos vereadores será revisado anualmente, observando-se a mesma data e índice do subsídio dos deputados estaduais.
- () Poderá o vereador, desde a sua eleição até o fim de sua legislatura, ser titular de mais de um cargo ou mandato público eletivo, desde que compatíveis entre si.
- () Perderá o mandato o vereador investido na função de secretário ou procurador municipal, recebendo a remuneração da nova função assumida.

Assinale a sequência correta.

- A) V F F V
- B) V V F F
- C) F F V F
- D) F V V V

QUESTÃO 17

De acordo com a Lei Orgânica do Município de Uberlândia, é de competência do município

- A) criar, organizar e suprimir distritos, mediante autorização prévia das esferas estadual e federal.
- B) elaborar o plano diretor de desenvolvimento integrado.
- C) manter, com a cooperação técnica e financeira da União e do estado, programas de educação do ensino médio e superior.
- D) legislar privativamente sobre proteção à infância, à juventude, à gestante e ao idoso.

QUESTÃO 18

A Lei Complementar nº 40/1992 do município de Uberlândia estabelece critérios para a contagem do tempo de serviço público municipal local.

Será(ão) contado(s) apenas para efeito de aposentadoria e disponibilidade

- A) o tempo de serviço em atividade privada, vinculada a Previdência Social.
- B) os afastamentos em virtude de férias.
- C) a participação em júri ou outros serviços obrigatórios por lei.
- D) a licença para tratamento da própria saúde.

QUESTÃO 19

Sobre os direitos e vantagens dos servidores públicos do município de Uberlândia previstos na Lei Complementar Municipal nº 40/1992, assinale a alternativa incorreta.

- A) O vencimento dos cargos públicos é irredutível, porém a remuneração observará o disposto na Constituição Federal.
- B) Remuneração é o vencimento do cargo, acrescido das vantagens pecuniárias, permanentes ou temporárias, previstas em lei.
- C) O servidor que for exonerado do serviço público municipal perderá o direito ao recebimento do saldo proporcional aos dias trabalhados no mês, até o dia de seu desligamento.
- D) Mediante autorização do servidor, poderá ser efetuado desconto em sua remuneração a favor de qualquer pessoa física ou jurídica, por intermédio de regulamento.

QUESTÃO 20

De acordo com a Lei Complementar Municipal nº 40/1992, constituem indenizações ao servidor público, exceto:

- A) Aposentadoria.
- B) Ajuda de custo.
- C) Transporte.
- D) Diárias.

ATUALIDADES

QUESTÃO 21

O sarampo voltou a assombrar o Brasil no último ano. Em 2018, mais de 10 mil casos foram confirmados no país e, neste ano, os números não param de crescer. O estado de São Paulo, por exemplo, registrou um aumento de 303% (de 51 para 206) nos casos da doença entre junho e julho, de acordo com boletim divulgado pela Secretaria Estadual da Saúde.

[...]

Embora o sarampo seja conhecido como uma doença infantil, segundo o boletim da Secretaria, os jovens e adultos representam 47% dos casos atuais em São Paulo. A explicação para o novo foco da doença ser essa faixa etária está justamente no histórico da condição no país.

Disponível em: <<https://vivabem.uol.com.br/noticias/redacao/2019/07/11/por-que-agora-a-vacina-do-sarampo-e-direcionada-a-jovens-de-15-a-29-anos.htm>>.
Acesso em: 18 jul. 2019.

O estado de São Paulo tem intensificado o movimento de vacinação contra o sarampo de sua população, priorizando o grupo formado por jovens e adultos entre 15 e 29 anos de idade.

Essa faixa etária tem sido priorizada porque,

- A) nela, estão os maiores usuários de redes sociais, sendo, por isso, afetados pelo movimento antivacinação e receptivos a ele, deixando de ser vacinados quando crianças.
- B) no momento em que esse grupo priorizado nasceu, o Brasil foi certificado pela OPAS pela erradicação do sarampo, o que levou os pais a não vacinarem seus filhos.
- C) quando esse grupo era criança, a vacina era aplicada em apenas uma dose e a segunda, que protege contra o sarampo, começou a ser aplicada a partir do ano 2000.
- D) sendo essa doença altamente contagiosa, pessoas entre 15 e 29 anos de idade devem ser priorizadas na vacinação, uma vez que é nessa faixa que predominam grandes eventos sociais.

QUESTÃO 22

O Conjunto Praça Clarimundo Carneiro, com o Edifício da Câmara Municipal e o Coreto, é um dos principais espaços públicos localizados na região central de Uberlândia.

Sobre o Conjunto Praça Clarimundo Carneiro, é correto afirmar:

- A) Dado seu valor histórico e paisagístico, é um bem tombado pelo Instituto do Patrimônio Histórico e Artístico Nacional – IPHAN.
- B) Foi projetado e construído para corresponder à modernidade da época, materializada na proclamação da República.
- C) Recebeu esse nome na sua inauguração, em homenagem ao empresário da cidade que mais investiu na sua construção.
- D) Tem como um dos elementos de destaque o fato de ser a primeira praça do país construída sobre um cemitério.

QUESTÃO 23

Analisar os textos a seguir.

TEXTO I



Disponível em: <<https://electronalminds.wordpress.com/charges/>>. Acesso em: 14 jul. 2019.

TEXTO II

“Um relatório apresentado pelas Organizações das Nações Unidas (ONU) mostra que o Brasil é o maior produtor de lixo eletrônico (e-lixo) da América Latina, e, se contar todo o continente americano, fica atrás apenas dos Estados Unidos.”

Disponível em: <<https://diariodeuberlandia.com.br/noticia/21647/uberlandia-conta-com-opcoes-para-destinacao-correta-de-lixo-eletronico>>. Acesso em: 14 jul. 2019.

Sobre a destinação do lixo eletrônico no Brasil, é correto afirmar que a(o)

- A) indústria de eletrônicos recolhe seus produtos após o uso de forma compulsória.
- B) maior parte do lixo eletrônico brasileiro é destinada à reciclagem e ao reuso.
- C) e-lixo pode ser reciclado e seus componentes podem ser selecionados para destinação correta.
- D) lixo eletrônico, devido a sua composição tóxica, deve ser descartado isoladamente.

QUESTÃO 24

Uma parcela de 7% dos brasileiros acredita que o formato da Terra é plano, aponta uma pesquisa realizada pelo Instituto Datafolha no início deste mês. O levantamento contou com 2 086 entrevistados maiores de 16 anos de idade em 103 cidades pelo país e foi o primeiro a estimar quantos no país duvidam que o planeta seja esférico – cerca de 11 milhões de pessoas.

Disponível em: <<https://www1.folha.uol.com.br/ciencia/2019/07/7-dos-brasileiros-afirmam-que-terra-e-plana-mostra-pesquisa.shtml>>. Acesso em: 2 ago. 2019.

Sobre o crescimento do terraplanismo no Brasil, é correto afirmar:

- A) A adoção do terraplanismo tem sido, para seus adeptos, a oportunidade de ganhar visibilidade, dado que o movimento é disseminado por redes sociais.
- B) A população brasileira é marcadamente idosa, pois é nesse seguimento que se concentram as pessoas que seguem as teorias terraplanistas.
- C) O grande dano que ideias como o terraplanismo podem causar para os brasileiros, assim como para outros povos, é o de afastar a população da ciência.
- D) O índice de baixa escolaridade no país é muito grande, pois as pessoas que adotam o terraplanismo têm o Ensino Fundamental como grau máximo concluído.

QUESTÃO 25

A mobilidade urbana é um problema que afeta as grandes cidades na atualidade do Brasil e do mundo. Por isso, em várias cidades, verifica-se iniciativas que buscam oferecer soluções para esse problema.

O sistema alternativo que atende às demandas ambientais e econômicas para a mobilidade urbana é

- A) compartilhamento de bicicletas e patinetes.
- B) sistema de táxis-lotação, com itinerário semelhante ao dos ônibus.
- C) sistema de trens metropolitanos movidos por eletricidade.
- D) transporte automotivo por aplicativo.

MATEMÁTICA / RACIOCÍNIO LÓGICO

QUESTÃO 26

Oto, Téio e Tom são três amigos que trabalham juntos. Dois deles têm 34 anos de idade e sempre dizem mentira. Já o outro amigo, que tem 40 anos de idade, diz sempre a verdade.

Se Téio disse que a idade de Tom não é 34 anos de idade, então é correto afirmar que

- A) Oto tem 34 anos de idade.
- B) Téio e Tom sempre mentem.
- C) Téio tem 40 anos de idade.
- D) Tom diz sempre a verdade.

QUESTÃO 27

Max e seus cinco amigos estão em uma fila cujas posições ocorrem de forma crescente, sempre da esquerda para direita. Edu está em uma posição anterior à de Isa, que, por sua vez, está em uma posição, imediatamente, posterior à de Mel. Léo, com certeza, não está antes de todos os outros cinco amigos na fila, mas está em uma posição mais próxima da primeira do que da última. É certo que Eli está em uma posição anterior à de Edu e que esse, por sua vez, não ocupa a quarta posição da fila.

Dessa forma, é correto concluir que a pessoa que ocupa a quarta posição nessa fila

- A) é certamente Mel.
- B) é certamente Isa.
- C) pode ser Mel ou Isa.
- D) pode ser Mel ou Max.

QUESTÃO 28

Um professor entrou em sala e escreveu, sem dizer nada, a seguinte tabela no quadro.

Posição do termo na sequência	1	2	3	4	5	6	7	8
Valor do termo da sequência	3	5	3	-1	-3	-1	3	5

Após escrever essa tabela, o professor disse aos seus alunos que ela representava, ordenadamente, a posição e o valor dos oito primeiros termos de uma sequência, cuja lei de recorrência era aplicada a partir do seu terceiro termo. Imediatamente após essas informações, o professor pediu à aluna Dani que respondesse qual seria o valor do 79º termo dessa sequência.

Dani, de forma correta, respondeu para o professor, que era o número

- A) 5.
- B) 3.
- C) -1.
- D) -3.

QUESTÃO 29

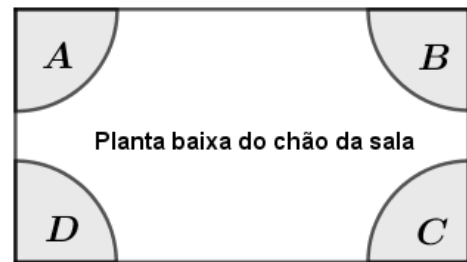
Cleide comprou um relógio analógico e descobriu, após algum tempo que a hora por ele marcada tinha um atraso com relação à indicação de hora correta. Após algumas observações, ela percebeu que seu relógio tinha um atraso de 3 segundos e 1 décimo de segundo a cada minuto que passava. Certo dia, Cleide parou totalmente seu relógio, e o ajustou corretamente ao horário real, que era exatamente de 14h, permanecendo o atraso do relógio a contar a partir desse horário.

Dessa forma, no horário correto, às 21h desse mesmo dia, o ponteiro dos segundos do relógio de Cleide apontava para marcação correspondente a

- A) 3 segundos.
- B) 7 segundos.
- C) 21 segundos.
- D) 42 segundos.

QUESTÃO 30

A figura a seguir representa a planta baixa do chão de uma sala. As regiões A, B, C e D representam aquecedores que serão colocados nos quatro cantos do chão dessa sala.



Para manter a sala sempre aquecida na temperatura ideal, é preciso que pelo menos um dos aquecedores esteja ligado. O número de maneiras distintas em que se pode ter pelo menos um dos aquecedores ligados é igual a

- A) 15.
- B) 24.
- C) 64.
- D) 96.

CONHECIMENTOS ESPECÍFICOS

FARMACÊUTICO – BIOQUÍMICO

QUESTÃO 31

Sobre a gestão clínica do medicamento, assinale com V as afirmativas verdadeiras e com F as falsas.

- () A gestão clínica do medicamento tem abordagem integral e contribui para aumentar tanto a eficiência como a resolutividade da assistência farmacêutica.
- () A gestão clínica do medicamento abrange atividades especializadas orientadas à promoção da adesão ao tratamento e de sua compreensão.
- () A gestão clínica do medicamento tem como foco o acesso à prescrição e à dispensação de maneira oportuna e eficiente.

Assinale a sequência correta.

- A) F F V
- B) V V F
- C) V F F
- D) F V V

QUESTÃO 32

Assinale a alternativa que apresenta o método de exame parasitológico de fezes que apresenta maior sensibilidade para diagnóstico de *S. mansoni*.

- A) Kato-Katz.
- B) Baermann-Moraes.
- C) Hofmman, Pons e Janer.
- D) Wills.

QUESTÃO 33

O processo biofarmacêutico da farmacoterapia não sofre influência do seguinte fator:

- A) Baixa qualidade do excipiente empregado na formulação de comprimido de ação retardada.
- B) Porcentagem de desintegrante empregada na fabricação do comprimido de ação imediata.
- C) Aumento da motilidade gástrica induzida por domperidona.
- D) Presença de acidulante em formulação parenteral para uso endovenoso.

QUESTÃO 34

São programas inseridos no componente estratégico da assistência farmacêutica, exceto:

- A) Dislipidemia.
- B) Hanseníase.
- C) Leishmaniose.
- D) Tabagismo.

QUESTÃO 35

Sobre medicamentos prescritos na Atenção Primária, relacione a COLUNA II com a COLUNA I, associando o medicamento disponível no Sistema Único de Saúde ao respectivo Programa de Saúde.

COLUNA I

1. Antimoniato de meglumina
2. Clofazimina
3. Etambutol
4. Glicazida
5. Levonorgestrel

COLUNA II

- () Diabetes
- () Hanseníase
- () Leishmaniose
- () Saúde da mulher
- () Tuberculose

Assinale a sequência correta.

- A) 2 1 3 4 5
- B) 2 3 1 5 4
- C) 4 2 1 5 3
- D) 4 3 2 1 5

QUESTÃO 36

A razão normatizada internacional é indicada para monitorização da farmacoterapia com antagonistas da vitamina K.

Assinale a alternativa que apresenta um fármaco antagonista da vitamina K.

- A) Apixabana
- B) Dabigatrana
- C) Fluvoxamina
- D) Varfarina

QUESTÃO 37

Na dosagem plasmática de glicose, é empregado o seguinte método colorimétrico:

- A) Glutamato desidrogenase.
- B) Hexoquinase.
- C) Picrato.
- D) Vanadato.

QUESTÃO 38

Considere um paciente, sexo feminino, 12 anos de idade, com resultado de exame parasitológico de fezes indicando presença de ovos de *Taenia sp.*

Nesse caso, o tratamento desse paciente deverá ser realizado com o seguinte medicamento:

- A) Paromicina.
- B) Praziquantel.
- C) Oxaminiquina.
- D) Tiabendazol.

QUESTÃO 39

Assinale a alternativa que apresenta o parâmetro farmacocinético que indica a velocidade e a extensão de absorção de um fármaco em uma forma farmacêutica sólida de uso oral, a partir de sua curva concentração / tempo na circulação sistêmica ou sua excreção na urina.

- A) Biodisponibilidade.
- B) Concentração no estado de equilíbrio.
- C) Tempo máximo de absorção.
- D) Volume de distribuição.

QUESTÃO 40

Assinale a alternativa que apresenta uma interação medicamentosa de natureza farmacocinética e cujo mecanismo é indução enzimática.

- A) Amiodarona + varfarina.
- B) Ciprofloxacino + carbonato de cálcio.
- C) Espironolactona + losartana.
- D) Rifampicina + sinvastatina.

QUESTÃO 41

Sobre a seleção de medicamentos no âmbito da assistência farmacêutica municipal, assinale com V as afirmativas verdadeiras e com F as falsas.

- () A seleção de medicamentos é parte integrante das ações que compõem o ciclo da assistência farmacêutica de um sistema municipal de saúde.
- () A seleção de medicamentos deve ser fundamentada na farmacoterapia baseada em evidências, para ser válida e confiável cientificamente.
- () Eficácia, segurança e custo comparativamente favoráveis são critérios para seleção de medicamentos em um sistema municipal de saúde.

Assinale a sequência correta.

- A) F F V
- B) F V F
- C) V F F
- D) V V V

QUESTÃO 42

Em relação à organização da assistência farmacêutica no Sistema Único de Saúde (SUS), assinale a alternativa correta.

- A) O ciclo da assistência farmacêutica é a articulação de componentes de natureza econômica, assistencial e operativa: normatização, seleção, programação, aquisição, armazenamento e dispensação.
- B) A seleção de medicamentos é a ação que estrutura todos os demais componentes do ciclo da assistência farmacêutica e se ampara no conceito de medicamentos essenciais.
- C) A dispensação é o componente responsável pelo suprimento e disponibilização de medicamento às unidades básicas de medicamentos.
- D) As etapas do ciclo da assistência farmacêutica devem ser desenvolvidas com base em um planejamento descendente, iniciado no nível estadual.

QUESTÃO 43

A piridoxina é empregada no tratamento da tuberculose para evitar o aparecimento de neuropatia periférica, induzida por

- A) etambutol.
- B) isoniazida.
- C) pirazinamida.
- D) rifampicina.

QUESTÃO 44

Assinale a alternativa que apresenta um análogo de insulina de longa duração.

- A) Asparte.
- B) Detemir.
- C) Glulisina.
- D) Lispro.

QUESTÃO 45

Um comprimido de revestimento entérico, em relação ao padrão de liberação de um fármaco, é classificado como comprimido de liberação

- A) estendida.
- B) imediata.
- C) prolongada.
- D) retardada.

QUESTÃO 46

Considere um paciente, 69 anos de idade, em uso de quatro medicamentos para hipertensão e diabetes. Após 15 dias de início dos medicamentos, apresentou edema de membros inferiores.

Assinale a alternativa que apresenta o fármaco que pode ter induzido o aparecimento desse edema.

- A) Anlodipino
- B) Losartana
- C) Pioglitazona
- D) Metformina

QUESTÃO 47

Homem, 65 anos de idade, com diagnóstico de hepatopatia com padrão colestático, não pode apresentar a seguinte alteração nos exames laboratoriais:

- A) Diminuição de bilirrubina direta.
- B) Elevação de fosfatase alcalina.
- C) Elevação de gamaglutamiltransferase.
- D) Tempo de protrombina prolongado.

QUESTÃO 48

Considere uma mulher de 24 anos de idade, solteira e com vida sexual ativa. O exame direto a fresco de secreção vaginal revelou presença de *Trichomonas vaginalis*. A ginecologista, em conversa com essa paciente sobre o resultado do exame, orientou-a sobre a infecção e prescreveu um antimicrobiano.

Assinale a alternativa em que consta um antimicrobiano adequado para tratar a infecção que essa paciente adquiriu.

- A) Amoxicilina
- B) Ciprofloxacina
- C) Metronidazol
- D) Sulfametoxazol + trimetropina

QUESTÃO 49

Analise o caso a seguir.

Homem, 48 anos de idade, portador de hipertensão resistente em uso de múltiplos medicamentos, compareceu ao serviço de saúde relatando anorexia, náuseas, diminuição da libido e aparecimento de ginecomastia.

A sintomatologia apresentada por esse homem pode ser atribuída ao seguinte fármaco:

- A) Anlodipino.
- B) Losartana.
- C) Hidralazina.
- D) Espironolactona.

QUESTÃO 50

A sífilis é uma doença infecciosa sistêmica causada pelo *Treponema pallidum*, cujo diagnóstico laboratorial é realizado empregando técnicas imunológicas.

Sobre os testes imunológicos usados para diagnóstico e acompanhamento do tratamento da infecção por sífilis, assinale a alternativa incorreta.

- A) Os testes não treponêmicos apresentam baixa sensibilidade nas sífilis primária, latente e terciária.
- B) O teste de imunofluorescência indireta, FTA-ABS, é muito sensível e específico podendo detectar anticorpos no estágio primário da infecção.
- C) O VDRL é um teste treponêmico e quantitativo que utiliza metodologia de aglutinação ativa ou floculação.
- D) Os testes não treponêmicos são utilizados para acompanhamento da efetividade do tratamento com benzilpenicilina benzatina.

GABARITO

(VERSÃO DO CANDIDATO)

01	A	B	C	D	26	A	B	C	D
	<input type="checkbox"/>	<input type="checkbox"/>	<input type="checkbox"/>	<input type="checkbox"/>		<input type="checkbox"/>	<input type="checkbox"/>	<input type="checkbox"/>	<input type="checkbox"/>
02	A	B	C	D	27	A	B	C	D
	<input type="checkbox"/>	<input type="checkbox"/>	<input type="checkbox"/>	<input type="checkbox"/>		<input type="checkbox"/>	<input type="checkbox"/>	<input type="checkbox"/>	<input type="checkbox"/>
03	A	B	C	D	28	A	B	C	D
	<input type="checkbox"/>	<input type="checkbox"/>	<input type="checkbox"/>	<input type="checkbox"/>		<input type="checkbox"/>	<input type="checkbox"/>	<input type="checkbox"/>	<input type="checkbox"/>
04	A	B	C	D	29	A	B	C	D
	<input type="checkbox"/>	<input type="checkbox"/>	<input type="checkbox"/>	<input type="checkbox"/>		<input type="checkbox"/>	<input type="checkbox"/>	<input type="checkbox"/>	<input type="checkbox"/>
05	A	B	C	D	30	A	B	C	D
	<input type="checkbox"/>	<input type="checkbox"/>	<input type="checkbox"/>	<input type="checkbox"/>		<input type="checkbox"/>	<input type="checkbox"/>	<input type="checkbox"/>	<input type="checkbox"/>
06	A	B	C	D	31	A	B	C	D
	<input type="checkbox"/>	<input type="checkbox"/>	<input type="checkbox"/>	<input type="checkbox"/>		<input type="checkbox"/>	<input type="checkbox"/>	<input type="checkbox"/>	<input type="checkbox"/>
07	A	B	C	D	32	A	B	C	D
	<input type="checkbox"/>	<input type="checkbox"/>	<input type="checkbox"/>	<input type="checkbox"/>		<input type="checkbox"/>	<input type="checkbox"/>	<input type="checkbox"/>	<input type="checkbox"/>
08	A	B	C	D	33	A	B	C	D
	<input type="checkbox"/>	<input type="checkbox"/>	<input type="checkbox"/>	<input type="checkbox"/>		<input type="checkbox"/>	<input type="checkbox"/>	<input type="checkbox"/>	<input type="checkbox"/>
09	A	B	C	D	34	A	B	C	D
	<input type="checkbox"/>	<input type="checkbox"/>	<input type="checkbox"/>	<input type="checkbox"/>		<input type="checkbox"/>	<input type="checkbox"/>	<input type="checkbox"/>	<input type="checkbox"/>
10	A	B	C	D	35	A	B	C	D
	<input type="checkbox"/>	<input type="checkbox"/>	<input type="checkbox"/>	<input type="checkbox"/>		<input type="checkbox"/>	<input type="checkbox"/>	<input type="checkbox"/>	<input type="checkbox"/>
11	A	B	C	D	36	A	B	C	D
	<input type="checkbox"/>	<input type="checkbox"/>	<input type="checkbox"/>	<input type="checkbox"/>		<input type="checkbox"/>	<input type="checkbox"/>	<input type="checkbox"/>	<input type="checkbox"/>
12	A	B	C	D	37	A	B	C	D
	<input type="checkbox"/>	<input type="checkbox"/>	<input type="checkbox"/>	<input type="checkbox"/>		<input type="checkbox"/>	<input type="checkbox"/>	<input type="checkbox"/>	<input type="checkbox"/>
13	A	B	C	D	38	A	B	C	D
	<input type="checkbox"/>	<input type="checkbox"/>	<input type="checkbox"/>	<input type="checkbox"/>		<input type="checkbox"/>	<input type="checkbox"/>	<input type="checkbox"/>	<input type="checkbox"/>
14	A	B	C	D	39	A	B	C	D
	<input type="checkbox"/>	<input type="checkbox"/>	<input type="checkbox"/>	<input type="checkbox"/>		<input type="checkbox"/>	<input type="checkbox"/>	<input type="checkbox"/>	<input type="checkbox"/>
15	A	B	C	D	40	A	B	C	D
	<input type="checkbox"/>	<input type="checkbox"/>	<input type="checkbox"/>	<input type="checkbox"/>		<input type="checkbox"/>	<input type="checkbox"/>	<input type="checkbox"/>	<input type="checkbox"/>
16	A	B	C	D	41	A	B	C	D
	<input type="checkbox"/>	<input type="checkbox"/>	<input type="checkbox"/>	<input type="checkbox"/>		<input type="checkbox"/>	<input type="checkbox"/>	<input type="checkbox"/>	<input type="checkbox"/>
17	A	B	C	D	42	A	B	C	D
	<input type="checkbox"/>	<input type="checkbox"/>	<input type="checkbox"/>	<input type="checkbox"/>		<input type="checkbox"/>	<input type="checkbox"/>	<input type="checkbox"/>	<input type="checkbox"/>
18	A	B	C	D	43	A	B	C	D
	<input type="checkbox"/>	<input type="checkbox"/>	<input type="checkbox"/>	<input type="checkbox"/>		<input type="checkbox"/>	<input type="checkbox"/>	<input type="checkbox"/>	<input type="checkbox"/>
19	A	B	C	D	44	A	B	C	D
	<input type="checkbox"/>	<input type="checkbox"/>	<input type="checkbox"/>	<input type="checkbox"/>		<input type="checkbox"/>	<input type="checkbox"/>	<input type="checkbox"/>	<input type="checkbox"/>
20	A	B	C	D	45	A	B	C	D
	<input type="checkbox"/>	<input type="checkbox"/>	<input type="checkbox"/>	<input type="checkbox"/>		<input type="checkbox"/>	<input type="checkbox"/>	<input type="checkbox"/>	<input type="checkbox"/>
21	A	B	C	D	46	A	B	C	D
	<input type="checkbox"/>	<input type="checkbox"/>	<input type="checkbox"/>	<input type="checkbox"/>		<input type="checkbox"/>	<input type="checkbox"/>	<input type="checkbox"/>	<input type="checkbox"/>
22	A	B	C	D	47	A	B	C	D
	<input type="checkbox"/>	<input type="checkbox"/>	<input type="checkbox"/>	<input type="checkbox"/>		<input type="checkbox"/>	<input type="checkbox"/>	<input type="checkbox"/>	<input type="checkbox"/>
23	A	B	C	D	48	A	B	C	D
	<input type="checkbox"/>	<input type="checkbox"/>	<input type="checkbox"/>	<input type="checkbox"/>		<input type="checkbox"/>	<input type="checkbox"/>	<input type="checkbox"/>	<input type="checkbox"/>
24	A	B	C	D	49	A	B	C	D
	<input type="checkbox"/>	<input type="checkbox"/>	<input type="checkbox"/>	<input type="checkbox"/>		<input type="checkbox"/>	<input type="checkbox"/>	<input type="checkbox"/>	<input type="checkbox"/>
25	A	B	C	D	50	A	B	C	D
	<input type="checkbox"/>	<input type="checkbox"/>	<input type="checkbox"/>	<input type="checkbox"/>		<input type="checkbox"/>	<input type="checkbox"/>	<input type="checkbox"/>	<input type="checkbox"/>

AO TRANSFERIR ESSAS MARCAÇÕES PARA A FOLHA DE RESPOSTAS, OBSERVE AS INSTRUÇÕES ESPECÍFICAS DADAS NA CAPA DA PROVA.

USE CANETA ESFEROGRÁFICA AZUL OU PRETA.

**ATENÇÃO:
AGUARDE AUTORIZAÇÃO
PARA VIRAR O CADERNO DE PROVA.**



CONCURSO PARA PROVIMENTO DE CARGOS DA PREFEITURA MUNICIPAL DE UBERLÂNDIA

Edital Nº 01 / 2019

ANALISTA EM CONTROLE INTERNO

Código: 403

LEIA COM ATENÇÃO AS SEGUINTE INSTRUÇÕES

1. Este caderno contém as questões da **Prova Objetiva**.
2. Use o Gabarito (Versão do Candidato) reproduzido ao final deste caderno apenas para marcar o gabarito.
3. Ao receber a **Folha de Respostas da Prova Objetiva**:
 - Confira seu nome, número de inscrição e cargo.
 - Assine, **A TINTA**, no espaço próprio indicado.

4. **ATENÇÃO**: transcreva no espaço apropriado da sua **FOLHA DE RESPOSTAS**, com sua caligrafia usual, mantendo as letras maiúsculas e minúsculas, desconsiderando aspas e autoria, a seguinte frase:

“Bravo não é quem sente medo, é quem o vence.” Nelson Mandela

ATENÇÃO:

FOLHA DE RESPOSTAS SEM ASSINATURA NÃO TEM VALIDADE.

5. Ao transferir as respostas para a **Folha de Respostas**:

01 A B C D

• use apenas caneta esferográfica azul ou preta.

02 A B C D

• preencha, sem forçar o papel, toda a área reservada à letra correspondente à resposta solicitada em cada questão.

03 A B C D

• assinale somente **uma** alternativa em cada questão.

04 A B C D

Sua resposta **NÃO** será computada se houver marcação de mais de uma alternativa, questões não assinaladas ou rasuras.

NÃO DEIXE NENHUMA QUESTÃO SEM RESPOSTA.

A **Folha de Respostas** não deve ser dobrada, amassada ou rasurada.

ATENÇÃO: Período de Sigilo – Não será permitido ao candidato se ausentar em definitivo da sala de provas antes de decorridas 2 (duas) horas do início das provas. O candidato não poderá fazer anotação de questões ou informações relativas às suas respostas no Comprovante Definitivo de Inscrição (CDI) ou em quaisquer outros meios, que não os permitidos neste Edital e especificados na capa da prova. Os candidatos não poderão utilizar, em hipótese alguma, lapiseira, corretivos ou lápis-borracha ou outro material distinto do constante no subitem 9.4.11 do Edital. Será proibido, durante a realização das provas, fazer uso ou portar, mesmo que desligados, telefone celular, relógios, *paggers*, *beep*, agenda eletrônica, lápis, borracha, corretivo, calculadora, *walkman*, *notebook*, *palmtop*, gravador, transmissor / receptor de mensagens de qualquer tipo ou qualquer outro equipamento eletrônico, fazer uso de óculos escuros, boné, chapéu, gorro, lenço ou similares, podendo a organização deste Concurso Público vetar o ingresso do candidato com outros aparelhos além dos anteriormente citados. Durante o período de realização das provas, não será permitida qualquer espécie de consulta ou comunicação entre os candidatos ou entre estes e pessoas estranhas, oralmente ou por escrito, assim como não será permitido o uso de livros, códigos, manuais, impressos, anotações ou quaisquer outros meios. O candidato não poderá levar os cadernos de questões das Provas Objetivas e de Redação, quando houver. Não haverá substituição da Folha de Respostas da Prova Objetiva e Caderno Oficial da Prova Redação devido a erro do candidato. Ao término do prazo estabelecido para a prova, os três últimos candidatos deverão permanecer na sala até que o último candidato termine sua prova. As instruções constantes no Caderno de Questões e na Folha de Respostas da Prova Objetiva, bem como as orientações e instruções expedidas pela Fundep durante a realização das provas, complementam o Edital e deverão ser rigorosamente observadas e seguidas pelo candidato.

O Caderno de Questões e o Gabarito da Prova Objetiva serão divulgados no endereço eletrônico www.gestaodeconcursos.com.br no dia 17 de dezembro de 2019.

DURAÇÃO MÁXIMA DA PROVA: 4 (QUATRO) HORAS



ATENÇÃO

Sr.(a) Candidato(a),

Antes de começar a fazer a prova, confira se este caderno contém, ao todo, **50 (cinquenta)** questões de múltipla escolha, cada uma constituída de 4 (quatro) alternativas de resposta, assim distribuídas: 15 (quinze) questões de **Língua Portuguesa**, 5 (cinco) questões de **Legislação**, 5 (cinco) questões de **Atualidades**, 5 (cinco) questões de **Matemática / Raciocínio Lógico** e 20 (vinte) questões de **Conhecimentos Específicos**, todas perfeitamente legíveis.

Havendo algum problema, informe **imediatamente** ao aplicador de provas para que ele tome as providências necessárias.

Caso não observe essa recomendação, não lhe caberão quaisquer reclamações ou recursos posteriores.

INSTRUÇÃO: Leia o texto a seguir para responder às questões de 1 a 5.

O sintomático desprezo pela ciência

Em março de 2018, António Guterres, secretário-geral da ONU, declarou: “As manchetes são naturalmente dominadas pela escalada das tensões, de conflitos ou de eventos políticos de alto nível, mas a verdade é que as mudanças climáticas permanecem a mais sistêmica ameaça à humanidade. Informações divulgadas recentemente pela Organização Meteorológica Mundial, pelo Banco Mundial e pela Agência Internacional de Energia mostram sua evolução implacável”. Meses antes, um discurso proferido em Riad por Christine Lagarde, diretora do Fundo Monetário Internacional, exibiu um teor similar: “Se não fizermos nada a respeito das mudanças climáticas, seremos tostados, assados e grelhados num horizonte de tempo de 50 anos”. Ambas as advertências reconhecem a extrema gravidade de nossa situação, a respeito da qual o Painel Intergovernamental sobre as Mudanças Climáticas (IPCC) é categórico: “O aquecimento do sistema climático é inequívoco. A influência humana sobre o sistema climático é clara. Limitar a mudança climática requer reduções substanciais e contínuas de emissões de gases de efeito estufa” (2007).

[...]

Malgrado esse acúmulo de saber e essa virtual unanimidade, a ciência do clima pode estar equivocada? Em princípio, sim. Ciência não é dogma, é diminuição da incerteza. Contestar um consenso científico, mesmo o mais sólido, não pode ser objeto de anátema. Mas quem o põe em dúvida deve apresentar argumentos convergentes e convincentes em sentido contrário. Na ausência destes, contestação torna-se simples denegação irracional, enfraquece o poder persuasivo da evidência, milita em favor da perda da autoridade da ciência na formação de uma visão minimamente racional do mundo e turbina a virulência das redes sociais, dos “fatos alternativos”, da pós-verdade, do fanatismo religioso e das crenças mais estapafúrdias e até há pouco inimagináveis. O negacionismo climático é apenas mais uma dessas crenças [...], e seu repertório esgrime as mesmas surradas inverdades, mil vezes refutadas: os cientistas estão divididos sobre a ciência do clima, os modelos climáticos são falhos, maiores concentrações atmosféricas de CO₂ são efeito e não causa do aquecimento global e são benéficas para a fotossíntese, o próximo mínimo solar anulará o aquecimento global, não se deve temer esse aquecimento, mas a recaída numa nova glaciação etc. Esse palavreado resulta de esforços deliberados de denegação das evidências. Diretamente ou através, por exemplo, da Donors Trust e da Donors Capital Fund, as corporações injetam milhões de dólares em *lobbies* disseminadores de desinformação sobre as mudanças climáticas.

[...]

Malgrado alguma tangência ideológica entre certa esquerda e a extrema-direita, o negacionismo climático e a negação da ciência em geral são fundamentalmente uma bandeira da extrema-direita e é preciso pôr em evidência uma razão maior dessa estreita afinidade. Ela se encontra, a meu ver, numa mutação histórica fundamental do teor do discurso científico. Das revoluções científicas do século XVII a meados do século XX, a ciência galgou posição de hegemonia, destronando discursos de outra natureza, como o religioso e o artístico, porque foi capaz de oferecer às sociedades vitoriosas mais energia, mais mobilidade, mais bens em geral, mais capacidade de sobrevivência, em suma, mais segurança. Seus benefícios eram indiscutíveis e apenas confirmavam suas promessas, que pareciam ilimitadas. A partir de 1962, se quisermos uma data, o livro de Rachel Carson, “Primavera Silenciosa” punha a nu pela primeira vez o lado sombrio dessas conquistas da ciência: agrotóxicos como o DDT aumentavam, de fato, a produtividade agrícola, mas ao preço de danos tremendos à saúde e à biodiversidade. Essa primeira dissonância tornou-se muito maior nos anos 1980, quando o aquecimento global resultante das emissões de CO₂ pela queima de combustíveis fósseis – justamente esses combustíveis aos quais devíamos o essencial de nosso progresso – tornou-se pela primeira vez inequívoco. A ciência começa, então, a mudar seu discurso. Ela passa a anunciar que havíamos passado da idade das promessas à idade das escolhas, de modo a evitar a idade das consequências. [...] Uma brecha começava a se abrir na imagem social da ciência. Enquanto os cientistas diziam o que queríamos ouvir, tudo era defesa e apologia da ciência. A partir do momento em que seu discurso converteu-se em alertas e advertências sobre os riscos crescentes a que começávamos a nos expor, esse entusiasmo arrefeceu.

[...]

Em nosso século, esse novo mal-estar na civilização não cessou de crescer. Ele toma hoje a forma de uma espécie de divisão esquizofrênica da autoimagem de uma sociedade moldada pela ciência. Quando entramos num avião, atravessamos uma ponte ou tomamos um remédio, somos gratos às tentativas da ciência de compreender o mundo e traduzi-lo em tecnologia. Mas quando dessa mesma ciência vem o aviso que é preciso mudar o modo de funcionamento de nossa economia, conter nossa voracidade, diminuir o consumo de carne, restaurar as florestas e redefinir nossa relação com a natureza, sob pena de nos precipitarmos num colapso de insondáveis proporções, a gratidão cede lugar à indiferença, ao descrédito e mesmo à hostilidade.

[...]

Disponível em: <<https://adunicamp.org.br/artigo-o-sintomatico-desprezo-pela-ciencia/>>. Acesso em: 2 ago. 2019.

QUESTÃO 1

Releia este trecho.

“**Malgrado** alguma tangência ideológica entre certa esquerda e a extrema-direita, o negacionismo climático e a negação da ciência em geral são fundamentalmente uma bandeira da extrema-direita e é preciso pôr em evidência uma razão maior dessa estreita afinidade.”

A conjunção em destaque pode ser substituída, sem prejuízo de sentido, por:

- A) Por causa de
- B) À medida que
- C) Uma vez que
- D) Apesar de

QUESTÃO 2

Uma das ideias que o texto em questão aborda é o declínio da apreciação da ciência ao longo do tempo.

Assinale a alternativa que resume corretamente esse processo.

- A) A ciência foi tomada como verdade incontestável quando de sua implantação na sociedade, à época da Revolução Industrial. Porém, com a evolução do pensamento crítico, começou a ser contestada.
- B) O pensamento científico, a partir do século XVII, teve muita aderência entre a sociedade; porém, quando começou a esbarrar ideologicamente nos discursos religiosos e artísticos, viu seu prestígio entrar em declínio.
- C) Enquanto provia progresso e benefícios à sociedade, o discurso científico foi defendido. Porém, passou a ser questionado quando começou a alarmar a sociedade sobre os riscos do modo de funcionamento dela.
- D) As grandes corporações trabalham atualmente para restabelecer a confiança e o prestígio no discurso científico, o qual começou a ser desacreditado a partir da publicação da obra *Primavera silenciosa*, que questiona os benefícios da ciência.

QUESTÃO 3

Releia este trecho.

“Em março de 2018, António Guterres, secretário-geral da ONU, declarou: ‘As manchetes são naturalmente dominadas pela escalada das tensões, de conflitos ou de eventos políticos de alto nível, mas a verdade é que as mudanças climáticas permanecem a mais sistêmica ameaça à humanidade.’”

Quanto à estratégia argumentativa utilizada nesse trecho, é correto afirmar que se trata de argumentação por

- A) exemplificação: a fala do autor citado é tomada como exemplo de argumentação semelhante à expressa no texto.
- B) autoridade: é utilizada a fala de um especialista na área discutida – António Guterres – com a intenção de reiterar e fundamentar a opinião expressa pelo texto.
- C) causa e consequência: a lógica do texto é construída por meio do encadeamento entre uma causa e uma consequência, referentes ao assunto de discussão.
- D) provas concretas: é utilizada uma prova comprovável extraída da realidade, no sentido de sustentar a argumentação do texto.

QUESTÃO 4

Releia este trecho.

“Ciência não é dogma, é diminuição da incerteza.”

Considerando o trecho e o contexto no qual se insere, é correto afirmar que a ideia que ele expressa também se encontra em:

- A) “Contestar um consenso científico, mesmo o mais sólido, não pode ser objeto de anátema.”
- B) “O negacionismo climático é apenas mais uma dessas crenças [...], e seu repertório esgrime as mesmas surradas inverdades, mil vezes refutadas.”
- C) “Na ausência destes [argumentos convincentes], contestação torna-se simples denegação irracional [...].”
- D) “[...] as corporações injetam milhões de dólares em *lobbies* disseminadores de desinformação sobre as mudanças climáticas.”

QUESTÃO 5

A respeito da argumentação observada no texto sobre a contestação da ciência do clima, analise as afirmativas a seguir.

- I. O autor não acredita na possibilidade de se contestar as notícias alarmantes sobre o tema.
- II. A ideia de que “não se deve temer esse aquecimento, mas a recaída numa nova glaciação” é tomada pelo texto como uma contestação válida contra o alarmismo do aquecimento global.
- III. Segundo o texto, existe uma motivação financeira impulsionando a desinformação a respeito dos avisos feitos pela ciência do clima.

Está correto o que se afirma em

- A) I, apenas.
- B) I e II, apenas.
- C) III, apenas.
- D) II e III, apenas.

QUESTÃO 6

Analise o trecho a seguir.


“Não por acaso, o novo conhecimento deixou o mundo perplexo e foi aplicado na investigação genética dos mais diversos casos: verificação de paternidade, de outros graus de parentesco, identificação de fósseis e até o estudo de predisposição genética a algumas doenças.”

Disponível em: <<https://tinyurl.com/y2c3ot4f>>. Acesso em: 5 ago. 2019.

A respeito do uso dos dois-pontos, é correto afirmar que, nesse trecho, eles marcam uma

- A) enumeração explicativa.
- B) síntese do que foi enunciado.
- C) citação de autoria diversa.
- D) consequência do que foi enunciado.

INSTRUÇÃO: Leia a tirinha a seguir para responder às questões 7 e 8.



Disponível em: <<https://escolaeducacao.com.br/calvin-e-haroldo/>>. Acesso em: 5 ago. 2019.

QUESTÃO 7

A tirinha em questão é a última da série *Calvin e Haroldo*, de autoria de Bill Watterson, publicada dia 31 de dezembro de 1995.

A respeito de seus possíveis significados, analise as afirmativas a seguir.

- I. Os elementos paratextuais dessa tirinha, como a data de sua publicação no último dia do ano e o fato de ser a última tirinha publicada com esses personagens, fornecem ao leitor mais possibilidades interpretativas.
- II. Há um paralelo entre a ideia de neve e a ideia de possibilidade de recomeço, o que ressignifica a ideia de fim, presente no contexto de lançamento da tirinha.
- III. Quando afirma, no terceiro quadrinho, que um dia coberto pela neve é como ter “uma grande folha branca de papel para desenhar”, o tigre utiliza os códigos comunicativos da tirinha para se referir a ela mesma.

Está correto o que se afirma em

- A) I e II, apenas.
- B) II e III, apenas.
- C) I, apenas.
- D) I, II e III.

QUESTÃO 8

No quarto quadrinho, o garoto diz para o tigre: “É um mundo mágico, **Haroldo, velho camarada**...”.

Os termos destacados (“Haroldo” e “velho camarada”) classificam-se, respectiva e corretamente, como

- A) pronome e adjetivo.
- B) vocativo e aposto.
- C) aposto e adjunto adnominal.
- D) pronome e vocativo.

INSTRUÇÃO: Leia os textos a seguir para responder às questões de 9 a 10.

TEXTO I

‘Stamos em pleno mar... Abrindo as velas
Ao quente arfar das virações marinhas,
Veleiro brigue corre à flor dos mares,
Como roçam na vaga as andorinhas...

Donde vem? onde vai? Das naus errantes
Quem sabe o rumo se é tão grande o espaço?
Neste saara os corcéis o pó levantam,
Galopam, voam, mas não deixam traço.

[...]

Negras mulheres, suspendendo às tetas
Magras crianças, cujas bocas pretas
Rega o sangue das mães:
Outras moças, mas nuas e espantadas,
No turbilhão de espectros arrastadas,
Em ânsia e mágoa vãs!

E ri-se a orquestra irônica, estridente...
E da ronda fantástica a serpente
Faz doudas espirais...
Se o velho arqueja, se no chão resvala,
Ouvem-se gritos... o chicote estala.
E voam mais e mais...

Preso nos elos de uma só cadeia,
A multidão faminta cambaleia,
E chora e dança ali!
Um de raiva delira, outro enlouquece,
Outro, que martírios embrutece,
Cantando, geme e ri!

No entanto o capitão manda a manobra,
E após fitando o céu que se desdobra,
Tão puro sobre o mar,
Diz do fumo entre os densos nevoeiros:
“Vibrai rijo o chicote, marinheiros!
Fazei-os mais dançar!...”

(*Navio Negreiro* – Castro Alves – 1880).

Disponível em: <<http://biblio.com.br/defaultz.asp?link=http://biblio.com.br/conteudo/CastroAlves/navionegreiro.htm>>.
Acesso em: 5 ago. 2019.

TEXTO II

Estamos em pleno mar, embarcações de ferro e aço
Onde pessoas disputam palmo a palmo por um espaço
Nesse imenso rio negro de piche e asfalto
Cristo observa tudo calado de braços abertos lá do alto
Onde a lei do silêncio impede que ecoe o grito do morro
Dos poetas em barracos sem forro, que clamam por socorro
Homens de pele escura, sem sobrenome importante
Filhos de reis e rainhas de uma terra tão distante
O mar separa o Brasil da África
Um rio separa as periferias das mansões de magnatas
Uniformes diferenciam funcionários de patrões
A cor denuncia vítimas antigas de explorações
Trazidos em porões e navios negreiros
Tratados como animais, vendidos a fazendeiros
Vivendo em cativos

Negociados como mercadoria
Enriquecendo a classe nobre, hoje chamada burguesia
Deixou pra trás dialetos e crença
Caçados, mortos e açoitados quem tentou resistência
Tratados como gado, sem direito à educação
Emudeceram seus tambores, amaldiçoaram sua religião

[...]

(*Navio Negreiro* – Slim Rimografia – 2011). Disponível em:
<<https://www.lettras.mus.br/slim-rimografia/navio-negreiro/>>.
Acesso em: 5 ago. 2019.

QUESTÃO 9

A respeito da relação que os dois textos estabelecem entre si, analise as afirmativas a seguir.

- I. Apesar de se tratar de textos de gêneros textuais distintos (poesia e letra de música), ambos os abordam o processo de escravidão no Brasil.
- II. A repetição do primeiro verso e o uso do mesmo título do texto I, feitos pelo texto II, contribuem para a construção do significado do texto II.
- III. No texto I, observa-se o uso de aspectos estéticos da linguagem, trabalhada de forma poética por Castro Alves. Essa característica não está presente no texto II.

Está correto o que se afirma em

- A) I, apenas.
- B) I e II, apenas.
- C) I, II e III.
- D) III, apenas.

QUESTÃO 10

O texto de Slim realiza uma intertextualidade com o texto de Castro Alves.

Sobre esse diálogo, é incorreto afirmar:

- A) Observa-se que o texto II objetiva recontar a narrativa contada pelo texto I, realizando uma paráfrase, traduzindo, porém, a linguagem de Castro Alves para uma linguagem contemporânea e urbana, típica do *rap*.
- B) O texto de Slim reformula, à luz da contemporaneidade, as imagens de Castro Alves. Dessa maneira, o mar do navio negreiro transforma-se no mar de asfalto e piche, e as consequências da escravidão na atualidade são abordadas.
- C) Em “O mar separa o Brasil da África / Um rio separa as periferias das mansões de magnatas”, no texto II, está presente a ideia de continuidade temporal e de perpetuação do processo de escravidão, sintetizadas nas imagens de separação causada pelo mar, no passado, e pelo rio, no presente.
- D) Os versos “Vibrai rijo o chicote, marinheiros! / Fazei-os mais dançar!...”, de Castro Alves, encontram correspondência nos versos “Trazidos em porões e navios negreiros / Tratados como animais”, do texto II.

QUESTÃO 11

Analise a tirinha a seguir.



Disponível em: <<https://tinyurl.com/y2daz8x6>>. Acesso em: 5 ago. 2019.

Quanto à regência do verbo “assistir”, assinale a alternativa correta, considerando a norma-padrão.

- A) A regência encontra-se correta, pois, por se tratar de verbo transitivo direto, “assistir” não rege preposição.
- B) No sentido utilizado no último quadrinho, o verbo “assistir”, assim como quando significa “prestar assistência”, é transitivo indireto; portanto, a regência está incorreta.
- C) No sentido de “ver”, como utilizado no quadrinho, o verbo “assistir” é transitivo direto e indireto; portanto, o uso de preposição é facultativo, e a tirinha está correta.
- D) “Assistir”, no sentido utilizado pela última tirinha, é transitivo indireto; portanto, exige preposição, o que coloca a tirinha em desacordo com a norma-padrão.

QUESTÃO 12

Pra você ficar por dentro do que rola, convidamos a jornalista e apresentadora Renata Simões, para te guiar nesse vocabulário das ruas.

Se liga só:

Bapho: Um acontecimento para lá de inesperado, marcante. Algo que pode (ou não) causar uma revolução na vida. Às vezes é dito em tom de fofoca “preciso te contar um bapho” ou como comentário “que bapho!” Quando o bapho é muito bapho mesmo, a gente escreve com PH.

Salve: Um aceno, um alô. A gente manda salve pros amigos e quando quer avisar algo.

Tranqueira: Aquele ou aquilo que ninguém quer. Não é bom pra nada.

Causar: Tem gente que causa uma situação, um problema, um furor, uma excitação. Usado em sua maioria de maneira positiva, causar é o ato de chegar chegando ou perturbar alguma situação. O fulano pode causar no bar ao beber demais ou os amigos podem causar no show ao fazer um *mosh*.”

Disponível em: <<https://tinyurl.com/y39xbjkr>>. Acesso em: 5 ago. 2019.

A respeito do uso das gírias, assinale a alternativa incorreta.

- A) A língua, como elemento de comunicação que está a serviço do falante, modifica-se de acordo com suas necessidades comunicacionais e de criação de identidade, sendo a gíria uma expressão dessa função da linguagem.
- B) As gírias constituem uma criação de códigos linguísticos que empobrecem a linguagem, pois só são acessíveis a determinados grupos sociais. Por isso, os registros nos quais se utilizam gírias não fazem parte da língua portuguesa.
- C) A modalidade coloquial, na qual se verifica o uso das gírias, constitui uma variedade da língua portuguesa que abarca não só esse fenômeno, mas também marcas de oralidade, utilização distinta da sintaxe e criação de neologismos, por exemplo.
- D) Situações formais de comunicação exigem domínio das variantes formais da língua, como o conhecimento da norma-padrão. Nesses contextos, o uso de gírias e outros marcadores de dialeto não configura a escolha mais adequada de variantes linguísticas.

QUESTÃO 13

Analise o trecho a seguir.

“Oh, pedaço de mim
Oh, metade amputada de mim
Leva o que há de ti
**Que a saudade dói latejada
É assim como uma fisgada
No membro que já perdi”**

(*Metade de mim* – Chico Buarque). Disponível em: <<https://www.letras.mus.br/chico-buarque/86030/>>. Acesso em: 5 ago. 2019.

Nos versos em destaque, Chico Buarque utiliza imagens poéticas para descrever a saudade. O processo em questão denomina-se

- A) metonímia, uma vez que há a substituição do nome “saudade” por “fisgada”, na intenção de remeter à dor causada pela saudade.
- B) perífrase, pois, para dar ideia do sentimento provocado pela saudade, o autor recorre a uma expressão que identifica facilmente esse termo.
- C) símile, já que o segundo termo da metáfora (fisgada) é precedido de conjunção comparativa (como), comparando as duas ideias e criando a imagem poética.
- D) pleonasma, visto que ideias já expressas são repetidas ao longo dos versos, com o objetivo de enfatizar a imagem criada pelo autor.

QUESTÃO 14

Leia a tirinha a seguir.



Disponível em: <<http://dc.rbsdiret.com.br/imagesrc/23603232.jpg?w=660>>. Acesso em: 5 ago. 2019.

Quanto ao que afirma a tirinha, assinale com V as afirmativas verdadeiras e com F as falsas.

- () O paradoxo reside no fato de que locuções adverbiais femininas, como “às vezes”, recebem crase em todas as incidências, o que consiste num contraste entre as ideias expressas em “às vezes” e “sempre”.
- () O personagem Camilo identifica um paradoxo devido ao fato de que a instrução dada pela garota está errada: há casos específicos em que a locução adverbial “às vezes” não recebe crase.
- () Se “às vezes” for grafado sem crase, a depender da frase, pode haver mudança de sentido. É a isso que o personagem Camilo se refere quando afirma haver um “paradoxo” na fala da colega.

Assinale a sequência correta.

- A) V F F
- B) F V V
- C) V F V
- D) F V F

QUESTÃO 15

Analise a tirinha a seguir.



Disponível em: <<https://static.todamateria.com.br/upload/ti/ri/tirinha-0.jpg>>. Acesso em: 5 ago. 2019.

O motivo pelo qual a personagem sentiu-se “vingada”, em relação à fala “tenho bebido menas coca-cola” está corretamente justificado em:

- A) Há um desvio da norma-padrão no que diz respeito à concordância de número entre substantivo e determinante.
- B) A concordância verbal da frase está incorreta, uma vez que o verbo não concorda com o sujeito ao qual ele se refere.
- C) Uma palavra invariável está incorretamente flexionada, na tentativa de realizar concordância de gênero.
- D) A concordância de gênero entre o nome e o advérbio da frase está incorreta, pois o advérbio deveria acompanhar a flexão de gênero do nome.

LEGISLAÇÃO

QUESTÃO 16

Baseando-se no que que dispõe a Constituição da República de 1988, a Lei Orgânica do Município de Uberlândia trata da organização dos poderes municipais.

Tendo em vista o Poder Legislativo municipal, assinale com V as afirmativas verdadeiras e com F as falsas.

- () Cabe à Câmara Municipal, com a sanção do prefeito, dispor sobre a aquisição onerosa ou alienação de bens imóveis do município.
- () O subsídio dos vereadores será revisado anualmente, observando-se a mesma data e índice do subsídio dos deputados estaduais.
- () Poderá o vereador, desde a sua eleição até o fim de sua legislatura, ser titular de mais de um cargo ou mandato público eletivo, desde que compatíveis entre si.
- () Perderá o mandato o vereador investido na função de secretário ou procurador municipal, recebendo a remuneração da nova função assumida.

Assinale a sequência correta.

- A) V F F V
- B) V V F F
- C) F F V F
- D) F V V V

QUESTÃO 17

De acordo com a Lei Orgânica do Município de Uberlândia, é de competência do município

- A) criar, organizar e suprimir distritos, mediante autorização prévia das esferas estadual e federal.
- B) elaborar o plano diretor de desenvolvimento integrado.
- C) manter, com a cooperação técnica e financeira da União e do estado, programas de educação do ensino médio e superior.
- D) legislar privativamente sobre proteção à infância, à juventude, à gestante e ao idoso.

QUESTÃO 18

A Lei Complementar nº 40/1992 do município de Uberlândia estabelece critérios para a contagem do tempo de serviço público municipal local.

Será(ão) contado(s) apenas para efeito de aposentadoria e disponibilidade

- A) o tempo de serviço em atividade privada, vinculada a Previdência Social.
- B) os afastamentos em virtude de férias.
- C) a participação em júri ou outros serviços obrigatórios por lei.
- D) a licença para tratamento da própria saúde.

QUESTÃO 19

Sobre os direitos e vantagens dos servidores públicos do município de Uberlândia previstos na Lei Complementar Municipal nº 40/1992, assinale a alternativa incorreta.

- A) O vencimento dos cargos públicos é irredutível, porém a remuneração observará o disposto na Constituição Federal.
- B) Remuneração é o vencimento do cargo, acrescido das vantagens pecuniárias, permanentes ou temporárias, previstas em lei.
- C) O servidor que for exonerado do serviço público municipal perderá o direito ao recebimento do saldo proporcional aos dias trabalhados no mês, até o dia de seu desligamento.
- D) Mediante autorização do servidor, poderá ser efetuado desconto em sua remuneração a favor de qualquer pessoa física ou jurídica, por intermédio de regulamento.

QUESTÃO 20

De acordo com a Lei Complementar Municipal nº 40/1992, constituem indenizações ao servidor público, exceto:

- A) Aposentadoria.
- B) Ajuda de custo.
- C) Transporte.
- D) Diárias.

ATUALIDADES

QUESTÃO 21

O sarampo voltou a assombrar o Brasil no último ano. Em 2018, mais de 10 mil casos foram confirmados no país e, neste ano, os números não param de crescer. O estado de São Paulo, por exemplo, registrou um aumento de 303% (de 51 para 206) nos casos da doença entre junho e julho, de acordo com boletim divulgado pela Secretaria Estadual da Saúde.

[...]

Embora o sarampo seja conhecido como uma doença infantil, segundo o boletim da Secretaria, os jovens e adultos representam 47% dos casos atuais em São Paulo. A explicação para o novo foco da doença ser essa faixa etária está justamente no histórico da condição no país.

Disponível em: <<https://vivabem.uol.com.br/noticias/redacao/2019/07/11/por-que-agora-a-vacina-do-sarampo-e-direcionada-a-jovens-de-15-a-29-anos.htm>>.
Acesso em: 18 jul. 2019.

O estado de São Paulo tem intensificado o movimento de vacinação contra o sarampo de sua população, priorizando o grupo formado por jovens e adultos entre 15 e 29 anos de idade.

Essa faixa etária tem sido priorizada porque,

- A) nela, estão os maiores usuários de redes sociais, sendo, por isso, afetados pelo movimento antivacinação e receptivos a ele, deixando de ser vacinados quando crianças.
- B) no momento em que esse grupo priorizado nasceu, o Brasil foi certificado pela OPAS pela erradicação do sarampo, o que levou os pais a não vacinarem seus filhos.
- C) quando esse grupo era criança, a vacina era aplicada em apenas uma dose e a segunda, que protege contra o sarampo, começou a ser aplicada a partir do ano 2000.
- D) sendo essa doença altamente contagiosa, pessoas entre 15 e 29 anos de idade devem ser priorizadas na vacinação, uma vez que é nessa faixa que predominam grandes eventos sociais.

QUESTÃO 22

O Conjunto Praça Clarimundo Carneiro, com o Edifício da Câmara Municipal e o Coreto, é um dos principais espaços públicos localizados na região central de Uberlândia.

Sobre o Conjunto Praça Clarimundo Carneiro, é correto afirmar:

- A) Dado seu valor histórico e paisagístico, é um bem tombado pelo Instituto do Patrimônio Histórico e Artístico Nacional – IPHAN.
- B) Foi projetado e construído para corresponder à modernidade da época, materializada na proclamação da República.
- C) Recebeu esse nome na sua inauguração, em homenagem ao empresário da cidade que mais investiu na sua construção.
- D) Tem como um dos elementos de destaque o fato de ser a primeira praça do país construída sobre um cemitério.

QUESTÃO 23

Analise os textos a seguir.

TEXTO I



Disponível em: <<https://electronalminds.wordpress.com/charges/>>. Acesso em: 14 jul. 2019.

TEXTO II

“Um relatório apresentado pelas Organizações das Nações Unidas (ONU) mostra que o Brasil é o maior produtor de lixo eletrônico (e-lixo) da América Latina, e, se contar todo o continente americano, fica atrás apenas dos Estados Unidos.”

Disponível em: <<https://diariodeuberlandia.com.br/noticia/21647/uberlandia-conta-com-opcoes-para-destinacao-correta-de-lixo-eletronico>>. Acesso em: 14 jul. 2019.

Sobre a destinação do lixo eletrônico no Brasil, é correto afirmar que a(o)

- A) indústria de eletrônicos recolhe seus produtos após o uso de forma compulsória.
- B) maior parte do lixo eletrônico brasileiro é destinada à reciclagem e ao reuso.
- C) e-lixo pode ser reciclado e seus componentes podem ser selecionados para destinação correta.
- D) lixo eletrônico, devido a sua composição tóxica, deve ser descartado isoladamente.

QUESTÃO 24

Uma parcela de 7% dos brasileiros acredita que o formato da Terra é plano, aponta uma pesquisa realizada pelo Instituto Datafolha no início deste mês. O levantamento contou com 2 086 entrevistados maiores de 16 anos de idade em 103 cidades pelo país e foi o primeiro a estimar quantos no país duvidam que o planeta seja esférico – cerca de 11 milhões de pessoas.

Disponível em: <<https://www1.folha.uol.com.br/ciencia/2019/07/7-dos-brasileiros-afirmam-que-terra-e-plana-mostra-pesquisa.shtml>>. Acesso em: 2 ago. 2019.

Sobre o crescimento do terraplanismo no Brasil, é correto afirmar:

- A) A adoção do terraplanismo tem sido, para seus adeptos, a oportunidade de ganhar visibilidade, dado que o movimento é disseminado por redes sociais.
- B) A população brasileira é marcadamente idosa, pois é nesse seguimento que se concentram as pessoas que seguem as teorias terraplanistas.
- C) O grande dano que ideias como o terraplanismo podem causar para os brasileiros, assim como para outros povos, é o de afastar a população da ciência.
- D) O índice de baixa escolaridade no país é muito grande, pois as pessoas que adotam o terraplanismo têm o Ensino Fundamental como grau máximo concluído.

QUESTÃO 25

A mobilidade urbana é um problema que afeta as grandes cidades na atualidade do Brasil e do mundo. Por isso, em várias cidades, verifica-se iniciativas que buscam oferecer soluções para esse problema.

O sistema alternativo que atende às demandas ambientais e econômicas para a mobilidade urbana é

- A) compartilhamento de bicicletas e patinetes.
- B) sistema de táxis-lotação, com itinerário semelhante ao dos ônibus.
- C) sistema de trens metropolitanos movidos por eletricidade.
- D) transporte automotivo por aplicativo.

MATEMÁTICA / RACIOCÍNIO LÓGICO

QUESTÃO 26

Oto, Téio e Tom são três amigos que trabalham juntos. Dois deles têm 34 anos de idade e sempre dizem mentira. Já o outro amigo, que tem 40 anos de idade, diz sempre a verdade.

Se Téio disse que a idade de Tom não é 34 anos de idade, então é correto afirmar que

- A) Oto tem 34 anos de idade.
- B) Téio e Tom sempre mentem.
- C) Téio tem 40 anos de idade.
- D) Tom diz sempre a verdade.

QUESTÃO 27

Max e seus cinco amigos estão em uma fila cujas posições ocorrem de forma crescente, sempre da esquerda para direita. Edu está em uma posição anterior à de Isa, que, por sua vez, está em uma posição, imediatamente, posterior à de Mel. Léo, com certeza, não está antes de todos os outros cinco amigos na fila, mas está em uma posição mais próxima da primeira do que da última. É certo que Eli está em uma posição anterior à de Edu e que esse, por sua vez, não ocupa a quarta posição da fila.

Dessa forma, é correto concluir que a pessoa que ocupa a quarta posição nessa fila

- A) é certamente Mel.
- B) é certamente Isa.
- C) pode ser Mel ou Isa.
- D) pode ser Mel ou Max.

QUESTÃO 28

Um professor entrou em sala e escreveu, sem dizer nada, a seguinte tabela no quadro.

Posição do termo na sequência	1	2	3	4	5	6	7	8
Valor do termo da sequência	3	5	3	-1	-3	-1	3	5

Após escrever essa tabela, o professor disse aos seus alunos que ela representava, ordenadamente, a posição e o valor dos oito primeiros termos de uma sequência, cuja lei de recorrência era aplicada a partir do seu terceiro termo. Imediatamente após essas informações, o professor pediu à aluna Dani que respondesse qual seria o valor do 79º termo dessa sequência.

Dani, de forma correta, respondeu para o professor, que era o número

- A) 5.
- B) 3.
- C) -1.
- D) -3.

QUESTÃO 29

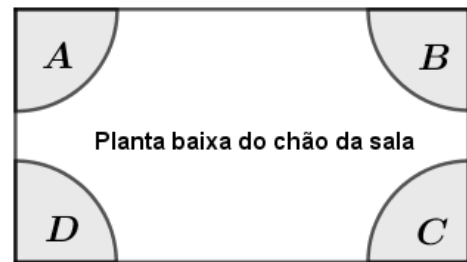
Cleide comprou um relógio analógico e descobriu, após algum tempo que a hora por ele marcada tinha um atraso com relação à indicação de hora correta. Após algumas observações, ela percebeu que seu relógio tinha um atraso de 3 segundos e 1 décimo de segundo a cada minuto que passava. Certo dia, Cleide parou totalmente seu relógio, e o ajustou corretamente ao horário real, que era exatamente de 14h, permanecendo o atraso do relógio a contar a partir desse horário.

Dessa forma, no horário correto, às 21h desse mesmo dia, o ponteiro dos segundos do relógio de Cleide apontava para marcação correspondente a

- A) 3 segundos.
- B) 7 segundos.
- C) 21 segundos.
- D) 42 segundos.

QUESTÃO 30

A figura a seguir representa a planta baixa do chão de uma sala. As regiões A, B, C e D representam aquecedores que serão colocados nos quatro cantos do chão dessa sala.



Para manter a sala sempre aquecida na temperatura ideal, é preciso que pelo menos um dos aquecedores esteja ligado. O número de maneiras distintas em que se pode ter pelo menos um dos aquecedores ligados é igual a

- A) 15.
- B) 24.
- C) 64.
- D) 96.

ANALISTA EM CONTROLE INTERNO**QUESTÃO 31**

A Constituição Federal veda, com ressalvas, a vinculação de receita de impostos a órgão, fundo ou despesa e dispõe que a Lei Orçamentária Anual não conterá dispositivo estranho à previsão da receita e à fixação da despesa, com exceções.

Esses dois dispositivos constitucionais referem-se, respectivamente, aos princípios orçamentários da

- A) exclusividade e da anterioridade.
- B) não afetação das receitas e da exclusividade.
- C) não afetação das receitas e da universalidade.
- D) exclusividade e da clareza.

QUESTÃO 32

A Lei de Responsabilidade Fiscal (LRF) atribuiu novas e importantes funções à Lei de Diretrizes Orçamentárias (LDO) e à Lei Orçamentária Anual (LOA).

Analise as afirmativas a seguir sobre as exigências da LRF em relação à LOA.

- I. A LOA disporá também sobre normas relativas ao controle de custos e à avaliação dos resultados dos programas financiados com recursos dos orçamentos.
- II. A LOA conterá reserva de contingência, cuja forma de utilização e montante, definido com base na receita corrente líquida, serão estabelecidos na Lei de Diretrizes Orçamentárias, destinada ao atendimento de passivos contingentes e outros riscos e eventos fiscais imprevistos.
- III. Integrarão as despesas da União, e serão incluídas na LOA, as do Banco Central do Brasil relativas a pessoal e encargos sociais, custeio administrativo, inclusive os destinados a benefícios e assistência aos servidores, e a investimentos.

Estão corretas as afirmativas

- A) I e II, apenas.
- B) I e III, apenas.
- C) II e III, apenas.
- D) I, II e III.

QUESTÃO 33

Sobre a instituição do Imposto sobre a Propriedade Predial e Territorial Urbana Progressivo no Tempo (IPTU Progressivo), previsto no Plano Diretor do Município de Uberlândia, assinale a alternativa incorreta.

- A) O valor da alíquota a ser aplicada a cada ano será fixado em lei específica e não excederá a duas vezes o valor referente ao ano anterior, respeitada a alíquota máxima de 15%.
- B) É vedada a concessão de isenções ou de anistias relativas à tributação progressiva prevista no IPTU Progressivo.
- C) São, entre outros, objetivos da aplicação do IPTU Progressivo: aumentar a oferta de lotes urbanizados, nas regiões já consolidadas da malha urbana de Uberlândia, e combater o processo de periferização.
- D) O IPTU Progressivo poderá ser aplicado unicamente nas regiões de alta densidade: Zona Central, Zona Estrutural e área de suporte dos subcentros e terminais.

QUESTÃO 34

Com base nos dispositivos da Lei nº 8.666/1993, sobre contratos administrativos, assinale a alternativa incorreta.

- A) Integra o rol de cláusulas necessárias em todo contrato a obrigação do contratado de manter, durante toda a execução do contrato, em compatibilidade com as obrigações por ele assumidas, todas as condições de habilitação e qualificação exigidas na licitação.
- B) É facultado ao contratado aceitar ou recusar, nas mesmas condições contratuais, os acréscimos ou supressões indicados pela Administração, possíveis de serem realizados nas obras, serviços ou compras, até 20% do valor inicial atualizado do contrato.
- C) O regime jurídico dos contratos administrativos confere à Administração, em relação a eles, a prerrogativa de, no caso de qualquer prestação de serviços, ocupar provisoriamente bens móveis, imóveis, pessoal e serviços vinculados ao objeto do contrato, na hipótese de rescisão do contrato administrativo.
- D) O instrumento de contrato é obrigatório nos casos de concorrência e de tomada de preços, bem como nas dispensas e inexigibilidades cujos preços estejam compreendidos nos limites dessas duas modalidades de licitação, e facultativo nos demais em que a Administração puder substituí-lo por outros instrumentos hábeis, tais como carta-contrato, nota de empenho de despesa, autorização de compra ou ordem de execução de serviço.

QUESTÃO 35

A faculdade de que dispõe a Administração Pública para condicionar e restringir o uso e gozo de bens, atividades e direitos individuais em benefício da coletividade ou do próprio estado denomina-se poder

- A) de polícia.
- B) disciplinar.
- C) hierárquico.
- D) regulamentar.

QUESTÃO 36

Sobre administração pública municipal, conforme disciplinado na Lei Orgânica do Município de Uberlândia, assinale com V as afirmativas verdadeiras e com F as falsas.

- () Qualquer cidadão poderá levar ao conhecimento da autoridade municipal irregularidades, ilegalidades ou abusos de poder imputáveis a qualquer agente público, cumprindo ao servidor público municipal o dever de fazê-lo perante seu superior hierárquico, para as providências e correções pertinentes.
- () O município poderá intervir na prestação dos serviços concedidos ou permitidos, para corrigir distorções ou abusos, bem como retomá-los, mediante prévia indenização dos investimentos realizados pelo contratado, desde que executados em desconformidade com o contrato de concessão ou permissão.
- () Decreto do prefeito municipal disporá sobre organização, funcionamento e fiscalização dos serviços de transporte coletivo e de táxi, devendo ser fixadas diretrizes de caracterização precisa e proteção eficaz do interesse público e dos direitos dos usuários.
- () Os poderes Legislativo e Executivo organizarão registros de seus atos e documentos, de forma a preservar-lhes a inteireza e possibilitar-lhes a consulta e extração de cópias e certidões, sempre que necessário.

Assinale a sequência correta.

- A) F V F V
- B) V F F V
- C) V V V F
- D) F F V F

QUESTÃO 37

Segundo disposições da Lei nº 4.320/1964, a contabilidade orçamentária e financeira não deverá evidenciar em seus registros

- A) o montante dos créditos orçamentários vigentes.
- B) a despesa empenhada e a despesa realizada, à conta dos mesmos créditos.
- C) a dívida fundada.
- D) as dotações disponíveis.

QUESTÃO 38

Assinale a alternativa correta com referência à Lei de Improbidade Administrativa (Lei nº 8.429/1992).

- A) A aplicação das sanções previstas nessa Lei depende da efetiva ocorrência de dano ao patrimônio público, salvo quanto à pena de ressarcimento, e da aprovação ou rejeição das contas pelo órgão de controle interno ou pelo Tribunal ou Conselho de Contas.
- B) A sentença que julgar procedente ação civil de reparação de dano ou decretar a perda dos bens havidos ilicitamente determinará o pagamento ou a reversão dos bens, conforme o caso, em favor da pessoa jurídica prejudicada pelo ilícito.
- C) De acordo com a Lei de Improbidade Administrativa, sem prejuízo de outras sanções cabíveis, o agente público que se recusar a prestar declaração dos bens, dentro do prazo determinado, ou que a prestar falsa, será punido com a pena de multa e suspensão da função pública.
- D) Estará sujeito à penalidade de detenção de 12 a 18 meses o crime de representação por ato de improbidade contra agente público ou terceiro beneficiário, quando o autor da denúncia o sabe inocente.

QUESTÃO 39

Sobre a modalidade de licitação denominada pregão, instituída nos termos da Lei nº 10.520, de 17 de julho de 2002, assinale a alternativa incorreta.

- A) No curso da sessão do pregão, o autor da oferta de valor mais baixo e os autores das ofertas com preços até 5% superiores àquela poderão fazer novos lances verbais e sucessivos, até a proclamação do vencedor.
- B) Para julgamento e classificação das propostas, será adotado o critério de menor preço, observados os prazos máximos para fornecimento, as especificações técnicas e os parâmetros mínimos de desempenho e qualidade definidos no edital.
- C) Os licitantes poderão deixar de apresentar os documentos de habilitação que já constem do Sistema de Cadastramento Unificado de Fornecedores (Sicaf) e sistemas semelhantes mantidos por estados, Distrito Federal ou municípios, assegurado aos demais licitantes o direito de acesso aos dados nele constantes.
- D) As compras e contratações de bens e serviços comuns, no âmbito da União, dos estados, do Distrito Federal e dos municípios, quando efetuadas pelo sistema de registro de preços previsto no Art. 15 da Lei nº 8.666, de 21 de junho de 1993, poderão adotar a modalidade de pregão, conforme regulamento específico.

QUESTÃO 40

Relativamente aos procedimentos contábeis orçamentários e patrimoniais, assinale a alternativa incorreta sobre receitas orçamentárias.

- A) As etapas da receita orçamentária são: previsão, lançamento, arrecadação e recolhimento.
- B) A previsão de receitas é a etapa que antecede a fixação do montante de despesas que irão constar nas leis de orçamento, além de ser base para se estimar as necessidades de financiamento do governo.
- C) As receitas provenientes de operações de crédito identificam uma das origens das receitas orçamentárias correntes.
- D) A alienação de bens e a amortização de empréstimos integram o conjunto das origens das receitas de capital.

QUESTÃO 41

Analise as seguintes informações sobre as despesas orçamentárias de uma prefeitura num determinado exercício.

- Despesa do exercício paga no ano: R\$ 480 000,00.
- Despesa liquidada no ano: R\$ 530 000,00.
- Despesa empenhada no ano: R\$ 610 000,00.
- Despesa estimada para o ano: R\$ 640 000,00.

Com base nessas informações, é correto afirmar que o total de restos a pagar dessa prefeitura no ano é

- A) R\$ 80 000,00.
- B) R\$ 120 000,00.
- C) R\$ 130 000,00.
- D) R\$ 150 000,00.

QUESTÃO 42

Segundo disposições do Manual de Contabilidade Aplicada ao Setor Público (MCASP), a extinção, parcial ou total, de um passivo, qualquer que seja o motivo, sem o desaparecimento concomitante de um ativo de valor igual ou maior, é considerada um(a)

- A) superávit patrimonial.
- B) déficit patrimonial.
- C) variação patrimonial aumentativa.
- D) variação patrimonial diminutiva.

QUESTÃO 43

Sobre demonstrações contábeis aplicadas ao setor público, relacione a COLUNA II com a COLUNA I, associando os conceitos das demonstrações contábeis aplicadas ao setor público aos seus respectivos nomes.

COLUNA I

1. Demonstração das variações patrimoniais
2. Balanço patrimonial
3. Balanço financeiro
4. Balanço orçamentário

COLUNA II

- () Demonstração contábil que evidencia as receitas e despesas orçamentárias, bem como os ingressos e dispêndios extraorçamentários, conjugados com os saldos de caixa do exercício anterior e os que se transferem para o início do exercício seguinte.
- () Demonstração contábil que evidencia, qualitativa e quantitativamente, a situação patrimonial da entidade pública por meio de contas representativas do patrimônio público, bem como os atos potenciais, que são registrados em contas de compensação (natureza de informação de controle).
- () Demonstração contábil que apresenta as receitas e despesas previstas em confronto com as realizadas.
- () Demonstração contábil que evidenciará as alterações verificadas no patrimônio, resultantes ou independentes da execução orçamentária, e indicará o resultado patrimonial do exercício.

Assinale a sequência correta.

- A) 1 2 3 4
- B) 3 2 4 1
- C) 2 4 1 3
- D) 4 1 3 2

QUESTÃO 44

Em conformidade com a Lei Complementar Federal nº 101/2000, a avaliação da situação financeira e atuarial dos regimes geral de previdência social e próprio dos servidores públicos e do Fundo de Amparo ao Trabalhador deve ser apresentada no anexo de

- A) metas fiscais, integrante da Lei Orçamentária Anual.
- B) riscos fiscais, contido na Lei Orçamentária Anual.
- C) metas fiscais, integrante da Lei de Diretrizes Orçamentárias.
- D) riscos fiscais, contido na Lei de Diretrizes Orçamentárias.

QUESTÃO 45

Nos termos da Lei de Responsabilidade Fiscal, o Relatório Resumido da Execução Orçamentária, a que se refere o § 3º do Art. 165 da Constituição Federal, será publicado

- A) até 30 dias após o encerramento de cada bimestre.
- B) até 30 dias após o encerramento de cada quadrimestre.
- C) ao término de cada trimestre.
- D) ao término de cada semestre.

QUESTÃO 46

Sobre o controle externo da Câmara Municipal de Uberlândia, previsto na Lei Orgânica do Município e exercido com auxílio do Tribunal de Contas do Estado, assinale a alternativa incorreta.

- A) O parecer prévio, emitido pelo Tribunal de Contas sobre as contas que o prefeito prestar anualmente, nos termos desta Lei Orgânica, só deixará de prevalecer por decisão da maioria absoluta dos membros da Câmara Municipal.
- B) As contas do município, após o parecer prévio, ficarão durante sessenta dias, anualmente, à disposição de qualquer cidadão para exame e apreciação.
- C) O cidadão poderá questionar a legitimidade das contas, mediante petição escrita e por ele assinada perante a Câmara Municipal.
- D) Se acolher a petição, a Câmara remeterá o expediente ao Tribunal de Contas, para pronunciamento e, ao prefeito, para defesa e explicações, depois do que julgará as contas em definitivo.

QUESTÃO 47

Consoante aos dispositivos contidos em sua Lei Orgânica, o TCE/MG, ao constatar irregularidade ou descumprimento de obrigação por ele determinada em processo de sua competência, poderá aplicar a sanção de

- A) declaração de inelegibilidade para cargos do legislativo.
- B) inabilitação para o exercício de cargo em comissão ou função de confiança.
- C) suspensão ou perda dos direitos políticos.
- D) perda de bens em quantia equivalente ao débito não quitado.

QUESTÃO 48

No contexto do capítulo sobre composição e organização do Tribunal de Contas do Estado de Minas Gerais, integrante de sua Lei Orgânica, é correto afirmar que a competência para relatar suspeição oposta ao presidente, quando não reconhecida de ofício, é do

- A) auditor.
- B) corregedor.
- C) ouvidor.
- D) vice-presidente.

QUESTÃO 49

A Instrução Normativa (IN) TCE/MG nº 3/2013 dispõe sobre os procedimentos da tomada de contas especial no âmbito dos órgãos e entidades das administrações diretas e indiretas, estaduais e municipais.

De acordo com essa IN, o não encaminhamento dos autos da tomada de contas especial no prazo estabelecido no *caput* do Art. 17 poderá ensejar a aplicação de multa, prevista no Art. 85 da Lei Complementar Estadual (MG) nº 102/2008, no percentual de até

- A) 40%.
- B) 50%.
- C) 30%.
- D) 70%.

QUESTÃO 50

A Instrução Normativa (IN) TCE/MG nº 03/2017 estabelece diretrizes para a fiscalização da gestão fiscal dos municípios pelo Tribunal de Contas do Estado de Minas Gerais, em cumprimento às normas estabelecidas pela Lei Complementar Federal nº 101, de 4 de maio de 2000, a partir do exercício financeiro de 2018.

Sobre os dispositivos dessa instrução normativa, assinale a alternativa incorreta.

- A) A fiscalização do cumprimento das normas relativas à gestão fiscal dos municípios será realizada com base nas informações enviadas por meio do Sistema Informatizado de Contas dos Municípios (SICOM).
- B) A citada fiscalização considerará as informações enviadas por todos os órgãos e entidades por meio dos módulos "Instrumentos de Planejamento", "Acompanhamento Mensal", "Balancete Contábil" e "Demonstrações Contábeis Aplicadas ao Setor Público".
- C) A emissão e a publicação do Relatório de Gestão Fiscal (RGF) em obediência ao Art. 54, *caput*, e ao Art. 55, § 2º, da Lei Complementar Federal nº 101, de 4 de maio de 2000, é de responsabilidade do chefe do Poder Executivo e do chefe do Poder Legislativo.
- D) Na hipótese de impossibilidade de utilização do SICOM, o TCE/MG poderá, mediante justificativa fundamentada do chefe do Poder Executivo municipal, admitir a remessa de informações relativas à gestão fiscal por outros meios, conforme previsto em seu Regimento Interno.