



# CONCURSO PARA PROVIMENTO DE CARGOS DA PREFEITURA MUNICIPAL DE UBERLÂNDIA

Edital Nº 01 / 2019

## NUTRICIONISTA

Código: 417

### LEIA COM ATENÇÃO AS SEGUINTE INSTRUÇÕES

1. Este caderno contém as questões da **Prova Objetiva**.
2. Use o Gabarito (Versão do Candidato) reproduzido ao final deste caderno apenas para marcar o gabarito.
3. Ao receber a **Folha de Respostas da Prova Objetiva**:
  - Confira seu nome, número de inscrição e cargo.
  - Assine, **A TINTA**, no espaço próprio indicado.

4. **ATENÇÃO:** transcreva no espaço apropriado da sua **FOLHA DE RESPOSTAS**, com sua caligrafia usual, mantendo as letras maiúsculas e minúsculas, desconsiderando aspas e autoria, a seguinte frase:

**“Bravo não é quem sente medo, é quem o vence.”** Nelson Mandela

#### ATENÇÃO:

**FOLHA DE RESPOSTAS SEM ASSINATURA NÃO TEM VALIDADE.**

5. Ao transferir as respostas para a **Folha de Respostas**:

01  A  B  C  D

• use apenas caneta esferográfica azul ou preta.

02  A  B  C  D

• preencha, sem forçar o papel, toda a área reservada à letra correspondente à resposta solicitada em cada questão.

03  A  B  C  D

• assinale somente **uma** alternativa em cada questão.

04  A  B  C  D

Sua resposta **NÃO** será computada se houver marcação de mais de uma alternativa, questões não assinaladas ou rasuras.

#### NÃO DEIXE NENHUMA QUESTÃO SEM RESPOSTA.

A **Folha de Respostas** não deve ser dobrada, amassada ou rasurada.

**ATENÇÃO:** Período de Sigilo – Não será permitido ao candidato se ausentar em definitivo da sala de provas antes de decorridas 2 (duas) horas do início das provas. O candidato não poderá fazer anotação de questões ou informações relativas às suas respostas no Comprovante Definitivo de Inscrição (CDI) ou em quaisquer outros meios, que não os permitidos neste Edital e especificados na capa da prova. Os candidatos não poderão utilizar, em hipótese alguma, lapiseira, corretivos ou lápis-borracha ou outro material distinto do constante no subitem 9.4.11 do Edital. Será proibido, durante a realização das provas, fazer uso ou portar, mesmo que desligados, telefone celular, relógios, *paggers*, *beep*, agenda eletrônica, lápis, borracha, corretivo, calculadora, *walkman*, *notebook*, *palmtop*, gravador, transmissor / receptor de mensagens de qualquer tipo ou qualquer outro equipamento eletrônico, fazer uso de óculos escuros, boné, chapéu, gorro, lenço ou similares, podendo a organização deste Concurso Público vetar o ingresso do candidato com outros aparelhos além dos anteriormente citados. Durante o período de realização das provas, não será permitida qualquer espécie de consulta ou comunicação entre os candidatos ou entre estes e pessoas estranhas, oralmente ou por escrito, assim como não será permitido o uso de livros, códigos, manuais, impressos, anotações ou quaisquer outros meios. O candidato não poderá levar os cadernos de questões das Provas Objetivas e de Redação, quando houver. Não haverá substituição da Folha de Respostas da Prova Objetiva e Caderno Oficial da Prova Redação devido a erro do candidato. Ao término do prazo estabelecido para a prova, os três últimos candidatos deverão permanecer na sala até que o último candidato termine sua prova. As instruções constantes no Caderno de Questões e na Folha de Respostas da Prova Objetiva, bem como as orientações e instruções expedidas pela Fundep durante a realização das provas, complementam o Edital e deverão ser rigorosamente observadas e seguidas pelo candidato.

O Caderno de Questões e o Gabarito da Prova Objetiva serão divulgados no endereço eletrônico  
<[www.gestaodeconcursos.com.br](http://www.gestaodeconcursos.com.br)> no dia 17 de dezembro de 2019.

**DURAÇÃO MÁXIMA DA PROVA: 4 (QUATRO) HORAS**

# ATENÇÃO

Sr.(a) Candidato(a),

Antes de começar a fazer a prova, confira se este caderno contém, ao todo, **50 (cinquenta)** questões de múltipla escolha, cada uma constituída de 4 (quatro) alternativas de resposta, assim distribuídas: 15 (quinze) questões de **Língua Portuguesa**, 5 (cinco) questões de **Legislação**, 5 (cinco) questões de **Atualidades**, 5 (cinco) questões de **Matemática / Raciocínio Lógico** e 20 (vinte) questões de **Conhecimentos Específicos**, todas perfeitamente legíveis.

Havendo algum problema, informe **imediatamente** ao aplicador de provas para que ele tome as providências necessárias.

Caso não observe essa recomendação, não lhe caberão quaisquer reclamações ou recursos posteriores.

**INSTRUÇÃO:** Leia o texto a seguir para responder às questões de 1 a 5.

### O sintomático desprezo pela ciência

Em março de 2018, António Guterres, secretário-geral da ONU, declarou: “As manchetes são naturalmente dominadas pela escalada das tensões, de conflitos ou de eventos políticos de alto nível, mas a verdade é que as mudanças climáticas permanecem a mais sistêmica ameaça à humanidade. Informações divulgadas recentemente pela Organização Meteorológica Mundial, pelo Banco Mundial e pela Agência Internacional de Energia mostram sua evolução implacável”. Meses antes, um discurso proferido em Riad por Christine Lagarde, diretora do Fundo Monetário Internacional, exibiu um teor similar: “Se não fizermos nada a respeito das mudanças climáticas, seremos tostados, assados e grelhados num horizonte de tempo de 50 anos”. Ambas as advertências reconhecem a extrema gravidade de nossa situação, a respeito da qual o Painel Intergovernamental sobre as Mudanças Climáticas (IPCC) é categórico: “O aquecimento do sistema climático é inequívoco. A influência humana sobre o sistema climático é clara. Limitar a mudança climática requer reduções substanciais e contínuas de emissões de gases de efeito estufa” (2007).

[...]

Malgrado esse acúmulo de saber e essa virtual unanimidade, a ciência do clima pode estar equivocada? Em princípio, sim. Ciência não é dogma, é diminuição da incerteza. Contestar um consenso científico, mesmo o mais sólido, não pode ser objeto de anátema. Mas quem o põe em dúvida deve apresentar argumentos convergentes e convincentes em sentido contrário. Na ausência destes, contestação torna-se simples denegação irracional, enfraquece o poder persuasivo da evidência, milita em favor da perda da autoridade da ciência na formação de uma visão minimamente racional do mundo e turbina a virulência das redes sociais, dos “fatos alternativos”, da pós-verdade, do fanatismo religioso e das crenças mais estapafúrdias e até há pouco unimagináveis. O negacionismo climático é apenas mais uma dessas crenças [...], e seu repertório esgrime as mesmas surradas inverdades, mil vezes refutadas: os cientistas estão divididos sobre a ciência do clima, os modelos climáticos são falhos, maiores concentrações atmosféricas de CO<sub>2</sub> são efeito e não causa do aquecimento global e são benéficas para a fotossíntese, o próximo mínimo solar anulará o aquecimento global, não se deve temer esse aquecimento, mas a recaída numa nova glaciação etc. Esse palavreado resulta de esforços deliberados de denegação das evidências. Diretamente ou através, por exemplo, da Donors Trust e da Donors Capital Fund, as corporações injetam milhões de dólares em *lobbies* disseminadores de desinformação sobre as mudanças climáticas.

[...]

Malgrado alguma tangência ideológica entre certa esquerda e a extrema-direita, o negacionismo climático e a negação da ciência em geral são fundamentalmente uma bandeira da extrema-direita e é preciso pôr em evidência uma razão maior dessa estreita afinidade. Ela se encontra, a meu ver, numa mutação histórica fundamental do teor do discurso científico. Das revoluções científicas do século XVII a meados do século XX, a ciência galgou posição de hegemonia, destronando discursos de outra natureza, como o religioso e o artístico, porque foi capaz de oferecer às sociedades vitoriosas mais energia, mais mobilidade, mais bens em geral, mais capacidade de sobrevivência, em suma, mais segurança. Seus benefícios eram indiscutíveis e apenas confirmavam suas promessas, que pareciam ilimitadas. A partir de 1962, se quisermos uma data, o livro de Rachel Carson, “Primavera Silenciosa” punha a nu pela primeira vez o lado sombrio dessas conquistas da ciência: agrotóxicos como o DDT aumentavam, de fato, a produtividade agrícola, mas ao preço de danos tremendos à saúde e à biodiversidade. Essa primeira dissonância tornou-se muito maior nos anos 1980, quando o aquecimento global resultante das emissões de CO<sub>2</sub> pela queima de combustíveis fósseis – justamente esses combustíveis aos quais devíamos o essencial de nosso progresso – tornou-se pela primeira vez inequívoco. A ciência começa, então, a mudar seu discurso. Ela passa a anunciar que havíamos passado da idade das promessas à idade das escolhas, de modo a evitar a idade das consequências. [...] Uma brecha começava a se abrir na imagem social da ciência. Enquanto os cientistas diziam o que queríamos ouvir, tudo era defesa e apologia da ciência. A partir do momento em que seu discurso converteu-se em alertas e advertências sobre os riscos crescentes a que começávamos a nos expor, esse entusiasmo arrefeceu.

[...]

Em nosso século, esse novo mal-estar na civilização não cessou de crescer. Ele toma hoje a forma de uma espécie de divisão esquizofrênica da autoimagem de uma sociedade moldada pela ciência. Quando entramos num avião, atravessamos uma ponte ou tomamos um remédio, somos gratos às tentativas da ciência de compreender o mundo e traduzi-lo em tecnologia. Mas quando dessa mesma ciência vem o aviso que é preciso mudar o modo de funcionamento de nossa economia, conter nossa voracidade, diminuir o consumo de carne, restaurar as florestas e redefinir nossa relação com a natureza, sob pena de nos precipitarmos num colapso de insondáveis proporções, a gratidão cede lugar à indiferença, ao descrédito e mesmo à hostilidade.

[...]

Disponível em: <<https://adunicamp.org.br/artigo-o-sintomatico-desprezo-pela-ciencia/>>. Acesso em: 2 ago. 2019.

### QUESTÃO 1

Releia este trecho.

“**Malgrado** alguma tangência ideológica entre certa esquerda e a extrema-direita, o negacionismo climático e a negação da ciência em geral são fundamentalmente uma bandeira da extrema-direita e é preciso pôr em evidência uma razão maior dessa estreita afinidade.”

A conjunção em destaque pode ser substituída, sem prejuízo de sentido, por:

- A) Por causa de
- B) À medida que
- C) Uma vez que
- D) Apesar de

## QUESTÃO 2

Uma das ideias que o texto em questão aborda é o declínio da apreciação da ciência ao longo do tempo.

Assinale a alternativa que resume corretamente esse processo.

- A) A ciência foi tomada como verdade incontestável quando de sua implantação na sociedade, à época da Revolução Industrial. Porém, com a evolução do pensamento crítico, começou a ser contestada.
- B) O pensamento científico, a partir do século XVII, teve muita aderência entre a sociedade; porém, quando começou a esbarrar ideologicamente nos discursos religiosos e artísticos, viu seu prestígio entrar em declínio.
- C) Enquanto provia progresso e benefícios à sociedade, o discurso científico foi defendido. Porém, passou a ser questionado quando começou a alarmar a sociedade sobre os riscos do modo de funcionamento dela.
- D) As grandes corporações trabalham atualmente para restabelecer a confiança e o prestígio no discurso científico, o qual começou a ser desacreditado a partir da publicação da obra *Primavera silenciosa*, que questiona os benefícios da ciência.

## QUESTÃO 3

Releia este trecho.

“Em março de 2018, António Guterres, secretário-geral da ONU, declarou: ‘As manchetes são naturalmente dominadas pela escalada das tensões, de conflitos ou de eventos políticos de alto nível, mas a verdade é que as mudanças climáticas permanecem a mais sistêmica ameaça à humanidade.’”

Quanto à estratégia argumentativa utilizada nesse trecho, é correto afirmar que se trata de argumentação por

- A) exemplificação: a fala do autor citado é tomada como exemplo de argumentação semelhante à expressa no texto.
- B) autoridade: é utilizada a fala de um especialista na área discutida – António Guterres – com a intenção de reiterar e fundamentar a opinião expressa pelo texto.
- C) causa e consequência: a lógica do texto é construída por meio do encadeamento entre uma causa e uma consequência, referentes ao assunto de discussão.
- D) provas concretas: é utilizada uma prova comprovável extraída da realidade, no sentido de sustentar a argumentação do texto.

## QUESTÃO 4

Releia este trecho.

“Ciência não é dogma, é diminuição da incerteza.”

Considerando o trecho e o contexto no qual se insere, é correto afirmar que a ideia que ele expressa também se encontra em:

- A) “Contestar um consenso científico, mesmo o mais sólido, não pode ser objeto de anátema.”
- B) “O negacionismo climático é apenas mais uma dessas crenças [...], e seu repertório esgrime as mesmas surradas inverdades, mil vezes refutadas.”
- C) “Na ausência destes [argumentos convincentes], contestação torna-se simples denegação irracional [...].”
- D) “[...] as corporações injetam milhões de dólares em *lobbies* disseminadores de desinformação sobre as mudanças climáticas.”

## QUESTÃO 5

A respeito da argumentação observada no texto sobre a contestação da ciência do clima, analise as afirmativas a seguir.

- I. O autor não acredita na possibilidade de se contestar as notícias alarmantes sobre o tema.
- II. A ideia de que “não se deve temer esse aquecimento, mas a recaída numa nova glaciação” é tomada pelo texto como uma contestação válida contra o alarmismo do aquecimento global.
- III. Segundo o texto, existe uma motivação financeira impulsionando a desinformação a respeito dos avisos feitos pela ciência do clima.

Está correto o que se afirma em

- A) I, apenas.
- B) I e II, apenas.
- C) III, apenas.
- D) II e III, apenas.

## QUESTÃO 6

Analise o trecho a seguir.


“Não por acaso, o novo conhecimento deixou o mundo perplexo e foi aplicado na investigação genética dos mais diversos casos: verificação de paternidade, de outros graus de parentesco, identificação de fósseis e até o estudo de predisposição genética a algumas doenças.”

Disponível em: <<https://tinyurl.com/y2c3ot4f>>. Acesso em: 5 ago. 2019.

A respeito do uso dos dois-pontos, é correto afirmar que, nesse trecho, eles marcam uma

- A) enumeração explicativa.
- B) síntese do que foi enunciado.
- C) citação de autoria diversa.
- D) consequência do que foi enunciado.

**INSTRUÇÃO:** Leia a tirinha a seguir para responder às questões 7 e 8.



Disponível em: <<https://escolaeducacao.com.br/calvin-e-haroldo/>>. Acesso em: 5 ago. 2019.

### QUESTÃO 7

A tirinha em questão é a última da série *Calvin e Haroldo*, de autoria de Bill Watterson, publicada dia 31 de dezembro de 1995.

A respeito de seus possíveis significados, analise as afirmativas a seguir.

- I. Os elementos paratextuais dessa tirinha, como a data de sua publicação no último dia do ano e o fato de ser a última tirinha publicada com esses personagens, fornecem ao leitor mais possibilidades interpretativas.
- II. Há um paralelo entre a ideia de neve e a ideia de possibilidade de recomeço, o que ressignifica a ideia de fim, presente no contexto de lançamento da tirinha.
- III. Quando afirma, no terceiro quadrinho, que um dia coberto pela neve é como ter “uma grande folha branca de papel para desenhar”, o tigre utiliza os códigos comunicativos da tirinha para se referir a ela mesma.

Está correto o que se afirma em

- A) I e II, apenas.
- B) II e III, apenas.
- C) I, apenas.
- D) I, II e III.

### QUESTÃO 8

No quarto quadrinho, o garoto diz para o tigre: “É um mundo mágico, **Haroldo, velho camarada**...”.

Os termos destacados (“Haroldo” e “velho camarada”) classificam-se, respectiva e corretamente, como

- A) pronome e adjetivo.
- B) vocativo e aposto.
- C) aposto e adjunto adnominal.
- D) pronome e vocativo.

**INSTRUÇÃO:** Leia os textos a seguir para responder às questões de 9 a 10.

### TEXTO I

‘Stamos em pleno mar... Abrindo as velas  
Ao quente arfar das virações marinhas,  
Veleiro brigue corre à flor dos mares,  
Como roçam na vaga as andorinhas...

Donde vem? onde vai? Das naus errantes  
Quem sabe o rumo se é tão grande o espaço?  
Neste saara os corcéis o pó levantam,  
Galopam, voam, mas não deixam traço.

[...]

Negras mulheres, suspendendo às tetas  
Magras crianças, cujas bocas pretas  
Rega o sangue das mães:  
Outras moças, mas nuas e espantadas,  
No turbilhão de espectros arrastadas,  
Em ânsia e mágoa vãs!

E ri-se a orquestra irônica, estridente...  
E da ronda fantástica a serpente  
Faz doudas espirais...  
Se o velho arqueja, se no chão resvala,  
Ouvem-se gritos... o chicote estala.  
E voam mais e mais...

Preso nos elos de uma só cadeia,  
A multidão faminta cambaleia,  
E chora e dança ali!  
Um de raiva delira, outro enlouquece,  
Outro, que martírios embrutece,  
Cantando, geme e ri!

No entanto o capitão manda a manobra,  
E após fitando o céu que se desdobra,  
Tão puro sobre o mar,  
Diz do fumo entre os densos nevoeiros:  
“Vibrai rijo o chicote, marinheiros!  
Fazei-os mais dançar!...”

(*Navio Negreiro* – Castro Alves – 1880).

Disponível em: <<http://biblio.com.br/defaultz.asp?link=http://biblio.com.br/conteudo/CastroAlves/navionegreiro.htm>>.  
Acesso em: 5 ago. 2019.

### TEXTO II

Estamos em pleno mar, embarcações de ferro e aço  
Onde pessoas disputam palmo a palmo por um espaço  
Nesse imenso rio negro de piche e asfalto  
Cristo observa tudo calado de braços abertos lá do alto  
Onde a lei do silêncio impede que ecoe o grito do morro  
Dos poetas em barracos sem forro, que clamam por socorro  
Homens de pele escura, sem sobrenome importante  
Filhos de reis e rainhas de uma terra tão distante  
O mar separa o Brasil da África  
Um rio separa as periferias das mansões de magnatas  
Uniformes diferenciam funcionários de patrões  
A cor denuncia vítimas antigas de explorações  
Trazidos em porões e navios negreiros  
Tratados como animais, vendidos a fazendeiros  
Vivendo em cativos

Negociados como mercadoria  
Enriquecendo a classe nobre, hoje chamada burguesia  
Deixou pra trás dialetos e crença  
Caçados, mortos e açoitados quem tentou resistência  
Tratados como gado, sem direito à educação  
Emudeceram seus tambores, amaldiçoaram sua religião

[...]

(*Navio Negreiro* – Slim Rimografia – 2011). Disponível em:  
<<https://www.lettras.mus.br/slim-rimografia/navio-negreiro/>>.  
Acesso em: 5 ago. 2019.

### QUESTÃO 9

A respeito da relação que os dois textos estabelecem entre si, analise as afirmativas a seguir.

- I. Apesar de se tratar de textos de gêneros textuais distintos (poesia e letra de música), ambos os abordam o processo de escravidão no Brasil.
- II. A repetição do primeiro verso e o uso do mesmo título do texto I, feitos pelo texto II, contribuem para a construção do significado do texto II.
- III. No texto I, observa-se o uso de aspectos estéticos da linguagem, trabalhada de forma poética por Castro Alves. Essa característica não está presente no texto II.

Está correto o que se afirma em

- A) I, apenas.
- B) I e II, apenas.
- C) I, II e III.
- D) III, apenas.

### QUESTÃO 10

O texto de Slim realiza uma intertextualidade com o texto de Castro Alves.

Sobre esse diálogo, é incorreto afirmar:

- A) Observa-se que o texto II objetiva recontar a narrativa contada pelo texto I, realizando uma paráfrase, traduzindo, porém, a linguagem de Castro Alves para uma linguagem contemporânea e urbana, típica do *rap*.
- B) O texto de Slim reformula, à luz da contemporaneidade, as imagens de Castro Alves. Dessa maneira, o mar do navio negreiro transforma-se no mar de asfalto e piche, e as consequências da escravidão na atualidade são abordadas.
- C) Em “O mar separa o Brasil da África / Um rio separa as periferias das mansões de magnatas”, no texto II, está presente a ideia de continuidade temporal e de perpetuação do processo de escravidão, sintetizadas nas imagens de separação causada pelo mar, no passado, e pelo rio, no presente.
- D) Os versos “Vibrai rijo o chicote, marinheiros! / Fazei-os mais dançar!...”, de Castro Alves, encontram correspondência nos versos “Trazidos em porões e navios negreiros / Tratados como animais”, do texto II.

## QUESTÃO 11

Analise a tirinha a seguir.



Disponível em: <<https://tinyurl.com/y2daz8x6>>. Acesso em: 5 ago. 2019.

Quanto à regência do verbo “assistir”, assinale a alternativa correta, considerando a norma-padrão.

- A) A regência encontra-se correta, pois, por se tratar de verbo transitivo direto, “assistir” não rege preposição.
- B) No sentido utilizado no último quadrinho, o verbo “assistir”, assim como quando significa “prestar assistência”, é transitivo indireto; portanto, a regência está incorreta.
- C) No sentido de “ver”, como utilizado no quadrinho, o verbo “assistir” é transitivo direto e indireto; portanto, o uso de preposição é facultativo, e a tirinha está correta.
- D) “Assistir”, no sentido utilizado pela última tirinha, é transitivo indireto; portanto, exige preposição, o que coloca a tirinha em desacordo com a norma-padrão.

## QUESTÃO 12

Pra você ficar por dentro do que rola, convidamos a jornalista e apresentadora Renata Simões, para te guiar nesse vocabulário das ruas.

Se liga só:

**Bapho:** Um acontecimento para lá de inesperado, marcante. Algo que pode (ou não) causar uma revolução na vida. Às vezes é dito em tom de fofoca “preciso te contar um bapho” ou como comentário “que bapho!” Quando o bapho é muito bapho mesmo, a gente escreve com PH.

**Salve:** Um aceno, um alô. A gente manda salve pros amigos e quando quer avisar algo.

**Tranqueira:** Aquele ou aquilo que ninguém quer. Não é bom pra nada.

**Causar:** Tem gente que causa uma situação, um problema, um furor, uma excitação. Usado em sua maioria de maneira positiva, causar é o ato de chegar chegando ou perturbar alguma situação. O fulano pode causar no bar ao beber demais ou os amigos podem causar no show ao fazer um *mosh*.”

Disponível em: <<https://tinyurl.com/y39xbjkr>>. Acesso em: 5 ago. 2019.

A respeito do uso das gírias, assinale a alternativa incorreta.

- A) A língua, como elemento de comunicação que está a serviço do falante, modifica-se de acordo com suas necessidades comunicacionais e de criação de identidade, sendo a gíria uma expressão dessa função da linguagem.
- B) As gírias constituem uma criação de códigos linguísticos que empobrecem a linguagem, pois só são acessíveis a determinados grupos sociais. Por isso, os registros nos quais se utilizam gírias não fazem parte da língua portuguesa.
- C) A modalidade coloquial, na qual se verifica o uso das gírias, constitui uma variedade da língua portuguesa que abarca não só esse fenômeno, mas também marcas de oralidade, utilização distinta da sintaxe e criação de neologismos, por exemplo.
- D) Situações formais de comunicação exigem domínio das variantes formais da língua, como o conhecimento da norma-padrão. Nesses contextos, o uso de gírias e outros marcadores de dialeto não configura a escolha mais adequada de variantes linguísticas.

### QUESTÃO 13

Analise o trecho a seguir.

“Oh, pedaço de mim  
Oh, metade amputada de mim  
Leva o que há de ti  
**Que a saudade dói latejada  
É assim como uma fisgada  
No membro que já perdi”**

(*Metade de mim* – Chico Buarque). Disponível em: <<https://www.letras.mus.br/chico-buarque/86030/>>. Acesso em: 5 ago. 2019.

Nos versos em destaque, Chico Buarque utiliza imagens poéticas para descrever a saudade. O processo em questão denomina-se

- A) metonímia, uma vez que há a substituição do nome “saudade” por “fisgada”, na intenção de remeter à dor causada pela saudade.
- B) perífrase, pois, para dar ideia do sentimento provocado pela saudade, o autor recorre a uma expressão que identifica facilmente esse termo.
- C) símile, já que o segundo termo da metáfora (fisgada) é precedido de conjunção comparativa (como), comparando as duas ideias e criando a imagem poética.
- D) pleonasma, visto que ideias já expressas são repetidas ao longo dos versos, com o objetivo de enfatizar a imagem criada pelo autor.

### QUESTÃO 14

Leia a tirinha a seguir.



Disponível em: <<http://dc.rbsdiret.com.br/imagesrc/23603232.jpg?w=660>>. Acesso em: 5 ago. 2019.

Quanto ao que afirma a tirinha, assinale com V as afirmativas verdadeiras e com F as falsas.

- ( ) O paradoxo reside no fato de que locuções adverbiais femininas, como “às vezes”, recebem crase em todas as incidências, o que consiste num contraste entre as ideias expressas em “às vezes” e “sempre”.
- ( ) O personagem Camilo identifica um paradoxo devido ao fato de que a instrução dada pela garota está errada: há casos específicos em que a locução adverbial “às vezes” não recebe crase.
- ( ) Se “às vezes” for grafado sem crase, a depender da frase, pode haver mudança de sentido. É a isso que o personagem Camilo se refere quando afirma haver um “paradoxo” na fala da colega.

Assinale a sequência correta.

- A) V F F
- B) F V V
- C) V F V
- D) F V F

### QUESTÃO 15

Analise a tirinha a seguir.



Disponível em: <<https://static.todamateria.com.br/upload/ti/ri/tirinha-0.jpg>>. Acesso em: 5 ago. 2019.

O motivo pelo qual a personagem sentiu-se “vingada”, em relação à fala “tenho bebido menas coca-cola” está corretamente justificado em:

- A) Há um desvio da norma-padrão no que diz respeito à concordância de número entre substantivo e determinante.
- B) A concordância verbal da frase está incorreta, uma vez que o verbo não concorda com o sujeito ao qual ele se refere.
- C) Uma palavra invariável está incorretamente flexionada, na tentativa de realizar concordância de gênero.
- D) A concordância de gênero entre o nome e o advérbio da frase está incorreta, pois o advérbio deveria acompanhar a flexão de gênero do nome.

### LEGISLAÇÃO

### QUESTÃO 16

Baseando-se no que que dispõe a Constituição da República de 1988, a Lei Orgânica do Município de Uberlândia trata da organização dos poderes municipais.

Tendo em vista o Poder Legislativo municipal, assinale com V as afirmativas verdadeiras e com F as falsas.

- ( ) Cabe à Câmara Municipal, com a sanção do prefeito, dispor sobre a aquisição onerosa ou alienação de bens imóveis do município.
- ( ) O subsídio dos vereadores será revisado anualmente, observando-se a mesma data e índice do subsídio dos deputados estaduais.
- ( ) Poderá o vereador, desde a sua eleição até o fim de sua legislatura, ser titular de mais de um cargo ou mandato público eletivo, desde que compatíveis entre si.
- ( ) Perderá o mandato o vereador investido na função de secretário ou procurador municipal, recebendo a remuneração da nova função assumida.

Assinale a sequência correta.

- A) V F F V
- B) V V F F
- C) F F V F
- D) F V V V



### QUESTÃO 17

De acordo com a Lei Orgânica do Município de Uberlândia, é de competência do município

- A) criar, organizar e suprimir distritos, mediante autorização prévia das esferas estadual e federal.
- B) elaborar o plano diretor de desenvolvimento integrado.
- C) manter, com a cooperação técnica e financeira da União e do estado, programas de educação do ensino médio e superior.
- D) legislar privativamente sobre proteção à infância, à juventude, à gestante e ao idoso.

### QUESTÃO 18

A Lei Complementar nº 40/1992 do município de Uberlândia estabelece critérios para a contagem do tempo de serviço público municipal local.

Será(ão) contado(s) apenas para efeito de aposentadoria e disponibilidade

- A) o tempo de serviço em atividade privada, vinculada a Previdência Social.
- B) os afastamentos em virtude de férias.
- C) a participação em júri ou outros serviços obrigatórios por lei.
- D) a licença para tratamento da própria saúde.

### QUESTÃO 19

Sobre os direitos e vantagens dos servidores públicos do município de Uberlândia previstos na Lei Complementar Municipal nº 40/1992, assinale a alternativa incorreta.

- A) O vencimento dos cargos públicos é irredutível, porém a remuneração observará o disposto na Constituição Federal.
- B) Remuneração é o vencimento do cargo, acrescido das vantagens pecuniárias, permanentes ou temporárias, previstas em lei.
- C) O servidor que for exonerado do serviço público municipal perderá o direito ao recebimento do saldo proporcional aos dias trabalhados no mês, até o dia de seu desligamento.
- D) Mediante autorização do servidor, poderá ser efetuado desconto em sua remuneração a favor de qualquer pessoa física ou jurídica, por intermédio de regulamento.

### QUESTÃO 20

De acordo com a Lei Complementar Municipal nº 40/1992, constituem indenizações ao servidor público, exceto:

- A) Aposentadoria.
- B) Ajuda de custo.
- C) Transporte.
- D) Diárias.

## ATUALIDADES

### QUESTÃO 21

O sarampo voltou a assombrar o Brasil no último ano. Em 2018, mais de 10 mil casos foram confirmados no país e, neste ano, os números não param de crescer. O estado de São Paulo, por exemplo, registrou um aumento de 303% (de 51 para 206) nos casos da doença entre junho e julho, de acordo com boletim divulgado pela Secretaria Estadual da Saúde.

[...]

Embora o sarampo seja conhecido como uma doença infantil, segundo o boletim da Secretaria, os jovens e adultos representam 47% dos casos atuais em São Paulo. A explicação para o novo foco da doença ser essa faixa etária está justamente no histórico da condição no país.

Disponível em: <<https://vivabem.uol.com.br/noticias/redacao/2019/07/11/por-que-agora-a-vacina-do-sarampo-e-direcionada-a-jovens-de-15-a-29-anos.htm>>.  
Acesso em: 18 jul. 2019.

O estado de São Paulo tem intensificado o movimento de vacinação contra o sarampo de sua população, priorizando o grupo formado por jovens e adultos entre 15 e 29 anos de idade.

Essa faixa etária tem sido priorizada porque,

- A) nela, estão os maiores usuários de redes sociais, sendo, por isso, afetados pelo movimento antivacinação e receptivos a ele, deixando de ser vacinados quando crianças.
- B) no momento em que esse grupo priorizado nasceu, o Brasil foi certificado pela OPAS pela erradicação do sarampo, o que levou os pais a não vacinarem seus filhos.
- C) quando esse grupo era criança, a vacina era aplicada em apenas uma dose e a segunda, que protege contra o sarampo, começou a ser aplicada a partir do ano 2000.
- D) sendo essa doença altamente contagiosa, pessoas entre 15 e 29 anos de idade devem ser priorizadas na vacinação, uma vez que é nessa faixa que predominam grandes eventos sociais.

## QUESTÃO 22

O Conjunto Praça Clarimundo Carneiro, com o Edifício da Câmara Municipal e o Coreto, é um dos principais espaços públicos localizados na região central de Uberlândia.

Sobre o Conjunto Praça Clarimundo Carneiro, é correto afirmar:

- A) Dado seu valor histórico e paisagístico, é um bem tombado pelo Instituto do Patrimônio Histórico e Artístico Nacional – IPHAN.
- B) Foi projetado e construído para corresponder à modernidade da época, materializada na proclamação da República.
- C) Recebeu esse nome na sua inauguração, em homenagem ao empresário da cidade que mais investiu na sua construção.
- D) Tem como um dos elementos de destaque o fato de ser a primeira praça do país construída sobre um cemitério.

## QUESTÃO 23

Analise os textos a seguir.

### TEXTO I



Disponível em: <<https://electronalminds.wordpress.com/charges/>>. Acesso em: 14 jul. 2019.

### TEXTO II

“Um relatório apresentado pelas Organizações das Nações Unidas (ONU) mostra que o Brasil é o maior produtor de lixo eletrônico (e-lixo) da América Latina, e, se contar todo o continente americano, fica atrás apenas dos Estados Unidos.”

Disponível em: <<https://diariodeuberlandia.com.br/noticia/21647/uberlandia-conta-com-opcoes-para-destinacao-correta-de-lixo-eletronico>>. Acesso em: 14 jul. 2019.

Sobre a destinação do lixo eletrônico no Brasil, é correto afirmar que a(o)

- A) indústria de eletrônicos recolhe seus produtos após o uso de forma compulsória.
- B) maior parte do lixo eletrônico brasileiro é destinada à reciclagem e ao reuso.
- C) e-lixo pode ser reciclado e seus componentes podem ser selecionados para destinação correta.
- D) lixo eletrônico, devido a sua composição tóxica, deve ser descartado isoladamente.

## QUESTÃO 24

Uma parcela de 7% dos brasileiros acredita que o formato da Terra é plano, aponta uma pesquisa realizada pelo Instituto Datafolha no início deste mês. O levantamento contou com 2 086 entrevistados maiores de 16 anos de idade em 103 cidades pelo país e foi o primeiro a estimar quantos no país duvidam que o planeta seja esférico – cerca de 11 milhões de pessoas.

Disponível em: <<https://www1.folha.uol.com.br/ciencia/2019/07/7-dos-brasileiros-afirmam-que-terra-e-plana-mostra-pesquisa.shtml>>. Acesso em: 2 ago. 2019.

Sobre o crescimento do terraplanismo no Brasil, é correto afirmar:

- A) A adoção do terraplanismo tem sido, para seus adeptos, a oportunidade de ganhar visibilidade, dado que o movimento é disseminado por redes sociais.
- B) A população brasileira é marcadamente idosa, pois é nesse seguimento que se concentram as pessoas que seguem as teorias terraplanistas.
- C) O grande dano que ideias como o terraplanismo podem causar para os brasileiros, assim como para outros povos, é o de afastar a população da ciência.
- D) O índice de baixa escolaridade no país é muito grande, pois as pessoas que adotam o terraplanismo têm o Ensino Fundamental como grau máximo concluído.

## QUESTÃO 25

A mobilidade urbana é um problema que afeta as grandes cidades na atualidade do Brasil e do mundo. Por isso, em várias cidades, verifica-se iniciativas que buscam oferecer soluções para esse problema.

O sistema alternativo que atende às demandas ambientais e econômicas para a mobilidade urbana é

- A) compartilhamento de bicicletas e patinetes.
- B) sistema de táxis-lotação, com itinerário semelhante ao dos ônibus.
- C) sistema de trens metropolitanos movidos por eletricidade.
- D) transporte automotivo por aplicativo.

## MATEMÁTICA / RACIOCÍNIO LÓGICO

### QUESTÃO 26

Oto, Téo e Tom são três amigos que trabalham juntos. Dois deles têm 34 anos de idade e sempre dizem mentira. Já o outro amigo, que tem 40 anos de idade, diz sempre a verdade.

Se Téo disse que a idade de Tom não é 34 anos de idade, então é correto afirmar que

- A) Oto tem 34 anos de idade.
- B) Téo e Tom sempre mentem.
- C) Téo tem 40 anos de idade.
- D) Tom diz sempre a verdade.

### QUESTÃO 27

Max e seus cinco amigos estão em uma fila cujas posições ocorrem de forma crescente, sempre da esquerda para direita. Edu está em uma posição anterior à de Isa, que, por sua vez, está em uma posição, imediatamente, posterior à de Mel. Léo, com certeza, não está antes de todos os outros cinco amigos na fila, mas está em uma posição mais próxima da primeira do que da última. É certo que Eli está em uma posição anterior à de Edu e que esse, por sua vez, não ocupa a quarta posição da fila.

Dessa forma, é correto concluir que a pessoa que ocupa a quarta posição nessa fila

- A) é certamente Mel.
- B) é certamente Isa.
- C) pode ser Mel ou Isa.
- D) pode ser Mel ou Max.

### QUESTÃO 28

Um professor entrou em sala e escreveu, sem dizer nada, a seguinte tabela no quadro.

<b>Posição do termo na sequência</b>	1	2	3	4	5	6	7	8
<b>Valor do termo da sequência</b>	3	5	3	-1	-3	-1	3	5

Após escrever essa tabela, o professor disse aos seus alunos que ela representava, ordenadamente, a posição e o valor dos oito primeiros termos de uma sequência, cuja lei de recorrência era aplicada a partir do seu terceiro termo. Imediatamente após essas informações, o professor pediu à aluna Dani que respondesse qual seria o valor do 79º termo dessa sequência.

Dani, de forma correta, respondeu para o professor, que era o número

- A) 5.
- B) 3.
- C) -1.
- D) -3.

### QUESTÃO 29

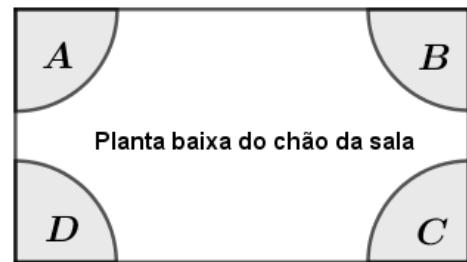
Cleide comprou um relógio analógico e descobriu, após algum tempo que a hora por ele marcada tinha um atraso com relação à indicação de hora correta. Após algumas observações, ela percebeu que seu relógio tinha um atraso de 3 segundos e 1 décimo de segundo a cada minuto que passava. Certo dia, Cleide parou totalmente seu relógio, e o ajustou corretamente ao horário real, que era exatamente de 14h, permanecendo o atraso do relógio a contar a partir desse horário.

Dessa forma, no horário correto, às 21h desse mesmo dia, o ponteiro dos segundos do relógio de Cleide apontava para marcação correspondente a

- A) 3 segundos.
- B) 7 segundos.
- C) 21 segundos.
- D) 42 segundos.

### QUESTÃO 30

A figura a seguir representa a planta baixa do chão de uma sala. As regiões A, B, C e D representam aquecedores que serão colocados nos quatro cantos do chão dessa sala.



Para manter a sala sempre aquecida na temperatura ideal, é preciso que pelo menos um dos aquecedores esteja ligado. O número de maneiras distintas em que se pode ter pelo menos um dos aquecedores ligados é igual a

- A) 15.
- B) 24.
- C) 64.
- D) 96.

## CONHECIMENTOS ESPECÍFICOS

### NUTRICIONISTA

#### QUESTÃO 31

Em relação à Política Nacional de Alimentação e Nutrição (PNAN) e ao cenário à época da aprovação da Portaria nº 2.715, de 17 de novembro de 2011, assinale a alternativa incorreta.

- A) A sociedade brasileira vivenciou uma transição nutricional: o país que apresentava altas taxas de desnutrição, na década de 1970, passou a ser o país com uma população adulta com excesso de peso, em 2008.
- B) A Política Nacional de Alimentação e Nutrição (PNAN) tem por pressupostos os direitos à Saúde e à Alimentação e é orientada pelos princípios doutrinários e organizativos do Sistema Único de Saúde.
- C) A Política Nacional de Alimentação e Nutrição (PNAN) foi aprovada no ano de 1999 e passou por um processo de atualização e aprimoramento das suas bases e diretrizes, de forma a consolidar-se como uma referência no campo da alimentação e nutrição no Sistema Único de Saúde.
- D) A redução da desnutrição em crianças menores de 5 anos foi intensa nas décadas anteriores a 2010, principalmente a desnutrição crônica em grupos vulneráveis da população, como as crianças indígenas, quilombolas e residentes na região Norte do país.

#### QUESTÃO 32

As diretrizes que integram a Política Nacional de Alimentação e Nutrição (PNAN) indicam as linhas de ações capazes de modificar os determinantes de saúde e promover a saúde da população.

A esse respeito, relacione a COLUNA II com a COLUNA I, associando a diretriz a seu respectivo conceito ou descrição.

#### COLUNA I

1. Organização da atenção nutricional
2. Controle e regulação dos alimentos
3. Promoção da alimentação adequada e saudável

#### COLUNA II

- ( ) Compreende os cuidados relativos à alimentação e nutrição voltados à promoção e proteção da saúde, à prevenção, ao diagnóstico e ao tratamento de agravos, devendo estar associados às demais ações de atenção à saúde do SUS.
- ( ) Compreende um conjunto de estratégias que proporciona aos indivíduos e coletividades a realização de práticas alimentares apropriadas aos seus aspectos biológicos e socioculturais, bem como ao uso sustentável do meio ambiente.

- ( ) Compreende o planejamento das ações que garante a inocuidade e a qualidade nutricional dos alimentos, controlando e prevenindo riscos à saúde e a preocupação em ofertar o alimento saudável e com garantia de qualidade biológica, sanitária, nutricional e tecnológica.

Assinale a sequência correta.

- A) 1 2 3
- B) 3 2 1
- C) 1 3 2
- D) 2 1 3

#### QUESTÃO 33

A Resolução CD/FNDE nº 26/2013 dispõe sobre a alimentação escolar e contém informações sobre o planejamento dos cardápios dos alunos no âmbito do Programa Nacional de Alimentação Escolar.

Considerando essa resolução, os cardápios deverão ser planejados para atender, em média, às necessidades nutricionais de modo a suprir, no mínimo,

- A) 20% das necessidades nutricionais, distribuídas em, ao menos, duas refeições, para as creches em período parcial.
- B) 70% das necessidades nutricionais, distribuídas em, ao menos, três refeições, para as creches em período integral.
- C) 30% das necessidades nutricionais diárias quando ofertada uma refeição, para os alunos matriculados na Educação Básica, em período parcial.
- D) 30% das necessidades nutricionais diárias, por refeição ofertada, para os alunos matriculados nas escolas e creches localizadas em comunidades indígenas ou em áreas remanescentes de quilombos.

#### QUESTÃO 34

A presença do nutricionista habilitado no âmbito do Programa Nacional de Alimentação Escolar (PNAE) é uma das garantias da manutenção da qualidade da alimentação escolar, pois compete a ele programar, elaborar e avaliar os cardápios.

Em relação à oferta da alimentação nas escolas atendidas pelo PNAE, assinale a alternativa correta.

- A) A oferta de fruta *in natura* no cardápio poderá ser substituída pela oferta de suco natural sem adição de açúcar.
- B) A oferta de doces e / ou preparações doces fica limitada a duas porções por semana, equivalente a 110 kcal / porção.
- C) Para as preparações diárias da alimentação escolar, recomenda-se no máximo 15% da energia total proveniente de açúcar simples adicionado.
- D) Os cardápios deverão oferecer, no mínimo, três porções de frutas ou hortaliças por semana (100 g/aluno/semana) nas refeições ofertadas.

### QUESTÃO 35

Sobre o Programa Nacional de Alimentação Escolar (PNAE), assinale com V as afirmativas verdadeiras e com F as falsas.

- ( ) Do total dos recursos financeiros repassados pelo Fundo Nacional de Desenvolvimento Escolar (FNDE), no âmbito do Programa Nacional de Alimentação Escolar, no mínimo 30% deverá ser utilizado na aquisição de gêneros alimentícios diretamente da Agricultura Familiar e do Empreendedor Familiar Rural ou suas organizações.
- ( ) O Conselho de Alimentação Escolar (CAE) é um órgão colegiado de caráter fiscalizador, permanente, deliberativo e de assessoramento, instituído no âmbito dos estados, do Distrito Federal e dos municípios, e entre suas atribuições estão o monitoramento e fiscalização da aplicação dos recursos e do cumprimento das diretrizes e objetivos do PNAE.
- ( ) É vedada ao gestor a aquisição de alimentos enlatados, embutidos, doces, alimentos compostos (dois ou mais alimentos embalados separadamente para consumo conjunto), preparações semiprontas ou prontas para o consumo, ou alimentos concentrados (em pó ou desidratados para reconstituição).
- ( ) Os recursos financeiros repassados pelo FNDE no âmbito do Programa Nacional de Alimentação Escolar serão utilizados na aquisição de gêneros alimentícios e serviços, desde que estes estejam vinculados e relacionados à alimentação escolar.

Assinale a sequência correta.

- A) V F V F
- B) F V F V
- C) V V F F
- D) F F V V

### QUESTÃO 36

Observe a tabela a seguir que apresenta parte da informação nutricional de uma preparação única na porção total servida aos alunos de uma escola inserida no Programa Nacional de Alimentação Escolar.

Secretaria Municipal de Educação Programa Nacional de Alimentação Escolar						
Cardápio – Educação Básica – 6 a 10 anos de idade						
2ª feira						
Lanche da manhã 10 hs						
Refeição / Horário	Energia (kcal)	Carboidrato (g)	Proteína (g)	Gorduras (g)		Sódio (mg)
				Total (g)	Saturada(g)	
	300	40	10	11	3	400

A preparação apresenta nutrientes em quantidades em conformidade com o determinado pela Resolução CD/FNDE Nº 26/2013 no âmbito do Programa Nacional de Alimentação Escolar, exceto por apresentar elevado nível de

- A) gordura total.
- B) gordura saturada.
- C) sódio.
- D) carboidrato.

### QUESTÃO 37

Em relação aos princípios que orientaram a elaboração do Guia Alimentar para a População Brasileira, assinale a alternativa correta.

- A) A alimentação saudável deve ter como base a ingestão de alimentos processados ou minimamente processados.
- B) O enfraquecimento da transmissão de habilidades culinárias entre gerações favorece o consumo de alimentos ultraprocessados.
- C) Guias alimentares limitam a autonomia nas escolhas alimentares, pois, diante da grande oferta de alimentos ultraprocessados, o acesso a informações confiáveis sobre alimentação adequada e saudável reduz as possibilidades de escolha de alimentos que atendam a essa prática.
- D) Alimentação é mais que ingestão de nutrientes, diz respeito também à forma como alimentos são combinados entre si e preparados, às características do modo de comer e às dimensões culturais e sociais.

### QUESTÃO 38

O Guia Alimentar para a População Brasileira classifica os alimentos pelo tipo de processamento empregado em sua produção.

A esse respeito, relacione a COLUNA II com a COLUNA I, associando o alimento à sua classificação em relação ao tipo de processamento.

#### COLUNA I

1. Minimamente processados
2. Processados
3. Ultraprocessados

#### COLUNA II

- ( ) Empanado à base de frango
- ( ) Leite longa vida pasteurizado
- ( ) Atum enlatado

Assinale a sequência correta.

- A) 3 1 2
- B) 2 1 3
- C) 1 3 2
- D) 3 2 1

### QUESTÃO 39

Em parceria com a Organização Pan-Americana da Saúde (OPAS) e a Universidade de São Paulo (USP), o Ministério da Saúde elaborou o Guia Alimentar para a População Brasileira, que apresenta os dez passos para uma alimentação adequada e saudável.

Assinale a alternativa que apresenta corretamente um desses dez passos.

- A) Comer com regularidade e atenção, em ambientes apropriados e, sempre que possível, com companhia.
- B) Consumir apenas alimentos *in natura* ou minimamente processados e excluir o consumo de alimentos ultraprocessados.
- C) Evitar fazer compras de alimentos em locais onde apenas são comercializados alimentos ultraprocessados e evitar comer em redes de *fast food*.
- D) Consumir diariamente pequenas porções de óleos, gorduras, sal e açúcares em preparações culinárias e evitar o consumo de alimentos processados.

### QUESTÃO 40

A realização do diagnóstico nutricional e o monitoramento do estado nutricional são importantes para todas as faixas de idade, consistindo no eixo central das ações de saúde voltadas para a fase da infância e da adolescência.

No âmbito do Programa Nacional de Alimentação e Nutrição, considere as afirmativas a seguir.

- I. A antropometria possibilita que os diagnósticos individuais sejam agrupados e analisados de modo a fornecer o diagnóstico coletivo, permitindo conhecer o perfil nutricional de um determinado grupo.
- II. Para a vigilância do estado nutricional, é preconizado o método antropométrico.
- III. Para a realização do diagnóstico nutricional nas escolas, o nutricionista pode firmar parcerias com universidades e faculdades de nutrição e professores de educação física.

Estão corretas as afirmativas

- A) I e II, apenas.
- B) I e III, apenas.
- C) I, II e III.
- D) II e III, apenas.

### QUESTÃO 41

Os procedimentos de Boas Práticas para serviços de alimentação e os Procedimentos Operacionais Padronizados (POPs) são regulamentados pelas RDCs 216/2004 e 275/2002, respectivamente, e visam garantir as condições higiênico-sanitárias dos alimentos preparados em estabelecimentos e serviços de alimentação.

Considerando essas resoluções, assinale a alternativa incorreta.

- A) Os POPs podem ser apresentados como anexo do Manual de Boas Práticas de Fabricação do estabelecimento e devem estar acessíveis aos responsáveis pela execução das operações e às autoridades sanitárias.
- B) Deve-se prever registros periódicos suficientes para documentar a execução e o monitoramento dos Procedimentos Operacionais Padronizados. Os registros devem ser mantidos por período mínimo de 90 dias, contados a partir da data de preparação dos alimentos.
- C) A frequência das operações e o nome, cargo e / ou função dos responsáveis por sua execução devem estar especificados em cada POP.
- D) Os POPs referentes ao controle integrado de vetores e pragas urbanas devem contemplar as medidas preventivas e corretivas destinadas a impedir a atração, o abrigo, o acesso e / ou a proliferação de vetores e pragas urbanas.

## QUESTÃO 42

Considere a seguinte situação hipotética.

Em uma escola de um município, foi identificado um caso de surto alimentar que está sendo investigado. Analisando os registros de produção da refeição do dia, a equipe da Vigilância Sanitária verificou que a preparação estrogonofe de frango (sobra limpa) foi reaproveitada do período diurno para o noturno e encontrou as planilhas de registro de temperaturas das várias etapas do processo, da produção à distribuição. Analise os dados obtidos.

Planilha de registro de temperatura de degelo (ETAPA 1)			
ALIMENTO	DATA / HORA	EQUIPAMENTO	TEMPERATURA (superfície do alimento)
Peito de frango	07/08/2019 - 16h	Geladeira 1	0 °C
	07/08/2019 - 20h		4 °C
	07/08/2019 - 22h		6 °C
	08/08/2019 - 6h		10 °C

Planilha de registro de temperatura de espera (ETAPA 2)				
PREPARAÇÃO	DATA / HORA	TEMPERATURA (centro do alimento)	DATA / HORA	TEMPERATURA (centro do alimento)
Estrogonofe de frango	08/08/2019 (Início da espera) 11h30	75 °C	08/08/2019 (Final da espera) 13h30	65 °C

Planilha de resfriamento da preparação (ETAPA 3)			
ALIMENTO	DATA / HORA	EQUIPAMENTO	TEMPERATURA (centro do alimento)
Estrogonofe de frango	08/08/2019 - 13h30	Banho de gelo	65 °C
	08/08/2019 - 14h		50 °C
	08/08/2019 - 15h		30 °C
	08/08/2019 - 15h30		20 °C
	08/08/2019 - 17h	Geladeira 2	10 °C
	08/08/2019 - 19h		4 °C

Com base nessas informações e considerando as recomendações da RDC 216/2004, assinale a alternativa que apresenta a(s) etapa(s) em que ocorreu(am) falha(s) no processo de preparo / distribuição / armazenamento da refeição e que pode(m) ter favorecido a multiplicação de microrganismos.

- A) Etapas 1 e 2.
- B) Etapa 3.
- C) Etapa 2.
- D) Etapas 1 e 3.

## QUESTÃO 43

A anemia por deficiência de ferro constitui o déficit nutricional mais comum em todo o mundo.

Em relação a essa anemia, assinale a alternativa incorreta.

- A) É uma consequência frequente de doença no íleo terminal ou ressecção desse segmento intestinal.
- B) São sintomas da anemia por deficiência de ferro: taquicardia, fadiga, glossite e parestesia.
- C) É caracterizada como anemia hipocrômica e microcítica.
- D) Apresenta marcadores como a transferrina com nível elevado e a ferritina com nível baixo.

**INSTRUÇÃO:** Leia o texto a seguir para responder às questões 44 e 45.

Durante a avaliação nutricional, o exame físico pode fornecer evidências de deficiências nutricionais específicas de alguns nutrientes.

Considere que, ao examinar um paciente, o nutricionista verificou que ele apresenta uma mancha acinzentada, brilhante e triangular nos olhos e a presença de petéquias na pele.

#### QUESTÃO 44

Os dois sinais apresentados indicam, respectivamente, a deficiência de

- A) zinco e vitamina K.
- B) vitamina D e niacina.
- C) vitamina A e vitamina C.
- D) tiamina e ferro.

#### QUESTÃO 45

Para auxiliar na correção das deficiências apresentadas pelo paciente, o nutricionista deve orientar o consumo de

- A) frutas cítricas e vegetais folhosos verde-escuros.
- B) fígado, peixe e ovos.
- C) leite e cereais integrais.
- D) carne e óleos vegetais.

#### QUESTÃO 46

Analise o caso clínico a seguir.

Paciente, sexo masculino, 73 anos de idade, sedentário, compareceu ao hospital para avaliação médica com queixa de dores na coxa e no quadril, causadas por uma queda após fraqueza sentida nas pernas. Não foi constatada fratura, mas o paciente foi orientado a manter-se em repouso por duas semanas e foi encaminhado ao ambulatório para avaliação nutricional, com suspeita de sarcopenia.

Os dados são:

Peso = 74 kg

Altura = 1,64 m

Ingestão alimentar habitual de massas, pães, margarina, bolos e biscoitos, pobre em carne, leite, frutas e verduras.

Considere os itens a seguir.

- I. Índice de Massa Corporal / ajuste da oferta energética a fim de evitar o sobrepeso.
- II. Determinação de desempenho físico pelo teste de velocidade da marcha / ajuste na quantidade de proteína da dieta.
- III. Detecção da força de preensão manual / inserção de frutas e verduras na dieta.

Apresentam, respectivamente, o método diagnóstico para identificação da sarcopenia e orientação nutricional para o paciente.

- A) I e II, apenas.
- B) I e III, apenas.
- C) II e III, apenas.
- D) I, II e III.

#### QUESTÃO 47

Durante a manipulação ou preparo do alimento, é importante observar algumas características que demonstram frescor ou que podem sinalizar a deterioração desse alimento.

Em relação à qualidade e às características dos ovos, assinale a alternativa incorreta.

- A) À medida que o ovo envelhece, parte do CO<sub>2</sub> sai pela porosidade da casca e ocorre entrada de ar externo, aumentando o tamanho da câmara de ar.
- B) No ovo velho, ocorre ruptura da membrana vitelina e a mistura da clara com a gema.
- C) Os ovos frescos possuem pH interno alcalino, gema lateralizada e firme.
- D) O ovo fresco tem casca áspera e fosca, e o ovo velho tem a casca lisa e com brilho.

#### QUESTÃO 48

O leite materno traz benefícios nutricionais e imunológicos inquestionáveis, e o aleitamento materno deve ser sempre a primeira opção para lactentes.

Em relação a esse tema, assinale a alternativa incorreta.

- A) A lactose é o principal carboidrato do leite humano, fornece aproximadamente 40% das necessidades energéticas do bebê e facilita a absorção de cálcio e ferro.
- B) O colostro contém mais proteína e menos gordura, carboidrato e calorias do que o leite maduro.
- C) A concentração de gordura do leite humano sofre flutuações tanto na quantidade quanto na qualidade em relação à alimentação materna ao longo do dia.
- D) As concentrações de sódio, potássio e cloro são menores no colostro do que no leite maduro.

#### QUESTÃO 49

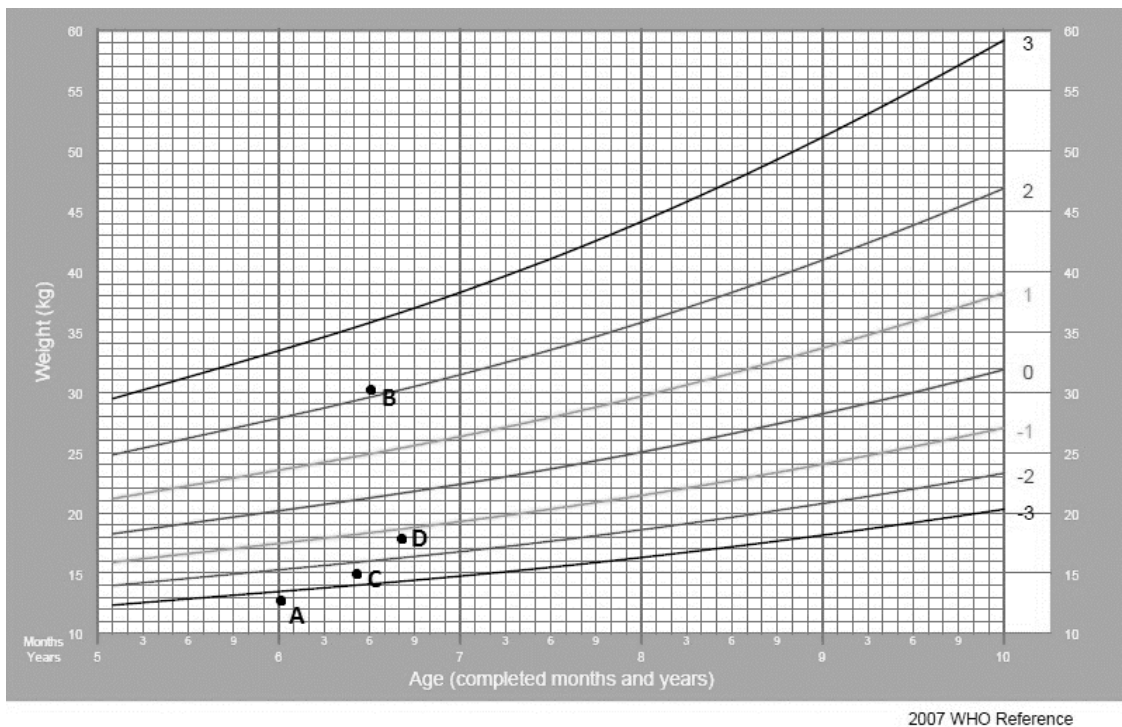
Em relação às indicações e contraindicações, vantagens e desvantagens da terapia nutricional (oral, enteral e parenteral), assinale a alternativa correta.

- A) A terapia nutricional enteral está indicada nas situações em que o trato digestivo estiver total ou parcialmente funcional ou quando a ingestão por via oral for insuficiente para atingir 50% das necessidades nutricionais diárias.
- B) A terapia nutricional parenteral está indicada nos casos de obstrução intestinal e na vigência de instabilidade hemodinâmica.
- C) Recomenda-se terapia nutricional enteral precoce, com dieta oligomérica em pacientes com trauma.
- D) A suplementação oral está indicada em pacientes com perda de peso ou com ingestão insuficiente de nutrientes em um período de cinco a sete dias de hospitalização.



### QUESTÃO 50

Observe o gráfico a seguir que apresenta o índice peso / idade de quatro crianças, A, B, C e D, do sexo feminino.



De acordo com os dados apresentados na figura, os critérios adotados pelo Ministério da Saúde e pela Organização Mundial da Saúde para a classificação do estado nutricional das crianças, assinale com V as afirmativas verdadeiras e com F as falsas.

- ( ) A criança A apresenta baixo peso para a idade.
- ( ) A criança C apresenta baixo peso para a idade.
- ( ) A criança B apresenta peso elevado para a idade, mas requer avaliação dos índices de peso / estatura ou IMC / idade para um adequado diagnóstico nutricional.
- ( ) A criança D apresenta peso adequado para a idade.

Assinale a sequência correta.

- A) V V V F
- B) F V V V
- C) F F F V
- D) V F F F