

**Câmara Municipal de Coronel
Fabriciano/MG**

**CONCURSO PÚBLICO
Nº 001/2017**



Técnico em Contabilidade

Manhã

ÚNICO

Organizadora:



A Terra e o homem unidos pelo bem e pelo mal, pela saúde e pela doença

De uma ou de outra forma, todos nos sentimos doentes física, psíquica e espiritualmente. O sofrimento, o desamparo, a tristeza e a decepção afetam grande parte da humanidade. Já o dissemos: da recessão econômica passamos à depressão psicológica. A causa principal deriva da intrínseca relação existente entre o ser humano e a Terra viva. Entre ambos vigora um envolvimento recíproco.

Nossa presença na Terra é agressiva, movemos uma guerra total a Gaia, atacando-a em todas as frentes. A consequência é que a Terra fica doente. Ela o mostra pela febre do aquecimento global, que não é uma doença, mas aponta para uma doença: a incapacidade de continuar a nos oferecer tudo que precisamos. No dia 2 de setembro de 2017, ocorreu a sobrecarga da Terra; vale dizer, as reservas do planeta chegaram ao fundo do poço. Entramos no vermelho. Para termos o necessário e, pior, para mantermos o consumo suntuário e o desperdício dos países ricos, devemos arrancar à força os bens naturais. Até quando a Terra aguenta? Teremos menos água, menos nutrientes, menos safras e demais itens indispensáveis à vida.

Nós que, consoante à nova cosmologia, formamos uma grande unidade, uma entidade única com a Terra, participamos da doença dela. Pela agressão aos ecossistemas e pelo consumismo, pela falta de cuidado com a vida e com a biodiversidade, adoecemos a Terra.

Isaac Asimov escreveu um artigo, em 1982, por ocasião da celebração dos 25 anos do lançamento do *Sputnik*, que inaugurou a era espacial. O primeiro legado, disse ele, é a percepção de que, na perspectiva das naves espaciais, a Terra e a humanidade formam uma única entidade, vale dizer, um único ser, complexo, diverso, contraditório e dinâmico, chamado pelo cientista *James Lovelock* de “Gaia”. Somos aquela porção da Terra que sente, pensa, ama e cuida.

O segundo legado é a irrupção da consciência planetária: Terra e humanidade possuem um destino comum. O que se passa num se passa também no outro. Adoece a Terra, adoece o ser humano; adoece o ser humano, adoece também a Terra. Estamos unidos pelo bem e pelo mal.

Segundo *Ilya Prigogine*, prêmio Nobel de Química, a Terra viva desenvolveu estruturas que dissipam a entropia (perda de energia). Elas metabolizam a desordem e o caos do meio ambiente, de sorte que surgem novas ordens e estruturas, produzindo sintropia (acumulação de energia).

O que é desordem para um serve de ordem para outro. É por meio de um equilíbrio precário entre ordem e desordem que a vida se mantém. A desordem obriga a criar novas formas de ordem, mais altas e complexas, com menos dissipação de energia. A partir dessa lógica, o universo caminha para formas cada vez mais complexas de vida e, assim, para uma redução da entropia (desgaste de energia).

Em nível humano e espiritual, se originam formas de relação e de vida nas quais predomina a sintropia (economia de energia) sobre a entropia (desgaste de energia). A solidariedade, o amor, o pensamento e a comunicação são energias fortíssimas, com escasso nível de entropia e alto nível de sintropia. Nessa perspectiva, temos pela frente não a morte térmica, mas a transfiguração do processo cosmogênico se revelando em ordens supremamente ordenadas, criativas e vitais.

Quanto mais nossas relações para com a natureza forem amigáveis e cooperativas, mais a Terra se vitaliza. A Terra saudável nos faz também saudáveis.

(BOFF, Leonardo. <http://www.otempo.com.br/opini%C3%A3o/leonardo-boff/a-terra-e-o-homem-unidos-pelo-bem-e-pelo-mal-pela-sa%C3%BAde-e-pela-doen%C3%A7a-1.1538421>. Acesso em: 06/11/2017.)

01

De acordo com as ideias do texto, é INCORRETO afirmar que:

- A) Nós também somos a Terra.
- B) Terra e homem são unidos por dicotomias.
- C) O que a Terra nos fornece é o retorno da maneira como a tratamos.
- D) A maneira como o homem trata a Terra gerou um desequilíbrio denominado de sintropia e entropia.

02

“Em nível humano e espiritual, se originam formas de relação e de vida nas quais predomina a sintropia (economia de energia) sobre a entropia (desgaste de energia).” (8º§) O trecho sublinhado exerce a função sintática de:

- A) Sujeito.
- B) Objeto direto.
- C) Objeto indireto.
- D) Complemento nominal.

03

De acordo com o contexto, as palavras podem variar de significado. Assim, de acordo com o contexto empregado, assinale a alternativa cuja palavra sublinhada apresenta o significado corretamente indicado.

- A) “Já o dissemos: da recessão econômica passamos à depressão psicológica.” (1º§) retrocesso
- B) “A causa principal deriva da intrínseca relação existente entre o ser humano e a Terra viva.” (1º§) valorosa
- C) “O segundo legado é a irrupção da consciência planetária: Terra e humanidade possuem um destino comum.” (5º§) formação
- D) “Para termos o necessário e, pior, para mantermos o consumo suntuário e o desperdício dos países ricos, devemos arrancar à força os bens naturais.” (2º§) magnificente

04

Analise as afirmativas quanto ao uso dos pronomes nos trechos a seguir.

- I. “Nossa presença na Terra é agressiva, movemos uma guerra total a Gaia, atacando-a em todas as frentes.” (2º§) / Ocorre a presença de dois pronomes: um possessivo e outro pessoal.
- II. “Ela o mostra pela febre do aquecimento global, que não é uma doença...” (2º§) / O trecho apresenta apenas dois pronomes: um pessoal e outro relativo.
- III. “Somos aquela porção da Terra que sente, pensa, ama e cuida.” (4º§) / Há dois pronomes: um demonstrativo e outro relativo.

Está(ão) correta(s) a(s) afirmativa(s)

- A) I, II e III.
- B) II, apenas.
- C) I e II, apenas.
- D) I e III, apenas.

05

“Ela o mostra pela febre do aquecimento global, que não é uma doença, mas aponta para uma doença: a incapacidade de continuar a nos oferecer tudo que precisamos.” (2º§) O trecho sublinhado é classificado como:

- A) Oração subordinada adjetiva restritiva.
- B) Oração subordinada adjetiva explicativa.
- C) Oração subordinada substantiva apositiva.
- D) Oração subordinada substantiva objetiva direta.

06

O autor, em seu texto, cita Isaac Asimov e Ilya Prigogine com o intuito de:

- A) Sustentar a tese de que o homem é o responsável pelas agressões à Terra.
- B) Mostrar que a Terra já não é tão capaz de nos fornecer tudo o que precisamos.
- C) Divulgar o artigo escrito por Isaac Asimov e o prêmio Nobel dado à Ilya Prigogine.
- D) Defender, através de argumentos de autoridade, que a Terra e o homem estão unidos e o que acontece com um acontece também com o outro.

07

Assinale a alternativa cujo uso da vírgula se justifica pelo mesmo motivo que em: “A desordem obriga a criar novas formas de ordem, mais altas e complexas, com menos dissipação de energia.” (7º§)

- A) “Somos aquela porção da Terra que sente, pensa, ama e cuida.” (4º§)
- B) “No dia 2 de setembro de 2017, ocorreu a sobrecarga da Terra...” (2º§)
- C) “O sofrimento, o desamparo, a tristeza e a decepção afetam grande parte da humanidade.” (1º§)
- D) “Segundo Ilya Prigogine, prêmio Nobel de Química, a Terra viva desenvolveu estruturas que dissipam a entropia (perda de energia).” (6º§)

08

No título do texto “A Terra e o homem unidos pelo bem e pelo mal, pela saúde e pela doença”, há a presença de dicotomias como bem e mal e saúde e doença. Assinale a alternativa cujo trecho apresenta a mesma ocorrência.

- A) “Adoece a Terra, adoece o ser humano; adoece o ser humano, adoece também a Terra.” (5º§)
- B) “Quanto mais nossas relações para com a natureza forem amigáveis e cooperativas, mais a Terra se vitaliza.” (9º§)
- C) “O que é desordem para um serve de ordem para outro. É por meio de um equilíbrio precário entre ordem e desordem que a vida se mantém.” (7º§)
- D) “O primeiro legado, disse ele, é a percepção de que, na perspectiva das naveas espaciais, a Terra e a humanidade formam uma única entidade, vale dizer, um único ser, complexo, diverso, contraditório e dinâmico, chamado pelo cientista James Lovelock de ‘Gaia’.” (4º§)

09

Analise os trechos a seguir e assinale a alternativa que indica a relação semântica correta entre o termo sublinhado e o que está indicado.

- A) “Entre ambos vigora um envolvimento recíproco.” (1º§) / recessão econômica e depressão psicológica.
- B) “Isaac Asimov escreveu um artigo, em 1982, por ocasião da celebração dos 25 anos do lançamento do Sputnik, que inaugurou a era espacial.” (4º§) / artigo
- C) “Nós que, consoante à nova cosmologia, formamos uma grande unidade, uma entidade única com a Terra, participamos da doença dela.” (3º§) / cosmologia
- D) “Elas metabolizam a desordem e o caos do meio ambiente, de sorte que surgem novas ordens e estruturas, produzindo sintropia (acumulação de energia).” (6º§) / estruturas

10


Quanto à função que o trecho sublinhado exerce no período, assinale a alternativa correta.

- A) “Adoece a Terra, adoece o ser humano;...” (5º§) / complemento nominal
- B) “Ela o mostra pela febre do aquecimento global;...” (2º§) / adjunto adverbial
- C) “No dia 2 de setembro de 2017, ocorreu a sobrecarga da Terra;...” (2º§) / objeto indireto
- D) “Quanto mais nossas relações para com a natureza forem amigáveis e cooperativas, mais a Terra se vitaliza.” (9º§) / objeto indireto

RACIOCÍNIO LÓGICO

11


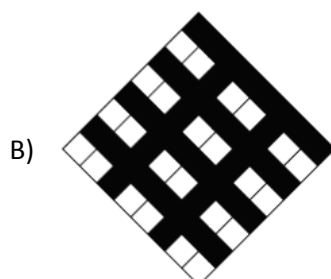


O quadrado a seguir tem lado igual a 16 cm. A área em negrito no seu interior mede:



- A) 116 cm².
- B) 128 cm².
- C) 192 cm².
- D) 224 cm².

12

Qual das figuras da sequência a seguir é DIFERENTE de todas as demais?



13

Uma progressão geométrica apresenta como sexto e sétimo termos respectivamente $12/5$ e $12/25$. A soma dos dois primeiros termos dessa sequência é um número:

- A) Maior que 1.000. C) Maior que 10 e menor que 100.
B) Maior que 1 e menor que 10. D) Maior que 100 e menor que 1.000.

14

A razão entre dois números é igual a 4 e a diferença entre eles é igual a 54. O produto desses dois números é:

- A) 1.152. B) 1.224. C) 1.296. D) 1.480.

15

Sejam os conjuntos $A = \{2, 4, x, 9, 11, 13, y, 16\}$, $B = \{3, 4, x, 8, 10, 11, y, 17\}$ e $C = \{3, 4, x, 9, 11, y, 19\}$. Se a soma dos elementos do conjunto $A \cap B \cap C$ é igual a 35 e sendo $y = 3x$, então a diferença $y - x$ é igual a:

- A) 7. B) 8. C) 10. D) 12.

CONHECIMENTOS DE INFORMÁTICA

16

Existem várias maneiras de se executar um *software* instalado no sistema operacional *Microsoft Windows 10*. É possível clicar duas vezes rápidas com o botão esquerdo do *mouse*, selecionar o ícone do programa e digitar a tecla ENTER. Outra maneira, menos usual, de executar programas é pela “janela Executar”. Escolha a alternativa que descreve corretamente uma forma de abrir a janela “Executar” e, em seguida, execute o *software Paint*, para criação e edição de imagens.

- A) CTRL + R → Digite: “*paint*”. C) Windows + R → Digite: “*pbrush*”.
B) CTRL + E → Digite: “*pbrush*”. D) Windows + E → Digite: “*paintbrush*”.

17

O MS-DOS, acrônimo de *MicroSoft Disk Operating System* (sistema operacional em disco da *Microsoft*), é um nome genérico do sistema operacional licenciado pela *Microsoft Corporation* para uso em vários microcomputadores de diferentes fabricantes, que alteram o MS-DOS para melhor adaptá-lo a seus computadores, atribuindo-lhe novos nomes, tais como PC-DOS ou Z-DOS. Sobre a versão do MS-DOS associada ao Sistema Operacional *Windows 10*, é INCORRETO afirmar que:

- A) A seleção de texto pode ser feita usando apenas o cursor do *mouse*.
B) O comando “DIR C:*.txt” lista os arquivos que possuem a extensão .txt em C: (Disco local).
C) Há uma barra de opacidade, que permite ajustar a transparência da janela do *Prompt* de Comando.
D) O *Prompt* não suporta atalhos como Ctrl + C, Ctrl + V e Ctrl + F, facilitando as atividades de quem precisar colar um caminho de diretório ou localizar um argumento.

18

Avalie a tabela a seguir.

	A	B	C	D	E
1		Preço por litro			
2	Combustível	Jan	Fev	Mar	Média
3	Gasolina	R\$ 4,80	R\$ 5,00	R\$ 5,30	
4	Etanol	R\$ 3,50	R\$ 3,90	R\$ 4,10	
5	Óleo diesel	R\$ 6,70	R\$ 7,00	R\$ 7,30	
6	Querozene	R\$ 2,30	R\$ 2,80	R\$ 3,00	

No *Microsoft Office Excel 2016*, são formas válidas de se obter a média entre os preços de cada combustível e três meses, EXCETO:

- A) =(B5+C5+D5)/3 C) =(B4+C4+D4)/CONT.VALORES(B4:D4)
B) =MEDIA(B3:D3) D) =SOMA(B6:D6)/CONT.VALORES(B6:D6)

19

Analise as afirmativas a seguir a respeito do *Microsoft Office Excel 2016*.

- I. O comando “Alt + ENTER” é o atalho correspondente ao comando “Quebrar texto automaticamente”, pois ambos quebram uma linha de texto em uma célula do *Excel* da mesma maneira.
- II. O comando “CTRL + D” usa o comando “Preencher abaixo” para copiar o conteúdo e o formato da célula acima de um intervalo selecionado para as células abaixo.
- III. Atalho “CTRL + <`> (acento crase)” copia a fórmula da célula que está acima da célula ativa para a célula atual ou para a “Barra de fórmulas”.
- IV. O atalho “CTRL + <5>” aplica ou remove o Tachado.

Está(ão) INCORRETA(S) apenas a(s) afirmativa(s)

- A) II.
- B) I e III.
- C) II e IV.
- D) III e IV.

20

Tendo em vista o Sistema Operacional *Windows 10* sob configuração padrão, para efetuar uma cópia da janela ativa exibida na tela para a área de transferência, é necessário realizar o seguinte comando:

- A) Digitar a tecla *PRINT SCREEN*.
- B) Usar o atalho “Alt + *PRINT SCREEN*”.
- C) Usar o atalho “SHIFT + *PRINT SCREEN*”.
- D) Usar o atalho “Windows + *PRINT SCREEN*”.

CONHECIMENTOS GERAIS

21

Em 1990, com a promulgação do ECA (Estatuto da Criança e do Adolescente), Lei nº 8.069/90, crianças e adolescentes passaram a ser considerados pessoas, pois, anteriormente, as crianças e adolescentes não eram vistas como pessoas, nem culturalmente nem pelo próprio ordenamento jurídico. De acordo com o ECA, considera-se

- A) criança, a pessoa até doze anos de idade incompletos, e adolescente aquela entre doze e dezoito anos de idade.
- B) criança, a pessoa até quatorze anos de idade incompletos, e adolescente aquela entre quatorze e dezoito anos de idade.
- C) criança, a pessoa até onze anos de idade completos, e adolescente aquela entre doze e dezoito anos de idade completos.
- D) criança, a pessoa até dez anos de idade incompletos, e adolescente aquela entre dez e dezenove anos de idade incompletos.

22

Após a Coreia do Norte realizar testes com armas nucleares e mísseis balísticos, os Estados Unidos aumentaram as ameaças contra o regime ditador. Por enquanto, o conflito ainda não passa de trocas de bravatas entre o ditador norte-coreano e *Donald Trump*: analistas consideram que a estratégia do ditador norte-coreano é aumentar as ameaças para conseguir melhores acordos bilaterais e relaxamento dos embargos econômicos. O atual líder da Coreia do Norte é:

- A) *Ri Sol-ju*.
- B) *Moon Jae-in*.
- C) *Kim Jong-un*.
- D) *Lee Nak-yeon*.

23

A Reforma Protestante foi um movimento reformista cristão culminado no início do século XXVI, na Alemanha. Em 2017, esse processo histórico completou 500 anos, sendo hoje considerado um dos eventos fundadores da história moderna. O principal responsável pela Reforma Protestante foi:

- A) Lucas *Cranach*.
- B) Martinho Lutero.
- C) *Philipp Melancthon*.
- D) *Johannes Bugenhagen*.

24

“Segundo a Secretaria de Políticas de Promoção da Igualdade Racial, vinculada à Presidência da República do Brasil, as cotas raciais estão inclusas dentro de um campo mais amplo denominado de ações _____. Estas ações são políticas públicas feitas pelo governo ou pela iniciativa privada com o objetivo de corrigir desigualdades raciais presentes na sociedade, acumuladas ao longo de anos.” Assinale a alternativa que completa corretamente a assertiva anterior.

- A) positivas
- B) afirmativas
- C) implementativas
- D) complementares

25

O desenvolvimento sustentável é um conceito elaborado para fazer referência ao meio ambiente e à conservação dos recursos naturais. Entende-se por desenvolvimento sustentável a capacidade de utilizar os recursos e os bens da natureza sem comprometer a disponibilidade desses elementos para as gerações futuras. Dentre as medidas que podem ser adotadas tanto pelos governos quanto pela sociedade civil em geral para a construção de um mundo pautado na sustentabilidade, podemos citar, EXCETO:

- A) Redução ou eliminação do desmatamento.
- B) Reflorestamento de áreas naturais devastadas.
- C) Incremento da emissão de poluentes na atmosfera.
- D) Preservação das áreas de proteção ambiental, como reservas e unidades de conservação de matas ciliares.

26

“No século 21, a educação deixa de ser um mero instrumento de transmissão de informação e passa a ter a responsabilidade de fomentar valores e habilidades que assegurem um futuro melhor para as pessoas e para o planeta,” diz a Unesco. Considerando o exposto, quanto ao real propósito da educação assinale a afirmativa INCORRETA.

- A) Redução da criminalidade.
- B) Avanço na radicação da pobreza.
- C) Diminuição das taxas de desemprego entre os mais educados.
- D) Fomenta valores e habilidades para um crescimento sustentável e inclusivo.

27

Com mais de 20 anos, desde que foi promulgada, a Lei de Diretrizes e Bases da Educação (LDB) recebe, em 2017, alterações significativas que afetam, principalmente:

- A) Ensino Médio.
- B) Ensino Superior.
- C) Educação Infantil.
- D) Ensino Fundamental.

28

Atentados reivindicados pelo Estado Islâmico foram cometidos em países diversos. Episódios de islamofobia proliferaram pelo continente europeu. Logo após os atentados de 11 de setembro de 2001, que atingiram o Pentágono e destruíram os edifícios do *World Trade Center*, o presidente norte-americano *George W. Bush* declarou uma campanha de “Guerra ao Terror”, anunciando uma mobilização nunca antes vista para combater o terrorismo. Desde então, o mundo presenciou uma escalada de guerras, ocupações militares e investimentos em tecnologia bélica com a justificativa de combate às ações terroristas. A ameaça a populações civis, no entanto, ainda permanece. Considerando o exposto, assinale o único país que NÃO foi atingido por um atentado islâmico.

- A) Japão.
- B) França.
- C) Espanha.
- D) Reino Unido.

29

Mesmo 25 anos depois da queda do muro de Berlim, outras barreiras físicas permanecem separando países, comunidades e famílias no mundo. São países que ainda possuem muros entre suas fronteiras, EXCETO:

- A) EUA e México.
- B) Espanha e Turquia.
- C) Cisjordânia e Israel.
- D) Coreia do Norte e Coreia do Sul.

30

Após a consumação do *impeachment* da ex-presidente *Dilma Rousseff*, de acordo o conturbado cenário político do Brasil não é a primeira vez que temos um presidente eleito pelo voto direto que não terminou o mandato. São eles:

- I. Affonso Pena.
- II. *Washington Luís*.
- III. Getúlio Vargas.
- IV. Jânio Quadros.
- V. Fernando Collor de Mello.

Está(ão) correta(s) a(s) alternativa(s)

- A) I, II, III, IV e V.
- B) I, II e IV, apenas.
- C) II, III e V, apenas.
- D) II, IV e V, apenas.

CONHECIMENTOS ESPECÍFICOS

31

Os itens do Ativo, Passivo, Patrimônio Líquido e Resultados devem ser apresentados pelas empresas segundo as orientações da legislação brasileira, observando-se o que diz o art. 2º da Resolução 1.283/2010: “Considerando a necessidade de prover fundamentação apropriada para interpretação e aplicação das Normas Brasileiras de Contabilidade, e a aplicabilidade da Lei nº 6.404/76 e a Lei nº 11.638/07, de acordo com Conselho Federal De Contabilidade. Atualiza e consolida dispositivos da Resolução CFC nº 750/93 que dispõe sobre os Princípios Fundamentais de Contabilidade.”

(Resolução nº 1.282, de 28 de maio de 1984. Brasília, 2 jun. 2010.)

Neste sentido, é correto afirmar que:

- A) O passivo de longo prazo é identificado pelos itens patrimoniais que compõem o agrupamento do passivo circulante.
- B) Os estoques são bens adquiridos ou elaborados pela empresa para comercialização ou aplicação na própria atividade e fazem parte do agrupamento do ativo não circulante.
- C) As reservas de capital correspondem à retenção e apropriação dos lucros da entidade, para atender finalidade futura de aumento de capital, distribuição aos sócios e proprietários, contingenciamento ou futuros investimentos.
- D) O intangível é um agrupamento do ativo não circulante que representa bens e direitos não corpóreos, mas necessários para a entidade realizar seu objeto social, tais como marcas, patentes, concessões, direitos autorais, *softwares*, entre outros.

32

Antes da edição da Lei nº 11.638/2007, havia uma segregação entre resultados operacionais e não operacionais. A partir de 2008, essa diferença deixou de existir e todos os resultados passaram a ser operacionais, podendo ocorrer como usuais e não usuais. Um dos itens que devem ser avaliados, quando da análise das informações relativas à rentabilidade e ao desempenho empresarial, diz respeito a esses resultados não usuais. A respeito dos resultados não usuais, estudados no texto-base da disciplina, leia atentamente as afirmativas a seguir, marque V para as verdadeiras e F para as falsas.

- () Esses resultados também podem ser chamados de resultados não recorrentes, de acordo com a literatura contábil.
- () Esses itens não usuais afetam os resultados, ou seja, os lucros ou prejuízos de um determinado período contábil.
- () Os resultados não usuais possuem efeito duradouro.
- () Os itens não usuais podem não influenciar os resultados futuros e/ou os fluxos de caixa futuro da empresa que está sendo analisada.

A sequência está correta em

- A) V, V, F, V.
- B) V, V, V, F.
- C) F, V, V, V.
- D) V, F, F, V.

33

Examinar o fluxo de caixa permite ao gestor da empresa ter controle das entradas e saídas de dinheiro, e a análise de cada categoria desse fluxo é fundamental para o processo de tomada de decisão. Uma das inovações estabelecidas pela Lei nº 11.638/2007 foi instituir a obrigatoriedade da Demonstração de Fluxos de Caixa (DFC) e da Demonstração do Valor Adicionado (DVA) para determinadas empresas. Com relação à DFC, vista no texto-base da disciplina, analise as afirmativas a seguir, marque V para as verdadeiras e F para as falsas.

- () A DFC é um demonstrativo utilizado para verificar questões ligadas a como está sendo gerado o caixa de uma empresa.
- () A DFC, assim como as demais demonstrações contábeis, é regulamentada pelos pronunciamentos do Comitê de Pronunciamentos Contábeis (CPC). A DFC, em especial, é regulamentada pelo CPC 03, com suas revisões.
- () Quando um usuário utiliza a DFC, as informações deverão ser úteis para avaliar a capacidade de a entidade gerar caixa e equivalentes de caixa, possibilitando avaliar e comparar o valor presente dos fluxos de caixa futuros de diferentes companhias.
- () Informações futuras dos fluxos de caixa podem ser utilizadas como indicadores para previsão de fluxos de caixa históricos, tendo em vista as projeções a serem realizadas pelos analistas.

A sequência está correta em

- A) V, V, V, F.
- B) V, V, F, F.
- C) V, F, V, F.
- D) F, V, V, F.

34

A leitura prévia e as análises de estrutura e evolução permitirão extrair mais informações do demonstrativo de Balanço Patrimonial e da Demonstração dos Resultados, assim como de outros demonstrativos contábeis de acordo com a Lei nº 11.638/2007 e nº 11.941/2009. As demonstrações contábeis, a exemplo do Balanço Patrimonial e a da Demonstração dos Resultados, além de demonstrarem a estrutura, trazem informações importantes sobre a situação e o histórico da empresa, informações estas que podem ser encontradas a partir de uma leitura prévia e também com base em análises. Para identificar a situação econômico-financeira, entretanto, utilizam-se indicadores financeiros. No quadro a seguir, apresentam-se os indicadores financeiros de uma empresa. Analise-os, relacionando-os às afirmações a seguir, marque V para as verdadeiras e F para as falsas.

Indicadores financeiros	20X2
Índice de liquidez corrente	0,83
Grau de endividamento total	0,72
Grau de imobilização	1,08
Capital de giro líquido	\$ -13.000,00

- () O índice de liquidez corrente demonstra a capacidade de pagamento das obrigações de curto prazo com os recursos realizáveis no curto prazo. Em 20X2, a empresa demonstra ter liquidez suficiente para honrar com os seus compromissos de curto prazo.
- () O grau de imobilização demonstra se a empresa tem realizado investimentos fixos com recursos de longo prazo que são os mais apropriados. Em 20X2, este indicador demonstra que a empresa utilizou fontes apropriadas para realizar seus investimentos fixos.
- () O capital de giro líquido demonstra o montante de capital de giro existente na empresa. Em 20X2 a empresa possuía \$13.000 de capital de giro próprio.
- () O grau de endividamento total demonstra o comprometimento do capital próprio da organização em relação as suas obrigações de longo prazo. Em 20X2, indica que a empresa teve uma boa gestão de suas dívidas, pois está abaixo de 1,00.

A sequência está correta em

A) V, V, F, V.

B) F, V, F, V.

C) F, F, F, V.

D) F, V, V, F.

35

Conforme Santos (2003, p. 35), a Demonstração do Valor Adicionado (DVA) “[...] deve ser entendida como a forma mais competente criada pela Contabilidade para auxiliar na medição e demonstração da capacidade de geração, bem como de distribuição da riqueza de uma entidade”. Essa demonstração foi uma inovação implementada pela Lei nº 11.638/2007 para dar maior transparência às demonstrações financeiras. Sobre essa nova demonstração, estudada no texto-base da disciplina, analise as afirmativas a seguir, marque V para as verdadeiras e F para as falsas.

- () A DVA tem por foco a demonstração do lucro dos acionistas, uma vez que todas as empresas possuem como finalidade a geração de lucros.
- () Em seu processo histórico, a DVA estava, inicialmente, inserida no chamado balanço social.
- () A DVA é uma demonstração cuja divulgação é obrigatória para as Sociedades Anônimas (S/A) de capital aberto e fechado.
- () Na DVA, as vendas de mercadorias, produtos e serviços devem constar de acordo com as normas contábeis, com observância do Princípio da Competência, assim como todas as demonstrações financeiras.

A sequência está correta em

A) F, V, F, V.

B) V, V, V, F.

C) F, F, V, V.

D) F, F, F, V.

36

De acordo a escrituração contábil no Sistema Orçamentário de um Município aprovada pela Lei Orçamentária em descrição das Receitas, tem-se:

- Receitas Correntes – R\$ 10.200.000,00.
- Receitas de Capital – R\$ 800.000,00.

Conforme o exposto, assinale a afirmativa correta.

- A) Crédito em Execução da Receita e débito em Orçamento da Receita no valor de R\$ 11.000.000,00.
- B) Débito em Execução da Receita e crédito em Orçamento da Receita no valor de R\$ 11.000.000,00.
- C) Débito em Receitas Orçamentárias = R\$ 10.200,00 e crédito em despesas correntes de R\$ 800.000,00.
- D) Débito em Receitas Previstas = R\$ 11.000.000,00 e crédito em Orçamento da Receita Corrente = R\$10.200.000,00 e Receita de Capital = R\$ 800.000,00.

37

Analise os balanços a seguir.

I.

Balanco Patrimonial Inicial

Ativo		Passivo	
Ativo Circulante		Passivo Circulante	
Caixa	\$ 4.000	Fornecedores a pagar	\$ 5.000
Estoques	\$ 15.000	Patrimônio Líquido	
Ativo Não Circulante		Capital social	\$ 70.000
Máquinas e equipamentos	\$ 61.000	Lucros acumulados	\$ 5.000
Total	\$ 80.000	Total	\$ 80.000

Balanco Patrimonial Final

Ativo		Passivo	
Ativo Circulante		Passivo Circulante	
Caixa	\$ 4.000	Fornecedores a pagar	\$ 10.000
Estoques	\$ 20.000	Patrimônio Líquido	
Ativo Não Circulante		Capital social	\$ 70.000
Máquinas e equipamentos	\$ 61.000	Lucros acumulados	\$ 5.000
Total	\$ 85.000	Total	\$ 85.000

II.

Balanco Patrimonial Inicial

Ativo		Passivo	
Ativo Circulante		Passivo Circulante	
Caixa	\$ 13.000	Fornecedores a pagar	\$ 9.000
Duplicatas a receber	\$ 5.000	Patrimônio Líquido	
Ativo Não Circulante		Capital Social	\$ 31.000
Máquinas e equipamentos	\$ 32.000	Lucros acumulados	\$ 10.000
Total	\$ 50.000	Total	\$ 50.000

Balanco Patrimonial Final

Ativo		Passivo	
Ativo Circulante		Passivo Circulante	
Caixa	\$ 18.000	Fornecedores a pagar	\$ 9.000
Duplicatas a receber	\$ -	Patrimônio Líquido	
Ativo Não Circulante		Capital Social	\$ 31.000
Máquinas e equipamentos	\$ 32.000	Lucros acumulados	\$ 10.000
Total	\$ 50.000	Total	\$ 50.000

III.

Balço Patrimonial Inicial

Ativo		Passivo	
Ativo Circulante		Passivo Circulante	
Bancos	\$ 20.000	Salários a pagar	\$ 15.000
Duplicatas a receber	\$ 5.000		
Ativo Não Circulante		Patrimônio Líquido	
Terrenos	\$ 75.000	Capital Social	\$ 75.000
		Lucros acumulados	\$ 10.000
Total	\$ 100.000	Total	\$ 100.000

Balço Patrimonial Final

Ativo		Passivo	
Ativo Circulante		Passivo Circulante	
Bancos	\$ 5.000	Salários a pagar	\$ –
Duplicatas a receber	\$ 5.000		
Ativo Não Circulante		Patrimônio Líquido	
Terrenos	\$ 75.000	Capital Social	\$ 75.000
		Lucros acumulados	\$ 10.000
Total	\$ 85.000	Total	\$ 85.000

IV.

Balço Patrimonial Inicial

Ativo		Passivo	
Ativo Circulante		Passivo Circulante	
Caixa	\$ 4.000	Fornecedores a pagar	\$ 5.000
Estoques	\$ 5.000		
Ativo Não Circulante		Patrimônio Líquido	
Máquinas e equipamentos	\$ 61.000	Capital Social	\$ 60.000
		Lucros acumulados	\$ 5.000
Total	\$ 70.000	Total	\$ 70.000

Balço Patrimonial Final

Ativo		Passivo	
Ativo Circulante		Passivo Circulante	
Caixa	\$ 34.000	Fornecedores a pagar	\$ 5.000
Estoques	\$ 5.000		
Ativo Não Circulante		Patrimônio Líquido	
Máquinas e equipamentos	\$ 61.000	Capital Social	\$ 90.000
		Lucros acumulados	\$ 5.000
Total	\$ 100.000	Total	\$ 100.000

Quanto aos balanços anteriores, marque **V** para as afirmativas verdadeiras e **F** para as falsas.

- () O fato contábil IV foi o aumento de capital social, no valor de \$ 30.000, em dinheiro.
 () O fato contábil II foi o recebimento de duplicatas, no valor de \$ 5.000, em dinheiro.
 () O fato contábil I foi a compra de mercadorias para revenda, no valor de \$ 5.000, à vista e em dinheiro.
 () O fato contábil III foi o pagamento de salários aos funcionários, no valor de \$ 15.000, em dinheiro.

A sequência está correta em

- A) V, F, F, V. B) F, V, V, F. C) F, F, V, V. D) V, V, F, F.

38

Um investidor, desejando adquirir uma empresa, solicitou que fossem disponibilizadas as seguintes demonstrações financeiras referentes aos três últimos anos, para fins de análise: Balanço Patrimonial, Demonstração de Resultados do Exercício, Demonstração de Fluxos de Caixa e Demonstração do Valor Adicionado. Em determinado momento, o investidor teve a intenção de realizar a projeção de entrada de recursos financeiros líquidos na empresa, verificando seu potencial de geração de dinheiro, comparando-o com a lucratividade obtida. Levando em consideração os conteúdos abordados no texto-base, é correto afirmar que, para calcular essa projeção, obtendo informações de forma direta, o investidor deverá consultar as seguintes demonstrações:

- A) Balanço Patrimonial e Demonstração de Fluxos de Caixa.
- B) Balanço Patrimonial e Demonstração de Resultados do Exercício.
- C) Demonstração de Fluxos de Caixa e Demonstração do Valor Adicionado.
- D) Demonstração de Resultados do Exercício e Demonstração de Fluxos de Caixa.

39

Dentro dos processos que regem as contas municipais, é de extrema importância verificar o ciclo orçamentário, ou seja, todo processo orçamentário que envolve o planejamento de um município que, por característica, poderá ser um processo contínuo, dinâmico e flexível, através do qual se elabora, aprova, executa, controla e avalia os programas do setor público. Nos aspectos físico e financeiro correspondem, neste sentido, às atividades que antecedem o orçamento, portanto, devem ser programadas e monitoradas para o bom êxito do ciclo citado anteriormente. No Brasil, o exercício financeiro coincide com o ano civil, ou seja, inicia em 01 de janeiro e encerra em 31 de dezembro de cada ano, conforme dispõe o art. 34 da Lei nº 4.320/64. Porém, o ciclo orçamentário é um período muito maior, iniciando com o processo de elaboração do orçamento, passando pela execução e encerramento com controle. Segundo a Legislação e a teoria da contabilidade pública, com foco gerencial, o ciclo orçamentário deverá ter etapas sequenciadas na seguinte ordem:

- A) Execução, Aprovação, Avaliação e Estudo.
- B) Avaliação, Execução, Estudo, Elaboração e Aprovação.
- C) Elaboração, Estudo e Aprovação, Execução e Avaliação.
- D) Elaboração, Estudo e Aprovação, Execução e Gerenciamento.

40

A Lei nº 4.320/64 trata os sistemas contábeis como ferramenta de auxílio para a gestão pública, norteados seus ramos e movimentando as contas de acordo com a necessidade de cada município. O objetivo da Lei está em inserir maior controle nos processos de tomada de decisão, prestação de contas, suporte às demandas internas e externas, permitindo que, assim, as mutações do patrimônio público sejam direcionadas às contas corretas com destino a sua aplicabilidade, ou seja, o repasse e controle social. A entidade pública possui personalidade jurídica de direito privado, recebe, movimenta e gerencia a aplicação dos recursos públicos até a execução de suas atividades. Neste sentido, é importante padronizar e monitorar os sistemas contábeis que, de acordo com a Lei nº 4.320/64, são:

- A) Fiscal, Patrimonial, Financeiro e Orçamento.
- B) Orçamentário, Patrimonial, Financeiro e Fiscal.
- C) Financeiro, Fiscal, Patrimonial e Compensação.
- D) Fiscal, Patrimonial, Orçamentário e Compensação.

ATENÇÃO



NÃO É PERMITIDA a anotação das respostas da prova em QUALQUER MEIO.
O candidato flagrado nesta conduta poderá ser **ELIMINADO** do processo.

INSTRUÇÕES

1. Material a ser utilizado: caneta esferográfica de tinta azul ou preta, feita de material transparente e de ponta grossa. Os objetos restantes devem ser colocados em local indicado pelo fiscal da sala, inclusive aparelho celular desligado e devidamente identificado.
2. Não será permitida, durante a realização das provas, a comunicação entre os candidatos nem a utilização de máquinas calculadoras e/ou similares, livros, anotações, impressos ou qualquer outro material de consulta, protetor auricular, lápis, lapiseira, borracha ou corretivo. Especificamente, não será permitido o candidato ingressar na sala de provas sem o devido recolhimento, com respectiva identificação, dos seguintes equipamentos: *bip*, telefone celular, *walkman*, agenda eletrônica, *notebook*, *palmtop*, *ipod*, *ipad*, *tablet*, *pendrive*, fone de ouvido, *iphone*, *smartphone*, MP3, MP4, receptor, gravador, máquina de calcular, máquina fotográfica, controle de alarme de carro, relógio de qualquer modelo e etc. Não será permitido ao candidato realizar anotação de informações relativas às suas respostas no comprovante de inscrição ou em qualquer outro meio.
3. A duração da prova é de 04 (quatro) horas para o cargo de Advogado e 3 (três) horas para os demais cargos, em dois turnos, já incluindo o tempo destinado à entrega do Caderno de Provas e à identificação – que será feita no decorrer da prova – e ao preenchimento do Cartão de Respostas (Gabarito).
4. Com vistas à garantia da segurança e lisura desse certame, os candidatos serão submetidos ao sistema de detecção de metais quando do ingresso e saída de sanitários. Excepcionalmente poderão ser realizados, a qualquer tempo durante a realização das provas, outros procedimentos de vistoria além do descrito. Ao término da prova o candidato deverá se retirar do recinto de aplicação, não lhe sendo mais permitido o ingresso nos sanitários.
5. O Caderno de Provas consta de 30 (trinta) questões para os cargos de nível fundamental completo e incompleto e 40 (quarenta) questões para os demais cargos e 1 (uma) peça processual somente para o cargo de Advogado. Leia-o atentamente.
6. **As questões das provas objetivas são do tipo múltipla escolha, com 04 (quatro) opções (A a D) e uma única resposta correta.**
7. Ao receber o material de realização das provas, o candidato deverá conferir atentamente se o Caderno de Provas corresponde ao cargo a que está concorrendo, bem como se os dados constantes no Cartão de Respostas (Gabarito) que lhe foi fornecido estão corretos. Caso os dados estejam incorretos, ou o material esteja incompleto, ou tenha qualquer imperfeição, o candidato deverá informar tal ocorrência ao fiscal.
8. Os fiscais não estão autorizados a emitir opinião e prestar esclarecimentos sobre o conteúdo das provas. Cabe única e exclusivamente ao candidato interpretar e decidir.
9. O candidato somente poderá retirar-se do local de realização das provas escritas levando o caderno de provas no decurso dos últimos 30 (trinta) minutos anteriores ao horário previsto para o seu término. O candidato, também, poderá retirar-se do local de provas somente a partir dos 90 (noventa) minutos após o início de sua realização, contudo não poderá levar consigo o caderno de provas.
10. Os 3 (três) últimos candidatos de cada sala somente poderão sair juntos. Caso algum destes candidatos insista em sair do local de aplicação antes de autorizado pelo fiscal de aplicação, será lavrado Termo de Ocorrência, assinado pelo candidato e testemunhado pelos 2 (dois) outros candidatos, pelo fiscal de aplicação da sala e pelo Coordenador da Unidade de provas, para posterior análise pela Comissão de Acompanhamento do Concurso.

RESULTADOS E RECURSOS

- Os gabaritos oficiais preliminares das provas objetivas serão divulgados na *Internet*, no endereço eletrônico www.idecan.org.br, a partir das 16h00min do primeiro dia útil subsequente ao da realização das provas escritas objetivas de múltipla escolha (terça-feira).
- O candidato que desejar interpor recursos contra os gabaritos oficiais preliminares das provas objetivas disporá de 3 (três) dias úteis, a partir do dia subsequente ao da divulgação (terça-feira), em requerimento próprio disponibilizado no *link* correlato ao Concurso Público no endereço eletrônico www.idecan.org.br.
- A interposição de recursos poderá ser feita via *Internet*, através do Sistema Eletrônico de Interposição de Recursos, com acesso pelo candidato mediante o fornecimento de dados referente à inscrição do candidato, apenas no prazo recursal, ao IDECAN, conforme disposições contidas no endereço eletrônico www.idecan.org.br, no *link* correspondente ao Concurso Público. Será disponibilizado um posto de acesso à *Internet* para o candidato na sede da Câmara Municipal, na Rua Dr. Querubino nº 173, Centro, Coronel Fabriciano/MG, nos horários de 09h00min às 12h00min e de 13h00min às 16h00min (exceto sábados, domingos e feriados).