

Prefeitura Municipal de Simonésia/MG

CONCURSO PÚBLICO Nº 001/2016



Farmacêutico - Bioquímico

Tarde

Organizadora:



Senilidade e a invisibilidade social

(...) A maioria dos idosos no Brasil encontra-se em condição de invisibilidade social, política e muitas vezes familiar. Morte social? Morte familiar? Estão vivos, mas não possuem lugar. A visão sobre o ancião mudou, do patriarca para... para o quê? Em muitas famílias não há o espaço para o idoso. Há alguns anos atrás o idoso era tido como patriarca, que era dotado de sabedoria. (...)

O ancião era o guia familiar, os mais novos pediam conselho e ouviam as suas orientações. Eles exerciam um papel que, após o término da sua função de produtividade, assumiam o de líderes familiares. O idoso saía do lugar de provedor, cargo este assumido por seus filhos, para ocupar o de orientador. A sabedoria nada tinha a ver com estudos, era o arquivo das experiências da vida.

Hoje, algumas famílias encontram-se cada vez mais fechadas e mais focadas na produção, aquele que não produz não tem espaço. O idoso dessa forma perde o seu lugar na família e na sociedade. No entanto, acredito que, assim como os jovens conseguiram, ao longo da história, mudar sua posição social e familiar, tornando-se importante foco da sociedade, a senilidade conseguirá novamente o respeito.

Como? Se cada família jovem conseguir compreender que, em determinado momento, precisará cuidar de seus idosos, irá construir em seus filhos a mesma compreensão. Se conseguir sair das justificativas capitalistas, conseguir valorizar o saber, sobrepondo o valor da produção, irá reconstruir o valor do idoso. Se pais, filhos e netos assimilarem o ciclo vital e conseguirem ressignificar os papéis familiares, todos terão direito e lugar na sociedade.

(...) A população está envelhecendo e precisamos modificar o nosso olhar, a nossa educação e o respeito por aqueles que fizeram parte da história.

(Disponível em: <http://camilamacielopolonio.blogspot.com.br/search/label/Senilidade>. Acesso em: abril de 2016.)

01

No título do texto, pode-se afirmar que a autora

- A) contrapõe, fundamentalmente, dois estados sociais que serão abordados no texto.
- B) apresenta uma alternância em que a mesma ênfase é atribuída às duas situações apresentadas.
- C) expressa a existência de uma associação entre elementos distintos, mas presentes na sociedade.
- D) estabelece a união de duas situações, demonstrando ser a primeira fundamental e a outra, subsidiária.

02

Quanto à função sintática das palavras, dentre os termos destacados identifique o que se difere dos demais.

- A) “A sabedoria nada tinha a ver com estudos, era o arquivo das experiências da vida.” (2º§)
- B) “O ancião era o guia familiar, os mais novos pediam conselho e ouviam as suas orientações.” (2º§)
- C) “[...] tornando-se importante foco da sociedade, a senilidade conseguirá novamente o respeito.” (3º§)
- D) “Eles exerciam um papel que, após o término da sua função de produtividade, assumiam o de líderes familiares.” (2º§)

03

Em “Em muitas famílias não há o espaço para o idoso.” (1º§) ocorre o emprego do verbo “haver”, verbo impessoal e que se apresenta na terceira pessoa do singular por este motivo. Dentre as concordâncias a seguir, apenas uma está correta por se tratar também de um verbo impessoal; assinale-a.

- A) Faz invernos rigorosos no Sul do Brasil.
- B) Choveu asneiras nas provas de redação.
- C) Soa quinze horas no relógio do Parque Central.
- D) Aqui não se comete equívocos nem se pratica tais coisas.

04

No primeiro parágrafo, o uso de reticências em “patriarca para... para o quê?” tem por objetivo

- A) assinalar inflexão de natureza subjetiva.
- B) marcar suspensão provocada por surpresa do enunciador.
- C) indicar a interrupção de uma ideia cuja expressão teve apenas início.
- D) indicar que a ideia que se pretende exprimir deve ser suprida pelo próprio leitor.

05

Diante da construção argumentativa feita, é possível identificar a citação de uma possível causa para que o cenário em relação à atual situação do idoso esteja da forma como é apresentado no texto. Sua identificação está correta em:

- A) “A maioria dos idosos no Brasil encontra-se em condição de invisibilidade, social, política e muitas vezes familiar.” (1º§)
- B) “Hoje, algumas famílias encontram-se cada vez mais fechadas e mais focadas na produção, aquele que não produz não tem espaço.” (3º§)
- C) “Em muitas famílias não há o espaço para o idoso. Há alguns anos atrás o idoso era tido como patriarca, que era dotado de sabedoria.” (1º§)
- D) “A população está envelhecendo e precisamos modificar o nosso olhar, a nossa educação e o respeito por aqueles que fizeram parte da história.” (5º§)

06

Dentre os recursos utilizados pela autora para compor a estrutura textual de acordo com a tipologia apresentada, pode-se afirmar acerca das duas primeiras indagações do primeiro parágrafo que, EXCETO:

- A) Seu emprego produz no leitor uma ação reflexiva diante da situação apresentada.
- B) São incoerentes, já que fazem referência a apenas duas condições das três citadas anteriormente.
- C) É possível que os dois tipos de mortes possam ser vividos concomitantemente pelo sujeito em questão.
- D) O termo “morte” que compõe as expressões possui um significado que extrapola o utilizado usualmente.

07

“O idoso dessa forma perde o seu lugar na família e na sociedade. No entanto, acredito que, assim como os jovens conseguiram, ao longo da história, mudar sua posição social e familiar, tornando-se importante foco da sociedade, a senilidade conseguirá novamente o respeito.” (3º§) A expressão em destaque no trecho anterior, mantendo a relação já estabelecida, poderia ser substituída por todas as opções da alternativa:

- A) Todavia, contudo, entretanto.
- B) Pois, ainda que, mas também.
- C) Embora, consoante, porquanto.
- D) Não obstante, de modo que, por conseguinte.

08

Diante do tema abordado no texto, a autora apresenta sugestão de intervenção relacionada à discussão desenvolvida de forma pontual no(s):

- A) 4º e 5º parágrafos.
- B) 1º e 2º parágrafos.
- C) 4º parágrafo apenas.
- D) 3º, 4º e 5º parágrafos.

09

Diante dos limites estruturais do texto apresentado, pode-se afirmar que tem por principal objetivo

- A) desconstruir a tese de que o idoso possui uma condição de fragilidade na sociedade de produção.
- B) demonstrar a organização textual para que as informações cheguem até o leitor de forma satisfatória.
- C) discutir a necessidade de que haja uma transformação na posição ocupada pelo idoso na sociedade atual.
- D) apresentar, objetivamente, informações necessárias para a constatação do verdadeiro papel do idoso na sociedade contemporânea.

10

“Há alguns anos atrás o idoso era tido como patriarca, que era dotado de sabedoria.” (1º§) Assinale a alternativa cuja paráfrase para a frase anterior em destaque mantém o sentido original.

- A) “Há alguns anos o idoso era tido como patriarca cuja sabedoria lhe era pertinente.”
- B) “Faz alguns anos que o idoso era tido como exemplo, que era dotado de sabedoria.”
- C) “Há alguns anos atrás, tinha-se o idoso como patriarca, onde era dotado de sabedoria.”
- D) “O idoso, há alguns anos atrás, era visto como fonte de conhecimento, sendo dotado de sabedoria.”

SAÚDE PÚBLICA

11

O Artigo 196 da Constituição Federal afirma que a saúde é um direito de todos e um dever do Estado. Isso também significa que a saúde:

- I. É um direito e não um serviço.
- II. Deve ser de alcance a todos os cidadãos brasileiros.
- III. Deve ser de alcance somente aos contribuintes da previdência social.

Estão corretas as afirmativas

- A) I, II e III.
- B) I e II, apenas.
- C) I e III, apenas.
- D) II e III, apenas.

12

O Sistema Único de Saúde (SUS) possui instâncias colegiadas de participação popular em cada esfera do governo; assinale-as.

- A) As organizações de cunho privado.
- B) As secretarias municipais de saúde.
- C) Os conselhos e as conferências de saúde.
- D) As organizações de serviços complementares ao SUS.

Leia o trecho para responder às questões 13 e 14.

“Atualmente a epidemia no Brasil está estabilizada, com taxa de detecção em torno de 19,7 casos a cada 100 mil habitantes. Isso representa cerca de 40 mil casos novos ao ano. Desde o início da epidemia de AIDS no Brasil – em 1980 –, até junho de 2015, foram registrados no país 798.366 casos de AIDS.”

13

O dado referente a 40 mil casos novos por ano trata-se de:

- A) Incidência de HIV no Brasil.
- B) Prevalência de HIV no Brasil.
- C) Taxa de mortalidade de HIV no Brasil.
- D) Coeficiente de prevalência do HIV no Brasil.

14

Para calcular a taxa de letalidade do HIV em 2015, a partir dos dados do trecho, pode-se afirmar que é:

- A) Possível, pois temos dados de população portadora da doença.
- B) Possível, pois necessitamos apenas de dados de incidência e prevalência.
- C) Impossível, pois falta número de óbitos em decorrência da doença e de portadores de HIV nesse ano.
- D) Impossível, pois não temos base de multiplicação da razão entre portadores e população não portadora.

15

O número de óbitos de crianças com mais de 28 dias até 1 ano de vida configura o indicador de saúde denominado:

- A) Natimortalidade.
- B) Mortalidade perinatal.
- C) Mortalidade infantil precoce.
- D) Mortalidade infantil pós-neonatal.

16

“É o conjunto de ações capaz de eliminar, diminuir ou prevenir riscos à saúde e de intervir nos problemas sanitários decorrentes do meio ambiente, da produção e circulação de bens e da prestação de serviços de interesse à saúde.”

Esta afirmativa trata-se de:

- A) Vigilância sanitária.
- B) Controle de zoonoses.
- C) Vigilância epidemiológica.
- D) Ações de mutirão ambiental.

17

Formular, avaliar e apoiar políticas de alimentação e nutrição. Participar na formulação e na implementação das políticas de saneamento básico e coordenar redes de laboratórios de saúde pública são competências:

- A) Da direção nacional do SUS.
- B) Exclusivamente dos serviços municipais de saúde.
- C) Dos serviços regrados pela Agência Nacional de Saúde.
- D) Dos serviços de saúde privados que complementam o SUS.

18

O *Aedes aegypti* é um inseto vetor que dissemina uma série de doenças no Brasil, sendo responsável pela continuidade de epidemias em diversas regiões. Em relação às doenças transmitidas por esse mosquito tem-se:

- I. Dengue.
- II. Febre amarela urbana.
- III. Zika vírus.
- IV. Leishmaniose (em área endêmica).

Estão corretas as alternativas

- A) I, II, III e IV. B) II e IV, apenas. C) III e IV, apenas. D) I, II e III, apenas.

19

Em uma determinada cidade, há 1 ano são detectados, mensalmente, casos de hepatite A; porém, dentro dos limites estabelecidos pelos serviços de vigilância epidemiológica municipal. Dessa forma, é correto afirmar que a hepatite na cidade:

- A) Está em situação de surto. C) É uma epidemia explosiva.
B) Está em níveis endêmicos. D) Está em níveis epidêmicos.

20

Os serviços de vigilâncias em saúde ganharam atribuições com a integração de ações e serviços voltados para a saúde do trabalhador e meio ambiente a partir da:

- A) Lei Eloy Chaves. C) Lei nº 8.080 de 1990.
B) Lei nº 1.274 de 2014. D) Constituição Federal.

CONHECIMENTOS GERAIS


21

A Estrada Real foi construída pelos africanos escravizados ligando as terras mineiras ao litoral brasileiro. Inicialmente essa estrada ligava a antiga Vila Rica ao porto de Paraty no Rio de Janeiro. Com a necessidade de ter um caminho mais rápido e seguro foi construída uma nova estrada que dessa vez passou a ligar Vila Rica ao então porto do Rio de Janeiro. Em qual município há o encontro do Caminho Velho com o Caminho Novo da Estrada Real?

- A) Petrópolis. B) Ouro Preto. C) Diamantina. D) São João Del Rei.

22

Vários artistas deixaram registrados em suas obras aspectos dos lugares onde viveram ou que somente conheceram. “A pintura a seguir é de uma famosa artista brasileira, considerada uma das pioneiras do Modernismo no Brasil.”



Trata-se da artista:

- A) Anita Malfatti. B) Tarsila do Amaral. C) Rachel de Queiroz. D) Abigail de Andrade.

23

O cangaço tem suas origens históricas por volta do século XVIII; se constituiu num movimento social relacionado à questão fundiária do Nordeste e teve seu auge entre os anos de 1919 e 1927. São nomes relacionados ao Cangaço, EXCETO:

- A) Virgulino Ferreira da Silva, o Lampião. C) Manuel Batista de Moraes, o Antônio Silvino.
B) Cristiano Gomes da Silva Cleto, o Corisco. D) Antônio Vicente Maciel, o Antônio Conselheiro.

24

O Brasil possui um potencial energético privilegiado se comparado ao de muitos países. A exploração e a produção de petróleo e gás natural são essenciais para garantir o atendimento à crescente demanda de energia do país. Entretanto, a maior parte de nossas reservas de petróleo estão localizadas em campos marítimos. A área de maior exploração petrolífera *onshore* em nosso país é na Bacia

- A) do Recôncavo, na Bahia. C) de Campos, no Rio de Janeiro.
B) de Santos, em São Paulo. D) Potiguar, no Rio Grande do Norte.

25

O período regencial foi marcado pela abdicação do trono do então imperador Dom Pedro I e pela ascensão de seu sucessor Pedro de Alcântara, ainda uma criança, situação que tornava inviável sua real efetivação no poder. O país então passou a ser comandado por regentes até que Dom Pedro II atingisse sua maioridade. Entretanto, a disputa pelo controle do governo gerou uma grave crise política que culminou no surgimento de inúmeras revoltas pelo império. São revoltas do período regencial, EXCETO:

- A) Cabanagem. C) Guerra de Canudos.
B) Revolta dos Malês. D) Guerra dos Farrapos.

26

A maior parte do Acre é formada por florestas e reservas indígenas e extrativistas. Ele só passou a ser considerado um estado brasileiro em 1962, mesmo tendo sido integrado ao território nacional em 1903 após anos de disputa. Antes de pertencer ao território brasileiro, o Acre era uma possessão de qual país sul-americano?

- A) Peru. B) Bolívia. C) Colômbia. D) Venezuela.

27

A Segunda Revolução Industrial trouxe para muitos a sensação de que a capacidade inventiva do ser humano não tinha limites. A todo momento uma nova descoberta científica ou tecnológica era anunciada. O entusiasmo foi tão grande que o período compreendido entre a segunda metade do século XIX e os primeiros anos do século XX ficou conhecido como:

- A) *Belle Époque*. C) Mecenato secular.
B) Trovadorismo. D) Renascimento cultural.

28

O estado mais novo do Brasil surgiu após um movimento emancipacionista que se fortaleceu em 1988 e se concretizou com a criação do estado do(de)

- A) Pará. B) Acre. C) Goiás. D) Tocantins.

29

“As primeiras transmissões radiofônicas no Brasil foram realizadas em 1922, durante os festejos do primeiro centenário da Independência. Na década de 40 surgiu a primeira rede nacional de radiofonia e com a popularização do rádio diversos artistas se transformaram em ídolos nacionais. Considerada uma das maiores intérpretes da música popular brasileira foi eleita, em 1953, a rainha do rádio. Um dos grandes sucessos interpretados por ela foi Chiquita Bacana, cantado nas marchinhas de carnaval até os dias atuais.” Trata-se de:

- A) Emilinha Borba. B) Elizeth Cardoso. C) Carmen Miranda. D) Chiquinha Gonzaga.

30

Analise as afirmativas referentes ao período de 1969 a 1974 no Brasil.

- I. A economia brasileira entrou em um período de intenso crescimento econômico, dando a essa época a denominação de “milagre econômico brasileiro”.
II. Esse período foi também denominado “anos de chumbo” e considerado o mais violento da ditadura militar.
III. O general Artur da Costa e Silva era o presidente do Brasil nesse momento.
IV. Foi instituído o Ato Institucional nº 1 (AI-1), o mais repressivo de todos os dispositivos militares.

Estão corretas as afirmativas

- A) I, II, III e IV. B) I e II, apenas. C) III e IV, apenas. D) II, III e IV, apenas.

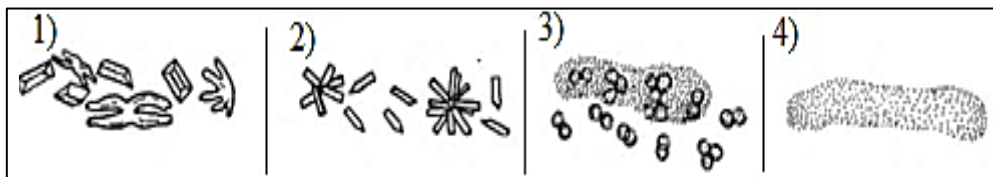
CONHECIMENTOS ESPECÍFICOS

31

“O Exame Sumário de Urina (EAS) é um dos testes urológicos disponíveis mais importantes e úteis, embora com muita frequência os detalhes sejam negligenciados e informações importantes passem despercebidas ou sejam erroneamente interpretadas.”

(Urologia Geral de Smith e Tanagho – 18. ed.)

Analise os elementos a seguir, encontrados ao examinar uma lâmina de sedimento urinário microscópico manual.



Sobre os elementos anteriores, assinale a sequência correta.

- A) Cristais de cistina / cristais de urato de amônio / cilindro de leucócitos com eritrócitos / cilindro hialino.
- B) Cristais de carbonato de cálcio / cristais de urato de amônio / cilindro de leucócitos / cilindro de gordura.
- C) Cristais de fosfato triplo / cristais de fosfato de cálcio / cilindro hemático com eritrócitos / cilindro hialino.
- D) Cristais de urato de amônio / cristais de fosfato triplo / cilindro de leucócitos com eritrócitos / cilindro céreo.

32

“Os tubos de amostra padrão (denominados tubos vazios) para coleta de sangue a vácuo (tubo *vacutainer*) podem ser identificados com facilidade pela cor da tampa.”

(Manual de Exames Diagnósticos – 6 ed.)

Sobre a cor da tampa dos tubos *vacutainer*, marque **V** para as afirmativas verdadeiras e **F** para as falsas.

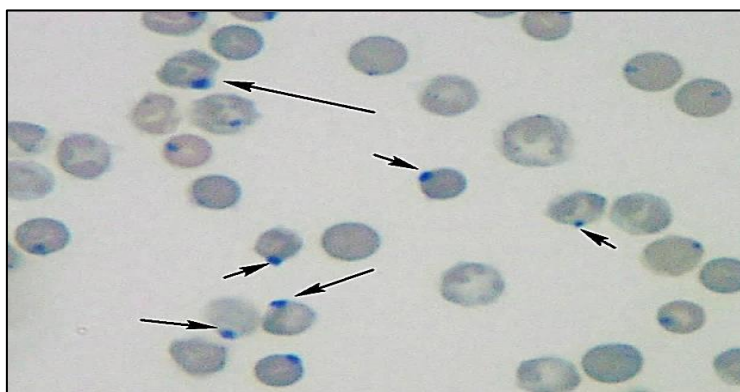
- () Tubo de tampa verde: contém citrato de sódio e é utilizado para exames de bioquímica do plasma e análise cromossômica.
- () Tubo de tampa vermelha: não contém anticoagulante nem conservantes e é utilizado para testes hematológicos (exemplo: hematócritos e contagens diferenciais).
- () Tubo de tampa azul: contém citrato de sódio e é utilizado para testes de coagulação.
- () Tubo de tampa roxa: contém EDTA e é utilizado para testes hematológicos (exemplo: hematócritos e contagens diferenciais), procedimentos de banco de sangue (plasma), citometria de fluxo e testes de diagnóstico molecular.
- () Tubo com tampa amarela: contém Ácido-Citrato-Dextrose (ACD) e é utilizado para teste de diagnóstico molecular.

A sequência está correta em

- A) F, F, V, V, F.
- B) F, V, V, F, F.
- C) V, F, V, F, V.
- D) V, V, F, V, F.

33

Ao analisar um esfregaço de sangue após coloração vital (aquosa) com azul de cresil brilhante, de um paciente em um microscópico manual diagnosticado com Talassemia, observa-se nos eritrócitos jovens ou maduros inclusões refringentes de forma arredondada, encontradas na periferia da célula tingida com corante supravital. Estas inclusões consistem em globina desnaturada que resulta da destruição da hemoglobina.



(Laboratório de Hematologia – Teorias, Técnicas e Atlas. Por Márcio Antônio Wanderley de Melo, Cristina.)

Este tipo de inclusão citoplasmática recebe o nome de:

- A) Anéis de Cabot.
- B) Pontilhado basófilo.
- C) Corpúsculos de Heinz.
- D) Cristais de hemoglobina C.

34

O método de concentração de *Ritchie* para exames parasitológicos de fezes é utilizado para

- A) evidenciar ovos leves de helmintos.
- B) fixar protozoários intestinais nas formas cíclicas.
- C) evidenciar cistos de protozoários e ovos de helmintos.
- D) pesquisar larvas de *Ancilostomídeos* e *Strongyloides stercoralis* através do hidrotropismo.

35

Através da análise quantitativa dos eritrócitos de três situações de resultado de hemograma de pacientes mulheres adultas, comparando seus resultados com os dados dos valores de referência, analise os dados laboratoriais, associe adequadamente a coluna da direita de acordo com os dados laboratoriais dos pacientes da coluna da esquerda.

Dados Laboratoriais

	Paciente A	Paciente B	Paciente C
Eritrócitos ($\times 10^6$)	3,8	3,3	2,8
Hemoglobina (g/dL)	8,5	9,0	8,3
Hematócrito (%)	27	30	27
HCM (pg)	22	27	28
VCM (fL)	71	90	96
CHCM (g/dL)	31	30	30
RDW (%)	16	17	16

Tabela de Valores de Referência

Eritrograma	RN*	1 a 11 meses	1 a 2 anos	3 a 10 anos	10 a 15 anos	Adulto** masc.	Adulto** fem.
Eritrócitos	5.2	4.0 – 4.9	4.0 – 5.1	4.0 – 5.1	4.0 – 5.1	4.5 – 6.1	4.0 – 5.4
Hemoglobina	17.0	10.3 – 12.7	10.6 – 13.0	11.5 – 14.5	11.5 – 14.5	12.8 – 16.3	11.3 – 14.5
Hematócrito	52.0	33 – 41	33 – 41	34 – 42	34 – 42	40 – 54	36 – 48
HCM	27 – 31	25 – 29	25 – 29	26 – 29	26 – 29	27 – 29	27 – 29
VCM	80 – 100	75 – 90	75 – 90	77 – 90	77 – 90	77 – 92	77 – 92
CHCM	30 – 35	30 – 35	30 – 35	30 – 35	30 – 35	30 – 35	30 – 35
RDW	10 - 15	10 - 15	10 - 15	10 - 15	10 - 15	10 - 15	10 - 15

(Interpretação Laboratorial do Hemograma. Paulo César Naoum e Flávio Augusto Naoum.)

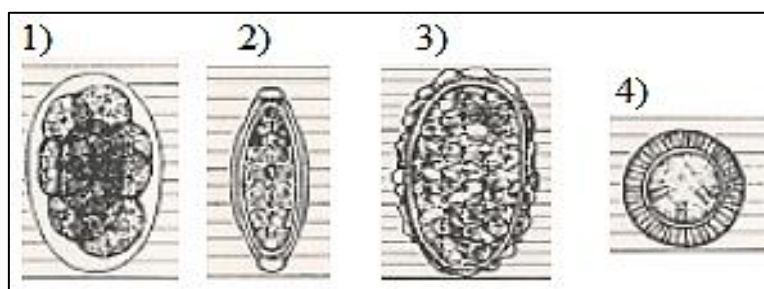
- 1. Paciente A. () Anemia macrocítica.
- 2. Paciente B. () Anemia microcítica e hipocrômica.
- 3. Paciente C. () Anemia normocítica normocrômica.

A sequência está correta em

- A) 3, 1, 2. B) 2, 3, 1. C) 1, 3, 2. D) 3, 2, 1.

36

Analise os ovos de helmintos a seguir.



Os ovos de helmintos apresentados são, respectivamente:

- A) *Culex spp.* / *Entamoeba coli* / *Anopheles spp.* / *Taenia sp.*
- B) *Entamoeba coli* / *Trichuris trichiura* / *Anopheles spp.* / *Balantidium coli*.
- C) *Ancilostomídeos* / *Trichuris trichiura* / *Ascaris lumbricoides* infértil / *Taenia sp.*
- D) *Giardia lamblia* / *Enterobius vermicularis* / *Entamoeba coli* / *Ascaris lumbricoides*.

37

“O crescimento dos micro-organismos nos diferentes meios de cultura utilizados fornece as primeiras informações para a sua identificação. É importante conhecer o potencial de crescimento de cada meio de cultura e adequar ao perfil bacteriano esperado para cada material.”

(Preparo de materiais em microbiologia; Meios de cultura usados no laboratório; Técnicas de semeadura e colorações. Luciana Debortoli de Carvalho.)

Relacione adequadamente o meio de cultura ao tipo de bactéria.

- | | | |
|--------------------------------------|-----|---|
| 1. Ágar-Chocolate. | () | Diferencial para espécies fermentadoras da lactose. |
| 2. Caldo tioglicolato com indicador. | () | <i>Moraxella</i> spp. |
| 3. Caldo tioglicolato sem indicador. | () | Micro-organismos aeróbios, microaerófilos e anaeróbios. |
| 4. Ágar-MacConkey. | () | Diferencial para <i>Staphylococcus aureus</i> . |
| 5. Ágar-Manitol. | () | Micro-organismos anaeróbios. |

A sequência está correta em

- A) 3, 5, 1, 4, 2. B) 5, 3, 2, 4, 1. C) 2, 1, 5, 3, 4. D) 4, 1, 2, 5, 3.

38

Sobre a técnica de coloração de Gram, assinale a alternativa correta.

- A) Os micro-organismos são expostos a uma coloração a quente com carbolfucsina concentrada por 5 minutos.
B) Bactérias Gram-negativas não perdem o corante violeta durante a descoloração e, por isso, adquirem coloração rosa.
C) Bactérias Gram-positivas retêm o corante violeta por resistirem à descoloração e ficam coradas em azul escuro / roxo.
D) Bactérias Gram-positivas perdem o corante violeta durante a descoloração e adquirem a coloração azul escuro / roxo.

39

“Amostra de sangue de paciente de 38 anos, do sexo feminino, em tratamento contra o câncer epitelial de ovário chega ao laboratório.” O exame (marcador) a ser realizado no laboratório para avaliar (monitorar) a quantidade de marcador para este tipo de câncer é:

- | | |
|---------------------|--|
| A) Exame de K-Ras. | C) Exame de Cyfra 21.1. |
| B) Exame de CA-125. | D) Exame de desidrogenase láctica (LDH). |

40

São reações sorológicas para diagnóstico da sífilis, EXCETO:

- A) TPI. B) FSH. C) VDRL. D) FTA-ABS.

ATENÇÃO



NÃO É PERMITIDA a anotação das respostas da prova em QUALQUER MEIO. O candidato flagrado nesta conduta poderá ser ELIMINADO do processo.

INSTRUÇÕES

1. Material a ser utilizado: caneta esferográfica de tinta azul ou preta, feita de material transparente e de ponta grossa. Os objetos restantes devem ser colocados em local indicado pelo fiscal da sala, inclusive aparelho celular desligado e devidamente identificado.
2. Não é permitida, durante a realização das provas, a utilização de máquinas calculadoras e/ou similares, livros, anotações, impressos ou qualquer outro material de consulta, protetor auricular, lápis, borracha ou corretivo. Especificamente, não é permitido que o candidato ingresse na sala de provas sem o devido recolhimento, com respectiva identificação, dos seguintes equipamentos: *bip*, telefone celular, *walkman*, agenda eletrônica, *notebook*, *palmtop*, *ipod*, *ipad*, *tablet*, *smartphone*, mp3, mp4, receptor, gravador, máquina de calcular, máquina fotográfica, controle de alarme de carro, relógio de qualquer modelo e etc.
3. Não será permitido ao candidato fazer anotações de suas opções de resposta em qualquer meio.
4. Durante a prova, o candidato não deve levantar-se, comunicar-se com outros candidatos e fumar.
5. A duração da prova é de 03 (três) horas, já incluindo o tempo destinado à entrega do Caderno de Provas e à identificação – que será feita no decorrer da prova – e ao preenchimento do Cartão de Respostas (Gabarito).
6. Somente em caso de urgência pedir ao fiscal para ir ao sanitário, devendo no percurso permanecer absolutamente calado, podendo antes e depois da entrada sofrer revista através de detector de metais. Ao sair da sala no término da prova, o candidato não poderá utilizar o sanitário. Caso ocorra uma emergência, o fiscal deverá ser comunicado.
7. O Caderno de Provas consta de 40 (quarenta) questões para os cargos de Nível Superior e 30 (trinta) questões para os demais cargos. Leia-o atentamente.
8. **As questões das provas objetivas são do tipo múltipla escolha, com 04 (quatro) opções (A a D) e uma única resposta correta.**
9. Ao receber o material de realização das provas, o candidato deverá conferir atentamente se o Caderno de Provas corresponde ao cargo a que está concorrendo, bem como se os dados constantes no Cartão de Respostas (Gabarito) que lhe foi fornecido estão corretos. Caso os dados estejam incorretos, ou o material esteja incompleto, ou tenha qualquer imperfeição, o candidato deverá informar tal ocorrência ao fiscal.
10. Os fiscais não estão autorizados a emitir opinião e prestar esclarecimentos sobre o conteúdo das provas. Cabe única e exclusivamente ao candidato interpretar e decidir.
11. O candidato poderá retirar-se do local de provas somente a partir dos 90 (noventa) minutos após o início de sua realização, contudo, não poderá levar consigo o Caderno de Provas, sendo permitida essa conduta apenas no decurso dos últimos 30 (trinta) minutos anteriores ao horário previsto para o seu término.
12. Os 3 (três) últimos candidatos de cada sala somente poderão sair juntos. Caso o candidato insista em sair do local de aplicação das provas, deverá assinar um termo desistindo do Concurso Público e, caso se negue, deverá ser lavrado Termo de Ocorrência, testemunhado pelos 2 (dois) outros candidatos, pelo fiscal da sala e pelo Coordenador da Unidade.

RESULTADOS E RECURSOS

- As provas aplicadas, assim como os gabaritos oficiais preliminares das provas objetivas serão divulgados na *internet*, no endereço eletrônico www.idecan.org.br, a partir das 16h00min do dia subsequente ao da realização das provas.
- O candidato que desejar interpor recursos contra os gabaritos oficiais preliminares das provas objetivas disporá de 3 (três) dias úteis, a partir do dia subsequente à divulgação, em requerimento próprio disponibilizado no *link* correlato ao Concurso Público no endereço eletrônico www.idecan.org.br.
- A interposição de recursos poderá ser feita via *internet*, através do Sistema Eletrônico de Interposição de Recursos, com acesso pelo candidato ao fornecer dados referentes à sua inscrição apenas no prazo recursal, ao IDECAN, conforme disposições contidas no endereço eletrônico www.idecan.org.br, no *link* correspondente ao Concurso Público. Será disponibilizado um ponto de acesso à *internet* para o candidato localizado na sede da Prefeitura Municipal, à Praça Getúlio Vargas, nº 50, Centro, Simonésia – MG, no horário de 8h00min as 11h00min e de 13h00min as 17h00min.