



Prefeitura de
Pará de Minas

CONCURSO PÚBLICO PARA PROVIMENTO DE CARGOS DA PREFEITURA MUNICIPAL DE PARÁ DE MINAS

Edital 01/2018

PEB III (6º AO 9º ANO) – GEOGRAFIA

Código: 446

LEIA COM ATENÇÃO AS SEGUINTE INSTRUÇÕES

1. Este caderno contém as questões da **Prova Objetiva**.
2. Use o rascunho da Folha de Respostas reproduzido ao final deste caderno apenas para marcar o Gabarito.
3. Ao receber a **Folha de Respostas da Prova Objetiva**:
 - Confira seu nome, número de inscrição e o cargo.
 - Assine, **A TINTA**, no espaço próprio indicado.

4. **ATENÇÃO**: transcreva no espaço apropriado da sua **FOLHA DE RESPOSTAS**, com sua caligrafia usual, mantendo as letras maiúsculas e minúsculas, desconsiderando aspas e autoria, a seguinte frase:

“A arte de vencer se aprende nas derrotas.” Simon Bolívar

ATENÇÃO:

FOLHA DE RESPOSTAS SEM ASSINATURA NÃO TEM VALIDADE.

5. Ao transferir as respostas para a **Folha de Respostas**:

01 A B C D • use apenas caneta esferográfica azul ou preta;

02 A B C D • preencha, sem forçar o papel, toda a área reservada à letra correspondente à resposta solicitada em cada questão;

03 A B C D • assinale somente **uma** alternativa em cada questão.

04 A B C D Sua resposta **NÃO** será computada se houver marcação de mais de uma alternativa, questões não assinaladas ou rasuras.

NÃO DEIXE NENHUMA QUESTÃO SEM RESPOSTA.

A Folha de Respostas não deve ser dobrada, amassada ou rasurada.

ATENÇÃO: Período de Sigilo – não será permitido ao candidato se ausentar em definitivo da sala de provas antes de decorrida 1 (uma) hora do início das provas. Os candidatos não poderão utilizar, em hipótese alguma, lapiseira, corretivos, borracha ou outro material distinto do constante no Edital. Quaisquer acessórios como óculos escuros, boné, chapéu, gorro, lenço ou similares não terão seu uso permitido. Aparelhos eletrônicos, como telefone celular, *smartphones*, *tablets*, relógios (ainda que analógico), enquanto na sala de prova, deverão permanecer desligados, tendo sua bateria retirada. Caso tais aparelhos emitam qualquer som, o fato será registrado na Ata de Ocorrências da Sala e o candidato será eliminado do Concurso. As instruções constantes no Caderno de Questões e na Folha de Respostas da Prova Objetiva, bem como as orientações e instruções expedidas pela Fundep durante a realização das provas, complementam o Edital e deverão ser rigorosamente observadas e seguidas pelo candidato. Será proibida, durante a realização das provas, qualquer espécie de consulta ou comunicação entre os candidatos ou entre estes e pessoas estranhas, oralmente ou por escrito, assim como não será permitido o uso de livros, códigos, manuais, impressos, anotações ou quaisquer outros meios. Poderá, ainda, ser eliminado o candidato que: tratar com falta de urbanidade os examinadores, auxiliares, aplicadores ou autoridades presentes, usar de meios ilícitos para obter vantagem para si ou para outros, e portar arma(s) no local de realização das provas, ainda que de posse de documento oficial de licença para o respectivo porte. Ao término do prazo estabelecido para a prova, os três últimos candidatos deverão permanecer na sala até que o último candidato termine sua prova, devendo todos assinar a Ata de Ocorrências da Sala, atestando a idoneidade da fiscalização das provas, retirando-se da sala de prova todos de uma só vez.

O caderno de questões e o gabarito da Prova Objetiva serão divulgados nos endereços eletrônicos <www.gestaodeconcursos.com.br> e <www.parademinas.mg.gov.br> no dia 26 de junho de 2018.

DURAÇÃO MÁXIMA DA PROVA: 3 (TRÊS) HORAS



ATENÇÃO

Sr.(a) Candidato(a),

Antes de começar a fazer a prova, confira se este caderno contém, ao todo, **40 (quarenta) questões de múltipla escolha**, cada uma constituída de 4 (quatro) alternativas de respostas, assim distribuídas: 15 (quinze) questões de **Língua Portuguesa**, 5 (cinco) de questões de **Legislação Educacional**, 5 (cinco) questões de **Atualidades** e 15 (quinze) questões de **Conhecimentos Específicos**, todas perfeitamente legíveis.

Havendo algum problema, informe **imediatamente** ao aplicador de provas para que ele tome as providências necessárias.

Caso não observe essa recomendação, não lhe caberá qualquer reclamação ou recursos posteriores.

INSTRUÇÃO: Leia o texto I, a seguir, para responder às questões de 1 a 8.

TEXTO I

[...]

Tenho fama de ser bom “dedicador” de livros. Amigos pedem-me conselhos quando se sentem embaraçados com a folha em branco e a necessidade de escrever nela algumas linhas para que o presente fique, por assim dizer, mais personalizado. Creio mesmo que esta minha pequena glória não seja imerecida e, para mantê-la, tenho minhas regras e truques. Revelo aqui apenas um: em desespero, grito por socorro – por exemplo, adaptei para uso próprio, muitas vezes, aquela dedicatória feita por meu pai, “Para você, o amor nos tempos do... amor”. Mas, para minha danação eterna, tendo à verbosidade quando Cupido entra em cena. Há alguns anos, quando aquela que desorganizou o que estava organizado entrou em minha vida, passei a dar-lhe dezenas de livros, todos com longas e digressivas dedicatórias. Em troca, ganhava dela livros e presentes com cartões — quando havia algum cartão — com poucas linhas, geralmente algo direto do tipo “Para Marcelo” ou “Feliz aniversário”, e essa concisão, comparada com os meus cartapácios, me roubava noites de sono. Não gosto de pensar que meu caos interno tenha ficado preservado em dezenas de dedicatórias amontoadas em estantes alheias (há aí, percebo agora, uma sutil e freudiana forma de poder na relação entre um verborrágico e uma comedida). Contudo, noutras vezes acertei, ainda que também estivesse confuso: a uma mulher especial que meus transtornos não permitiram que fôssemos além, digamos, de uma espécie de *modus vivendi* sentimental, dei “Amor em Veneza”, de Andrea di Robilant, e, aproveitando o próprio título impresso na folha de rosto, escrevi: “Para B., AMOR EM VENEZA – e também em Goiânia”.

Em “O Complexo de Portnoy”, de Philip Roth, estruturado como se fosse uma longa sessão de análise, apenas repeti a única frase que o psicanalista diz a Portnoy depois de mais de duzentos e cinquenta páginas de reclamações do seu paciente (talvez, imagino, como reconhecimento da minha própria tagarelice): “Para B.: agora a gente pode começar?”. Tenho o consolo de pensar que ela, daqui a muitos anos, possa dar de cara por acaso, numa tarde preguiçosa ou numa noite insone, com esses livros perdidos nas estantes e, lendo o que escrevi, sinta condescendência pela minha desorganização sentimental, ternura pelo pouco que tivemos e uma vaga decepção pelas promessas não cumpridas dessas dedicatórias.

[...]

FRANCO, Marcelo. *Revista Bula*. Disponível em: <<http://twixar.me/S5n3>>. Acesso em: 8 fev. 2018 [Fragmento adaptado].

QUESTÃO 1

Analise as afirmativas a seguir.

- I. O autor do texto reconhece que o romance vivido com B. foi desastroso para sua vida.
- II. Embora reconhecido como bom dedicador de livros, o autor assume que nem sempre desempenha bem essa tarefa.
- III. É possível depreender, pelos relatos do autor, que sua ex-namorada não o amava.

De acordo com o texto, estão **incorretas** as afirmativas:

- A) I e II, apenas.
- B) I e III, apenas.
- C) II e III, apenas.
- D) I, II e III.

QUESTÃO 2

Segundo o autor, quando o amor está envolvido em suas dedicatórias:

- A) ele as elabora com os nomes dos livros que estão sendo presenteados, o que gera dedicatórias de efeito, porém curtas.
- B) ele acaba por revelar sentimentos profundos que, num primeiro momento, ainda não deseja que a pessoa que recebe a dedicatória saiba.
- C) ele é traído pela sua capacidade de escrever, que o abandona e o deixa em desespero, motivo pelo qual ele se vale de dedicatórias já escritas, por ele mesmo e por outras pessoas.
- D) ele escreve palavras em demasia, porém estas não transmitem as ideias que o autor precisa para se expressar adequadamente.

QUESTÃO 3

Releia o trecho a seguir.

“[...] passei a dar-lhe dezenas de livros, todos com longas e **digressivas** dedicatórias.”

A palavra destacada indica que, em suas dedicatórias, o autor:

- A) retomava sempre fatos passados vividos com sua ex-namorada.
- B) escrevia demasiadamente, dizendo mais do que deveria.
- C) não conseguia manter foco no assunto que desejava.
- D) não se concentrava o suficiente para escrever as dedicatórias e apelava por ajuda.

QUESTÃO 4

Releia o trecho a seguir.

“[...] e essa concisão, comparada com os meus cartapácios, me roubava noites de sono.”

Assinale a alternativa que apresenta uma ideia que **não** está presente nesse trecho.

- A) Similaridade.
- B) Profusão.
- C) Relação.
- D) Estilística.

QUESTÃO 5

Assinale a alternativa em que a palavra destacada **não** é uma palavra formada pelo mesmo processo de derivação das demais.

- A) “Creio mesmo que esta minha pequena glória não seja **imerecida** [...]”
- B) “[...] como reconhecimento da minha própria **tagarelice** [...]”
- C) “Contudo, **noutras** vezes acertei, ainda que também estivesse confuso [...]”
- D) “[...] e, lendo o que escrevi, sinto **condescendência** [...]”

QUESTÃO 6

Releia o trecho a seguir.

“**Contudo**, noutras vezes acertei, ainda que também estivesse confuso [...]”

A seguir, analise as afirmativas e a relação proposta entre elas.

- I. “Contudo” indica que a ideia exposta nesse trecho pelo autor é diferente da ideia exposta na frase anterior,

PORQUE

- II. a preposição destacada possui valor adversativo.

Sobre esse trecho, assinale a alternativa **CORRETA**.

- A) As afirmativas I e II são verdadeiras, e a II é uma justificativa da I.
- B) As afirmativas I e II são verdadeiras, mas a II não é uma justificativa da I.
- C) A afirmativa I é falsa, mas a II é verdadeira.
- D) A afirmativa II é falsa, mas a I é verdadeira.

QUESTÃO 7

Releia o trecho a seguir.

“Em troca, ganhava dela livros e presentes com cartões — quando havia algum cartão — com poucas linhas [...]”

Sobre os travessões utilizados no trecho, analise as afirmativas a seguir.

- I. Podem ser substituídos por vírgulas.
- II. Servem para separar um comentário dispensável no texto.
- III. Foram utilizados para isolar uma oração.

De acordo com o texto e com a norma-padrão, estão **corretas** as afirmativas:

- A) I e II, apenas.
- B) I e III, apenas.
- C) II e III, apenas.
- D) I, II e III.

QUESTÃO 8

Releia o trecho a seguir.

“[...] para minha danação eterna, tendo à verborragia [...]”

A seguir, analise as afirmativas e a relação proposta entre elas.

- I. O acento indicativo de crase nesse trecho é obrigatório,

PORQUANTO

- II. o acento indicativo de crase é regido pelo verbo “tender”, que é transitivo indireto.

Sobre o acento indicativo de crase, assinale a alternativa **CORRETA**.

- A) As afirmativas I e II são verdadeiras, e a II é uma justificativa da I.
- B) As afirmativas I e II são verdadeiras, mas a II não é uma justificativa da I.
- C) A afirmativa I é falsa, mas a II é verdadeira.
- D) A afirmativa II é falsa, mas a I é verdadeira.

INSTRUÇÃO: Leia o texto II, a seguir, para responder às questões de 9 a 15.

TEXTO II

O segredo das orelhas de livros

Indicação de amigos, crítica literária, resenha de jornal. São muitas as referências que influenciam o leitor a se decidir na hora de comprar um livro. Ainda assim, poucos se aventuram a iniciar a leitura sem conferir um elemento-chave da publicação: a orelha do livro. Um pedaço da capa dobrado para dentro que possui o privilégio de ser mais lido que o próprio livro e o poder de interessar leitores ou encalhar edições inteiras.

Vista hoje como parte integrante quase indispensável do apelo comercial da obra, a orelha tem um estilo livre e híbrido: não é apenas uma sinopse como também não é resenha crítica. “A orelha precisa convidar o leitor a querer ler o livro, seduzi-lo”, conta o escritor Flávio Izhaki, responsável por muitas orelhas publicadas pela editora Record.

Izhaki conta que existem dois tipos de orelhas: as anônimas e as assinadas. O critério fica por conta do próprio autor do livro, que pode convidar um escritor para fazer a apresentação de sua obra em uma orelha assinada ou delegar o trabalho a funcionários da editora, que mantêm profissionais especializados no assunto, e nesse caso a orelha dificilmente conterá uma assinatura. Essa diferença não passa despercebida pelos leitores.

O estudante Marcello Zaithammer afirma que uma orelha assinada chama mais a sua atenção. “Gosto quando um livro tem na sua orelha um elogio de outro autor que eu gosto. Embora válido, não acho que seja legal um elogio do editor”, comenta. O escritor Miguel Sanches Neto, que frequentemente é convidado para escrever orelhas assinadas, também comenta esta distinção: “Na orelha assinada nós doamos os nossos leitores, nós somamos o nosso nome ao do autor. É um ato de entrega total, como se disséssemos: esse autor faz parte da minha família, do meu círculo de referências”, diz o escritor, e completa que a orelha não assinada é mais fria e técnica por se tratar de um relacionamento entre textos, e não entre autores.

Os critérios para convencer o leitor a ler o livro pela orelha são os mais diversos. Por isso, para Miguel Sanches Neto o texto de apresentação, embora promocional, não deve ser encarado como algo de caráter mercadológico para sua composição. “Uma orelha é sempre um texto de admiração, não é um espaço crítico para mim. Trata-se, sobretudo, de um texto que se manifesta no campo do discurso amoroso, e exige um olhar terno”, explica. Para ele, a orelha do livro deve funcionar como uma indicação de alguém que conhece intimamente a obra.

O publicitário carioca Luiz Augusto Ramos compartilha dessa visão. Para ele, independentemente da existência de assinatura, o conteúdo da orelha deve complementar as indicações que recebe por outros meios: “Leio a orelha como mais um amigo me indicando um livro, mas que escreve de um jeito que me deixe intrigado o suficiente para desejar lê-lo”.

Flávio Izhaki defende a ideia de apresentação da obra que a orelha passa. Para ele, é importante falar do conteúdo, das questões propostas pela obra e o estilo do autor, e o que mais for relevante para familiarizar o leitor.

“Quem compra um livro após ler a orelha acredita que o que foi introduzido ali será desenvolvido ao longo do livro”. Izhaki, que produziu, entre outras, a orelha da premiada obra *O Filho Eterno*, do escritor Cristovão Tezza (colaborador da Gazeta do Povo), usa o exemplo para ilustrar a tarefa desafiadora de fazer tal apresentação. “O livro tem um tom autobiográfico, mas não se assume como tal, então a orelha tinha de transparecer a mesma coisa”, conta, e acrescenta que quando uma orelha não é assinada, deve-se ter o cuidado de apresentar a obra em um estilo que não se diferencia muito daquele do autor. “Escrever orelha não pode ser sobre quem está escrevendo, mas sempre sobre o livro e para o leitor. Quem escreve orelhas não pode perder isso de vista”, adverte o escritor.

AL'HANATI, Yuri. *Gazeta do Povo*. Disponível em: <<http://twixar.me/RSn3>>. Acesso em: 9 fev. 2018 (Adaptação).

QUESTÃO 9

De acordo com o texto II, assinale a alternativa **incorreta** sobre a orelha de livro.

- A) Possui características que vão além de sua estrutura física.
- B) Busca, quando assinada, manter uma distância da obra e seu autor.
- C) Desempenha importante papel comercial na venda de uma obra.
- D) Deve revelar uma proximidade com a obra ou com o ator desta.

QUESTÃO 10

Analise os trechos a seguir.

- I. “[...] poucos se aventuram a iniciar a leitura sem conferir um **elemento-chave** da publicação [...]”
- II. “[...] e completa que a orelha **não assinada** é mais fria e técnica [...]”
- III. “O livro tem um tom **autobiográfico**, mas não se assume como tal [...]”

De acordo com a norma-padrão, em relação ao uso do hífen, as palavras ou locuções destacadas que **não** admitem outra grafia são:

- A) I e II, apenas.
- B) I e III, apenas.
- C) II e III, apenas.
- D) I, II e III.

QUESTÃO 11

Assinale a alternativa em que a palavra destacada **não** desempenha função adjetival.

- A) “[...] a orelha tem um estilo livre e **híbrido** [...]”
- B) “Trata-se, sobretudo, de um texto que se manifesta no campo do discurso **amoroso** [...]”
- C) “Izhaki conta que existem dois tipos de orelhas: as **anônimas** e as assinadas.”
- D) “O livro tem um tom autobiográfico, mas não se assume como **tal** [...]”

QUESTÃO 12

Releia o trecho a seguir.

“Trata-se, **sobretudo**, de um texto que se manifesta no campo do discurso amoroso [...]”

Sobre a palavra destacada nesse trecho, analise as afirmativas a seguir.

- I. O uso de vírgulas, isolando a palavra destacada nesse contexto, é imprescindível.
- II. Significa que o autor do trecho está dando ênfase a essa informação.
- III. Trata-se, nesse contexto, de um advérbio, mas em outros pode pertencer a outra classe gramatical.

De acordo com o texto e com a norma-padrão, estão **corretas** as afirmativas:

- A) I e II, apenas.
- B) I e III, apenas.
- C) II e III, apenas.
- D) I, II e III.

QUESTÃO 13

Analise as afirmativas a seguir.

- I. O autor da obra é quem define se a orelha deve ou não ser assinada.
- II. A orelha de livro é apenas mais uma entre muitas formas de indicação de um livro.
- III. Atualmente, a orelha é considerada parte quase imprescindível da obra.

Estão **corretas** as afirmativas:

- A) I e II, apenas.
- B) I e III, apenas.
- C) II e III, apenas.
- D) I, II e III.

INSTRUÇÃO: Leia o trecho a seguir para responder às questões 14 e 15.

“O livro tem um tom autobiográfico, mas não se assume como tal, **então** a orelha tinha de transparecer a mesma coisa”

QUESTÃO 14

Esse trecho, sem alteração de seu sentido original, **não** pode ser reescrito da seguinte forma:

- A) O livro tem um tom autobiográfico, mas não se assume como tal, **logo** a orelha tinha de transparecer a mesma coisa.
- B) O livro tem um tom autobiográfico, mas não se assume como tal, **contudo** a orelha tinha de transparecer a mesma coisa.
- C) O livro tem um tom autobiográfico, mas não se assume como tal, **portanto** a orelha tinha de transparecer a mesma coisa.
- D) O livro tem um tom autobiográfico, mas não se assume como tal, **assim** a orelha tinha de transparecer a mesma coisa.

QUESTÃO 15

A palavra destacada confere ao trecho um valor:

- A) adversativo.
- B) conclusivo.
- C) aditivo.
- D) concessivo.

LEGISLAÇÃO EDUCACIONAL

QUESTÃO 16

O Decreto Nº 7.611/2011 dispõe sobre a educação especial o atendimento educacional especializado (AEE). Analise as seguintes afirmativas sobre a educação especial e o AEE tendo como referência esse Decreto e assinale com **V** as **verdadeiras** e com **F** as **falsas**.

- () A educação especial tem como público-alvo as pessoas com deficiência, com transtornos globais do desenvolvimento e com altas habilidades ou superdotação.
- () O AEE é complementar à formação dos estudantes com altas habilidades ou superdotação.
- () Aos estudantes da rede pública de ensino regular, o AEE poderá ser oferecido unicamente pelos sistemas públicos de ensino.
- () O AEE tem como um dos objetivos fomentar o desenvolvimento de recursos didáticos e pedagógicos que eliminem as barreiras no processo de ensino e aprendizagem.

Assinale a sequência **CORRETA**.

- A) V F V F
- B) F V F V
- C) V F F V
- D) F V V F

QUESTÃO 17

Conforme o Estatuto da Criança e do Adolescente (ECA), o direito à educação da criança e do adolescente visa, **EXCETO**:

- A) O pleno desenvolvimento da criança e do adolescente.
- B) A inviolabilidade da sua integridade física, psíquica e moral.
- C) A qualificação para o trabalho.
- D) O preparo para o exercício da cidadania.

QUESTÃO 18

Acerca da Lei Nº 9.394/96, que estabelece as diretrizes e bases da educação nacional, é **incorreto** afirmar:

- A) Uma das incumbências do município é coletar, analisar e disseminar informações sobre a educação.
- B) A educação escolar deverá vincular-se ao mundo do trabalho e à prática social.
- C) O ensino a ser ministrado tem entre seus princípios a valorização da experiência extraescolar.
- D) A educação escolar é composta pela educação básica e educação superior.

QUESTÃO 19

Sobre a Lei Complementar Nº 5.288/2011, que dispõe sobre o Estatuto e Plano de Cargos, Carreira e Remuneração do Magistério do município de Pará de Minas, é **correto** afirmar:

- A) No sistema municipal de ensino, os servidores que integram o magistério são: os que exercem a docência, o especialista em educação, o coordenador pedagógico, o coordenador escolar, o secretário escolar, o vice-diretor e o diretor.
- B) O professor ou o especialista em educação será estabilizado após 2 (dois) anos de efetivo exercício ao satisfazer os requisitos do estágio probatório, por meio da avaliação de desempenho obrigatória.
- C) Uma das atribuições genéricas do profissional do magistério é elaborar relatórios de suas atividades e de encaminhamento de alunos.
- D) É garantido pelo município a educação infantil e o ensino fundamental gratuitos, sem distinção, tendo como público-alvo todas as crianças e adolescentes.

QUESTÃO 20

A Lei Nº 11.494/2007 regulamenta o Fundo de Manutenção e Desenvolvimento da Educação Básica e de Valorização dos Profissionais da Educação – FUNDEB.

Analise as seguintes afirmativas sobre o FUNDEB.

- I. O FUNDEB é instituído no âmbito de cada estado e do Distrito Federal, sendo de natureza contábil.
- II. A distribuição de recursos que compõem os fundos acontecerá entre o governo estadual e os de seus municípios, de maneira proporcional ao número de alunos matriculados nas respectivas redes de educação básica pública presencial.
- III. Dos recursos anuais totais dos fundos, serão destinados ao menos 60% (sessenta por cento) ao pagamento da remuneração dos profissionais do magistério da educação básica em efetivo exercício na rede pública.

Estão **corretas** as afirmativas:

- A) I e II, apenas.
- B) I e III, apenas.
- C) II e III, apenas.
- D) I, II e III.

ATUALIDADES

QUESTÃO 21

“[...] De 2001 a 2015, os 10% mais ricos abocanharam de 54% a 55% da renda nacional [...]. Quando se observa o topo do topo, isto é, o 0,1% mais rico, percebe-se uma variação maior. Esse grupo controlava 11% da renda nacional em 2001, aumentou a participação para mais de 16% em 2007, e depois viu a fatia recuar para 14%, com pequenas oscilações nos anos seguintes.”

MARTINS, Rodrigo. A brutal desigualdade de renda continua a ser o traço definidor do Brasil. *Carta Capital*. 4 out. de 2017. p. 22.

Considerando os dados relativos à renda concentrada pela parcela mais rica do Brasil, é **correto** afirmar:

- A) Ao longo da primeira década e meia do século XXI, essa parcela teve sua riqueza estabilizada ou mesmo registrou ganhos em sua porção mais rica.
- B) Entre 2001 e 2015, os 10% mais ricos dos brasileiros tiveram sua riqueza aumentada pela solidariedade dos 0,1% do topo do grupo.
- C) No período identificado, os 10% mais ricos do país, ocupando o topo do topo da escala social, tiveram sua riqueza ampliada na média de 15%.
- D) Nos primeiros quinze anos do século XXI, houve transferência de renda dos mais pobres para os mais ricos, que concentraram mais da metade da riqueza nacional.

QUESTÃO 22

O jornal *O Tempo*, do dia 21 de outubro de 2017, apresentou o seguinte título para uma matéria que publicou ao noticiar o crime ocorrido em uma escola particular da cidade de Goiânia: “Aluno que matou colegas se inspirou em outros massacres”.

A maior parte dos atentados com tiros em escolas e / ou locais públicos, comumente noticiados pela imprensa, ocorreu:

- A) em países europeus, que foram atingidos por grandes atentados recentemente.
- B) no Brasil, como o atentado no Rio de Janeiro, no bairro de Realengo, em 2011.
- C) nos Estados Unidos da América, país em que a posse de armas por civis é permitida.
- D) nos países que enfrentam divisões internas e, ainda, sofrem pressões imperialistas.

QUESTÃO 23

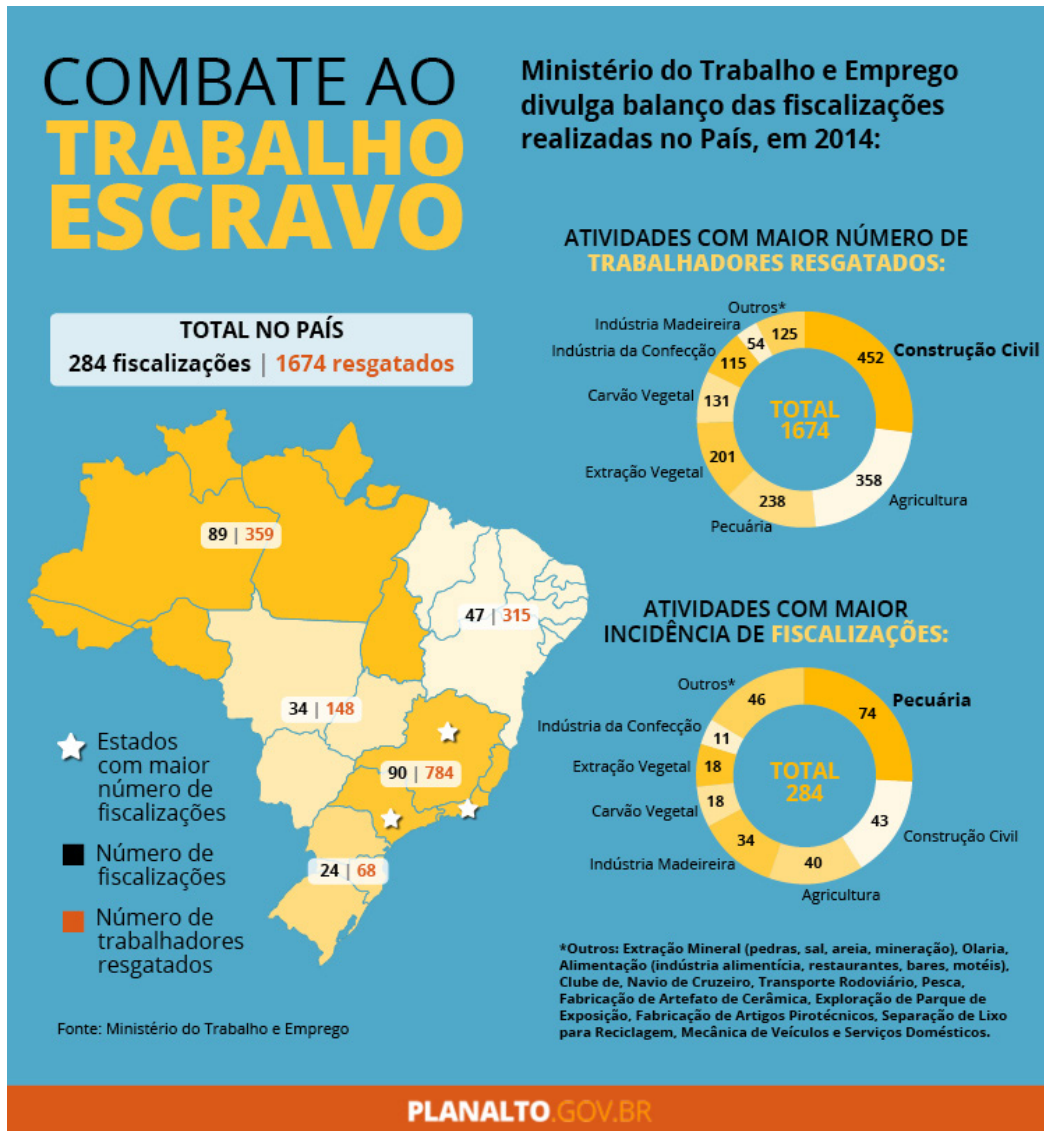
No Brasil, o trabalho escravo é definido pelo Artigo 149 do Código Penal da seguinte maneira:

“**Artigo 149.** Reduzir alguém a condição análoga à de escravo, quer submetendo-o a trabalhos forçados ou a jornada exaustiva, quer sujeitando-o a condições degradantes de trabalho, quer restringindo, por qualquer meio, sua locomoção em razão de dívida contraída com o empregador ou preposto.”

Disponível em: <http://www.planalto.gov.br/ccivil_03/decreto-lei/Del2848compilado.htm>. Acesso em: 10 dez. 2017.

Nos últimos meses, o tema trabalho escravo contemporâneo tem sido assunto de acalorados debates no Brasil.

Analise o infográfico a seguir, produzido a partir de dados do governo em 2014.



Ministério do Trabalho e Emprego divulga números do trabalho escravo em 2014.
Disponível em: <<http://www.ct-escoladacidade.org/contraconduas/reportagens/precarizacao-e-lucro-trabalho-degradante-na-construcao-civil-e-a-producao-e-consumo-da-cidade-neoliberal-ato-ii-e-iii/>>. Acesso em: 10 dez. 2017.

Com base nesse artigo do Código Penal e nesse infográfico, pode-se afirmar:

- A) A quantidade de fiscalizações é proporcional ao número de trabalhadores em condição análoga à escravidão.
- B) A região Norte do Brasil concentrou o maior número de fiscalizações de trabalho escravo em 2014.
- C) O resgate de trabalhadores em condição análoga à escravidão se mostrou mais eficiente na região mais rica.
- D) O trabalho análogo à escravidão tanto do passado quanto do presente se restringe às áreas rurais.

QUESTÃO 24

Analise os dados a seguir.



O TEMPO. Belo Horizonte. Ano 21. Nº 7 630. 4 abr. 2017.

De acordo com os dados publicados pelo jornal *O Tempo*, assinale a alternativa que apresenta a avaliação **CORRETA**.

- A) As áreas relacionadas às finanças terão seus orçamentos ampliados, enquanto algumas áreas relacionadas às políticas sociais, como segurança alimentar e nutrição, e políticas para mulheres sofrerão redução.
- B) Considerando que, em termos de valores totais não haverá nenhum aumento de gastos por parte do governo, o orçamento apenas fez um deslocamento, priorizando setores que não foram contemplados em 2017.
- C) Dado que o governo enfrenta uma crise fiscal, este priorizou para 2018 o orçamento das finanças, responsável pelo pagamento da dívida pública, a fim de conseguir novos empréstimos para investimentos sociais em 2019.
- D) O pequeno aumento do orçamento para 2018 está vinculado à diminuição do consumo por parte da população, receosa do futuro, obrigando o Governo Federal a retirar recursos das áreas sociais para pagar suas dívidas.

QUESTÃO 25

O Supremo Tribunal Federal (STF) é o órgão de cúpula do Poder Judiciário brasileiro.

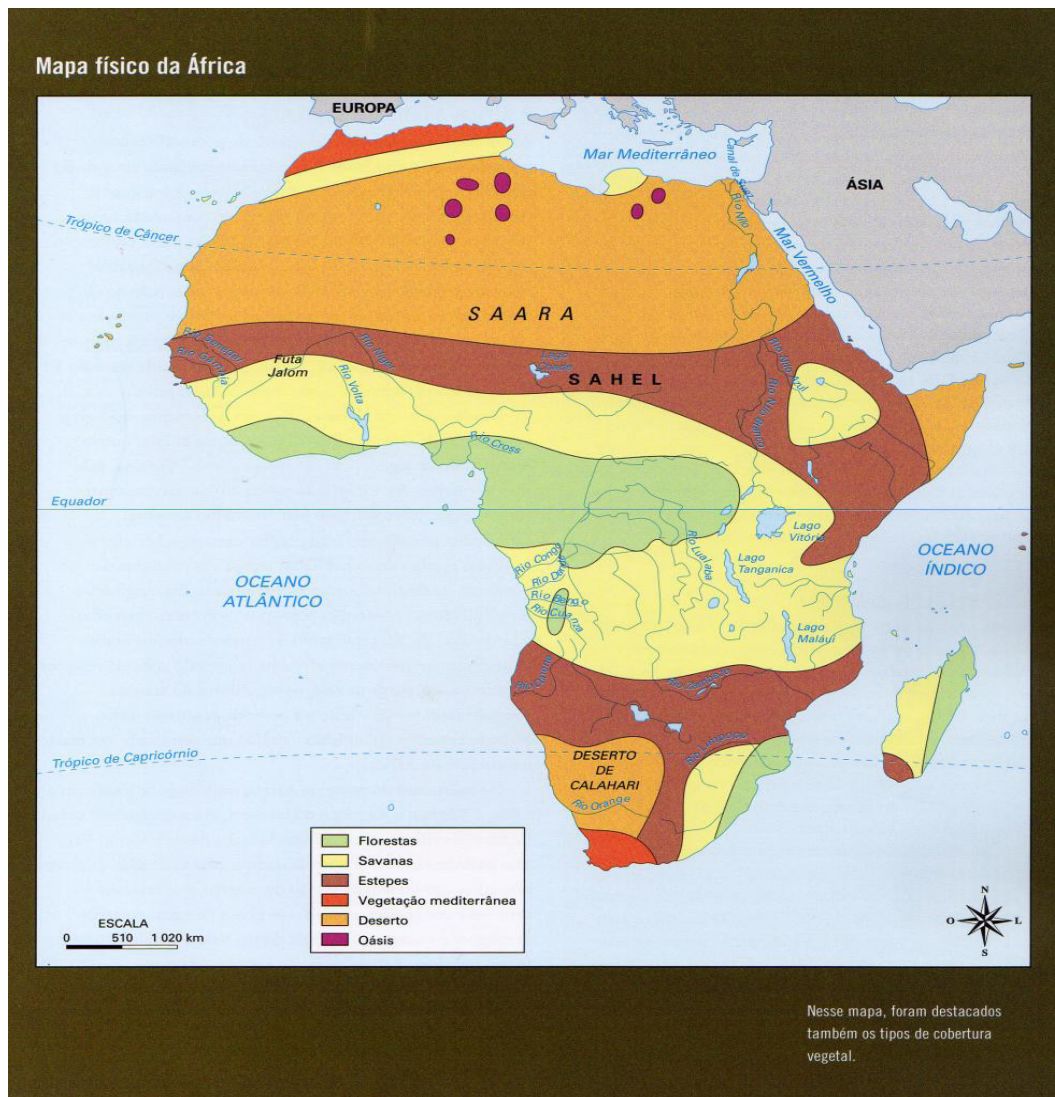
Sobre a formação do STF, é **correto** afirmar:

- A) A indicação e a aprovação dos juizes que irão compor o Tribunal é feita em caráter exclusivo pelo Presidente da República em exercício.
- B) A sua composição deve refletir e representar minimamente a distribuição social do país, considerando as características de gênero e etnia.
- C) Os deputados estaduais, na defesa dos interesses de seus estados, devem ser ouvidos pelos senadores antes de aprovar o candidato a juiz.
- D) Os juizes são escolhidos entre cidadãos com mais de trinta e cinco e menos de sessenta e cinco anos, de notável saber jurídico e reputação ilibada.

PEB III (6º AO 9º ANO) – GEOGRAFIA

QUESTÃO 26

Observe o mapa a seguir.



Disponível em: <<http://brasilafrika.ffich.usp.br/node/281>>. Acesso em: 1 nov. 2017.

Sobre os aspectos físicos do continente africano, assinale a alternativa **INCORRETA**.

- A) A maior bacia hidrográfica do continente, a do Rio Congo, possui o alto e o médio cursos de seu rio principal inscritos em topografia planáltica, favorável ao aproveitamento de seu potencial energético e, portanto, à construção de hidrelétricas.
- B) O Deserto de Calahari, assim como outros desertos costeiros, apresenta temperaturas médias inferiores à 18 °C, em decorrência, entre outros fatores, da atuação da corrente marítima de Benguela, originária de latitudes próximas ao Trópico de Capricórnio.
- C) O Sahel, uma faixa de transição entre o Deserto do Saara e a vegetação savânica, constitui uma das principais áreas de desertificação do planeta.
- D) Os grandes lagos africanos, Vitória e Tanganica, preenchem áreas de riftes, formados por movimentos tectônicos divergentes ocorridos na própria placa tectônica africana.

QUESTÃO 27

Observe o mapa a seguir.



Disponível em: <<http://brasilafica.ffich.usp.br/node/281>>. Acesso em: 1 nov. 2017.

Sobre a área destacada no mapa, assinale a alternativa **INCORRETA**.

- A) Apresenta como característica natural o predomínio da vegetação de Cerrado, sistematicamente devastada para dar espaço a cultivos de algodão, arroz, milho e soja.
- B) Corresponde ao MATOPIBA, termo criado pela Embrapa para designar uma das principais porções atuais de expansão da fronteira agrícola no território brasileiro.
- C) Engloba a sub-região nordestina do Meio-Norte, ocupada por palmáceas, como os buritis, e pela prática agrícola, estruturada em pequenas propriedades.
- D) Inclui a microrregião denominada Bico do Papagaio, no estado de Tocantins, palco de diversos conflitos por posse de terras.

QUESTÃO 28

Sobre o processo de ocupação da região Norte brasileira e sua integração às demais macrorregiões do país, assinale a alternativa **INCORRETA**.

- A) A criação da Zona Franca de Manaus e o desenvolvimento, na região, de uma indústria de enclave promoveram o crescimento da interdependência com o Centro-Sul do país.
- B) A implantação de grandes eixos rodoviários, durante o Governo Militar, permitiu fluxos de imigrantes, em particular do Sertão nordestino, o que contribuiu para uma redução do superpovoamento econômico nessa sub-região.
- C) A linha de fronteira amazônica, inscrita sobre um quadro natural de baixa permeabilidade, impõe-se, pelo uso de severas medidas de controle, como uma barreira à penetração de redes criminosas internacionais.
- D) Os esforços de ocupação do espaço regional promovidos pelo poder central, do Período Colonial até a República, tiveram em comum o objetivo geopolítico de manutenção da soberania política.

QUESTÃO 29

No final do século XX, o contexto mundial favorecia a aceleração, sem precedentes, do processo de globalização, identificado como uma intensificação do comércio, dos investimentos internacionais e, também, e o exercício de uma maior coordenação macroeconômica. Nos últimos dez anos, admite-se a desglobalização, ou seja, um retrocesso na interação mundial, em relação aos auspiciosos anos 1990.

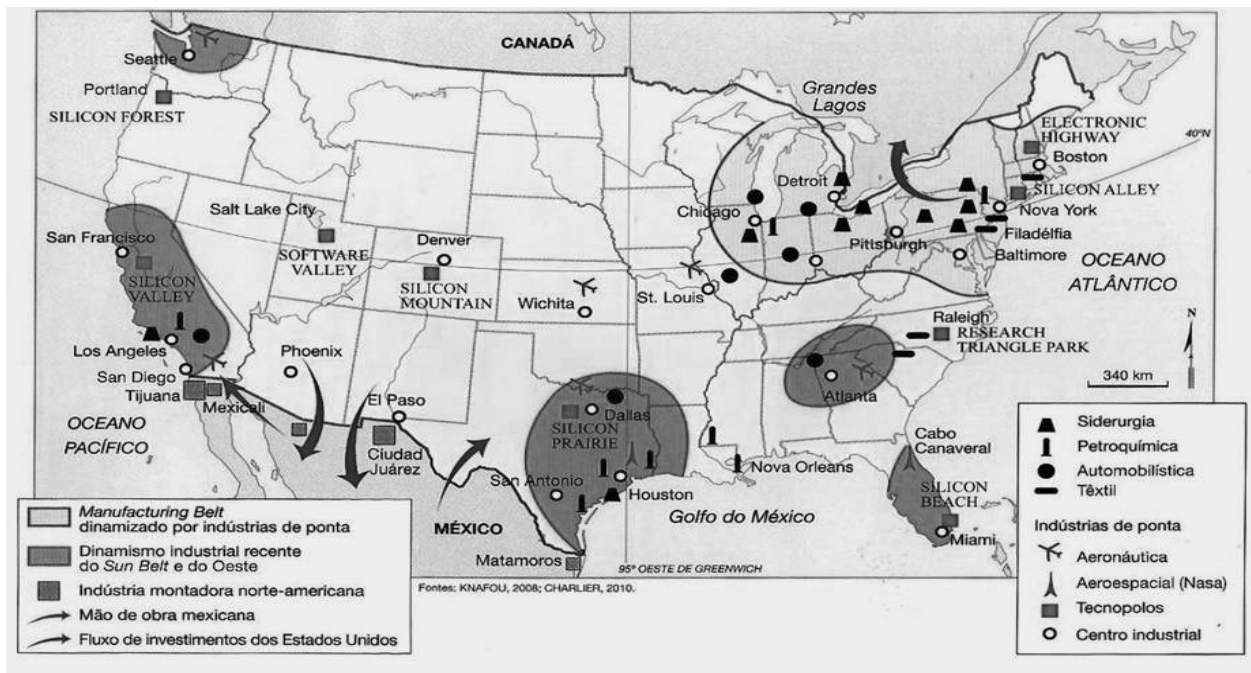
Sobre o período da evolução político-econômica abordado no trecho, assinale a alternativa **INCORRETA**.

- A) Na segunda década do século XXI, a geopolítica de vizinhança vem se reforçando, o que aumenta o papel de blocos, com uma integração multissetorial em detrimento das cadeias globais.
- B) No pós-Guerra Fria, uma Nova Ordem Mundial foi construída por meio da formação de blocos econômicos regionais, interpretada por alguns analistas como parcelamento ou obstáculo à globalização.
- C) Nos anos 1990, a desintegração da URSS eliminou grande parte das restrições às trocas internacionais, o que refletiu em uma especialização da produção e, portanto, no aumento do volume de mercadorias comercializadas.
- D) Nos últimos dez anos, o crescimento de críticas intraocidente às políticas liberais e a multiplicação dos atos terroristas e de ciberataques arrefeceram o ritmo de abertura e integração entre países.

QUESTÃO 30

Observe o mapa a seguir, que destaca as regiões industriais mais dinâmicas dos Estados Unidos da América.

ESTADOS UNIDOS DA AMÉRICA – INDÚSTRIA



FERREIRA, G.M.L. Moderno Atlas Geográfico. São Paulo: Moderna, 2011. p. 55.

De acordo com o mapa e com seus conhecimentos, assinale a alternativa **INCORRETA**.

- A) “Manufacturing Belt” – localizado na porção nordeste, é uma área de industrialização antiga com setores tradicionais, como a siderurgia, e fábricas de automóveis.
- B) “Silicon Forest” – concentra importantes multinacionais do setor de laticínios que processam matéria-prima canadense.
- C) “Silicon Valley” – reúne diversos polos tecnológicos na costa oeste, o que facilita o acesso aos grandes mercados asiáticos.
- D) “Sun Belt” – a posição entre a Califórnia e o Golfo do México, que abrigam reservas de hidrocarbonetos, favoreceu a concentração da indústria petroquímica nessa região.

QUESTÃO 31

Reflexos de estratégias políticas adotadas por países que assumem importância no cenário mundial têm comprometido a estabilidade no planeta.

Sobre essas políticas e reflexos, assinale a alternativa **INCORRETA**.

- A) Na Alemanha, a rejeição da população à mobilidade do trabalho se aprofundou com a entrada, no país, de milhões de refugiados da Ásia e da África.
- B) Na China, o aumento dos custos de produção, na atual fase de expansão capitalista, reforça a incerteza internacional sobre a real situação dessa economia e o funcionamento do sistema financeiro do país.
- C) Nos EUA, a prática de promoção de incursões militares externas e a recusa do apoio ao desenvolvimento sustentável alimentam a desconfiança de grupos de países em relação à superpotência.
- D) No Japão, a aceleração da expansão da economia, em período recente, contribuiu para que o país assumisse a liderança em acordos de circulação de bens e serviços, reacendendo rivalidades regionais.

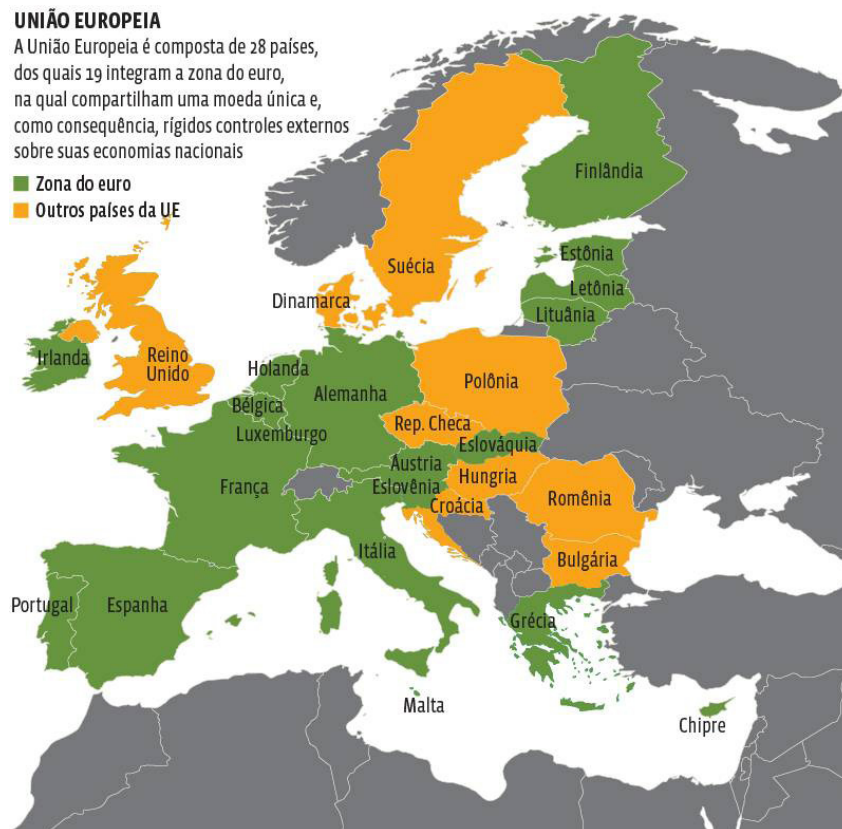
QUESTÃO 32

Observe o mapa a seguir.

UNIÃO EUROPEIA

A União Europeia é composta de 28 países, dos quais 19 integram a zona do euro, na qual compartilham uma moeda única e, como consequência, rígidos controles externos sobre suas economias nacionais

- Zona do euro
- Outros países da UE



Disponível em: <<https://guiadoestudante.abril.com.br/blog/atualidades-vestibular/os-60-anos-da-uniao-europeia/>>. Acesso em: 1 nov. 2017.

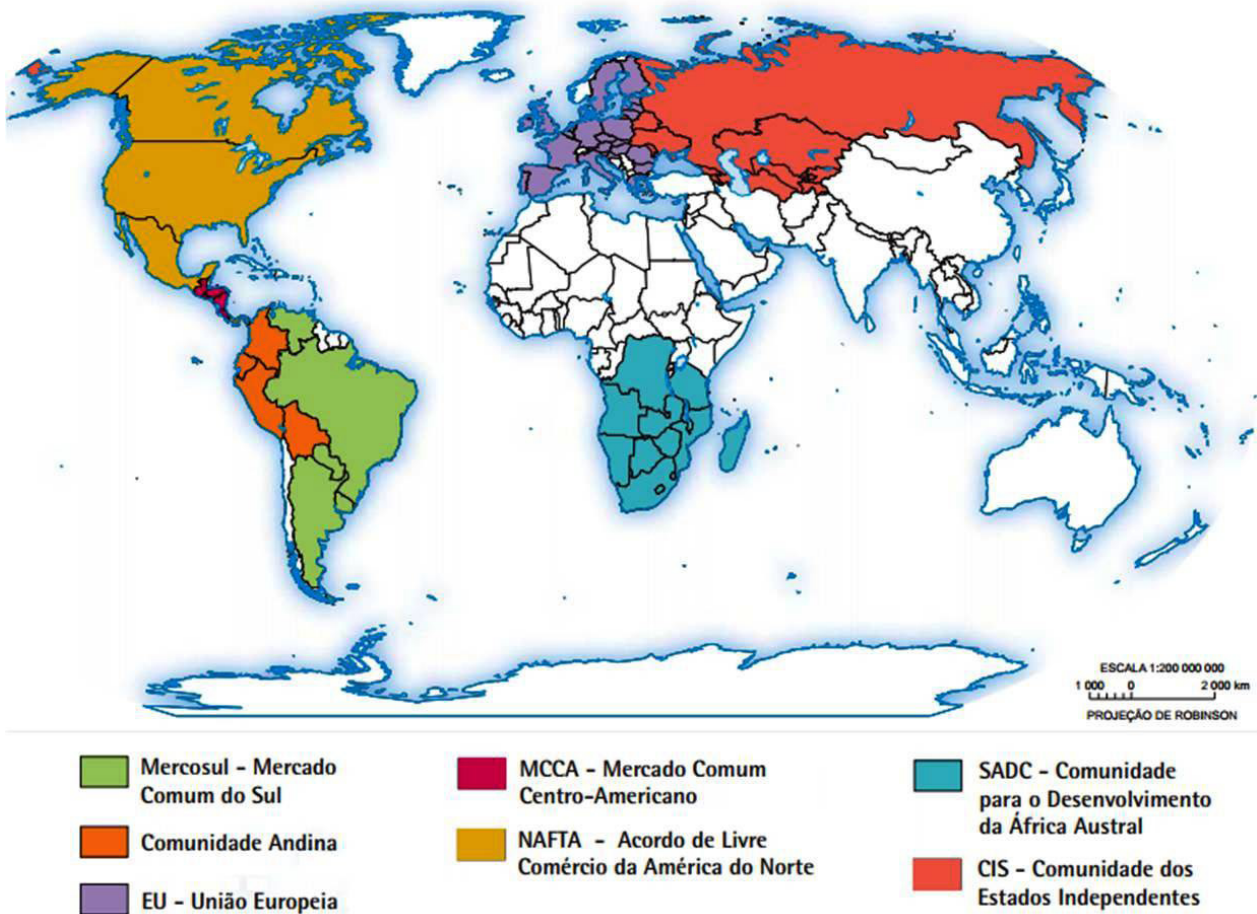
Sobre a União Europeia e seu processo de formação histórica e político-econômica recente, assinale a alternativa **INCORRETA**.

- A) Na última década, para promover a integração entre países-membros do bloco e a Suíça, foi assinado o Acordo de Schengen, que previa o fortalecimento e a ampliação dos poderes do bloco econômico, facilitando a adoção de um modelo próximo ao de uma Federação.
- B) No ano de 2016, a consulta popular, por meio de um plebiscito, levou o Reino Unido a abandonar a União Europeia, em processo conhecido como “Brexit”, sustentado em grande parte pela insatisfação da população com os mecanismos de integração no bloco econômico europeu.
- C) No final de 2010, países europeus em patamar de recessão, que os colocava além do limite de dívidas externas estabelecido pelo Pacto de Estabilidade do bloco, foram rotulados pela imprensa como PIIGS (atuais PIGS), ou “porcos”, para ressaltar a situação de economia “suja”.
- D) Nos últimos anos, partidos nacionalistas, em diferentes países do bloco, ganharam expressão posicionando-se contra as políticas migratórias que garantem aos estrangeiros acesso ao mercado de trabalho e aos serviços públicos.

QUESTÃO 33

Observe o mapa a seguir.

Mundo – blocos econômicos (2015)



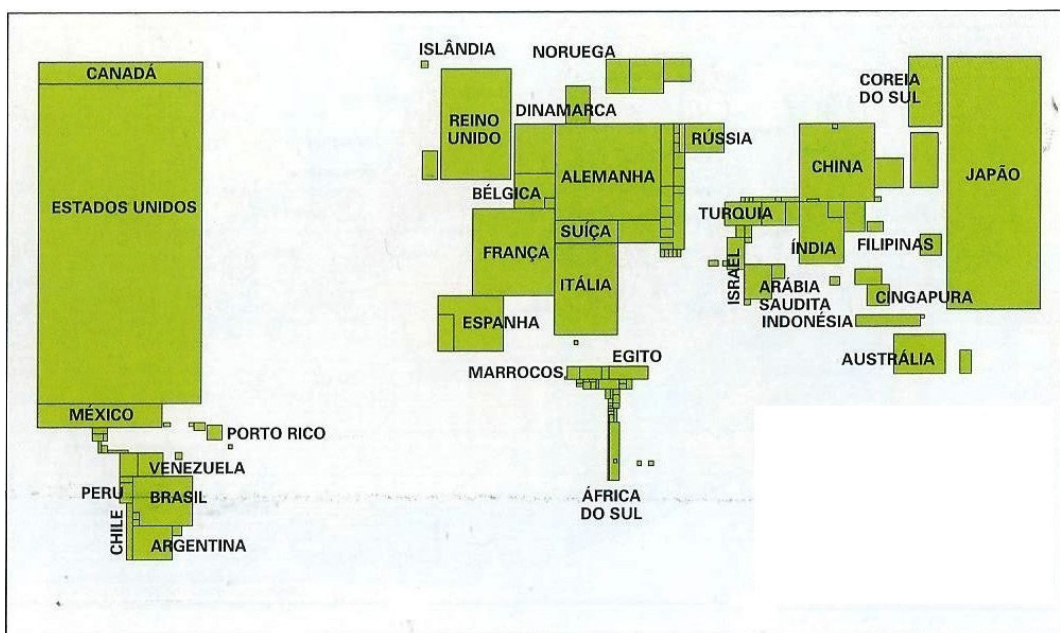
Disponível em: <https://atlascolar.ibge.gov.br/images/atlas/mapas_mundo/mundo_blocos_economicos_1.pdf>. Acesso em: 1 nov. 2017.

Sobre as organizações supranacionais representadas nesse mapa, assinale a alternativa **INCORRETA**.

- A) A Comunidade Andina é o bloco econômico regional de criação mais recente e atua em acordos comerciais celebrados com o Mercosul e países asiáticos, cumprindo as exigências de uma união aduaneira.
- B) A Comunidade dos Estados Independentes surgiu em um contexto pós-Guerra Fria, com a finalidade de implantar um mercado econômico comum e o objetivo geopolítico de promover relações amistosas e de cooperação entre os países-membros.
- C) O Mercosul constitui uma união aduaneira, uma vez que a integração possível entre os países-membros, na segunda década do século XXI, não atende às exigências de um mercado comum.
- D) O Nafta, bloco composto pelos três países da América Norte, começou a atuar em meados dos anos 1990 e criou, para os países-membros, vantagens mútuas no acesso aos mercados internos por meio da implementação de uma zona de livre-comércio.

QUESTÃO 34

Observe a anamorfose a seguir.



SIMIELLI, M. E. *Geoatlas*. 33ª ed. São Paulo: Ática S.A., 2011. p. 31.

A alternativa que corresponde ao título **apropriado** para a anamorfose é:

- A) Mundo – Densidade demográfica
- B) Mundo – População urbana
- C) Mundo – Produto Nacional Bruto
- D) Mundo – Transporte aéreo

QUESTÃO 35

A defesa do livre-comércio tem como principal argumento o favorecimento econômico a todos os países envolvidos.

Sobre o livre-comércio, em décadas recentes, assinale a alternativa **INCORRETA**.

- A) A liberalização do comércio, após os anos 1990, aumentou o valor das exportações dos países menos desenvolvidos e promoveu a diversificação das pautas de exportações.
- B) A teoria do livre-comércio, criada no século XIX, foi resgatada e, em certa medida, ressignificada nos anos 1990, coincidindo com um período de fortes mudanças na economia mundial.
- C) O estímulo à agricultura de exportação e à expansão da produção desse setor nas economias recém-liberalizadas de alguns países intensificaram o êxodo rural.
- D) O livre-comércio foi institucionalizado pelo aval do FMI e do Banco Mundial, no final do século XX, o que induziu a sua implantação por países em desenvolvimento.

QUESTÃO 36

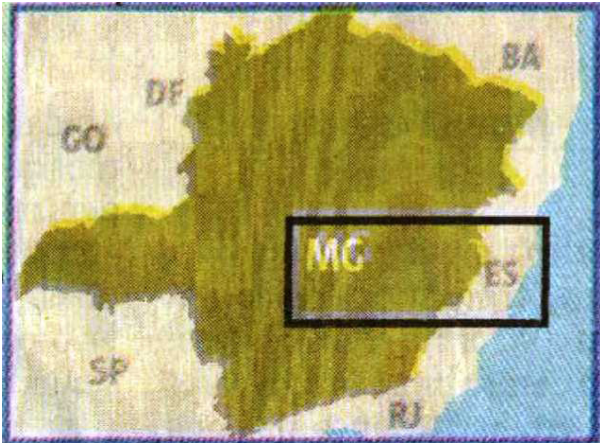
O agronegócio assume importância, em nível mundial, pelo avanço tecnológico, pelo nível de produtividade e pela participação na geração de riqueza.

São características dessa modalidade de agricultura, **EXCETO**:

- A) A imposição de um modelo pautado pela produção de commodities e comercialização concentrada.
- B) A modernização dos processos de produção e distribuição de alimentos, controlados por grandes empresas transnacionais.
- C) A redução das importações de alimentos, dos níveis de concentração fundiária e desvalorização da renda mercantil da terra em países agroexportadores.
- D) O desenvolvimento de uma agricultura com baixa capacidade de absorção da força de trabalho tradicional, se comparada a décadas anteriores.

QUESTÃO 37

O mapa a seguir destaca a porção ocupada pela bacia do Rio Doce na região Sudeste.



PARREIRAS, M. *Tsunami de desalentos*. Estado de Minas. p. 13. 1 out. 2017.

Sobre as características físicas da bacia do Rio Doce, assinale a alternativa **INCORRETA**.

- A) Apresenta relevo predominantemente mamelonar em parte do espaço ocupado.
- B) É submetida a variações do clima Tropical com períodos de estiagem de duração heterogênea.
- C) Inscreve-se sobre a maior extensão da estrutura geológica de Bacia Sedimentar, na região.
- D) Possui como cobertura vegetal a Mata Atlântica, nessa longitude, tropicalizada.

QUESTÃO 38

O século XXI é pautado por discussões sobre os impactos antrópicos no planeta. A preocupação, em nível mundial, com o aquecimento da Terra e os processos potencializadores de mudanças climáticas está no centro da discussão entre líderes mundiais e organizações supranacionais.

São consequências possíveis desses processos, **EXCETO**:

- A) Expansão do espaço de produção de biomassa na zona intertropical que resulta em desflorestamento e maior emissão de gases estufa.
- B) Extinção de considerável parcela da biota aquática devido ao aumento na temperatura de oceanos.
- C) Intensificação da exploração das rotas comerciais de navegação que utilizam o Oceano Glacial Ártico.
- D) Regressão marinha, expondo faixas da plataforma continental com baixo potencial agrícola em médio prazo.

QUESTÃO 39

Leia o trecho a seguir.

“O Sistema Nacional de Unidades de Conservação (SNUC), criado em 2000, pela Lei Nº 9.985, é composto por 12 categorias de Unidades de Conservação (UC) e gerido pelas três esferas de governo no Brasil: federal, estadual e municipal.

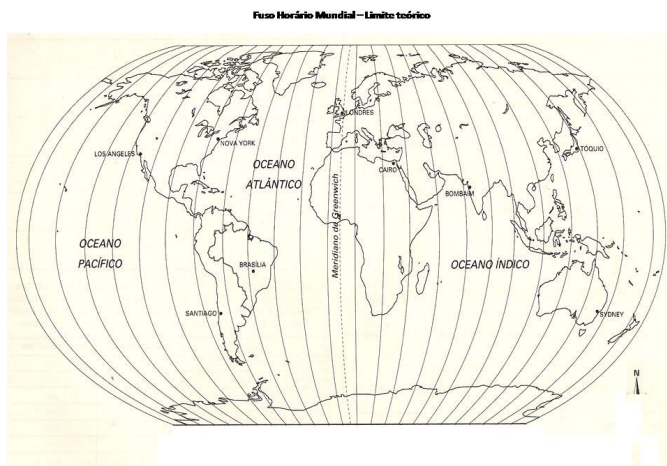
Disponível em: <<http://www.mma.gov.br/areas-protegidas/sistema-nacional-de-ucs-snuc>>. Acesso em: 1 nov. 2017 (Adaptação).

Assinale a alternativa em que a descrição da UC está **INCORRETA**.

- A) Área de Proteção Ambiental – constitui, em geral, uma pequena extensão, despovoada, com exemplares que assumem importância, na biota regional e local, que se pretende proteger de forma integral.
- B) Floresta Nacional – constitui uma área com predomínio de espécies florestais nativas, onde se admite a permanência de populações tradicionais, que antecederam a criação da UC e que sobrevivem da exploração sustentável de recursos da floresta.
- C) Parque Nacional – é uma UC que abriga ecossistemas de relevância ecológica e beleza cênica, favorecendo a realização de pesquisas científicas, atividades de educação ambiental, exploração do turismo ecológico e outras formas de recreação na natureza.
- D) Reserva Extrativista – área onde se permite o extrativismo, a prática da agricultura de subsistência e a criação de animais de pequeno porte praticadas por populações, cuja sobrevivência material e cultural se assenta sobre a exploração sustentável dos recursos da UC.

QUESTÃO 40

Observe o mapa a seguir.



Disponível em: <<http://jrpti.blogspot.com.br>>.
Acesso em: 12 fev. 2017 (Adaptação).

Sobre o sistema de fusos horários mostrado nesse mapa, é **incorreto** afirmar:

- A) As variações na radiação solar recebida, ao longo de um ano nas baixas latitudes dos diversos fusos, ampliam as vantagens da adoção do horário de verão para países com território nessa posição geográfica.
- B) Os fusos horários foram criados em conferência internacional no final do século XIX para atender à demanda da padronização da hora mundial imposta pelo aumento da interdependência econômica, que se acentuou nas últimas décadas dos anos 1700.
- C) Um fuso horário pode registrar, mesmo em latitudes semelhantes, horários diferentes inspirados por interesses econômicos nacionais.
- D) Um fuso horário corresponde a um conjunto formado por quinze meridianos que têm em comum a mesma hora astronômica.

FOLHA DE RESPOSTAS (RASCUNHO)

1	A	B	C	D	21	A	B	C	D
	<input type="checkbox"/>	<input type="checkbox"/>	<input type="checkbox"/>	<input type="checkbox"/>		<input type="checkbox"/>	<input type="checkbox"/>	<input type="checkbox"/>	<input type="checkbox"/>
2	A	B	C	D	22	A	B	C	D
	<input type="checkbox"/>	<input type="checkbox"/>	<input type="checkbox"/>	<input type="checkbox"/>		<input type="checkbox"/>	<input type="checkbox"/>	<input type="checkbox"/>	<input type="checkbox"/>
3	A	B	C	D	23	A	B	C	D
	<input type="checkbox"/>	<input type="checkbox"/>	<input type="checkbox"/>	<input type="checkbox"/>		<input type="checkbox"/>	<input type="checkbox"/>	<input type="checkbox"/>	<input type="checkbox"/>
4	A	B	C	D	24	A	B	C	D
	<input type="checkbox"/>	<input type="checkbox"/>	<input type="checkbox"/>	<input type="checkbox"/>		<input type="checkbox"/>	<input type="checkbox"/>	<input type="checkbox"/>	<input type="checkbox"/>
5	A	B	C	D	25	A	B	C	D
	<input type="checkbox"/>	<input type="checkbox"/>	<input type="checkbox"/>	<input type="checkbox"/>		<input type="checkbox"/>	<input type="checkbox"/>	<input type="checkbox"/>	<input type="checkbox"/>
6	A	B	C	D	26	A	B	C	D
	<input type="checkbox"/>	<input type="checkbox"/>	<input type="checkbox"/>	<input type="checkbox"/>		<input type="checkbox"/>	<input type="checkbox"/>	<input type="checkbox"/>	<input type="checkbox"/>
7	A	B	C	D	27	A	B	C	D
	<input type="checkbox"/>	<input type="checkbox"/>	<input type="checkbox"/>	<input type="checkbox"/>		<input type="checkbox"/>	<input type="checkbox"/>	<input type="checkbox"/>	<input type="checkbox"/>
8	A	B	C	D	28	A	B	C	D
	<input type="checkbox"/>	<input type="checkbox"/>	<input type="checkbox"/>	<input type="checkbox"/>		<input type="checkbox"/>	<input type="checkbox"/>	<input type="checkbox"/>	<input type="checkbox"/>
9	A	B	C	D	29	A	B	C	D
	<input type="checkbox"/>	<input type="checkbox"/>	<input type="checkbox"/>	<input type="checkbox"/>		<input type="checkbox"/>	<input type="checkbox"/>	<input type="checkbox"/>	<input type="checkbox"/>
10	A	B	C	D	30	A	B	C	D
	<input type="checkbox"/>	<input type="checkbox"/>	<input type="checkbox"/>	<input type="checkbox"/>		<input type="checkbox"/>	<input type="checkbox"/>	<input type="checkbox"/>	<input type="checkbox"/>
11	A	B	C	D	31	A	B	C	D
	<input type="checkbox"/>	<input type="checkbox"/>	<input type="checkbox"/>	<input type="checkbox"/>		<input type="checkbox"/>	<input type="checkbox"/>	<input type="checkbox"/>	<input type="checkbox"/>
12	A	B	C	D	32	A	B	C	D
	<input type="checkbox"/>	<input type="checkbox"/>	<input type="checkbox"/>	<input type="checkbox"/>		<input type="checkbox"/>	<input type="checkbox"/>	<input type="checkbox"/>	<input type="checkbox"/>
13	A	B	C	D	33	A	B	C	D
	<input type="checkbox"/>	<input type="checkbox"/>	<input type="checkbox"/>	<input type="checkbox"/>		<input type="checkbox"/>	<input type="checkbox"/>	<input type="checkbox"/>	<input type="checkbox"/>
14	A	B	C	D	34	A	B	C	D
	<input type="checkbox"/>	<input type="checkbox"/>	<input type="checkbox"/>	<input type="checkbox"/>		<input type="checkbox"/>	<input type="checkbox"/>	<input type="checkbox"/>	<input type="checkbox"/>
15	A	B	C	D	35	A	B	C	D
	<input type="checkbox"/>	<input type="checkbox"/>	<input type="checkbox"/>	<input type="checkbox"/>		<input type="checkbox"/>	<input type="checkbox"/>	<input type="checkbox"/>	<input type="checkbox"/>
16	A	B	C	D	36	A	B	C	D
	<input type="checkbox"/>	<input type="checkbox"/>	<input type="checkbox"/>	<input type="checkbox"/>		<input type="checkbox"/>	<input type="checkbox"/>	<input type="checkbox"/>	<input type="checkbox"/>
17	A	B	C	D	37	A	B	C	D
	<input type="checkbox"/>	<input type="checkbox"/>	<input type="checkbox"/>	<input type="checkbox"/>		<input type="checkbox"/>	<input type="checkbox"/>	<input type="checkbox"/>	<input type="checkbox"/>
18	A	B	C	D	38	A	B	C	D
	<input type="checkbox"/>	<input type="checkbox"/>	<input type="checkbox"/>	<input type="checkbox"/>		<input type="checkbox"/>	<input type="checkbox"/>	<input type="checkbox"/>	<input type="checkbox"/>
19	A	B	C	D	39	A	B	C	D
	<input type="checkbox"/>	<input type="checkbox"/>	<input type="checkbox"/>	<input type="checkbox"/>		<input type="checkbox"/>	<input type="checkbox"/>	<input type="checkbox"/>	<input type="checkbox"/>
20	A	B	C	D	40	A	B	C	D
	<input type="checkbox"/>	<input type="checkbox"/>	<input type="checkbox"/>	<input type="checkbox"/>		<input type="checkbox"/>	<input type="checkbox"/>	<input type="checkbox"/>	<input type="checkbox"/>

AO TRANSFERIR ESSAS MARCAÇÕES PARA A FOLHA DE RESPOSTAS,
OBSERVE AS INSTRUÇÕES ESPECÍFICAS DADAS NA CAPA DA PROVA.

USE CANETA ESFEROGRÁFICA AZUL OU PRETA.

**ATENÇÃO:
AGUARDE AUTORIZAÇÃO
PARA VIRAR O CADERNO DE PROVA.**