



## CÂMARA MUNICIPAL DA ESTÂNCIA DE BRAGANÇA PAULISTA

CONCURSO PÚBLICO

### 002. PROVA OBJETIVA

#### ASSISTENTE DE GESTÃO LEGISLATIVA B

- ◆ Você recebeu sua folha de respostas, este caderno contendo 50 questões objetivas e um tema de redação a ser desenvolvido, e o caderno de redação para transcrição do texto definitivo.
- ◆ Confira seu nome e número de inscrição impressos na capa deste caderno e na folha de respostas.
- ◆ Quando for permitido abrir os cadernos, verifique se estão completos ou se apresentam imperfeições. Caso haja algum problema, informe ao fiscal da sala.
- ◆ Redija o texto definitivo com caneta de tinta azul ou preta, no caderno de redação. Os rascunhos não serão considerados na correção. A ilegibilidade da letra acarretará prejuízo à nota do candidato.
- ◆ Leia cuidadosamente todas as questões e escolha a resposta que você considera correta.
- ◆ Marque, na folha de respostas, com caneta de tinta azul ou preta, a letra correspondente à alternativa que você escolheu.
- ◆ A duração das provas objetiva e de redação é de 4 horas e 30 minutos, já incluído o tempo para o preenchimento da folha de respostas e a transcrição do texto definitivo.
- ◆ Só será permitida a saída definitiva da sala e do prédio após transcorridos 75% do tempo de duração das provas.
- ◆ Ao sair, você entregará ao fiscal o caderno de redação, a folha de respostas e este caderno, podendo levar apenas o rascunho de gabarito, localizado em sua carteira, para futura conferência.
- ◆ Até que você saia do prédio, todas as proibições e orientações continuam válidas.

AGUARDE A ORDEM DO FISCAL PARA ABRIR ESTE CADERNO DE QUESTÕES.



## CONHECIMENTOS GERAIS

### LÍNGUA PORTUGUESA

Leia o texto para responder às questões de números **01** a **05**.

#### *O passado vai nos condenar*

No mundo físico, você sempre pode mudar. Pode mudar de cidade, de aparência, de estilo, de profissão, de opinião. Na internet, não é assim: tudo o que você já fez ou disse fica gravado para sempre. Cada vez mais, usamos a rede para nos relacionarmos uns com os outros. Isso está gerando uma massa de dados tão grande, cobrindo tantos detalhes das nossas vidas, que no futuro será muito difícil de controlar – e poderá nos comprometer. “Nunca mais escreva [na internet] nada que você não queira ver estampado na capa de um jornal”, advertem Cohen e Schmidt, autores do livro *The New Digital Age*.

A internet não esquece nada. E isso afetará a vida de todo mundo. Se uma criança chamar uma colega de “gorda” na rede, por exemplo, poderá manchar a própria reputação pelo resto da vida – pois todo mundo saberá que, um dia, ela praticou *bullying*. Inclusive potenciais empregadores, que poderão deixar de contratá-la. Uma foto ou um comentário poderão trazer consequências por muito tempo. Schmidt diz que a internet deveria ter um botão “delete”, que permitisse apagar para sempre eventuais erros que cometamos online. Isso é muito difícil, pois alguém sempre poderá ter copiado a informação que queremos ver sumir. Mas surgirão empresas especializadas em gerenciar a nossa reputação online, prometendo controlar ou eliminar informações de que não gostamos, e empresas de seguro virtual, que vão oferecer proteção contra roubo de identidade virtual e difamação na internet. “A identidade online será algo tão valioso que até surgirá um mercado negro, em que as pessoas poderão comprar identidades reais ou inventadas”, dizem os autores.

O fim do esquecimento terá consequências profundas – que, para o Google, incluirão até a escolha do nome das pessoas. Alguns casais batizarão seus filhos com nomes bem diferentes, que não sejam comuns, e registrarão esses nomes nas redes sociais antes mesmo do nascimento da criança, tudo para que ela se destaque. Outros preferirão nomes comuns e genéricos, como “José Carlos”, que sejam muito frequentes e tornem mais difícil identificar a pessoa, permitindo que se esconda na multidão e mantenha algum grau de privacidade online.

(Anna Carolina Rodrigues – *Superinteressante*, junho, 2013. Adaptado)

- 01.** De acordo com informações contidas no texto, pode-se afirmar que
- (A) em breve haverá internets nacionais, que determinarão quais informações podem ser colocadas online.
  - (B) a disponibilização de informações comprometedoras na rede poderá manchar a reputação de pessoas.
  - (C) a grande maioria dos casos de *bullying*, hoje, são ocasionados pelo uso indevido da internet.
  - (D) o poder de controle dos dados informados em rede tende a diminuir gradativamente.
  - (E) a identidade online poderá auxiliar para conseguir um bom emprego, pois todas as empresas estarão cadastradas na rede.

- 02.** A internet não esquece nada. (2.º parágrafo). – No texto, a expressão refere-se
- (A) ao número de internautas que acessam a rede.
  - (B) ao excesso de informações contidas no Google.
  - (C) à falta de orientação para acessar os sites na rede.
  - (D) ao número de empresas de seguro virtual.
  - (E) à capacidade de armazenamento de dados da internet.
- 03.** Pela leitura do texto, pode-se concluir que
- (A) os pais escolherão os nomes dos filhos na internet para evitar repetição.
  - (B) qualquer comentário feito por uma criança na rede deve ter o aval dos pais.
  - (C) o tema privacidade deve ser revisto e discutido entre pais e filhos.
  - (D) o *bullying* online é menos prejudicial do que aquele que ocorre diante da pessoa.
  - (E) a internet tem os dias contados, por causa da superexposição de informações.
- 04.** Assinale a alternativa correta, quanto ao uso da pontuação, de acordo com a norma culta.
- (A) Em breve, a nossa reputação online deverá ser controlada para impedir difamações.
  - (B) Cohen e Schmidt, dizem que a internet, não esquece nada.
  - (C) Hoje usamos a rede; para podermos, nos relacionar com alguém.
  - (D) Com o tempo surgirão, empresas, que oferecerão: proteção, contra roubo.
  - (E) A escolha do nome das pessoas, será decidida, pela internet.
- 05.** Em – O fim do esquecimento terá consequências profundas – que, para o Google, incluirão **até** a escolha do nome das pessoas. (3.º parágrafo) – a expressão em destaque pode ser substituída, sem alteração de sentido, por
- (A) por isso.
  - (B) também.
  - (C) porém.
  - (D) logo.
  - (E) aliás.
- 06.** Quanto à regência verbal, de acordo com a norma culta, está correta a alternativa:
- (A) Usar a rede para se comunicar implica de saber gerenciar detalhes da vida das pessoas.
  - (B) Muitas pessoas simpatizam da ideia de que no futuro será muito difícil controlar a massa de dados gerada pela internet.
  - (C) Nem sempre as pessoas obedecem dos princípios de respeito ao outro e praticam *bullying*.
  - (D) Segundo os autores, alguns pais preferirão batizar seus filhos com nomes comuns a escolher nomes diferentes.
  - (E) O controle dos dados da internet visa sobre o bem-estar das pessoas e a liberdade de ação.

07. Assinale a alternativa correta, quanto à colocação pronominal.

- (A) Não se pode mais esquecer de que na internet tudo o que se diz fica gravado para sempre.
- (B) Todos preocupam-se com os eventuais erros cometidos online.
- (C) Talvez possa-se controlar a massa de dados que cobre detalhes de nossas vidas.
- (D) Nos referimos às empresas que vão oferecer proteção contra roubo de identidade virtual.
- (E) Em tratando-se de difamação pela internet, todo cuidado é pouco.

08. Leia as frases.

- I. \_\_\_\_\_ muitos anos que as pessoas usam a rede para se relacionar uns com os outros.
- II. Em breve \_\_\_\_\_ \_\_\_\_\_ muitas empresas especializadas em gerenciar a nossa reputação online.
- III. Essa preocupação com o uso da internet soa \_\_\_\_\_ estranha hoje, mas no futuro talvez não seja.

A alternativa que completa, correta e respectivamente, as lacunas das frases, quanto à concordância verbal e nominal é:

- (A) Fazem ... deverá haver ... meia
- (B) Faz ... deverão haver ... meio
- (C) Faz ... deverá haver ... meio
- (D) Fazem ... deverá haverem ... meio
- (E) Faz ... deverão haver ... meia

09. Assinale a alternativa em que a flexão verbal está em conformidade com a norma culta.

- (A) Mesmo que o uso da internet esteja ocasionando tanta preocupação, ainda assim é importante salientar sua importância.
- (B) Se não se fazer nada para evitar o surgimento de um mercado negro de venda de identidades, estaremos correndo sério perigo.
- (C) A empresa não reaveu as informações acerca dos candidatos.
- (D) O fim do esquecimento terá consequências profundas se não impormos um fim a essa difamação na internet.
- (E) Quando a população vir o resultado dessa falta de controle do uso de dados pela internet, talvez seja muito tarde.

Leia o texto para responder às questões de números 10 a 13.

Miguel Gomes mal completara dois anos quando a Revolução dos Cravos assinalou o fim da ditadura de Salazar e do poderio colonialista português na África. Mas, como muitos de sua geração, o diretor aprenderia a conviver com essa herança pelos olhos e bocas de outros, ao ouvir e tentar entender o que lhe diziam. Uma dessas fontes é a mãe, nascida em Angola. Nunca comungou, contudo, de certo travo saudosista. *Tabu*, seu novo filme, com estreia prevista no Brasil dia 28, tem origem nessa conjugação entre um país antigo idealizado e o presente encantado pelo passado. É, portanto, acerca da memória que o cineasta se expressa, mas não apenas a de uma sociedade. Também a de um determinado cinema perdido, de um ato de narrar e de uma plateia que o aprecie, igualmente desaparecida.

Desse cinema almejado, Gomes nos propõe um filme raro e radical em sua forma, que, no entanto, coteja um tema banal, uma história de amor levada em dois tempos, com um prólogo anticonvencional a apresentá-la em tom fabular. O preto e branco, como em todo o filme, e a ambientação são referências adicionais ao título que remete ao clássico de F. W. Murnau em parceria com o documentarista Robert J. Flaherty.

(Orlando Margarido. *Carta Capital*, 19 de junho de 2013. Adaptado)

10. De acordo com a leitura do texto, pode-se concluir que

- (A) o filme *Tabu* apresenta como tema principal a Revolução dos Cravos.
- (B) Miguel Gomes tentou retratar em seu filme a sociedade portuguesa do século XVIII.
- (C) o cineasta, em seu novo filme, reflete acerca do ideal perdido de Portugal e da arte de filmar.
- (D) o colorido do filme pretende reaver o público desaparecido do cinema português.
- (E) o diretor tem como mote de seu filme a vida de sua mãe em colônias portuguesas na África.






11. Em – Desse cinema almejado, Gomes nos propõe um filme raro e radical em sua forma, que, no entanto, **coteja** um tema banal ... (2.º parágrafo) – o termo em destaque, no contexto em que é empregado, apresenta como sinônimo

- (A) antagoniza.
- (B) examina.
- (C) defende.
- (D) contrapõe.
- (E) caracteriza.

12. Nunca comungou, **contudo**, de um certo travo saudosista. (1.º parágrafo) – A expressão destacada estabelece relação de
- (A) concessão.  
 (B) alternância.  
 (C) temporalidade.  
 (D) adversidade.  
 (E) conclusão.
13. Assinale a alternativa em que a expressão destacada denota sentido de tempo.
- (A) **Nunca** comungou, contudo, de certo travo saudosista.  
 (B) **Mas**, como muitos de sua geração, o diretor aprenderia a conviver com essa herança...  
 (C) É, **portanto**, acerca da memória que o cineasta se expressa...  
 (D) **Também** a de um determinado cinema perdido, de um ato de narrar...  
 (E) O preto e branco, **como** em todo o filme, e a ambientação são referências adicionais ao título...
14. Assinale a alternativa correta quanto ao uso ou não do acento indicativo da crase.
- (A) À partir do filme de Miguel Gomes, é possível conhecer a Revolução dos Cravos.  
 (B) A família do cineasta foi à Angola durante à ditadura salazarista.  
 (C) O diretor nos propõe uma história de amor que, as vezes, apresenta um tom fabular.  
 (D) Nunca assisti à um filme tão interessante!  
 (E) O título do filme remete à obra de F.W. Murnau.
15. Quanto ao uso dos pronomes, a alternativa correta é:
- (A) Entre eu e o diretor não há uma opinião única.  
 (B) Os críticos pediram para eu avaliar o filme *Tabu*.  
 (C) O filme o cujo autor é Miguel Gomes tem estreia prevista para o dia 28 de junho.  
 (D) Este é o filme de que me referi.  
 (E) O diretor deu o ingresso para mim assistir ao filme.

16. Estima-se que o Brasil deve produzir, em 2013, cerca de 11,0 milhões de toneladas de carne bovina. Utilizando a aproximação  $\sqrt{2} = 1,41$  e lembrando que 1 tonelada vale  $10^3$  kg, a produção citada pode ser expressa, aproximadamente, em kg, por
- (A)  $7,8 \cdot 10^8 \cdot \sqrt{2}$ .  
 (B)  $7,8 \cdot 10^9 \cdot \sqrt{2}$ .  
 (C)  $1,56 \cdot 10^8 \cdot \sqrt{2}$ .  
 (D)  $15,6 \cdot 10^8 \cdot \sqrt{2}$ .  
 (E)  $15,6 \cdot 10^9 \cdot \sqrt{2}$ .
17. Observe o gráfico.

**CARNE BOVINA – PRINCIPAIS PRODUTORES EM 2013**

País	Volume (Em milhões de toneladas)	Quanto cresce (2022 sobre 2013)
EUA 	11,5	9%
Brasil 	11,0	11%
União Europeia 	8,0	3%
China 	7,6	15%
Índia 	4,2	21%

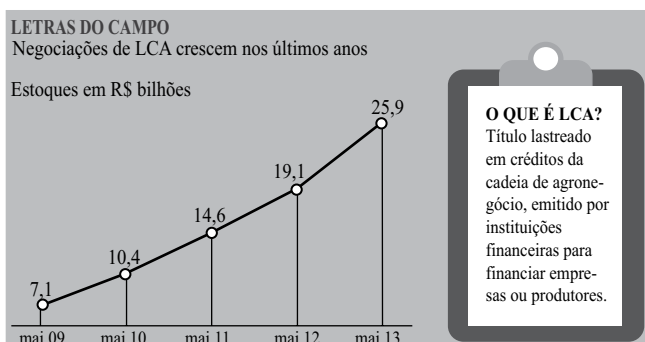
(FAO e OCDE)

O gráfico exposto informa a produção de carne bovina de alguns países em 2013 e projeta o crescimento da produção até o ano de 2022. Comparando-se os dados da produção dos EUA com os do Brasil, é correto afirmar que

- (A) em 2022, a produção brasileira superará a norte-americana em 1,0 milhão de toneladas.  
 (B) em 2022, a produção brasileira superará a norte-americana em 1,1 milhão de toneladas.  
 (C) para se equiparar à produção norte-americana em 2022, a produção brasileira deverá crescer próximo de 12%.  
 (D) para se equiparar à produção norte-americana em 2022, a produção brasileira deverá crescer próximo de 14%.  
 (E) mesmo crescendo 15% até 2022, a produção brasileira não superará a norte-americana.

18. Paulo e André são dois amigos que praticam atividade física juntos. Quando em marcha, Paulo caminha a passos de 90 cm de comprimento, enquanto André, de estatura menor, caminha a passos de 72 cm. Ambos iniciam, simultaneamente, cada um, com seu pé esquerdo, um percurso retilíneo de 360 m, deslocando-se com a mesma velocidade. Este passo inicial é o de número zero na contagem dos passos. Ao final do trajeto, seus pés esquerdos terão tocado o chão, simultaneamente, um número de vezes igual a
- (A) 20.  
 (B) 30.  
 (C) 40.  
 (D) 50.  
 (E) 100.

19. Observe o gráfico.



(CETIP)

O gráfico ilustra o crescimento dos negócios envolvendo letras do campo (LCA). Analisando os dados e projetando um crescimento de maio-2014 sobre maio-2013 na mesma medida do período anterior (maio-2013 sobre maio-2012), conclui-se, corretamente, que o estoque em maio-2014 será, em R\$, de

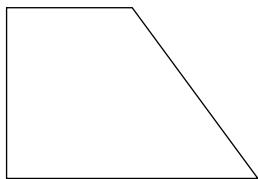
- (A) 32,7 bilhões.  
 (B) 33,7 bilhões.  
 (C) 34,5 bilhões.  
 (D) 34,9 bilhões.  
 (E) 35,9 bilhões.
20. O prédio que abriga a câmara de vereadores de certo município, em reforma, deveria ser entregue a tempo de sediar a cerimônia de posse dos representantes recém-eleitos. Com dois pintores trabalhando 6 horas por dia cada um, o prédio seria entregue pronto em 8 dias. Se fossem contratados 4 pintores para trabalhar 5 horas por dia, com a mesma eficiência, a pintura seria concluída em
- (A) menos de 5 dias.  
 (B) exatos 5 dias.  
 (C) exatos 5,5 dias.  
 (D) exatos 6 dias.  
 (E) mais de 6 dias.

21. A média de idades do plantel de jogadores de um clube de futebol é de 25,5 anos. A tabela mostra a distribuição das idades desses jogadores.

Idade (anos)	20	22	25	27	28	30
Número de jogadores	6	4	3	<b>n</b>	8	5

O número **n** de jogadores com idade de 27 anos é

- (A) 3.  
 (B) 4.  
 (C) 5.  
 (D) 6.  
 (E) 7.
22. Antônio precisa de R\$ 25.000,00 para concluir uma aquisição. O banco lhe oferece o empréstimo dessa quantia a juros simples de 3,0% ao mês. Antônio pretende quitar o empréstimo, de uma só vez, devolvendo ao banco um montante de R\$ 31.000,00. Para tanto, o prazo de empréstimo deverá ser de
- (A) 1 ano e 4 meses.  
 (B) 1 ano e 2 meses.  
 (C) 1 ano.  
 (D) 10 meses.  
 (E) 8 meses.
23. A sala de recepção da câmara de certo município, de  $36 \text{ m}^2$  de área, tem a forma de um trapézio retângulo, em que a parede maior tem o dobro do comprimento da parede menor que lhe é paralela, e a parede que forma ângulo reto com aquelas mede uma vez e meia o comprimento da parede menor.

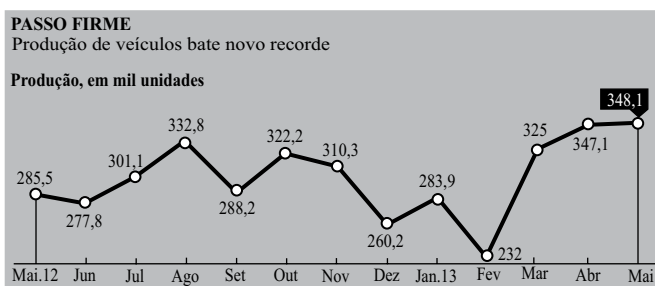


Assim, essas paredes medem, em metros,

- (A) 2,5; 3,75 e 5,0.  
 (B) 3,0; 4,5 e 6,0.  
 (C) 3,5; 4,5 e 6,0.  
 (D) 4,0; 6,0 e 8,0.  
 (E) 5,0; 7,5 e 10,0.

24. Durante a Copa das Confederações realizada no Brasil, em junho passado, os estádios estiveram lotados de torcedores. A maioria era constituída por homens, na razão de 5 homens para 2 mulheres. Se em determinada partida compareceram 63 000 torcedores, os números  $x$  de homens e  $y$  de mulheres foram, respectivamente,
- (A) 40 000 e 23 000.  
 (B) 42 000 e 21 000.  
 (C) 43 500 e 19 500.  
 (D) 45 000 e 18 000.  
 (E) 45 500 e 17 500.

25. O gráfico informa a produção de veículos nacionais no período de maio de 2012 até maio de 2013.



(Anfavea)

Comparando os dados de maio-2012 com maio-2013 conclui-se, corretamente, que o aumento percentual da produção do último mês mostrado sobre o primeiro é mais próximo de

- (A) 20%.  
 (B) 21%.  
 (C) 22%.  
 (D) 23%.  
 (E) 24%.
26. As cotações das moedas real, dólar norte-americano e euro, num certo dia de junho de 2013, foram as seguintes: US\$ 1,00 = R\$ 2,20 e € 1,00 = R\$ 3,00. Um casal de turistas brasileiros, em férias na Itália, pagou € 36,00 por uma refeição. Se tivesse pago em dólares, esse casal teria gasto
- (A) 45,81.  
 (B) 46,43.  
 (C) 47,05.  
 (D) 48,10.  
 (E) 49,09.



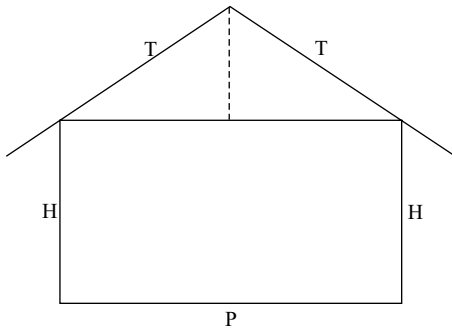
27. O diâmetro de uma bola de boliche é de 16 cm. Supondo que uma dessas bolas, ao ser arremessada, role, sem deslizar, pela pista de 20 m de extensão, o número de voltas que ela completará, em torno de si mesma, ao final do percurso, é mais próximo de

**Dados:** comprimento da circunferência =  $2 \cdot \pi \cdot R$ ,  $R$  = raio da circunferência,  $\pi = 3,1$

- (A) 30.  
 (B) 35.  
 (C) 40.  
 (D) 45.  
 (E) 50.
28. O reservatório que abastece de água uma cidade tem a forma de um cilindro reto, cujo raio da base mede 10 m. A altura da coluna de água quando o reservatório contém três milhões de litros é de

**Dados:** área do círculo =  $\pi \cdot R^2$ ;  $\pi = 3$ ;  $1 \text{ m}^3 = 10^3 \text{ L}$

- (A) 6 m.  
 (B) 8 m.  
 (C) 10 m.  
 (D) 12 m.  
 (E) 15 m.
29. A figura mostra o corte transversal da planta de um salão paroquial em que o comprimento do piso interno P é de 24 m e o do telhado T, de 17 m de cada lado, incluído um trecho do beiral de 1 m. O pé direito do recinto H mede 5 m.



Desprezadas as espessuras das paredes e armações, a altura total da edificação, em relação ao piso P será, em metros, de

- (A)  $5 + 2 \cdot \sqrt{7}$ .  
 (B)  $5 + 4 \cdot \sqrt{7}$ .  
 (C)  $5 \cdot (1 + \sqrt{7})$ .  
 (D)  $5 + \sqrt{14}$ .  
 (E)  $5 + 2 \cdot \sqrt{14}$ .

30. A estante de uma biblioteca tem 1,50 m de comprimento, onde serão dispostos, a partir da esquerda, 5 livros de matemática para o ensino fundamental, seguidos de 3 livros de matemática para o ensino médio, mais 5 livros para o ensino fundamental, seguidos de mais 3 livros para o ensino médio, e assim por diante. Os 5 livros para o ensino fundamental estarão pela ordem: 5.º ano, 6.º ano, 7.º ano, 8.º ano e 9.º ano. Os 3 livros para o ensino médio também estarão pela ordem: 1.ª série, 2.ª série e 3.ª série. Toda a ordenação será da esquerda para a direita. Todos os livros têm a mesma espessura de 2 cm. Desse modo, o último livro, da direita, será um livro para o ensino
- (A) fundamental para o 7.º ano.
  - (B) fundamental para o 8.º ano.
  - (C) fundamental para o 9.º ano.
  - (D) médio para a 1.ª série.
  - (E) médio para a 2.ª série.
33. A ocupação da Praça Taksim no início do mês de junho e os violentos conflitos entre os manifestantes e a repressão governamental fazem parte da intensa insatisfação de diferentes setores da sociedade com as medidas de caráter
- (A) autoritário e antidemocrático tomadas pelo governo turco liderado pelo Primeiro Ministro Tayyip Erdogan, no poder desde 2002.
  - (B) opressor, propostas pelo governo de coalizão do Iraque apoiado pelos Estados Unidos desde a queda do ditador Saddam Hussein.
  - (C) fundamentalista, tomadas pelas lideranças religiosas talebans do Afeganistão após o início da retirada das tropas norte-americanas.
  - (D) ditatorial, apoiadas pelo recém-eleito governo argelino após o pleno êxito da Primavera Árabe.
  - (E) inconstitucionais, tomadas pelo governo comandado pelo presidente Mohamed Morsi, líder da Irmandade Muçulmana.

### ATUALIDADES






31. Em palestra proferida no XIII Congresso Brasileiro de Direito do Estado, realizado em Salvador, o mais novo membro do STF, indicado pela presidenta Dilma Rousseff para ocupar a vaga deixada pelo Ministro Carlos Ayres Brito, utilizou a expressão “cada um no seu quadrado” para defender a harmonia entre os três poderes.
- O advogado em questão é
- (A) Joaquim Barbosa.
  - (B) Michel Temer.
  - (C) Luis Roberto Barroso.
  - (D) Luis Eduardo Cardozo.
  - (E) Ricardo Lewandowski.
32. Considerado moderado, Hassan Rohani causou surpresa ao vencer o pleito presidencial já no primeiro turno, contabilizando 50,68% dos votos. Com a vitória, Rohani assumirá a presidência
- (A) da Síria, sucedendo o presidente deposto pela revolta popular, Bashar al-Assad.
  - (B) do Egito, sucedendo o ditador Hosni Mubarak, deposto pela Primavera Árabe.
  - (C) da Líbia, ocupando o posto deixado pelo ditador Muammar Kadafi.
  - (D) do Iraque, ocupando o lugar do líder religioso Aiatolá Ali Khamenei.
  - (E) do Irã, sucedendo o presidente de caráter conservador Mahmoud Ahmadinejad.
34. Uma das maiores promessas do governo Lula, cujo objetivo era ligar o Piauí aos portos de Pacém no Ceará e Suape em Pernambuco, ainda não chegou nem à metade e deverá ser entregue somente em 2015. Do mesmo modo, além do grande atraso no cronograma, o orçamento passou de 4,5 para 7,5 bilhões de reais.
- A obra em questão é a
- (A) transposição do Rio São Francisco.
  - (B) construção da Ferrovia Transnordestina.
  - (C) recuperação da Rodovia Transamazônica.
  - (D) construção do Canal de Alumar.
  - (E) construção da Ferrovia Norte-Sul.
35. Após a morte do presidente Hugo Chaves em 05 de março de 2013, uma nova eleição foi realizada na Venezuela, contrapondo, respectivamente, o herdeiro político do Chavismo e seu principal opositor. O resultado do pleito realizado em 14 de abril de 2013 foi a vitória
- (A) esmagadora do principal líder opositor, Álvaro Uribe, sobre Ollanta Humala.
  - (B) apertada do líder opositor Sebastián Piñera sobre o governista Rafael Correa.
  - (C) fraudulenta do candidato chavista José Mujica sobre o opositor Álvaro Uribe.
  - (D) apertada de Nicolás Maduro, sobre o líder da oposição Henrique Capriles.
  - (E) fraudulenta do líder bolivariano Evo Morales sobre o opositor Federico Franco.

36. A Comissão de Ética Pública da Presidência da República abriu no dia 17.06.2013 um processo para analisar a acumulação de cargos de Ministro da Secretaria da Micro e Pequena Empresa e Vice-Governador do Estado de São Paulo.
- O político analisado pela Comissão na presente data, por acumular os cargos citados, foi
- (A) Celso Russomanno do PP.
  - (B) Guilherme Afif Domingos do PSD.
  - (C) Aloysio Nunes do PSDB.
  - (D) Aloizio Mercadante do PT.
  - (E) Gilberto Kassab do PSD.
37. O prefeito de São Paulo, Fernando Haddad (PT), afirmou na sexta-feira, dia 14.06, em entrevista à *Globo News*, que “não pegou bem” para a Polícia Militar a repressão aplicada durante o protesto de manifestantes que ocuparam as ruas da região central da capital paulista na noite de 13.06.
- O estopim para a deflagração de uma onda de manifestações populares que começaram a ser realizadas em São Paulo e, em curto espaço de tempo, se alastraram para algumas das principais cidades do país foi
- (A) a comprovação das denúncias de superfaturamento na construção dos estádios que sediaram os jogos da Copa das Confederações.
  - (B) a recusa da câmara federal em colocar em discussão a legalização do uso da maconha.
  - (C) a demora do Supremo Tribunal Federal para determinar a prisão dos condenados pelo escândalo do mensalão.
  - (D) o aumento do preço das tarifas de ônibus e metrô na capital paulista.
  - (E) a aprovação, pelo Congresso Nacional, da ampliação do poder de investigação do Ministério Público, mais conhecida como PEC 22.
38. Logo que foi eleito presidente da Comissão de Direitos Humanos e Minorias (CDHM) da Câmara, no mês de março de 2013, o deputado federal Marco Feliciano (PSC-SP) passou a enfrentar uma série de manifestações, de diferentes setores da sociedade brasileira, que exigiam o seu desligamento imediato do cargo. O motivo de tais manifestações diz respeito
- (A) a uma série de declarações de caráter homofóbico e racistas proferidas pelo deputado nos últimos tempos.
  - (B) a defesa enfática que tem feito na câmara federal pela legalização do aborto e do casamento gay.
  - (C) ao seu envolvimento no escândalo do mensalão, que resultou em sua condenação pelo Supremo Tribunal Federal.
  - (D) ao fato de se recusar a abrir processo contra os torturadores indiciados pela Comissão da Verdade.
  - (E) às recentes investigações da Polícia Federal que apontam seu envolvimento com a exploração do trabalho escravo em fazendas do Pará.
39. Por volta das 19h05 (15h05 pelo horário de Brasília) do dia 13.03.2013 a chaminé da Capela Sistina expeliu a tão esperada fumaça branca, anunciando ao mundo que o novo Papa havia sido escolhido. Assim sendo, o sucessor do Papa Bento XVI que assumiu o pontificado com o nome de Papa Francisco é o Cardeal
- (A) uruguaio José Hidalgo Bermudez.
  - (B) argentino Antonio Carracino.
  - (C) argentino Jorge Mario Bergoglio.
  - (D) uruguaio Juan Roman Barbieri.
  - (E) argentino Julio Leonardo Sardi.
40. Como resultado da reunião do COPOM (Comitê de Política Monetária), realizada entre os dias 28 e 29 de maio de 2013, tivemos a elevação da taxa básica de juros, Selic, em 0,5%, para 8,00% ao ano. Tal medida teve como objetivo principal
- (A) estimular o crescimento do consumo interno.
  - (B) favorecer as exportações brasileiras.
  - (C) baratear o financiamento dos bens de consumo duráveis.
  - (D) reduzir o rendimento da caderneta de poupança.
  - (E) combater a tendência de crescimento da inflação.

41. Em uma planilha do MS-Excel 2010, a partir da sua configuração padrão, que está sendo editado, conforme é mostrado na figura, o resultado da fórmula  
 $=SE(SOMA(A1:C2)/\$B\$3 < 8; MÉDIA(A1:C1);A\$1^2)$   
 a ser aplicada na célula C4 será:

	A	B	C	D
1	2	3	4	7
2	4	5	6	8
3	10	12	14	8
4				

- (A) 5  
 (B) 4  
 (C) 3  
 (D) 2  
 (E) 1
42. Em uma apresentação do MS-PowerPoint 2010, a partir da sua configuração padrão, a partir da guia Revisão, o ícone que permite adicionar um novo comentário é:

- (A) 
- (B) 
- (C) 
- (D) 
- (E) 

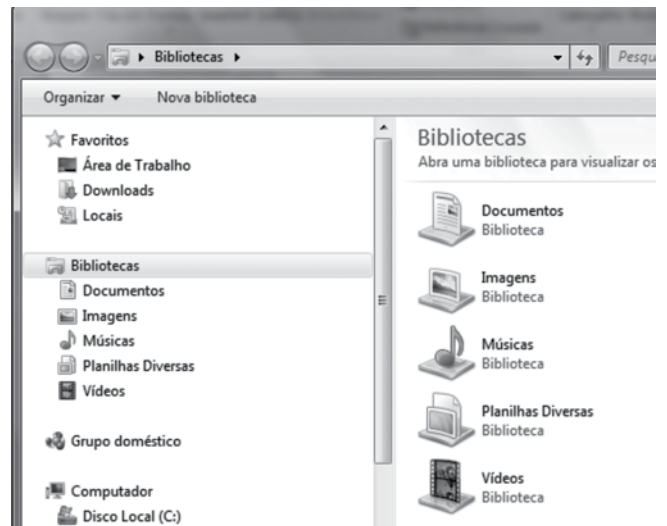
43. Em um documento que está sendo editado no MS-Word 2010, a partir da sua configuração padrão, como é mostrado na figura, a palavra “colocada” foi selecionada e aplicado o efeito tachado.

A questão foi colocada para o aluno.

Assinale a alternativa que apresenta como ficará a palavra colocada, após aplicado esse efeito.

- (A) colocada  
 (B) COLOCADA  
 (C) C o l o c a d a |  
 (D) COLOCADA  
 (E) colocada

44. No MS-Windows 7, a partir da sua configuração padrão, a figura ilustra o Windows Explorer de um computador.



A sequência de ações a partir do Windows Explorer para mostrar arquivos, pastas e unidades ocultas é:

- (A) Clicar em “Organizar”, selecionar “Opções de pasta e pesquisa”, clicar na aba “Modos de Exibição” e ativar a opção “Mostrar arquivos, pastas e unidades ocultas”.
- (B) Clicar em “Organizar”, selecionar “Opções de pasta e pesquisa”, clicar na aba “Geral” e ativar a opção “Mostrar arquivos, pastas e unidades ocultas”.
- (C) Clicar em “Organizar”, selecionar “Layout”, clicar na aba “Geral” e ativar a opção “Mostrar arquivos, pastas e unidades ocultas”.
- (D) Clicar em “Organizar”, selecionar “Layout”, clicar na aba “Modos de Exibição” e ativar a opção “Mostrar arquivos, pastas e unidades ocultas”.
- (E) Clicar em “Organizar”, selecionar “Modos de Exibição”, clicar na aba “Geral” e ativar a opção “Mostrar arquivos, pastas e unidades ocultas”.
45. Assinale a alternativa correta com relação ao processo de elaboração de um e-mail.
- (A) Os arquivos anexados no e-mail devem ser sempre compactados.
- (B) Para manter os e-mails dos destinatários ocultos, deve ser sempre utilizado o campo “Cc”.
- (C) O campo “Assunto” deve ser sempre preenchido com letra maiúscula.
- (D) O formato do e-mail do destinatário deve ser sempre no formato: nome.destinatario@@dominio.com
- (E) O e-mail recebido, como “boa prática”, deve ser verificado se contém vírus.

## LEGISLAÇÃO

46. Em relação ao que dispõe a Lei Orgânica do Município de Bragança Paulista sobre o Poder Legislativo, é correto afirmar:
- (A) cabe à Câmara Municipal, com a sanção do Presidente da Mesa, dispor sobre matérias de competência do Município, especialmente, legislar sobre o Plano Diretor.
  - (B) cabe à Câmara Municipal deliberar, mediante resolução, sobre assuntos de sua economia interna e nos demais casos de sua competência privativa, por meio de decreto legislativo.
  - (C) o Vereador poderá licenciar-se para tratar de interesses particulares, por prazo determinado, nunca superior a trinta dias, podendo reassumir antes do término da licença.
  - (D) as sessões solenes da Câmara Municipal serão públicas, e não poderão ser realizadas fora do recinto da Câmara.
  - (E) as sessões extraordinárias serão convocadas pelo Presidente da Câmara Municipal, sendo obrigatória, em qualquer caso, a comunicação pessoal e escrita aos vereadores, com antecedência máxima de doze horas.
47. O voto dos membros da Câmara Municipal de Bragança Paulista será sempre público, excetuando-se o caso de
- (A) votação de veto aposto pelo Prefeito.
  - (B) votação de lei para concessão de qualquer honraria.
  - (C) aprovação da lei orçamentária semestral.
  - (D) deliberação das concessões de serviço público.
  - (E) deliberação sobre a delimitação do perímetro urbano.
48. De acordo com o Regimento Interno da Câmara Municipal de Bragança Paulista, as comissões são permanentes e temporárias. A respeito do assunto, assinale a alternativa correta.
- (A) No exercício de suas atribuições, as comissões não poderão convidar pessoas interessadas, solicitar informações e proceder a diligências.
  - (B) As comissões permanentes, compostas cada uma delas por sete membros, são formadas para atuar durante um ano em cada legislatura.
  - (C) As comissões temporárias serão constituídas com finalidades especiais ou de representação a se extinguirem com o término da legislatura ou, antes dela, quando preenchidos os fins para os quais foram constituídas.
  - (D) Para as comissões temporárias especiais, o Prefeito indicará os vereadores que as comporão, assegurando-se, obrigatoriamente, a representação proporcional partidária.
  - (E) As comissões temporárias de representação serão constituídas por decreto do Prefeito, ou a requerimento subscrito por um terço dos membros da Câmara, e terão por finalidade representar a Câmara em atos externos de caráter social.
49. As sessões da Câmara Municipal da Estância de Bragança Paulista
- (A) serão sempre fechadas.
  - (B) não poderão ser prorrogadas.
  - (C) terão a duração de seis horas.
  - (D) quando ordinárias, não comportam assuntos de interesse pessoal.
  - (E) quando secretas, as suas atas serão lacradas.
50. Projeto de decreto legislativo é a proposição destinada a regular matéria que exceda os limites de economia interna da Câmara Municipal de Bragança Paulista, dentre elas, a
- (A) perda de mandato do Vereador.
  - (B) fixação da verba de representação do Presidente da Câmara.
  - (C) elaboração e reforma do Regimento Interno.
  - (D) aprovação ou rejeição das contas do Prefeito.
  - (E) organização dos serviços administrativos.

Leia os textos I, II e III.

TEXTO I

Companhias promovem ações para estimular consciência ambiental e reduzir o impacto de suas produções no meio ambiente; mercado brasileiro já é o segundo no ranking mundial de consumo sustentável.

Sejam públicas ou privadas, grandes empresas brasileiras já encabeçam ações de sustentabilidade com reconhecimento internacional.

Desde a última década, a sustentabilidade faz parte da agenda das principais empresas brasileiras públicas e privadas.

Os gestores do país já entendem que a adoção de soluções sustentáveis e ecologicamente responsáveis são cruciais não apenas para melhorar a imagem de suas empresas, como também para aumentar a competitividade e rentabilidade dos negócios.

Não à toa que seis em cada dez empresas nacionais sentem que as mudanças climáticas já produzem impacto diário em sua cadeia produtiva. Os dados são de estudo acerca do tema conduzido pelo Instituto Ilos, especializado em logística empresarial. Ainda segundo esse levantamento, quase metade das empresas brasileiras já possui políticas específicas para o setor de sustentabilidade.

As empresas acreditam que dois em cada três clientes já exigem soluções mais verdes para os serviços que contratam ou produtos que consomem.

(Disponível em: <http://revista.brasil.gov.br/especiais/rio20/desenvolvimento-sustentavel/sustentabilidade--nas-empresas-brasileiras>. Acesso em: 24.06.2013)

TEXTO II



Como todos sabem, ou deveriam saber, a Sustentabilidade é o termo usado para o ato em que o ser humano visa suprir as necessidades atuais sem comprometer o futuro das próximas gerações. Em outras palavras, é o ato de usufruir do que temos agora, mas economizando para nossos futuros filhos, netos e bisnetos.

A Sustentabilidade se aplica principalmente ao desenvolvimento econômico e material sem agredir o meio ambiente. De que forma? Usando os recursos naturais de forma o mais inteligente possível para que estes se mantenham no futuro. Além de ser uma forma de garantir em longo prazo um planeta com boas condições de vida, este por sua vez alonga o desenvolvimento humano e também o de outras espécies.

Na administração, as práticas de Sustentabilidade são muito comuns hoje em dia, com o considerável aumento da parcela da população que se preocupa com o meio ambiente. O aumento dessa preocupação traz à tona um novo grupo de consumidores em potencial, e é a este grupo que as empresas visam atingir.

Porém, por ser um tema altamente amplo e muito falado, o conceito e a ideia de Sustentabilidade vêm atingindo todos os tipos de públicos e mudando conceitos, o que é positivo se pararmos para analisar as estatísticas da quantidade de pessoas que se importavam há 30 anos e as que se importam agora.

O marketing verde tornou possível a expansão de uma nova ideologia voltada para a preservação do planeta e isso, por sua vez, tornou-se uma importante arma publicitária.

Daniela Gomes

(Disponível em: [http://sustentabilidades.com.br/index.php?option=com\\_content&view=article&id=274&catid=3](http://sustentabilidades.com.br/index.php?option=com_content&view=article&id=274&catid=3). Acesso em: 23.06.2013)

TEXTO III

*Empresas podem ser obrigadas a publicar impacto ambiental*

Alguns problemas de sustentabilidade global estão certamente associados a falhas de mercado.

Deixadas inteiramente livres, a maioria das empresas continuará emitindo e poluindo, como fizeram até agora, por mais tempo do que seria suportável, com efeitos devastadores para o ambiente natural, a saúde humana e o clima. Portanto, a regulação para coibir e corrigir impactos ambientais é necessária.

Uma outra parte dos problemas de sustentabilidade se explica por uma estrutura de incentivos e desincentivos com o sinal errado. Tem a ver com práticas não sustentáveis de políticas públicas e que exigem correção. Por isso se torna tão necessário que os países assumam compromissos ambientais multilaterais vinculantes sobre mudança climática e sustentabilidade, com metas de desempenho públicas, quantificadas e verificáveis.

Por meio de políticas públicas, incentivos (vantagens fiscais e de crédito) encorajam práticas pouco sustentáveis, e desincentivos (custos tributários e financeiros) desencorajam a adoção de práticas sustentáveis. É preciso que os países concordem em mudar o sinal de sua estrutura de incentivos, com práticas sustentáveis e desincentivando práticas insustentáveis, para redirecionar o processo econômico rumo à economia verde.

Muitas empresas têm relatórios que chamam de responsabilidade social e ambiental. A maioria é puro marketing. Divulgação das maravilhas que as empresas fazem na área social e ambiental, em geral fora de suas atividades, adoção de escolas, criação de reservas naturais. Isso é ótimo e necessário, mas é filantropia, não é sustentabilidade. Sustentabilidade é desempenho real, com indicadores quantitativos dos impactos negativos e positivos, emissões de gases estufa e outros poluentes, sobre o destino de seus produtos ao serem descartados. Tudo medido em todo o ciclo do produto, desde a extração, produção e transporte da matéria-prima, passando pela produção e comercialização do produto final, até seu consumo e descarte.

Sergio Abranches. Adaptado

(Disponível em: <http://www.ecopolitica.com.br/2012/02/02/empresas-podem-ser-obrigadas-a-publicar-relatorios-de-desempenho-ambiental/>. Acesso em: 17.07.2013)

A partir da leitura dos textos I, II e III, elabore um texto dissertativo, na modalidade culta da Língua Portuguesa, com o seguinte tema:

**SUSTENTABILIDADE EMPRESARIAL E RESPONSABILIDADE SOCIAL: ALGUNS DESAFIOS.**



PCI Concursos