

PREFEITURA MUNICIPAL DE BARRETOS
ESTADO DE SÃO PAULO

CONCURSO PÚBLICO

003. PROVA OBJETIVA

AUXILIAR DE CONSULTÓRIO DENTÁRIO

- ◆ Você recebeu sua folha de respostas e este caderno contendo 50 questões objetivas.
- ◆ Confira seus dados impressos na capa deste caderno e na folha de respostas.
- ◆ Quando for permitido abrir o caderno, verifique se está completo ou se apresenta imperfeições. Caso haja algum problema, informe ao fiscal da sala.
- ◆ Leia cuidadosamente todas as questões e escolha a resposta que você considera correta.
- ◆ Marque, na folha de respostas, com caneta de tinta preta, a letra correspondente à alternativa que você escolheu.
- ◆ A duração da prova é de 3 horas, já incluído o tempo para o preenchimento da folha de respostas.
- ◆ Só será permitida a saída definitiva da sala e do prédio após transcorridos 75% do tempo de duração da prova.
- ◆ Deverão permanecer em cada uma das salas de prova os 3 últimos candidatos, até que o último deles entregue sua prova, assinando termo respectivo.
- ◆ Ao sair, você entregará ao fiscal a folha de respostas e este caderno, podendo levar apenas o rascunho de gabarito, localizado em sua carteira, para futura conferência.
- ◆ Até que você saia do prédio, todas as proibições e orientações continuam válidas.

AGUARDE A ORDEM DO FISCAL PARA ABRIR ESTE CADERNO DE QUESTÕES.

Nome do candidato _____

RG _____

Inscrição _____

Prédio _____

Sala _____

Carteira _____

CONHECIMENTOS GERAIS

LÍNGUA PORTUGUESA

Leia o texto para responder às questões de números **01** a **09**.

O combate ao Aedes sob a ótica dos determinantes sociais da saúde

Mobilizar a população para combater os focos de reprodução do mosquito *Aedes aegypti* é fundamental para evitar possíveis epidemias de dengue, zika e chikungunya. Essa ação, no entanto, pode ser **potencializada** se estiver integrada a outras políticas, isto é, integrada às condições sociais em que as pessoas vivem e trabalham, aí incluídos fatores econômicos, ambientais e culturais, entre outros.

Pesa muito a questão do planejamento urbano. Uma cidade que evolui de forma planejada é capaz de oferecer serviços e garantir direitos a sua população com mais facilidade e qualidade, não apenas na saúde, mas também em outras áreas.

Além disso, o desequilíbrio ambiental e as conseqüentes mudanças climáticas são outros macrofatores relacionados a possíveis epidemias de dengue. O aumento de temperatura e a maior ocorrência de fenômenos climáticos, como chuvas fortes, formam um cenário ideal para a proliferação do mosquito. Por isso, a educação ambiental, assim como a educação, em sentido amplo, geram estratégias para a realização de ações intersetoriais. Importante frisar também que a mobilização da população e o incentivo a mudanças de comportamento representam oportunidades para trabalhar valores de solidariedade e fortalecer os laços comunitários.

(www.multirio.rio.rj.gov.br, acessado em 06.09.2019. Adaptado)

01. Interpretando-se o título – O combate ao *Aedes* sob a ótica dos determinantes sociais da saúde – em relação ao contexto, conclui-se que

- (A) a reprodução do *Aedes* independe das condições ambientais das cidades.
- (B) o vírus *Aedes* não se relaciona com os fatores sociais da saúde.
- (C) o combate ao vírus *Aedes* tem melhores resultados nos centros urbanos.
- (D) as causas sociais da saúde interferem na proliferação do vírus *Aedes*.
- (E) os determinantes sociais da saúde são irrelevantes no combate ao *Aedes*.

02. Segundo o texto, pode-se combater o *Aedes* com

- (A) a adoção de ações intersetoriais, além dos cuidados com o meio ambiente.
- (B) o oferecimento de serviços à população urbana e com a estética das cidades.
- (C) a ocorrência de alterações de temperatura e de chuvas fortes e constantes.
- (D) o aumento de renda e o incentivo ao poder de compras das pessoas.
- (E) os programas de saúde separados de outros setores sociais da saúde.

03. De acordo com o texto, uma população mobilizada

- (A) adota estratégias próprias desconectadas das políticas públicas.
- (B) cria uma visão ampla de como manipular os cuidados com a saúde.
- (C) demonstra amadurecimento político e discorda de ações sociais.
- (D) desenvolve atitudes comportamentais saudáveis e humanizadas.
- (E) desmobiliza a administração pública quanto a ações inadequadas.

04. A palavra “potencializada”, em destaque no primeiro parágrafo, pode ser substituída, sem alteração de sentido, por

- (A) desfigurada.
- (B) decisiva.
- (C) reforçada.
- (D) prejudicada.
- (E) regulamentada.

05. Assinale a alternativa que completa corretamente a frase, de acordo com o uso do acento indicativo da crase.

Não se combate o vírus *Aedes* se as políticas de saúde não ...

- (A) estiverem atentas à programas de educação ambiental.
- (B) estiverem voltadas à fatores climáticos.
- (C) absorverem às questões de planejamento urbano.
- (D) garantirem à população qualidade de vida.
- (E) identificarem às causas das epidemias.

06. Substituindo-se as expressões em destaque na frase – Mobilizar a população para combater **os focos de reprodução do Aedes** é o que cabe **ao poder público**. – por um pronome pessoal, de acordo com a norma-padrão, obtém-se versão correta em:

- (A) Mobilizar a população para combater-lhes é o que cabe a ele.
- (B) Mobilizar a população para combater eles é o que lhe cabe.
- (C) Mobilizar a população para combatê-los é o que o cabe.
- (D) Mobilizar a população para combater-lhes é o que lhe cabe.
- (E) Mobilizar a população para combatê-los é o que lhe cabe.

07. Assinale a alternativa correta, de acordo com o padrão de concordância verbal e nominal.

- (A) Se forem mobilizadas, as populações urbanas contribuem para que se fortaleçam os laços comunitários de solidariedade.
- (B) Programas educativo sobre questões ambientais provoca sempre polêmicas, nem sempre razoável.
- (C) Importa muito as questões de planejamento urbano para erradicação de doenças epidêmica que afetam a saúde da população, à mercê do descasos da administração pública.
- (D) Possíveis epidemias de dengue, zika e chikungunya poderiam ser erradicada se o poder público dispensassem mais atenção à saúde.
- (E) Os fatores econômicos, ambientais, somado aos culturais, se forem integrado às políticas de saúde pública, potencializa o bem-estar da população.

08. A alternativa que completa, correta e respectivamente, as lacunas da frase, quanto ao emprego do pronome e da conjunção - Centros urbanos _____ o planejamento é precário estão sujeitos à proliferação de epidemias, _____ o poder público for negligente.- é:

- (A) onde ... depois que
- (B) nos quais ... caso
- (C) no qual ... conforme
- (D) que ... se
- (E) dos quais ... assim que

09. Assinale a alternativa em que a palavra em destaque na segunda frase altera o sentido da frase anterior.

- (A) Importante frisar que a mobilização da população permite trabalhar valores de solidariedade./Importante **acentuar** que a mobilização da população permite trabalhar valores de solidariedade.
- (B) O aumento de temperatura e as chuvas fortes formam o cenário ideal para a proliferação do mosquito./O aumento de temperatura e as chuvas fortes **descharacterizam** o cenário ideal para a proliferação do mosquito.
- (C) Mobilizar a população para combater os focos de reprodução do *Aedes aegypti* é fundamental para evitar epidemias de dengue./Mobilizar a população para combater os focos de reprodução do *Aedes aegypti* é **determinante** para evitar epidemias de dengue.
- (D) Pesa muito a questão do planejamento urbano./É **crucial** a questão do planejamento urbano.
- (E) Uma cidade que evolui de forma planejada é capaz de garantir direitos a sua população./Uma cidade que evolui **ordenadamente** é capaz de garantir direitos a sua população.

Leia as frases do cartum para responder às questões de números 10 e 11.

CONVERSANDO COM O MOSQUITO. QUEM SABE ELE NÃO DEMONSTRA MAIS SENSIBILIDADE DO QUE AS AUTORIDADES, LHE DÁ OUVIDOS E ATENDE A SEUS APELOS? NÃO CUSTA TENTAR.



(Miguel Paiva. O Globo)

10. Reescrevendo as frases do cartum, obtém-se versão correta, quanto à conjugação verbal, em:

- (A) Talvez o mosquito demonstra mais sensibilidade, lhe dá ouvidos e atende a seus apelos.
- (B) Talvez o mosquito demonstra mais sensibilidade, lhe dá ouvidos e atenda a seus apelos.
- (C) Talvez o mosquito demonstre mais sensibilidade, lhe dá ouvidos e atenda a seus apelos.
- (D) Talvez o mosquito demonstre mais sensibilidade, lhe dê ouvidos e atenda a seus apelos.
- (E) Talvez o mosquito demonstra mais sensibilidade, lhe dê ouvidos e atende a seus apelos.

11. Retomando o diálogo entre o *Aedes* e o homem, assinale a frase correta quanto à norma de colocação pronominal.

- (A) O que custa-lhe tentar?
- (B) As autoridades não dão-lhe ouvidos?
- (C) Se as autoridades lhe dessem ouvidos, eu estaria perdido.
- (D) As autoridades nunca sensibilizam-se.
- (E) Se apela sempre para as autoridades.

Leia o poema de Manoel de Barros para responder às questões de números **12** e **13**.

O idioma das árvores

Eu queria aprender
O idioma das árvores.
Saber as canções do vento
Nas folhas da tarde.

Eu queria apalpar os perfumes do sol.
Sentado numa pedra
No mais alto do rochedo
Aquele gavião
Se achava principal:
Mais principal que todos.
Tem gente assim

(<http://www.crianceiras.com.br>, acessado em 06.09.2019)

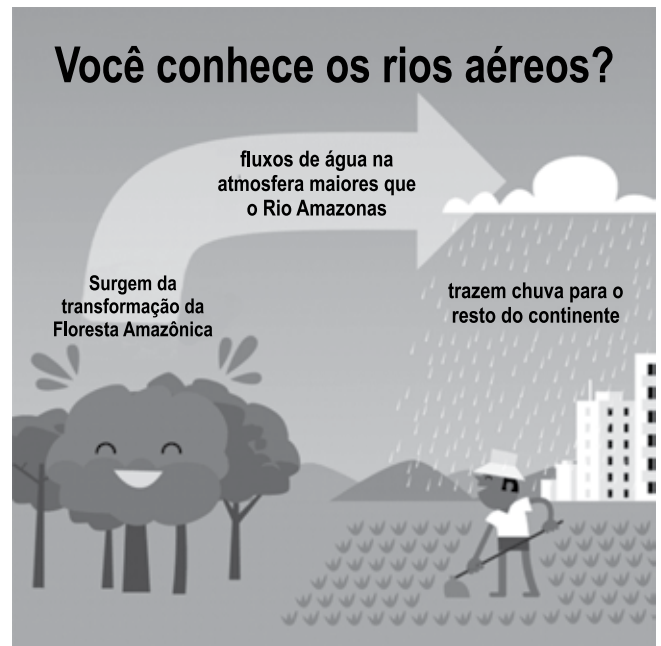
12. Interpretando-se o poema, conclui-se que o eu lírico

- (A) superpõe-se à natureza com a qual não se harmoniza.
- (B) aborda cientificamente os elementos da natureza.
- (C) procura humanizar os elementos da natureza.
- (D) aparta-se de tudo que lhe pareça artificial.
- (E) percebe que o ambiente natural lhe é hostil.

13. Sobre o gavião, é possível considerar que, no conjunto do poema, a ave

- (A) é espécie agressiva e, sentado sobre uma pedra, está pronto para o ataque.
- (B) compõe o painel dos seres vivos, mas nada representa no conjunto.
- (C) revela a intenção do eu lírico em dar uma lição de moral.
- (D) integra o universo do eu lírico que, por ser solitário, vive nas alturas.
- (E) personifica o esnobismo do ser humano, por isso está no alto do rochedo.

Observe a figura para responder às questões de números **14** e **15**.



(www.arvoresertecnologico.tumblr.com, acessado em 09.09.2019)

14. As frases reescritas, a partir da figura, apresentam versão correta quanto à pontuação em:

- (A) O que são rios aéreos, brasileiros? Maiores que o Rio Amazonas, são fluxos de água que surgem da transpiração da Floresta Amazônica.
- (B) Você sabem, brasileiros o que são, rios aéreos? Fluxos de água, maiores que o rio Amazonas, surgem da transpiração da floresta Amazônica.
- (C) Vocês sabem o que são rios aéreos, brasileiros? Surgem da transpiração da Floresta, Amazônica e são, maiores que o rio Amazonas.
- (D) Brasileiros, vocês, sabem o que são, rios aéreos, os fluxos de água que surgem da transpiração da Floresta Amazônica e são, maiores que o rio Amazonas?
- (E) Brasileiros o que são rios aéreos? Maiores, que o Rio Amazonas, são os fluxos de água que surgem da transpiração, da Floresta Amazônica.

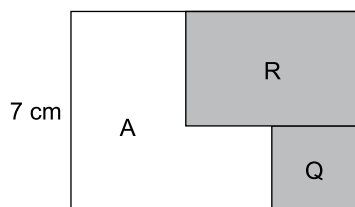
15. Em “rios aéreos” há emprego de sentido figurado, o que ocorre também com a mesma palavra na alternativa:

- (A) Qualquer mãe poderia facilmente desempenhar o papel de vários controladores do tráfego aéreo.
- (B) Não há caos aéreo. Os problemas ocorrem pelo aumento do fluxo. É a prosperidade chegando ao país.
- (C) Os confrontos navais, terrestres e aéreos têm uma coisa em comum: o derramamento de sangue.
- (D) Não houve aumento das passagens aéreas, por causa da concorrência entre as empresas.
- (E) “Um poema é um castelo aéreo, constituído pelo espírito no coração do homem”.

16. Em sua última compra, Renato gastou, em produtos perecíveis, 70% do valor gasto em produtos não perecíveis. O valor total dessa compra foi R\$ 799,00, sendo que o valor gasto em produtos perecíveis foi
- (A) R\$ 287,00.
(B) R\$ 301,00.
(C) R\$ 315,00.
(D) R\$ 329,00.
(E) R\$ 343,00.
17. Em um grupo de turistas, a razão entre o número dos que sabem nadar e o número dos que não sabem nadar é $\frac{7}{3}$.
Se o total de turistas nesse grupo é igual a 180, o número deles que sabem nadar é
- (A) 98.
(B) 105.
(C) 112.
(D) 119.
(E) 126.
18. A construção de uma cerca foi feita em dois dias. No primeiro dia, 6 pessoas, trabalhando por 4 horas, colocaram 8 km de cerca. No segundo dia, 15 pessoas, com a mesma força de trabalho das primeiras, colocaram 20 km de cerca em
- (A) 4 horas.
(B) 4 horas e 30 minutos.
(C) 5 horas.
(D) 5 horas e 30 minutos.
(E) 6 horas.
19. Antônio e Adriana colecionam selos. A quinta parte do número de selos de Antônio somado com 212 é igual a três oitavos do total de selos de Adriana subtraído de 103. Sabendo que Adriana tem 581 selos a mais que Antônio, o total de selos que os dois têm, juntos, é
- (A) 1505.
(B) 1555.
(C) 1625.
(D) 1640.
(E) 1691.

20. Alessandro guardou sua coleção de moedas em 4 potes. No primeiro pote colocou dois nonos das moedas e no segundo pote três quintos das moedas. No terceiro pote ele guardou um terço das moedas restantes e no quarto pote guardou 128 moedas. O total de moedas dessa coleção é
- (A) 1080.
(B) 1215.
(C) 1350.
(D) 1485.
(E) 1620.
21. A preparação de 20 alunos para uma prova foi a seguinte: 8 alunos estudaram, cada um, por 2 horas e 25 minutos; 5 alunos estudaram, cada um, por 1 hora e 22 minutos; os demais alunos estudaram, cada um, por 99 minutos. A soma dos tempos de estudo desses 20 alunos é igual a
- (A) 36 horas e 45 minutos.
(B) 37 horas e 43 minutos.
(C) 38 horas e 47 minutos.
(D) 39 horas e 49 minutos.
(E) 40 horas e 41 minutos.
22. A média dos salários de Abel, Caio e Eduardo é R\$ 2.022,00. Abel ganha o dobro do que ganha Caio, e Eduardo ganha R\$ 280,00 a menos do que Abel. O salário de Caio é
- (A) R\$ 1.122,40.
(B) R\$ 1.269,20.
(C) R\$ 1.335,80.
(D) R\$ 1.410,00.
(E) R\$ 1.580,60.

23. Um retângulo de 70 cm^2 de área foi dividido em 3 regiões; uma região quadrada Q, uma região retangular R e uma região A, conforme mostra a figura.



Sabendo que a área da região Q é 9 cm^2 e a área da região R é 24 cm^2 , o perímetro da região A é

- (A) 24 cm.
(B) 26 cm.
(C) 28 cm.
(D) 30 cm.
(E) 32 cm.

ATUALIDADES

24. Foi aprovada na quarta-feira (21.08.19) à noite, pelo Senado, a Medida Provisória (MP) da Liberdade Econômica, que pretende, segundo o governo, diminuir a burocracia e facilitar a abertura de empresas, principalmente de micro e pequeno porte.

(Disponível em Agência Brasil:
<https://bit.ly/2NoStep> – acesso em 05.09.19. Adaptado)

De acordo com o texto aprovado, é correto afirmar que

- (A) as atividades de baixo risco, como a maioria dos pequenos comércios, não exigirão mais alvará de funcionamento.
 - (B) deverá haver pagamento em dobro (adicional de 100%) do tempo trabalhado no feriado.
 - (C) foi criado o Documento Eletrônico de Transporte, que funciona como contrato único para transporte de bens no território nacional.
 - (D) foi criado o adicional de periculosidade de 30% para *motoboys*, mototaxistas e demais trabalhadores sobre duas rodas.
 - (E) os Fiscais do trabalho só poderão aplicar multas após a terceira autuação. As duas primeiras visitas devem ser educativas.
25. O presidente Sebastián Piñera confirmou nesta sexta-feira (30.08.19) que serão enviados quatro aviões-tanque da frota do país para o Brasil, como parte da ajuda no combate aos incêndios na Amazônia.

(Disponível em Notícias R7:
<https://bit.ly/2k1zHNY> – Acesso em 05.09.19. Adaptado)

Sebastián Piñera é presidente

- (A) do Equador.
- (B) da Colômbia.
- (C) do Chile.
- (D) da Bolívia.
- (E) do Peru.

26. O ministro da Fazenda da Argentina, Hernán Lacunza, anunciou nesta quarta-feira (28.08.19) que o governo de Mauricio Macri pediu prazos maiores para pagar a dívida do país. Em nota, o ministro afirma que depois de ter cumprido estritamente todas as metas fiscais e monetárias do acordo firmado anteriormente, e para dar continuidade ao acordo em vigor, “propusemos iniciar o diálogo, que deverá ser concluído no próximo mandato, para mudar o perfil dos vencimentos da dívida”.

(Disponível em Notícias r7:
<https://bit.ly/2ktrjah> – acesso em 05.09.19. Adaptado)

A dívida argentina foi contraída com o

- (A) Fundo Interamericano de Desenvolvimento Social.
- (B) Banco Mundial.
- (C) Banco Interamericano de Desenvolvimento Econômico.
- (D) Banco Nacional de Desenvolvimento Econômico e Social.
- (E) Fundo Monetário Internacional.

NOÇÕES DE INFORMÁTICA

27. Um usuário do Microsoft Windows 7, em sua configuração padrão, deseja desinstalar um programa aplicativo cuja licença de uso expirou. Para realizar essa tarefa, o usuário deverá utilizar os recursos disponíveis

- (A) na Área de Comandos.
- (B) na Área de Trabalho.
- (C) na Barra de Configuração.
- (D) no Menu de Ferramentas.
- (E) no Painel de Controle.

28. Um usuário do programa MS-Word 2010, em sua configuração padrão, que está digitando um documento, notou que os parágrafos desse texto estão alinhados apenas com a margem esquerda. Desejando que os parágrafos do documento fiquem alinhados com as margens da direita e da esquerda, esse usuário deverá selecionar os parágrafos do texto e acionar simultaneamente as teclas CTRL e

- (A) D.
- (B) J.
- (C) N.
- (D) S.
- (E) T.

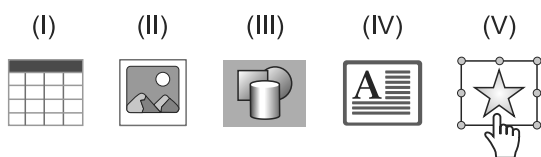
CONHECIMENTOS ESPECÍFICOS

29. No programa MS-Excel 2010, em sua configuração padrão, existe um recurso chamado Formatação Condicional, que possibilita a aplicação de diferentes formatos a uma ou mais células selecionadas, que mudarão de aparência, automaticamente, em função do valor nelas contidos. O recurso de Formatação Condicional pode ser utilizado por meio da guia

- (A) Página Inicial.
- (B) Inserir.
- (C) Fórmulas.
- (D) Dados.
- (E) Revisão.

30. Um usuário que está elaborando uma apresentação com o programa MS PowerPoint 2010, em sua configuração padrão, deseja adicionar um comentário ao lado de uma imagem do slide que está editando. Para tanto, decidiu utilizar o recurso Caixa de Texto, que possibilitará a formatação do texto do comentário diferente daquela definida para os parágrafos desse slide.

Assinale a alternativa que corresponde ao ícone da figura a seguir que possibilitará a utilização do recurso Caixa de Texto.



- (A) I.
- (B) II.
- (C) III.
- (D) IV.
- (E) V.

31. O cimento de ionômero de vidro pode ser classificado de acordo com a sua indicação. Os cimentos do tipo III são indicados para

- (A) cimentação de coroas, próteses e dispositivos ortodônticos.
- (B) selamento de cicatrículas e fissuras.
- (C) forramento ou base.
- (D) obturação de canais radiculares.
- (E) restaurações.

32. Os materiais de moldagem são classificados de acordo com sua elasticidade e subdivididos de acordo com o tipo de reação de presa que sofrem. Assinale a alternativa que apresenta apenas materiais de moldagem elásticos de reação de presa química.

- (A) Hidrocoloide reversível e elastômeros.
- (B) Godiva e pasta zincoeugenólica.
- (C) Hidrocoloide irreversível e elastômeros.
- (D) Cera e elastômeros.
- (E) Hidrocoloide reversível e hidrocoloide irreversível.

33. A desinfecção envolve processos que eliminam microrganismos presentes em superfícies e artigos, porém com menor poder letal que a esterilização, pois não destroem todas as formas de vida microbiana, principalmente esporos. A desinfecção leva em consideração o espectro de ação do agente químico. Assinale a alternativa que apresenta uma substância que realiza desinfecção de baixo nível.

- (A) Quaternário de amônia.
- (B) Glutaraldeído 2%.
- (C) Ácido peracético 1%.
- (D) Hipoclorito de sódio 1%.
- (E) Álcool 70%.

34. A classificação de risco de um determinado agente biológico baseia-se em diversos critérios e está orientada, principalmente, pelo potencial que este oferece ao indivíduo, à comunidade e ao meio ambiente. De acordo com a classificação de risco, os agentes classe 3

- (A) não oferecem risco para o manipulador e, para a comunidade, o risco é fraco.
- (B) não oferecem risco para o manipulador nem para a comunidade.
- (C) oferecem risco moderado para o manipulador e, para a comunidade, o risco é fraco.
- (D) oferecem risco grave para o manipulador e, para a comunidade, o risco é moderado.
- (E) oferecem risco grave para o manipulador e para a comunidade.

35. Assinale a alternativa que contém apenas pinças odontológicas que apresentam cremalheira entre as duas argolas, a qual permite o fechamento do instrumental de forma autoestática com diferentes níveis de pressão de fechamento.
- (A) Pinça Crile e pinça Adson.
 - (B) Pinça Kelly e pinça Halstead.
 - (C) Pinça Allis e pinça Dente de Rato.
 - (D) Pinça Halsted e pinça Cushing.
 - (E) Pinça Backaus e pinça anatômica.
36. Os instrumentos utilizados em procedimentos de restauração dentária são classificados em quatro categorias: para exames, manuais cortantes, restauradores e acessórios. Assinale a alternativa que apresenta apenas instrumentos manuais cortantes.
- (A) Sonda periodontal, pinça de algodão e espelho clínico.
 - (B) Escavador, cinzel e aparador de margem gengival.
 - (C) Esculpidor, foice e curetas.
 - (D) Lima, brunidor e condensador.
 - (E) Woodson, esculpidor e cureta.
37. Existe no comércio um grande número de escovas dentais, com tamanhos e formas variadas, cerdas confeccionadas em diversos materiais, texturas, comprimentos e densidades. Assinale a alternativa correta em relação às características da escova dental ideal, para a maioria dos pacientes.
- (A) O comprimento de 2,5 cm da cabeça da escova é considerado satisfatório para um adulto.
 - (B) A extremidades das cerdas deve ser arredondada, em pelo menos 40 % das cerdas, para causar o mínimo de abrasão possível.
 - (C) A presença de tufo de cerdas densamente concentrados garantem maior facilidade de higienização das cerdas.
 - (D) Uma escova convexa, cujas cerdas tenham comprimentos diferentes, promove melhor higienização da superfície dentária quando comparada à escova com cerdas de comprimento uniforme.
 - (E) As cerdas de poliéster das escovas dentais sofrem desgaste mais lentamente do que as cerdas de náilon, além de serem mais higiênicas devido às suas propriedades antiestáticas.
38. A formação dos hábitos alimentares inicia-se na primeira infância, a partir do processo de socialização primária. Os padrões estabelecidos nessa fase constituem normas de comportamento profundamente resistentes a alterações. Em face do exposto, assinale a alternativa que apresenta informação relativa a padrões a serem estabelecidos, que contemplem a ingestão de uma dieta equilibrada, com alto valor nutritivo e com baixo potencial cariogênico ou erosivo.
- (A) O consumo de alimentos ou bebidas ácidas deve ser evitado, restringindo o seu consumo próximo à hora de dormir (dentro de 1 hora).
 - (B) Quando da ingestão de bebidas ácidas por crianças, preferir que elas sejam consumidas na mamadeira em vez do copo.
 - (C) No caso de indivíduos com alto risco de erosão, escovar os dentes imediatamente após o consumo de bebidas ácidas.
 - (D) O fator mais importante no desenvolvimento da cárie dentária não é a quantidade de açúcar ingerido, mas, sim, sua frequência de ingestão.
 - (E) A alimentação racional e aplicável deve procurar proibir o consumo de açúcar.
39. A utilização do método temperatura-tempo para o processamento manual garante a padronização das radiografias, com máximo de nitidez e graus médios adequados de densidade radiográfica e contraste. O tempo de imersão do filme no revelador baseia-se na temperatura do líquido, que deve ser aferida, pelo menos, ao início de cada turno de trabalho. O tempo de imersão na solução reveladora, com a temperatura aferida na solução reveladora de 25^o C é de
- (A) 5,5 minutos.
 - (B) 5 minutos.
 - (C) 4,5 minutos.
 - (D) 3,5 minutos.
 - (E) 2,5 minutos.
40. Com relação às instruções pré-operatórias para uma cirurgia de implantes dentários, assinale a alternativa correta.
- (A) Evitar alimentar-se no dia da cirurgia, mantendo somente a hidratação por meio de água.
 - (B) Suspender as medicações de uso crônico, como anti-hipertensivos e agentes antidiabéticos orais, a partir do dia anterior da cirurgia.
 - (C) Evitar fumar nas 72 horas que antecedem à cirurgia e nos 30 dias após que a sucedem.
 - (D) Deixar preparada em casa uma alimentação morna e pastosa, com alto valor proteico.
 - (E) Deixar preparada em casa bolsa de água morna, para a realização de compressas, no dia da cirurgia.

41. Em relação ao uso tópico e/ou sistêmico do flúor, é correto afirmar que
- (A) o flúor importante é aquele mantido constante e em altas concentrações na cavidade bucal.
 - (B) para evitar a fluorose dental, recomenda-se o uso de dentifrício sem flúor para crianças de até 5 anos de idade.
 - (C) a dose seguramente tolerada de flúor está entre 22 e 30 mg F/kg de peso.
 - (D) o risco de desenvolvimento de fluorose existe durante toda a formação do esmalte, inclusive durante a mineralização tardia.
 - (E) o tipo de solução mais utilizada para bochecho são as de flúor fosfato acidulado 2%.
42. Em relação ao índice de extensão e gravidade da doença periodontal, é correto afirmar que
- (A) estima a perda de inserção periodontal.
 - (B) avalia o edema gengival.
 - (C) examina os tecidos que envolvem todos os dentes presentes, por meio, exclusivamente, de espelho bucal.
 - (D) avalia a presença ou ausência de periodontite determinada radiograficamente.
 - (E) avalia o sangramento gengival.
43. O auxiliar odontológico exerce papel fundamental na instrumentação do cirurgião-dentista junto à cadeira odontológica. A técnica de Ingraham, na execução do isolamento absoluto do campo operatório, preconiza
- (A) colocar o conjunto de: grampo com asa, arco e lençol de borracha a um só tempo.
 - (B) colocar o lençol de borracha preso no arco, no dente determinado e, posteriormente, o grampo.
 - (C) colocar o grampo com asa no lençol de borracha, levá-lo ao dente e, posteriormente, prender o arco no lençol.
 - (D) colocar o grampo sem asa no dente e, depois, o lençol de borracha, que pode ou não estar adaptado ao arco.
 - (E) colocar o conjunto de: grampo sem asa, arco e lençol de borracha a um só tempo.
44. O cirurgião bucomaxilofacial constata a necessidade de exodontia dos dentes 18, 27 e 38 de uma paciente. Para o correto preenchimento do odontograma, assinale a alternativa que contém a representação respectiva desses dentes.
- (A) terceiro molar superior esquerdo, segundo molar superior direito e terceiro molar inferior direito.
 - (B) terceiro molar inferior direito, segundo molar inferior esquerdo e terceiro molar superior esquerdo.
 - (C) terceiro molar superior direito, segundo molar superior esquerdo e terceiro molar inferior direito.
 - (D) terceiro molar superior esquerdo, segundo molar superior direito e terceiro molar inferior esquerdo.
 - (E) terceiro molar superior direito, segundo molar superior esquerdo e terceiro molar inferior esquerdo.
45. Em relação às moldeiras odontológicas, é correto afirmar que
- (A) as moldeiras individuais são as mais indicadas para a confecção de modelos de estudo.
 - (B) as moldeiras "Vernes" tradicionais podem ser usadas tanto para hidrocoloide reversível, como para hidrocoloide irreversível.
 - (C) a moldeira de estoque deve manter-se de 2-4 mm distante dos dentes para acomodação do material de moldagem.
 - (D) a moldeira de estoque não é passível de individualização.
 - (E) as moldeiras de estoque são utilizadas com materiais elásticos exclusivamente.
46. Para que o trabalho ergonômico seja desenvolvido, é correto afirmar que a assistente deverá
- (A) posicionar-se, muitas vezes, ligeiramente mais alto que o operador.
 - (B) manter a curvatura da coluna vertebral ligeiramente inclinada para trás, sem excessiva contração muscular.
 - (C) manter os cotovelos em uma inclinação de 90° em relação ao tronco.
 - (D) manter a inclinação da cabeça em, no máximo, 60°.
 - (E) manter as pernas juntas para que se obtenha o máximo de dinâmica e equilíbrio.

47. Assinale a alternativa que apresenta informação correta em relação ao recorte do modelo de estudo de pacientes totalmente desdentados.
- (A) Deve permitir uma base de 3 mm de altura, paralela à crista do rebordo.
 - (B) Deve-se recortar primeiro os lados do modelo e, por último, a base.
 - (C) Deve-se recortar o modelo inferior de maneira que este apresente o aspecto final de “ferradura”.
 - (D) Deve-se recortar os lados do modelo de maneira que fiquem perpendiculares à base.
 - (E) Deve-se deixar uma área de, aproximadamente, 2 mm, do fundo do sulco até o recorte (extensão lateral do modelo).
48. A etapa mais importante no preparo para as emergências médicas no consultório odontológico é o treinamento de toda a equipe, para o reconhecimento e o tratamento das situações emergenciais.
- Um paciente apresenta sinais de asfixia após a remoção de uma coroa unitária do dente 36. Ele segura o pescoço com ambas as mãos, não conseguindo respirar, tossir nem produzir qualquer som. Sabendo que o paciente está consciente, a conduta imediata para esse caso clínico é:
- (A) administrar compressões no tórax.
 - (B) administrar ressuscitação cardiopulmonar.
 - (C) administrar compressões ligeiramente acima do umbigo.
 - (D) fazer compressões lentas para trás e para baixo, bem abaixo do esterno.
 - (E) inclinar a cabeça da pessoa ligeiramente para trás e pedir que ela inspire devagar.
49. Compete ao auxiliar em saúde bucal, sempre sob a supervisão do cirurgião-dentista ou do técnico em saúde bucal,
- (A) realizar fotografias e tomadas de uso odontológico exclusivamente em consultórios ou clínicas odontológicas.
 - (B) fazer a remoção do biofilme, de acordo com a indicação técnica definida pelo cirurgião-dentista.
 - (C) inserir e distribuir, no preparo cavitário, materiais odontológicos na restauração dentária direta, sendo vedado o uso de materiais e instrumentos não indicados pelo cirurgião-dentista.
 - (D) realizar isolamento do campo operatório.
 - (E) registrar dados e participar da análise das informações relacionadas ao controle administrativo em saúde bucal.
50. Com a ampliação do conhecimento dos riscos e do potencial de causar danos à saúde e ao meio ambiente pelo lixo gerado por estabelecimentos de saúde, é que a legislação que rege o descarte, a coleta e o destino final de resíduos biológicos e/ou, quimicamente contaminados vem sendo aperfeiçoada. Em relação ao manejo dos resíduos odontológicos, no estado sólido, do grupo A, que não precisam ser obrigatoriamente tratados, é correto afirmar:
- (A) devem ser colocados em frascos inquebráveis, contendo água no seu interior, ser hermeticamente fechados, com símbolo de presença de radiação ionizante.
 - (B) devem ser acondicionados em saco branco leitoso, identificado pelo símbolo de risco biológico.
 - (C) devem permanecer imersos em hipoclorito de sódio a 1%, até o limite da capacidade do recipiente, e possuir a inscrição de resíduo perfurocortante.
 - (D) devem ser acondicionados em sacos plásticos vermelhos, identificados pelo símbolo de risco químico.
 - (E) Devem ser armazenados em sacos plásticos pretos, identificados pelo símbolo de risco químico.

