

PREFEITURA MUNICIPAL DE QUISSAMÃ/RJ

CONCURSO PÚBLICO 001/2019

EDITAL nº 001/2019

AUXILIAR DE SAÚDE BUCAL

ORGANIZADORA:



“A persistência é o caminho do êxito”.

Charles Chaplin.

EM BRANCO

CADERNO DE PROVAS

Caro(a) Candidato(a): **Antes de iniciar a prova leia atentamente as instruções a seguir:**

1. Este caderno contém 40 (quarenta) questões objetivas com 04 (quatro) opções (A, B, C, D). A prova terá duração máxima de 03(três) horas. A prova terá seu horário de início em sala, a contar após a distribuição dos cadernos de prova e autorização do aplicador(a).
2. Confira em seu caderno de provas a sequência de questões. Você tem até 10 (dez) minutos do início das provas para solicitar a troca do caderno de provas que apresentar algum problema de impressão ou qualquer outro que inviabilize a realização da mesma, pois não serão aceitas reclamações posteriores nesse sentido.
3. A interpretação das questões, bem como das instruções, faz parte da prova. Portanto, ao aplicador(a) de sala e fiscais não há autorização para fornecer esclarecimentos sobre o conteúdo das provas, sendo esta atribuição de única e exclusiva responsabilidade do(a) candidato(a).
4. Você receberá do aplicador o cartão de respostas 30 (trinta) minutos após o início da prova, o cartão de respostas deverá obrigatoriamente ser assinado pelo(a) candidato(a) no local em que há a indicação: “**ASSINATURA**”, utilizando sempre caneta esferográfica de tinta preta ou azul.
5. Caso realmente precise, utilize como rascunho os espaços em branco nas folhas do caderno de prova. Sugerimos que você assinale, inicialmente, no próprio caderno de provas, todas as respostas que julgar correta. Depois, passe-as para o cartão de respostas.
6. Questões com mais de uma alternativa assinalada, rasurada ou em branco serão **ANULADAS**. Portanto, ao preencher o cartão de respostas faça-o cuidadosamente. Evite erros, pois em hipótese alguma haverá substituição do cartão de respostas por erro do(a) candidato(a).
7. Ao terminar a prova ou findo o horário limite para sua realização, o candidato deverá **OBRIGATORIAMENTE** entregar seu cartão de respostas “**ASSINADO**”, ao aplicador(a) de sala. O(a) candidato(a) que não devolver seu cartão de respostas será automaticamente **eliminado(a)** e não terá classificação alguma no concurso público.
8. **Atenção!** Preencha o cartão-resposta na mesma sequência numérica das questões do caderno de provas.
9. Somente será permitido levar o caderno de questões (prova), depois de decorrido o período de **120 (cento e vinte) minutos do início das provas.**
10. Não serão permitidas consultas a quaisquer materiais, uso de telefone celular ou outros aparelhos eletrônicos, assim como os demais procedimentos constantes no subitem 9.7 e no subitem 9.9 do Edital 001/2019.
11. Após o término da prova, o(a) candidato(a) deverá deixar imediatamente o recinto da mesma, sendo **terminantemente proibido** fazer contato com os(as) candidatos(as) que ainda não terminaram a prova sob pena de ser excluído do Concurso Público.
12. O desrespeito às normas que regem o presente concurso, bem como, a desobediência às exigências registradas no edital, além de sanções legais cabíveis implica na desclassificação do candidato.
13. Aguarde a ordem do aplicador para iniciar a prova.
14. Os dois últimos candidatos ao terminarem as provas deverão retirar-se da sala simultaneamente, após testemunharem o fechamento (lacre) do envelope de provas, assinando a Ata Relatório.
15. O candidato, após a divulgação dos gabaritos oficiais preliminares da Prova Objetiva, que será feita às **16 horas** do dia **17/02/2020**, no site www.gualimp.com.br, poderá peticionar **RECURSO** à banca examinadora, quando julgar que ocorreu erro na formulação das questões e divulgação do gabarito preliminar, nos dias **18/02/2020 e 19/02/2020.**

NÃO ESQUEÇA!
Ao sair, entregue o cartão de respostas devidamente assinado.
BOA PROVA!!!

ATENÇÃO!!!

- O CARTÃO DE RESPOSTAS ABAIXO É PARA SER UTILIZADO SOMENTE COMO RASCUNHO.
- AO RECEBER O CARTÃO DE RESPOSTAS DEFINITIVO CONFIRA OS DADOS DE IDENTIFICAÇÃO (NOME, CARGO, NÚMERO DE INSCRIÇÃO) E EM SEGUIDA ASSINE NO LOCAL INDICADO.

CARTÃO RESPOSTA



PREFEITURA MUNICIPAL DE QUISSAMÃ - RJ CONCURSO PÚBLICO 001/2019				
Nome:		Local:		
Cargo:		Data:		
Sala:	Nº de inscrição:		Turno:	

<p>* Marcar apenas uma opção para cada questão, evitando-se ultrapassar o círculo; * O círculo correspondente à questão escolhida deve ser totalmente preenchido, evitando-se ultrapassar o círculo; * Marcar apenas a quantidade de questões existentes na sua prova; * Utilize somente caneta esferográfica azul ou preta, não rasurar ou sujar o cartão; É NECESSIDADE DO CANDIDATO A CONFERÊNCIA DOS DADOS DE SEU CARTÃO DE RESPOSTA</p>	TIPO DE PROVA PROVA PADRÃO
---	--------------------------------------

01	(A)	(B)	(C)	(D)	21	(A)	(B)	(C)	(D)
02	(A)	(B)	(C)	(D)	22	(A)	(B)	(C)	(D)
03	(A)	(B)	(C)	(D)	23	(A)	(B)	(C)	(D)
04	(A)	(B)	(C)	(D)	24	(A)	(B)	(C)	(D)
05	(A)	(B)	(C)	(D)	25	(A)	(B)	(C)	(D)
06	(A)	(B)	(C)	(D)	26	(A)	(B)	(C)	(D)
07	(A)	(B)	(C)	(D)	27	(A)	(B)	(C)	(D)
08	(A)	(B)	(C)	(D)	28	(A)	(B)	(C)	(D)
09	(A)	(B)	(C)	(D)	29	(A)	(B)	(C)	(D)
10	(A)	(B)	(C)	(D)	30	(A)	(B)	(C)	(D)
11	(A)	(B)	(C)	(D)	31	(A)	(B)	(C)	(D)
12	(A)	(B)	(C)	(D)	32	(A)	(B)	(C)	(D)
13	(A)	(B)	(C)	(D)	33	(A)	(B)	(C)	(D)
14	(A)	(B)	(C)	(D)	34	(A)	(B)	(C)	(D)
15	(A)	(B)	(C)	(D)	35	(A)	(B)	(C)	(D)
16	(A)	(B)	(C)	(D)	36	(A)	(B)	(C)	(D)
17	(A)	(B)	(C)	(D)	37	(A)	(B)	(C)	(D)
18	(A)	(B)	(C)	(D)	38	(A)	(B)	(C)	(D)
19	(A)	(B)	(C)	(D)	39	(A)	(B)	(C)	(D)
20	(A)	(B)	(C)	(D)	40	(A)	(B)	(C)	(D)

_____ Assinatura do Candidato	Nº DE INSCRIÇÃO
----------------------------------	-----------------

OBS.: O candidato deverá **OBRIGATORIAMENTE**, entregar seu cartão de repostas definitivo preenchido e **ASSINADO**, sob pena de ter seu cartão de respostas **ANULADO**.
(item 9.15 do edital 001/2019)

QUESTÕES DE LINGUA PORTUGUESA

Leia a letra da música a seguir para responder às questões de 1 a 4.

Vilarejo

Marisa Monte

Há um vilarejo ali
Onde areja um vento bom
Na varanda quem descansa
Vê o horizonte deitar no chão
Pra acalmar o coração
Lá o mundo tem razão
Terra de heróis, lares de mãe
Paraíso se mudou para lá
Por cima das casas cal
Frutas em qualquer quintal
Peitos fartos, filhos fortes
Sonhos semeando o mundo real
Toda a gente cabe lá
Palestina, Shangri-lá
Vem andar e voa
Vem andar e voa
Vem andar e voa
Lá o tempo espera
Lá é primavera
Portas e janelas ficam sempre abertas
Pra sorte entrar
Em todas as mesas pão
Flores enfeitando
Os caminhos, os vestidos
Os destinos e essa canção
Tem um verdadeiro amor
Para quando você for
Há um vilarejo ali
Onde areja um vento bom
Na varanda quem descansa
Vê o horizonte deitar no chão
Pra acalmar o coração
Lá o mundo tem razão
Terra de heróis, lares de mãe
Paraíso se mudou para lá
Por cima das casas cal
Frutas em qualquer quintal
Peitos fartos, filhos fortes
Sonhos semeando o mundo real
Toda a gente cabe lá
Palestina, Shangri-lá
Vem andar e voa
Vem andar e voa
Vem andar e voa
Lá o tempo espera
Lá é primavera

Portas e janelas ficam sempre abertas
Pra sorte entrar
Em todas as mesas pão
Flores enfeitando
Os caminhos, os vestidos
Os destinos e essa canção
Tem um verdadeiro amor
Para quando você for
Vem andar e voa
Vem andar e voa
Vem andar e voa
Vem andar e voa

01. O trecho da canção, abaixo, nos remete que:

*“Toda a gente cabe lá
Palestina, Shangri-lá”*

- (A) Todos os povos árabes ocupavam aquele vilarejo.
- (B) Todo tipo de pessoa é aceita naquele vilarejo.
- (C) Somente pessoas estrangeiras poderiam viver no vilarejo.
- (D) Somente os povos asiáticos eram bem-vindos naquele vilarejo.

02. Qual dos trechos da canção apresenta sentido conotativo e denotativo?

- (A) Flores enfeitando
Os caminhos, os vestidos
Os destinos e essa canção.
- (B) Vem andar e voa
Lá o tempo espera.
- (C) Há um vilarejo ali
Onde areja um vento bom.
- (D) Por cima das casas cal
Frutas em qualquer quintal
Peitos fartos, filhos fortes.

03. Sem alterar o sentido do texto, a palavra em destaque no trecho abaixo pode ser substituída por:

*“Pra acalmar o coração
Lá o mundo tem razão”*

- (A) Acirrar.
- (B) Sublevar.
- (C) Insurgir.
- (D) Mitigar.

04. O verbo em destaque no trecho: “Na varanda quem descansa...” se conjugado no futuro do pretérito do indicativo, altera o trecho da música da seguinte forma:

- (A) Na varanda quem descansará...
- (B) Na varanda quem descansaria...
- (C) Na varanda quem descansara...
- (D) Na varanda quem descansava...

05. Qual das alternativas em que as palavras não são sinônimas?

- (A) Ancião e idoso.
- (B) Progredir e regredir.
- (C) Importante e relevante.
- (D) Transformação e metamorfose.

06. Analise as alternativas e assinale a que **NÃO** indica, corretamente, o significado da palavra destacada:

- (A) A raiva é de extrema importância para saúde pública, devido a sua **letalidade** de aproximadamente 100%. (mortalidade)
- (B) O período de **incubação** é variável entre as espécies, desde dias até anos, com uma média de 45 dias no ser humano, podendo ser mais curto em crianças. (premeditação)
- (C) A infecção da raiva progride, surgindo manifestações mais graves e **complicadas**. (esclarecidas)
- (D) Não existem dificuldades para estabelecer o diagnóstico quando o quadro clínico vier acompanhado de sinais e sintomas **característicos** da raiva. (específicos)

07. “O Ministério da Saúde adquire e distribui _____ Secretarias Estaduais de Saúde os imunobiológicos necessários para _____ profilaxia da raiva humana no Brasil.”

Quanto ao uso da crase, completa-se as lacunas do trecho acima, correta e respectivamente, com:

- (A) às – a.
- (B) às – à.
- (C) as – a.
- (D) as – à.

08. De acordo com a norma culta da língua portuguesa, qual das alternativas abaixo indica a correta regência do verbo “assistir”?

- (A) Vamos assistir o jogo na casa da minha namorada.
- (B) A enfermeira assiste ao paciente de forma humanizada.
- (C) Eles não assistiram o espetáculo, mas reservaram ingressos para próxima semana.
- (D) A empresa assiste em Petrópolis.

09. Analise a frase abaixo:

Para que seja possível entender o _____ da Guerra do Vietnã, é necessário que conheçamos um pouco da história da região onde ocorreu tal conflito.

Assinale a alternativa que preenche, corretamente, a lacuna da frase:

- (A) Porque.
- (B) Porquê.
- (C) Por que.
- (D) Por quê.

10. Assinale a alternativa onde todas as palavras estão grafadas corretamente:

- (A) Ainda quando o homem não era dotado de um elevado nível intelectual e nem mesmo tinha à disposição avançados recursos tecnológicos a lua já era motivo de cobiça para ser explorada.
- (B) Sobre o astro, o homem sempre tinha uma concepção mística, em que durante certo tempo passou a ser encarada como deusa.
- (C) Entretanto, com o passar dos anos e o progresso da astronomia a ideia mística que existia acerca da lua foi sendo desfeita. A partir daí, o astro passou a ser considerado um corpo integrante do sistema solar e satélite natural do planeta Terra.
- (D) A evolução tecnológica crescia e, paralelamente, o desejo do homem em desvendar o desconhecido e chegar à lua pela primeira vez desde o começo da vida no globo terrestre. Obviamente, tão vontade não era simplesmente própria do ser humano, mas também uma disputa política acerca de qual nação iria ser a primeira a conseguir cruzar a atmosfera da Terra.

QUESTÕES DE MATEMÁTICA

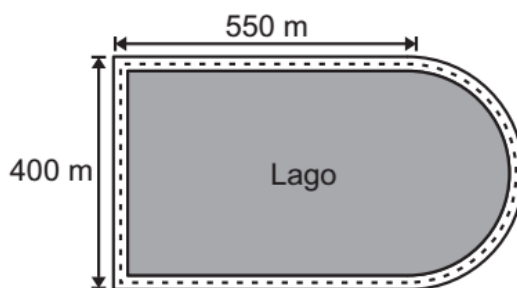
11. Paula escreveu em seu caderno, em ordem crescente, nove números inteiros consecutivos, todos eles positivos. Ela calculou a média aritmética desses números e o resultado foi 10. Qual é o resultado do produto entre o terceiro e o sexto número?

- (A) 117. (B) 88. (C) 108. (D) 60.

12. Um imóvel foi comprado por R\$ 80.000,00 e foi revendido por R\$ 94.000,00. O valor inicial do imóvel foi acrescido de quantos por cento?

- (A) 14%. (B) 1,75%. (C) 1,4%. (D) 17,5%.

13. Um lago foi construído com o formato da justaposição de um retângulo com um semicírculo, conforme figura abaixo.



Considere $\pi \cong 3,1$.

O prefeito dessa cidade deseja cercar esse lago com quatro voltas de arame farpado. O preço do arame farpado é R\$ 5,50 um rolo com cinco metros. Qual o valor gasto pelo prefeito para realizar esse serviço?

- (A) R\$ 9.328,00 (B) R\$ 8.480,00 (C) R\$ 2.120,00 (D) R\$ 11.660,00

14. Uma escola fez uma pesquisa com seus 690 alunos para saber qual a disciplina preferida deles. 360 responderam que gostam de Física, 320 disseram gostar de Química e 50 alunos disseram que não gostam de nenhuma das duas disciplinas. Quantos alunos gostam apenas de Física?

- (A) 360. (B) 280. (C) 320. (D) 40.

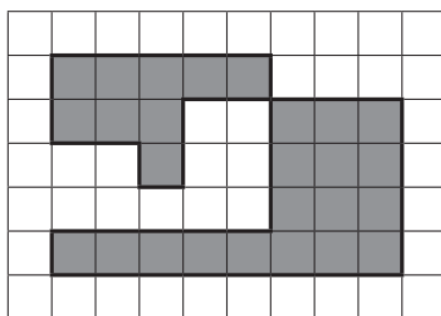
15. Marcela fez com sua prima Eliane uma brincadeira de matemática. Ela deu as orientações para Eliane:

- Pense em um número inteiro diferente de zero;
- Eleve esse número ao quadrado;
- Ao resultado obtido, some o número pensado inicialmente;
- Qual foi o resultado obtido?

Eliane respondeu 342. Podemos afirmar que o número pensado inicialmente por ela:

- (A) É menor do que 12.
 (B) Está entre 12 e 16.
 (C) Está entre 16 e 20.
 (D) É maior do que 20.

16. A figura abaixo mostra uma malha quadriculada com alguns quadradinhos pintados de cinza.



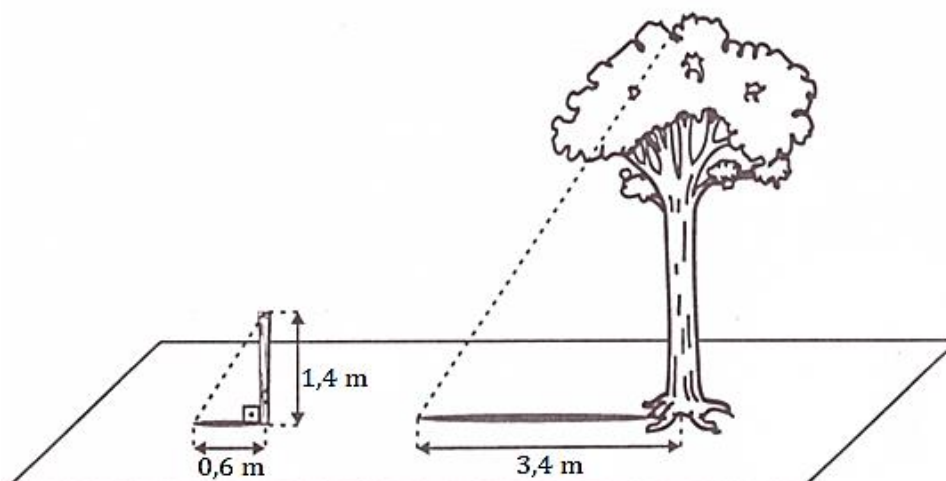
A porcentagem que os quadradinhos cinzas representam da área total dessa malha quadriculada é, aproximadamente:

- (A) 41%. (B) 39%. (C) 35%. (D) 37%.

17. O carro que Roberto comprou custava R\$ 70.000,00. Ele pegou esse valor emprestado no banco, pagando de juros R\$ 14 000,00. Esse empréstimo foi concedido a uma taxa de 2,5% ao mês. Qual o tempo Roberto levou para pagar esse empréstimo, considerando que ele não atrasou e nem adiantou nenhuma parcela?

- (A) 14 meses. (B) 8 meses. (C) 12 meses. (D) 10 meses.

18. Renata precisava medir a altura de uma árvore. Para isso, colocou um pedaço de cano enterrado no chão, formando um ângulo de 90° com o solo. Depois mediu os comprimentos das sombras da árvore e do cano, obtendo as medidas indicadas na figura abaixo.



Qual é a medida aproximada da altura dessa árvore?

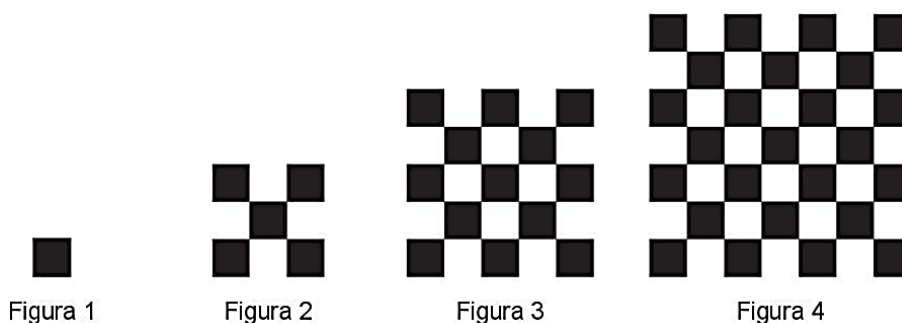
- (A) 6,8 m. (B) 8,4 m. (C) 9,2 m. (D) 7,9 m.

19. Qual a solução do sistema abaixo?

$$\begin{cases} 2x - 5y = 7 \\ 3x + 4y = -24 \end{cases}$$

- (A) $(-4, -3)$. (B) $(4, -3)$. (C) $(-4, 3)$. (D) $(4, 3)$.

20. Jefferson desenhou em seu caderno uma sequência com 8 figuras, seguindo o padrão abaixo.



Quantos quadradinhos de cor branca Jefferson fez na última figura desenhada por ele?

- (A) 84. (B) 85. (C) 112. (D) 113.

QUESTÕES DE CONHECIMENTOS ESPECÍFICOS

21. A Lei 8.080/1990 estabelece as atribuições de cada ente perante o Sistema Único de Saúde (SUS). Sobre esse tema analise as atribuições apresentadas abaixo.

- Executar serviços de vigilância sanitária.
- Formar consórcios administrativos intermunicipais.
- Gerir laboratórios públicos de saúde e hemocentros.

As três atribuições apresentadas são competência da:

- (A) Direção nacional do SUS.
 (B) Direção estadual do SUS.
 (C) Direção municipal do SUS.
 (D) União, dos Estados, do Distrito Federal e dos Municípios.

22. A Política Nacional de Humanização (PNH) é uma política que busca qualificar modo de atenção e gestão na rede do Sistema Único de Saúde (SUS), incluindo trabalhadores, usuários e gestores. A diretriz da PNH cujo objeto é reconhecer o que o outro traz como legítima e singular necessidade de saúde e que deve sustentar a relação entre equipes/serviços e usuários/populações é denominada de:

- (A) Acolhimento.
 (B) Clínica ampliada.
 (C) Equidade.
 (D) Longitudinalidade.

23. De acordo com a Lei 8.080/1990, é CORRETO afirmar que:

- (A) As Comissões Intergestores Regional, Bipartite e Tripartite são reconhecidas como foros de negociação e pactuação entre gestores, quanto aos aspectos legislativos, administrativos, jurídicos e operacionais do Sistema Único de Saúde (SUS).
 (B) As Comissões Intergestores Bipartite e Tripartite são reconhecidas como foros de negociação e pactuação entre gestores, quanto aos aspectos operacionais do Sistema Único de Saúde (SUS).
 (C) As Comissões Intergestores Regionais são reconhecidas como foros de consenso entre gestores, quanto aos aspectos operacionais, jurídicos e financeiros do Sistema Único de Saúde (SUS).
 (D) Os Conselhos de Saúde são reconhecidos como foros de negociação e pactuação entre gestores, quanto aos aspectos operacionais e jurídicos do Sistema Único de Saúde (SUS).

24. O estabelecimento de mecanismos que assegurem acessibilidade e acolhimento pressupõe uma lógica de organização e funcionamento do serviço de saúde que parte do princípio de que as equipes que atuam na Atenção Básica nas UBS devem receber e ouvir todas as pessoas que procuram seus serviços, de modo universal, de fácil acesso e sem diferenciações excludentes, e a partir daí construir respostas para suas demandas e necessidades. O princípio do Sistema Único de Saúde (SUS), norteador da atenção básica, e que se encontra descrito acima se denomina:

- (A) Equidade. (B) Integralidade. (C) Resolutividade. (D) Universalidade.

25. A manipulação do alginato e do gesso deve ser realizada:

- (A) Na cuba de borracha.
(B) Na cuba metálica.
(C) Na moldeira.
(D) Nos potes dappen.

26. Assinale a alternativa que apresenta a definição de dentina.

- (A) Constitui a parte viva do dente, onde estão localizados os nervos e os vasos sanguíneos.
(B) É o tecido dental mais resistente sendo o mais próximo da cavidade bucal, aproximadamente 96% do esmalte é composto de minerais, o restante é composto de água e materiais orgânicos.
(C) É um tecido conjuntivo avascular, mineralizado, especializado, que forma o corpo do dente, suportando e compensando a fragilidade do esmalte.
(D) É um tecido duro que separa a raiz do ligamento periodontal que prende a raiz e liga o dente à gengiva e à mandíbula.

27. Assinale a INCORRETA. O prontuário deve ser legível, podendo ser manuscrito, datilografado ou digitado; além disso, deve conter:

- (A) Identificação do paciente: nome completo, naturalidade, estado civil, sexo, local e data do nascimento, profissão, endereço comercial e residencial.
(B) Nome completo de todos os técnicos em higiene bucal que atenderam o paciente, com o registro no Conselho Regional de Odontologia (CRO) e endereço comercial.
(C) Orçamento do tratamento: deve ser fornecido ao paciente e ter uma cópia arquivada.
(D) Plano de tratamento: descrição dos procedimentos propostos, relatando os materiais a serem utilizados, os dentes e as áreas envolvidas. Deve ser fornecido ao paciente e ter uma cópia arquivada.

28. São vantagens da utilização das resinas compostas nas restaurações, EXCETO:

- (A) Apresenta no resultado final uma boa estética.
(B) É uma técnica conservadora e simples.
(C) Não requer um preparo cavitário específico.
(D) Requer curto espaço de tempo para a inserção na cavidade.

29. Constituem deveres fundamentais dos profissionais e entidades de odontologia, EXCETO:

- (A) Comunicar o Conselho Federal de Odontologia sobre atividades que caracterizem o exercício ilegal da odontologia e que sejam de seu conhecimento.
(B) Manter atualizados os conhecimentos profissionais, técnico-científicos e culturais, necessários ao pleno exercício profissional.
(C) Não manter vínculo com entidade, empresas ou outros desígnios que os caracterizem como empregado, quando as mesmas se encontram em situação ilegal, irregular ou inidônea.
(D) Promover a saúde coletiva no desempenho de suas funções, cargos e cidadania independentemente de exercer a profissão no setor público ou privado.

30. Na assistência a todos os pacientes devem ser adotadas as seguintes medidas, EXCETO:

- (A) Durante os procedimentos (com luvas), não atender telefones, abrir portas usando a maçaneta nem tocar com as mãos em locais passíveis de contaminação.
- (B) Manter as caixas de descarte dispostas em locais visíveis e de fácil acesso e não preenchê-las acima do limite de 5/6 de sua capacidade total.
- (C) Submeter os artigos utilizados à limpeza, desinfecção e/ou esterilização, antes de serem utilizados em outro paciente.
- (D) Transferir os materiais e artigos, durante o trabalho a quatro mãos, com toda a atenção e, sempre que possível, utilizando-se uma bandeja.

31. Este tipo de cárie é o mais comum entre os idosos, que são mais susceptíveis a sofrer de recessão das gengivas. Esta cárie desenvolve-se sobre a superfície das raízes dos dentes. Esta é definição remete a:

- (A) Cáries coronárias e/ou recorrentes.
- (B) Cáries coronárias.
- (C) Cáries radiculares.
- (D) Cáries recorrentes.

32. NÃO compete ao Auxiliar em Saúde Bucal:

- (A) Realizar fotografias e tomadas de uso odontológicos exclusivamente em consultórios ou clínicas odontológicas.
- (B) Realizar o acolhimento do paciente nos serviços de saúde bucal.
- (C) Registrar dados e participar da análise das informações relacionadas ao controle administrativo em saúde bucal.
- (D) Selecionar moldeiras.

33. O seguinte procedimento deve ser adotado a fim de minimizar os riscos físicos a que estão submetidos os profissionais de Odontologia:

- (A) Proteger o compressor de ar com caixa com ventilação natural.
- (B) Tomar cuidado ao manusear os instrumentais com temperatura elevada.
- (C) Usar óculos de proteção para os procedimentos odontológicos, o manuseio de equipamentos que possuem luz incandescente.
- (D) Utilizar equipamentos de proteção radiológica, exceto para os pacientes.

34. O sindesmótomo é utilizado para:

- (A) Afastar o tecido do campo operatório.
- (B) Limpar o alvéolo pós-extração.
- (C) Remodelar o osso.
- (D) Separar a gengiva do dente e do osso.

35. São cuidados que devem ser tomados com os filmes radiográficos, definidos por Oliveira et al. (2014), EXCETO:

- (A) A montagem dos filmes deve acontecer antes do processamento.
- (B) A superfície de trabalho deve ser de cor clara, seca, limpa, em frente a um negatoscópio, e o conhecimento da anatomia é necessário para montagem das radiografias.
- (C) Atenção deve ser dada ao posicionamento do picote.
- (D) O manuseio das radiografias deve ser feito apenas pelas bordas.

36. São objetivos dos exames radiológicos em odontologia:

- I. Fornecer informações da natureza e da extensão da doença.
- II. Identificar a presença ou ausência de doença ou agravo.
- III. Possibilitar a formação de diagnósticos diferenciais.

Estão CORRETOS:

- (A) Apenas I e III.
- (B) Apenas II e III,
- (C) Apenas, I e II.
- (D) I, II e III, todos.

37. São penalidades prevista no Código de Ética Odontológica, EXCETO:

- (A) Advertência Confidencial, em Aviso Reservado.
- (B) Cassação do exercício profissional ad referendum do Conselho Federal.
- (C) Censura Pública, em Publicação Oficial.
- (D) Suspensão do exercício profissional até noventa dias.

38. Segundo o Parecer CFO nº. 125/92, a posse do prontuário é do paciente e sua guarda é do profissional, devendo ser arquivado, por no mínimo:

- (A) 10 (dez) anos após o primeiro atendimento.
- (B) 10 (dez) anos após o último atendimento.
- (C) 20 (vinte) anos após o primeiro atendimento.
- (D) 20 (vinte) anos após o último atendimento.

39. Todos os fatores abaixo (ambientais e/ou próprios do indivíduo) podem ser associados ao desenvolvimento do câncer de boca, EXCETO:

- (A) Alcoolismo; e consumo excessivo e prolongado de chimarrão.
- (B) Desnutrição e imunodepressão; e sexo masculino.
- (C) Idade superior a 30 anos; e uso de qualquer tipo de prótese.
- (D) Irritação crônica da mucosa bucal; má higiene bucal; e tabagismo.

40. Todos os instrumentos abaixo são utilizados no exame clínico, EXCETO:

- (A) Escavador de dentina.
- (B) Espelho clínico.
- (C) Seringa carpule.
- (D) Sonda exploradora.

EM BRANCO