

CONCURSO PÚBLICO

004. PROVA OBJETIVA

CONTADOR

- ◆ Você recebeu sua folha de respostas e este caderno contendo 60 questões objetivas.
- ◆ Confira seus dados impressos na capa deste caderno e na folha de respostas.
- ◆ Quando for permitido abrir o caderno, verifique se está completo ou se apresenta imperfeições. Caso haja algum problema, informe ao fiscal da sala.
- ◆ Leia cuidadosamente todas as questões e escolha a resposta que você considera correta.
- ◆ Marque, na folha de respostas, com caneta de tinta preta, a letra correspondente à alternativa que você escolheu.
- ◆ A duração da prova é de 3 horas e 30 minutos, já incluído o tempo para o preenchimento da folha de respostas.
- ◆ Só será permitida a saída definitiva da sala e do prédio após transcorridos 75% do tempo de duração da prova.
- ◆ Deverão permanecer em cada uma das salas de prova os 3 últimos candidatos, até que o último deles entregue sua prova, assinando termo respectivo.
- ◆ Ao sair, você entregará ao fiscal a folha de respostas e este caderno, podendo levar apenas o rascunho de gabarito, localizado em sua carteira, para futura conferência.
- ◆ Até que você saia do prédio, todas as proibições e orientações continuam válidas.

AGUARDE A ORDEM DO FISCAL PARA ABRIR ESTE CADERNO DE QUESTÕES.

Nome do candidato _____

RG _____ Inscrição _____ Prédio _____ Sala _____ Carteira _____

CONHECIMENTOS GERAIS

LÍNGUA PORTUGUESA

Leia o texto, para responder às questões de números **01** a **05**.

Se a vida é um vale de lágrimas, por que não processar os pais por nos terem trazido ao mundo?

Se o leitor nunca pensou nessa hipótese, isso pode significar duas coisas. Primeiro, que é uma pessoa sã. Segundo, que nunca leu a saga do indiano Raphael Samuel, 27, que tentou processar os progenitores, segundo o jornal "The Guardian".

Sim, Samuel confessa que tem uma excelente relação com eles. Mas há, digamos, um "pecado original" que o rapaz não pode perdoar: ele nasceu sem dar o seu consentimento. Uma indenização, ainda que simbólica, seria uma forma de fazer doutrina: quando queremos ter filhos, é importante ter o consentimento deles.

Por essa altura, o leitor inteligente que lê as minhas colunas já deve ter feito uma pergunta fundamental: como obter esse consentimento? E, já agora, em que fase?

A ciência terá aqui uma palavra importante. Mas, conhecendo o narcisismo da espécie e a tendência irresistível de marchar pelas causas mais improváveis, não é de excluir que adolescentes de todas as idades, frustrados com a vida e com a necessidade de escovar os dentes, encontrem em Raphael Samuel um modelo (de negócio).

Antigamente, os pais poupavam para a universidade dos filhos. Hoje, convém poupar primeiro para a indenização que eles nos vão pedir.

No limite, ver o filho a pedir uma indenização aos pais por ter nascido faz tanto sentido como pedir uma indenização ao filho por ele não querer estar cá. Quem disse que só o filho pode ter razões de queixa?

O problema dos cálculos meramente utilitaristas é que eles são dotados de uma espantosa flexibilidade. E da mesma forma que os filhos avaliam os seus danos por terem nascido, os pais podem atuar da mesma forma.

Investiram tudo no delfim – patrimônio genético, tempo, dinheiro, sanidade e expectativas legítimas de que ele seria um adulto.

Mas o ingrato, no fim das contas, ainda quer fazer contas. Se isso não é motivo para uma indenização pesada, só um anjo nos pode salvar.

(João Pereira Coutinho, *Alô, filho, você quer mesmo sair?*
Disponível em: <https://www1.folha.uol.com.br>.
Acesso em: 15.11.2019. Adaptado)

- 01.** É correto concluir que, a partir de um fato divulgado na mídia, o autor traça
- (A) uma crítica ao fato, visto com intolerância.
 - (B) uma avaliação do fato, visto com desconfiança.
 - (C) um questionamento do fato, considerado irresponsável.
 - (D) uma caricatura da situação, tratada com humor.
 - (E) um exame da situação, em tom de censura.
- 02.** O trecho que aponta um argumento a favor de processos para o filho indenizar os pais é:
- (A) Mas o ingrato, no fim das contas, ainda quer fazer contas. Se isso não é motivo para uma indenização pesada, só um anjo nos pode salvar.
 - (B) Uma indenização, ainda que simbólica, seria uma forma de fazer doutrina: quando queremos ter filhos, é importante ter o consentimento deles.
 - (C) Mas há, digamos, um "pecado original" que o rapaz não pode perdoar: ele nasceu sem dar o seu consentimento.
 - (D) Hoje, convém poupar primeiro para a indenização que eles nos vão pedir.
 - (E) O problema dos cálculos meramente utilitaristas é que eles são dotados de uma espantosa flexibilidade.
- 03.** Assinale a alternativa que reescreve o segundo parágrafo de acordo com a norma-padrão de pontuação.
- (A) Se o leitor nunca pensou nessa hipótese, isso pode significar duas coisas: primeiro, que é uma pessoa sã; segundo, que nunca leu a saga do indiano Raphael Samuel (27), que, segundo o jornal "The Guardian", tentou processar os progenitores.
 - (B) Se o leitor nunca pensou nessa hipótese, isso pode significar duas coisas: primeiro que é uma pessoa sã, segundo, que nunca leu a saga do indiano Raphael Samuel – 27 que segundo o jornal "The Guardian", tentou processar os progenitores.
 - (C) Se o leitor nunca pensou nessa hipótese, isso pode significar duas coisas – que é uma pessoa sã, primeiro. Segundo, que nunca leu a saga do indiano Raphael Samuel, (27) que, tentou processar os progenitores (segundo o jornal "The Guardian").
 - (D) Isso pode significar, se o leitor nunca pensou nessa hipótese duas coisas - que é uma pessoa sã, primeiro, que segundo, nunca leu a saga do indiano Raphael Samuel, 27 (que tentou processar os progenitores) segundo o jornal "The Guardian".
 - (E) Isso, se o leitor nunca pensou nessa hipótese pode significar duas coisas. Primeiro: que é uma pessoa sã, segundo: que nunca leu a saga do indiano Raphael Samuel – 27 –, que tentou processar os progenitores, segundo o jornal "The Guardian".

04. Assinale a alternativa que reescreve a passagem – Hoje, convém poupar primeiro para a indenização que eles nos vão pedir. – de acordo com a norma-padrão de emprego dos verbos e colocação pronominal.

- (A) Futuramente, até convinha-nos poupar primeiro para a indenização que eles irão nos pedir.
- (B) Antigamente, sempre nos conviera poupar primeiro para a indenização que eles nos irão pedir.
- (C) Antigamente, talvez nos conviesse poupar primeiro para a indenização que eles iam nos pedir.
- (D) Antigamente, por certo conveio-nos poupar primeiro para a indenização que eles irão nos pedir.
- (E) Futuramente, é possível que convirá-nos poupar primeiro para a indenização que eles iam pedir-nos.

05. Assinale a alternativa que reescreve o trecho destacado na passagem – **Se o leitor nunca pensou** nessa hipótese, isso pode significar duas coisas. – com correção e preservando o sentido original.

- (A) À medida que o leitor nunca pensasse
- (B) Contudo o leitor nunca tenha pensado
- (C) Pois o leitor nunca pensou
- (D) Apesar de que o leitor nunca pense
- (E) Caso o leitor nunca tenha pensado

Leia o texto, para responder às questões de números 06 a 10.

Os fatos foram opostos – inundações e fogarú – , e a reação a eles também. Em uma mesma semana, a cidade italiana de Veneza e a costa leste da Austrália **materializaram** o embate que contrapõe “ambientalistas” a “negacionistas” quando o assunto são as mudanças climáticas que afetam o planeta. Na quarta-feira 13, o prefeito de Veneza, Luigi Brugnaro, declarou estado de emergência na extraordinariamente bela capital da região do Vêneto, no norte da Itália, **notabilizada** por seus canais. Motivo: a maior cheia já registrada nos últimos cinquenta anos. O nível da água se elevou tanto que agravou a degradação de construções históricas – e, pior, fez duas vítimas logo nos primeiros dias, mortas em suas casas. As águas subiram quase 2 metros, e ondas de mais de 1 metro e meio atingiram cerca de 85% da cidade. Um horror.

“Pedimos ao governo que nos ajude. O custo será alto. Esse é o resultado da mudança climática”, escreveu o prefeito nas redes sociais. Um relatório de 2017 de uma Agência Nacional italiana advertiu que a cidade dos canais ficará submersa até o final deste século se o aquecimento global não for contido por medidas como as previstas no Acordo de Paris de 2015.

Mas, se em Veneza o Poder Executivo reconheceu publicamente que as inundações decorriam do peso da interferência humana no clima da Terra, a 16 000 quilômetros de lá, outra catástrofe para o meio ambiente foi definida como “natural” – apesar de seu inédito impacto. O fogo começou a destruir a mata costeira em regiões muito próximas a Sidney. As labaredas devastaram cerca de 1 000 quilômetros de área florestal, provocando a morte de pessoas e de animais únicos da fauna do país. Encarando tudo como fenômeno da natureza, o vice-premiê australiano chamou de “lunáticos” os que acreditam no aquecimento global.

(Sabrina Brito, Entre a água e o fogo. *Veja*, 20.11.2019. Adaptado)

06. A oposição entre “ambientalistas” e “negacionistas” refere-se, no texto,

- (A) aos efeitos contrastantes das duas catástrofes que acometeram Veneza e regiões da Austrália.
- (B) aos pontos de vista adotados pelas autoridades diante das catástrofes que atingem áreas de seus respectivos países.
- (C) à natureza incontrolável da inundações em Veneza, em oposição à possibilidade de controle do incêndio nas proximidades de Sidney.
- (D) às diferentes dimensões dos fenômenos naturais que vitimaram pessoas e animais nos eventos citados.
- (E) às consequências das mudanças climáticas, reconhecidamente responsáveis pelas duas tragédias.

07. É correto afirmar que, em relação ao assunto de que trata, a autora do texto

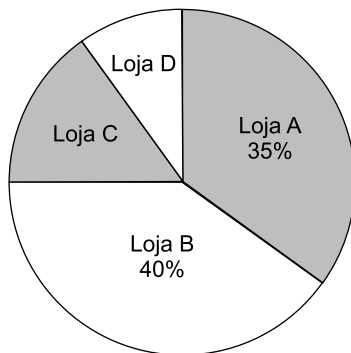
- (A) mostra distanciamento, vendo os fenômenos como decorrentes de mudanças climáticas.
- (B) toma partido acerca das reações dos governantes citados, vendo, em ambos, reações coerentes.
- (C) sugere que nada do que venha a ser feito poderá evitar a repetição dessas catástrofes.
- (D) expressa atitude de reação, classificando os efeitos da inundações como “Um horror.”
- (E) deixa explícito que sua avaliação dos eventos não mudará a atitude dos representantes dos países envolvidos.

08. Assinale a alternativa redigida de acordo com a norma-padrão de concordância verbal e nominal.

- (A) 1 metro e meio foram o tamanho das ondas.
- (B) 85% da cidade de Veneza foram invadidos pela água.
- (C) Já se registrou cheias em Veneza, ainda maior do que a atual.
- (D) Segundo o prefeito de Veneza, será necessário os recursos do governo italiano.
- (E) Perto de 1 000 quilômetros de área florestal foi destruído pelo fogo.

09. As expressões – **materializaram** e **notabilizada** –, destacadas no primeiro parágrafo, têm como sinônimos adequados ao contexto, respectivamente,
- (A) reuniram e afamada.
(B) assumiram e ilustre.
(C) esclareceram e consagrada.
(D) corporificaram e célebre.
(E) delimitaram e cercada.
10. Assinale a alternativa redigida segundo a norma-padrão de emprego de pronomes e do sinal indicativo de crase.
- (A) O prefeito de Veneza, cujas ruas e praças estão alagadas, fez um apelo às autoridades do país.
(B) O fogo que atingiu à Austrália é atribuído à fenômenos naturais.
(C) À partir de quando o homem aprenderá a respeitar espécies que a sobrevivência está ameaçada?
(D) Sem preservar a natureza, à qual é garantia de sua sobrevivência, o homem passará à viver dias terríveis.
(E) Não é possível estimar à tragédia causada pelo fogo cujo consumiu milhares de árvores na Austrália.
11. Com R\$ 120,00 é possível comprar 6 pastas, a R\$ 4,00 a unidade, e 8 cadernos iguais, não restando troco algum. O maior número de pastas que podem ser compradas com o mesmo valor pago na compra de um caderno é
- (A) 3.
(B) 5.
(C) 8.
(D) 10.
(E) 12.
12. Em uma empresa trabalham 80 funcionários, dos quais $\frac{1}{5}$ trabalha no setor administrativo. Entre os funcionários restantes, $\frac{7}{8}$ trabalham no setor operacional e os demais na manutenção. Em relação ao número total de funcionários que trabalha nessa empresa, aqueles que trabalham na manutenção correspondem a
- (A) $\frac{2}{5}$
(B) $\frac{3}{10}$
(C) $\frac{1}{4}$
(D) $\frac{1}{10}$
(E) $\frac{1}{20}$
13. Uma pessoa guardou em um vidro, somente moedas de R\$ 1,00 e de R\$ 0,50. Certo dia, ao contabilizar essas moedas, constatou que havia, no total, 84 moedas, e que a razão do número de moedas de R\$ 1,00 para o número de moedas de R\$ 0,50 era $\frac{5}{7}$. As moedas de R\$ 0,50, juntas, totalizavam o valor de
- (A) R\$ 35,00.
(B) R\$ 32,50.
(C) R\$ 30,50.
(D) R\$ 27,00.
(E) R\$ 24,50.

14. Em um depósito, há determinado número de unidades de um produto, que será distribuído entre as lojas A, B, C e D. O gráfico mostra algumas informações da porcentagem, sobre o número total de unidades desse produto, destinadas a cada loja.



Sabendo que as lojas C e D, juntas, receberam 120 unidades do produto, então, o número de unidades recebidas pela loja A foi

- (A) 192.
(B) 168.
(C) 144.
(D) 72.
(E) 48.
15. Um rolo de fita adesiva tem 50 m de comprimento. Desse total, foram cortados 5 pedaços, cada um deles com 75 cm de comprimento, e 9 pedaços com 1,25 m cada um. O comprimento da fita, restante no rolo, é de
- (A) 30 m.
(B) 32 m.
(C) 35 m.
(D) 38 m.
(E) 40 m.
16. Determinado número de pastas precisa ser colocado em caixas, de modo que cada caixa fique com o mesmo número de pastas. O funcionário responsável pelo serviço percebeu que era possível colocar 20 pastas em cada uma das caixas disponíveis, e que, dessa forma, não ficaria pasta alguma de fora. Porém, como 3 das caixas disponíveis foram utilizadas para outro serviço, então, foram colocadas 25 pastas, em cada uma das caixas restantes, e, dessa forma, também, nenhuma pasta ficou fora das caixas. O número total de pastas era
- (A) 300.
(B) 280.
(C) 250.
(D) 230.
(E) 200.

17. Em um restaurante, há 40 mesas, algumas com 4 cadeiras e outras com 6 cadeiras, sendo que o número de mesas com 4 cadeiras supera o número de mesas com 6 cadeiras em 10 mesas. O número total de cadeiras de todas essas mesas juntas é
- (A) 160.
 (B) 170.
 (C) 180.
 (D) 190.
 (E) 200.

18. A tabela apresenta algumas informações sobre o número de unidades vendidas de um produto em 5 dias de uma semana.

Dia da semana	Nº de unidades vendidas
2ª feira	X
3ª feira	13
4ª feira	15
5ª feira	25
6ª feira	28

Sabendo que o número de unidades vendidas na 2ª feira foi igual à metade da média diária do número de unidades vendidas nesses 5 dias, então, a média diária do número de unidades vendidas nesses 5 dias foi

- (A) 21.
 (B) 18.
 (C) 15.
 (D) 12.
 (E) 9.
19. Uma sala retangular ABCD, com 8 m de largura, teve parte de sua área reservada para estocar materiais, conforme mostra a figura.

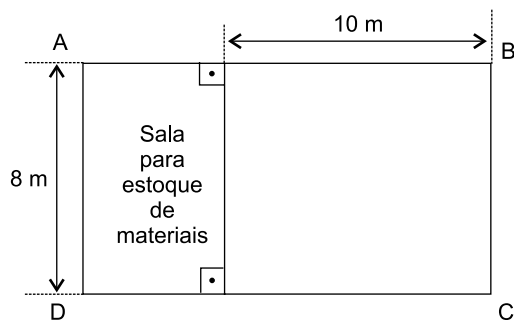


Figura fora de escala

Sabendo que o perímetro da sala reservada é igual à metade do perímetro da sala ABCD, então, a área da sala reservada é igual a

- (A) 12 m².
 (B) 14 m².
 (C) 16 m².
 (D) 18 m².
 (E) 20 m².

20. Vários blocos de papel, todos iguais entre si, e cada um deles no formato de um prisma reto de base retangular, com 30 cm de comprimento, 20 cm de largura e 5 cm de altura, foram empilhados, conforme mostra a figura.

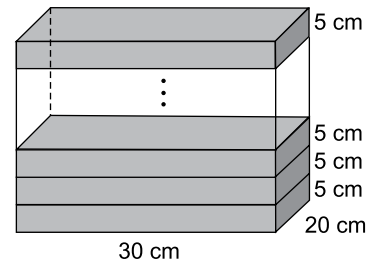


Figura fora de escala

Se o volume total dessa pilha é 45 000 cm³, o número de blocos dela é

- (A) 11.
 (B) 12.
 (C) 13.
 (D) 14.
 (E) 15.

R A S C U N H O

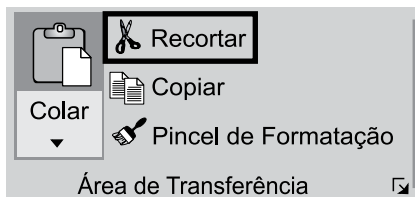
LEGISLAÇÃO

- 21.** Determinado servidor público do Município de Valinhos requereu à Administração a concessão de licença para tratamento de saúde, pelo prazo de 60 dias, com base em atestado fornecido por um médico particular não credenciado pelo Município. Nessa hipótese, a Lei Municipal nº 2.018/1986 (Estatuto dos Servidores) estabelece que
- (A) poderá ser concedida, pois a licença até 60 dias independe de atestado médico, bastando a declaração oficial do próprio servidor.
 - (B) a concessão da licença dependerá de exame do funcionário por junta médica indicada pela autoridade municipal competente.
 - (C) não poderá ser concedida a licença, pois o exame para a sua concessão deve ser feito por médico do Município oficial ou credenciado.
 - (D) a licença somente poderá ser concedida pelo prazo de 30 dias, devendo o servidor, após esse prazo, submeter-se à junta médica oficial.
 - (E) a licença poderá ser concedida, mas o atestado só produzirá efeitos depois de homologado pelo serviço de saúde do Município.
- 22.** No caso de penalidade a qualquer funcionário que se encontre afastado junto a outros órgãos ou entidades, as sanções disciplinares previstas na Lei Municipal nº 2.018/1986
- (A) não podem ser aplicadas.
 - (B) serão aplicadas pelo Prefeito Municipal.
 - (C) somente podem ser aplicadas após o seu retorno.
 - (D) ficarão suspensas por tempo indeterminado.
 - (E) serão aplicadas pelo superior imediato do servidor.
- 23.** Nos termos da Lei Municipal nº 4.877/2013 (Lei da Criação do VALIPREV), independentemente de outros vínculos com o Município, considera-se segurado obrigatório do Regime Próprio de Previdência Social – RPPS do Município de Valinhos, dentre outros,
- (A) o Prefeito.
 - (B) qualquer Secretário Municipal.
 - (C) o servidor municipal inativo aposentado pelo VALIPREV.
 - (D) o Presidente da Câmara Municipal.
 - (E) o Vereador.
- 24.** Segundo a Lei Municipal nº 4.877/2013 (Lei da Criação do VALIPREV), na hipótese de um servidor municipal vinculado ao Regime Próprio de Previdência Social do Município de Valinhos, que esteja afastado do serviço por motivo de doença por mais de 2 (dois) anos, esse servidor
- (A) será compulsoriamente aposentado por invalidez.
 - (B) terá direito a pedir a aposentadoria, sem necessidade de passar por perícia médica.
 - (C) perderá o direito a retornar ao serviço público no cargo de origem.
 - (D) será colocado em disponibilidade, com proventos proporcionais ao tempo de serviço público.
 - (E) será submetido à perícia do VALIPREV, para eventual aposentadoria por invalidez permanente.
- 25.** No tocante ao salário-maternidade, a Lei Municipal nº 4.877/2013 (Lei da Criação do VALIPREV) estabelece que
- (A) é devido à segurada, durante 120 (cento e vinte) dias, que devem ser contados da data do parto.
 - (B) deve ser requerido até 30 (trinta) dias antes da data do parto ou 5 (cinco) dias após se o parto for antecipado.
 - (C) a segurada terá direito ao salário-maternidade correspondente a três meses, em caso de aborto não criminoso.
 - (D) em caso de parto antecipado ou de nascimento sem vida, a segurada terá direito aos 120 (cento e vinte) dias de licença.
 - (E) ele é devido à segurada que adotar ou obtiver guarda judicial para fins de adoção de criança, pelo período máximo de 90 (noventa) dias.

26. Usando o Microsoft Windows 7, em sua configuração padrão, um usuário está editando uma frase no Wordpad e a formatou como negrito, sublinhado e itálico. Ao selecionar toda essa frase, pressionar as teclas CTRL+C, abrir o Bloco de Notas, em sua configuração original, e pressionar as teclas CTRL+V, assinale a alternativa que indica, corretamente, como estará formatada essa frase no Bloco de Notas.

- (A) Com todas as mesmas formatações: negrito, sublinhado e itálico.
- (B) Com negrito, apenas.
- (C) Com negrito e itálico, apenas.
- (D) Com sublinhado, apenas.
- (E) Sem nenhuma das formatações de negrito, sublinhado e itálico.

27. No Microsoft Word 2010, em sua configuração padrão, tem-se o ícone Recortar, do grupo Área de Transferência e guia Página Inicial, destacado na imagem a seguir.



Assinale a alternativa que apresenta a combinação de teclas com o mesmo efeito desse ícone.

- (A) CTRL+V
- (B) CTRL+C
- (C) CTRL+X
- (D) CTRL+A
- (E) CTRL+R

28. Tem-se a seguinte planilha, criada no Microsoft Excel 2010, em sua configuração padrão.

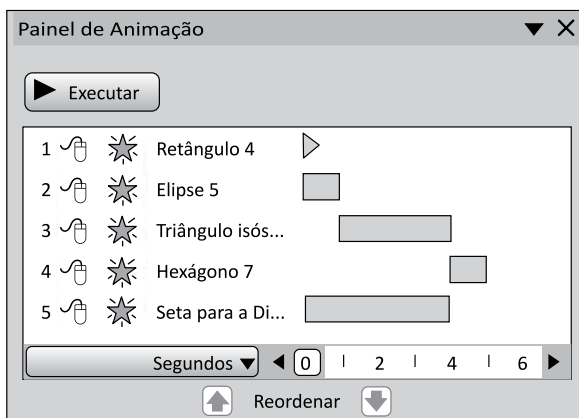
	A	B	C	D	
1	Data	Ações		Saldo	
2	13/10/2019	5		3	
3	12/10/2019	27		16	
4	10/10/2019	55		33	
5	08/10/2019	6		4	
6	07/10/2019	47		28	
7	19/10/2019	59		35	
8	28/10/2019	34		20	
9	01/10/2019	54		32	
10	23/10/2019	12		7	
11					
12					
13					
14					

< > Planilha1 | Planilha2 | +

Com a célula A1 selecionada, assinale a alternativa que apresenta o resultado da ação ao pressionar as teclas CTRL+Page Down.

- (A) É ativada a Planilha2.
- (B) A célula ativa passa a ser a A10.
- (C) A célula ativa passa a ser a B1.
- (D) A célula ativa passa a ser a B10.
- (E) A célula ativa passa a ser a D10.

29. Tem-se o Painel de Animação de 5 AutoFormas em um slide criado no Microsoft PowerPoint 2010, em sua configuração original.



Assinale a alternativa que indica qual AutoForma tem a duração da animação mais longa, sem contar o tempo de demora.

- (A) 1-Retângulo 4
 (B) 2-Elipse 5
 (C) 3-Triângulo isós...
 (D) 4-Hexágono 7
 (E) 5-Seta para a Di...
30. Considerando o uso do aplicativo Microsoft Outlook 2010, em sua configuração padrão, um usuário deseja enviar uma mensagem de correio eletrônico para 30 destinatários, mas quer evitar que qualquer um desses destinatários possa clicar em Responder para todos e, com isso, enviar respostas dessa mensagem original para qualquer um dos 30 destinatários originais. Para isso, esse usuário inicial precisa colocar todos os 30 destinatários

- (A) no campo Cc, apenas.
 (B) no campo Cco, apenas.
 (C) no campo Para, apenas, e escrever no campo Assunto a palavra Oculto.
 (D) nos campos Para e Cco, ao mesmo tempo.
 (E) nos campos Cc e Cco, ao mesmo tempo.

CONHECIMENTOS ESPECÍFICOS

Os dados a seguir serão utilizados para responder às questões de números 31 e 32.

Analise o Balancete de Verificação da Cia Valinhos em 31/12/2018.

Balancete de Verificação	
Contas	em R\$
Ajuste a valor recuperável de equipamentos (ativo)	200,00
Bancos	6.000,00
Caixa	500,00
Capital a integralizar	35.000,00
Capital Subscrito	100.000,00
Clientes	10.000,00
Custo da Mercadoria Vendida	48.900,00
Depreciação acumulada	3.000,00
Despesa com aluguéis	700,00
Despesa com depreciação	1.000,00
Despesa com Perda Estimada com Crédito de Liquidação Duvidosa (PECLD)	100,00
Despesa com salários	12.000,00
Despesas antecipadas	3.400,00
Despesas gerais	1.500,00
Empréstimos Recebidos	35.000,00
Estoques	30.000,00
Financiamentos Recebidos	45.000,00
Fornecedores	10.000,00
Móveis e equipamentos	65.800,00
PECLD (ativo)	450,00
Receita	100.000,00
Reserva de Lucros	35.800,00
Salários a Pagar	15.000,00
Veículos	93.750,00

31. O total do ativo, em R\$, é:

- (A) 170.000,00
 (B) 200.000,00
 (C) 205.800,00
 (D) 206.000,00
 (E) 206.250,00

32. O resultado do período, em R\$, é:

- (A) 30.000,00
 (B) 34.100,00
 (C) 35.000,00
 (D) 35.800,00
 (E) 35.900,00

33. Assinale a alternativa correta.

- (A) A Demonstração do Resultado do Exercício realiza a confrontação das receitas com as despesas do período.
- (B) As contas patrimoniais integram o Balanço Patrimonial e a Demonstração de Resultado do Exercício e são encerradas ao fim de todo o exercício social.
- (C) As contas redutoras de ativo possuem natureza devedora e, por isso, diminuem o saldo do ativo total.
- (D) Para o encerramento das contas de resultado utilizam-se partidas simples ao invés de partidas dobradas.
- (E) Receitas antecipadas e receitas de vendas possuem o mesmo fato gerador de reconhecimento e mensuração, ou seja, a entrega efetiva do produto ou serviço ao cliente.

34. Uma entidade comercial adquiriu 30 unidades de mercadoria para revenda pelo valor total de R\$ 45.000,00. Sabe-se que sobre essa transação incidiram impostos recuperáveis cuja alíquota é de 15%. Baseado nesses dados, o custo unitário desse estoque é, aproximadamente, em R\$:

- (A) 1.000
- (B) 1.250
- (C) 1.275
- (D) 1.450
- (E) 1.500

35. Uma entidade adquiriu, à vista, máquinas e equipamentos no dia 31/07/2019 por R\$ 120.000,00. Para que esses ativos estivessem disponíveis para uso em 01/09/2019, a entidade incorreu em gastos adicionais com instalação no valor de R\$ 10.000,00. Sabe-se que o fabricante prevê uma vida útil de 5 anos para esses equipamentos e valor residual igual a zero. A entidade optou por realizar, para fins societários, o método de depreciação linear.

Neste sentido, assinale a alternativa que contém o valor da despesa de depreciação trimestral desses equipamentos, em R\$.

- (A) 2.000
- (B) 2.600
- (C) 6.000
- (D) 6.500
- (E) 26.000

36. A companhia XXX adquiriu, para fins de investimentos, 150 ações da companhia YYY pelo valor unitário de R\$ 45,60 em 01/02/2018. Sabe-se que o contador da entidade reconheceu esse investimento como um instrumento financeiro mensurado a valor justo para o resultado do exercício. O contador verificou que o preço das ações da companhia YYY, em 31/12/2018, era de R\$ 40,70. Baseando-se nesses dados, o contador da companhia XXX reconheceu

- (A) despesa de equivalência patrimonial no valor de R\$ 735,00 no ajuste de avaliação patrimonial.
- (B) despesa de equivalência patrimonial no valor de R\$ 735,00 no resultado do exercício.
- (C) perda na venda de investimentos no valor de R\$ 735,00 no resultado do exercício.
- (D) perda por desvalorização de investimentos no valor de R\$ 735,00 no ajuste de avaliação patrimonial.
- (E) perda por desvalorização de investimentos no valor de R\$ 735,00 no resultado do exercício.

O texto a seguir será utilizado para responder às questões de números **37 a 39**.

A Companhia A possui 90% do patrimônio líquido da Companhia B e, portanto, tem influência significativa para definir sua estratégia de gestão.

Sabe-se que, em 31/12/2017, o Balanço Patrimonial individual da Companhia A apresentou um saldo com investimentos permanentes na Companhia B, no valor de R\$ 1.560.000,00.

Em 2018, a Companhia B obteve um lucro líquido no valor de R\$ 600.000,00. Sabe-se que a Assembleia de Acionistas da Companhia B decidiu por distribuir, após a constituição da reserva legal, 35% dos lucros auferidos no período.

37. Considerando as informações apresentadas no texto, a Demonstração de Resultado do Exercício individual da Companhia A, no exercício de 2018, apresentou

- (A) dividendos a receber, no valor de R\$ 513.000,00.
- (B) receita de dividendos, no valor de R\$ 513.000,00.
- (C) receita de dividendos, no valor de R\$ 540.000,00.
- (D) receita de equivalência patrimonial, no valor de R\$ 513.000,00.
- (E) receita de equivalência patrimonial, no valor de R\$ 540.000,00.

38. O valor dos dividendos a serem distribuídos pela Companhia B, referentes ao exercício de 2018, totalizou, em R\$:

- (A) 179.550,00
- (B) 199.500,00
- (C) 210.000,00
- (D) 570.000,00
- (E) 600.000,00

39. No Balanço Patrimonial Anual individual da Companhia A, referente ao exercício de 2018, o saldo de investimentos permanentes na Companhia B totalizou, em R\$:

- (A) 1.500.000,00
- (B) 1.890.000,00
- (C) 1.900.500,00
- (D) 1.920.450,00
- (E) 2.310.000,00

40. Uma entidade realizou aplicações financeiras com as seguintes características: (1) risco mínimo de mudanças no valor do investimento; (2) prazo de resgate de 40 dias a contar da data da aplicação e (3) liquidez imediata. Neste sentido, esses instrumentos financeiros devem ser classificados, conforme os padrões contábeis atualmente vigentes no Brasil, como:

- (A) Caixa e Equivalentes de Caixa.
- (B) Investimentos em intangíveis mensurados a valor justo para outros resultados abrangentes.
- (C) Investimentos financeiros mensurados ao custo amortizado para resultado do exercício.
- (D) Investimentos Financeiros mensurados a valor justo para outros resultados abrangentes.
- (E) Investimentos Financeiros mensurados a valor justo para resultado do exercício.

41. Uma entidade apresentou as seguintes informações financeiras:

Salários a pagar em 31/12/2017: R\$ 670.000,00
Salários a pagar em 31/12/2018: R\$ 840.000,00
Despesa com salários em 2018: R\$ 760.000,00

Neste sentido, o pagamento de salários no exercício de 2018 totalizou, em R\$:

- (A) 840.000,00
- (B) 590.000,00
- (C) 670.000,00
- (D) 750.000,00
- (E) 760.000,00

42. A SSS S.A. contratou, junto a uma instituição financeira, antecipação de recebíveis no valor de R\$ 500.000,00 pelo prazo de 12 meses, em 15/07/2019. Sabe-se que a instituição financeira depositou, na conta Bancos da SSS S.A, o valor de R\$ 480.540,00. Neste sentido, assinale o item que contém o correto registro dessa transação econômica em 15/07/2019, em R\$.

- (A) D: Bancos – 480.540,00
D: Despesa com juros e captação – 19.460,00
C: Duplicatas descontadas – 500.000,00
- (B) D: Bancos – 480.540,00
D: Encargos a apropriar – 19.460,00
C: Duplicatas descontadas – 500.000,00
- (C) D: Bancos – 480.540,00
D: Encargos a apropriar – 19.460,00
C: Clientes – 500.000,00
- (D) D: Bancos – 480.540,00
C: Empréstimos – 480.540,00
- (E) D: Bancos – 500.000,00
C: Empréstimos – 500.000,00

43. Assinale a alternativa correta sobre a emissão de Debêntures.

- (A) São títulos de dívida de curtíssimo prazo emitidos por sociedades por ações.
- (B) Para as debêntures conversíveis em ações, quando opção do debenturista, são resgatadas no vencimento pelo valor equivalente a partes beneficiárias da companhia emitente.
- (C) Os direitos e as remunerações oferecidas pelas debêntures são juros, participações nos lucros e prêmios de reembolso, por exemplo.
- (D) Constitui um instrumento no qual o tomador de recursos promete pagar ao aplicador o capital investido acrescido de multas por inadimplência.
- (E) As debêntures são negociadas por instituições financeiras.

44. O departamento jurídico de uma empresa de capital aberto apresentou as seguintes informações para o Departamento de Contabilidade:

Processos judiciais	Probabilidade de Desembolso (em R\$)		
	Remota	Possível	Provável
Trabalhistas	0,00	0,00	123.000,00
Cíveis	0,00	150.000,00	0,00
Tributários	120.000,00	0,00	0,00

O valor da Despesa com Provisão na Demonstração de Resultado do Exercício será, em R\$:

- (A) 123.000,00
- (B) 150.000,00
- (C) 273.000,00
- (D) 120.000,00
- (E) 393.000,00

- 45.** Assinale a alternativa que afeta o resultado contábil de uma entidade.
- (A) Valorização de propriedades para investimento.
 - (B) Integralização de capital em dinheiro.
 - (C) Integralização de capital com reservas de lucros.
 - (D) Aquisição de seguros antecipados.
 - (E) Aquisição de estoques à vista.
- 46.** Uma entidade assinou um contrato para exploração de uma área pública por 5 anos, sem cláusula de renovação, no valor de R\$ 500.000,00. Os gestores dessa entidade acreditam que, pela localização, a utilização dessa área pode gerar benefícios futuros de fortalecimento de marca por, no mínimo, 8 anos.
- Considerando essas informações, o contrato deverá ser registrado na contabilidade como um
- (A) ativo imobilizado.
 - (B) ativo intangível de vida útil definida por um prazo de 5 anos.
 - (C) ativo intangível de vida útil definida por um prazo de 8 anos.
 - (D) ativo intangível de vida útil indefinida.
 - (E) direito no ativo circulante.
- 47.** A Estratégia Global de Auditoria é um procedimento elaborado para
- (A) a aplicação prévia de normas brasileiras de contabilidade.
 - (B) obter autorização para coleta de evidências de auditoria.
 - (C) realizar a confecção do relatório de auditoria.
 - (D) propiciar o planejamento de auditoria.
 - (E) munir de informações o comitê de auditoria.
- 48.** Conforme a Norma Brasileira de Contabilidade TA230 (R1) referente a Documentação de Auditoria, esta serve para várias finalidades como, por exemplo:
- (A) não permitir que a equipe de trabalho possa ser responsabilizada por seu trabalho.
 - (B) manter um registro de assuntos irrelevantes para auditorias futuras.
 - (C) impedir a condução de revisões e inspeções de controle de qualidade em conformidade.
 - (D) auxiliar a auditoria interna no exercício das suas atividades no futuro.
 - (E) assistir a equipe de trabalho no planejamento e execução da auditoria.
- 49.** Assinale a alternativa correta a respeito do papel do auditor independente.
- (A) Realizar os registros contábeis não realizados pela contabilidade da entidade auditada.
 - (B) Promover melhorias no sistema de controles internos e contábeis da entidade auditada.
 - (C) Emitir uma opinião sobre o objeto de auditoria.
 - (D) Elaborar demonstrações contábeis aceitáveis para o cliente.
 - (E) Assegurar que as demonstrações contábeis não contenham fraudes.
- 50.** Assinale a alternativa correta sobre Restos a Pagar.
- (A) Sua inscrição deve observar o regime de competência e as condições da legislação pertinente.
 - (B) Devem ter seu mérito analisado antes de sua inscrição, conforme a Lei de Responsabilidade Fiscal, para que se evitem as heranças fiscais onerosas.
 - (C) Distinguem-se em dois tipos: os restos correntes e os restos não correntes.
 - (D) É composto por despesas não orçamentárias empenhadas e não pagas e são inscritos no início do exercício.
 - (E) É composto por todas as despesas regularmente empenhadas, do exercício atual ou anterior, mas não pagas ou canceladas até 31 de dezembro do exercício vigente.
- 51.** As compensações entre dívida ativa e precatórios ou de créditos previdenciários com obrigações previdenciárias são exemplos de transações sem efetivo fluxo de caixa. Neste sentido, com vistas a dar transparência às implicações dessas transações no setor público, o Manual de Contabilidade aplicado ao Setor Público orienta que
- (A) o registro do fluxo de caixa virtual seja realizado no sistema patrimonial.
 - (B) o registro em contas orçamentárias e de controle seja realizado.
 - (C) nenhum registro seja realizado, uma vez que o setor público utiliza o regime misto de caixa e competência.
 - (D) seja evidenciado, em notas explicativas, um ativo contingente.
 - (E) seja reconhecido, na Demonstração das Variações Patrimoniais, um ativo contingente.

- 52.** Os estoques no setor público são ativos
- (A) de uso comum do povo, entendidos como os de domínio público, construídos ou não por pessoas jurídicas de direito público.
 - (B) de uso especial, destinados a serviço ou como estabelecimento da administração federal, estadual ou municipal, inclusive autarquias e fundações públicas.
 - (C) dominicais, que constituem o patrimônio das pessoas jurídicas de direito público.
 - (D) mantidos para distribuição no curso anormal das operações de guerra, tais como munição e armas.
 - (E) na forma de materiais ou suprimentos a serem consumidos no processo de produção e/ou prestação de serviços.
- 53.** Com relação às receitas correntes e às receitas de capital, assinale a alternativa correta.
- (A) Ambas aumentam a disponibilidade financeira.
 - (B) Ambas aumentam o Patrimônio Líquido.
 - (C) As receitas correntes não aumentam o Patrimônio Líquido.
 - (D) As receitas de capital aumentam o Patrimônio Líquido.
 - (E) Nenhuma das duas aumenta a disponibilidade financeira.
- 54.** Conforme a Lei de Responsabilidade Fiscal, a Lei de Diretrizes Orçamentárias disporá sobre
- (A) as medidas de desempenho, com a finalidade de medir as realizações e os esforços dispendidos nos programas.
 - (B) a regionalização, por região administrativa, obrigatória.
 - (C) as contas do ativo e do passivo que são classificadas como financeiras ou permanentes.
 - (D) os objetivos e propósitos perseguidos pelo ente público e para cuja consecução são utilizados recursos orçamentários.
 - (E) normas relativas ao controle de custos e à avaliação dos resultados dos programas financiados com recursos dos orçamentos.
- 55.** Os ativos contingentes no setor público
- (A) resultam em receitas que são sempre realizadas.
 - (B) quando remotos, devem ser registrados no sistema orçamentário.
 - (C) quando prováveis, devem ser registrados em contas de controle.
 - (D) quando possíveis, devem ser reconhecidos em contas patrimoniais.
 - (E) devem ser sempre reconhecidos em contas patrimoniais.
- 56.** Um ente público efetuou compra de material de consumo sem autorização orçamentária por meio de um aceite de nota promissória no valor de R\$ 6.000,00 em 02/01/2019. Os materiais foram entregues no dia 02/02/2019.
- Como se trata de uma transação em não conformidade com as regras orçamentárias, contábeis e financeiras, a apuração de responsabilidade foi realizada.
- Neste sentido, assinale a alternativa correta sobre os procedimentos contábeis dessa transação.
- (A) Será publicada uma nota explicativa informando sobre a ilegalidade da operação.
 - (B) Se a transação provocar obrigação de pagar para o ente, o passivo deverá ser registrado, mesmo sem autorização orçamentária.
 - (C) Se a transação for registrada contabilmente, ela válida a operação ilegal.
 - (D) Qualquer operação vedada não deve ser registrada em nenhum dos sistemas contábeis.
 - (E) Após a apuração de responsabilidade, não será registrado um direito contra o servidor responsável.
- 57.** Um ente público alienou um equipamento por R\$ 45.000,00. Sabe-se que esse equipamento estava registrado no sistema patrimonial por R\$ 100.000,00 e que sua depreciação acumulada totalizava R\$ 65.000,00.
- Assinale a alternativa que contém o registro contábil do desreconhecimento do ativo e da entrada de caixa referente a essa receita de venda no sistema patrimonial, em R\$.
- (A) D: Disponibilidades – 45.000,00
C: Bens móveis – 35.000,00
C: Variação Patrimonial Aumentativa – 10.000,00
 - (B) D: Disponibilidades – 45.000,00
C: Variação Patrimonial Aumentativa – 45.000,00
 - (C) D: Receita de capital recebida – 45.000,00
C: Receita de capital prevista – 45.000,00
 - (D) D: Disponibilidades – 45.000,00
C: Bens móveis – 45.000,00
 - (E) D: Disponibilidades – 45.000,00
C: Reserva de reavaliação – 45.000,00
- 58.** No setor público, a Demonstração dos Fluxos de Caixa (DFC) apresenta as entradas e saídas de caixa e as classifica em fluxos operacional, de investimentos e financiamento.
- Assinale a alternativa que contém exemplos de fluxos de caixa relacionados às atividades operacionais do setor público.
- (A) Adiantamentos de empréstimos concedidos a terceiros.
 - (B) Amortização de empréstimos e financiamentos contraídos.
 - (C) Pagamentos por contratos futuros, a termo, de opção e swap.
 - (D) Recebimentos decorrentes da venda de instrumentos patrimoniais ou de dívidas de outras entidades.
 - (E) Recebimentos decorrentes de operações descontinuadas.

59. Assinale a alternativa correta.

- (A) Por meio do Balanço Orçamentário, é possível verificar se determinada ação governamental deve ser mantida ou encerrada.
- (B) Por meio do Relatório de Gestão Fiscal, o ente público pode analisar os limites de despesas com pessoal e adotar medidas de responsabilidade fiscal.
- (C) Por meio do Balanço Financeiro, é possível verificar as entradas e saídas de caixa operacionais oriundas da prestação de serviços públicos.
- (D) Por meio da Demonstração do Valor Acionado, é possível verificar o resultado social das políticas públicas.
- (E) Por meio da Demonstração do Resultado Abrangente, o setor público pode analisar o resultado econômico das suas atividades.

60. Um edifício adquirido para valorização ou obtenção de receitas de aluguéis deve ser classificado no ativo como

- (A) Estoque.
- (B) Imobilizado.
- (C) Intangível.
- (D) Propriedade para investimento.
- (E) Realizável a longo prazo.

