



PREFEITURA MUNICIPAL DE MARÍLIA

ESTADO DE SÃO PAULO

CONCURSO PÚBLICO

006. PROVA OBJETIVA

BIBLIOTECÁRIO

- ◆ Você recebeu sua folha de respostas e este caderno contendo 60 questões objetivas.
- ◆ Confira seus dados impressos na capa deste caderno e na folha de respostas.
- ◆ Quando for permitido abrir o caderno, verifique se está completo ou se apresenta imperfeições. Caso haja algum problema, informe ao fiscal da sala.
- ◆ Leia cuidadosamente todas as questões e escolha a resposta que você considera correta.
- ◆ Marque, na folha de respostas, com caneta de tinta preta, a letra correspondente à alternativa que você escolheu.
- ◆ A duração da prova é de 3 horas e 30 minutos, já incluído o tempo para o preenchimento da folha de respostas.
- ◆ Só será permitida a saída definitiva da sala e do prédio após transcorridos 75% do tempo de duração da prova.
- ◆ Deverão permanecer em cada uma das salas de prova os 3 últimos candidatos, até que o último deles entregue sua prova, assinando termo respectivo.
- ◆ Ao sair, você entregará ao fiscal a folha de respostas e este caderno, podendo levar apenas o rascunho de gabarito, localizado em sua carteira, para futura conferência.
- ◆ Até que você saia do prédio, todas as proibições e orientações continuam válidas.

AGUARDE A ORDEM DO FISCAL PARA ABRIR ESTE CADERNO DE QUESTÕES.

Nome do candidato _____

RG _____

Inscrição _____

Prédio _____

Sala _____

Carteira _____

CONHECIMENTOS GERAIS

LÍNGUA PORTUGUESA

Leia o texto para responder às questões de números **01** a **04**.

Mal aproveitado no Brasil, telhado de casas pode gerar energia e captar água

Tente imaginar as cidades brasileiras vistas de cima. Agora repare no desperdício que é a soma dos telhados de todas as edificações. O modelo construtivo convencional banalizou a função dessa parte de casas, prédios, escolas, ginásios, estádios etc. Ainda hoje, ensina-se em muitos cursos de engenharia e arquitetura que o telhado é apenas um telhado. Um rele arremate que cobre o que está embaixo. Não seria exagero chamar isso de crime de lesa-cidade. No século 21, essas áreas ganham progressivamente importância e prestígio na promoção da qualidade de vida de seus donos com múltiplos usos inteligentes. Quem mora em São Paulo aprendeu isso na raça. No auge da crise hídrica, muita gente adaptou às pressas o telhado para captar água de chuva.

Segundo a ANA (Agência Nacional de Águas), uma casa com 100 m² de área de telhado no centro da capital paulista pode captar água suficiente para abastecer uma família de quatro pessoas em suas necessidades de limpeza e descarga do vaso sanitário, por exemplo. Dependendo da localização, o telhado pode ser uma miniusina solar. Um *kit* completo, incluindo inversores e outros acessórios, custa cerca de R\$ 15 mil e é capaz de reduzir em até 80% a conta de luz, com o retorno do capital investido em, no máximo, 12 anos. É caro, mas o valor vem caindo 5% ao ano. O telhado verde, com o plantio de certas espécies mais indicadas para esse fim, promove o isolamento térmico e acústico e, se desejar, captação de água de chuva. Tudo isso sem falar no ar caprichoso da casa, que fica parecendo ter saído de um conto de fada dos irmãos Grimm.

Quer experimentar algo mais simples e barato? Pinte todo o telhado com tinta branca reflexiva e reduza em até 70% a temperatura no interior da construção, além de refletir os raios solares que agravam o efeito estufa. Um projeto simples, de eficácia indiscutível e que assegura bem-estar pessoal e munição extra contra o aquecimento global.

(André Trigueiro. www.folha.uol.com.br. 24.07.2016. Adaptado)

01. Considere as frases do primeiro parágrafo:

1. Ainda hoje, ensina-se em muitos cursos de engenharia e arquitetura que o telhado é apenas um telhado.
2. No século 21, essas áreas ganham progressivamente importância e prestígio na promoção da qualidade de vida de seus donos com múltiplos usos inteligentes.
3. No auge da crise hídrica, muita gente adaptou às pressas o telhado para captar água de chuva.

Ao ligar essas frases em sequência com conectivos, preservando-se a relação de sentido estabelecida no parágrafo, deve-se iniciar as frases 2 e 3, respectivamente, com:

- (A) Portanto; Por isso.
- (B) Desse modo; Haja vista.
- (C) Todavia; Por exemplo.
- (D) Apesar disso; Mesmo assim.
- (E) No entanto; Contudo.

02. No segundo e no terceiro parágrafos do texto, o autor apresenta modos diversos de explorar o telhado, envolvendo

- (A) economia de energia, qualidade de vida e impacto ambiental.
- (B) ampliação do espaço, lazer em família e diminuição de gastos.
- (C) lazer em família, economia de energia e controle da temperatura.
- (D) reciclagem de material, ampliação do espaço e aspecto estético.
- (E) diminuição de gastos, redução de ruídos e reciclagem de material.

03. Emprega-se com sentido figurado uma palavra que se encontra no trecho:

- (A) Agora repare no desperdício que é a soma dos telhados de todas as edificações. (1º parágrafo)
- (B) ... pode captar água suficiente para abastecer uma família de quatro pessoas... (2º parágrafo)
- (C) ... promove o isolamento térmico e acústico e, se desejar, captação de água de chuva. (2º parágrafo)
- (D) Pinte todo o telhado com tinta branca reflexiva... (3º parágrafo)
- (E) ... assegura bem-estar pessoal e munição extra contra o aquecimento global. (3º parágrafo)

04. Assinale a alternativa em que a pontuação se mantém em conformidade com a norma-padrão da língua após a rescrita da frase.

- (A) Mal aproveitado no Brasil, telhado de casas pode gerar energia e captar água.
Telhado de casas mal aproveitado no Brasil, pode gerar energia e captar água.
- (B) Tente imaginar as cidades brasileiras vistas de cima.
Tente imaginar vistas de cima, as cidades brasileiras.
- (C) Não seria exagero chamar isso de crime de lesa-cidade.
Chamar isso de crime de lesa-cidade, não seria exagero.
- (D) Dependendo da localização, o telhado pode ser uma miniusina solar.
O telhado, dependendo da localização, pode ser uma miniusina solar.
- (E) É caro, mas o valor vem caindo 5% ao ano.
É caro, mas o valor ao ano, vem caindo 5%.

05. A concordância padrão está plenamente respeitada em:

- (A) A função dos telhados das edificações tendem a ser banalizadas pelo modelo construtivo convencional.
- (B) Aos telhados dá-se gradativa importância na promoção da qualidade de vida nas grandes cidades.
- (C) Com o aproveitamento de 100 m² de área de telhado, é atendido a demanda de limpeza de uma família de quatro pessoas.
- (D) Obtêm-se o retorno do capital investido na aquisição de inversores e de outros acessórios em 12 anos, no máximo.
- (E) O cultivo de certas espécies de plantas no telhado podem garantir o isolamento térmico e acústico da edificação.

Leia o texto para responder às questões de números 06 a 09.

*Rubem Braga e Mário de Andrade, dois bichudos
que não se davam*

Qual a razão da desavença entre Rubem Braga e Mário de Andrade, dois dos mais influentes escritores brasileiros do século 20? Era sabido que os bichudos jamais se beijaram, e a leitura de “Os Moços Cantam & Outras Crônicas Sobre Música” – um dos três títulos de uma caixa recém-lançada – põe mais lenha na fogueira da vaidade literária.

Em texto que permanecia inédito em livro, publicado em 1957 no “Diário de Notícias”, Rubem Braga conta que, em cartas, o autor modernista se referia a ele como “asa negra da minha vida”. Macabro, não?

O cronista desconfia que a hostilidade começou durante a Revolução de 1932. Com 19 anos, Braga cobriu a revolta armada contra Getúlio Vargas, chegando a ser preso como espião. O paulista não teria gostado do tom irônico das reportagens. Um ano depois, os dois se encontraram na redação do jornal “Diário de São Paulo”. Braga, que ocupava a mesa ao lado daquela em que Mário vinha à noite escrever sua crítica de música, tentou uma aproximação – mas não foi bem recebido.

Já tendo se transformado no velho Braga, com as vastas sobranceiras e o bigode em forma de trapézio que lhe conferiam um ar ainda mais carrancudo, o “Sabiá da Crônica” não poupou bicadas: “Em assuntos de amizade, tenho horror dessa história de ‘trocar de bem’ e ‘trocar de mal’, e o maior tédio a confissões, acertos de conta, explicações sentimentais com homens”.

O fato é que Rubem Braga foi, entre os jovens intelectuais dos anos 1930, o único que não recebeu uma carta do guru Mário de Andrade. Se tivessem trocado um bilhete que seja, poderiam ter sido amigos. Ao menos, por correspondência.

(Álvaro Costa e Silva. *Folha de S.Paulo*, 11.10.2016. Adaptado)

06. O autor do texto

- (A) expõe as razões de Rubem Braga e de Mário de Andrade se repelirem intelectualmente e manifesta sua reprovação ao modo acintoso como o segundo, em suas crônicas, se reportava ao primeiro, o que se explicita no comentário *Macabro, não?* (2º parágrafo).
- (B) apresenta conjecturas de Rubem Braga acerca das razões da hostilidade de Mário de Andrade para com ele, tomando o cuidado de deixar claro que Braga não tinha certeza dos motivos do escritor modernista, o que se evidencia no segmento *O cronista desconfia* (3º parágrafo).
- (C) explica as origens do conflito entre Rubem Braga e Mário de Andrade, remontando à Revolução de 1932, quando os escritores tomaram posições opostas, o que fica evidente ao comparar os textos de ambos publicados no “Diário de Notícias” (3º parágrafo).
- (D) relaciona o desentendimento entre Rubem Braga e Mário de Andrade à vaidade acentuada deste último, opinião que se mostra inquestionável no uso da palavra *guru* referindo-se ao modo como o escritor modernista gostava de ser tratado pelos mais jovens (5º parágrafo).
- (E) relata que nem Rubem Braga nem Mário de Andrade demonstraram interesse em desenvolver um relacionamento amistoso, mesmo dividindo uma coluna no “Diário de São Paulo”, e lamenta essa distância ao afirmar que *poderiam ter sido amigos* (5º parágrafo).

07. Assinale a alternativa que apresenta um entendimento adequado da passagem do texto, considerada no contexto.

- (A) Qual a razão da desavença entre Rubem Braga e Mário de Andrade...? (1º parágrafo) / O desentendimento entre Rubem Braga e Mário de Andrade foi descoberto recentemente, o que surpreende o autor.
- (B) Com 19 anos, Braga cobriu a revolta armada contra Getúlio Vargas, chegando a ser preso como espião. (3º parágrafo) / Aos 19 anos, Braga já militava em partidos que se opunham ao governo, o que o levou a se tornar preso político.
- (C) Já tendo se transformado no velho Braga, com as vastas sobranceiras e o bigode em forma de trapézio que lhe conferiam um ar ainda mais carrancudo... (4º parágrafo) / Braga adquiriu um ar carrancudo depois que passou a usar o bigode em forma de trapézio.
- (D) O fato é que Rubem Braga foi, entre os jovens intelectuais dos anos 1930, o único que não recebeu uma carta do guru Mário de Andrade. (5º parágrafo) / Mário de Andrade era pródigo em escrever cartas aos jovens intelectuais dos anos 1930.
- (E) Se tivessem trocado um bilhete que seja, poderiam ter sido amigos. (5º parágrafo) / As discordâncias de Rubem Braga e Mário de Andrade resumiam-se a seus escritos literários.

08. Na frase que abre o texto, o vocábulo **influentes** está corretamente substituído pelo sinônimo:
- (A) pretensiosos.
 - (B) extravagantes.
 - (C) prestigiosos.
 - (D) austeros.
 - (E) renitentes.
09. Quanto à regência padrão, a expressão destacada em – ... o autor modernista **se referia a ele como** “asa negra da minha vida”. – está corretamente substituída por:
- (A) o atribuía a alcunha
 - (B) o concedia o apelido
 - (C) lhe classificava de
 - (D) lhe chamava de
 - (E) o denominava de
10. O acento indicativo de crase está empregado corretamente em:
- (A) No “Diário de São Paulo”, Mário de Andrade dedicava-se à crítica de música.
 - (B) Na redação do jornal “Diário de São Paulo”, Mário e Braga sentaram lado à lado.
 - (C) Se trocassem um bilhete sequer, os escritores chegariam à travar amizade.
 - (D) Rubem Braga diz ter, em assuntos de amizade, horror à explicações sentimentais.
 - (E) O cronista Rubem Braga foi o único à quem Mário de Andrade não escreveu.
11. Uma torneira, totalmente aberta por 50 minutos, com fluxo uniforme e ininterrupto, despejou água em um reservatório inicialmente vazio, correspondente a um quinto da capacidade total desse reservatório. Nas mesmas condições, para completar o reservatório com água, o tempo mínimo necessário que essa torneira deverá ficar aberta é de
- (A) 3 horas e 20 minutos.
 - (B) 3 horas e 40 minutos.
 - (C) 4 horas.
 - (D) 4 horas e 20 minutos.
 - (E) 4 horas e 40 minutos.
12. No regime de juros simples, para que um capital renda juros correspondentes a $\frac{6}{25}$ do valor aplicado, com taxa de juros anual de 18% ao ano, é necessário que ele fique aplicado por, pelo menos, um número de meses igual a
- (A) 13.
 - (B) 14.
 - (C) 15.
 - (D) 16.
 - (E) 17.
13. Um total de 300 peças de um determinado produto foi vendido da seguinte forma: as primeiras 40 peças, ao preço unitário de x reais; 60% do restante, com desconto de 10% sobre o preço unitário de x reais, gerando uma receita parcial de R\$ 561,60; as demais peças, ao preço unitário de R\$ 3,00. No final das vendas, o valor da receita total referente à comercialização do referido produto foi de
- (A) R\$ 1.011,20.
 - (B) R\$ 1.022,40.
 - (C) R\$ 1.033,60.
 - (D) R\$ 1.044,80.
 - (E) R\$ 1.055,00.

14. Considere a seguinte informação, relacionada à senha de acesso a *sites*:

“4 em cada 10 brasileiros não mudam senha, mesmo após ataque *online*”

A informação tem como base a análise de uma pesquisa publicada em agosto de 2017, por meio de entrevistas. Supondo-se que a diferença entre o número de pessoas entrevistadas que mudaram a senha do *site* invadido, após sofrerem um ataque *online*, e o número das que não mudaram era igual a 130, o número de brasileiros que teriam sido entrevistados é

- (A) 650.
(B) 660.
(C) 670.
(D) 680.
(E) 690.
15. Na tabela, são apresentadas informações sobre algumas das notas dadas por um grupo de consumidores, após a utilização de um serviço.

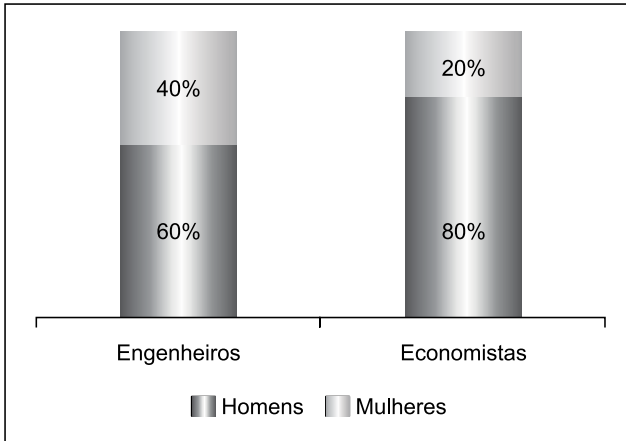
Nota	Nº de consumidores
5	2
6	2
7	2
8	1
9	x
10	1

Sabendo-se que a média das notas dadas pelos consumidores é igual a 7,8, então o número de consumidores que deram nota 9 pelo serviço supera o número dos que deram nota 6 em

- (A) 7 unidades.
(B) 6 unidades.
(C) 5 unidades.
(D) 4 unidades.
(E) 3 unidades.

16. Dentre os vários objetos comercializados por uma loja, há dois tipos de mesa: uma com tampo no formato de quadrado, de perímetro 4,8 metros, e outra com o tampo no formato retangular, com o lado maior medindo 1,5 metros a mais que o outro lado. Sabendo que a área da superfície do tampo da mesa retangular é $1,06 \text{ m}^2$ maior que a área do tampo da mesa quadrada, a medida do lado da mesa de tampo no formato de quadrado corresponde, da medida do maior lado da mesa com o tampo em formato retangular, a
- (A) 45%.
 - (B) 46%.
 - (C) 47%.
 - (D) 48%.
 - (E) 49%.
17. O preço unitário de venda de um produto A é R\$ 15,00 mais caro que o do produto B, em um mesmo estabelecimento. Um cliente comprou, nesse estabelecimento, 13 unidades desses produtos e pagou o total de R\$ 179,00, nessa compra, sendo que ele comprou 3 unidades a mais do produto B do que do produto A. Se outro cliente comprar uma unidade de cada um desses produtos, ele pagará o total de
- (A) R\$ 27,00.
 - (B) R\$ 28,00.
 - (C) R\$ 29,00.
 - (D) R\$ 30,00.
 - (E) R\$ 31,00.
18. Dois grupos de peças, um deles com 54 peças do tipo A e outro com 90 peças do tipo B, serão separados em caixas, contendo ambos os tipos de peças cada uma, com x peças do tipo A e y peças do tipo B. A fim de se formar o maior número possível de caixas, o número total de peças em cada caixa deverá ser igual a
- (A) 6.
 - (B) 8.
 - (C) 10.
 - (D) 12.
 - (E) 14.

19. O gráfico apresenta informações sobre dois grupos distintos de profissionais. Um grupo é formado somente por engenheiros e o outro somente por economistas.



Com base nas informações apresentadas no gráfico, assinale a alternativa que contém informação necessariamente verdadeira.

- (A) O número de mulheres engenheiras é metade do de homens economistas.
- (B) O número de homens engenheiros é menor que o de homens economistas.
- (C) O número de homens engenheiros é maior que o de homens economistas.
- (D) O número de homens é menor que o de mulheres, em ambos os grupos.
- (E) O número de homens é maior que o de mulheres, em ambos os grupos.
20. Ao realizar um cálculo, um profissional, que estava sem acesso a uma calculadora, chegou ao seguinte resultado:
- $$x = \sqrt[4]{128^7}$$
- Após realizar corretamente as operações, esse profissional identificou que o valor de x é
- (A) 2.
- (B) 4.
- (C) 8.
- (D) 16.
- (E) 32.

LEGISLAÇÃO

21. Júpiter da Silva, funcionário público do Município de Marília, cometeu ato ilícito que, em tese, enseja sua responsabilidade civil, administrativa e penal. No processo criminal que Júpiter respondeu perante a Justiça, houve decisão transitada em julgado que negou a existência do fato. Nessa situação, considerando o disposto na Lei Complementar Municipal nº 680/2013, é correto afirmar que Júpiter

- (A) deverá responder apenas civilmente pelo ato ilícito praticado.
- (B) terá afastada sua responsabilidade civil e administrativa.
- (C) responderá apenas administrativamente pelo ato ilícito praticado.
- (D) deverá ser responsabilizado civil e administrativamente pelo ato ilícito praticado, uma vez que essas sanções podem acumular-se entre si.
- (E) será julgado nas esferas civil e administrativa, de forma independente, mas deverão ser consideradas as provas produzidas na esfera criminal.

22. Nos termos da Lei Complementar Municipal nº 680/2013, o servidor público municipal ocupante de cargo em comissão, ao deixar o cargo,

- (A) não poderá ocupar outro cargo público municipal pelo prazo de um ano.
- (B) não poderá sofrer qualquer tipo de restrição de atividades.
- (C) ficará proibido de contratar com o poder público municipal pelo prazo de três anos.
- (D) ficará proibido de exercer atividade política partidária e de participar de diretoria de associações de classe ou de sindicatos pelo prazo de um ano.
- (E) estará sujeito à interdição de seis meses de atividades que caracterizem conflito de interesse com o cargo ocupado.

23. Nos termos do que estabelece, expressamente, a Lei Complementar Municipal nº 680/2013, a penalidade aplicável ao servidor público pela Comissão de Ética é a de

- (A) censura.
- (B) repreensão.
- (C) advertência.
- (D) suspensão.
- (E) multa.

24. Sobre a prescrição da ação disciplinar, a Lei Complementar Municipal nº 680/2013 dispõe que

- (A) a infração punível com demissão não prescreve.
- (B) a abertura de sindicância suspende o prazo prescricional.
- (C) o prazo de prescrição começa a correr da data em que o fato se tornou conhecido.
- (D) a instauração de processo disciplinar não tem o condão de interromper a prescrição.
- (E) interrompido o curso da prescrição, o prazo começará a correr a partir da cessação do motivo que deu causa à interrupção, computando-se o prazo anteriormente decorrido.

25. A responsabilidade pela condução e conclusão dos procedimentos de sindicância, previstos na Lei Complementar Municipal nº 680/2013, como regra, será

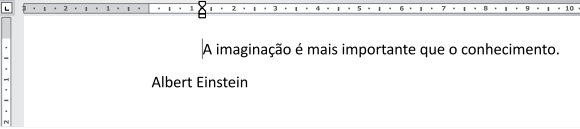
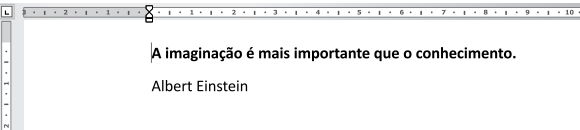
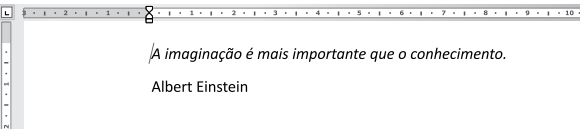
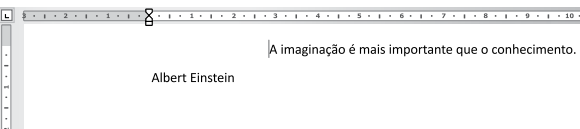
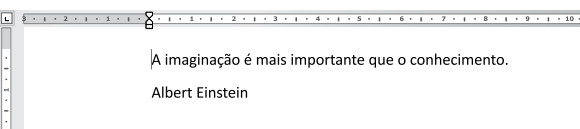
- (A) do Corregedor-Geral do Município.
- (B) do Procurador-Geral do Município.
- (C) da Comissão Processante Disciplinar.
- (D) da Comissão Permanente de Sindicância.
- (E) do Chefe de Gabinete do Prefeito.

NOÇÕES DE INFORMÁTICA

26. No Microsoft Windows 7, em sua configuração padrão, tem-se um arquivo denominado Revisao.txt na pasta C:\PROJETO_A. Um usuário selecionou esse arquivo e pressionou CTRL+C. Na sequência apagou o arquivo, utilizando a tecla DEL. Finalmente, na mesma pasta, pressionou CTRL+V. Nesse caso, o arquivo Revisao.txt

- (A) é colado na pasta C:\PROJETO_A com seu nome original.
- (B) não é colado, pois foi apagado.
- (C) é colado na pasta C:\PROJETO_A, porém com o nome Revisao(1).txt.
- (D) é colado na Área de Trabalho, pois havia sido apagado.
- (E) não é colado na pasta C:\PROJETO_A, mas sim na Área de Notificação, pois havia sido apagado.

27. Considerando o Microsoft Word 2010, em sua configuração padrão, assinale a alternativa em que o primeiro parágrafo está indentado.

- (A) 
- (B) 
- (C) 
- (D) 
- (E) 

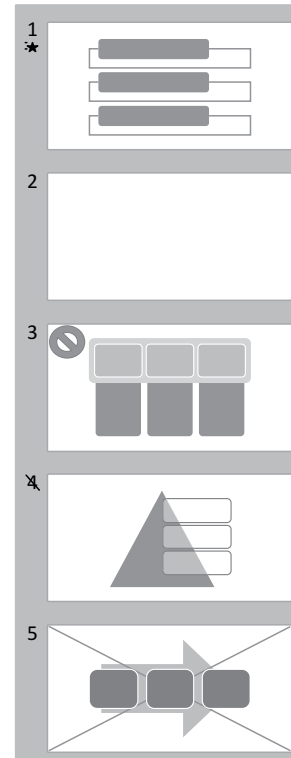
28. Um usuário preencheu uma planilha do Microsoft Excel 2010, em sua configuração padrão, conforme imagem a seguir.

	A	B	C
1	Oswaldo Pereira <Oswaldo.Pereira>		
2	Mateus Silva <Mateus.Silva>		
3	Marta Almeida <Marta.Almeida>		
4	Irineu Sanches <Irineu.Sanches>		
5	Liliane Souza <Liliane.Souza>		
6			

Ao inserir a fórmula =LOCALIZAR("<";A1) na célula B1, o resultado será

- (A) 1
 (B) 3
 (C) 17
 (D) VERDADEIRO
 (E) <

29. Com relação ao Microsoft PowerPoint 2010, em sua configuração original, assinale a alternativa que indica corretamente qual é o slide oculto na apresentação demonstrada a seguir.



- (A) 1
 (B) 2
 (C) 3
 (D) 4
 (E) 5

30. Um usuário está navegando na Internet utilizando o aplicativo Internet Explorer 11, em sua configuração original. O botão Avançar está ativo. Isso significa que

- (A) o Internet Explorer tem uma sugestão de navegação de um site semelhante à página em exibição, que é apresentada ao clicar no botão Avançar.
 (B) existe um link de envio de correio eletrônico na página em exibição, e o botão Avançar abre a janela Preparação de Mensagem.
 (C) o botão Avançar irá rolar a página para baixo.
 (D) a página será atualizada ao se clicar no botão Avançar.
 (E) o usuário navegou em um determinado site e clicou no botão Voltar.

CONHECIMENTOS ESPECÍFICOS

31. Na Sociedade da Informação, um aspecto que se destaca é
- (A) a disponibilização de informação especializada, por protocolos *Creative Commons*, pelas instituições de Pesquisa e Desenvolvimento (P&D).
 - (B) a utilização da informação como recurso econômico para aumentar a eficácia e a competitividade das organizações.
 - (C) a distribuição universal de informação aliada ao acesso equitativo para as camadas da população.
 - (D) o crescimento exponencial de bibliotecas especializadas em países em desenvolvimento.
 - (E) o aumento qualitativo do conhecimento científico propiciado pela brecha digital.
32. A criação do Instituto Internacional de Bibliografia, em fins do século XIX,
- (A) deu início a transformações significativas no controle bibliográfico e no tratamento de conteúdo de documentos.
 - (B) promoveu a transição da Ciência da Documentação para a Ciência da Informação sob a liderança de Vannevar Bush.
 - (C) foi responsável pela criação, no Georgia Institute of Technology, do dispositivo denominado Memex.
 - (D) favoreceu a criação da teoria dos sistemas de recuperação da informação por Claude Shannon e Warren Weaver.
 - (E) é atribuída à bibliotecária francesa Suzanne Briet, conhecida como *Madame Documentation*.
33. A biblioteca pública, para atuar como instituição cultural, vem adotando o conceito de ação cultural. Segundo esse conceito,
- (A) cabe ao bibliotecário a missão de promover atividades que dão visibilidade à biblioteca.
 - (B) o suporte teórico mais importante das atividades de ação cultural são as técnicas de organização do conhecimento.
 - (C) as bibliotecas públicas devem ser centros de auxílio à realização de trabalhos de pesquisas sobre arte.
 - (D) o público é um ator e participante ativo da produção de bens culturais.
 - (E) os resultados da ação cultural são alcançados de forma rápida e sempre previsível.
34. Segundo o manifesto IFLA/Unesco das Bibliotecas Públicas (1994),
- (A) a faixa etária mais adequada para iniciar e fortalecer os hábitos de leitura é a adolescência.
 - (B) a biblioteca pública é o principal instrumento para promover a educação formal da população.
 - (C) a biblioteca pública deve ser objeto de legislação específica, financiada pelos governos nacionais e locais.
 - (D) o acesso a todos os tipos de informação deve ser assegurado por meio das tecnologias da computação.
 - (E) o alto custo da informação torna mandatória a contribuição das empresas locais para manter as bibliotecas públicas.
35. O conceito de documento, na tradição da Teoria da Documentação, refere-se
- (A) aos textos, imagens e sons registrados em diferentes suportes.
 - (B) às mensagens inscritas em suportes bidimensionais.
 - (C) aos objetos naturais imersos em seu próprio meio.
 - (D) ao processo cognitivo de criar ideias científicas.
 - (E) às relações entre ícones, índices e signos.
36. A ênfase na atribuição de valor aos documentos varia de área para área do conhecimento. Via de regra, na
- (A) Arquivística, privilegia-se o formalismo dos documentos.
 - (B) Museologia, privilegia-se a reprodutibilidade dos documentos.
 - (C) Ciência da informação, privilegia-se a durabilidade dos documentos.
 - (D) Biblioteconomia, privilegia-se o conteúdo informativo dos documentos.
 - (E) Comunicação, privilegia-se a neutralidade da informação.
37. Os documentos podem ser classificados segundo o grau de elaboração da informação. Nesse sentido, são documentos considerados
- (A) primários os que contêm informações simplificadas.
 - (B) secundários as cópias de documentos originais.
 - (C) secundários as bibliografias, os catálogos, as enciclopédias e os anuários.
 - (D) terciários os diretórios, os organogramas e as tabelas.
 - (E) primários os manuais, os índices e os dicionários.

38. Os objetos informacionais podem ser armazenados de acordo com diferentes critérios. Segundo o critério de armazenamento
- (A) de acessibilidade, eles são organizados em principais e complementares.
 - (B) classificatório, eles são organizados com base em um sistema numérico.
 - (C) alfabético, eles são organizados de acordo com a autoria.
 - (D) para fins patrimoniais, eles são organizados pelo nome da entidade compradora.
 - (E) sistemático, eles são organizados com base na classificação dos assuntos.
39. A seleção, a aquisição e o descarte são atividades da cadeia documentária. O critério de
- (A) seleção deve basear-se nos *rankings* elaborados pelas editoras.
 - (B) seleção deve basear-se nas necessidades informacionais dos usuários.
 - (C) aquisição deve ter como base o preço das obras.
 - (D) descarte deve ter como princípio a idade e a conservação das obras.
 - (E) aquisição antecede à política de formação de coleções.
40. A disseminação de informações pode ser feita por meio de diversos tipos de fontes. As fontes
- (A) primárias são de difícil acesso pela interferência dos direitos autorais.
 - (B) terciárias são utilizadas para padronizar a descrição de obras.
 - (C) primárias são limitantes por conterem metadados precisos.
 - (D) secundárias são pouco utilizadas para a busca de informações.
 - (E) secundárias são instrumentos de difusão de informações referenciais.
41. As linguagens documentárias do tipo tesouro indicam as relações entre os descritores por meio de códigos como TG, TE, TR, NE, USE e UP. Os códigos
- (A) TG e TR indicam relações de sinonímia entre dois descritores.
 - (B) TE e UP indicam relações de coordenação entre vários descritores.
 - (C) TE e TR indicam relações de subordinação entre descritores.
 - (D) TG e TE indicam relações hierárquicas entre dois descritores.
 - (E) TG e NE indicam relações de não equivalência entre descritores.
42. As linguagens documentárias são construídas com a finalidade de
- (A) controlar os termos usados na indexação e recuperação de informação.
 - (B) prescrever o uso da linguagem natural na indexação e recuperação de informação.
 - (C) conferir liberdade terminológica ao tratamento e à recuperação da informação.
 - (D) ampliar o número de termos atribuídos aos documentos, para garantir a precisão na recuperação.
 - (E) assegurar a precisão dos resultados de buscas de informação em sistemas de texto integral.
43. Há diferentes tipos de instrumentos técnicos para processar informação. Nesse conjunto,
- (A) os índices toponímicos são dispositivos que contêm termos que se referem a nomes de pessoas.
 - (B) as taxonomias são, atualmente, as estruturas classificatórias mais utilizadas para organizar e recuperar informação na web.
 - (C) os tesouros são listas de descritores que representam, de forma relacional, os conceitos de um domínio de conhecimento.
 - (D) as ontologias são sistemas abrangentes que agrupam os conceitos operacionais de todas as áreas de conhecimento.
 - (E) os anéis de sinônimos são úteis para apresentar os descritores em estrutura classificatória.

44. O principal indicador de adequação das fontes de informação aos contextos locais é
- (A) a quantidade de *e-books* para empréstimo domiciliar.
 - (B) o crescimento de obras eletrônicas em substituição às impressas.
 - (C) o serviço de consultas de referência *on-line*.
 - (D) a pertinência da coleção para atender às demandas dos usuários.
 - (E) a presença, por meio de portais, nas redes sociais eletrônicas.
45. A base de dados que compreende o *Science Citation Index*, *Social Science Index* e *Arts and Humanities Citation* é
- (A) a *Web of Science*.
 - (B) o *Lilacs*.
 - (C) a *Elsevier*.
 - (D) a *Scopus*.
 - (E) o *Embase*.
46. Os repositórios digitais institucionais das universidades
- (A) prescindem da adesão da comunidade porque os dados são obtidos de forma automática por tecnologias neurais e de IA.
 - (B) são utilizados como plataformas de armazenamento de trabalhos cujos direitos autorais passam a ser da instituição.
 - (C) são tanto custodiantes quanto proprietários da informação armazenada.
 - (D) utilizam metadados com finalidades administrativas, em detrimento das funções de recuperação.
 - (E) estão intimamente relacionados ao conceito de acesso aberto ou acesso livre à informação.
47. Uma base de dados referencial, especializada em artigos de periódicos brasileiros da área da Biblioteconomia e Ciência da Informação, denomina-se
- (A) SEER.
 - (B) BRAPCI.
 - (C) LilaCS.
 - (D) SciElo.
 - (E) BiblioData.
48. A gestão de bibliotecas públicas deve
- (A) monitorar os serviços para assegurar que as estratégias adotadas estão sendo eficazes para atingir os objetivos estabelecidos.
 - (B) acompanhar periodicamente as atividades técnicas como o principal instrumento para identificar tendências.
 - (C) participar da elaboração de currículos escolares porque estes são os principais parâmetros para definir e compor o núcleo do acervo.
 - (D) ter como meta principal assegurar a integridade e conservação física de sua coleção.
 - (E) adotar a tendência arquitetônica moderna de integrar em um mesmo espaço físico as seções de trabalho interno e as áreas dos usuários.
49. No planejamento estratégico contemporâneo, o principal objetivo do diagnóstico de unidades de informação é
- (A) ampliar e consolidar os serviços de alfabetização informacional.
 - (B) garantir a aquisição de objetos multimídia de alto valor agregado.
 - (C) promover mudanças radicais na cultura organizacional.
 - (D) adequar o corpo técnico para atuar na sociedade do conhecimento.
 - (E) identificar pontos fortes e pontos fracos da instituição.
50. A avaliação das instituições de informação, como as bibliotecas, deve observar, principalmente a adequação entre
- (A) área física e serviços implantados.
 - (B) missão e atividades desenvolvidas.
 - (C) serviços oferecidos e indicadores quantitativos.
 - (D) recursos financeiros e produtividade técnica.
 - (E) tamanho da coleção e espaço físico.
51. A CDD é um sistema de classificação documentária
- (A) composto de 10 classes, desenvolvido em 1876, por John Dewey.
 - (B) criado no século XVIII, por Dewey para classificar as ciências.
 - (C) criado no final do século XIX, nos EUA, por Melvil Dewey.
 - (D) criado em fins do século XVII, na Inglaterra, por Dewey.
 - (E) criado no século XX, por John Dewey, gestor da Biblioteca do Congresso dos EUA.

52. Na CDD,

- (A) são utilizados vários símbolos adicionais como +, /, :, [] e =.
- (B) as classes são compostas sempre por, no mínimo, 3 dígitos.
- (C) a classe 002 engloba os assuntos referentes à documentação.
- (D) tal como na CDU, há uma tabela principal e 19 tabelas auxiliares.
- (E) a representação de assuntos é decimal, com tamanho máximo determinado.

53. De acordo com a AACR2,

- (A) **ver** e **ver também** são remissivas usadas para definir conceitos.
- (B) realia e réplica são documentos ou artefatos de mesma natureza.
- (C) modelo é a representação gráfica de objetos do mundo real.
- (D) pseudônimo é o nome adotado por um autor para ocultar sua identidade.
- (E) nome convencional é o nome verdadeiro de um autor.

54. A referência de documentos jurídicos deve ser feita segundo normas específicas. Assinale a alternativa correta, de acordo com a norma ABNT.

- (A) BRASIL. Medida provisória nº 1.569, de 11 de dezembro de 1997. **Diário Oficial [da] República Federativa do Brasil**. Poder Executivo, Brasília, DF, 14 dez. 1977. Seção 1, p. 29514.
- (B) BRASIL. Supremo Tribunal Federal. Súmula nº 14. In _____. São Paulo, Associação dos Advogados do Brasil. p. 16.
- (C) BRASIL. Supremo Tribunal Militar. Súmula nº 5. In _____. Regimento interno e súmulas. 6. ed. cons. e atual. Brasília, 2013, p. 246. Disponível em: <stm.jus.br/legislações>
- (D) CAMPOS, Hélio Sílvio Ourém. Economia versus democracia: o princípio da legalidade em um Brasil globalizado. Recife, 2010. Disponível em <bdjur.sti.jus.br>. sd acesso.
- (E) BARROS, Raimundo gomes de. **Ministério público: sua legitimação frente ao código do consumidor**. Revista de Jurisprudência dos Estados. São Paulo, v. 19, n. 139, p. 53-72, ago. 1995.

55. Nas atividades de indexação, a coerência interindexadores

- (A) é um fenômeno que não pode ser medido.
- (B) depende de princípios e regras compartilhados.
- (C) é uma medida atribuída ao número de descritores de um item.
- (D) pode ser verificada pela quantidade de itens recuperados.
- (E) é produto de colaboração entre indexadores e usuários.

56. A indexação orientada para o usuário tem como fundamento principal

- (A) a existência e disponibilidade de vocabulários controlados e sistemas de recuperação informatizados.
- (B) a noção de que um conjunto restrito de termos específicos assegura a eficácia permanente dos resultados das buscas.
- (C) o princípio de que a indexação deve ser necessariamente realizada por bibliotecários dedicados às atividades fins.
- (D) a ideia de que a atinência do documento e a atinência do usuário são, via de regra, coincidentes.
- (E) a ideia de que os indexadores devem conhecer profundamente os interesses e as necessidades de informação dos usuários.

57. Os resumos documentários são classificados em tipos, de acordo com a função, conteúdo e extensão. O resumo

- (A) indicativo tem como característica distintiva o fato de ser acompanhado de termos de indexação.
- (B) longo recebe o nome de resumo complexo ou resumo completo, por dispensar a leitura do texto original.
- (C) descritivo é muito utilizado porque, via de regra, substitui o documento original.
- (D) indicativo é útil para informar o usuário sobre os aspectos essenciais de um documento.
- (E) informativo-indicativo apresenta extensão invariável nas bases de dados referenciais.

58. O serviço de referência digital

- (A) caracteriza-se por ser amigável, isto é, mantém conexão física entre usuário e sistema num mesmo espaço.
- (B) por ser síncrono, faz com que a pergunta enviada pelo usuário a ele seja respondida pelo bibliotecário em um outro momento.
- (C) usa o computador para os serviços de referência a qualquer hora e em qualquer lugar.
- (D) é eficaz por ser operado por robôs de conversação que dispensam a interação humana.
- (E) foi universalizado por utilizar padrões abertos e *softwares* livres.

59. O serviço de referência

- (A) presencial vem sendo desativado de forma acelerada e substituído por processos assistidos por computador.
- (B) desenvolvido por meios eletrônicos é mais eficaz do que os serviços mediados por bibliotecários.
- (C) é composto de várias etapas, sendo a estratégia de busca considerada a etapa mais importante.
- (D) é realizado com base no princípio fundamental de auxílio à busca dos recursos físicos da biblioteca.
- (E) é um processo de comunicação realizado pelas unidades de informação para satisfazer às necessidades de informação dos usuários.

60. A automação dos catálogos viabilizou a troca de dados entre instituições, evidenciando também a necessidade de padrões e normas internacionais. Nessa perspectiva, o

- (A) ISBD utiliza uma sequência de pontuações, embora não sistematize a ordem das informações bibliográficas.
- (B) ISBD(G) foi criado com o fim específico de ajudar o usuário a compreender o padrão utilizado.
- (C) MARC, formato criado nos EUA, foi adotado no Brasil, com a iniciativa CALCO, mais tarde chamada de rede Bibliodata.
- (D) FRBR foi proposto pela Biblioteca Nacional da França para estabelecer um nível básico de funcionalidades para os registros impressos.
- (E) AACR2 especifica obra como uma manifestação intelectual.

