

S07 | Arquiteto

Instruções



Confira o número que você obteve no ato da inscrição com o que está indicado no cartão-resposta.

* A duração da prova inclui o tempo para o preenchimento do cartão-resposta.

Para fazer a prova você usará:

- este **caderno de prova**.
- um **cartão-resposta** que contém o seu nome, número de inscrição e espaço para assinatura.

Verifique, no caderno de prova, se:

- faltam folhas e a sequência de questões está correta.
- há imperfeições gráficas que possam causar dúvidas.

Comunique imediatamente ao fiscal qualquer irregularidade!

Atenção!

- Não é permitido qualquer tipo de consulta durante a realização da prova.
- Para cada questão são apresentadas 5 alternativas diferentes de respostas (a, b, c, d, e). Apenas uma delas constitui a resposta correta em relação ao enunciado da questão.
- A interpretação das questões é parte integrante da prova, não sendo permitidas perguntas aos fiscais.
- Não destaque folhas da prova.

Ao terminar a prova, entregue ao fiscal o caderno de prova completo e o cartão-resposta devidamente preenchido e assinado.



17 de novembro



50 questões



14h30 às 18h30



4h de duração*



CONCURSO PÚBLICO



FEPese

FUNDAÇÃO DE ESTUDOS E PESQUISAS SOCIOECONÔMICOS

Língua Portuguesa

10 questões

1. Leia a tirinha.



<https://www.google.com>

Analise as afirmativas abaixo em relação à tirinha.

1. O humor da tirinha reside no fato de a namorada perceber, na fala do namorado, os problemas gramaticais e não gostar deles.
2. Em sua fala, a namorada faz referência à colocação pronominal.
3. O namorado faz a colocação pronominal errada em todas as falas.
4. Para corrigir suas falas, o namorado deveria usar a ênclise em todas as falas.
5. Para corrigir a frase: "Nunca deixe-me!" será necessário usar a próclise, assim: "Nunca me deixe".

Assinale a alternativa que indica todas as afirmativas **corretas**.

- a. São corretas apenas as afirmativas 3 e 4.
- b. São corretas apenas as afirmativas 4 e 5.
- c. São corretas apenas as afirmativas 1, 2 e 3.
- d. São corretas apenas as afirmativas 1, 2 e 5.
- e. São corretas apenas as afirmativas 2, 4 e 5.

2. Leia o texto.

[...] a fisionomia de José Maria estava tão transtornada que o padre, também de pé, começou a recuar, trêmulo e pálido. "Não, miserável! não! tu não me fugirás!" bradava José Maria, investindo para ele. Tinha os olhos esbugalhados, as têmporas latejantes; o padre ia recuando... recuando...

Machado de Assis

Identifique abaixo as afirmativas verdadeiras (V) e as falsas (F).

- () As aspas foram usadas para indicar a fala de um personagem.
- () José Maria era o nome do padre que estava trêmulo e pálido.
- () Na frase: "Não, miserável!", a vírgula foi usada para separar um vocativo.
- () A vírgula antes de "investindo" é optativa.
- () José Maria estava de pé.
- () Em "tu não me fugirás", o emprego do tempo verbal indica uma ação certa a acontecer; é, pois, o futuro do presente do indicativo.

Assinale a alternativa que indica a sequência **correta**, de cima para baixo.

- a. V • V • F • F • V • V
- b. V • F • V • F • V • V
- c. F • V • F • V • F • F
- d. F • F • V • V • V • V
- e. F • F • V • F • F • F

3. Apenas uma alternativa apresenta-se com acentuação e ortografia **corretas**. Assinale-a.

- a. Houve concenso naquela sessão plenaria.
- b. Sempre quiz fazer parte da exceção à regra.
- c. A aterrissagem foi tranquila, tanto quanto o voo.
- d. Que eles viajem bem e que vejam a jibóia tão famosa.
- e. Esses frascos contém substância tóxica, esplendidamente acomodada.

4. Leia o texto.

Ontem levava a domicílio uma encomenda solicitada. Estava a dirigir pela estrada quando, a um metro de minha vista, observei a sinaleira que estava intermitente. Falei a pessoa que estava comigo no carro: “se não estou atenta a sinalização, com certeza, teria problemas”.

Analise as afirmativas abaixo em relação ao texto.

1. No texto há a necessidade de duas crases.
2. O texto está corretamente redigido.
3. O texto dá exemplo de que a crase ocorre quando há a junção do artigo “a” e a preposição “a”.
4. Diante de palavra feminina sempre ocorre crase.
5. A pontuação do texto está correta.

Assinale a alternativa que indica todas as afirmativas **corretas**.

- a. São corretas apenas as afirmativas 2 e 4.
- b. São corretas apenas as afirmativas 3 e 4.
- c. São corretas apenas as afirmativas 4 e 5.
- d. São corretas apenas as afirmativas 1, 2 e 3.
- e. São corretas apenas as afirmativas 1, 3 e 5.

5. Escolha a forma verbal (entre parenteses) correta.

- Se eu (depuser/depôr), serás condenado!
- (Acodimos/Acudimos) o aluno que se machucou.
- Quando eu (vir/ver) o diretor, falarei com ele.
- Quando olhei para trás, a água (invadira/invadiu) as lojas.
- Eu (reavi/reouve) meus pertences.

Assinale a alternativa que indica **corretamente** as formas verbais.

- a. depuser • acudimos • vir • invadira • reouve
- b. depuser • acodimos • vir • invadira • reouve
- c. depôr • acudimos • ver • invadiu • reouve
- d. depôr • acudimos • ver • invadira • reavi
- e. depôr • acodimos • ver • invadiu • reavi

6. Leia o texto.

Em uma delegacia...

— Quero comunicar o desaparecimento de um polvo...

— A polícia só se mobiliza após 24h!

— Foi ontem ...

— Alguma briga em casa? Ele já sumiu antes? Apresentava olhos vermelhos, comportamento arredio, notas baixas na escola...?

— Por que tanta pergunta?

— Sabe quantos casos de polvos desaparecidos temos aqui por dia, meu amigo?

Laerte Laerte

Analise as afirmativas abaixo em relação ao texto.

1. O diálogo pode ser considerado irreal considerando uma das falas do delegado.
2. Temos, no texto, nas palavras sublinhadas, exemplo da regra geral de concordância nominal.
3. Se na porta da delegacia, o senhor encontrasse uma placa com os seguintes dizeres: “Hoje, entrada é proibida!”, veria uma placa corretamente escrita e não entraria.
4. A crase é obrigatória em indicativo de horas, como em: Começa a sessão às 24h. Igual uso obrigatório tem-se em: “O depoimento está marcado para às 24h”.
5. Na frase: “Alguma briga em casa?”, a palavra sublinhada não é o verbo “brigar”.

Assinale a alternativa que indica todas as afirmativas **corretas**.

- a. São corretas apenas as afirmativas 1 e 4.
- b. São corretas apenas as afirmativas 2 e 3.
- c. São corretas apenas as afirmativas 1, 2 e 5.
- d. São corretas apenas as afirmativas 2, 3 e 4.
- e. São corretas apenas as afirmativas 3, 4 e 5.

7. Avalie as frases quanto à regência verbal, e coloque (C) para correta, e (E) para errada.

- () Custo a crer que não virás ao meu aniversário.
- () Precisei bem o problema e será dada a solução.
- () Pago a dívida para o devedor.
- () A rua que minha amiga mora é um verdadeiro jardim.
- () A aluna cuja atitude louvável me referi, compareceu hoje.
- () Aviso a quem interessar possa que o pagamento sairá hoje.

Assinale a alternativa que indica todas as afirmativas **corretas**.

- a. C • C • E • E • E • C
- b. C • E • C • E • C • E
- c. E • C • C • C • E • E
- d. E • C • C • E • E • C
- e. E • E • C • C • C • E

8. Sobre o uso dos pronomes, assinale a alternativa **correta**.

- a. Esta sua blusa lhe caiu bem.
- b. Todo o aluno merece atenção.
- c. Quero falar consigo agora, João!
- d. Entre eu e você, não haverá discórdias.
- e. Gosto de chocolate quente e sorvete; este no verão, aquele no inverno pois aquece até a alma.

9. Assinale a alternativa que está em conformidade com a norma culta.

- a. Vim à festa mas não lhe vi.
- b. Houve muitos problemas naquela reunião.
- c. O almoço beneficente foi servido às 12hs em ponto.
- d. Colocaram um impecilho para mim usar a sala de reuniões.
- e. Segue anexo a esta carta todas as fotografias solicitadas.

10. Leia o hipotético documento padrão ofício, endereçado ao Presidente da Assembleia Legislativa; nele há lacunas que precisam ser preenchidas.

..... /

Apresentamos a o projeto para a ampliação de vagas nesta instituição para ser discutido na próxima reunião ordinária dessa Casa, conforme sua solicitação. Esperamos que, depois de uma crítica discussão, haja a aprovação do que foi proposto.

..... /

Zeferino da Silva
Coordenador de Planejamento Institucional

Assinale a alternativa que apresenta **correto** preenchimento das lacunas.

- a. Senhor • Vossa Senhoria • Cordialmente
- b. Presidente • Vossa Excelência • Cordialmente
- c. Senhor Presidente • Vossa Excelência • Respeitosamente
- d. Senhor Presidente • Vossa Senhoria • Atenciosamente
- e. Caro Senhor • Vossa Excelência • Respeitosamente

Aspectos históricos, geográficos, econômicos e culturais

5 questões

11. Analise o texto abaixo:

A população catarinense estimada pelo Instituto Brasileiro de Geografia e Estatística (IBGE), para o ano de 2019, indica um número superior a milhões de habitantes, com um crescimento de 1,3 na população, puxado especialmente por cidades localizadas no do Estado.

Assinale a alternativa que completa **corretamente** as lacunas do texto.

- a. 6,5 • Meio-Oeste
- b. 7 • Litoral Norte
- c. 7,3 • Planalto Norte
- d. 8,0 • Vale do Itajaí
- e. 8,5 • Extremo-Oeste

12. O Instituto Brasileiros de Geografia e Estatística divulgou, em agosto de 2019, as estimativas das populações residentes nos 5.570 municípios brasileiros.

Estima-se que o Brasil tenha mais de 210 milhões de habitantes e uma taxa de crescimento populacional de 0,79% ao ano, apresentando do crescimento quando comparado ao período 2017/2018. O mesmo instituto informa que é superior a mil pessoas a população estimada do Município de Florianópolis, em 2019.

Assinale a alternativa que completa **corretamente** as lacunas do texto.

- a. queda • 500
- b. equilíbrio • 507
- c. crescimento • 510
- d. desaceleração • 512
- e. estagnação • 550

13. Analise as afirmativas abaixo sobre o Estado de Santa Catarina.

1. No passado, seu território foi disputado por espanhóis e portugueses.
2. Sua atual área territorial é superior a 95.730,000 km².
3. As festas de caráter étnico evidenciam as influências dos colonizadores europeus.
4. A indústria do turismo é a principal fonte de arrecadação das cidades litorâneas como Florianópolis e Itajaí.
5. Sua população estimada em 2019 é superior a 7 milhões de habitantes.

Assinale a alternativa que indica todas as afirmativas **corretas**.

- a. São corretas apenas as afirmativas 2, 3 e 4.
- b. São corretas apenas as afirmativas 1, 3 e 5.
- c. São corretas apenas as afirmativas 2, 4 e 5.
- d. São corretas apenas as afirmativas 1, 2, 3 e 5.
- e. São corretas as afirmativas 1, 2, 3, 4 e 5.

14. Identifique, na lista de fenômenos históricos abaixo, aqueles que envolveram populações do Planalto ou do Oeste de Santa Catarina.

1. Tropeirismo.
2. Novembrada.
3. Coluna Prestes.
4. Contestado.

Assinale a alternativa que indica todas as afirmativas **corretas**.

- a. São corretas apenas as afirmativas 1 e 2.
- b. São corretas apenas as afirmativas 3 e 4.
- c. São corretas apenas as afirmativas 1, 2 e 3.
- d. São corretas apenas as afirmativas 1, 3 e 4.
- e. São corretas as afirmativas 1, 2, 3 e 4.

15. Identifique abaixo as afirmativas verdadeiras (V) e as falsas (F) sobre conflitos bélicos contemporâneos.

- () A guerra na Síria se tornou ainda mais violenta e complexa com as interferências de países como a Rússia, os Estados Unidos, o Irã e a Turquia, entre outros.
- () Com a retirada das tropas estadunidenses do Iraque, em 2011, grupos políticos dominados por facções xiitas ou sunitas continuam se enfrentando.
- () A Somália sofre uma intervenção das forças da União Africana, que pois fim aos conflitos que duravam mais de 30 anos e vitimaram 2 milhões de civis.
- () Os conflitos entre Israel e Palestina têm se limitado a manifestações pacíficas, como ocorreu este ano em Gaza, durante a Marcha do Retorno.
- () Na Nigéria, os conflitos que ocorrem desde 2009, entre cristãos e muçulmanos, envolvem também lutas por terras e riquezas naturais.

Assinale a alternativa que apresenta a sequência **correta**, de cima para baixo.

- a. V • V • F • F • V
- b. V • F • V • V • F
- c. V • F • F • V • V
- d. F • V • V • V • V
- e. F • V • V • F • V

Noções de Informática

5 questões

16. Qual fórmula permite obter o valor referente ao TOTAL do pedido (R\$ 124,80) da seguinte planilha do MS Excel do Office 365 em português?

Pedido de Compra		
Item	Custo unitário	Quantidade
Lápis	R\$ 1,40	4
Caneta	R\$ 3,20	6
Caderno	R\$ 8,50	3
Grampeador	R\$ 14,90	5
TOTAL do pedido		R\$ 124,80

- a. SOMA()
- b. SOMAR()
- c. SOMARPRODUTO()
- d. SOMA.PRODUTO()
- e. PRODUTO()

17. Analise as afirmativas abaixo sobre a criação de gráficos do MS Excel do Office 365 em português.

1. Os gráficos podem ser criados somente a partir da guia Exibir do MS Excel.
2. Não é possível formatar a borda, adicionando por exemplo uma linha sólida, dos gráficos do tipo Pizza.
3. Os gráficos de colunas 2D podem ser tanto de colunas agrupadas, empilhadas ou 100% empilhadas.

Assinale a alternativa que indica todas as afirmativas **corretas**.

- a. É correta apenas a afirmativa 3.
- b. São corretas apenas as afirmativas 1 e 2.
- c. São corretas apenas as afirmativas 1 e 3.
- d. São corretas apenas as afirmativas 2 e 3.
- e. São corretas as afirmativas 1, 2 e 3.

18. Assinale a alternativa que contém uma opção válida na qual conste a exibição da velocidade de conexão de uma rede Ethernet WiFi no Windows 10 Pro em português.

- a. Através da caixa de diálogo Propriedades do Sistema, disponível via Painel de Controle
- b. Através da caixa de diálogo Status de Wi-Fi, disponível via Central de Rede e Compartilhamento do Painel de Controle
- c. Através da caixa de diálogo Propriedades do adaptador de Rede, disponível via Gerenciador de Dispositivos do Painel de Controle
- d. Através da tela de Propriedades de Rede disponível via clique com o botão direito do mouse sobre o ícone de conexão disponível na área de trabalho
- e. Através da tela de Propriedades de Rede disponível via clique com o botão direito do mouse sobre o ícone de conexão disponível na barra de ferramentas do Windows

19. A otimização de unidades do Windows 10 pode auxiliar o funcionamento do computador e possibilitar uma inicialização mais rápida do Windows.

Assinale a alternativa que indica o utilitário **correto** do Windows 10 Pro em português que possibilita ao usuário executar este recurso.

- a. Painel de Controle ► Desfragmentador do Disco
- b. Ferramentas Administrativas ► Desfragmentador do Disco
- c. Ferramentas Administrativas ► Central de Manutenção do Windows ► Gerenciar Discos ► Otimizar
- d. Painel de Controle ► Sistema ► Unidades ► Otimizar
- e. Ferramentas Administrativas ► Desfragmentar e Otimizar Unidades

20. Assinale a alternativa que indica **corretamente** o item do Painel de Controle do Windows 10 Pro em português que permite ao usuário acionar o Gerenciador de Dispositivos.

- a. Sistema
- b. Propriedades
- c. Configurações
- d. Programas e Recursos
- e. Ferramentas de Manutenção

Raciocínio Lógico

5 questões

21. Para numerar as páginas de um livro, iniciando da página 1, imprimiu-se 1601 vezes o algarismo 1.

Portanto, o número de páginas que esse livro tem é:

- a. Maior que 2030.
- b. Maior que 2020 e menor que 2030.
- c. Maior que 2010 e menor que 2020.
- d. Maior que 2000 e menor que 2010.
- e. Menor que 2000.

22. Uma empresa sorteará aleatoriamente 3 viagens para seus funcionários, sendo 6 homens e 9 mulheres.

Qual a probabilidade de as 3 pessoas sorteadas serem mulheres?

- a. Maior que 22%
- b. Maior que 20% e menor que 22%
- c. Maior que 18% e menor que 20%
- d. Maior que 16% e menor que 18%
- e. Menor que 16%

23. Catorze atletas participam de uma corrida. De quantas maneiras diferentes pode ser composto o pódio com os três primeiros colocados (assuma que não é possível empate em nenhuma das três primeiras colocações).

- a. Mais do que 2200
- b. Mais do que 2150 e menos do que 2200
- c. Mais do que 2100 e menos do que 2150
- d. Mais do que 2050 e menos do que 2100
- e. Menos do que 2050

24. Diego possui uma coleção com 5 carros e 4 caminhões miniaturas. De quantos modos ele pode formar uma fila com seus veículos miniaturizados, de maneira que os carros fiquem juntos (sem caminhões entre os carros)?

- a. Mais de 14000
- b. Mais de 13000 e menos de 14000
- c. Mais de 12000 e menos de 13000
- d. Mais de 11000 e menos de 12000
- e. Menos de 11000

25. Se Ancelmo não é educado, então Maria não é malandra e Joana é fiel. Se Joana é fiel, então Afonso é bonito. Sabemos que Afonso não é bonito.

Logo, podemos afirmar **corretamente** que:

- a. Joana é fiel.
- b. Maria é malandra.
- c. Maria não é malandra.
- d. Ancelmo não é educado.
- e. Ancelmo é educado.

Legislação Municipal

5 questões

26. A Lei Complementar nº 63/2003 reconhece como Entidade:

- a. As empresas públicas de direito público e da Administração Direta.
- b. A autarquia e a fundação pública-pessoas jurídicas de direito público integrantes da Administração Indireta do Município.
- c. A autarquia, pessoa jurídica de direito privado, integrante da Administração Direta municipal.
- d. A fundação, pessoa jurídica de direito privado, integrante da Administração Direta do Município.
- e. A autarquia e a Sociedade de Economia Mista, ambas de direito público, pertencentes à Administração Direta.

27. Conforme a Lei Complementar nº 63/2003:

- a. O servidor responde apenas penalmente pela execução irregular das suas atribuições.
- b. O funcionário militar responderá pelas atitudes irregulares cometidas apenas no âmbito civil.
- c. O servidor responde civil, penal e administrativamente pelo exercício irregular de suas atribuições.
- d. O servidor civil responde apenas administrativamente pelo exercício infracional de suas funções.
- e. O funcionário público não responderá por irregularidades, uma vez no exercício de suas atribuições.

28. Dar-se-á a vacância do cargo público, de acordo com a LC nº 63/2003, em decorrência de:

- a. Demissão e aposentadoria, somente.
- b. Falecimento e exoneração, apenas.
- c. Falecimento e demissão, somente.
- d. Aposentadoria e falecimento, apenas.
- e. Exoneração, demissão, aposentadoria e falecimento.

29. O prazo previsto pela Lei Complementar nº 63/2003 para a conclusão de processo administrativo disciplinar submetido ao rito sumário não excederá a:

- a. 30 dias, admitida a prorrogação por até 15 dias.
- b. 45 dias, com prorrogação de 30 dias, se necessário.
- c. 60 dias, não admitida a prorrogação.
- d. 60 dias, admitida a prorrogação por 30 dias.
- e. 90 dias, com previsão de 60 dias para a prorrogação.

30. De acordo com a Lei Complementar nº 63/2003, considera-se Administração Pública Municipal:

- a. Cada Entidade onde estiver lotado o servidor.
- b. Cada Órgão onde estiver lotado o cargo do servidor.
- c. Cada Órgão ou Entidade onde estiver lotado o cargo do servidor.
- d. A Administração Pública do Município de Florianópolis, abrangendo sua Administração Direta, Autárquica e Fundacional.
- e. Como sinônimo do Poder Legislativo Municipal.

Conhecimentos Específicos

20 questões

31. Considerando a Lei Complementar nº 482/2014, o uso industrial caracterizado pelo exercício de atividades que implicam a utilização de ingredientes, matérias primas e processos que produzem ruídos, vibrações, vapores e resíduos prejudiciais à saúde, à conservação dos prédios vizinhos, ou por qualquer outra forma causem poluição ambiental é denominado de uso:

- a. nocivo.
- b. perigoso.
- c. proibido.
- d. incômodo.
- e. inadequado.

32. A Lei Complementar nº 482/2014 dispõe sobre a Política de Desenvolvimento Urbano e utiliza ao longo do texto algumas definições:

1. afastamento frontal: distância entre a edificação ou equipamento até o alinhamento de divisa oposta à linha de testada.
2. afastamento de fundos: distância entre a edificação, equipamento ou muro até o eixo da via lindeira ou até o alinhamento definido pela linha de testada.
3. afastamento lateral: distância entre a edificação ou equipamento e as divisas laterais do terreno.

Assinale a alternativa que indica todas as afirmativas corretas.

- a. É correta apenas a afirmativa 1.
- b. É correta apenas a afirmativa 2.
- c. É correta apenas a afirmativa 3.
- d. São corretas apenas as afirmativas 1 e 2.
- e. São corretas as afirmativas 1, 2 e 3.

33. Analise as definições abaixo, de acordo com o Código de Obras e Edificações do Município.

1. Habite-se: diligência efetuada pela Prefeitura, tendo por fim verificar as condições de regularidade de uma construção ou obra.
2. Licenciamento da obra: ato administrativo que concede licença e prazo para início e término de uma obra.
3. Vistoria: atestado de verificação da regularidade da obra quando da sua conclusão, correspondendo à autorização da Prefeitura para a sua ocupação ou uso.

Assinale a alternativa que indica todas as afirmativas corretas.

- a. É correta apenas a afirmativa 1.
- b. É correta apenas a afirmativa 2.
- c. É correta apenas a afirmativa 3.
- d. São corretas apenas as afirmativas 1 e 2.
- e. São corretas as afirmativas 1, 2 e 3.

34. Para o pleno desenvolvimento das funções sociais da cidade e da propriedade urbana, o Município pode adotar alguns instrumentos urbanísticos, tais como:

“É a contrapartida financeira devida ao Município pela aquisição do direito de edificar, de acordo com os limites estabelecidos pela tabela de limites de ocupação, parte integrante da Lei Complementar 482/2014, acima do coeficiente de aproveitamento básico igual a um até o limite do coeficiente de aproveitamento máximo.”

O texto refere-se à(ao):

- a. Direito de Superfície.
- b. Direito de Preempção.
- c. Transferência do Direito de Construir.
- d. Usucapião Especial de Imóvel Urbano.
- e. Outorga Onerosa do Direito de Construir.

35. Todo projeto de construção, além de garantir a funcionalidade do local, deveria garantir também a segurança total da estrutura e das pessoas que utilizam o espaço e, em caso de emergência, permitir que as pessoas consigam deixar o lugar com segurança.

Nesse contexto, considere a simbologia abaixo:



Assinale a alternativa que identifica, respectivamente, os símbolos da figura.

- a. tomada baixa e arandela
- b. detector de fumaça e detector de calor
- c. extintor de incêndio portátil e campainha
- d. ponto de iluminação de emergência e acionador bomba recalque
- e. gás explosivo e fumaça

36. A Lei Complementar nº 60/ 2000, que institui o Código de Obras, estabelece que, concluída a construção, modificação ou acréscimo, a edificação só poderá ser utilizada após a obtenção do habite-se junto à municipalidade, que só o deferirá comprovada a execução da obra de acordo com os projetos e especificações aprovados.

É estabelecido, também, que a vistoria para obtenção do habite-se deverá ser requerida, junto à Municipalidade, em prazo máximo, após a conclusão das obras, de:

- a. 30 dias.
- b. 60 dias.
- c. 90 dias.
- d. 120 dias.
- e. 180 dias.

37. Analise o texto abaixo:

No que tange à construção de marquises na fachada de edificações, o Código de Obras estabelece que as marquises devem ter altura mínima de m acima do nível do passeio, podendo a Prefeitura indicar a cota adequada, em função das marquises existentes na mesma face da quadra.

Assinale a alternativa que completa **corretamente** a lacuna do texto.

- a. 2,10
- b. 2,50
- c. 2,70
- d. 2,80
- e. 3,00

38. Assinale a alternativa que indica **corretamente** a Lei que estabelece normas gerais sobre licitações e contratos da Administração Pública e dá outras providências.

- a. 8.666/93
- b. 6.658/93
- c. 5.296/04
- d. 9.050/04
- e. 482/2014

39. Consta na Lei Complementar nº 60/2000, quais as condições estabelecidas para que as edificações devam ser dotadas de depósito central de lixo ou sejam dispensadas do mesmo.

No caso da obrigatoriedade do depósito central de lixo, qual o pé direito mínimo?

- a. 1,50m
- b. 1,80 m
- c. 2,10 m
- d. 2,20 m
- e. 2,50m

40. Em determinada reforma, foram substituídos os revestimentos cerâmicos do piso de 5 cozinhas com dimensões (10 m × 7 m) e de 10 vestiários com dimensões (3 m × 5 m). Em determinado mês, a mesma empreiteira responsável pela execução do serviço colocou todo o piso cerâmico dos 10 vestiários e somente 10% do piso cerâmico das 5 cozinhas.

Para consideração de medição do serviço realizado, a área total efetivamente aplicada naquele mês foi de:

- a. 36,5 m².
- b. 50 m².
- c. 185 m².
- d. 365 m².
- e. 500 m².

41. De acordo com o Decreto nº 5.296/04, para os fins de acessibilidade, qualquer entrave ou obstáculo que limite ou impeça o acesso, a liberdade de movimento, a circulação com segurança e a possibilidade de as pessoas se comunicarem ou terem acesso à informação é definido como:

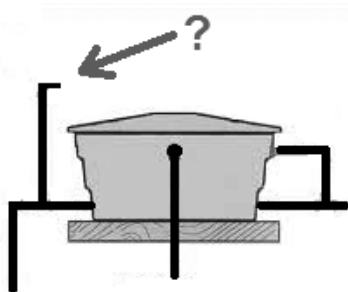
- a. óbice.
- b. barreira.
- c. bloqueio.
- d. restrição.
- e. agrura.

42. Para realizar o orçamento de uma obra de drenagem, uma das atividades está considerando a abertura de uma vala de drenagem de seção transversal $1,20\text{ m} \times 1,00\text{ m}$ e comprimento total 50 m . O material retirado dessa escavação não poderá permanecer no local, sendo transportado para um botafora licenciado. Como informação complementar consta que o terreno é extremamente compactado e será necessário considerar o empolamento de 25% .

Dessa forma, qual será o volume de material que será transportado?

- a. 48 m^3
- b. 60 m^3
- c. 65 m^3
- d. 75 m^3
- e. 135 m^3

43. Em instalações hidráulicas, considere a representação esquemática da ligação de um reservatório superior:



Qual o nome da tubulação sinalizada?

- a. dreno
- b. extravasor
- c. alimentador
- d. tubo de ventilação
- e. tubo de limpeza

44. Na execução de alvenaria de fechamento, o preenchimento do encontro da alvenaria de vedação com a estrutura de concreto do pavimento superior deve empregar materiais e técnicas que maximizem a aderência entre estas partes da construção.

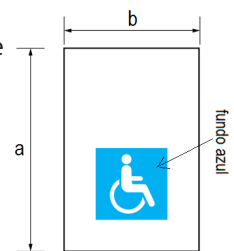
Essa ligação é conhecida como:

- a. encunhamento.
- b. fiada mestra.
- c. ombreira.
- d. verga.
- e. contraverga.

45. No controle e acompanhamento de obras, o gráfico usado para ilustrar o avanço das diferentes etapas de um projeto, cujos intervalos de tempo que representam o início e fim de cada fase aparecem como barras coloridas sobre o eixo horizontal do gráfico, é denominado de diagrama:

- a. Venn.
- b. de Gantt.
- c. de Pareto.
- d. Linus Paulling.
- e. causa e efeito.

46. A sinalização do espaço para pessoas em cadeira de rodas deve ser conforme a figura ao lado, cuja demarcação tem as dimensões de um módulo de referência e também se aplica às áreas de resgate.



As dimensões "a" e "b" do módulo de referência são, respectivamente:

- a. $1,00\text{ m}$ e $0,80\text{ m}$.
- b. $1,20\text{ m}$ e $0,80\text{ m}$.
- c. $1,50\text{ m}$ e $1,00\text{ m}$.
- d. $1,50\text{ m}$ e $1,20\text{ m}$.
- e. $1,80\text{ m}$ e $1,50\text{ m}$.

47. Em relação a critérios e parâmetros técnicos a serem observados quanto a projetos, construção, instalação e adaptação de condições de acessibilidade, seguem algumas afirmações no contexto relacionado a degraus e escadas:

1. Uma sequência de três degraus ou mais é considerada escada.
2. Nas rotas acessíveis não podem ser utilizados degraus e escadas fixas com espelhos vazados.
3. A sequência de até dois degraus é considerada degrau isolado.

Assinale a alternativa que indica todas as afirmativas **corretas**.

- a. É correta apenas a afirmativa 2.
- b. São corretas apenas as afirmativas 1 e 2.
- c. São corretas apenas as afirmativas 1 e 3.
- d. São corretas apenas as afirmativas 2 e 3.
- e. São corretas as afirmativas 1, 2 e 3.

48. No que diz respeito à prevenção contra incêndio, algumas condições de segurança são estabelecidas em norma regulamentadora para o ambiente de trabalho.

Analise as afirmativas abaixo em relação ao assunto.

1. A largura mínima das aberturas de saída deverá ser de 1,20 m.
2. O sentido de abertura da porta não poderá ser para o interior do local de trabalho.
3. Em hipótese alguma, as portas de emergência deverão ser fechadas pelo lado externo, mesmo fora do horário de trabalho.

Assinale a alternativa que indica todas as afirmativas **corretas**.

- a. É correta apenas a afirmativa 3.
- b. São corretas apenas as afirmativas 1 e 2.
- c. São corretas apenas as afirmativas 1 e 3.
- d. São corretas apenas as afirmativas 2 e 3.
- e. São corretas as afirmativas 1, 2 e 3.

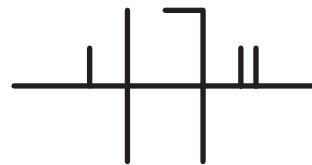
49. Analise as afirmativas abaixo no âmbito de "Orçamento de Obras".

1. O caderno de encargos é o conjunto de especificações técnicas, critérios, condições e procedimentos estabelecidos pelo contratante para a contratação, execução, fiscalização e controle dos serviços e obras.
2. A taxa mínima de atratividade é um indicador do custo de construção, utilizado para a estimativa inicial e para o reajuste dos valores monetários.
3. A incorporação pode ser definida como a atividade exercida com o intuito de promover e realizar a construção, para alienação total ou parcial, de edificações ou conjunto de edificações compostas de unidades autônomas.

Assinale a alternativa que indica todas as afirmativas **corretas**.

- a. É correta apenas a afirmativa 1.
- b. São corretas apenas as afirmativas 1 e 2.
- c. São corretas apenas as afirmativas 1 e 3.
- d. São corretas apenas as afirmativas 2 e 3.
- e. São corretas as afirmativas 1, 2 e 3.

50. Considere a representação esquemática de uma planta baixa com símbolos gráficos de uma instalação elétrica.



Os símbolos representam, respectivamente:

- a. fase, retorno, terra, duas fases.
- b. fase, neutro, terra, duas fases.
- c. retorno, neutro, neutro aterrado, retorno paralelo.
- d. retorno simples, fase, neutro, retorno paralelo.
- e. retorno simples, fase, fase aterrada, retorno duplo.

**Página
em Branco.
(rascunho)**

**Página
em Branco.
(rascunho)**

**Página
em Branco.
(rascunho)**

**Página
em Branco.
(rascunho)**

**Página
em Branco.
(rascunho)**

GRADE DE RESPOSTAS

Utilize a grade ao lado para anotar as suas respostas.

Não destaque esta folha. Ao entregar sua prova, o fiscal irá destacar e entregar esta grade de respostas que você poderá levar para posterior conferência.



1		S07 Arquiteto	26	
2			27	
3			28	
4			29	
5			30	
6			31	
7			32	
8			33	
9			34	
10			35	
11			36	
12			37	
13			38	
14			39	
15			40	
16			41	
17			42	
18			43	
19			44	
20			45	
21			46	
22			47	
23			48	
24			49	
25			50	



PREFEITURA DE FLORIANÓPOLIS
ADMINISTRAÇÃO





FUNDAÇÃO DE ESTUDOS E PESQUISAS SOCIOECONÔMICOS

Campus Universitário • UFSC
88040-900 • Florianópolis • SC
Fone/Fax: (48) 3953-1000
<http://www.fepese.org.br>