

Agente Comunitário de Saúde

- Confira devidamente o material (CARTÃO DE RESPOSTAS e CADERNO DE QUESTÕES); se houver falha, solicite a substituição ao fiscal.
- Este caderno de questões está assim constituído:

DISCIPLINAS	Nº QUESTÕES
Português	10
Matemática	10
Informática	05
Legislação, Conhecimentos Gerais e Específicos	15
Total de questões	40

- Após conferir seus dados no cartão de respostas (NOME, Nº da INSCRIÇÃO e FUNÇÃO), assine no local indicado.
- O CARTÃO DE RESPOSTAS é o único documento de correção, devendo ser preenchido com bastante atenção, à caneta esferográfica, azul ou preta, ponta grossa, marcando uma única alternativa em cada questão. Verifique no cartão de respostas as instruções para preenchimento. Não rasure, não amasse nem dobre o CARTÃO DE RESPOSTAS; evite usar borracha. É vedada a substituição do CARTÃO DE RESPOSTAS decorrente de erro cometido por candidato.
- Se o CARTÃO DE RESPOSTAS contiver maior número de alternativas e/ou de questões, preencha apenas as correspondentes à sua prova; as demais ficam em branco.
- Durante a realização da prova, não é permitida a comunicação entre candidatos nem a utilização de máquina calculadora e/ou similares, livros, anotações, régua de cálculo, impressos ou qualquer outro material de consulta.
- O tempo de duração da prova objetiva será de **até 3 horas**, incluído o tempo para preenchimento do Cartão de Respostas. O candidato somente poderá levar consigo seu caderno de provas após uma hora contada do efetivo início das provas. Ao candidato que sair antes de uma hora contada do efetivo início das provas, será permitido copiar seu cartão de respostas, para conferência com o gabarito oficial.
- Em todas as questões de legislação desta prova (se houver), serão consideradas as emendas e/ou alterações da legislação com entrada em vigor até a data do início das inscrições.
- Na prova de Português será exigida a norma ortográfica atualmente em vigor.
- Ao final dos trabalhos, **DEVOLVA** ao Fiscal da sala o CARTÃO DE RESPOSTAS devidamente preenchido e assinado.
- Os três últimos candidatos de cada sala de prova deverão permanecer no recinto, a fim de acompanhar os fiscais até a coordenação para o lacre dos envelopes, quando, então, poderão retirar-se do local, simultaneamente, após concluído.

Direitos autorais reservados à Objetiva Concursos Ltda. Proibida a reprodução, ainda que parcial, sem autorização prévia.

Boa Prova!

Seriedade e ética: nós acreditamos nesses valores.

Nome do(a) Candidato(a)

Nº de inscrição

✂ ----- Esta parte destacável serve para copiar as suas respostas, somente poderá ser destacada no ato da entrega do material na mesa do fiscal. -----

01	<input type="checkbox"/>	02	<input type="checkbox"/>	03	<input type="checkbox"/>	04	<input type="checkbox"/>	05	<input type="checkbox"/>	06	<input type="checkbox"/>	07	<input type="checkbox"/>	08	<input type="checkbox"/>	09	<input type="checkbox"/>	10	<input type="checkbox"/>
11	<input type="checkbox"/>	12	<input type="checkbox"/>	13	<input type="checkbox"/>	14	<input type="checkbox"/>	15	<input type="checkbox"/>	16	<input type="checkbox"/>	17	<input type="checkbox"/>	18	<input type="checkbox"/>	19	<input type="checkbox"/>	20	<input type="checkbox"/>
21	<input type="checkbox"/>	22	<input type="checkbox"/>	23	<input type="checkbox"/>	24	<input type="checkbox"/>	25	<input type="checkbox"/>	26	<input type="checkbox"/>	27	<input type="checkbox"/>	28	<input type="checkbox"/>	29	<input type="checkbox"/>	30	<input type="checkbox"/>
31	<input type="checkbox"/>	32	<input type="checkbox"/>	33	<input type="checkbox"/>	34	<input type="checkbox"/>	35	<input type="checkbox"/>	36	<input type="checkbox"/>	37	<input type="checkbox"/>	38	<input type="checkbox"/>	39	<input type="checkbox"/>	40	<input type="checkbox"/>

Seriedade e ética: nós acreditamos nesses valores.

PORTUGUÊS

O primeiro mamífero extinto por causa das mudanças climáticas

Em junho de 2016, o Departamento da Proteção do Meio Ambiente e da Herança australiano preparou um relatório que afirmava que o *Melanomys rubicola*, um tipo de roedor, teria sido o primeiro mamífero do mundo a ser extinto em razão das mudanças climáticas. No entanto, foi só agora que o governo da Austrália reconheceu a extinção do animal.

Todos os indivíduos da espécie viviam em Bramble Cay, uma pequena ilha na Oceania que, em seu ponto mais alto, desponta a apenas 3 metros do mar.

A primeira vez em que esses ratos foram avistados foi em 1845, e, em 1978, centenas deles _____ o local. Contudo, desde 1998, a porção da ilha que fica acima da água caiu de 40 mil para 2 mil metros quadrados. Ou seja, conforme o espaço e a vegetação _____, os animais teriam perdido cerca de 97% de seu habitat.

Assim, o *Melanomys rubicola* se tornou a primeira de muitas espécies que ainda serão extintas por causa do clima progressivamente quente, de acordo com os autores do estudo. Segundo eles, esses roedores poderiam ter sido salvos caso mais recursos tivessem sido dedicados à causa sustentável.

<https://veja.abril.com.br/ciencia...> - adaptado.

1) Considerando-se a concordância, assinalar a alternativa que preenche as lacunas do texto CORRETAMENTE:

- a) povoavam - diminuiram
- b) povoava - diminuiram
- c) povoavam - diminuirá
- d) povoava - diminuirá

2) De acordo com o texto, analisar os itens abaixo:

- I. Em 2016, o governo da Austrália reconheceu a extinção do mamífero *Melanomys rubicola*.
- II. A espécie foi extinta devido às altas temperaturas decorrentes das mudanças climáticas.

- a) Os itens I e II estão corretos.
- b) Somente o item I está correto.
- c) Somente o item II está correto.
- d) Os itens I e II estão incorretos.

3) A palavra “reconheceu” (primeiro parágrafo) poderia ser substituída, sem alteração de sentido, por:

- a) Provou.
- b) Achou.
- c) Infamou.
- d) Aceitou.

4) De acordo com a norma, todos os vocábulos proparoxítonos devem ser acentuados graficamente, por exemplo, “climáticas” (título). O acento gráfico em “climáticas” justifica-se pela mesma regra de, EXCETO:

- a) Lâmina.
- b) Público.
- c) Álbum.
- d) Quilômetro.

5) Considerando-se as palavras no texto, assinalar a alternativa que apresenta dois substantivos:

- a) Junho e ponto.
- b) Assim e tipo.
- c) Quente e segundo.
- d) Recursos e dedicados.

6) Assinalar a alternativa em que o feminino está INCORRETAMENTE formado a partir da primeira palavra:

- a) Leitor - leitora.
- b) Patrão - patroa.
- c) Barão - baronesa.
- d) Cidadão - cidadona.

7) Em relação à pontuação, assinalar a alternativa INCORRETA:

- a) A criança, ansiosa, espera pelo recreio.
- b) A criança ansiosa, espera pelo recreio.
- c) A criança espera ansiosa pelo recreio.
- d) A criança ansiosa espera pelo recreio.

8) Assinalar a alternativa que apresenta um substantivo feminino:

- a) Publicação.
- b) Lápis.
- c) Caderno.
- d) Apontador.

9) Em relação à ortografia, marcar C para as palavras Certas, E para as Erradas e, após, assinalar a alternativa que apresenta a sequência CORRETA:

- () Miragem.
- () Bagagem.
- () Laranjeira.

- a) C - C - C.
- b) E - E - E.
- c) E - C - E.
- d) C - E - C.

10) Assinalar a alternativa que preenche a lacuna abaixo CORRETAMENTE:

Cláudio e Antônio não têm culpa, eles são bons _____.

- a) cidadãos
- b) cidadães
- c) cidadões
- d) cidadãs

MATEMÁTICA

11) De uma prova objetiva composta por 40 questões, sabe-se que 25% são referentes à disciplina de informática. Com base nessas informações, ao todo, quantas são as questões referentes à disciplina de informática?

- a) 10
- b) 15
- c) 20
- d) 25

12) Na eleição municipal de 2012, a cidade A teve 61 candidatos a vereador. Sabendo-se que a eleição de 2016 teve 48 candidatos, é CORRETO afirmar que a eleição de 2012 teve:

- a) 13 candidatos a menos do que a de 2016.
- b) 13 candidatos a mais do que a de 2016.
- c) 15 candidatos a menos do que a de 2016.
- d) 15 candidatos a mais do que a de 2016.

13) Supondo-se que o valor da fatura de cartão de crédito de Augusto no mês de janeiro foi de R\$ 260,00, e, no mês de fevereiro deste mesmo ano, foi de R\$ 320,00, é CORRETO afirmar que, com base nesses dois meses, o valor médio da fatura de Augusto é de:

- a) R\$ 310,00
- b) R\$ 300,00
- c) R\$ 290,00
- d) R\$ 280,00

14) O valor de x que satisfaz a equação abaixo corresponde ao número de pacientes atendidos por certo médico durante um turno de trabalho. Sendo assim, ao todo, quantos pacientes esse médico atendeu?

$$3x + 24 = 105$$

- a) 26
- b) 29
- c) 27
- d) 30

15) Ao todo, de quantos modos distintos pode-se organizar uma fila composta por três pessoas?

- a) 3
- b) 4
- c) 5
- d) 6

16) Considerando-se uma taxa de juros simples de 48% ao ano, pode-se afirmar que esta é proporcional a quantos por cento ao mês?

- a) 2%
- b) 4%
- c) 6%
- d) 8%

17) Certo Agente Comunitário de Saúde deve visitar 40 residências durante a semana de trabalho. Sabendo-se que, até o momento, ele já visitou $\frac{1}{5}$ das residências, quantas ainda faltam ser visitadas?

- a) 8
- b) 32
- c) 26
- d) 35

18) Sabendo-se que certo terreno retangular possui 300m^2 e 25m de comprimento, assinalar a alternativa que apresenta a largura desse terreno:





- a) 12m
- b) 14m
- c) 16m
- d) 18m

19) Para preparar 3 copos de suco de laranja, Bruno utilizou 5 laranjas. Mantendo-se a mesma proporção, se ele quiser preparar 9 copos de suco, ao todo, quantas laranjas ele deve utilizar?

- a) 18
- b) 15
- c) 13
- d) 10

20) Assinalar a alternativa que apresenta a próxima figura da sequência lógica abaixo:

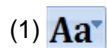


- a) 
- b) 
- c) 
- d) 

INFORMÁTICA

Atenção! Para responder às questões de Informática, a menos que seja explicitamente informado o contrário, considerar que os programas mencionados encontram-se na versão Português-BR e em sua configuração padrão de instalação, possuem licença de uso, o mouse está configurado para destros, um clique ou duplo clique correspondem ao botão esquerdo do mouse, e teclar corresponde à operação de pressionar uma tecla e, rapidamente, liberá-la, acionando-a apenas uma vez. Dessa forma, as teclas de atalho, os menus, os submenus, as barras, os ícones e os demais itens que compõem os programas abordados nesta prova encontram-se na configuração padrão.

21) Considerando-se as funções de alguns botões na guia Iniciar do Word 2007, numerar a 2ª coluna de acordo com a 1ª e, após, assinalar a alternativa que apresenta a sequência CORRETA:



-) Mostrar marcas de parágrafos e outros símbolos de formatação ocultos.
-) Alterar todo o texto selecionado para maiúsculas, minúsculas ou outros usos comuns de maiúsculas/minúsculas.
-) Colocar o texto selecionado em ordem alfabética ou classificar dados numéricos.

- a) 1 - 2 - 3.
- b) 2 - 3 - 1.
- c) 3 - 1 - 2.
- d) 2 - 1 - 3.

22) Assinalar a alternativa que apresenta o atalho de teclado utilizado para selecionar todas as células de uma planilha de Excel 2007:

- a) Ctrl+N
- b) Ctrl+C
- c) Ctrl+P
- d) Ctrl+T

23) Em conformidade com a Cartilha de Segurança para Internet, analisar os itens abaixo:

- I. Vírus é um programa ou parte de um programa de computador, normalmente malicioso, que se propaga inserindo cópias de si mesmo e se tornando parte de outros programas e arquivos.
- II. Spam é o termo usado para se referir aos e-mails não solicitados, que geralmente são enviados para um grande número de pessoas.

- a) Os itens I e II estão corretos.
- b) Somente o item I está correto.
- c) Somente o item II está correto.
- d) Os itens I e II estão incorretos.

24) Considerando-se o Internet Explorer 9, assinalar a alternativa que apresenta a mesma função que a tecla "F5" do teclado, durante a navegação na internet, ou seja, que atualiza a página de navegação?



25) Considerando-se o Windows 7, ao clicar com o botão direito do mouse sobre a área de trabalho, são opções apresentadas ao usuário, EXCETO:

- a) Exibir.
- b) Novo.
- c) Fechar todas as janelas.
- d) Classificar por.

LEGISLAÇÃO, CONHECIMENTOS GERAIS E ESPECÍFICOS

Conhecimentos Gerais

26) A Cúpula de Líderes do G20 reuniu os chefes de Estado e de Governo das 20 maiores economias do mundo, tanto desenvolvidas como emergentes, com reuniões durante o ano de 2018 para tratar de temas como economia, finanças, emprego, educação, energia e agricultura.

<https://economia.uol.com.br/...> - adaptado.

Qual país da América do Sul foi sede do G20 no ano de 2018?

- a) Argentina.
- b) Brasil.
- c) Chile.
- d) Venezuela.

Legislação e Conhecimentos Específicos

27) De acordo com a Constituição Federal, analisar os itens abaixo:

- I. Todos são iguais perante a lei, sem distinção de qualquer natureza, garantindo-se aos brasileiros e aos estrangeiros residentes no País a inviolabilidade do direito à vida, à liberdade, à igualdade, à segurança e à propriedade.
- II. Legislar sobre assuntos de interesse local, suplementar a legislação federal e a estadual no que couber, instituir e arrecadar os tributos de sua competência, bem como aplicar suas rendas, sem prejuízo da obrigatoriedade de prestar contas e publicar balancetes nos prazos fixados em lei, são algumas das competências dos Municípios.

- a) Os itens I e II estão corretos.
- b) Somente o item I está correto.
- c) Somente o item II está correto.
- d) Os itens I e II estão incorretos.

28) Em conformidade com a Lei Orgânica do Município, assinalar a alternativa INCORRETA:

- a) Perderá o mandato de Vereador aquele que fixar residência fora do município.
- b) O processo legislativo compreende a elaboração de emendas à Lei Orgânica, leis complementares, leis ordinárias, decretos legislativos e resoluções.
- c) O Prefeito, sem autorização do Legislativo, poderá se afastar do Município, por mais de doze dias consecutivos, mesmo se não estiver em férias, e se afastar do País, por qualquer tempo.
- d) Extinto o cargo ou declarada sua desnecessidade, o servidor estável ficará em disponibilidade, com remuneração proporcional ao tempo de serviço, até seu adequado aproveitamento em outro cargo.

29) Em conformidade com a Lei Complementar nº 17/2006 - Estatuto dos Servidores Públicos do Município, são deveres do servidor, EXCETO:

- a) Exercer com zelo e dedicação as atribuições do cargo.
- b) Ausentar-se do serviço durante o expediente, sem prévia autorização do chefe imediato.
- c) Cumprir as ordens superiores, exceto quando manifestamente ilegais.
- d) Zelar pela economia do material e pela conservação do patrimônio público.

30) De acordo com o Decreto nº 7.508/2011, analisar a sentença abaixo:

São Portas de Entrada às ações e aos serviços de saúde nas Redes de Atenção à Saúde os serviços de atenção primária, de atenção de urgência e emergência, de atenção psicossocial e os serviços especiais de acesso aberto (1ª parte). O Sistema Único de Saúde (SUS) é constituído pela conjugação das ações e serviços de promoção, proteção e recuperação da saúde executados pelos entes federativos, de forma direta ou indireta, mediante a participação complementar da iniciativa privada, sendo organizado de forma regionalizada e hierarquizada (2ª parte).

A sentença está:

- a) Totalmente correta.
- b) Correta somente em sua 1ª parte.
- c) Correta somente em sua 2ª parte.
- d) Totalmente incorreta.

31) Considerando-se a Lei nº 8.069/1990 - ECA, marcar C para as afirmativas Certas, E para as Erradas e, após, assinalar a alternativa que apresenta a sequência CORRETA:

- () A criança e o adolescente têm direito à proteção à vida e à saúde, mediante a efetivação de políticas sociais públicas que permitam o nascimento e o desenvolvimento sadio e harmonioso, em condições dignas de existência.
- () O SUS promoverá programas de assistência médica e odontológica para a prevenção das enfermidades que ordinariamente afetam a população infantil, e campanhas de educação sanitária para pais, educadores e alunos.

- a) C - E.
- b) E - E.
- c) C - C.
- d) E - C.

32) De acordo com a Lei nº 13.146/2015 - Estatuto da Pessoa com Deficiência, assinalar a alternativa INCORRETA:

- a) Toda pessoa com deficiência tem direito à igualdade de oportunidades com as demais pessoas e não sofrerá nenhuma espécie de discriminação.
- b) A pessoa com deficiência tem direito a receber atendimento prioritário, entre outros, sobretudo com a finalidade de atendimento em todas as instituições e serviços de atendimento ao público.
- c) A deficiência afeta a plena capacidade civil da pessoa, inclusive para exercer o direito à família e à convivência familiar e comunitária.
- d) É assegurada atenção integral à saúde da pessoa com deficiência em todos os níveis de complexidade, por intermédio do SUS, garantido acesso universal e igualitário.

33) De acordo com a Portaria de Consolidação nº 2/2017, sobre a Atenção Básica, analisar os itens abaixo:

- I. É o conjunto de ações de saúde individuais, familiares e coletivas.
- II. Envolve promoção, prevenção, proteção, diagnóstico, tratamento, reabilitação, redução de danos, cuidados paliativos e vigilância em saúde.
- III. É desenvolvida por meio de práticas de cuidado integrado e gestão qualificada, realizada com equipe multiprofissional e dirigida à população em território definido, sobre as quais as equipes assumem responsabilidade sanitária.

Estão CORRETOS:

- a) Somente os itens I e II.
- b) Somente os itens I e III.
- c) Somente os itens II e III.
- d) Todos os itens.

34) Com base nas informações contidas na Portaria de Consolidação nº 5/2017, pode-se afirmar que, ao nascer, a criança receberá:

- I. Dose única da BCG.
- II. Vacina contra a hepatite B.

- a) Os itens I e II estão corretos.
- b) Somente o item I está correto.
- c) Somente o item II está correto.
- d) Os itens I e II estão incorretos.

35) De acordo com o manual O trabalho do Agente Comunitário de Saúde, para realizar um bom trabalho, o Agente Comunitário de Saúde (ACS) precisará:

- a) Ser passivo.
- b) Conhecer o território.
- c) Observar somente o ambiente no qual a comunidade está inserida.
- d) Conhecer somente os problemas da comunidade atendida.

36) Em relação ao trabalho do ACS, analisar a sentença abaixo:

A etapa final de seu trabalho é o cadastramento das famílias de sua microárea – o seu território de atuação (1ª parte). Conhecer o número de pessoas da comunidade por faixa etária e sexo é importante, pois há doenças que acometem mais crianças do que adultos ou mais mulheres do que homens, o que influenciará no planejamento da equipe (2ª parte).

A sentença está:

- a) Totalmente correta.
- b) Correta somente em sua 1ª parte.
- c) Correta somente em sua 2ª parte.
- d) Totalmente incorreta.

37) A visita domiciliar é um dos trabalhos desenvolvidos pelo ACS. Sobre a visita domiciliar, marcar C para as afirmativas Certas, E para as Erradas e, após, assinalar a alternativa que apresenta a sequência CORRETA:

- () É a atividade mais importante do processo de trabalho do ACS.
- () A permissão de entrada em uma casa representa algo muito significativo, que envolve confiança no ACS e merece todo o respeito. É o que poderia ser chamado de “procedimento de alta complexidade” ou pelo menos de “alta delicadeza”.

- a) C - E.
- b) E - C.
- c) C - C.
- d) E - E.

38) Em relação à hanseníase, assinalar a alternativa que apresenta uma informação INCORRETA:

- a) É uma doença infectocontagiosa.
- b) É uma doença sem cura.
- c) O agente etiológico é o *Mycobacterium leprae*.
- d) É uma doença crônica.

39) A melhor forma de prevenção da dengue é evitar a proliferação do mosquito *Aedes Aegypti*. Com base nisso, são algumas formas de prevenir a proliferação do mosquito transmissor, EXCETO:

- a) Manter a caixa d'água fechada.
- b) Manter as calhas obstruídas.
- c) Manter tampados tonéis e barris de água.
- d) Encher de areia até as bordas os pratinhos das plantas.

40) Sobre a vitamina A, analisar a sentença abaixo:

A deficiência de vitamina A pode levar à cegueira (1ª parte). A vitamina A atua nos processos de manutenção da imunocompetência (2ª parte).

A sentença está:

- a) Totalmente correta.
- b) Correta somente em sua 1ª parte.
- c) Correta somente em sua 2ª parte.
- d) Totalmente incorreta.