



**PREFEITURA MUNICIPAL DE NOVO HORIZONTE  
ESTADO DE SÃO PAULO  
CONCURSO PÚBLICO Nº 02/2019**

**PSICÓLOGO**

**Instruções**

Leia atentamente e cumpra rigorosamente as instruções que seguem, pois elas são parte integrante das provas e das normas que regem esse Concurso Público.

1. Atente-se aos avisos contidos no quadro da sala.
2. Seus pertences deverão ser armazenados dentro do saco plástico fornecido pelo fiscal. Somente devem permanecer em posse do candidato caneta esferográfica de material transparente, com tinta azul ou preta de ponta grossa, documento de identidade, lanche e água, se houver. A utilização de qualquer material não permitido em edital é expressamente proibida, acarretando a imediata exclusão do candidato.
3. Certifique-se de que este caderno:
  - contém 40 (quarenta) questões;
  - refere-se ao cargo para o qual realizou a inscrição;
4. Cada questão oferece 5 (cinco) alternativas de respostas, representadas pelas letras A, B, C, D e E, sendo apenas 1 (uma) a resposta correta.
5. No caderno de prova, pode-se rabiscar, riscar e calcular.
6. Será respeitado o tempo para realização da prova conforme previsto em edital, incluindo o preenchimento da grade de respostas.
7. A responsabilidade referente à interpretação dos conteúdos das questões é exclusiva do candidato.
8. Os três últimos candidatos deverão retirar-se da sala de prova ao mesmo tempo, devendo assinar a Ata de Prova.
9. Os gabaritos preliminares da prova objetiva serão divulgados na data descrita no Cronograma de Execução.

Boa prova!



V1\_22/5/201914:38:29

**Controle de  
QUALIDADE  
Fundatec**



**Instrução: As questões de números 01 a 10 referem-se ao texto abaixo. Os destaques ao longo do texto estão citados nas questões.**

**Indústria de brinquedos insiste em separar meninos e meninas**

01 “Oi, você poderia me dar indicações de brinquedos para meninas?”, diz uma mãe, num  
02 diálogo hipotético com a atendente de uma grande loja de brinquedos. Do outro lado do balcão, a  
03 atendente não hesita em apontar: “a *Baby* tem saído bastante”. A mãe: “e para meninos?”;  
04 outra resposta rápida: “temos Lego, dinossauros e super-heróis”.

05 Enquanto as garotas cuidam de mais uma boneca bebê, os garotos brincam com as  
06 montagens criativas e os universos fantásticos dos personagens de desenhos. A separação de  
07 gênero dos brinquedos parece não acompanhar discussões de força na sociedade, que buscam a  
08 equidade como parâmetro para o futuro. “A segmentação de produto é uma estratégia  
09 comercial”, diz Lívia C., advogada do programa *Criança e Consumo*, do Instituto Alana,  
10 organização que luta pelo desenvolvimento infantil e direitos das crianças. “Nas lojas, até as  
11 cores do Lego são diferentes. Se uma família tem um casal de filhos, compra dois produtos”,  
12 complementa.

13 O brinquedo, no entanto, não é uma criação exclusiva da lógica de compra e venda do  
14 mercado, já que diz também sobre uma característica primordial da infância: a criatividade. “Eles  
15 são objetos culturais muito antigos, e se tornaram uma representação social do campo do  
16 imaginário”, diz Raquel F., coordenadora pedagógica do Instituto Alana. Se os lares reproduzirem  
17 padrões de gênero, os brinquedos também irão fazê-lo. Para a criança, não importa o que diz a  
18 embalagem e suas especificações. **O problema só existe quando esse objeto determina**  
19 **papéis sociais que limitam o aprendizado.**

20 “É por meio da brincadeira que a criança interage com outros e vivencia situações de casa”,  
21 diz Andrea L., que coordena o projeto *Toda Criança Pode Aprender*. Ela lembra de uma cena  
22 curiosa: “Vi um grupo de crianças brincando com bonecas e roupinhas. Um menino chegou para  
23 brincar com um super-herói e começou a dar banho e mamadeira para ele”. Para a criança, o  
24 que dita as regras é a curiosidade, isto é, o ato de descobrir.

25 Segundo Raquel F., o alto poder imaginativo e criativo das crianças \_\_\_\_\_ os elementos  
26 culturais impostos a ela, simplesmente porque a brincadeira vale mais a pena. Trocar brinquedos  
27 ou remontá-los são ações possíveis que só dependem da imaginação. “Elas têm a capacidade de  
28 ressignificar os papéis que a indústria e a sociedade \_\_\_\_\_”, diz. Os pais podem apostar mais  
29 em resgatar atividades construtivas para combater a imposição de gênero e demais costumes  
30 predatórios, como o consumismo, sobre as crianças. “Temos que \_\_\_\_\_ a chance de  
31 construir seus próprios brinquedos, de brincarem ao ar livre e interagirem”, cita Raquel.

32 Já existe uma legislação protetiva quando se trata da exposição infantil ..... publicidade,  
33 com atributos adicionais como o *Marco Legal da Primeira Infância*, que determina ..... não  
34 exposição delas ..... comunicação mercadológica. Para os pais e a sociedade, o momento é  
35 de pressionar para alinhar o que está nas prateleiras ..... expectativas dos novos tempos. Já  
36 surtiu efeito: “Vemos mais bonecas negras, mais bonecos bebês meninos”, diz Lívia C.. No fim  
37 desse processo, as crianças só querem mais um motivo para brincar.

Fonte: [https://www.cartacapital.com.br/diversidade/como-nao-cair-na-cilada-de-princesas-e-herois-dos-brinquedos-infantis/](https://www.cartacapital.com.br/diversidade/como-nao-cair-na-cilada-de-princesas-e-herois-dos-brinquedos-infantis/Texto adaptado especialmente para esta prova.) Texto adaptado especialmente para esta prova.

**QUESTÃO 01** – Assinale a alternativa que preenche, correta e respectivamente, as lacunas tracejadas das linhas 25, 28 e 30.

- A) recria – impõem-lhes – lhes devolver
- B) recriam – lhe impõem – devolver-lhes
- C) recria – impõe-nas – as devolver
- D) recriam – lhes impõe – devolvê-las
- E) recria – as impõe – devolver

**QUESTÃO 02** – Assinale a alternativa que preenche, correta e respectivamente, as lacunas pontilhadas das linhas 32, 33, 34 e 35.

- A) a – a – a – às
- B) à – a – à – às
- C) a – a – a – nas
- D) à – à – à – às
- E) a – à – a – as

**QUESTÃO 03** – Assinale a alternativa que melhor interpreta – de acordo com o contexto estabelecido – o seguinte trecho retirado do texto: “A separação de gênero dos brinquedos parece não acompanhar discussões de força na sociedade, que buscam a equidade como parâmetro para o futuro”.

- A) Os brinquedos de montar, como Lego, são destinados exclusivamente aos meninos; já as meninas só brincam com bonecas e bonecos, reproduzindo papéis da sociedade.
- B) A equiparação entre os gêneros é uma pauta de discussão na sociedade, mas a indústria de brinquedos parece ignorar que tal discussão exista.
- C) A indústria de brinquedos está atenta às questões da sociedade, como a separação de gênero, tanto é assim que há bonecos de super-heróis para meninos.
- D) A separação de gênero dos brinquedos acompanha a realidade da sociedade brasileira, em que as mulheres não trabalham fora e são donas de casa, enquanto os homens são os provedores.
- E) A separação de gênero dos brinquedos é forte discussão de uma estratégia ideológica conservadora cujo intuito é defender valores patriarcais.

**QUESTÃO 04** – Acerca das duas seguintes afirmações sobre reescritas de trechos do texto, com mudança de discurso direto para indireto, assinale a alternativa correta.

- I. Todo o período das linhas 01 e 02 do texto pode ser transcrito corretamente da seguinte forma: *Uma mãe pergunta a uma atendente de uma grande loja de brinquedos se ela poderia dar-lhe indicações de brinquedos para meninas.*
  - II. O último período do 1º parágrafo (l. 03 e 04) pode ser transcrito corretamente da seguinte forma: *A mãe pergunta sobre brinquedos para meninos e a atendente responde rapidamente que temos Lego, dinossauros e super-heróis.*
- A) I e II estão corretas.
  - B) I e II estão incorretas.
  - C) Em I, toda a transcrição do texto obedece às regras da passagem de um discurso para outro.
  - D) Em II, deveria ser transcrito “A mãe pergunta-a...”.
  - E) Em I, a forma verbal “poderia dar-lhe” deveria ser transcrita “poder-lhe-ia dar”.

**QUESTÃO 05** – O período grifado, nas linhas 18 e 19 do texto, manteria a correção se os dois verbos sublinhados fossem substituídos – respectivamente – pelas seguintes alternativas, EXCETO:

- A) incute – tolhem
- B) institui – entram
- C) obriga – definem
- D) designa – restringem
- E) estabelece – refreiam

**QUESTÃO 06** – Relacione as palavras retiradas do texto na Coluna 1 ao tipo de formação na Coluna 2.

**Coluna 1**

- 1. Formada por prefixação e sufixação.
- 2. Formada por composição.
- 3. Formada por derivação sufixal.
- 4. Formada por derivação prefixal.

**Coluna 2**

- ( ) Dinossauros.
- ( ) Mercadológicas.
- ( ) Super-heróis.
- ( ) Infantil.
- ( ) Desenvolvimento.

A ordem correta de preenchimento dos parênteses, de cima para baixo, é:

- A) 2 – 4 – 3 – 2 – 1.
- B) 3 – 2 – 3 – 1 – 4.
- C) 2 – 2 – 4 – 3 – 1.
- D) 1 – 1 – 4 – 3 – 2.
- E) 4 – 3 – 2 – 2 – 1.

**QUESTÃO 07** – Assinale a alternativa que faz uma afirmação INCORRETA sobre o seguinte período do texto: “*Para a criança, o que dita as regras é a curiosidade, isto é, o ato de descobrir*”.

- A) Os dois termos sublinhados são pronomes.
- B) Há duas preposições no período.
- C) Há quatro substantivos no período.
- D) A expressão “isto é” retifica ou explica o termo anterior e deve ficar entre vírgulas.
- E) Nas duas ocorrências, “o” é artigo definido.

**QUESTÃO 08** – Considere o que se afirma sobre a seguinte frase do texto: “*Se os lares reproduzirem padrões de gênero, os brinquedos também irão fazê-lo*”:

- I. É um período composto com duas orações.
- II. A vírgula separa oração subordinada adverbial deslocada com sentido de condição.
- III. A oração após a vírgula é a principal.
- IV. A forma pronominal “lo” retoma “reproduzirem padrões de gênero”.

Quais estão corretas?

- A) Apenas I e II.
- B) Apenas II e III.
- C) Apenas I, II e IV.
- D) Apenas II, III e IV.
- E) I, II, III e IV.

**QUESTÃO 09** – Considere as possíveis reescritas do seguinte período do texto: “*O brinquedo, no entanto, não é uma criação exclusiva da lógica de compra e venda do mercado, já que diz também sobre uma característica primordial da infância: a criatividade*”.

- I. Todavia, o brinquedo não é uma criação exclusiva da lógica de compra e venda do mercado: ele também diz sobre a criatividade, que é uma característica primordial da infância.
- II. Por outro lado, o brinquedo não é uma criação exclusiva da lógica de compra e venda do mercado, uma vez que ele se liga a uma característica primordial da infância: a criatividade.
- III. O brinquedo, em vista disso, não é uma criação exclusiva da lógica de compra e venda do mercado, contudo, diz também sobre a criatividade e a uma característica primordial da infância.

Quais mantêm a correção e o sentido do texto?

- A) Apenas I.
- B) Apenas II.
- C) Apenas III.
- D) Apenas I e II.
- E) I, II e III.

**QUESTÃO 10** – Assinale a alternativa em que as palavras NÃO recebem acento gráfico por causa da regra indicada.

- A) Hipotético – parâmetro – possíveis: PROPAROXÍTONAS.
- B) Super-heróis – bebês – até: OXÍTONAS.
- C) Construïrem – saído: “I” HIATO TÔNICO.
- D) Já – só: MONOSSÍLABOS TÔNICOS.
- E) Têm: ACENTO DIFERENCIAL.

**CONHECIMENTOS GERAIS**

**QUESTÃO 11** – Os primeiros habitantes, que deram origem ao município de Novo Horizonte, procederam de:

- A) Descalvo e Pirassununga.
- B) Angatuba e Paranapanema.
- C) Itaporanga e Tarumã.
- D) Iepê e Nantes.
- E) Tupã e Itaberá.

**QUESTÃO 12** – Em 2019 o mundo celebra os 500 anos da morte do gênio Leonardo da Vinci. Sobre ele, são feitas as seguintes afirmações:

- I. Fez parte do movimento cultural denominado Renascimento.
- II. Entre suas principais obras, estão A Última Ceia e o Homem Vitruviano.
- III. Foi contemporâneo de Michelangelo.

Quais estão corretas?

- A) Apenas I.
- B) Apenas II.
- C) Apenas I e III.
- D) Apenas II e III.
- E) I, II e III.

**QUESTÃO 13** – A Venezuela vive uma grave crise política. No dia 10 de janeiro de 2019, Nicolás Maduro tomou posse como presidente, no Tribunal Supremo de Justiça, mesmo não tendo o reconhecimento da oposição, que controla a Assembleia Nacional. O aumento das tensões na crise da Venezuela se deu quando, no último dia 23 de janeiro, Juan Guaidó se declarou presidente interino da Venezuela, fato que fez com que a comunidade internacional se dividisse em apoio entre os dois presidentes. Dentre os países que declararam apoio a Guaidó, estão, EXCETO:

- A) Estados Unidos.
- B) Argentina.
- C) Rússia.
- D) Chile.
- E) Reino Unido.

**QUESTÃO 14** – Em 1º de maio de 1994, morria Ayrton Senna, piloto de Fórmula 1, considerado um ídolo para muitos brasileiros. Meses após a sua morte, a família do piloto criou o Instituto Ayrton Senna, com o objetivo de propor ações inovadoras e políticas públicas, tendo como foco a(o):

- A) Economia.
- B) Educação.
- C) Medicina familiar.
- D) Esporte de competição.
- E) Aleitamento materno.

**QUESTÃO 15** – Sobre a sucessão do trono japonês, ocorrida em 30 de abril último, são feitas as seguintes afirmações:

- I. O Imperador Akihito abdicou em favor de seu neto mais velho Naruhito.
- II. A sucessão dá início à Era Reiwa no Japão.
- III. É a primeira vez em dois séculos que um imperador japonês abdica de suas funções.

Quais estão corretas?

- A) Apenas I.
- B) Apenas I e II.
- C) Apenas I e III.
- D) Apenas II e III.
- E) I, II e III.

**QUESTÃO 16** – O Dia Nacional do Livro Infantil é comemorado em 18 de abril. A data foi escolhida em homenagem ao nascimento de um autor que dedicou a produção de boa parte de sua obra ao público infanto-juvenil. Que autor é esse?

- A) Jorge Amado.
- B) Machado de Assis.
- C) Graciliano Ramos.
- D) José de Alencar.
- E) Monteiro Lobato.

**QUESTÃO 17** – Em abril passado, a catedral de Notre Dame foi manchete dos jornais mundiais por ter sido atingida por um grande incêndio. No século XIX, a Catedral ficou famosa através da obra de \_\_\_\_\_, o “Corcunda de Notre Dame”, em que o personagem principal, \_\_\_\_\_, se escondia nas torres da catedral.

Assinale a alternativa que preenche, correta e respectivamente, as lacunas do trecho acima.

- A) Cervantes – Dom Quixote
- B) Vitor Hugo – Quasímodo
- C) Shakespeare – Hamlet
- D) James Joyce – Ulisses
- E) Marcel Proust – Charles Swann

**QUESTÃO 18** – A imagem abaixo é a foto oficial de um novo grupo de países que se organiza na América do Sul e teve sua primeira reunião no Palácio de La Moneda no Chile. Esse novo grupo é um fórum regional de diálogo e se denomina:




Foto: Marcos Corrêa/PR  
Publicado no Jornal Grande Bahia

- A) UNASUL.
- B) CONESUL.
- C) PROSUL.
- D) PROAMÉRICA.
- E) MERCOSUL.

**QUESTÃO 19** – No contexto da União Europeia, o Brexit significa o processo de:

- A) Unificação monetária.
- B) Eliminação de fronteiras.
- C) Auxílio aos refugiados africanos.
- D) Saída do grupo do Reino Unido.
- E) Eliminação de armas químicas.

**QUESTÃO 20** – A primeira viagem internacional do presidente Jair Bolsonaro ocorreu em janeiro de 2019. O destino foi Zurique, na Suíça, e o objetivo foi representar o Brasil na(o):

- A) Fórum Econômico Mundial.
- B) Conferência Sul-Americana do Meio Ambiente.
- C) Simpósio Internacional dos Países Latino-Americanos.
- D) Reunião da Organização das Nações Unidas.
- E) Assembleia das Nações Emergentes.

**Lista de símbolos:**

- ⇒ Condicional  
 ⇔ Bicondicional  
 ∧ Conector "e"  
 ∨ Conector "ou"  
 ∨ Conector "ou" exclusivo  
 ¬ Negação da proposição

**QUESTÃO 21** – Um número real equivalente a  $\frac{1}{\sqrt{2}}$  é:

- A)  $\sqrt{2}$   
 B)  $\frac{\sqrt{2}}{2}$   
 C)  $\frac{1}{2}$   
 D) 2  
 E) 1

**QUESTÃO 22** – A quantidade de centigramas em 3 toneladas é:

- A) 300.  
 B) 3.000.  
 C) 30.000.  
 D) 300.000.  
 E) 3.000.000.

**QUESTÃO 23** – Pedro treina corrida em uma pista circular cujo raio tem a medida de 100 metros. Assinale a alternativa que apresenta o valor melhor aproximado da distância percorrida por Pedro, em metros, após completar 10 voltas na pista.

- A) 200.  
 B) 500.  
 C) 628,3.  
 D) 700,5.  
 E) 900,4.

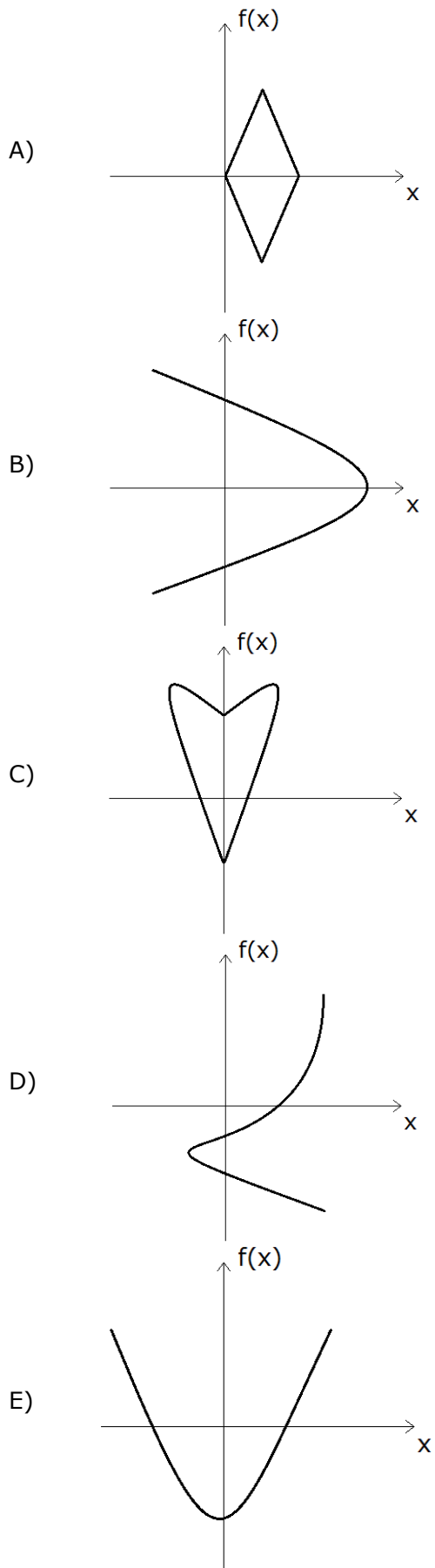
**QUESTÃO 24** – Após o encerramento do ano escolar de 2018, em uma escola de Novo Horizonte (SP), as notas de João foram as seguintes:

1º trimestre (peso 1)	2º trimestre (peso 1)	3º trimestre (peso 2)	<b>Média</b>
6,5	7,5	8,5	X

Com base no quadro acima, é correto afirmar que a média ponderada das notas de João é:

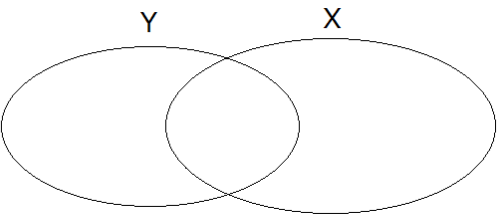
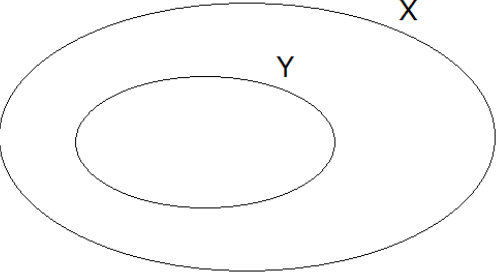
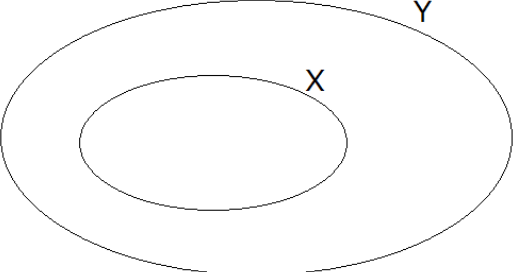
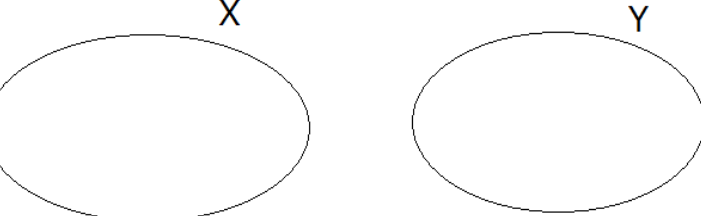
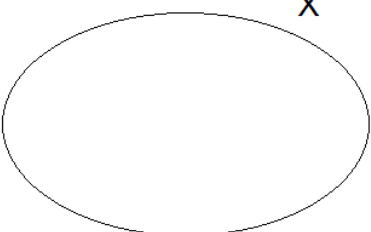
- A) 7,75.  
 B) 7,5.  
 C) 7,25.  
 D) 7,0.  
 E) 6,75.

**QUESTÃO 25** – Qual dos esboços de gráficos a seguir pode representar uma função  $f(x)$ ?





**QUESTÃO 26** – O diagrama lógico que representa corretamente a proposição “Todo X é Y” é:

- A) 
- B) 
- C) 
- D) 
- E) 

**QUESTÃO 27** – Se P, Q e R são proposições falsas, então o valor lógico de  $(P \vee Q) \Leftrightarrow R$  é:

- A) Falso.  
 B) Verdadeiro.  
 C) Tautológico.  
 D) Contraditório.  
 E) Impossível de saber.

**QUESTÃO 28** – Se chove em Novo Horizonte, então as ruas ficam alagadas. Se as ruas ficam alagadas então Joana não pode ir ao cinema. Sabe-se que Joana pode ir ao cinema. Portanto, é válido concluir que:

- A) As ruas ficaram alagadas.
  - B) Joana mora em Novo Horizonte.
  - C) Choveu em Novo Horizonte.
  - D) Não choveu em Novo Horizonte.
  - E) Joana gosta de ir ao cinema.
- 

**QUESTÃO 29** – A negação da proposição “Se moro em Novo Horizonte, então sou uma pessoa feliz” é:

- A) Moro em Novo Horizonte e não sou uma pessoa feliz.
  - B) Se não moro em Novo Horizonte, então não sou uma pessoa feliz.
  - C) Se não sou uma pessoa feliz, então não moro em Novo Horizonte.
  - D) Não moro em Novo Horizonte.
  - E) Não sou uma pessoa feliz.
- 

**QUESTÃO 30** – Considere as seguintes proposições:

- I. Todo morador de Novo Horizonte gosta de mel.
- II. Há ursos que gostam de mel.
- III. João gosta de mel.

Disso, pode-se concluir que:

- A) João não é morador de Novo Horizonte.
- B) João certamente é morador de Novo Horizonte.
- C) João certamente não é um urso.
- D) João certamente é um urso.
- E) João pode ser um urso.

**CONHECIMENTOS ESPECÍFICOS**

**QUESTÃO 31** – Déficits cognitivos, alterações de atenção e de diversas funções mentais de natureza \_\_\_\_\_ são comumente associados às terapias farmacológicas, tanto aos fármacos de uso geral quanto aos psiquiátricos (XAVIER; CHACHAMOVICH, 2016).

Assinale a alternativa que preenche corretamente a lacuna do trecho acima.

- A) Filogênica
- B) Iatrogênica
- C) Taxonômica
- D) Hereditária
- E) Orgânica

**QUESTÃO 32** – No artigo “Adolescentes na Rede: Riscos ou Ritos de Passagem?”, Dias et al. (2019) trazem dados relacionados ao percentual de crianças e adolescentes que já tiveram contato na internet com alguém desconhecido. Qual é esse percentual?

- A) 13%
- B) 14%
- C) 19%
- D) 21%
- E) 29%

**QUESTÃO 33** – Sobre o desenvolvimento típico do ciclo vital durante a infância (PAPALIA, 2006), relacione a Coluna 1 à Coluna 2, associando os desenvolvimentos físicos, cognitivos e psicossociais à faixa etária.

**Coluna 1**

1. Primeira infância (nascimento aos 03 anos).
2. Segunda infância (03 aos 06 anos).
3. Terceira infância (06 aos 11 anos).

**Coluna 2**

- ( ) O apetite diminui, e os problemas de sono são comuns.
- ( ) A compreensão e o uso da linguagem desenvolvem-se rapidamente.
- ( ) Doenças respiratórias são comuns, mas a saúde geralmente é melhor.
- ( ) As habilidades de memória e linguagem aumentam.
- ( ) Aumenta o interesse por outras crianças.
- ( ) A imaturidade cognitiva leva a algumas ideias ilógicas sobre o mundo.

A ordem correta de preenchimento dos parênteses, de cima para baixo, é:

- A) 1 – 2 – 3 – 2 – 1 – 3.
- B) 2 – 3 – 2 – 1 – 3 – 1.
- C) 2 – 1 – 3 – 3 – 1 – 2.
- D) 3 – 2 – 1 – 2 – 1 – 3.
- E) 3 – 1 – 2 – 3 – 2 – 1.

**QUESTÃO 34** – A Resolução do CFP nº 01/1999 dispõe sobre:

- A) Normas de atuação para os psicólogos em relação à questão da Orientação Sexual.
- B) A atuação da(o) psicóloga(o) no âmbito do sistema prisional.
- C) A prestação de serviços psicológicos realizados por meios de tecnologias da informação e da comunicação e revoga a Resolução CFP nº 11/2012.
- D) Normas de atuação para os psicólogos em relação a preconceito e discriminação racial.
- E) Normas de atuação para as psicólogas e os psicólogos em relação às pessoas transexuais e travestis.

**QUESTÃO 35** – A Resolução nº 001/2009 que dispõe sobre a obrigatoriedade do registro documental, em relação ao serviço psicológico prestado em campos de estágio, no artigo 3º, refere sobre os itens que devem constar no documento. Sobre isso, analise as assertivas abaixo e assinale V, se verdadeiras, ou F, se falsas.

- ( ) Identificação e assinatura do responsável técnico/supervisor.
- ( ) Somente assinatura do responsável técnico/supervisor e do estagiário.
- ( ) O estagiário deve registrar todas as atividades e acontecimentos que ocorrem com os usuários.
- ( ) Identificação, assinatura do responsável técnico/supervisor e do estagiário.
- ( ) O estagiário deve registrar somente os relatos de sessão que ocorrem com os usuários.

A ordem correta de preenchimento dos parênteses, de cima para baixo, é:

- A) V – V – F – F – F.
- B) F – F – V – V – V.
- C) V – V – V – F – F.
- D) F – V – F – V – F.
- E) V – F – V – V – F.

**QUESTÃO 36** – A vida afetiva é a dimensão psíquica que dá cor, brilho e calor a todas as vivências humanas. Sem afetividade, a vida mental torna-se vazia, sem sabor. Afetividade compreende várias modalidades de vivências afetivas, como o humor, as emoções e os sentimentos. Em relação à definição de cada vivência afetiva, relacione a Coluna 1 à Coluna 2.

**Coluna 1**

1. Humor ou estado de ânimo.
2. Emoções.
3. Paixões.

**Coluna 2**

- ( ) Estado afetivo intenso, de curta duração, originado geralmente como a reação do indivíduo a certas excitações internas ou externas, conscientes ou inconscientes.
- ( ) Tônus afetivo do indivíduo. Estado emocional basal e difuso em que se encontra e pessoa em determinado momento.
- ( ) Estado afetivo extremamente intenso, que domina a atividade psíquica como um todo, captando e dirigindo a atenção e o interesse do indivíduo em uma só direção.

A ordem correta de preenchimento dos parênteses, de cima para baixo, é:

- A) 1 – 2 – 3.
- B) 2 – 1 – 3.
- C) 3 – 2 – 1.
- D) 1 – 3 – 2.
- E) 2 – 3 – 1.

**QUESTÃO 37** – Os resultados do estudo de Pereira e Lemos (2019) indicam que, apesar da intenção de realizar exames de Papanicolau e utilizar preservativo, a realização efetiva é bastante baixa. Assinale a alternativa que apresenta, respectivamente, a frequência dos achados daqueles que não realizam o Papanicolau e daqueles que não utilizam preservativo.

- A) 1/3 – 13%.
- B) 1/3 – 15%.
- C) 2/3 – 20%.
- D) 2/3 – 25%.
- E) 2/3 – 29%.

**QUESTÃO 38** – Segundo o DSM-V (2014), qual o Transtorno que se caracteriza por déficits persistentes na comunicação social e na interação social em múltiplos contextos, incluindo déficits na reciprocidade social, em comportamentos não verbais de comunicação usados para interação social e em habilidades para desenvolver, manter e compreender relacionamentos?

- A) Da Comunicação.
- B) Do Desenvolvimento Intelectual.
- C) De Déficit de Atenção e Hiperatividade.
- D) Do Espectro Autista.
- E) Específico da Aprendizagem.

**QUESTÃO 39** – O Código de Ética do Profissional Psicólogo (2005) traz princípios fundamentais para os profissionais da psicologia. Sobre eles, analise as assertivas abaixo e assinale V, se verdadeiras, ou F, se falsas.

- ( ) O psicólogo trabalhará visando promover a saúde e a qualidade de vida das pessoas e das coletividades e contribuirá para a eliminação de quaisquer formas de negligência, discriminação, exploração, violência, crueldade e opressão.
- ( ) O psicólogo contribuirá para enredar a universalização do acesso da população às informações, ao conhecimento da ciência psicológica, aos serviços e aos padrões éticos da profissão.
- ( ) O psicólogo zelará para que o exercício profissional seja efetuado com dignidade, rejeitando situações em que a Psicologia esteja sendo aviltada.
- ( ) O psicólogo atuará com responsabilidade, por meio do contínuo aprimoramento profissional, contribuindo para o parco desenvolvimento da Psicologia como campo científico de conhecimento e de prática.
- ( ) O psicólogo atuará com responsabilidade social, analisando de forma leviana e historicamente a realidade política, econômica, social e cultural.

A ordem correta de preenchimentos dos parênteses, de cima para baixo, é:

- A) V – F – F – V – F.
- B) F – V – V – F – V.
- C) V – F – V – F – V.
- D) F – F – F – V – F.
- E) V – F – V – F – F.

**QUESTÃO 40** – Segundo Tombolato, Maia e Santos (2019), analise os preceitos básicos para a produção de um estudo de caso, descritos abaixo, e assinale C, se corretos, ou I, se incorretos.

- ( ) Definir o caso a partir da conceituação do objeto.
- ( ) Delimitar a questão a ser investigada.
- ( ) Utilizar referencial teórico para compreensão do objeto, entretanto, não se limitando a ele.
- ( ) Executar a articulação dos métodos, das fontes, das técnicas de análise e das teorias.
- ( ) Atentar-se às interpretações alternativas para os dados.
- ( ) Elaborar, quando plausível, asserções e generalizações.

A ordem correta de preenchimento dos parênteses, de cima para baixo, é:

- A) C – C – C – I – I – I.
- B) C – C – I – I – C – C.
- C) C – C – C – C – C – C.
- D) I – I – I – I – C – C.
- E) I – I – C – C – I – I.