

Agente Comunitário de Saúde

- Confira devidamente o material (CARTÃO DE RESPOSTAS e CADERNO DE QUESTÕES); se houver falha, solicite a substituição ao fiscal.
- Este caderno de questões está assim constituído:

DISCIPLINAS	Nº QUESTÕES
Português	10
Matemática	10
Informática	05
Legislação, Conhecimentos Gerais e Específicos	15

- Após conferir seus dados no cartão de respostas (NOME, Nº da INSCRIÇÃO e CARGO), assine no local indicado.
- O CARTÃO DE RESPOSTAS é o único documento de correção, devendo ser preenchido com bastante atenção, à caneta esferográfica, azul ou preta, ponta grossa, marcando uma única alternativa em cada questão. Verifique no cartão de respostas as instruções para preenchimento. Não rasure, não amasse nem dobre o CARTÃO DE RESPOSTAS; evite usar borracha. É vedada a substituição do CARTÃO DE RESPOSTAS decorrente de erro cometido por candidato.
- Se o CARTÃO DE RESPOSTAS contiver maior número de alternativas e/ou de questões, preencha apenas as correspondentes à sua prova; as demais ficam em branco.
- Durante a realização da prova, não é permitida a comunicação entre candidatos nem a utilização de máquina calculadora e/ou similares, livros, anotações, réguas de cálculo, impressos ou qualquer outro material de consulta.
- O tempo de duração da prova objetiva será de **até 3 horas**, incluído o tempo para preenchimento do Cartão de Respostas.
- Em todas as questões de legislação desta prova (se houver), serão consideradas as emendas e/ou alterações da legislação com entrada em vigor até a data do início das inscrições.
- Na prova de Português será exigida a norma ortográfica atualmente em vigor.
- Ao final dos trabalhos, **DEVOLVA** ao Fiscal da sala, juntamente com o CARTÃO DE RESPOSTAS devidamente preenchido e assinado, o CADERNO DE QUESTÕES, tendo em vista a obrigatoriedade de arquivo no Município.
- A parte destacável no final desta capa, que serve para copiar as suas respostas, somente poderá ser destacada no ato da entrega do material na mesa do fiscal.
- Os três últimos candidatos de cada sala de prova deverão permanecer no recinto, a fim de acompanhar os fiscais até a coordenação para o lacre dos envelopes, quando, então, poderão retirar-se do local, simultaneamente, após concluído.

Direitos autorais reservados à Objetiva Concursos Ltda. Proibida a reprodução, ainda que parcial, sem autorização prévia.

Boa Prova!

Seriedade e ética: nós acreditamos nesses valores.

Nome do(a) Candidato(a)

Nº de inscrição

✂ ----- Esta parte destacável serve para copiar as suas respostas, somente poderá ser destacada no ato da entrega do material na mesa do fiscal.

01	<input type="checkbox"/>	02	<input type="checkbox"/>	03	<input type="checkbox"/>	04	<input type="checkbox"/>	05	<input type="checkbox"/>	06	<input type="checkbox"/>	07	<input type="checkbox"/>	08	<input type="checkbox"/>	09	<input type="checkbox"/>	10	<input type="checkbox"/>
11	<input type="checkbox"/>	12	<input type="checkbox"/>	13	<input type="checkbox"/>	14	<input type="checkbox"/>	15	<input type="checkbox"/>	16	<input type="checkbox"/>	17	<input type="checkbox"/>	18	<input type="checkbox"/>	19	<input type="checkbox"/>	20	<input type="checkbox"/>
21	<input type="checkbox"/>	22	<input type="checkbox"/>	23	<input type="checkbox"/>	24	<input type="checkbox"/>	25	<input type="checkbox"/>	26	<input type="checkbox"/>	27	<input type="checkbox"/>	28	<input type="checkbox"/>	29	<input type="checkbox"/>	30	<input type="checkbox"/>
31	<input type="checkbox"/>	32	<input type="checkbox"/>	33	<input type="checkbox"/>	34	<input type="checkbox"/>	35	<input type="checkbox"/>	36	<input type="checkbox"/>	37	<input type="checkbox"/>	38	<input type="checkbox"/>	39	<input type="checkbox"/>	40	<input type="checkbox"/>

Seriedade e ética: nós acreditamos nesses valores.

PORTUGUÊS

Alimentos ultraprocessados fornecem 500 calorias extras ao dia

Devido à rotina agitada, muitas pessoas preferem optar pela conveniência de refeições mais fáceis e rápidas de preparar, como comida congelada, *nuggets* e refrigerantes. Esse tipo de alimentação é geralmente baseado em alimentos ultraprocessados, que, além de convenientes, _____ a ser mais baratos. No entanto, esses produtos fornecem mais de 500 calorias extras por dia, o que leva ao ganho de peso, apontou estudo inédito publicado na revista *Cell Metabolism*.

A equipe revelou também que indivíduos cuja dieta é baseada em alimentos dessa categoria _____ ganhar até dois quilos por mês. Um dos possíveis motivos para esse resultado reside no fato de que alimentos processados são macios e fáceis de mastigar, fazendo com que as pessoas comam mais rápido. Essa rapidez provoca um atraso na atuação do intestino - que tem como missão "informar" ao cérebro que a quantidade de alimento ingerida foi suficiente. Portanto, esse processo ocorre mais tarde do que deveria e contribui para o consumo de calorias extras.

O achado surpreendeu a equipe. Inicialmente, os pesquisadores esperavam que o motivo do ganho de peso estivesse associado à presença de uma grande quantidade de ingredientes como alto teor de sódio, açúcar e gordura, que deixam a comida mais gostosa e, portanto, promovem maior ingestão alimentar.

Os resultados são preocupantes, já que pesquisas anteriores haviam associado a ingestão de alimentos ultraprocessados a maior risco de obesidade, câncer, doenças autoimunes e até mesmo morte prematura. Por causa disso, especialistas recomendam a redução desses alimentos na dieta.

<https://veja.abril.com.br...> - adaptado.

1) Considerando-se a concordância, assinalar a alternativa que preenche as lacunas do texto CORRETAMENTE:

- a) tendem - podem
- b) tende - podem
- c) tende - pode
- d) tendem - pode

2) De acordo com o texto, marcar C para as afirmativas Certas, E para as Erradas e, após, assinalar a alternativa que apresenta a sequência CORRETA:

- () Segundo resultados da pesquisa, alimentos ultraprocessados geram ganho de peso, provavelmente porque são fáceis de mastigar.
- () Uma dieta baseada em alimentos ultraprocessados reduz o risco de obesidade e câncer, e até mesmo adianta a morte.

- a) C - E.
- b) E - C.
- c) E - E.
- d) C - C.

3) Segundo seu sentido no texto, a palavra "conveniência" (primeiro parágrafo) encontra um sinônimo em:

- a) Rapidez.
- b) Artificialidade.
- c) Vantagem.
- d) Banalidade.

4) Considerando-se o trecho "No entanto, esses produtos fornecem mais de 500 calorias extras por dia" (primeiro parágrafo), o termo sublinhado introduz ideia de:

- a) Causa.
- b) Explicação.
- c) Conformidade.
- d) Contraste.

5) Referentemente às regras de acentuação, analisar os itens abaixo:

- I. A palavra "rápidas" (primeiro parágrafo) recebe acento pela mesma regra que preceitua o uso do acento em "cérebro" (segundo parágrafo).
- II. A palavra "também" (segundo parágrafo) perdeu seu acento após o novo acordo ortográfico, sendo assim, não deveria estar acentuada.

- a) Os itens I e II estão corretos.
- b) Somente o item I está correto.
- c) Somente o item II está correto.
- d) Os itens I e II estão incorretos.

MATEMÁTICA

6) Em relação às regras de colocação pronominal, assinalar a alternativa INCORRETA:

- a) Não te vejo há muitos anos.
- b) Sempre disseram-me o que fazer.
- c) Em se considerando os termos, apoio!
- d) Quando me trarão o comprovante?

7) Quanto à concordância nominal, assinalar a alternativa CORRETA :

- a) Dado os pedidos, me demiti.
- b) Desejo menas guerras nesse país.
- c) É necessária muita calma para realizar as atividades.
- d) Elas próprio fizeram toda a decoração.

8) De acordo com as regras de pontuação, marcar C para as afirmativas Certas, E para as Erradas e, após, assinalar a alternativa que apresenta a sequência CORRETA:

- () Gosto de sorvete, mas, prefiro, bolo.
- () Quando dançar com ele, cuide dos pés.
- () O que você fez?

- a) C - C - E.
- b) E - C - C.
- c) C - E - E.
- d) E - C - E.

9) Em “Ele correu de toda a confusão”, o verbo sublinhado está em que tempo verbal?

- a) Presente.
- b) Futuro do presente.
- c) Pretérito perfeito.
- d) Pretérito mais que perfeito.

10) Assinalar a alternativa que NÃO apresenta um diminutivo:

- a) Lugarejo.
- b) Faquinha.
- c) Livrinho.
- d) Barulheira.

11) Uma prova de certo concurso possui 40 questões. Sabe-se que a quantidade de acertos de certo candidato somada ao dobro da quantidade de erros dele é igual a 58. Desse modo, ao todo, quantas questões acertou esse candidato?

- a) 22
- b) 20
- c) 18
- d) 16

12) Em certa fruteira, a proporção entre bananas e maçãs à venda é de 5:3 respectivamente. Sabendo-se que, juntando as bananas e as maçãs, há, ao todo, 480 frutas, pode-se dizer que a diferença entre as quantidades de bananas e maçãs é de:

- a) 130
- b) 120
- c) 110
- d) 100

13) Durante um dia de trabalho, em uma padaria, 3 padeiros utilizam 5kg de fermento em 2 horas. Mantendo-se a mesma proporção, ao todo, quantos quilogramas de fermento 4 padeiros utilizam em 3 horas?

- a) 12kg
- b) 10kg
- c) 8kg
- d) 6kg

14) Em certa escola, a razão entre a quantidade de funcionários e a quantidade de alunos é de $3/50$. Considerando-se que nesta escola trabalham 15 funcionários, qual a quantidade total de alunos?

- a) 200
- b) 300
- c) 250
- d) 350

15) A quantidade de questões acertadas por certo candidato em uma prova é dada pelo valor de x que satisfaz a equação abaixo. Sendo assim, pode-se afirmar que a quantidade total de questões acertadas por ele é:

$$3x - 49 = 50$$

- a) 27
- b) 33
- c) 37
- d) 46

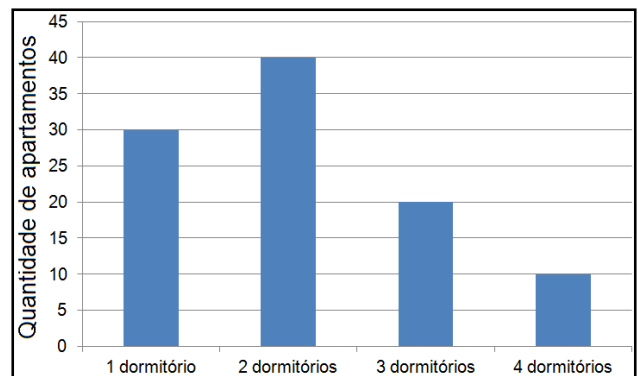
16) Certa conta com valor nominal de R\$ 268,00 foi paga com atraso de 4 meses. Sabendo-se que a taxa de juros simples dessa conta é de 3% ao mês, ao todo, qual o valor total pago por essa conta?

- a) R\$ 264,62
- b) R\$ 296,82
- c) R\$ 298,12
- d) R\$ 300,16

17) Tiago abriu um pacote de bolacha e comeu 5. Sabendo-se que restaram 15 bolachas no pacote, qual porcentagem do total de bolachas do pacote representa a quantidade que ele comeu?

- a) 33%
- b) 30%
- c) 25%
- d) 28%

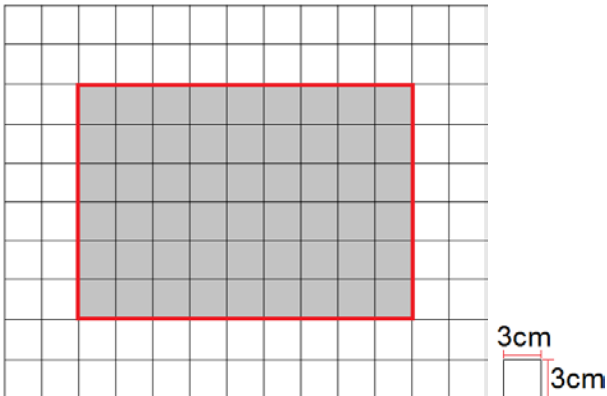
18) Considerando-se que o gráfico abaixo apresenta a quantidade de dormitórios em certa unidade habitacional, assinalar a alternativa que apresenta a quantidade total de dormitórios nesta unidade habitacional:



- a) 100
- b) 150
- c) 180
- d) 210

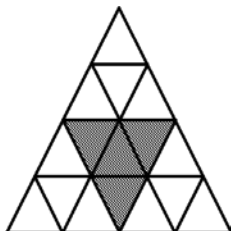
INFORMÁTICA

19) Fernando desenhou em uma folha quadriculada um retângulo conforme destacado na imagem abaixo. Sabendo-se que cada quadrículo tem 3cm de lado, qual foi o área e o perímetro da figura desenhada por Fernando?



- a) 54cm^2 e 27cm .
- b) 254cm^2 e 42cm .
- c) 376cm^2 e 76cm .
- d) 486cm^2 e 90cm .

20) Sabendo-se que o triângulo abaixo foi dividido em pedaços iguais, qual fração da figura que representa a parte hachurada?



- a) $1/4$
- b) $3/16$
- c) $2/3$
- d) $3/5$

Atenção! Para responder às questões de Informática, a menos que seja explicitamente informado o contrário, considerar que os programas mencionados encontram-se na versão Português-BR e em sua configuração padrão de instalação, possuem licença de uso, o mouse está configurado para destros, um clique ou duplo clique correspondem ao botão esquerdo do mouse, e teclar corresponde à operação de pressionar uma tecla e, rapidamente, liberá-la, acionando-a apenas uma vez. Dessa forma, as teclas de atalho, os menus, os submenus, as barras, os ícones e os demais itens que compõem os programas abordados nesta prova encontram-se na configuração padrão.

21) Sobre o Word 2007, analisar os itens abaixo:

- I. Justificar é um recurso de parágrafo.
- II. Substituir é um recurso de edição.

- a) Os itens I e II estão corretos.
- b) Somente o item I está correto.
- c) Somente o item II está correto.
- d) Os itens I e II estão incorretos.

22) Com relação ao botão  do PowerPoint 2007, assinalar a alternativa CORRETA:

- a) Altera a maneira como o texto é alinhado na caixa de texto.
- b) Altera a orientação do texto para vertical, empilhado, ou gira para direção desejada.
- c) Alterna a orientação do *slide* entre retrato e paisagem.
- d) Ativa linhas de grade que podem ser usadas para alinhar os objetos do documento.

23) Sobre o botão  do Excel 2007, é CORRETO afirmar que:

- a) Tem a função de “inserir função”.
- b) Tem a função de “mostrar fórmulas”.
- c) Tem a função de “soma”.
- d) Tem a função de “alinhar”.

24) Em conformidade com a Cartilha de Segurança para Internet, sobre mecanismos de segurança, assinalar a alternativa que preenche a lacuna abaixo CORRETAMENTE:

Ferramentas _____ são aquelas que procuram detectar e, então, anular ou remover os códigos maliciosos de um computador. Antivírus, antispymware, antirootkit e antitrojan são exemplos de ferramentas deste tipo.

- a) *pop-up's*
- b) *backups*
- c) *antispam*
- d) *antimalware*

25) Assinalar a alternativa que apresenta um exemplo de *hardware*:

- a) Microsoft Outlook.
- b) Internet Explorer.
- c) Impressora Multifuncional.
- d) Sistema Operacional.

LEGISLAÇÃO, CONHECIMENTOS GERAIS E ESPECÍFICOS

Conhecimentos Gerais

26) “Europa registra maior número de casos de sarampo desta década. A quantidade de pessoas infectadas por essa doença culminou em um alerta da Organização Mundial da Saúde”.

<https://saude.abril.com.br/...> - adaptado.

Sobre o sarampo, analisar os itens abaixo:

I. Segundo o Ministério da Saúde, é uma doença infecciosa aguda e de natureza viral.

II. Não existe tratamento específico para o sarampo.

- a) Os itens I e II estão corretos.
- b) Somente o item I está correto.
- c) Somente o item II está correto.
- d) Os itens I e II estão incorretos.

Legislação e Conhecimentos Específicos

27) No que se refere aos direitos e deveres individuais e coletivos previstos na Constituição Federal, assinalar a alternativa CORRETA:

- a) A criação de associações e, na forma da lei, a de cooperativas dependem de autorização, sendo obrigatória a interferência estatal em seu funcionamento.
- b) A manifestação do pensamento é livre, sendo permitido o anonimato.
- c) É plena a liberdade de associação para fins ilícitos, inclusive a de caráter paramilitar.
- d) É livre o exercício de qualquer trabalho, ofício ou profissão, atendidas as qualificações profissionais que a lei estabelecer.

28) Segundo a Lei Orgânica do Município, marcar C para as afirmativas Certas, E para as Erradas e, após, assinalar a alternativa que apresenta a sequência CORRETA:

- () O Poder Executivo é exercido pelo Prefeito Municipal, auxiliado pelos Secretários Municipais.
- () A eleição do Prefeito e do Vice-Prefeito, para o mandato de cinco anos, dar-se-á mediante pleito direto e simultâneo realizado em todo o país, até noventa dias antes do término do mandato dos que devem suceder.

- a) C - C.
- b) E - C.
- c) C - E.
- d) E - E.

29) Em conformidade com a Lei Municipal nº 724/2008 - Regime Jurídico Único dos Servidores Municipais, analisar a sentença abaixo:

O prazo de validade do concurso será de até quatro anos, prorrogável, uma vez, por igual prazo (1ª parte). A nomeação em caráter efetivo obedecerá à ordem de classificação obtida pelos candidatos e o prazo de validade do concurso público (2ª parte).

A sentença está:

- a) Totalmente correta.
- b) Correta somente em sua 1ª parte.
- c) Correta somente em sua 2ª parte.
- d) Totalmente incorreta.

30) Segundo o Decreto nº 7.508/2011, analisar a sentença abaixo:

O processo de planejamento da saúde será descendente e integrado, do nível federal até o local, ouvidos os respectivos Conselhos de Saúde, compatibilizando-se as necessidades das políticas de saúde com a disponibilidade de recursos financeiros (1ª parte). O planejamento da saúde é facultativo para os entes públicos e será indutor de políticas para a iniciativa privada (2ª parte).

A sentença está:

- a) Totalmente correta.
- b) Correta somente em sua 1ª parte.
- c) Correta somente em sua 2ª parte.
- d) Totalmente incorreta.

31) Segundo a Lei nº 8.069/1990 - ECA, analisar os itens abaixo:

- I. Considera-se criança, para os efeitos desta lei, a pessoa até doze anos de idade incompletos.
- II. Considera-se adolescente, a pessoa entre doze e dezesseis anos de idade.

- a) Os itens I e II estão corretos.
- b) Somente o item I está correto.
- c) Somente o item II está correto.
- d) Os itens I e II estão incorretos.

32) Segundo a Lei nº 10.741/2003 - Estatuto do Idoso, assinalar a alternativa que preenche a lacuna abaixo CORRETAMENTE:

O Estatuto do Idoso é destinado a regular os direitos assegurados às pessoas com idade _____ a 60 anos.

- a) inferior
- b) igual ou inferior
- c) igual ou superior
- d) nunca superior

33) Em conformidade com a Lei nº 11.340/2006 - Lei Maria da Penha, é competente, por opção da ofendida, para os processos cíveis regidos por esta Lei, o Juizado do:

- I. Seu domicílio ou de sua residência.
- II. Lugar do fato em que se baseou a demanda.
- III. Domicílio do agressor.

Estão CORRETOS:

- a) Somente os itens I e II.
- b) Somente os itens I e III.
- c) Somente os itens II e III.
- d) Todos os itens.

34) De acordo com a Portaria de Consolidação nº 2/2017, são atribuições do Agente Comunitário de Saúde, EXCETO:

- a) Desenvolver ações que busquem a integração entre a equipe de saúde e a população adscrita à UBS, considerando as características e as finalidades do trabalho de acompanhamento de indivíduos e grupos sociais ou coletividade.
- b) Cadastrar todas as pessoas de sua área e manter os cadastros atualizados.
- c) Indicar a necessidade de internação hospitalar ou domiciliar, mantendo a responsabilização pelo acompanhamento da pessoa.
- d) Trabalhar com adscrição de indivíduos e famílias em base geográfica definida.

35) De acordo com a Portaria de Consolidação nº 4/2017, tem periodicidade de notificação imediata o acidente de trabalho:

- I. Grave.
- II. Fatal.
- III. Em crianças e adolescentes.

Estão CORRETOS:

- a) Somente os itens I e II.
- b) Somente os itens I e III.
- c) Somente os itens II e III.
- d) Todos os itens.

36) Segundo o Caderno de Atenção Básica nº 19 - Envelhecimento e Saúde da Pessoa Idosa, analisar os itens abaixo:

- I. As doenças crônicas não transmissíveis (DCNT) podem afetar a funcionalidade das pessoas idosas.
- II. O cuidado à pessoa idosa deve ser um trabalho conjunto entre equipe de saúde, idoso e família.

- a) Os itens I e II estão corretos.
- b) Somente o item I está correto.
- c) Somente o item II está correto.
- d) Os itens I e II estão incorretos.

37) Sobre algumas medidas para a prevenção da dengue fora de casa, marcar C para as afirmativas Certas, E para as Erradas e, após, assinalar a alternativa que apresenta a sequência CORRETA:

- () Limpar as calhas e lajes das casas. Se houver piscina, lembrar aos moradores de que a água deve estar sempre tratada.
- () Eliminar a água acumulada em plantas.
- () Verificar se existem pneus, latas ou qualquer outro objeto que possa acumular água nos terrenos baldios.

- a) C - C - C.
- b) E - C - C.
- c) C - E - E.
- d) E - C - E.

38) Sobre a hanseníase, assinalar a alternativa que apresenta uma informação CORRETA:

- a) Não tem cura.
- b) Pode causar incapacidades/deforridades.
- c) O tratamento é um direito de todo cidadão, porém, não está disponível gratuitamente.
- d) Atinge somente idosos.

39) Com base em O Agente Comunitário de Saúde no Controle da Dengue, assinalar a alternativa que preenche a lacuna abaixo CORRETAMENTE:

A dengue é causada por um(a) _____ e transmitida ao homem pelo mosquito _____.

- a) vírus - *Lutzomyia longipalpis*
- b) bactéria - *Lutzomyia longipalpis*
- c) vírus - *Aedes aegypti*
- d) bactéria - *Aedes aegypti*

40) Sobre a promoção do aleitamento materno e alimentação complementar saudável, analisar a sentença abaixo:

Nos primeiros dias, esse leite é chamado de anterior e contém mais proteínas e menos gordura. Do sétimo ao décimo dia após o parto, o leite é chamado de leite colostro e sua concentração de gordura aumenta no decorrer da mamada (1ª parte). O leite do início da mamada também chamado de maduro, tem alto teor de água e anticorpos. O leite do final da mamada, quando a criança esvazia a mama, é chamado de leite posterior, que é rico em energia e sacia por mais tempo a fome do bebê, aumentando o espaçamento entre as mamadas (2ª parte).

A sentença está:

- a) Totalmente correta.
- b) Correta somente em sua 1ª parte.
- c) Correta somente em sua 2ª parte.
- d) Totalmente incorreta.