

## Fiscal de Obras

- Confira devidamente o material (CARTÃO DE RESPOSTAS e CADERNO DE QUESTÕES); se houver falha, solicite a substituição ao fiscal.
- Este caderno de questões está assim constituído:

DISCIPLINAS	Nº QUESTÕES
Português	10
Informática	05
Matemática	05
Legislação, Conhecimentos Gerais e Específicos	20
<b>Total de questões</b>	<b>40</b>

- Após conferir seus dados no cartão de respostas (NOME, Nº da INSCRIÇÃO e CARGO), assine no local indicado.
- O CARTÃO DE RESPOSTAS é o único documento de correção, devendo ser preenchido com bastante atenção, à caneta esferográfica, azul ou preta, ponta grossa, marcando uma única alternativa em cada questão. Verifique no cartão de respostas as instruções para preenchimento. Não rasure, não amasse nem dobre o CARTÃO DE RESPOSTAS; evite usar borracha. É vedada a substituição do CARTÃO DE RESPOSTAS decorrente de erro cometido por candidato.
- Se o CARTÃO DE RESPOSTAS contiver maior número de alternativas e/ou de questões, preencha apenas as correspondentes à sua prova; as demais ficam em branco.
- Durante a realização da prova, não é permitida a comunicação entre candidatos nem a utilização de máquina calculadora e/ou similares, livros, anotações, régua de cálculo, impressos ou qualquer outro material de consulta.
- O tempo de duração da prova objetiva será de **até 3 horas**, incluído o tempo para preenchimento do Cartão de Respostas. O candidato somente poderá levar consigo seu caderno de provas após uma hora contada do efetivo início das provas. Ao candidato que sair antes de uma hora contada do efetivo início das provas, será permitido copiar seu cartão de respostas, para conferência com o gabarito oficial.
- Em todas as questões de legislação desta prova (se houver), serão consideradas as emendas e/ou alterações da legislação com entrada em vigor até a data do início das inscrições.
- Na prova de Português será exigida a norma ortográfica atualmente em vigor.
- Ao final dos trabalhos, **DEVOLVA** ao Fiscal da sala o CARTÃO DE RESPOSTAS devidamente preenchido e assinado.
- Os três últimos candidatos de cada sala de prova deverão permanecer no recinto, a fim de acompanhar os fiscais até a coordenação para o lacre dos envelopes, quando, então, poderão retirar-se do local, simultaneamente, após concluído.

Direitos autorais reservados à Objetiva Concursos Ltda. Proibida a reprodução, ainda que parcial, sem autorização prévia.

**Boa Prova!**

**Seriedade e ética: nós acreditamos nesses valores.**

Nome do(a) Candidato(a)

Nº de inscrição

✂ ----- Esta parte destacável serve para copiar as suas respostas, somente poderá ser destacada no ato da entrega do material na mesa do fiscal. -----

01	<input type="checkbox"/>	02	<input type="checkbox"/>	03	<input type="checkbox"/>	04	<input type="checkbox"/>	05	<input type="checkbox"/>	06	<input type="checkbox"/>	07	<input type="checkbox"/>	08	<input type="checkbox"/>	09	<input type="checkbox"/>	10	<input type="checkbox"/>
11	<input type="checkbox"/>	12	<input type="checkbox"/>	13	<input type="checkbox"/>	14	<input type="checkbox"/>	15	<input type="checkbox"/>	16	<input type="checkbox"/>	17	<input type="checkbox"/>	18	<input type="checkbox"/>	19	<input type="checkbox"/>	20	<input type="checkbox"/>
21	<input type="checkbox"/>	22	<input type="checkbox"/>	23	<input type="checkbox"/>	24	<input type="checkbox"/>	25	<input type="checkbox"/>	26	<input type="checkbox"/>	27	<input type="checkbox"/>	28	<input type="checkbox"/>	29	<input type="checkbox"/>	30	<input type="checkbox"/>
31	<input type="checkbox"/>	32	<input type="checkbox"/>	33	<input type="checkbox"/>	34	<input type="checkbox"/>	35	<input type="checkbox"/>	36	<input type="checkbox"/>	37	<input type="checkbox"/>	38	<input type="checkbox"/>	39	<input type="checkbox"/>	40	<input type="checkbox"/>

**Seriedade e ética: nós acreditamos nesses valores.**

## PORTUGUÊS

Ande como alguém feliz para ser feliz

Uma pesquisa recente afirma que, para se sentir feliz, basta caminhar como uma pessoa alegre. Durante um experimento, uma série de pessoas foi testada para saber se estufar o peito e balançar os braços realmente traz mais felicidade do que passos pesados e olhares cabisbaichos. No estudo, o grupo teve de caminhar durante 15 minutos em uma esteira enquanto alguns fatores eram analisados. Os participantes foram acompanhados por câmeras com sensores de movimento. Na frente da esteira, uma tela mostrava as ações de um medidor – que pendia à esquerda quando caminhavam “deprimidos” e à direita quando “felizes”.

\_\_\_ medida que os minutos iam passando, a equipe de pesquisadores pedia para que as pessoas tentassem jogar o medidor para a esquerda ou para a direita. Só que antes de começarem o teste físico, os convidados tiveram que ler uma lista de palavras positivas e negativas.

Depois da caminhada, os participantes tiveram que escrever as palavras que lembravam. O resultado mostrou que quem caminhava de maneira mais triste conseguiu lembrar mais palavras tristes; e aqueles que andaram felizes se lembraram de mais palavras positivas.

Para os pesquisadores, essa lógica está alinhada \_\_\_ de outros trabalhos publicados sobre o tema. Segundo tais pesquisas, andar como um líder pode aumentar as chances de se tornar um; e segurar uma caneta com os lábios pode aumentar a vontade de sorrir. Então não custa nada andar mais “animado” por aí. Vai que contagia.

<https://revistagalileu.globo.com/Ciencia/...> - adaptado.

1) Assinalar a alternativa que preenche as lacunas do texto CORRETAMENTE:

- a) A - a
- b) A - à
- c) À - à
- d) À - a

2) De acordo com o texto, analisar os itens abaixo:

I - O estudo indica que a forma como os participantes caminharam afetou o fato de se lembrarem de mais palavras positivas ou negativas.

II - Outras pesquisas parecem indicar também que a forma como se caminha pode afetar, por exemplo, a probabilidade de alguém se tornar um líder.

- a) Os itens I e II estão corretos.
- b) Somente o item I está correto.
- c) Somente o item II está correto.
- d) Os itens I e II estão incorretos.

3) A palavra “alinhada” (quarto parágrafo) poderia ser substituída sem alteração de sentido (admitindo-se possíveis ajustes) por:

- a) De acordo.
- b) Expandindo.
- c) Se opondo.
- d) Proporcional.

4) Conforme as normas de ortografia, marcar C para as afirmativas Certas, E para as Erradas e, após, assinalar a alternativa que apresenta a sequência CORRETA:

- ( ) A palavra “traz” (primeiro parágrafo) está errada. Ela é homônima da palavra “trás”, que seria a palavra correta neste caso.
- ( ) A palavra “cabisbaichos” (primeiro parágrafo) está errada. Sua grafia correta seria “cabisbaixos”.

- a) C - C.
- b) C - E.
- c) E - C.
- d) E - E.

5) Quanto à concordância nominal, marcar C para as sentenças Certas, E para as Erradas e, após, assinalar a alternativa que apresenta a sequência CORRETA:

- ( ) Anexo estão as imagens de que lhe falei.
- ( ) Para lidar com essa situação, é necessário sabedoria.
- ( ) Cuidado com o que você fala, não estamos só.

- a) C - C - E.
- b) E - C - E.
- c) C - C - C.
- d) E - E - C.

6) Considerando-se as normas de colocação pronominal, assinalar a alternativa que preenche as lacunas abaixo CORRETAMENTE:

Quando \_\_\_\_\_ pra casa nova? \_\_\_\_\_ se precisarem de ajuda!

- a) mudam-se; Avisem-me
- b) mudam-se; Me avisem
- c) se mudam; Me avisem
- d) se mudam; Avisem-me

---

**INFORMÁTICA**

---

**7)** Assinalar a alternativa em que a(s) vírgula(s) está(ão) isolando o vocativo:

- a) Depois de entrar em casa, sentei por uns minutos para ler.
- b) Ontem conversamos com a Carla, a mãe das crianças.
- c) As opções incluem frango, carne ou peixe.
- d) Você tem um grande desafio pela frente, meu amigo.

---

**8)** Quanto ao uso dos porquês, numerar a 2ª coluna de acordo com a 1ª de forma a preencher as lacunas e, após, assinalar a alternativa que apresenta a sequência CORRETA:

- (1) porque
- (2) por que
- (3) por quê

- ( ) Não imagino \_\_\_\_\_ ela faria uma coisa dessas.
- ( ) Ela faria uma coisa dessas, mas não sei \_\_\_\_\_.

- a) 2 - 3.
- b) 2 - 1.
- c) 1 - 2.
- d) 1 - 3.

---

**9)** Todas as alternativas estão corretas em relação à concordância, EXCETO:

- a) Serão proibidas as ausências e os atrasos.
- b) Obteve bastante informações acerca do inquérito.
- c) Encontrou as alunas e os professores abatidos.
- d) Vossa Excelência agiu com moderação.

---

**10)** Sobre as vozes verbais, analisar os itens abaixo:

I - "Compraremos pizzas para o jantar." está na voz ativa.  
II - "A música foi cantada pelo ator do filme." está na voz passiva.

- a) Os itens I e II estão corretos.
- b) Somente o item I está correto.
- c) Somente o item II está correto.
- d) Os itens I e II estão incorretos.

Atenção! Para responder às questões de Informática, a menos que seja explicitamente informado o contrário, considerar que os programas mencionados encontram-se na versão Português-BR e, em sua configuração padrão de instalação, possuem licença de uso, o mouse está configurado para destros, um clique ou duplo clique correspondem ao botão esquerdo do mouse e teclar corresponde à operação de pressionar uma tecla e, rapidamente, liberá-la, acionando-a apenas uma vez. Dessa forma, as teclas de atalho, os menus, os submenus, as barras, os ícones e os demais itens que compõem os programas abordados nesta prova encontram-se na configuração padrão.

---

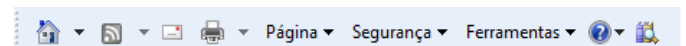
**11)** Marcar C para as afirmativas Certas, E para as Erradas e, após, assinalar a alternativa que apresenta a sequência CORRETA:

- ( ) Considerando-se que periféricos são aparelhos ou placas de expansão que enviam ou recebem informações do computador, pode-se afirmar que o microfone é considerado um periférico de saída e o teclado um periférico de entrada.
- ( ) Software são os programas que comandam o funcionamento de um computador.
- ( ) Hardware é a parte física de um computador, é formado pelos componentes eletrônicos, como por exemplo, circuitos de fios e luz, placas, utensílios, correntes, e qualquer outro material em estado físico, que seja necessário para fazer com o que computador funcione.

- a) C - E - E.
- b) E - C - C.
- c) C - C - C.
- d) E - E - C.

---

**12)** No Internet Explorer 9, a imagem abaixo se refere à barra de:




- a) Menus.
- b) Favoritos.
- c) Comandos.
- d) Status.

---

**13)** Assinalar a alternativa que corresponde a como sublinhar um texto selecionado no Word 2007:

- a) Aba Inserir + Sublinhar
- b) Aba Exibição + Sublinhar
- c) Ctrl+U
- d) Ctrl+S

14) No Excel 2007, determinada célula com o número 25454,63 foi selecionada, e, após, clicou-se no botão . Com isso, o Excel:

- a) Exibirá o valor da célula com um separador de milhares (25.454,63).
- b) Mostrará valores menos precisos, exibindo menos casas decimais (25454,6).
- c) Escolherá um formato alternativo de unidade monetária para a célula selecionada (R\$ 25.454,63).
- d) Mostrará valores mais precisos, exibindo mais casas decimais (25454,630).

15) De acordo com a Cartilha de Segurança para Internet, analisar os itens abaixo:

- I - Spams estão diretamente associados a ataques à segurança da internet e do usuário, sendo um dos grandes responsáveis pela propagação de códigos maliciosos, disseminação de golpes e venda ilegal de produtos.
- II - A criptografia, considerada como a ciência e a arte de escrever mensagens em forma cifrada ou em código, é um dos principais mecanismos de segurança que se pode usar para se proteger dos riscos associados ao uso da internet.

- a) Os itens I e II estão corretos.
- b) Somente o item I está correto.
- c) Somente o item II está correto.
- d) Os itens I e II estão incorretos.

### MATEMÁTICA

16) O aumento das mensalidades escolares de certa escola foi de 8%. Se essa escola cobra, após o reajuste, uma mensalidade no valor de R\$ 468,72, qual era o valor dessa mesma mensalidade antes do reajuste?

- a) R\$ 444,00
- b) R\$ 434,00
- c) R\$ 424,00
- d) R\$ 420,00

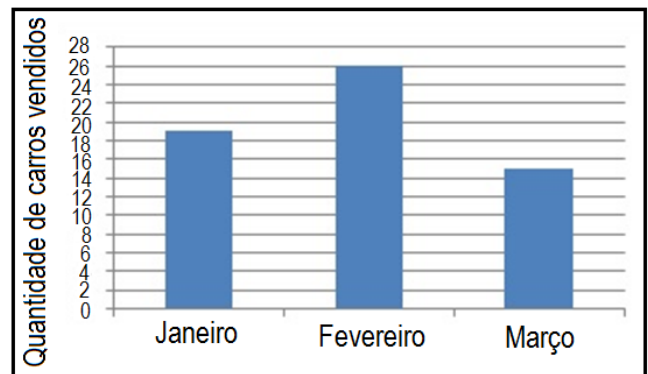
17) Qual montante receberá um investidor que aplicou R\$ 5.000,00, à taxa de juros simples de 14% ao ano, durante 6 meses?

- a) R\$ 5.350,00
- b) R\$ 5.250,00
- c) R\$ 5.230,00
- d) R\$ 5.210,00

18) Em certa progressão aritmética, o 4º termo é igual a 18 e o 7º termo é igual a 30. Qual o valor da soma dos 3 primeiros termos dessa sequência?

- a) 34
- b) 36
- c) 30
- d) 32

19) O gráfico abaixo apresenta a quantidade de carros vendidos em uma concessionária nos meses de janeiro, fevereiro e março. Analisando-se o gráfico, qual é a mediana e o valor médio de vendas em cada mês?



- a) 19 e 20.
- b) 19 e 22.
- c) 20 e 22.
- d) 26 e 20.

20) Considerando-se a sequência abaixo formada pela palavra PROVA, qual será a 234ª letra dessa sequência?

PROVAPROVAPROVAPROVA...

- a) P
- b) R
- c) O
- d) V

---

**LEGISLAÇÃO, CONHECIMENTOS GERAIS E ESPECÍFICOS**

---

**Conhecimentos Gerais**

---

21) Quanto à sustentabilidade, marcar C para as afirmativas Certas, E para as Erradas e, após, assinalar a alternativa que apresenta a sequência CORRETA:

- ( ) Sustentabilidade ambiental e ecológica é a manutenção do meio ambiente do planeta Terra, mantendo a qualidade de vida e os ecossistemas em harmonia com as pessoas.
- ( ) A sustentabilidade nas empresas pode estar ligada à sustentabilidade econômica, que é alcançada através de um modelo de gestão sustentável, ou seja, um modo que incentiva processos que permitam a recuperação do capital financeiro, humano e natural da empresa.

- a) E - C.
- b) C - E.
- c) E - E.
- d) C - C.

---

**Legislação e Conhecimentos Específicos**

---

22) De acordo com a Constituição Federal, no que se refere aos direitos e garantias fundamentais, analisar os itens abaixo:

- I - É permitida a liberdade de expressão, desde que não haja anonimato.
- II - A violação da intimidade ou da vida privada poderá gerar indenização por danos exclusivos à moral.
- III - Para aqueles que comprovarem insuficiência econômica, o Estado dará assistência integral e gratuita nas ações judiciais.

Estão CORRETOS:

- a) Somente os itens I e II.
- b) Somente os itens I e III.
- c) Somente os itens II e III.
- d) Todos os itens.

---

23) Em conformidade com a Lei Orgânica do Município, no que tange aos Servidores Públicos Civis, assinalar a alternativa INCORRETA:

- a) Mesmo para os que percebem remuneração variável, o salário não poderá ser inferior ao mínimo.
- b) Somente será permitida a redução salarial caso haja previsão em convenção ou acordo coletivo.
- c) Depois da promulgação da Lei Orgânica Municipal, foram vedadas novas cedências dos servidores públicos municipais para órgãos da administração pública direta ou indireta, autarquias e fundações.
- d) A diferença salarial será permitida, por motivo de sexo, quando a profissão ou qualificação profissional assim o exigir.

---

24) Com base na Lei do Executivo Municipal nº 2.452/2007 - Regime Jurídico dos Servidores Públicos do Município, sobre a estabilidade, assinalar a alternativa que preenche as lacunas abaixo CORRETAMENTE:

\_\_\_\_\_ meses antes de findar o período de estágio probatório, a avaliação do desempenho do servidor, realizada de acordo com o que dispuser a lei ou regulamento, será submetida à homologação \_\_\_\_\_, sem prejuízo da continuidade de apuração dos quesitos.

- a) Três - da autoridade competente
- b) Três - exclusiva do Prefeito
- c) Seis - da autoridade competente
- d) Seis - exclusiva do Prefeito

**25)** Em conformidade com a Lei do Executivo Municipal nº 2.452/2007 - Regime Jurídico dos Servidores Públicos do Município, a hora extraordinária é remunerada com acréscimo de 50% em relação à hora normal, nos dias de semana, e de 100%, nos domingos. Quando a hora extraordinária ocorrer nos sábados, o acréscimo sobre a hora normal será de:

- a) 100%
- b) 75%
- c) 65%
- d) 50%

**26)** De acordo com a Lei do Executivo Municipal nº 2.452/2007 - Regime Jurídico dos Servidores Públicos do Município, no que diz respeito à estabilidade do servidor público, assinalar a alternativa que preenche a lacuna abaixo CORRETAMENTE:

*O servidor nomeado para cargo de provimento efetivo em virtude de concurso público adquire estabilidade após \_\_\_\_\_ ano(s) de efetivo exercício.*

- a) um
- b) dois
- c) três
- d) quatro

**27)** Com base na Lei Municipal nº 3.234/2017 - Código de Obras do Município, no que se refere à responsabilidade sobre a edificação e manutenção, quando o projeto for elaborado, ele deverá estar em conformidade com a legislação municipal e essa responsabilidade caberá ao:

- a) Município.
- b) Autor do projeto.
- c) Executor do projeto.
- d) Proprietário ou usuário a qualquer título.

**28)** De acordo com a Lei Municipal nº 3.234/2017 - Código de Obras do Município, ao que não cumprir com as normas ditadas no Código de Obras, terá como pena:

- a) Embargos à obra.
- b) Restrição da liberdade.
- c) Reclusão.
- d) Detenção.

**29)** Conforme a Lei Municipal nº 3.234/2017 - Código de Obras do Município, são obras e serviços que independem da apresentação de projeto, mas que estão sujeitas à concessão da licença, EXCETO:

- a) As coberturas de lavanderias de uso doméstico.
- b) Os reparos internos e a substituição de aberturas em geral.
- c) A construção de edifício público municipal.
- d) O rebaixamento de meio-fio.

**30)** De acordo com a Lei Municipal nº 3.234/2017 - Código de Obras do Município, no que diz respeito às condições gerais relativas ao terreno, os terraços com construção a menos de 1,50m da divisa do terreno deverão possuir muro de no mínimo:

- a) 1,80m e máximo de 2m de altura
- b) 1,80m e máximo de 2,10m de altura.
- c) 1,85m e máximo de 2m de altura.
- d) 1,85m e máximo de 2,10m de altura.

**31)** De acordo com a Lei nº 8.429/1992, constitui ato de improbidade administrativa que atenta contra os princípios da administração pública qualquer ação ou omissão que viole certos deveres. Assinalar a alternativa que NÃO apresenta um dos deveres que, quando violado, constitui ato de improbidade contra os princípios da administração:

- a) Eficácia.
- b) Lealdade às instituições.
- c) Honestidade.
- d) Imparcialidade.

**32)** Com base na Lei Complementar nº 116/2003, o Imposto Sobre Serviços de Qualquer Natureza NÃO incidirá sobre o(a):

- a) Demolição.
- b) Execução, por administração, empreitada ou subempreitada, de obras de construção civil, hidráulica ou elétrica e de outras obras semelhantes.
- c) Acompanhamento e fiscalização da execução de obras de engenharia, arquitetura e urbanismo.
- d) Fornecimento de mercadorias produzidas pelo prestador de serviços fora do local da prestação dos serviços.

**33)** De acordo com a Lei Complementar nº 116/2003, sabe-se que o ISS (Imposto Sobre Serviços de Qualquer Natureza) é um dos tributos competentes do Município, o qual incide sobre, EXCETO:

- a) Administração de cartão de crédito ou débito.
- b) Arrendamento mercantil de qualquer bem.
- c) Aberturas de contas em geral, inclusive conta-corrente.
- d) Valor de depósito bancário.

**34)** De acordo com a Lei Complementar nº 116/2003, a base de cálculo do Imposto Sobre Serviço de Qualquer Natureza é o preço do serviço, em que sua alíquota mínima é de:

- a) 2%
- b) 2,2%
- c) 2,3%
- d) 2,5%

**35)** Assinalar a alternativa que preenche a lacuna abaixo CORRETAMENTE:

*O uso de martelos mais pesados com menor altura de queda é \_\_\_\_\_ que os martelos leves com grande altura de queda.*

- a) mais fácil
- b) mais difícil
- c) igual
- d) mais eficiente do

**36)** Sobre algumas das propriedades básicas do concreto nos seus estados endurecidos e não endurecidos, numerar a 2ª coluna de acordo com a 1ª e, após, assinalar a alternativa que apresenta a sequência CORRETA:

- (1) Concreto endurecido.
- (2) Concreto não endurecido.

- ( ) Trabalhabilidade.
- ( ) Exsudação.
- ( ) Durabilidade.
- ( ) Resistência aos esforços mecânicos.

- a) 2 - 2 - 1 - 1.
- b) 2 - 1 - 2 - 1.
- c) 1 - 2 - 2 - 1.
- d) 1 - 1 - 2 - 2.

**37)** No que diz respeito à alvenaria, analisar os itens abaixo:

- I - Um bloco vazado de concreto simples é um elemento de alvenaria cuja seção transversal média útil é inferior a 20% da seção transversal bruta.
- II - O tijolo comum é fabricado com argila, conformado por prensagem e submetido à secagem e à queima.
- III - Um bloco cerâmico vazado possui furos cilíndricos apenas.

Está(ão) CORRETO(S):

- a) Somente o item I.
- b) Somente o item II.
- c) Somente o item III.
- d) Todos os itens.

**38)** De acordo com a obra de MATTOS, no ciclo PDCA o quadrante P pode ser subdividido em três setores, sendo eles:

- I - Estudar o projeto.
- II - Definir metodologia.
- III - Gerar o cronograma e as programações.

Estão CORRETOS:

- a) Somente os itens I e II.
- b) Somente os itens I e III.
- c) Somente os itens II e III.
- d) Todos os itens.

**39)** Segundo MATTOS, a terceira etapa do ciclo PDCA representa o(a):

- a) Materialização do planejamento no campo.
- b) Que foi prescrito no papel entra no terreno da realização física.
- c) Aferição do que foi efetivamente realizado.
- d) Encontro de opiniões e sugestões de todos os envolvidos na operação.

**40)** Segundo YAZIGI, no que se refere ao levantamento topográfico do terreno:

- I - A planta do levantamento planimétrico do imóvel deverá conter informações referentes à topografia, os acidentes físicos, à vizinhança e aos logradouros.
- II - A elaboração da planta deverá ser em escala conveniente, variando entre 1:100 e 1:250, data do levantamento e assinatura do profissional que executou.
- III - O levantamento planialtimétrico partirá do alinhamento da via pública existente para o imóvel.

Estão CORRETOS:

- a) Somente os itens I e II.
- b) Somente os itens I e III.
- c) Somente os itens II e III.
- d) Todos os itens.