



CONCURSO PÚBLICO - PROVA OBJETIVA

ASSINATURA DO(A) CANDIDATO(A):

Nº DE INSCRIÇÃO

PREFEITURA MUNICIPAL DE CONCEIÇÃO

CONCURSO PÚBLICO N.º 001/2018

CARGO: AGENTE COMUNITÁRIO DE SAÚDE - PSF - BAIRRO SÃO JOSÉ

INSTRUÇÕES:

VERIFIQUE SE ESTE CADERNO:

- Corresponde a sua opção de cargo.
- Contém 40 (quarenta) questões, numeradas de 01 a 40, caso contrário reclame ao fiscal da sala outro caderno. **NÃO** serão aceitas reclamações posteriores.
- Para cada questão existe apenas **UMA** resposta certa.
- Você deve ler cuidadosamente cada uma das questões e escolher a resposta certa.
- A alternativa escolhida deve ser marcada na **FOLHA DE RESPOSTAS** que você recebeu.

VOCÊ DEVE:

- Procurar na **FOLHA DE RESPOSTAS**, o número da questão que você está respondendo.
- Verificar no caderno de prova qual a letra (A, B, C, D, E) da resposta que você escolheu.
- Marcar essa letra na **FOLHA DE RESPOSTAS**, conforme o exemplo: [■].

ATENÇÃO:

- Marque as respostas com caneta esferográfica azul ou preta.
- Marque apenas uma letra para cada questão, mais de uma letra assinalada implicará nota zero à questão.
- Não será permitida qualquer espécie de consulta, nem o uso de máquina calculadora.
- Você terá 3 (três) horas para responder a todas as questões e preencher a folha de respostas.
- Devolva esse caderno de prova ao aplicador, juntamente com a sua folha de respostas.
- Proibida a divulgação ou impressão parcial ou total da presente prova. **Direitos Reservados.**

RASCUNHO

LINGUA PORTUGUESA – 1 A 12

02 PONTOS

Leia o poema abaixo para responder às questões de 1 a 8.

Esperança

Lá bem no alto do décimo segundo andar do Ano
Vive uma louca chamada Esperança
E ela pensa que quando todas as sirenas
Todas as buzinas
Todos os reco-recos tocarem
Atira-se
E
- ó delicioso voo!
Ela será encontrada miraculosamente incólume na calçada,
Outra vez criança...
E em torno dela indagará o povo:
- Como é teu nome, meninazinha de olhos verdes?
E ela lhes dirá
(É preciso dizer-lhes tudo de novo!)
Ela lhes dirá bem devagarinho, para que não esqueçam:
- O meu nome é ES-PE-RAN-ÇA...
Mário Quintana. Nova antologia poética. 12. Ed. São Paulo: Globo, 2007.

1. Analise as proposições abaixo, relacionadas ao poema acima e assinale a alternativa **CORRETA**:

I – O poema se refere à época de fim de ano, quando por exemplo, o autor compara o mês de dezembro ao “décimo segundo andar do Ano”.

II – Há um erro de separação silábica no último verso do poema, na palavra **esperança**.

III – No texto, a palavra **esperança** é um substantivo abstrato.

- a) Estão corretas apenas a I e a II
- b) Estão corretas apenas a I e a III
- c) Estão corretas apenas a II e a III
- d) Está correta apenas a I
- e) Está correta apenas a III

2. Marque (V) para verdadeiro ou (F) para falso em relação ao poema de Mário Quintana e assinale a sequência **CORRETA**:

(___) Podemos relacionar a Esperança à época de fim de ano, quando as pessoas costumam ficar mais esperançosas com a chegada de um tempo novo.

(___) No poema, a palavra **esperança** está personificada.

(___) No texto, a palavra **esperança** deixa de ser um sentimento e passa a ser uma pessoa.

(___) A última palavra do texto é classificada como **proparoxítona**.

- a) V – V – F – V
- b) V – V – V – F
- c) V – V – V – V
- d) F – V – V – F
- e) F – F – V – V

3. “Ela será encontrada **miraculosamente...**” A palavra destacada é classificada como:

- a) Verbo
- b) Substantivo abstrato
- c) Advérbio
- d) Conjunção
- e) Preposição

4. Assinale a alternativa que substitui, sem prejuízo de sentido, a palavra destacada no trecho: “Ela será encontrada miraculosamente **incólume** na calçada...”

- a) Lesado
- b) Inteligente
- c) Rápido
- d) Doente
- e) Intacto

5. Analise as sentenças abaixo e assinale a alternativa **CORRETA**:

I – No poema temos três palavras proparoxítonas.

II – O tempo verbal predominante dos segundo e terceiro versos é o pretérito perfeito do indicativo.

III – A separação silábica correta da palavra **delicioso** é: de-li-ci-o-so.

- a) Apenas a I está correta
- b) Apenas a II está correta
- c) Apenas a III está correta
- d) Todas estão corretas
- e) Todas estão incorretas

6. Assinale das palavras abaixo aquela que foi acentuada pela mesma regra da palavra **indagará**, presente no texto:

- a) Parabéns
- b) Frágil
- c) Máquina
- d) Maquiavélico
- e) Amável

7. O tempo e modo do verbo em “Ela será encontrada miraculosamente incólume na calçada” é:

- a) Presente do indicativo
- b) Futuro do presente do indicativo
- c) Pretérito mais-que-perfeito do indicativo
- d) Futuro do subjuntivo
- e) Futuro do pretérito do subjuntivo

8. Passando-se a frase: “E em torno dela indagará o povo”, para o pretérito mais- que-perfeito do indicativo, temos:

- a) E em torno dela indagara o povo.
- b) E em torno dela indaga o povo.
- c) E em torno dela indagaria o povo.
- d) E em torno dela indagou o povo.
- e) E em torno dela indagava o povo.

Leia o trecho abaixo, do conto “A moça tecelã” e responda às questões de **9 a 12**.

Se era forte demais o sol, e no jardim pendiam as pétalas, a moça colocava na lançadeira grossos fios cinzentos do algodão mais felpudo. Em breve, na penumbra trazida pelas nuvens, escolhia um fio de prata, que em pontos longos rebordava sobre o tecido. Leve, a chuva vinha cumprimentá-la à janela.

Mas se durante muitos dias o vento e o frio brigavam com as folhas e espantavam os pássaros, bastava a moça tecer com seus belos fios dourados, para que o sol voltasse a acalmar a natureza. Marina Colasanti. *Doze reis e a moça no labirinto do vento*. 2. Ed. Rio de Janeiro: Nórdica, 1985.

9. Analise as proposições e assinale a resposta **CORRETA**:

I – Há uma relação entre o trabalho de tecer realizado pela moça e as condições climáticas.

II – O trabalho da tecelã modifica as condições climáticas.

III – De acordo com o texto, a ação de tecer da moça não interfere diretamente no que acontece com o clima.

- a) Estão corretas apenas a I e a II
- b) Estão corretas apenas a I e a III
- c) Estão corretas apenas a II e a III
- d) Todas estão corretas
- e) Todas estão incorretas

10. Respectivamente, associe o tipo de relação de sentido das palavras destacadas ao seu contexto:

I – “em pontos longos rebordava.”

II – “rebordava **sobre** o tecido.”

III – “tecer **com** seus belos fios dourados.”

- a) Lugar, origem e meio.
- b) Modo, meio e instrumento.
- c) Causa, lugar e instrumento.
- d) Modo, lugar e matéria
- e) Instrumento, modo e instrumento

11. Assinale a alternativa que substitui sem prejuízo de sentido a palavra destacada no trecho: “Em breve, na **penumbra** trazida pelas nuvens...”.

- a) Umbra
- b) Tristeza
- c) Frieza
- d) Alegria
- e) Meia-luz

12. Assinale quantos fonemas temos, respectivamente, nas palavras destacadas no trecho: “Em breve, na **penumbra** trazida pelas **nuvens**...”.






- a) Oito e seis
- b) Três e dois
- c) Sete e cinco
- d) Três e um
- e) Seis e três

RACIOCÍNIO LÓGICO – 13 A 16
02 PONTOS

13. Observe as figuras em sequência abaixo.



A próxima figura na sequência lógica é:



14. Considere a seguinte seqüência

2A 4E 8I 16M...

Qual alternativa corresponde ao próximo código da seqüência?

- a) 20Q
- b) 32Q
- c) 64P
- d) 64Q
- e) 32P

15. Dos 20 concorrentes a uma vaga de assistente administrativo 12 gostam de raciocínio lógico, 10 gostam de matemática e 3 não gostam de raciocínio lógico e nem de matemática. Quantos são os participantes que gostam de raciocínio lógico e matemática ao mesmo tempo?

- a) 22

- b) 3
- c) 5
- d) 30
- e) 7

16. Considere a tabela abaixo que relaciona números a letras

1	2	3	4	5	6	7	8	9	0
A	B	C	D	E	F	G	H	I	J

e a seguinte soma

$$\begin{array}{r} BCF \\ + E J H \\ \hline \end{array}$$

O resultado, na forma codificada, é:

- a) AIJ
- b) HEH
- c) DJD
- d) GDD
- e) GBH

ATUALIDADES – 17 A 20
02 PONTOS

17. No primeiro semestre de 2018 a imprensa internacional noticiou a morte do físico e pesquisador britânico mais conhecido da sociedade contemporânea. Ele produziu algumas teorias fundamentais, sendo a mais célebre a teoria da singularidade, abordando sobre temas a respeito da natureza da gravidade e a origem do universo. O cientista não teve uma vida fácil, pois aos 21 anos de idade descobriu que era portador de uma doença degenerativa, a esclerose lateral amiotrófica, que o deixou paralisado em uma cadeira de rodas. Apesar das dificuldades conseguiu desenvolver um trabalho que ficará para a história da ciência. Recebeu diversos prêmios, entre eles, o Prêmio Especial de Física Fundamental, cujo valor foi de aproximadamente três milhões de dólares e morreu aos 76 anos de idade. Acerca das informações acima descritas é **CORRETO** afirmar que o cientista falecido no primeiro semestre de 2018 era chamado de:

- a) Bradford Dillman.
- b) Johnson Rotten.
- c) Steven Darwin.
- d) Stephen Hawking.
- e) Thompson Wright .

18. De acordo com a Agência Nacional de Energia Elétrica (ANEEL), o Sistema de Bandeira Tarifária trata-se de uma forma de sinalizar aos consumidores os custos reais da geração de energia elétrica. As cores das Bandeiras (verde, amarela ou vermelha) indicam se a energia custará mais ou menos em função das condições de geração de eletricidade, se haverá ou não acréscimo no valor da energia a ser repassada ao consumidor final. Acerca das bandeiras tarifárias analise as afirmações abaixo e julgue-as:

I. Na Bandeira vermelha (patamar 2) há um adicional cobrado que passa a ser proporcional ao consumo na razão de R\$ 5,00 por 100 kWh (ou suas frações).

II. Quando a Bandeira vermelha está no patamar 1 há um adicional cobrado que passa a ser proporcional ao consumo na razão de R\$ 4,00 por 100 kWh (ou suas frações).

III. Na Bandeira amarela há uma cobrança adicional, proporcional ao consumo, na razão de R\$ 2,00 por 100 kWh (ou suas frações).

IV. Quando a Bandeira está verde, as condições hidrológicas para geração de energia são favoráveis e não há qualquer acréscimo nas contas de energia.

V. O estado de Roraima não sofre a incidência de Bandeira Tarifária, porque não faz parte do Sistema Interligados Nacional (SIN).

ESTÁ(ÃO) INCORRETA(S)

- a) Apenas a afirmativa II.
- b) Apenas a afirmativa II e III
- c) Apenas a afirmativa I, II e III
- d) Apenas a afirmativa I, II e V
- e) Todas as afirmativas.

19. Em fevereiro de 2018, um vazamento de soda cáustica em uma estação de tratamento de água da Companhia de Água e Esgotos da Paraíba (GAGEPA), causou sérios danos ao meio ambiente, especialmente à qualidade da água de um importante rio paraibano. A empresa foi multada pelo IBAMA- Instituto Brasileiro do Meio Ambiente e dos Recursos Naturais Renováveis, pois, segundo laudo emitido pelo órgão, a causa do vazamento foi uma falha no sistema de contenção da estação de

tratamento. Sobre esse fato, é **CORRETO** afirmar que:

- a) A estação de tratamento de água fica localizada no município de Alhandra.
- b) A degradação da qualidade da água foi verificada no rio Paraíba.
- c) A degradação da qualidade da água foi verificada no rio Gramame.
- d) A estação de tratamento de água fica localizada no município de Cabedelo.
- e) A degradação da qualidade da água foi verificada no rio Sanhauá.

20. O Instituto Chico Mendes de Conservação da Biodiversidade – ICMBio tem por missão proteger o patrimônio natural e promover o desenvolvimento socioambiental. Em 2018 completou 11 anos de atividades, a comemoração do seu aniversário reuniu o Ministro do Meio Ambiente, servidores, colaboradores e parceiros governamentais e não-governamentais, apesar de ser uma instituição jovem já possui o reconhecimento da sociedade. É **CORRETO** afirmar que a data em que se comemora o aniversário do mencionado Instituto é:

- a) 16 de março
- b) 22 de maio
- c) 05 de junho
- d) 17 de julho
- e) 28 de agosto

CONHECIMENTOS ESPECÍFICOS – 21 A 40 03 PONTOS

21. Previsto em lei, baseado no piso salarial, o Agente Comunitário de Saúde (ACS) deve atuar em sua região em uma jornada de:

- a) 20 horas/semanais.
- b) 30 horas/semanais.
- c) 36 horas/semanais.
- d) 40 horas/semanais.
- e) 44 horas/semanais.

22. Entre as diretrizes dos planos de carreira dos ACS (Agente Comunitário de Saúde), está o estabelecimento de critérios de:

- a) Progressão e promoção.
- b) Metas dos serviços.

- c) Metas das equipes.
- d) Periodicidade da avaliação.
- e) Direito de recurso às instâncias hierárquicas superiores.

23. É vedada a contratação temporária ou terceirizada de Agentes Comunitários de Saúde e de Agentes de Combate às Endemias, salvo:

- a) Adequação dos conteúdos ocupacionais e às condições reais de trabalho.
- b) Hipótese de combate a surtos epidêmicos.
- c) Condições precárias ou adversas de trabalho.
- d) Utilização de pagamento pessoal.
- e) Transferências correntes, regulares, automáticas e obrigatórias.

24. A Constituição Federal é a lei maior de um país, superior a todas as outras leis. Em 1988, o Brasil promulgou a sua 7ª Constituição, também chamada de Constituição:

- a) Social.
- b) Efetiva.
- c) Cidadã.
- d) Humanitária.
- e) Popular.

25. Segundo o artigo 196 da Constituição Federal, e a lei 8080/90, o direito que deve ser garantido mediante políticas sociais e econômicas com acesso universal e igualitário às ações e aos serviços para sua promoção, proteção e recuperação e para reduzir o risco de doença e de outros agravos é o direito à:

- a) Educação.
- b) Cultura.
- c) Esportes e lazer.
- d) Seguridade social.
- e) Saúde.

26. O artigo 198 da Constituição define que as ações e serviços públicos de saúde integram uma rede regionalizada e hierarquizada e devem constituir um sistema único, organizado de acordo com as seguintes diretrizes:

- a) Descentralização, atendimento integral e participação da comunidade.

- b) Descentralização, equidade e autonomia do usuário.
- c) Universalidade, atendimento integral e longitudinalidade.
- d) Universalidade, coordenação de redes e amplo acesso à saúde.
- e) Tecnologias assistenciais, descentralização regional e municipalização.

27. Sobre os princípios do Sistema Único de Saúde – SUS, responda **verdadeiro (V)** ou **falso (F)** e assinale a alternativa que traz a sequência **CORRETA**:

() Equidade significa que o SUS deve atender a todos, sem distinções ou restrições, oferecendo toda a atenção necessária, sem qualquer custo. Todos os cidadãos têm direito a consultas, exames, internações e tratamentos nos serviços de saúde, públicos ou privados, contratados pelo gestor público.

() Pelo princípio da integralidade, o SUS deve se organizar de forma que garanta a oferta necessária aos indivíduos e à coletividade, independentemente das condições econômicas, da idade, do local de moradia e outros, com ações e serviços de promoção à saúde, prevenção de doenças, tratamento e reabilitação.

() Universalidade significa que o SUS deve disponibilizar serviços que promovam a justiça social, que canalizem maior atenção aos que mais necessitam, diferenciando as necessidades de cada um.

- a) V – V – F.
- b) V – F – V.
- c) F – F – V.
- d) F – V – V.
- e) F – V – F.

28. A Conferência de Saúde se reúne a cada quatro anos com a representação dos vários segmentos sociais, para avaliar a situação de saúde e propor as diretrizes para a formulação da política de saúde. É convocada pelo:

- a) Poder Judiciário.
- b) Poder Executivo.
- c) Poder Legislativo.
- d) Poder Ministerial.
- e) Poder Tripartite.

29. As ações que visam contribuir para proporcionar autonomia ao indivíduo e à família, com informações que os tornem capazes de escolher comportamentos que vão favorecer sua saúde, condições de trabalho, lazer e cultura são denominadas ações de:

- a) Reabilitação.
- b) Diagnóstico precoce.
- c) Diagnóstico tardio.
- d) Promoção à saúde.
- e) Prevenção.

30. Quando nos referimos à Equipe de Saúde da Família (ESF), falamos em uma equipe formada por profissionais de diversas áreas que atuam de forma articulada. Essa articulação das informações e ações da ESF, caracteriza sua forma de atuação:

- a) Multidisciplinar.
- b) Monodisciplinar.
- c) Interdisciplinar.
- d) Transdisciplinar.
- e) Matricial.

31. Sobre o trabalho do ACS é **INCORRETO** afirmar:

- a) O trabalho do ACS é considerado uma extensão dos serviços de saúde dentro das comunidades, já que ele é um membro da comunidade e possui um envolvimento pessoal.
- b) É um personagem fundamental, pois é quem está mais próximo dos problemas que afetam a comunidade, é alguém que se destaca pela capacidade de se comunicar com as pessoas e pela liderança natural que exerce.
- c) A ação do ACS favorece a transformação de situações- problema que afetam a qualidade de vida das famílias, como aquelas associadas ao saneamento básico, destinação do lixo, condições precárias de moradia, situações de exclusão social, desemprego, violência intrafamiliar, drogas lícitas e ilícitas, acidentes, entre outras.
- d) O trabalho do ACS tem como principal objetivo contribuir para a qualidade de vida das pessoas e da comunidade.
- e) Para que o ACS atue com segurança, deve ter conhecimentos sobre seu território, tipos de feridas, medicamentos, insumos, diagnóstico e tratamento de doenças, bem como ser apto a dar orientações técnicas sobre o quadro de cada pessoa de sua área de atuação.

32. São exemplos de situações de risco à saúde, **EXCETO**:

- a) Gestantes fumantes.
- b) Acamados.
- c) Bebês que nascem com menos de 2.800 g.
- d) Pessoas em situação de violência.
- e) Pessoas que estão acima do peso, sedentárias com ou sem uso de tabaco e álcool.

33. Sobre o processo de coleta e sistematização de dados realizados pelos ACS, considere a alternativa que demonstre exemplos de dados epidemiológicos:

- a) Acesso a saneamento básico e água encanada.
- b) Número de cômodos na casa.
- c) Renda familiar e número de pessoas que trabalham.
- d) Número de pessoas diabéticas e hipertensas no domicílio.
- e) Número de pessoas por gênero e idade.

34. As ações educativas fazem parte do dia a dia da equipe ESF e têm como objetivo final contribuir para a melhoria da qualidade de vida da população. A ação educativa é de responsabilidade:

- a) Médica.
- b) Do Enfermeiro.
- c) Dos Técnicos em enfermagem.
- d) Dos Agentes Comunitários de Saúde.
- e) De todos os membros da ESF.

35. É exercida pelo indivíduo, por grupos e até instituições que através do empoderamento, isto é, através do poder que tem para realizar tarefas sem necessitar de autorização ou permissão de alguém, realizam ações ocasionando mudanças que as levam a evoluir e se fortalecer. Trata-se da:

- a) Justiça social.
- b) Equidade.
- c) Autonomia.
- d) Cidadania.
- e) Nacionalidade.

36. Sobre o atendimento ao adolescente, considere os itens a seguir sobre a abordagem:

I - Prevenção de distúrbios alimentares os quais podem levar á obesidade e distúrbios do metabolismo.

II - Verificar aspectos sócio educacionais importantes como condições de moradia e escolaridade.

III - Detecção e tratamento dos distúrbios de desenvolvimento como baixa estatura e puberdade precoce, entre outros, através da avaliação por gráficos de crescimento e critérios de Scruff.

Está **CORRETO** o que se afirma em:

- a) I, apenas.
- b) I e II, apenas.
- c) I e III, apenas.
- d) II e III, apenas.
- e) I, II e III.

37. Reflete alterações fisiológicas da idade que não são específicas de doenças. Geralmente se apresenta na forma de sinais e sintomas como fraqueza, fadiga, perda do apetite, desnutrição, desidratação e perda de peso, além das síndromes geriátricas, tais como as anormalidades do equilíbrio e de marcha, o condicionamento físico precário, a confusão mental, a incontinência fecal e urinária, a depressão e a alta dependência. Trata-se da:

- a) Fatigabilidade.
- b) Confusão mental.
- c) Fragilidade.
- d) Funcionalidade.
- e) Susceptibilidade.

38. A presbiacusia é a terceira causa de incapacidade funcional em idosos, com maior prevalência entre os homens. O termo refere-se a uma condição ligada á:

- a) Problemas na próstata.
- b) Dificuldades respiratórias e tabagismo.
- c) Doença neurológica e etilismo.
- d) Perda da audição.
- e) Impotência sexual.

39. Os testes de rastreio de declínio cognitivo têm o objetivo de detectar pessoas que possivelmente estão começando a apresentar perdas. Uma das razões importantes para a utilização destes em idosos é identificar em estágio inicial algum tipo de:

- a) Demência.
- b) Acidente vascular cerebral.
- c) Depressão.
- d) Alteração do humor.
- e) Incapacidade física.

40. É a principal causa de incapacidade entre os idosos, denominada:

- a) Solidão.
- b) Cansaço.
- c) Osteoporose.
- d) Quedas.
- e) Violência doméstica.

RASCUNHO