



# CONCURSO PÚBLICO – PROVA OBJETIVA

ASSINATURA DO(A) CANDIDATO(A):

Nº DE INSCRIÇÃO

## PREFEITURA MUNICIPAL DE CONCEIÇÃO

### CONCURSO PÚBLICO N.º 001/2018

**CARGO: AGENTE DE VIGILÂNCIA**

#### INSTRUÇÕES:

##### VERIFIQUE SE ESTE CADERNO:

- Corresponde a sua opção de cargo.
- Contém 40 (quarenta) questões, numeradas de 01 a 40, caso contrário reclame ao fiscal da sala outro caderno. **NÃO** serão aceitas reclamações posteriores.
- Para cada questão existe apenas **UMA** resposta certa.
- Você deve ler cuidadosamente cada uma das questões e escolher a resposta certa.
- A alternativa escolhida deve ser marcada na **FOLHA DE RESPOSTAS** que você recebeu.

##### VOCÊ DEVE:

- Procurar na **FOLHA DE RESPOSTAS**, o número da questão que você está respondendo.
- Verificar no caderno de prova qual a letra (A, B, C, D, E) da resposta que você escolheu.
- Marcar essa letra na **FOLHA DE RESPOSTAS**, conforme o exemplo: [■].

##### ATENÇÃO:

- Marque as respostas com caneta esferográfica azul ou preta.
- Marque apenas uma letra para cada questão, mais de uma letra assinalada implicará nota zero à questão.
- Não será permitida qualquer espécie de consulta, nem o uso de máquina calculadora.
- Você terá 3 (três) horas para responder a todas as questões e preencher a folha de respostas.
- Devolva esse caderno de prova ao aplicador, juntamente com a sua folha de respostas.
- Proibida a divulgação ou impressão parcial ou total da presente prova. **Direitos Reservados.**

**LINGUA PORTUGUESA – 1 A 12**  
**02 PONTOS**

Leia o poema abaixo para responder às questões de **1 a 8**.

**Esperança**

Lá bem no alto do décimo segundo andar do Ano  
Vive uma louca chamada Esperança  
E ela pensa que quando todas as sirenas  
Todas as buzinas  
Todos os reco-recos tocarem  
Atira-se  
E  
- ó delicioso voo!  
Ela será encontrada miraculosamente incólume na calçada,  
Outra vez criança...  
E em torno dela indagará o povo:  
- Como é teu nome, meninazinha de olhos verdes?  
E ela lhes dirá  
(É preciso dizer-lhes tudo de novo!)  
Ela lhes dirá bem devagarinho, para que não esqueçam:  
- O meu nome é ES-PE-RAN-ÇA...  
Mário Quintana. Nova antologia poética. 12. Ed. São Paulo: Globo, 2007

1. Analise as proposições abaixo, relacionadas ao poema acima e assinale a alternativa **CORRETA**:

I – O poema se refere à época de fim de ano, quando por exemplo, o autor compara o mês de dezembro ao “décimo segundo andar do Ano”.

II – Há um erro de separação silábica no último verso do poema, na palavra **esperança**.

III – No texto, a palavra **esperança** é um substantivo abstrato.

- a) Estão corretas apenas a I e a II
- b) Estão corretas apenas a I e a III
- c) Estão corretas apenas a II e a III
- d) Está correta apenas a I
- e) Está correta apenas a III

2. Marque ( V ) para verdadeiro ou ( F ) para falso em relação ao poema de Mário Quintana e assinale a sequência **CORRETA**:

(\_\_\_) Podemos relacionar a Esperança à época de fim de ano, quando as pessoas costumam ficar mais esperançosas com a chegada de um tempo novo.

(\_\_\_) No poema, a palavra **esperança** está personificada.

(\_\_\_) No texto, a palavra **esperança** deixa de ser um sentimento e passa a ser uma pessoa.

(\_\_\_) A última palavra do texto é classificada como **proparoxítona**.

- a) V – V – F – V
- b) V – V – V – F
- c) V – V – V – V
- d) F – V – V – F
- e) F – F – V – V

3. “Ela será encontrada **miraculosamente...**” A palavra destacada é classificada como:

- a) Verbo
- b) Substantivo abstrato
- c) Advérbio
- d) Conjunção
- e) Preposição

4. Assinale a alternativa que substitui, sem prejuízo de sentido, a palavra destacada no trecho: “Ela será encontrada miraculosamente **incólume** na calçada...”

- a) Lesado
- b) Inteligente
- c) Rápido
- d) Doente
- e) Intacto

5. Analise as sentenças abaixo e assinale a alternativa **CORRETA**:

I – No poema temos três palavras proparoxítonas.  
II – O tempo verbal predominante dos segundo e terceiro versos é o pretérito perfeito do indicativo.  
III – A separação silábica correta da palavra **delicioso** é: de-li-ci-o-so.

- a) Apenas a I está correta
- b) Apenas a II está correta
- c) Apenas a III está correta
- d) Todas estão corretas
- e) Todas estão incorretas

6. Assinale das palavras abaixo aquela que foi acentuada pela mesma regra da palavra **indagará**, presente no texto:

- a) Parabéns
- b) Frágil
- c) Máquina
- d) Maquiavélico
- e) Amável

7. O tempo e modo do verbo em “Ela será encontrada miraculosamente incólume na calçada” é:

- a) Presente do indicativo
- b) Futuro do presente do indicativo
- c) Pretérito mais-que-perfeito do indicativo
- d) Futuro do subjuntivo
- e) Futuro do pretérito do subjuntivo

8. Passando-se a frase: “E em torno dela indagará o povo”, para o pretérito mais- que-perfeito do indicativo, temos:

- a) E em torno dela indagara o povo.
- b) E em torno dela indaga o povo.
- c) E em torno dela indagaria o povo.
- d) E em torno dela indagou o povo.
- e) E em torno dela indagava o povo.

Leia o trecho abaixo, do conto “A moça tecelã” e responda às questões de **9 a 12**.

Se era forte demais o sol, e no jardim pendiam as pétalas, a moça colocava na lançadeira grossos fios cinzentos do algodão mais felpudo. Em breve, na penumbra trazida pelas nuvens, escolhia um fio de prata, que em pontos longos rebordava sobre o tecido. Leve, a chuva vinha cumprimentá-la à janela.

Mas se durante muitos dias o vento e o frio brigavam com as folhas e espantavam os pássaros, bastava a moça tecer com seus belos fios dourados, para que o sol voltasse a acalmar a natureza. Marina Colasanti. *Doze reis e a moça no labirinto do vento*. 2. Ed. Rio de Janeiro: Nórdica, 1985.

9. Analise as proposições e assinale a resposta **CORRETA**:

I – Há uma relação entre o trabalho de tecer realizado pela moça e as condições climáticas.

II – O trabalho da tecelã modifica as condições climáticas.

III – De acordo com o texto, a ação de tecer da moça não interfere diretamente no que acontece com o clima.

- a) Estão corretas apenas a I e a II
- b) Estão corretas apenas a I e a III
- c) Estão corretas apenas a II e a III
- d) Todas estão corretas
- e) Todas estão incorretas

10. Respectivamente, associe o tipo de relação de sentido das palavras destacadas ao seu contexto:

I – “em pontos longos rebordava.”

II – “rebordava **sobre** o tecido.”

III – “tecer **com** seus belos fios dourados.”

- a) Lugar, origem e meio.
- b) Modo, meio e instrumento.
- c) Causa, lugar e instrumento.
- d) Modo, lugar e matéria
- e) Instrumento, modo e instrumento

11. Assinale a alternativa que substitui sem prejuízo de sentido a palavra destacada no trecho: “Em breve, na **penumbra** trazida pelas nuvens...”.

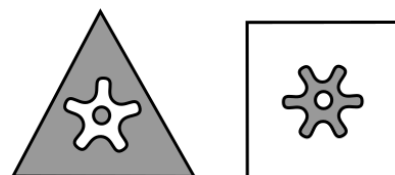
- a) Umbra
- b) Tristeza
- c) Frieza
- d) Alegria
- e) Meia-luz

12. Assinale quantos fonemas temos, respectivamente, nas palavras destacadas no trecho: “Em breve, na **penumbra** trazida pelas **nuvens**...”.






- a) Oito e seis
- b) Três e dois
- c) Sete e cinco
- d) Três e um
- e) Seis e três

**RACIOCÍNIO LÓGICO – 13 A 16**  
**02 PONTOS**

13. Observe as figuras em sequência abaixo.



A próxima figura na sequência lógica é:



14. Considere a seguinte seqüência

**2A 4E 8I 16M...**

Qual alternativa corresponde ao próximo código da seqüência?

- a) 20Q
- b) 32Q
- c) 64P
- d) 64Q
- e) 32P

15. Dos 20 concorrentes a uma vaga de assistente administrativo 12 gostam de raciocínio lógico, 10 gostam de matemática e 3 não gostam de raciocínio lógico e nem de matemática. Quantos são os participantes que gostam de raciocínio lógico e matemática ao mesmo tempo?

- a) 22

- b) 3
- c) 5
- d) 30
- e) 7

16. Considere a tabela abaixo que relaciona números a letras

1	2	3	4	5	6	7	8	9	0
A	B	C	D	E	F	G	H	I	J

e a seguinte soma

$$\begin{array}{r} BCF \\ + E J H \\ \hline \end{array}$$

O resultado, na forma codificada, é:

- a) AIJ
- b) HEH
- c) DJD
- d) GDD
- e) GBH

**ATUALIDADES – 17 A 20**  
**02 PONTOS**

17. No primeiro semestre de 2018 a imprensa internacional noticiou a morte do físico e pesquisador britânico mais conhecido da sociedade contemporânea. Ele produziu algumas teorias fundamentais, sendo a mais célebre a teoria da singularidade, abordando sobre temas a respeito da natureza da gravidade e a origem do universo. O cientista não teve uma vida fácil, pois aos 21 anos de idade descobriu que era portador de uma doença degenerativa, a esclerose lateral amiotrófica, que o deixou paralisado em uma cadeira de rodas. Apesar das dificuldades conseguiu desenvolver um trabalho que ficará para a história da ciência. Recebeu diversos prêmios, entre eles, o Prêmio Especial de Física Fundamental, cujo valor foi de aproximadamente três milhões de dólares e morreu aos 76 anos de idade. Acerca das informações acima descritas é **CORRETO** afirmar que o cientista falecido no primeiro semestre de 2018 era chamado de:

- a) Bradford Dillman.
- b) Johnson Rotten.
- c) Steven Darwin.
- d) Stephen Hawking.
- e) Thompson Wright .

18. De acordo com a Agência Nacional de Energia Elétrica (ANEEL), o Sistema de Bandeira Tarifária trata-se de uma forma de sinalizar aos consumidores os custos reais da geração de energia elétrica. As cores das Bandeiras (verde, amarela ou vermelha) indicam se a energia custará mais ou menos em função das condições de geração de eletricidade, se haverá ou não acréscimo no valor da energia a ser repassada ao consumidor final. Acerca das bandeiras tarifárias analise as afirmações abaixo e julgue-as:

I. Na Bandeira vermelha (patamar 2) há um adicional cobrado que passa a ser proporcional ao consumo na razão de R\$ 5,00 por 100 kWh (ou suas frações).

II. Quando a Bandeira vermelha está no patamar 1 há um adicional cobrado que passa a ser proporcional ao consumo na razão de R\$ 4,00 por 100 kWh (ou suas frações).

III. Na Bandeira amarela há uma cobrança adicional, proporcional ao consumo, na razão de R\$ 2,00 por 100 kWh (ou suas frações).

IV. Quando a Bandeira está verde, as condições hidrológicas para geração de energia são favoráveis e não há qualquer acréscimo nas contas de energia.

V. O estado de Roraima não sofre a incidência de Bandeira Tarifária, porque não faz parte do Sistema Interligados Nacional (SIN).

#### ESTÁ(ÃO) INCORRETA(S)

- a) Apenas a afirmativa II.
- b) Apenas a afirmativa II e III
- c) Apenas a afirmativa I, II e III
- d) Apenas a afirmativa I, II e V
- e) Todas as afirmativas.

19. Em fevereiro de 2018, um vazamento de soda cáustica em uma estação de tratamento de água da Companhia de Água e Esgotos da Paraíba (GAGEPA), causou sérios danos ao meio ambiente, especialmente à qualidade da água de um importante rio paraibano. A empresa foi multada pelo IBAMA- Instituto Brasileiro do Meio Ambiente e dos Recursos Naturais Renováveis, pois, segundo laudo emitido pelo órgão, a causa do vazamento foi uma falha no sistema de contenção da estação de

tratamento. Sobre esse fato, é **CORRETO** afirmar que:

- a) A estação de tratamento de água fica localizada no município de Alhandra.
- b) A degradação da qualidade da água foi verificada no rio Paraíba.
- c) A degradação da qualidade da água foi verificada no rio Gramame.
- d) A estação de tratamento de água fica localizada no município de Cabedelo.
- e) A degradação da qualidade da água foi verificada no rio Sanhauá.

20. O Instituto Chico Mendes de Conservação da Biodiversidade – ICMBio tem por missão proteger o patrimônio natural e promover o desenvolvimento socioambiental. Em 2018 completou 11 anos de atividades, a comemoração do seu aniversário reuniu o Ministro do Meio Ambiente, servidores, colaboradores e parceiros governamentais e não-governamentais, apesar de ser uma instituição jovem já possui o reconhecimento da sociedade. É **CORRETO** afirmar que a data em que se comemora o aniversário do mencionado Instituto é:

- a) 16 de março
- b) 22 de maio
- c) 05 de junho
- d) 17 de julho
- e) 28 de agosto

#### CONHECIMENTOS ESPECÍFICOS – 21 A 40 03 PONTOS

#### TEXTO PARA A QUESTÃO 21

*“O precário conhecimento da existência dessas comunidades se dá, quando muito, através do contato direto estabelecido durante o carnaval, já que aquela região – das terras Potiguara - é um dos locais mais procurados do litoral paraibano para se festejar a folia de Momo. Contudo, quando os turistas percebem que aqueles supostos índios, que acabaram de lhes ser “apresentados”, usam relógios, moram em casas de alvenaria, falam português, praticam surfe e possuem outros utensílios que não se encaixam no estereótipo de índio criado pela sociedade nacional, logo se questionam se são mesmo índios “verdadeiros”.*

(PEREIRA, João Paulo Costa Rolim. **Os indígenas na primeira história da Paraíba**: um estudo sobre a

História da Província da Parahyba. Dissertação (Mestrado) – UFPB/CCHLA. João Pessoa, 2012. P. 01)

21. Em relação à população indígena do Estado da Paraíba, assinale a alternativa **CORRETA**:

- a) Havia grande domínio dos índios Tupis antes da fundação da Paraíba, sendo a única etnia indígena a sobreviver após a colonização.
- b) Na Paraíba havia três etnias indígenas – os Tamoios, os Tupinambás e os Cariris
- c) No período de fundação da Paraíba, os Tabajaras formavam um grupo de aproximadamente 5 mil pessoas. Eles eram pacíficos e ocupavam o litoral, onde fundaram as aldeias de Alhanda e Taquara.
- d) Não havia número significativo de indígenas na Paraíba.
- e) Os índios Guaranis se encontravam em maior número que os Cariris, ocupando uma área que ia do Planalto da Borborema até os limites do Ceará.

22. Em termos climatológicos, a cidade de Conceição, no Estado da Paraíba, se encontra em uma região chamada de “Polígono das Secas”. Sobre essa região, assinale a alternativa **CORRETA**:

- a) “Polígono das Secas” é um termo que designa uma região concentrada no Nordeste e em parte do Sudeste que sofre com a falta de água ou sua baixa oferta por longos períodos, devido ao clima semi-árido quente e seco.
- b) “Polígono das Secas” é uma região de clima seco apenas durante do dia, devido às altas temperaturas, mas que é chuvosa e úmida na parte da noite.
- c) “Polígono das Secas” apresenta um baixo índice pluviométrico devido ao clima tropical de altitude.
- d) “Polígono das Secas” é uma região que apresenta o clima equatorial, seco devido às temperaturas que se mantêm altas o ano todo.
- e) “Polígono das Secas” é uma região de clima desértico, cujo índice pluviométrico é nulo devido às barreiras naturais que impedem as chuvas de atingirem a região.

### TEXTO PARA A QUESTÃO 23

*“Willhelm Köppen (1846-1940), climatologista russo naturalizado alemão, foi o primeiro pesquisador a mapear todas as regiões climáticas do mundo e suas*

*variações ao longo do ano, sendo considerado precursor da Meteorologia moderna [...]”*

(MARTINS, D. et al. **Geografia sociedade e cotidiano: fundamentos**. Volume 01, 3ª ed. São Paulo: escala educacional, 2013. p.134.)

23. Assinale a alternativa **CORRETA** que apresenta a estrutura geral da classificação climática de Wilhelm Köppen:

- a) A (desértico), B (aquático), C (litorâneo), D (monçônico) e E (subártico).
- b) A (tropical), B (seco), C (temperado), D (continental) e E (polar).
- c) A (subtropical), B (seco), C (tropical), D (monçônico) e E (subártico).
- d) A (desértico), B (seco), C (úmido), D (monçônico) e E (subártico).
- e) A (tropical), B (seco), C (úmido), D (continental) e E (litorâneo).

24. O clima é definido por Max Sorre como uma “sucessão habitual dos tipos de tempo num determinado local da superfície terrestre”.

(SORRE, M. **A noção de gênero de vida e sua evolução**. In: MEGALE, J. F. (Org.) Max Sorre: **Geografia**. Rio de Janeiro: Editora Ática, 1984.)

Sabendo que o clima de uma região se manifesta no sistema oceano-continente-atmosfera, assinale a alternativa que responda a seguinte pergunta: **Quais são os elementos básicos que server para definir o tipo climático de uma determinada região?**

- a) Relevo, pressão e temperatura.
- b) Vegetação, relevo e temperatura.
- c) Latitude, altitude e temperatura.
- d) Umidade, pressão e temperatura.
- e) Maritimidade, vegetação e relevo.

25. A Era Vargas foi um momento de definição e construção da cultura nacional. O empenho do governo em decidir o que faria parte da cultura brasileira e o que seria descartado pode ser observado nas mais distintas esferas. Esse período é marcado por diversas ações que tinham como objetivo a construção de um exacerbado nacionalismo, a definição do “espírito” do povo brasileiro. Com base nestas informações, assinale a alternativa **CORRETA** que apresente a função do

DIP (Departamento de Imprensa e Propaganda) no governo do Estado Novo:

- a) Construir e difundir uma imagem paternalista de Getúlio Vargas, enaltecendo-o como o “pai dos pobres” e grande líder das massas.
- b) Criar mecanismos de controle das informações vindas da Europa, trazidas por membros dos partidos de viés autoritário (nazista alemão e fascista italiano), opositores do regime de Getúlio Vargas.
- c) Construir e difundir uma imagem negativa de Getúlio Vargas, enaltecendo o caráter autoritário do presidente.
- d) Construir redes de trocas de informações democráticas, que tivessem a liberdade de expressão como princípio.
- e) Criar uma rede de imprensa livre para informar os brasileiros dos principais acontecimentos do Brasil e do exterior.

26. O espaço geográfico brasileiro foi estruturado, até o início da década de 1930, com exclusiva atenção ao modelo primário-exportador (agricultura, mineração, pesca, pecuária, extrativismo vegetal), fazendo com que a configuração das atividades econômicas fosse dispersa e com pouca interdependência. Sob a pressão de uma redução drástica na capacidade de importar e com objetivos de nacionalização da economia, Getúlio Vargas deu início ao PSI - Processo de Substituição de Importações. Assinale a alternativa **CORRETA** sobre as medidas adotadas por Getúlio Vargas para impulsionar o desenvolvimento de uma indústria de base no Brasil.

- a) Desapropriação dos grandes latifúndio e promoção de uma ampla e irrestrita reforma agrária.
- b) Criação da Companhia Siderúrgica Nacional (CSN), a Companhia Vale do Rio Doce (CVRD), a Companhia Hidrelétrica de São Francisco e a Petrobrás, além da sistematização da Consolidação das Leis Trabalhistas (CLT).
- c) Diminuição da esfera de atuação do Estado na economia e aumento do poder especulativo de livre mercado.
- d) Equiparação do valor monetário da moeda brasileira às mais potentes economias internacionais que possibilitaram a atração de investidores.
- e) Criação do Departamento de Criação de Indústrias de Base (DECRIB).

## TEXTO PARA A QUESTÃO 27

*“Me dê um beijo, meu amor  
Eles estão nos esperando  
Os automóveis ardem em chamas  
Derrubar as prateleiras  
As estantes, as estátuas  
As vidraças, louças, livros, sim...”*

*E eu digo sim  
E eu digo não ao não  
E eu digo:  
É! -- proibido proibir.”*

### É Proibido Proibir – Caetano Veloso (1968)

27. A música “É Proibido Proibir”, de Caetano Veloso, foi desclassificada e repudiada durante o III Festival Internacional da Canção de 1968, proporcionando a Caetano uma estrondosa vaia. Impossibilitado de cantar pela ruidosa irritação da plateia, o compositor acabou agredindo verbalmente o público e o júri. Assinale a alternativa **CORRETA** acerca da relação desta música com o contexto histórico cultural brasileiro de 1968:

- a) “É proibido proibir” inaugura um movimento artístico brasileiro que ironizava as críticas direcionadas à censura e ao regime militar.
- b) “É proibido proibir” é uma canção que faz parte da Tropicália, um movimento formado apenas por artistas baianos que tinha como objetivo a expansão das expressões culturais de raízes nordestinas.
- c) “É proibido proibir” tem fortes influências na bossa nova, principal movimento de manifestação artística com linguagem musical voltada para o protesto político.
- d) “É proibido proibir” é uma frase pintada nos muros de Paris durante as revoltas estudantis de 1968, utilizada como referência por Caetano Veloso para fazer críticas não apenas à censura imposta pela ditadura militar brasileira, mas também à sociedade de consumo, às hierarquias e à burocratização da sociedade.
- e) “É proibido proibir” é um slogan do Cinema Novo, um movimento cinematográfico brasileiro que tem a filmografia hollywoodiana como principal influência.

**TEXTO PARA A QUESTÃO 28**

*‘Um amigo jornalista, mais experiente, voltou para me buscar: “Está bem que você seja idiota a ponto de achar que jogando pedras na vitrine você está resistindo. Mas não precisa ser demais, a ponto de jogar pedra e ficar aí parado”. Mais tarde, nas noites da clandestinidade, ou mesmo nas conversas de cadeia, pude ir ligando coisas, compondo um quadro mais claro do que foi o golpe de Estado (...)*

*(...) Os estudantes também estavam tentando resistir. Só que na Universidade de Direito, no Rio, para falar apenas da experiência que me foi mais próxima. Num depoimento prestado em 1970, Vladimir Palmeira, que em 68 era o grande líder do movimento estudantil, contou que eram mais de trezentos. A mesma disposição heroica, as mesmas frases de efeito: resistir até o último homem ou então: daqui a pouco chegam as armas do dispositivo militar do presidente.*

(GABEIRA, Fernando. **O que é isso, companheiro?** São Paulo: Companhia das Letras, 2009, p.15.)

28. Identifique nas alternativas abaixo aquela que corresponde ao contexto da história do Brasil a que o texto se refere:

- a) O governo de Médici, que intensificou a repressão aos opositores, tornou a censura ainda mais rígida e manteve o Ato Institucional nº5, que lhe dava poderes para fechar o congresso.
- b) O governo de Getúlio Vargas, caracterizado pela centralização e personalização do poder e pela suspensão dos direitos constitucionais.
- c) O governo de Médici, que após pressões da sociedade civil organizada, deu processo a um início de abertura democrática que colocou fim ao regime militar.
- d) Ao governo de JK, que viabilizou, por uma política desenvolvimentista, a criação de uma nova cidade para abrigar a capital federal do país.
- e) Ao governo de Collor, que confiscou os valores das cadernetas de poupança, limitando os saques a 50 mil cruzados novos.

29. Entre 1969 e 1973, a economia brasileira registrou taxas de crescimento que variavam entre 7% e 13% ao ano. O setor industrial se expandia e as exportações agrícolas aumentaram significativamente, gerando milhões de novos postos de trabalho. A oferta de emprego aumentou de tal modo que os setores industriais mais dinâmicos

concorriam na contratação de trabalhadores assalariados. Predominaram os investimentos em bens de consumo duráveis, a exportação de manufaturados e a abertura do mercado ao capital estrangeiro. Com base nestas informações, assinale a alternativa **CORRETA** sobre a expressão “Milagre Econômico Brasileiro”:

- a) Remete a um período em que o crescimento econômico ocorreu junto com o avanço de políticas públicas, criadas pelos militares, que se mostravam preocupados em garantir as liberdades democráticas.
- b) Remete a uma grande revolução social tomada pelos militares como meta de crescimento econômico e erradicação das desigualdades no Brasil.
- c) Remete a um período em que houve verdadeiro crescimento econômico no país, mas o preço foi elevado: inflação, endividamento ao FMI e redução drástica das liberdades individuais.
- d) Remete a um período de grande crescimento econômico, colocando o Brasil no topo da lista dos países mais ricos do mundo.
- e) Remete ao profundo sentimento pessimista de alguns setores da sociedade brasileira que afirmam ironicamente que apenas um milagre é capaz de salvar a economia brasileira.

30. Em 1984, a emenda constitucional que propunha eleições diretas para presidente foi rejeitada pelo Congresso Nacional. Tancredo Neves, líder do movimento que defendia o voto livre, lançou-se candidato pelo PMDB, mesmo tendo de concorrer no colégio eleitoral composto em sua maioria por parlamentares do PDS. Tancredo Neves e seu vice, José Sarney, venceram as eleições no dia 15 de janeiro de 1985. Este foi um importante divisor de águas na história brasileira. Assinale a alternativa que sinaliza este marco histórico:

- a) Foi a primeira eleição direta desde o golpe militar de 1964 e deu início a uma nova fase, chamada pela imprensa de Nova República.
- b) Permitiu a retomada do poder pelos civis, numa eleição direta vencida no primeiro turno.
- c) Se tornou o primeiro governo civil desde golpe militar de 1964, apesar de Tancredo não ter chegado a assumir a presidência.
- d) Concretizou os objetivos da campanha *Diretas-Já*, com a vitória democrática em todos os estados.



e) Foi a primeira eleição direta vencida no primeiro turno, possibilitando negociações políticas para a construção da chamada “Constituição Cidadã”, de 1988.

31. Após o fim do ciclo de presidentes militares iniciado com o Golpe de 1964, José Sarney convocou uma Assembleia Nacional Constituinte, eleita em novembro de 1986. Em 5 de outubro de 1988 foi promulgada aquela que ficou conhecida por “Constituição Cidadã”. Assinale a alternativa que apresenta as novidades promulgadas pela Constituição de 1988:

a) Voto universal facultativo para maiores de 18 anos (exceto analfabetos, soldados e cabos); o direito do presidente baixar decretos com força de lei; fim do abono de férias.

b) Ampliação da cidadania com a extensão do direito de voto aos analfabetos; Jornada de trabalho de oito horas diárias e 44 horas semanais; décimo terceiro salário para os aposentados; seguro desemprego; direito ao aviso prévio; licença-maternidade de 120 dias; licença-paternidade; direito de greve e liberdade sindical.

c) Fim do direito de voto aos analfabetos; jornada de trabalho de 40 horas semanais; fim do décimo terceiro para os aposentados; licença-maternidade de 90 dias e institucionalização de um sindicato único.

d) Mudança no sistema eleitoral, tornando o voto um direito facultativo para homens e obrigatório para as mulheres.

e) Ampliação do mandato de presidente de quatro para seis anos e implantação do sistema presidencialista de coalisão.

#### TEXTO PARA A QUESTÃO 32:

*“Nas eleições realizadas em 1989, a disputa pela Presidência da República foi vencida por Fernando Collor de Mello, político alagoano que iniciou sua carreira na Arena, partido que dava sustentação ao regime militar. A primeira ação do novo governo foi o lançamento de um plano econômico – conhecido como Plano Collor –, que tinha o objetivo de acabar com a inflação.”.*

(PETTA, Nicolina Luiza de. **História - uma abordagem integrada**. São Paulo: Editora Moderna, p. 275.)

32. Com base no texto, podemos afirmar que:

a) Os formuladores do Plano Collor acreditavam que o aumento da concorrência da indústria externa e a livre importação de capitais e de tecnologia seriam fundamentais para a “inserção competitiva” da indústria brasileira no mercado mundial.

b) Com o Plano, houve fortalecimento de ações de estatização de bancos, ferrovias e indústrias privadas, que foram nacionalizadas e passaram a ser administradas pelo governo federal.

c) O uso de novas tecnologias, como o computador e a internet, foram fundamentais para a desburocratização do estado, o crescimento econômico do país e sua conseqüente queda nos índices inflacionários.

d) O governo foi eficaz na redução de despesas, enxugando os gastos públicos apenas ao essencial e cortando a estabilidade no emprego de funcionários públicos.

e) O Plano Collor evitou o desperdício de recursos públicos com um aumento na fiscalização da gestão de órgãos institucionais e empresas estatais.

#### TEXTO PARA A QUESTÃO 33:

*“Duas características básicas podem ser identificadas no Plano Real dentro da seqüência de tentativas de estabilização da economia brasileira, depois da crise da dívida externa do início da década de 1980. Uma característica foi a intenção deliberada de fugir aos movimentos bruscos e do elemento surpresa que fizeram a glória e o fracasso de seus antecessores, e que atingiram o paroxismo no Plano Collor. A segunda característica foi a insistência da equipe no governo em anunciar o plano como uma estratégia multifásica de estabilização, da qual a reforma monetária seria apenas um momento, e não necessariamente o mais importante. Essas duas características tinham o objetivo de desarmar os espíritos dos agentes econômicos, que tinham se habituado a associar programas de estabilização a perdas súbitas de direitos.”*

(CARNEIRO, Dionísio Dias, MODIANO, Eduardo. Ajuste interno e desequilíbrio interno: 1980 – 1984. In: ABREU, Marcelo de Paiva (Org.) **A ordem do progresso: cem anos de política econômica republicana, 1889 – 1989**. Rio de Janeiro: Campus, 1990. p. 323 – 346.)

33. Sobre o Plano Real, que entrou em vigência no ano de 1993, durante o governo de Itamar Franco, é **CORRETA** afirmar:

- a) Reduziu a hiperinflação que assolava a economia brasileira desde a redemocratização, mas as medidas de ajuste adotadas não facilitaram a vida econômica dos brasileiros, já que provocaram recessão econômica, quebras de bancos e de empresas, assim como um aumento significativo de demissões e desemprego.
- b) Reduziu a inflação, desenvolveu a indústria nacional e ajudou a diminuir o desemprego.
- c) aumentou o poder aquisitivo da população, pois reduziu a inflação e trouxe estabilidade econômica ao desenvolver a indústria nacional e resolver todos os problemas sociais, principalmente a erradicação da fome.
- d) Trouxe um novo olhar sobre a economia brasileira, uma vez que, com as técnicas de controle da inflação, possibilitou o desenvolvimento de micro empresas e garantiu o pleno emprego.
- e) Promoveu a reforma agrária com a redução da inflação e o congelamento nos preços de produtos do setor agrário, garantindo a diminuição das desigualdades existentes entre os trabalhadores do campo e os operários urbanos.

34. O rompimento de uma barragem da Vale no Córrego do Feijão, em Brumadinho (MG), em janeiro de 2019, provocou um rastro de lama que deixou 34 mortos e destruiu casas na região. Quatro anos antes, o rompimento da barragem da Samarco Mineração no distrito de Bento Rodrigues, em Mariana (MG), em novembro de 2015, provocou 19 mortes, além das perdas econômicas e ambientais. Estes acontecimentos retomaram o debate sobre a privatização da Companhia Vale do Rio Doce. Sobre essa medida (de privatização da Vale do Rio Doce) tomada pelo Governo Federal, assinale a alternativa **CORRETA**.

- a) A privatização da Vale do Rio Doce, no governo de Luiz Inácio Lula da Silva, teve como objetivo atrair o capital produtivo europeu.
- b) A privatização da Vale do Rio Doce, no governo Fernando Collor de Mello, teve como objetivo cumprir a agenda neoliberal de enxugar o Estado brasileiro por meio de um programa de privatizações.
- c) A privatização da Vale do Rio Doce, no governo de Fernando Henrique Cardoso, teve como principal objetivo atrair o capital produtivo internacional, além

do pagamento de parte das dívidas públicas da União.

- d) A privatização da Vale do Rio Doce, no governo de Michel Temer, teve como objetivo principal a busca de parcerias de países desenvolvidos para compartilhamento tecnológico utilizado na exploração de recursos naturais.
- e) A privatização da Vale do Rio Doce, no governo Itamar Franco, teve como objetivo a oxigenação financeira dos cofres públicos que possibilitou a criação do Plano Real.

35. As eleições de Luiz Inácio Lula da Silva e Dilma Rousseff apresentaram fatos inéditos. Assinale a alternativa **CORRETA** em relação a estes fatos:

- a) Lula foi o primeiro operário membro de um partido de esquerda e Dilma foi a primeira mulher a governar o país.
- b) Lula foi o primeiro nordestino e Dilma foi a primeira mineira a governar o país
- c) Lula e Dilma foram os únicos presidentes a conseguirem a reeleição.
- d) Lula foi o primeiro presidente a sofrer um impeachment e Dilma foi à única presidente a realizar pedaladas fiscais.
- e) Lula se elegeu na primeira tentativa de se tornar presidente, e, Dilma foi eleita sempre no primeiro turno.

36. Assinale a alternativa **CORRETA** em relação aos acontecimentos políticos do Brasil no início do século XXI.

- a) No governo Lula as mulheres passaram a ter seus salários equiparados aos dos homens quando no exercício da mesma profissão.
- b) Os Governos Lula e Dilma promoveram uma reforma tributária visando a diminuir a carga de impostos sobre a classe média e a produção industrial.
- c) O governo de Dilma Rousseff sofreu uma forte crise de contestação política, como contra a corrupção em diversos setores e esferas no país, no período que antecedeu a Copa das Confederações em 2013.
- d) No segundo governo Lula (2007 - 2010), programas de transferência de renda como o "Bolsa Família" foram extintos, pois o governo atingiu e superou todas as metas de inclusão social, não necessitando mais de políticas assistencialistas.

e) Com a eleição do presidente Lula o país manteve a política de continuidade das propostas neoliberais de FHC, já que o neoliberalismo é prática defendida como bandeira política de seu partido, o PT.

37. Assinale a alternativa **CORRETA** que apresente acontecimentos de destaque que caracterizam o primeiro ano de Dilma Rousseff na presidência do Brasil:

- a) Investimentos vultosos na educação básica e na saúde pública.
- b) Brasil bate recorde de desemprego de toda a sua história
- c) Aumento da inflação em níveis alarmantes, que superam as taxas inflacionárias da década de 1980.
- d) Lançamento de programas sociais e econômicos e a saída de ministros do governo.
- e) Crescimento vertiginoso nas vendas de produtos importados.

38. Em que governo brasileiro foi sancionada a lei das cotas para o ensino superior?

- a) Governo de Luís Inácio Lula da Silva.
- b) Governo de Dilma Rousseff.
- c) Governo de Fernando Collor de Mello.
- d) Governo de Tancredo Neves.
- e) Governo de Getúlio Vargas

#### TEXTO PARA A QUESTÃO 39:

*“O juiz federal Leonardo da Costa Couceiro, da 4ª Vara Federal de Niterói (RJ), suspendeu nesta segunda-feira, 8 de janeiro, a nomeação e a cerimônia de posse da deputada Cristiane Brasil (PTB-RJ) como nova ministra do Trabalho do governo Michel Temer. O juiz disse que a escolha da parlamentar por Michel Temer desrespeita a moralidade administrativa.”*

(IstoÉ, 08.01.2018. Disponível em: <<https://istoe.com.br/juiz-federal-suspende-nomeacao-e-posse-da-nova-ministra-do-trabalho/>> Acesso em 20/01/2019)

39. Assinale a alternativa **CORRETA** que apresente o motivo que levou à decisão do juiz de suspender a nomeação da deputada como ministra do trabalho escolhida por Michel Temer

- a) Cristiane Brasil foi denunciada por suspeita de lavagem de dinheiro.
- b) Cristiane Brasil foi condenada a pagar R\$ 60 mil por dívida trabalhista a um motorista que prestava serviços para ela e para sua família.
- c) Cristiane Brasil é suspeita de desvios de dinheiro público na Lava-Jato.
- d) Cristiane Brasil já foi condenada por corrupção.
- e) Cristiane Brasil não tem, na visão do juiz, competência necessária para ser ministra.

40. A Presidente Dilma Rousseff declarou, durante a discussão da 66ª sessão da ONU, que países em desenvolvimento como o Brasil têm apresentado resultados expressivos na redução de emissões, e se comprometeram com metas ambiciosas, tornando imprescindível o aumento progressivo do nível de ambição dos países desenvolvidos. Em relação ao tema que a presidente do Brasil fazia referência, assinale a alternativa **CORRETA**:

- a) O acordo global para combater a mudança climática.
- b) O acordo pelo fim do desmatamento amazônico.
- c) O combate ao tráfico de escravas brancas.
- d) A criação de um único governo mundial.
- e) Um acordo pela construção da paz mundial.

**RASCUNHO**